

根据教育部《3~6岁儿童学习与发展指南》编写

幼升小阶段突破冲关测试卷

幼小衔接

彩色注音版

过关冲刺 100分

厉成刚 李海峰 编著



名师编写

帮助孩子轻松入学

- 内容全面 编排科学
- 题型丰富 紧扣教材
- 基础巩固 专项训练
- 图文并茂 生动有趣

数学四

(50以内的加减法)

图书在版编目 (CIP) 数据

幼小衔接过关冲刺100分. 数学. 四 / 厉成刚, 李海峰编著. — 广州: 广东人民出版社, 2019.9

ISBN 978-7-218-13775-9

I. ①幼… II. ①厉… ②李… III. ①数学课—学前教育—习题集 IV. ①G613

中国版本图书馆CIP数据核字(2019)第173155号

Youxiaoxianjie Guoguan Chongci 100 Fen • Shuxue Si
幼小衔接过关冲刺100分 • 数学四

厉成刚 李海峰 编著

版权所有 翻印必究

出版人: 肖风华

责任编辑: 陈泽洪
封面设计: 林国劲
插画设计: 刘嘉仪 杨子荣
内文排版: 刘嘉仪 杨子荣
责任技编: 周杰 吴彦斌

出版发行: 广东人民出版社

地址: 广州市海珠区新港西路204号2号楼 (邮政编码: 510300)

电话: (020) 85716809 (总编室)

传真: (020) 85716872

网址: <http://www.gdpph.com>

印刷: 广东鹏腾宇文化创新有限公司

开本: 889毫米×1194毫米 1/16

总印张: 14 总字数: 240千

版次: 2019年9月第1版 2019年9月第1次印刷

总定价: 120.00元 (全8册)

如发现印装质量问题, 影响阅读, 请与出版社 (020-32449105) 联系调换。

售书热线: 020-32449123





10 以内的加减法

姓名: _____ 测试时间: 40分钟
 得分: _____ 总分: 100分
 所用时间: _____

一 按顺序填数字。(15分)



二 根据算式，画出正确的表示图形。(12分)

1. $5+3=$

2. $9-3=$

3. $10-4=$

三 算一算，连一连。(16分)

8+2	6+3	10-2	5+2
8	7	10	9
4+4	2+8	5+4	9-2

四 算一算，填一填。(12分)

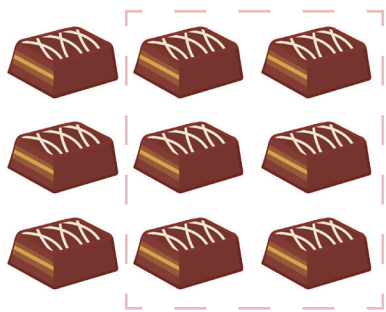
五 在□里填上正确的数。(9分)

6+2=□ 10-4=□ 5+4=□

9-□=6 8-□=3 6-□=4

5+3=□ 7-□=3 3+□=9

六 看图列算式。(12分)



□○□=□



□○□=□

七 在正确算式后的()里打“√”，在错误算式后的()里打“×”。(10分)

5+3-2=7 ()	9-6+4=7 ()
8+2-4=6 ()	8-6+3=6 ()
6-3+5=8 ()	7+2-5=6 ()
3+4-2=4 ()	6-4+8=9 ()
6+3-7=5 ()	5-2+7=9 ()



八 拓展应用题。(14分)

1. 电线上有9只 ，飞走了3只 ，还剩下几只 ？

□○□=□ (只)

2. 森林里小象在搬 ，上午搬了4根 ，下午搬了6根 ，小象一共搬了多少根 ？

□○□=□ (根)



20以内的加减法

姓名: _____ 测试时间: 40分钟
 得分: _____ 总分: 100分
 所用时间: _____

一 suàn yī suàn lián yī lián 算一算，连一连。(12分)

 19-4


 19-2

 15+4

 20-4



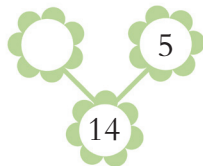



 13+4

 9+6

 8+8

 12+7

三 xiǎng yī xiǎng tián yī tián 想一想，填一填。(12分)



二 zài nèi tián shàng zhèng què de shù shǐ déng shì chéng lì 在□内填上正确的数，使等式成立。(18分)

18-□=13

9+□=15

12-□=7

16-□=9

8+□=14

17-□=8

15-□=7

6+□=13

14-□=6

四 zài li tián shàng > < huò = 在○里填上“>”“<”或“=”。(16分)

13+4 ○ 16

14+5 ○ 19

13+6 ○ 19

11+5 ○ 18

13-8 ○ 7

16-7 ○ 9

18-9 ○ 7

15-8 ○ 6

五 kàn tú liè suàn shì 看图列算式。(10分)

? 个

+ = (个)

19 个

- = (个)

六 zài xià liè zhèng què de suàn shì hòu dǎ '√', cuò wù de gǎi zhèng guò lái 在下列正确的算式后打“√”，错误的改正过来。(12分)

- | | |
|---------------|--------------|
| 15+4=19 | 6+9=16 |
| 16-4=8 | 7+9=18 |
| 14-6=5 | 18-7=9 |


七 gēn jù suàn shì tián yī tián 根据算式，填一填。(12分)

$15 + 4 - 6 = \square$	$18 - 9 + 6 = \square$
$11 + 7 - 9 = \square$	$16 - 7 + 5 = \square$
$12 + 8 - 6 = \square$	$13 - 8 + 9 = \square$

八 tuò zhǎn yìng yòng tí 拓展应用题。(8分)

公共汽车里原来有 13 个 ，到站后下去了 5 个 ，又上来了 7 个 ，现在车上有多少个 ？

○ ○ = (人)





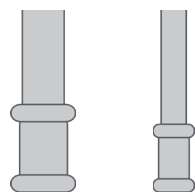
比较练习

姓名: _____ 测试时间: 40分钟
 得分: _____ 总分: 100分
 所用时间: _____

一 比一比，在较粗的图形下面打“√”。(12分)



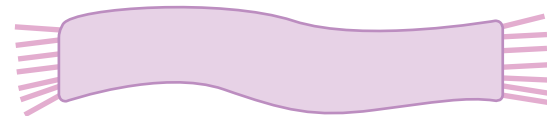
() ()



() ()

三 比一比，哪个长，哪个短，在长的图形上的括号内打“√”。(12分)


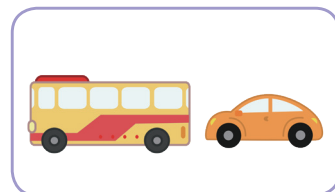
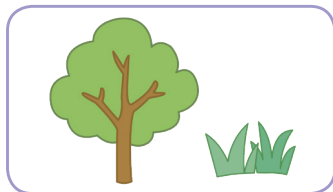

围巾 ()



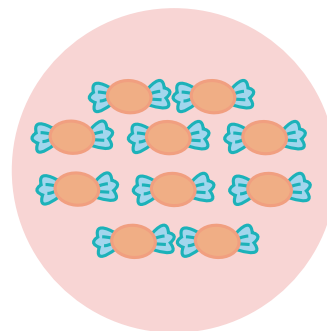
尺子 ()




二 下面图形哪个大，哪个小，将小的圈出来。(12分)



四 哪个多，哪个少？在少的下面的()里打“√”。(12分)



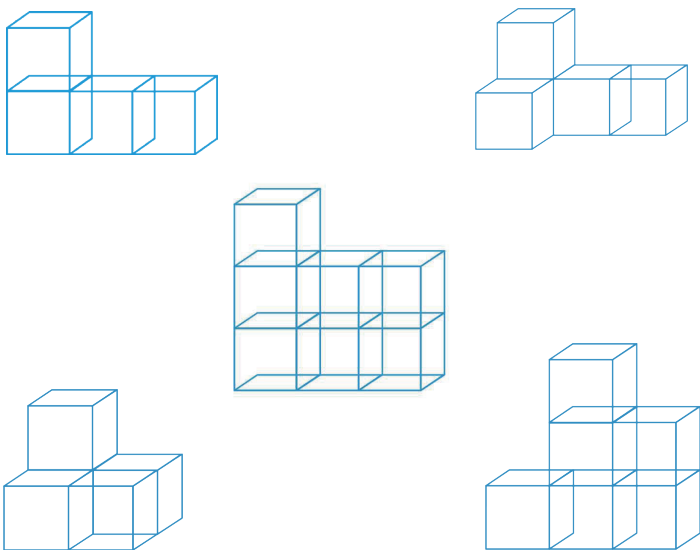
()



()

五

shǔ yī shǔ qǐng bǎ bāo hán zhèng fāng tǐ shù liàng yī yàng duō de gè
lì tǐ tú xíng quān chū lái。(16分)



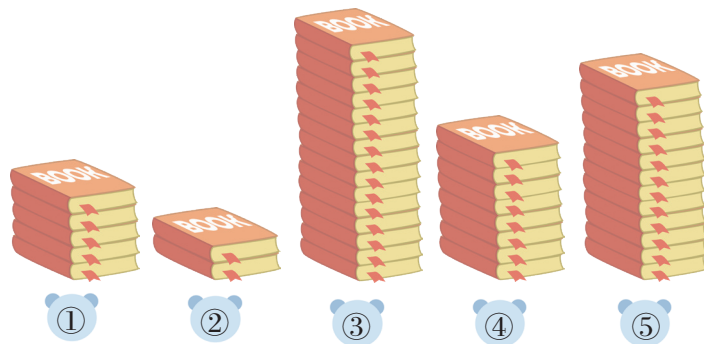
七

kàn yī kàn nǎ gè xiǎo péng yǒu zuì āi qǐng yòng huáng bǐ quān
chū lái。(8分)




八

shǔ yī shǔ kàn nǎ luò shū hòu nǎ luò shū báo bìng àn
cóng hòu dào báo de shùn xù jìn xíng pái xù。(20分)



六

bǐ yī bǐ qǐng bǎ zuì gāo de zhí wù quān chū lái。(8分)






30以内的加减法 (1)

姓名: _____ 测试时间: 40分钟
 得分: _____ 总分: 100分
 所用时间: _____


一 算一算，填一填。(16分)

$15 + \begin{cases} 13 \\ 9 \end{cases} = \text{桃子}$	$27 - \begin{cases} 18 \\ 12 \end{cases} = \text{桃子}$
$30 - \begin{cases} 19 \\ 11 \end{cases} = \text{桃子}$	$23 + \begin{cases} 6 \\ 4 \end{cases} = \text{桃子}$

三 看图列算式。(12分)



+ =



- =

二 在○里填上“+”或“-”，使等式成立。(12分)

$11 \bigcirc 17 = 28$	$26 \bigcirc 7 = 19$
$19 \bigcirc 9 = 28$	$22 \bigcirc 7 = 29$
$28 \bigcirc 9 = 19$	$18 \bigcirc 12 = 30$

四 比一比，在□里填上“>”“<”或“=”。(12分)

$28 \square 29$	$25 \square 28$	$25 \square 18$
$18 \square 23$	$22 \square 19$	$15 \square 19$
$26 \square 24$	$30 \square 28$	$23 \square 28$
$11+9 \square 20$	$22 \square 8+9$	$23 \square 10+20$

五 算一算，连一连。(12分)

12+15 14+16 10+19 30-18

19-7 16+11 18+12 14+15

六 竖式计算题。(12分)

$\begin{array}{r} 26 \\ + 3 \\ \hline \square\square \end{array}$	$\begin{array}{r} 30 \\ - 15 \\ \hline \square\square \end{array}$	$\begin{array}{r} 18 \\ + 9 \\ \hline \square\square \end{array}$
$\begin{array}{r} 13 \\ + 16 \\ \hline \square\square \end{array}$	$\begin{array}{r} 27 \\ - 9 \\ \hline \square\square \end{array}$	$\begin{array}{r} 14 \\ + 14 \\ \hline \square\square \end{array}$

七 算一算，填一填。(12分)

$28 - \bigcirc = 19$	$16 + \bigcirc = 29$
$30 - \bigcirc = 17$	$26 + \bigcirc = 30$
$24 - \bigcirc = 16$	$13 + \bigcirc = 27$

八 拓展应用题。(12分)

1. 浩浩有13个 ，果果有15个 ，浩浩和果果一共有多少个 ？

$\square \bigcirc \square = \square$ (个)

2. 树上有30个 ，丁丁摘了8个 ，豆豆摘了9个 ，树上还剩下多少个 ？


$\square \bigcirc \square \bigcirc \square = \square$ (个)





30以内的加减法 (2)


姓名: _____ 测试时间: 40分钟
 得分: _____ 总分: 100分
 所用时间: _____


一 suàn yī suàn lián yī lián 算一算, 连一连。(16分)


 $27 - 11 + 12$


 $24 - 18 + 20$


 $25 - 17 + 16$

 $23 - 13 + 18$

 $28 - 19 + 16$

 $22 - 10 + 12$

 $22 - 14 + 18$

 $26 - 18 + 17$

二 zài li tián shàng huò 在○里填上“>”“<”或“=”。(12分)

$19 + 6$ ○ 16

$17 + 7$ ○ 24

$27 - 8$ ○ 18

$18 + 6$ ○ 25

$28 - 9$ ○ 21

$16 + 13$ ○ 19

三 suàn yī suàn tián yī tián 算一算, 填一填。(12分)

$22 + 7 - 6 = \square$

$26 - 4 + 6 = \square$

$20 + 5 - 7 = \square$

$28 - 7 + 8 = \square$

$27 + 3 - 6 = \square$

$25 - 8 + 3 = \square$

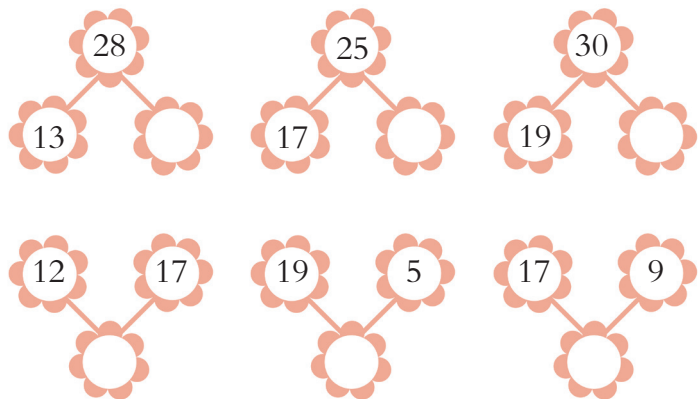
四 xiǎng yī xiǎng tián yī tián 想一想, 填一填。(12分)

$24 \xrightarrow{-5} \square \xrightarrow{+6} \square \xrightarrow{-7} \square \xrightarrow{+9} \square$


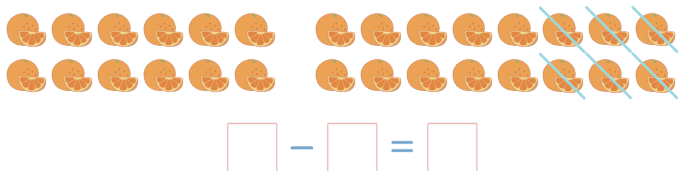
$30 \xrightarrow{-7} \square \xrightarrow{+4} \square \xrightarrow{-9} \square \xrightarrow{+6} \square$

$29 \xrightarrow{-9} \square \xrightarrow{+6} \square \xrightarrow{+3} \square \xrightarrow{-8} \square$

五 算一算，填一填。(12分)



六 看图列算式。(8分)



七 想一想，□里可以填几？(16分)

$18 + \square < 23$ $14 + \square > 26$
 $26 - \square < 22$ $27 - \square > 21$
 $16 + \square < 25$ $17 + \square > 24$
 $29 - \square < 26$ $28 - \square > 20$

八 拓展应用题。(12分)

1. 丁丁每天要写30个 ，上午写了15个 ，下午写了12个 ，还有几个  没有写？

○ ○ = (个)

2. 花丛里原来有23只  在采蜜，不一会儿又飞来了6只 ，11只  采完蜜后飞回家，花丛里还剩下多少只  在采蜜？

○ ○ = (只)




单双数相邻数

姓名: _____ 测试时间: 40分钟
 得分: _____ 总分: 100分
 所用时间: _____

一 根据相邻的数，按顺序填上正确的单数或双数。
gēn jù xiāng lín de shù, àn shùnxù tián shàng zhèng què de dān shù huò shuāng shù
 数。(12分)



三 在双数图形下面的()中打“√”。(12分)
zài shuāng shù tú xíng xià miàn de () zhōng dǎ "√"




()



()



()



()

二 填写相邻数。(12分)
tián xiě xiāng lín shù

	13	
--	----	--

	19	
--	----	--

	16	
--	----	--

	21	
--	----	--

	25	
--	----	--

	28	
--	----	--

四 在□中填上数字，找找双数的规律。(16分)
zài □ zhōng tián shàng shù zì, zhǎo zhǎo shuāng shù de guī lǚ

$$17 \begin{cases} \square = 16 \\ \square = 14 \end{cases}$$

$$15 \begin{cases} \square = 12 \\ \square = 10 \end{cases}$$

$$13 \begin{cases} \square = 12 \\ \square = 8 \end{cases}$$

$$27 \begin{cases} \square = 22 \\ \square = 14 \end{cases}$$

五

suàn yī suàn lián yī lián kàn kàn nǎ xiē shì shuāng shù nǎ xiē shì dān shù
算一算，连一连，看看哪些是双数，哪些是单数。(12分)

 13+6
  28-8
  30-11
  13+15

 19
  28
  19
  20

六

xiān jì suàn zài jiāng dé shù shì shuāng shù de yòng quān chū lái
先计算，再将得数是双数的用○圈出来。(12分)

$24-17=$ <input type="text"/>	$25-19=$ <input type="text"/>	$23-14=$ <input type="text"/>
$12+13=$ <input type="text"/>	$15+12=$ <input type="text"/>	$21+4=$ <input type="text"/>
$30-15=$ <input type="text"/>	$22-13=$ <input type="text"/>	$17-5=$ <input type="text"/>
$18+11=$ <input type="text"/>	$24+9=$ <input type="text"/>	$13+9=$ <input type="text"/>

七

àn yāo qiú tián yī tián
按要求，填一填。(12分)

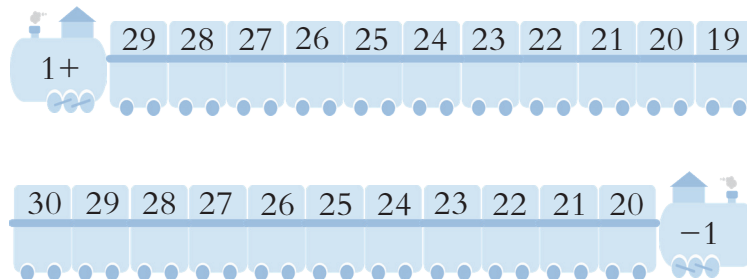
11、17、20、18、12、26、14、15、19、10、29

- 上面数字中是单数的有()。
- 上面数字中是双数的有()。
- 按从大到小的顺序排列上面的数字。

() > () > () > () > () > () > () > () > () > ()

八

suàn yī suàn tián yī tián kàn kàn tā men yǒu shén me guī lǜ
算一算，填一填，看看它们有什么规律。(12分)



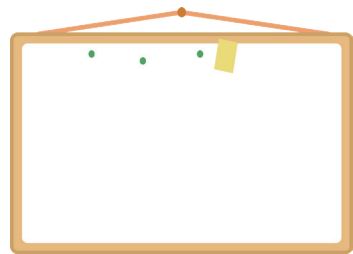


40以内的加减法 (1)

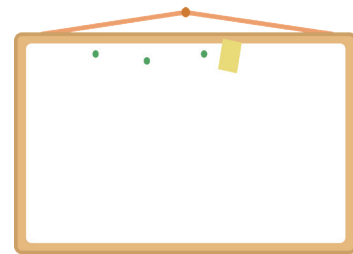
姓名: _____ 测试时间: 40分钟
 得分: _____ 总分: 100分
 所用时间: _____

一 suàn yī suàn tián yī tián 算一算, 填一填。(16分)

$36-2=$ $35+3=$ $25+4=$
 $37-6=$ $29-2=$ $39-3=$



>30



<30

二 xiǎo péng yǒu men nǐ men néng suàn chū lái ma 小朋友们, 你们能算出来吗?(12分)

$36+3-12=$

$37-11=$

$39-14+3=$

$23+16=$

$29+10-6=$

$30-5=$

三 suàn yī suàn lián yī lián 算一算, 连一连。(16分)

- 14+19
- 9+25
- 18+17
- 39-7

- 32
- 33
- 34
- 35

- 9+26
- 16+16
- 40-7
- 26+8



四 zài li tián shàng 在○里填上“>”“<”或“=”。(12分)

$35-6$ ○ $8+23$

$17+9$ ○ $30-7$

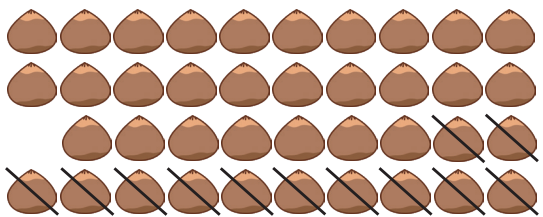
$15+14$ ○ $35-6$

$34-7$ ○ $28-9$


$38-16$ ○ $9+14$

$33-7$ ○ $31-5$

五 看图列算式。(8分)

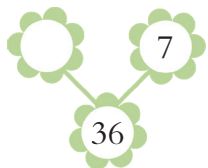
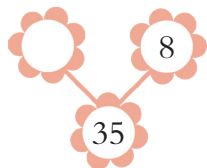
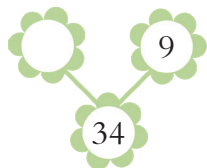
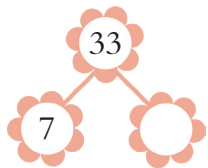
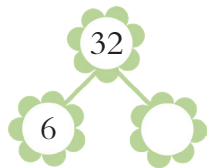
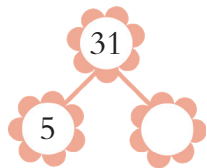


$$\square \bigcirc \square = \square$$



$$\square \bigcirc \square = \square$$

六 算一算，填一填。(12分)



七 竖式计算题。(12分)

$$\begin{array}{r} 36 \\ + 2 \\ \hline \square \square \end{array}$$

$$\begin{array}{r} 39 \\ - 15 \\ \hline \square \square \end{array}$$

$$\begin{array}{r} 30 \\ - 3 \\ \hline \square \square \end{array}$$

$$\begin{array}{r} 23 \\ + 6 \\ \hline \square \square \end{array}$$

$$\begin{array}{r} 37 \\ - 4 \\ \hline \square \square \end{array}$$

$$\begin{array}{r} 39 \\ - 14 \\ \hline \square \square \end{array}$$

八 拓展应用题。(12分)

1. 小兔子有35根 , 兔妈妈又给了小兔子3根 , 小兔子一共有几根 ?

$$\square \bigcirc \square = \square \text{ (根)}$$

2. 小猫有37盒 , 送给了小熊12盒 , 小猫还剩下几盒 ?

$$\square \bigcirc \square = \square \text{ (盒)}$$



40以内的加减法 (2)

姓名: _____ 测试时间: 40分钟
 得分: _____ 总分: 100分
 所用时间: _____



一 算一算，在正确的答案后面打“√”，错误的
 答案后面打“×”。 (12分)

$37 - 26 + 8 = 16$


$35 - 23 + 9 = 14$

$29 - 16 + 2 = 19$

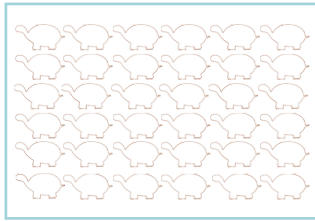
$24 - 22 + 15 = 17$




三 数一数，涂一涂。 (12分)



36







34



36



二 请将下面数字的相邻数写在括号里。 (12分)



四 算一算，连一连。 (12分)

35+2

29-8

17+22

24+13

38-17

23+16