



# 能力评价

NENGLI PINGJIA

## 初中卷

◆ 《能力评价》编写组 编



# 地理

八年级

上册

晋教版

 湖南教育出版社

# 目 录

1. 第一章测试卷一 .....	1
2. 第一章测试卷二 .....	5
3. 月考卷一 .....	9
4. 第二章测试卷一 .....	13
5. 第二章测试卷二 .....	17
6. 第二章测试卷三 .....	21
7. 月考卷二 .....	25
8. 第三章测试卷一 .....	29
9. 第三章测试卷二 .....	33
10. 月考卷三 .....	37
11. 第四章测试卷一 .....	41
12. 第四章测试卷二 .....	45
13. 月考卷四 .....	49
14. 分类复习卷一 .....	53
15. 分类复习卷二 .....	57
16. 分类复习卷三 .....	61
17. 分类复习卷四 .....	65
18. 期中测试卷一 .....	69
19. 期中测试卷二 .....	73
20. 期末测试卷一 .....	77
21. 期末测试卷二 .....	81
参考答案 .....	85

# 1. 第一章测试卷一

测试时间:60分钟 满分:100分

题号	一	二	总分
得分			

## 一、单项选择题(每小题3分,共60分)

1. 从东西半球和南北半球看,我国位于 ( )  
A. 东半球、北半球 B. 西半球、北半球  
C. 西半球、南半球 D. 东半球、南半球
2. 关于我国地理位置的叙述,不正确的是 ( )  
A. 我国大部分地区位于北温带,南部部分地区位于热带  
B. 我国北部纬度高,为寒带  
C. 我国是一个海陆兼备的国家  
D. 我国东部海域广阔,有众多的岛屿和港湾
3. 当黑龙江还是冰天雪地时,海南岛已是春耕大忙了。这是由于我国 ( )  
A. 海陆位置的不同 B. 东西所跨的经度广  
C. 南北所跨的纬度广 D. 地势起伏不同
4. 我国东部濒临的海洋,从北向南依次是 ( )  
A. 黄海、东海、渤海、南海 B. 渤海、东海、黄海、南海  
C. 南海、东海、黄海、渤海 D. 渤海、黄海、东海、南海
5. 我国幅员辽阔,东西相距约5000千米,跨经度60多度,这就造成了 ( )  
A. 同一时代、不同民居 B. 同一季节、不同衣着  
C. 同一时刻、不同景象 D. 同处平原、不同耕作
6. 我国是一个海陆兼备的国家,下列说法不正确的是 ( )  
A. 台湾岛是我国第一大岛  
B. 钓鱼岛及其附属岛屿是我国固有的领土  
C. 我国陆上邻国有14个,隔海相望的国家有8个  
D. 南海是我国四大海域中平均深度最深的
7. 下列省区轮廓与其名称、简称、省级行政中心搭配正确的一组是 ( )



- A. ①—黑龙江—龙—哈尔滨 B. ②—湖北—鄂—武汉

密  
封  
线  
得  
分  
姓  
名  
班  
级



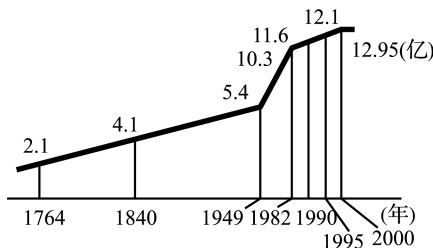
中国地形类型与人口分布

海拔高度	海拔 500 米以下的平原、丘陵区	海拔 2000 米以上的高原、高山区
占全国总面积的百分比(%)	25.2	32.9
占全国总人口的百分比(%)	79.7	2.1

- A. 平原和丘陵      B. 高原      C. 山地      D. 高原和山地
15. 我国各少数民族的主要集中分布在 ( )
- A. 中部和西部      B. 西南、西北和东北地区  
C. 东南、西北和东北地区      D. 东南、西南和西北地区
16. 下列关于我国各民族分布的说法,正确的是 ( )
- A. 各民族大散居、小聚居,交错杂居      B. 各民族大聚居、小散居,交错杂居  
C. 汉族主要分布在东部和南部      D. 少数民族主要分布在西部和北部
17. 下列关于我国民族知识的说法中,错误的一项是 ( )
- A. 各民族不论人口多少,一律平等  
B. 我国有 56 个民族,各民族的分布具有“大散居、小聚居”的特点  
C. 国家保障各少数民族的合法权利和利益,维护和发展各少数民族的平等、团结、互助关系  
D. 各民族有自己不同的生活习俗,如蒙古族的泼水节,回族大多信仰伊斯兰教
18. 我国人口最多的民族是 ( )
- A. 壮族      B. 回族      C. 汉族      D. 藏族
19. 火把节是下列哪个民族的民俗风情 ( )
- A. 傣族      B. 蒙古族      C. 维吾尔族      D. 彝族
20. 儿歌《合奏祖国好妈妈》描绘了我国四个省区的自然特征和主要少数民族的乐器,其中描述内蒙古的是 ( )
- A. 黄河小娃娃,吹响金唢呐      B. 天山小娃娃,弹起冬不拉  
C. 雨林小娃娃,象脚鼓敲又打      D. 草原小娃娃,拉起马头琴

二、综合题(40 分)

21. 读我国人口增长折线图,完成下列各题。(16 分)

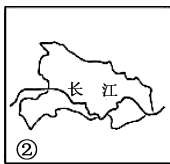
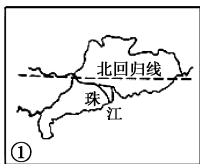


(1)我国人口增长速度明显加快是从\_\_\_\_\_年开始的。原因是新中国成立后,\_\_\_\_\_的提高和\_\_\_\_\_的改善,人口\_\_\_\_\_率大大下降,人口\_\_\_\_\_率不断上升。

(2)人口迅速增长后,从\_\_\_\_\_年开始放慢。其主要原因是较好地实行了\_\_\_\_\_政策,其目的是使人口的增长能与经济的发展、资源的利用和环境的保护相适应。

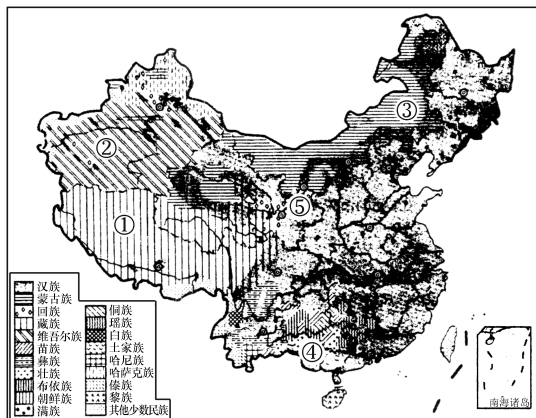
(3)目前,我国人口增长速度已经放慢,但为什么每年新增人口依然很多?

22. 读以下 6 个省区的轮廓图,把相关内容用直线连接起来。(12 分)



- |   |      |   |
|---|------|---|
| ① | 湖北省  | 滇 |
| ② | 云南省  | 粤 |
| ③ | 广东省  | 鄂 |
| ④ | 黑龙江省 | 秦 |
| ⑤ | 山东省  | 黑 |
| ⑥ | 陕西省  | 鲁 |

23. 读下图,回答问题。(12 分)



(1)主要分布在西藏、青海以及四川西部的少数民族是\_\_\_\_\_；主要分布在新疆的少数民族是\_\_\_\_\_；喜欢弹马头琴、摔跤的少数民族是\_\_\_\_\_，主要分布在\_\_\_\_\_。

(2)我国少数民族聚居区有汉人分布,汉族人集中的地方也有少数民族分布,这说明我国民族的分布具有\_\_\_\_\_的特征。

## 2. 第一章测试卷二

测试时间:60分钟 满分:100分

题号	一	二	总分
得分			

### 一、单项选择题(每小题3分,共60分)

- 有一首歌唱道:“遥远的东方有一条龙,他的名字叫中国。”歌词中的“东方”是指( )  
A. 太平洋东岸 B. 亚洲东部 C. 印度洋东部 D. 大西洋西岸
- 中央电视台2011年1月14日发布天气信息:14日,中国渤海、黄海海冰总体分布面积已超过2万平方千米。渤海、黄海海冰分布面积广,而我国其他海域没有出现海冰,是因为( )  
A. 我国海岸线漫长 B. 渤海、黄海海域位于寒带  
C. 我国海域南北跨纬度广 D. 我国海域东西跨经度广
- 歌曲《我爱你——中国》的歌词:“当灿烂的太阳跳出了你东海的碧波,你的帕米尔高原上依然是群星闪烁;当你的北国还是银装素裹的世界啊,你的南疆早已到处洋溢着盎然的春色。”这些现象差异大的原因主要是( )  
A. 纬度因素和经度因素 B. 经度因素和纬度因素  
C. 地形因素和海陆因素 D. 海陆因素和地形因素
- 2012年4月10日,菲律宾在我国主权领土黄岩岛附近骚扰我国的渔船,制造事端,严重损害了中菲关系。黄岩岛所在海域是我国的( )  
A. 渤海 B. 黄海 C. 东海 D. 南海
- 下列有关我国邻国的叙述,正确的是( )  
A. 位于东南亚地区的越南、老挝和泰国是我国的陆上邻国  
B. 位于我国东部与我国隔海相望的国家有朝鲜、韩国和日本  
C. 与我国隔海相望的6个国家中,纬度最高的是日本  
D. 与越南相邻的省级行政区有广东省和广西壮族自治区
- 下列省级行政区与其行政中心之间的连线,不正确的是( )  
A. 内蒙古自治区——呼和浩特 B. 新疆维吾尔自治区——乌鲁木齐  
C. 宁夏回族自治区——包头 D. 甘肃省——兰州
- 下列省区中,既临渤海又临黄海的是( )



①

A. ①



②

B. ②



③

C. ③



④

D. ④

2010年11月12日至27日,第16届亚运会在我国广州市举行。此届亚运会的理念是“激情盛会,和谐亚洲”。来自亚洲45个国家和地区的数千名运动员在42个项目上展开了激烈的争夺,最后中国代表团以199枚金牌独领风骚。据此完成8~10题。

8. 本届亚运会的举办地位于下列哪个省区 ( )



A



B



C



D

9. 下列省级行政区中,与该省区陆上相邻的是 ( )

- A. 浙、赣、闽      B. 鲁、云、闽      C. 湘、赣、闽      D. 鄂、闽、云

10. 上图四省区中,汽车牌照的第一个字依次为 ( )

- A. ①云 ②桂 ③皖 ④黑      B. ①滇 ②粤 ③鄂 ④黑  
C. ①青 ②粤 ③渝 ④新      D. ①新 ②滇 ③鄂 ④鲁

11. 下列关于我国人口众多的说法,不正确的是 ( )

- A. 为社会提供了充足的劳动力和消费市场  
B. 加大对食品、教育、医疗、交通等的压力  
C. 给我国资源、环境和社会经济带来沉重压力  
D. 人口数量巨大带来的只有危害,没有任何益处

12. 我国人口自然增长率从1970年的2.95%下降到2010年的0.48%。据推算,我国40年间全国大约少出生4亿人。这一成绩的取得,主要是由于什么政策的实施 ( )

- A. 计划生育政策      B. 鼓励生育政策      C. 土地政策      D. 城市化政策

13. 我国实行计划生育以来,每年仍增加大量人口,其主要原因是 ( )

- A. 人口死亡率低      B. 人口出生率高      C. 人口基数大      D. 扩大城市人口

14. 读中国距海岸线远近与人口分布表,下列关于我国人口分布的说法,正确的是 ( )

距海洋的距离	0~200千米	0~500千米	0~1000千米	1000千米以上
占全国总人口的百分比(%)	35.9	60.2	96.6	3.4
距海洋的距离	0~200千米	200~500千米	500~1000千米	1000千米以上
人口密度(人/千米 <sup>2</sup> )	401	205	161	14

- A. 距海越近,人口越密集      B. 距海越远,人口越密集  
C. 沿海地区人口稀少      D. 内陆地区人口密集

15. 下列关于我国人口的说法,错误的是 ( )

- A. 到2010年,我国总人口已达到13.7亿  
B. 现在,我国人口增长速度仍然很快  
C. 我国是世界上人口最多的国家  
D. 我国政府把实行计划生育作为一项长期坚持的基本国策

16. 歌墟节是下列哪个少数民族的节日 ( )

- A. 高山族      B. 朝鲜族      C. 苗族      D. 壮族

17. 下列说法可信的是 ( )

- A. 哈萨克族同胞说：“每年春天欢迎到我们这里看叼羊比赛。”  
 B. 彝族的同胞说：“我们的火把节，可以祛灾逐疫。”  
 C. 藏族同胞说：“我们栽种的苹果个大香甜。”  
 D. 朝鲜族同胞说：“泼水节是我们传统而盛大的节日。”

18. 我国是一个多民族的和睦大家庭，各民族的分布具有大散居、小聚居、交错杂居的特点。下列民族中，主要聚居在西北地区的是 ( )

- A. 回族      B. 朝鲜族      C. 壮族      D. 傣族

19. 西部地区分布着众多的少数民族，右图邮票所示的少数民族集中分布在\_\_\_\_\_自治区。 ( )


- A. 宁夏      B. 西藏  
 C. 广西      D. 新疆



20. 下图中属于满族人的是 ( )



A



B



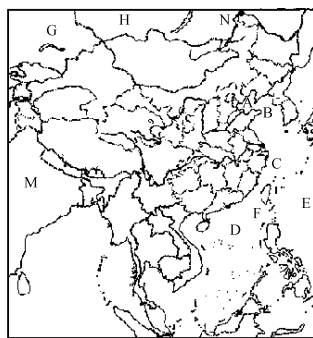
C



D

## 二、综合题(40分)

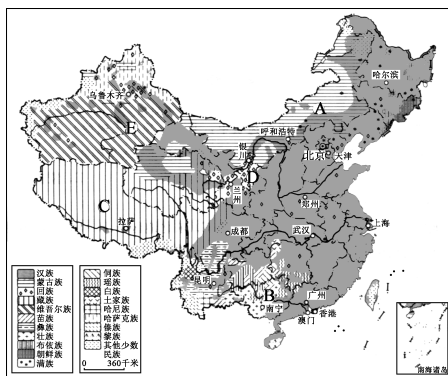
21. 读中国疆域简图，回答下列问题。(16分)



中国疆域图

- (1) 我国的海域: B. \_\_\_\_\_ C. \_\_\_\_\_ D. \_\_\_\_\_  
 (2) 我国最大的岛屿: F. \_\_\_\_\_  
 (3) 我国东部濒临的大洋: E. \_\_\_\_\_  
 (4) 我国的邻国: H. \_\_\_\_\_ G. \_\_\_\_\_ M. \_\_\_\_\_

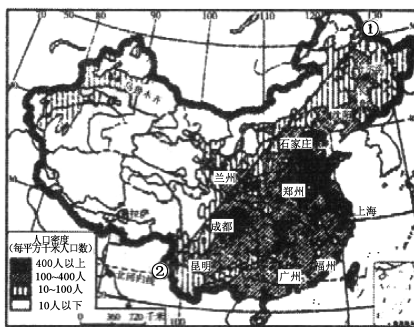
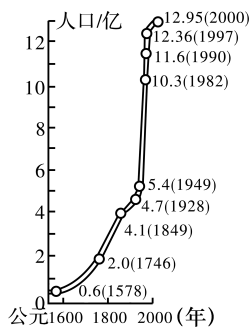
22. 读中国的民族分布图,回答下列问题。(16分)



中国民族分布图

- (1)写出图中我国少数民族自治区的简称。  
A. \_\_\_\_\_ B. \_\_\_\_\_ C. \_\_\_\_\_ D. \_\_\_\_\_ E. \_\_\_\_\_
- (2)台湾的主要少数民族是\_\_\_\_\_。
- (3)哈萨克族主要分布在\_\_\_\_\_自治区的北部。
- (4)中国各少数民族中,分布最广的少数民族是回族,主要信仰\_\_\_\_\_教。该宗教发源于\_\_\_\_\_,其教徒被称为\_\_\_\_\_。
- (5)下列民族区名称与所在省区的连线,正确的是 ( )  
A. 朝鲜族——吉林省                      B. 傣族——台湾省  
C. 黎族——云南省                         D. 高山族——海南省
- (6)我国共有\_\_\_\_\_个民族。在我国各民族中,\_\_\_\_\_人口最多。在少数民族中,人口最多的是\_\_\_\_\_。

23. 读中国人口增长图和人口分布图,回答下列问题。(8分)



- (1)我国人口增长最快的时段是\_\_\_\_\_。这一时段,人口增长最快的主要原因是 ( )  
A. 人口基数大      B. 经济发展快      C. 归国华侨多      D. 人口出生率高
- (2)人口增长过快,人口过多带来的主要社会问题有哪些?
- (3)我国幅员辽阔,人口密度差异很大。区分这种差异的一条重要分界线是\_\_\_\_\_。
- (4)1991—2000年,我国人口增长速度明显放慢,这得益于强有力的\_\_\_\_\_政策的实施。


### 3. 月考卷一

测试时间:60分钟 满分:100分

题号	一	二	总分
得分			

#### 一、单项选择题(每小题3分,共57分)

1. 小明等几位同学正在对“我国纬度位置的优越性”进行讨论,其中正确的是 ( )
- A. 小红:我国全部处于北温带,气候温和  
 B. 小畅:我国大部分位于热带,热量充足  
 C. 小明:我国大部分位于北温带,光照充足  
 D. 小李:我国有一部分位于寒带,夏季凉爽
2. 根据下图判断,下列说法错误的是 ( )



中国陆地面积占亚洲的百分比



中国轮廓与欧洲轮廓叠加

- A. 我国地域辽阔,陆地面积约960万平方千米  
 B. 我国的国土面积接近整个欧洲的面积  
 C. 我国的面积仅次于俄罗斯和加拿大,居世界第三位  
 D. 我国是世界上东西跨度最大的国家
3. 我国陆上邻国的个数是 ( )
- A. 14                      B. 13                      C. 12                      D. 11
4. 我国纬度最高和最低的省区是 ( )
- A. 黑和粤                  B. 黑和琼                  C. 新和台                  D. 内蒙古和琼
5. 中国海军第七护航编队2010年11月2日在浙江舟山起航,赴亚丁湾、索马里海域执行护航任务。此次护航编队出发的海域是 ( )
- A. 东海                      B. 南海                      C. 黄海                      D. 渤海
6. 以下4个省区的简称分别是 ( )



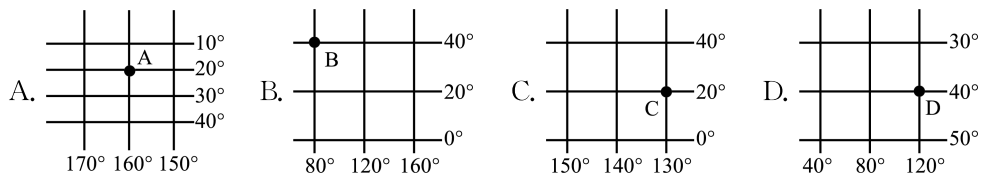
密  
封  
线  
班  
级  
姓  
名  
得  
分

- A. 贵、鄂、辽、晋    B. 皖、晋、辽、豫    C. 黔、皖、辽、豫    D. 贵、皖、豫、辽

7. 小华想通过邮局给远在外省某乡镇中学的表哥写信,为使书信顺利到达,按中国行政区划的等级,小华应在信封上方依次写清他表哥所在地的 ( )

- A. 省、县、乡、学校    B. 省、县、村、学校  
C. 乡、县、省、学校    D. 村、县、省、学校

8. 下图所示的地点中,位于中国境内的是 ( )



9. 北回归线自西向东穿过的我国省级行政单位依次是 ( )

- A. 台、粤、桂、云    B. 台、闽、赣、桂    C. 云、桂、粤、闽    D. 云、桂、粤、台

10. “两湖两广两河山”中的“湖”和“河”分别指的是 ( )

- A. 鄱阳湖和黄河    B. 洞庭湖和黄河    C. 太湖和淮河    D. 青海湖和淮河

11. 根据 2010 年第六次人口普查,我国人口总数达到 ( )

- A. 13.7 亿    B. 11.95 亿    C. 10.95 亿    D. 13.95 亿

12. 20 世纪 70 年代以来,我国人口自然增长率迅速下降的原因是 ( )

- A. 由于福利保障政策的实施,自然增长率迅速下降  
B. 由于新中国人口死亡率高,因此自然增长率迅速下降  
C. 计划生育政策的实施  
D. 由于新中国经济、文化发展迅速,因此人口自然增长率较低

13. 下列关于我国人口的叙述,正确的是 ( )

- A. 我国平均人口密度为 143 人/千米<sup>2</sup>,远低于世界平均水平  
B. 我国东部地区面积不及全国的一半,而人口却占全国的 94%  
C. 我国东部地区人口稀少,西部地区人口密集  
D. 我国东部人口密度大,许多城市和平原地区的人口密度超过 1000 人/千米<sup>2</sup>

14. 下列关于我国人口分布的叙述,正确的是 ( )

- A. 西南多、东北少    B. 东北多、西南少    C. 东南多、西北少    D. 西北多、东南少

15. 下列省级行政区域单位中,有两个简称的是 ( )

- A. 西藏自治区    B. 广东省  
C. 贵州省    D. 香港特别行政区

16. 下图中的人物所代表的民族是 ( )



- A. 回族    B. 朝鲜族    C. 蒙古族    D. 维吾尔族

17. 下图出现的画面反映的哪个民族的体育项目 ( )



A. 朝鲜族      B. 苗族      C. 蒙古族      D. 回族

18. 端着水盆把客人淋成“落汤鸡”，客人不怒反喜，因为这是我国某少数民族在节日里祝福客人的方式。该民族是 ( )

A. 傣族      B. 蒙古族      C. 回族      D. 维吾尔族

19. 我国人口最多的少数民族和人口最少的少数民族分别是 ( )

A. 壮族和土家族      B. 满族和回族      C. 壮族和珞巴族      D. 满族和珞巴族


二、综合题(43分)

20. 读下面的各省级行政区轮廓图，完成下列问题。(14分)



A. \_\_\_\_\_ 省，简称 \_\_\_\_\_，省级行政中心是 \_\_\_\_\_。  
 B. \_\_\_\_\_ 省，简称 \_\_\_\_\_，省级行政中心是 \_\_\_\_\_。  
 C. \_\_\_\_\_ 省，简称 \_\_\_\_\_，省级行政中心是 \_\_\_\_\_。  
 D. \_\_\_\_\_ 省，简称 \_\_\_\_\_，省级行政中心是 \_\_\_\_\_。  
 E. \_\_\_\_\_ 省，简称 \_\_\_\_\_，省级行政中心是 \_\_\_\_\_。  
 F. \_\_\_\_\_ 省，简称 \_\_\_\_\_，省级行政中心是 \_\_\_\_\_。  
 G. \_\_\_\_\_ 省，简称 \_\_\_\_\_，省级行政中心是 \_\_\_\_\_。

21. 读下面四幅图，回答问题。(14分)



(1) 写出上图中分别代表的少数民族名称。

A. \_\_\_\_\_ 族      B. \_\_\_\_\_ 族  
 C. \_\_\_\_\_ 族      D. \_\_\_\_\_ 族

(2) “天苍苍，野茫茫，风吹草低见牛羊”是对图 \_\_\_\_\_ (填字母) 中 \_\_\_\_\_ 民族聚居地环境的描述。



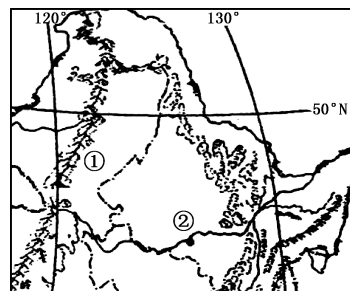


8. 该盆地降水稀少的主要原因是 ( )
- A. 地处我国北方地区                      B. 深居内陆,受海洋影响小
- C. 受冬季风影响大                        D. 河流稀少,多内流河

9. 下列关于我国地形区的叙述,正确的是 ( )
- A. 四大高原:青藏高原、内蒙古高原、黄土高原、伊朗高原
- B. 四大盆地:四川盆地、塔里木盆地、柴达木盆地、吐鲁番盆地
- C. 三大平原:东北平原、长江中下游平原、华北平原
- D. 三大丘陵:山东丘陵、辽东丘陵、江南丘陵

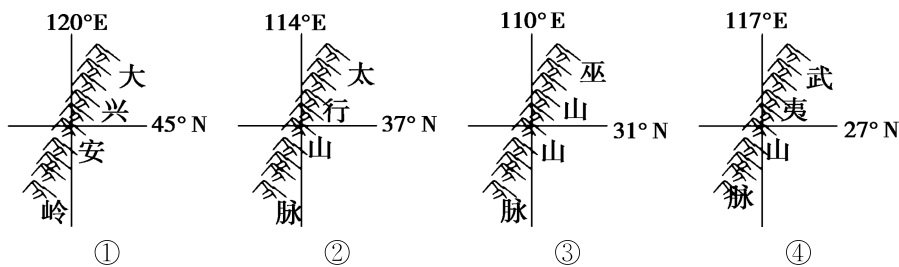
读右图,回答 10~11 题。

10. 图中①山脉东侧的地形区及其突出特征是 ( )
- A. 雪山连绵、冰川广布的青藏高原
- B. 千沟万壑、支离破碎的黄土高原
- C. 地势平坦、一望无际的东北平原
- D. 崎岖不平、多山间小盆地的云贵高原
11. 下列关于图中②省的说法,正确的是 ( )

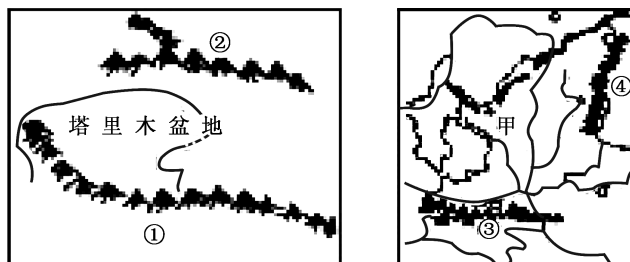


- A. 简称哈,行政中心是哈尔滨
- B. 冬季寒冷漫长
- C. 与哈萨克斯坦隔江相望
- D. 位于我国地势的第二级阶梯

12. 下图为我国四座重要的山脉位置示意图,图中既是省区的分界线,又是我国地势三级阶梯分界线的山脉是 ( )



- A. ①                      B. ②③                      C. ②③④                      D. ①②③④
13. 我国地势第一、二级阶梯的分界线是 ( )
- A. 天山—阴山                      B. 昆仑山—祁连山—横断山脉
- C. 长白山—武夷山                      D. 大兴安岭—太行山—巫山—雪峰山
14. 对下图中山脉两侧地形区景观的描述,与实际情况不相符的是 ( )



- A. ①山的南侧高寒草原上,常见成群的牦牛在觅食
- B. ②山的南侧是千里戈壁,沙漠广布
- C. ③山北侧的高原,是千沟万壑,支离破碎的黄土高原
- D. ④山的东侧秋季稻谷飘香

15. 下列关于我国盆地地形的叙述,正确的是 ( )

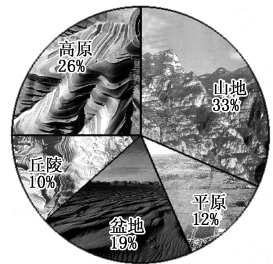
- A. 四川盆地四周都有高原环绕
- B. 我国四大盆地中,四川盆地最适合发展农业生产
- C. 塔里木盆地中有世界面积最广的沙漠
- D. 在第二级阶梯上,盆地面积分布最广,比高原面积还大

16. 我国地形类型多样,不利于在山区发展的经济部门是 ( )

- A. 采矿业
- B. 种植业
- C. 林业
- D. 旅游业


17. 一般把山地、丘陵连同地表比较崎岖的高原统称为山区。读右图,我国山区面积约占全国总面积的 ( )

- A. 2/3
- B. 1/3
- C. 3/4
- D. 4/5



我国主要地形区占全国陆地面积的百分比

读醉林示意图,完成 18~19 题。



18. 导致“醉林”现象发生的地理现象是 ( )

- A. 崩塌
- B. 滑坡
- C. 水土流失
- D. 地震

19. 下列地形区中,最有可能存在此景观的是 ( )

- A. 内蒙古高原
- B. 准噶尔盆地
- C. 长江中下游平原
- D. 云贵高原

20. 泥石流的形成应具有的条件是 ( )

- A. 集水的陡峭地形,丰富的松散固体破碎物质,短时间内的大量来水
- B. 暴雨,松散堆积物
- C. 陡峻的地形,巨厚的岩土体,长时间的稳定降雨
- D. 平缓的地形,薄层松散岩土体,降雨及地下水丰富

二、综合题(40 分)

21. 读图,回答下列问题。(16 分)

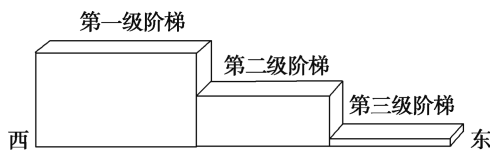


图 1 我国地势三级阶梯分布示意图

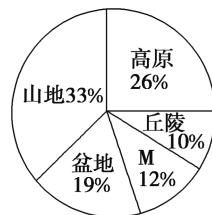


图 2 我国主要地形面积占全国陆地面积的比例

(1)由图 1 可知,我国地势的总特征是\_\_\_\_\_ ,呈阶梯状分布。这种地势特征对我国河