

根据最新审定教材编写

R



导学案

《导学案》编委会 编著

历史

七年级（上）

DAO
XUE
AN



四川大学出版社

根据最新审定教材编写

R



导学案

《导学案》编委会 编著

历史

七年级（上）

DAO
XUE
AN



四川大学出版社

责任编辑:梁平
责任校对:陈香怡
封面设计:墨创文化
责任印制:王炜

图书在版编目(CIP)数据

导学案. 历史七年级. 上 / 《导学案》编委会编著.
—成都: 四川大学出版社, 2017. 5
ISBN 978-7-5690-0587-5
I. ①导… II. ①导… III. ①中学历史课—初中—教
学参考资料 IV. ①G634
中国版本图书馆 CIP 数据核字 (2017) 第 104005 号

书名 导学案·历史七年级(上)

编 著 《导学案》编委会
出 版 四川大学出版社
地 址 成都市一环路南一段 24 号 (610065)
发 行 四川大学出版社
书 号 ISBN 978-7-5690-0587-5
印 刷 四川胜翔数码印务设计有限公司
成品尺寸 210 mm×297 mm
印 张 18
字 数 484 千字
版 次 2017 年 8 月第 1 版
印 次 2017 年 8 月第 1 次印刷
定 价 54.00 元



◆本社图书如有印装质量问题,请
寄回印刷厂调换。

版权所有◆侵权必究

目 录

CONTENTS



第一单元 史前时期:中国 境内人类的活动

第1课 中国早期人类的代表——北京人	2
第2课 原始农耕生活	11
第3课 远古的传说	20
单元综合整理	29

第二单元 夏商周时期:早期 国家的产生与社会变革

第4课 早期国家的产生和发展	33
第5课 青铜器与甲骨文	42
第6课 动荡的春秋时期	51
第7课 战国时期的社会变化	59
第8课 百家争鸣	69
单元综合整理	78

第三单元 秦汉时期:统一多 民族国家的建立和巩固

第9课 秦统一中国	84
第10课 秦末农民大起义	94
第11课 西汉建立和“文景之治”	103

第12课 汉武帝巩固大一统王朝	110
第13课 东汉的兴亡	119
第14课 沟通中外文明的“丝绸之路”	126
第15课 两汉的科技和文化	134
单元综合整理	144

第四单元 三国两晋南北朝时期: 政权分立与民族融合

第16课 三国鼎立	150
第17课 西晋的短暂统一和北方各族的内迁	159
第18课 东晋南朝时期江南地区的开发	167
第19课 北魏政治和北方民族大交融	175
第20课 魏晋南北朝的科技与文化	184
第21课 活动课:让我们共同来感受历史(略)	192
单元综合整理	193
参考答案	197
测试卷参考答案	223
教材习题参考答案	232

同步测试卷

第一单元测试卷	1
第二单元测试卷	5
期中测试卷(一)	9
期中测试卷(二)	17
第三单元测试卷	25
第四单元测试卷	29
期末测试卷(一)	33
期末测试卷(二)	41

第一单元

史前时期：中国境内人类的活动

<p>单元概览</p>	<p>本单元讲述的是史前时期中国境内人类的活动，始自约 170 万年前的元谋人，截至传说中的尧、舜、禹时期。概述了祖国境内的早期人类元谋人、北京人和原始农耕时代的典型代表半坡居民、河姆渡居民的生产生活状况以及黄帝、炎帝、尧、舜、禹等远古先民的传说。</p> <p>元谋人是我国境内目前已确认的最早的古人类，北京人是世界上最重要的原始人类之一。通过对北京人的研究，可以发现早期猿人向现代人类演进和发展变化的规律，为人类起源的研究提供了可靠证据。半坡居民和河姆渡居民是我国进入农耕时代的典型代表，他们学会了栽培农作物、饲养家畜、建造房屋，为我国古代文明社会的形成奠定了物质基础。四五千年前，黄帝部落与炎帝部落结合在一起，逐渐形成华夏族，因此后人尊崇炎帝和黄帝为中华民族的人文始祖。相传在黄帝之后，黄河流域主要有陶唐氏、有虞氏、夏后氏等部落。为抵御共同的灾难，三个部落走向了联盟，尧、舜、禹依次成为部落联盟的首领。</p>
<p>要点简介</p>	<p>重点：</p> <p>了解元谋人的发现及历史地位；了解北京人的发现及意义，知道北京人的体貌特征；知道半坡居民、河姆渡居民的生产、生活状况；知道原始农业的兴起和发展；知道炎帝、黄帝的传说；知道大禹治水。</p> <p>难点：</p> <p>了解远古人类的生活特征；了解半坡居民和河姆渡居民作为黄河流域和长江流域农耕文化代表的区别；了解远古传说与历史事实的区别；正确认识尧舜禹时期“禅让”的含义。</p>
<p>学法指导</p>	<p>1. 比较学习法。对北京人、山顶洞人等，可从生活年代、发现地点、考古发掘情况、生产生活、历史地位等方面对比分析。在学习“原始农耕生活”时，可从生活年代、生活地域、房屋样式、种植的农作物等方面对河姆渡居民和半坡居民进行比较，总结规律，分析出现差异的原因，掌握南北方文化的异同。</p> <p>2. 读图识图法。运用图文结合法寻找图片中较为明显的、主要的历史信息，并对其进行初步的分析、解释，进而得出简单的历史结论，学会感知历史和形象地思考历史。例如，通过阅读图片“北京人用火想象图”，想象北京人用火的情况；通过观察分析图片“河姆渡遗址出土的骨耜”“河姆渡遗址出土的猪纹陶钵”，知道它们的用途，进而了解当时的生产、生活状况；通过观察“大禹治水像”，了解大禹治水的事迹和精神等。</p>

第1课 中国早期人类的代表——北京人

第1版块 自主学习导学

目标导引

1. 了解劳动在从猿到人转变过程中的作用以及知道我国是古人类遗址发现最多的国家之一。
2. 理解元谋人、北京人的发现及历史价值,火的使用在人类进化过程中的重大意义。
3. 掌握北京人的体貌特征及生产、生活状况。
4. 通过阅读课文内容及配套插图,对比古猿、北京人和现代人的头部区别,想象北京人是怎样生活的,培养观察分析能力和历史想象力。

挑战新知

1. 元谋人发现于我国_____元谋县,距今约_____年,是我国境内目前已确认的_____的古人类。
2. 北京人遗址位于北京西南周口店_____上。1929年,_____发现第一个北京猿人头盖骨,同年又发现用火遗迹。
3. 北京人的_____比现代人小。他们的下肢较上肢略长,能够_____。北京人采用不同的_____方法,制作成不同类型的工具。他们结成_____生活在一起。北京人已经学会使用火并长时间保存火种。
4. _____遗址是迄今所知世界上内涵最丰富、材料最齐全的直立人遗址,_____年被联合国列入世界文化遗产名录。

初步体验

1. 中国是人类发源地之一,是世界上发现远古人

类遗址最多的国家。中国境内目前已确认的最早的古人类是 ()

- A. 北京人 B. 元谋人
C. 类人猿 D. 山顶洞人

2. 下列有关我国境内远古人类及其生活状况的叙述,不正确的是 ()

A. 元谋人是我国境内目前已确认的最早的古人类

B. 北京人使用打制石器

C. 元谋人能够制作工具,知道使用火

D. 远古人类都过着氏族生活

3. 元谋人、北京人、山顶洞人都是我国境内著名的原始人类。想要获得他们生活的第一手资料,主要通过 ()

A. 神话传说

B. 史书记载

C. 学者推断

D. 考古发掘

4. 毛泽东在《贺新郎·读史》中吟道:“人猿相揖别。只几个石头磨过,小儿时节。”下列对“人猿相揖别。只几个石头磨过”理解最为准确的是 ()

A. 人与猿只在一起磨过几个石头后就告别了

B. 人和猿一起磨过几个石头便告别了

C. 人和动物的根本区别在于是否会制造工具

D. 人和动物的根本区别在于是否会磨几个石头

5. 考古学家在北京人遗址发现了面积较大且较厚的灰烬层。这一发现,说明当时北京人的生活状况是 ()

A. 会使用火

B. 会制造工具

C. 会缝制衣服

D. 会种植作物

第2版块 课堂学习导学

要点精析

要点一 我国境内的早期人类

1. 我国古人类遗址的发现

(1)评价:我国是世界上发现古人类遗址最多的国家之一。

(2)地点:考古学者在云南、北京、重庆、陕西、山西、湖北、辽宁、河北、安徽、江苏、山东、四川、广东等地发现了多处不同时期的古人类遗址。

2. 元谋人的发现。

(1)距今年代:约170万年。

(2)发现地点:云南元谋县。

(3)发现遗存:两颗门齿化石以及一些粗糙的石器,还发现了炭屑和烧骨。

(4)生活状况:已经能够制作工具,知道使用火。

(5)地位:元谋人是我国境内目前已确认的最早的古人类。

图文点拨

教材第2页“人类进化示意图”

点拨:人类由古猿演化而来。距今300万年左右,有的古猿已能直立行走,并会制作工具,后来进化成直立人。距今约20万年,直立人经过演化发展成更高级的人类,即早期智人。到距今约5万年,早期智人进化为晚期智人,即现代人。识读此图,了解人类的进化过程。

相关链接

在我国境内,北起辽河流域,南到珠江流域,都发现了远古人类遗址。据统计,我国已发现的旧石器遗址达数百处之多,早期的也有二十多处。其中最具代表性的有:元谋人遗址、北京人遗址和山顶洞人遗址。

典例精解

【例1】据报道,安徽发现的繁昌人生活年代距今约180万年。如果这一结论确凿的话,可以把中国已确认的最早的古人类的历史向前推进约

()

- A. 10万年 B. 20万年
C. 100万年 D. 110万年

解析:本题考查的知识点是我国境内目前已确认的最早的古人类——元谋人,生活在约170万年前,而题干中说“繁昌人生活年代距今约180万年”,如果这一结论确凿的话,可将我国目前已确认的最早的古人类的历史向前推进约10万年。

答案:A

对应练习

1. 我们伟大的祖国有着非常悠久的历史,歌曲《中国人》中有一句歌词:“五千年的风和雨啊,藏了多少梦。”那你能告诉我,我国境内目前已确认的最早的古人类是

()

- A. 半坡居民 B. 河姆渡居民
C. 北京人 D. 元谋人

2. 某学习小组准备暑假实地考察我国境内目前已确认的最早的古人类遗址,他们应该去

()

- A. 陕西西安 B. 北京周口店
C. 云南元谋 D. 浙江余姚

要点二 北京人的发现

1. 地点:北京西南周口店龙骨山。

2. 过程

(1)最早发现与命名:1921年,北京人遗址被发现。后来,人类学家根据在遗址中发现的3枚牙齿,将它命名为“北京直立人”或“北京人”。

(2)后期发现:1929年,中国的青年学者裴文

中发现第一个北京猿人头盖骨,同年又发现用火遗迹。此后,又相继发掘出土4个北京猿人头盖骨,共出土40多个个体的直立人化石,以及近10万件石器和大量的动物化石。经测定,北京人生活在约70万~20万年前。

3. 意义:这些古人类化石和石器的发现,为复原北京人的特征和生活状况提供了重要证据。

图文点拨

1. 教材第3页“中国境内主要古人类遗址分布图”

点拨:注意识记此图,掌握元谋人、北京人所处的位置。元谋人生活在长江流域,北京人生活在北方地区。

2. 教材第3页“北京人头盖骨”“北京人牙齿”“北京人复原头像”

点拨:通过读图,了解北京人的体质特征,注意掌握北京人的头部特征:前额低平,眉脊较粗,颧骨突出,鼻骨扁平,嘴部前伸等。识记“北京人复原头像”图。

相关链接

北京人挽救了爪哇人

北京人的发现,在世界考古界有着重大意义。此前,虽已有德国尼安德特人和海德堡人,以及印尼爪哇人的发现,但一直未被世界公认。北京人丰富的发现内容,尤其是众多石器和用火遗迹的发现,使远古时期有直立人存在的观点得到肯定,为“从猿到人”的伟大学说提供了有力证据。所以,世界考古界认为:北京人挽救了爪哇人。

典例精解

考古学家把周口店称为“北京人之家”。北京人遗址是世界上出土古人类遗骨和遗迹最丰富的遗址。北京人遗址被联合国列入了世界文化遗产名录。

【例2】化石是研究人类起源的主要证据。如图是根据化石复原的原始人头像示意图,这种原始

人曾经居住于现在的()

- A. 云南境内
- B. 北京境内
- C. 陕西境内
- D. 浙江境内



解析:解答本题的关键是正确识读图片。通过识读图片可知,该原始人是北京人,故答案为B项。

答案:B

对应练习

3. 观察下图:



请回答:说一说我国原始人类遗址分布有什么特点?形成这种特点的原因是什么?

要点三 北京人的特征**1. 物质特征**

(1)头部:前额低平,眉骨粗大,颧骨突出,鼻骨扁平,嘴部前伸,脑容量比现代人小。

(2)躯干:身高平均为 157 厘米,上肢与现代人相似,下肢较上肢略长,能够直立行走。

2. 生产、生活概况

(1)生产工具:北京人用石块、兽骨和鹿角等制作各类工具。会打制石器,采用不同的打制方法,制作成不同类型的工具,如尖状器、刮削器、石锤和石砧等。使用这种打制石器的时代,叫作旧石器时代。

(2)生活状况:猎取动物,采集植物果实,结成群体生活在一起,共同进行获取食物的劳动。

(3)用火情况

①遗存:发现有灰烬、烧石和烧骨等。

②简况:已经学会使用火,还会长时间保存火种。

③用途:用火烧烤食物、防寒、照明、驱兽。

④意义:改善了生存条件,学会用火是人类进化史上的里程碑。

3. 地位和意义

(1)地位:北京人是世界上最重要的原始人类之一。周口店北京人遗址是迄今所知世界上内涵最丰富、材料最齐全的直立人遗址。

(2)意义:北京人的发现对于研究古人类进化的历史具有重要的意义。通过对北京人的研究,可以发现早期猿人向现代人类演进和发展变化的规律,为人类起源的研究提供了可靠的证据。

探究思考

1. 你知道北京人是处于旧石器时代还是新石器时代吗?

根据生产力发展水平,我们将原始社会划分为旧石器时代和新石器时代。使用打制石器的时代叫旧石器时代,普遍使用磨制石器的时代叫新石器时代。北京人在社会发展阶段上处于原始社会早

期,从生产工具的发展过程看处于旧石器时代。

2. 火的使用有何重大意义?

北京人用天然火照明、防寒,可以不受气候的限制,在严寒的冬季或寒冷地带也能生存;使用火可以吓跑野兽,增强了原始人的自卫能力;用火烧烤食物,促进了原始人体质的增强;火能照明、祛湿、改善居住条件。学会用火,是人类进化史上的里程碑,它使人类征服自然的能力得以提高。

图文点拨**1. 教材第 4 页“北京人使用的石器”**

点拨:北京人采用不同的打制方法,把石块制成不同类型的工具,有尖状器、刮削器等。

2. 教材第 4 页“北京人用火场景想象图”

点拨:北京人已经学会使用火,并会保存火种。他们用火烧烤食物、照明、防寒等。

相关链接**元谋人和北京人的异同**

(1)相同点:都能够制作工具;都使用打制的粗糙石器;都知道使用火。

(2)不同点

①生活地点不同:元谋人生活在云南省元谋县,靠近长江流域;北京人生活在北京西南周口店龙骨山,靠近黄河流域。

②体貌特征不同:根据二者生活年代的不同和依据进化论的观点,可以确定元谋人比北京人保留猿的特征要多。

③评价不同:元谋人是我国境内目前已确认的最早的古人类。北京人是世界上最重要的原始人类之一,它的发现对于研究古人类进化的历史具有重要的意义。

典例精解

【例3】阅读下列材料:

关于人类的起源,中外有很多神话传说。



在《旧约全书·创世纪》里就有这样一段话：“神说：‘我们要照着我们的形像，按着我们的样式造人，使他们管理海里的鱼、空中的鸟、地上的牲畜……地上所爬的一切昆虫。’神就照着自己的形像造人，乃是照着他的形像造男造女。”

请回答：

- (1)材料的主要观点是什么？
- (2)人类是由什么进化而来的？在这一进化过程中，起决定作用的因素是什么？
- (3)人与动物的根本区别是什么？
- (4)我国境内目前已确认的最早的古人类是在什么地方发现的？
- (5)在我国境内发现的远古人类遗址主要有哪些？（两例即可）

解析：本题以材料引入，综合考查基础知识。材料阐述了“上帝造人说”的观点。

答案：(1)上帝造人。

(2)人类是由古猿进化而来的。劳动。

(3)是否会制造工具。

(4)云南省元谋县。

(5)元谋人遗址、北京人遗址、山顶洞人遗址等。

对应练习


4. 下列关于北京人的叙述，错误的是 ()
 - A. 他们是我国境内目前已确认的最早的古人类
 - B. 他们能够制造和使用工具
 - C. 他们会使用火
 - D. 他们过着群居生活
5. 迄今所知世界上内涵最丰富、材料最齐全的直立人遗址，并且在1987年被联合国列入世界文化遗产名录的是 ()
 - A. 云南元谋人遗址
 - B. 周口店北京人遗址
 - C. 周口店山顶洞人遗址
 - D. 陕西半坡遗址

第3版块 能力巩固提升

一、选择题

1. 我国是世界上发现古人类遗址最多的国家之一。我国境内目前已确认的最早的古人类是 ()
 - A. 元谋人
 - B. 北京人
 - C. 山顶洞人
 - D. 蓝田人
2. “我来自元谋，你来自周口，牵起你毛茸茸的手，爱让我们直立行走。”这是在网络上颇为流行的诗句。下列古人类中，生活在云南省的是 ()
 - A. 半坡人
 - B. 北京人
 - C. 元谋人
 - D. 河姆渡人
3. 1929年，发现第一个北京猿人头盖骨的人是 ()
 - A. 瑞典科学家安特生
 - B. 加拿大人类学家步达生
 - C. 中国科学家裴文中
 - D. 中国科学家贾兰坡

4. 1929年，中国青年学者裴文中发现了第一个北京猿人头盖骨，为北京人的特征提供了重要依据。以下四幅头像中，哪一幅是北京人的 ()



5. 在夏令营活动中，小明建议大家动手模仿北京人制造一些工具，体验北京人的生活。于是各位同学纷纷动手，制造了具有各种用途的 ()
 - A. 打制石器
 - B. 磨制石器
 - C. 彩陶
 - D. 青铜器
6. 人类学家根据在北京人遗址中发现的3枚牙齿，将它命名为“北京直立人”或“北京人”。北

- 京人可以称为“人”，主要是因为 ()
- A. 他们的模样和现代人没有区别
B. 他们能直立行走
C. 他们能够制造和使用工具
D. 他们会使用简单的语言
7. 考古学家在北京人遗址发现四层面积较大且较厚的灰烬层。这一发现,说明当时北京人的生产生活状况是 ()
- A. 会使用火 B. 种植水稻
C. 烧制彩陶 D. 铸造司母戊鼎
8. 历史教师在介绍我国某一原始人类时,提到“他们距今约 70 万~20 万年,已经学会使用火,过着群居的生活”。此原始人类应该是 ()
- A. 元谋人 B. 北京人
C. 山顶洞人 D. 半坡人
9. 2015 年 5 月 5 日,“元谋人”化石发现 50 周年纪念活动举行,来自全国各地的专家学者齐聚元谋人遗址,为“元谋人”文化保护和挖掘献计献策。下列关于元谋人的说法正确的是 ()
- A. 元谋人是我国境内目前已确认的最早的古人类
B. 元谋人生活在北京西南周口店地区
C. 元谋人已经学会了人工取火
D. 元谋人懂得用小石珠等装饰品装饰自己
10. 小敏听生物老师说人是高级动物,她举起手问老师:“那人和动物的根本区别究竟是什么?”请你帮生物老师回答 ()
- A. 有无语言 B. 会不会使用火
C. 会不会制造工具 D. 能否直立行走
11. 请你根据下面表格中的提示信息,为空白处选择适当的内容 ()

远古人类	距今年代	体质特征	工具制造
	约 70 万年 至 20 万年	保留了猿的某些特征,但手脚分工明显	打制石器

- A. 元谋人 B. 北京人
C. 山顶洞人 D. 半坡人

12. 某同学绘制了一幅我国远古居民生活场景的想象图。下列内容与北京人相符的是 ()
- ①头部带有猿的某些特征 ②使用打制石器,过群居生活 ③用火取暖,烧烤食物 ④种植水稻,蒸煮米饭
- A. ①②③ B. ①②④
C. ①③④ D. ②③④

二、非选择题

13. 阅读下列材料:

材料一 “在北京人遗址中,发现了大量木炭和几处较大的灰烬堆,其中埋着烧裂的石头、兽骨和树叶……”

材料二 见下图



请回答:

(1)北京人遗址位于哪里?北京人的发现有何意义?

(2)上述材料反映了什么?



(3)材料所证明的事实有什么意义?

(3)通过上述的史实与推论,你认为作为一名考古学家,应该具备哪些素质?

14. 阅读下列材料:

材料一 1965年,在云南元谋县上那蚌村西北小山岗上,考古学者发现了两枚上内侧门齿,多件粗糙的石器,人工加工痕迹清楚,还发现大量炭屑和两小块烧骨。

材料二 1929年,在中国青年学者裴文中的主持下,于12月2日下午发现了一个完整的北京人头盖骨。后来又发现了五个比较完整的头盖骨化石和一些其他部位的骨骼化石,还有大量的打制石器、动物化石和灰烬。

请回答:

(1)分别说出两则材料所介绍的两个远古人类的名称以及其各自的生活年代。

(2)根据史实进行推论,是学习历史的重要方法之一,根据下列史实和推论,结合两则材料的内容完成两组相关史实和推论。

史实:粗糙的石器七件,人工痕迹清楚。

推论:元谋人已经会制作打制的石器。

①史实:_____

推论:_____

②史实:_____

推论:_____

15. 探寻古遗址,感悟历史空间的恒远和生命传承的意义;参观博物馆,探究其蕴藏的历史信息和文化使命。结合材料进行相关问题的探究。

【元谋人遗址游】

材料 据悉,一个以“元谋人”文化为主题的古人类遗址旅游项目有望在当地建成。该项目将实现“穿越”,再现“元谋人”生存场景,揭开中国境内古人类的神秘面纱。

(1)材料中的“当地”应该是在哪里?请你结合所学设计一下元谋人的生活场景。

【周口店遗址博物馆】



①



②



③



④

(2)这四幅图片展示的遗存或头部复原像都与我国哪一古人类有关?

(3)图③说明了此人类使用怎样的生产工具?
图④的复原头像说明此人类在体质上还有什么特征?

(4)研究这一古人类,对人类进化的历史有何重要意义?

(5)当前,周口店遗址博物馆面临着参观人数较少、维持博物馆正常运作资金短缺的问题,如果你是馆长,请你想出解决问题的办法。(两点即可)

三、综合探究题

16. 下图选自“中国文物与学科丛书”中的《文物与历史》一书,该书遵从中国历史发展的基本线索和总体规律,借助实物资料,重点介绍中国文明(史前文明)的产生、国家的形成和统一多民族国家的建立,以及中国先民所创造的一些比较典型的、有代表性的物质文明和精神文明。请你结合所学的史前文明知识,回答下列相关问题。

观察下列图片:

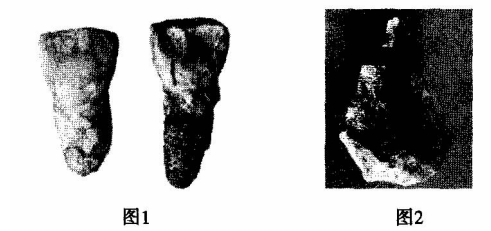


图1

图2

【图片归类】

(1)参照此书中的部分目录,将上面列出的文物图片归类。(填写图序号并写出符号所代表的文物名称或原始人类)

走向文明的原始人类: _____

工具是人类征服自然的武器: _____

【图片解读】

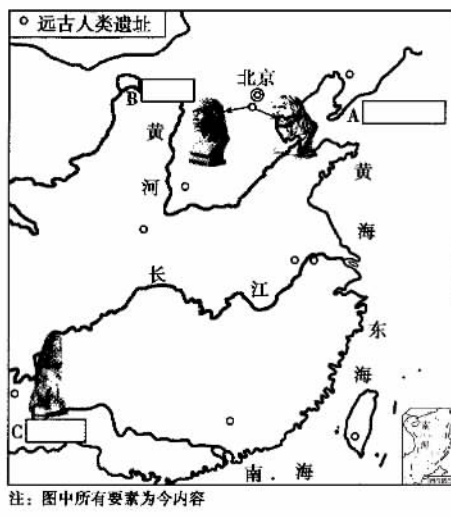
(2)结合图片中的工具文物,说一说人类在征服自然的过程中,对生产工具的探究有着怎样的进步。



(3)如果我们要进一步探究原始人类的生活情况,除了从出土文物中了解外,还有哪些途径?

(2)假如图中上方的两个早期人类能够穿越时光隧道遇到一起,他们会说些什么呢?请你依据所掌握的历史知识描述一段他们的对话,对话中要体现出各自的体态特征和生产、生活状况。

17. 我国是目前世界上发现原始人类遗址最多的国家之一。结合《中国境内主要古人类遗址分布图》,按要求回答问题。



(1)在图中长方框中,填写我国早期人类的名称。

(3)从图上看,我国早期人类遗址在分布上有什么特点?看到祖国境内的这些早期人类遗址,你有哪些感想?

第2课 原始农耕生活

第1版块 自主学习导学

目标导引

1. 了解中国早期农业的发展状况,理解生产力的发展是社会进步的根源。
2. 掌握半坡原始居民、河姆渡原始居民的生存年代、生活地点以及农耕生活状况。
3. 通过思考比较,了解半坡人和河姆渡人的不同之处及其原因,提高归纳比较的能力。

挑战新知

1. 半坡原始聚落遗址位于_____东部半坡村一带,距今约_____年。半坡人的房屋主要是_____,他们制作出精美的_____石器,主要种植_____,生活用具主要是_____,最具特色的为彩陶。
2. 河姆渡遗址位于_____,距今_____年左右。河姆渡人的房屋主要是_____建筑,在其遗址还发现了_____水井。_____是当时这一带的主要农作物,农业工具以_____最为典型。河姆渡遗址出土了中国最早的_____,人们已学会_____。河姆渡人还是世界上最早使用_____的人群。
3. 在中国南方的一些早期遗址中,发现了世界上最早的人工栽培稻,黄河流域是栽培_____的最早起源地。
4. 农作物种植、家畜饲养的出现以及_____、磨制工具的发展,是原始农业兴起和发展的重要标志。

初步体验

1. 与“黄河流域”“半地穴式房屋”“粟”等信息符合


的古人类活动遗址应是 ()

- A. 元谋人遗址 B. 北京人遗址
C. 半坡遗址 D. 河姆渡遗址

2. 下列文物图片集中反映了某原始居民的生产和生活状况,该原始居民应是 ()




磨制石锄



骨制箭头、鱼叉和鱼钩



纺轮



刻有符号的陶片

- A. 北京人 B. 半坡居民
C. 元谋人 D. 河姆渡人

3. 在长江流域的某原始遗址,发现了距今7 000年左右的稻谷和稻壳。据此推断,这与哪一原始居民有关 ()

- A. 河姆渡人 B. 半坡居民
C. 元谋人 D. 山顶洞人

4. 图片与文字一样承载着历史,一图胜千言。关于右侧图片反映的历史信息较为准确的是 ()



石斧



骨耜

- A. 聚族而居
B. 原始农业
C. 贫富分化
D. 采集狩猎
5. 半坡遗址出土了大量农具,并发现了 200 多个贮藏了食物、生产工具和生活用具的窖穴,这表明半坡人 ()
- A. 过着以农耕为主的定居生活
B. 过着以渔猎为主的游牧生活
C. 过着以交换为主的经商生活

- D. 过着以制造为主的工业生活
6. 河姆渡人和半坡人过上定居生活的最主要原因是 ()
- A. 农业生产的出现
B. 火的使用
C. 建造房屋
D. 使用陶器

第 2 版块 课堂学习导学

要点精析

要点一 半坡居民的生活

1. 所处流域:黄河流域。
2. 所处地点:陕西西安东部半坡村一带。
3. 生存年代:距今约 6 000 年。
4. 生活状况:居住区有房屋、窖穴、壕沟,居住区外有公共墓地和烧制陶器的窑场。房屋主要是半地穴式圆形房屋,屋内有灶坑,多用木头作柱子。
5. 生产工具:半坡人制作出精美的磨制石器。使用磨制石器的时代,称为新石器时代。半坡人还制造骨器、角器等生产工具。
6. 生产状况
 - (1)农业:主要种植粟。
 - (2)畜牧业:饲养猪和狗等家畜。
 - (3)其他:捕猎、捕鱼和采集。
 - (4)手工业
 - ①制陶业:会制作陶器,最具特色的是彩陶。
 - ②纺织业:有纺轮,会从事简单的纺织、制衣。
 - ③其他行业:会制作装饰品、乐器、骨针、骨锥。

图文点拨

1. 教材第 6 页“半坡居民半地穴式圆形房屋复原图”

点拨:半坡居民居住的房屋是半地穴式的,有

利于防风、保暖,适合北方地区冬季干燥、寒冷的气候条件。识记此图。

2. 教材第 7 页“半坡人面鱼纹彩陶盆”

点拨:1955 年陕西西安半坡出土。陶盆高 16.5 厘米,口径 39.5 厘米,是以细泥为原料,捏成型后着彩放在窑里烧制而成的彩陶器。盆的内壁光滑,外表粗糙。盆的内壁和口唇绘有对称的人面纹和鱼纹。半坡人面鱼纹彩陶盆说明了当时制造彩陶的技术已经达到了相当高的水平。

3. 教材第 7 页“我国原始农耕时代主要遗址图”

点拨:从图上可以看出,我国原始农耕时代文化遗址主要分布在大江、大河中下游。如河姆渡遗址分布在长江流域的下游;半坡遗址坐落在黄河流域的中游。这是因为大江、大河流域的中下游,地势较为平坦、宽阔,水源充足、土地肥沃,便于进行农业生产。

相关链接

彩陶的出现,不仅是生活用具的改进,还反映了半坡原始居民的艺术追求。原始农业、畜牧业的产生,使得人们开始了定居生活。彩陶业的发展,使手工业兴盛起来,因此,农业是畜牧业、手工业发展的前提。

典例精解

【例 1】我国是世界上最早种植粟的国家之一。下

列遗址中,最有可能为这一结论提供证据的是 ()


- A. 北京人遗址 B. 山顶洞人遗址
C. 河姆渡遗址 D. 半坡遗址

解析:本题考查对半坡居民生产、生活状况的掌握。半坡居民距今约 6 000 年,生活在陕西西安东部半坡村一带,居住在半地穴式圆形房屋里,他们种植的主要粮食作物是粟,故答案为 D 项。

答案:D

对应练习

- 某热播电视节目里有一镜头:狗拉着雪橇在奔跑,孩子们在暖暖的炕上打滚。请问我国哪一远古人类早已饲养狗,并能建起灶炕用来取暖和炊煮 ()
A. 北京人 B. 山顶洞人
C. 河姆渡人 D. 半坡人
- 下面是小明为半坡遗址写的一段文字简介,其中存在着四处史实错误,请你找出并加以改正 ()

半坡遗址	
	<p>半坡遗址位于山西西安东部,位于淮河流域,距今约 6 000 年。半坡人使用打制石器,还有骨器等工具。他们主要种植的粮食作物是粟,主要居住在干栏式房屋内。半坡人的生活用具主要是陶器,最具特色的是彩陶</p>

- 错误: _____;改正: _____。
- 错误: _____;改正: _____。
- 错误: _____;改正: _____。
- 错误: _____;改正: _____。

要点二 河姆渡人的生活

- 所处流域:长江流域。
- 所处地点:浙江余姚的河姆渡。
- 生存年代:距今 7 000 年左右。

4. 生活状况:住干栏式建筑,会建造木结构的水井。

(1)干栏式建筑,以木桩插于地下,上面用木板等拼接成屋。这是中国最早的木构建筑,对中国古典建筑产生了重要影响。

(2)木结构水井:在河姆渡遗址发现的水井,是迄今发现年代最早的木构水井。

5. 生产工具:以骨耜最为典型。

6. 生产状况

(1)农业:水稻是主要的农作物,遗址中发现了大量人工栽培水稻的遗迹,表明长江下游是亚洲稻的起源地之一。

(2)畜牧业:以猪、狗和水牛为主。

(3)手工业

①会制作陶器和玉器,还有简单的乐器骨哨。

②运用雕刻等技术,用象牙和兽骨制成古朴的艺术品,并出土了中国最早的象牙雕刻。

③河姆渡人还懂得使用天然漆。

探究思考

1. 半坡人与河姆渡人的生产、生活有何异同?

同:都处于大致相同的社会发展时期,即原始社会后期;都以农业为主要经济形态,兼有饲养、渔猎、采集等经济活动;都会建造房屋和使用磨制石器、制作陶器等。

异:处于不同的地理环境,半坡人处于黄河流域,河姆渡人处于长江流域;种植的农作物不同,半坡人种植粟,河姆渡人种植水稻;建筑的房屋样式不同,半坡人住半地穴式圆形房屋,河姆渡人住干栏式房屋;制作的陶器艺术风格不同。

2. 我国南北方原始农耕文化存在差异的原因

河姆渡居民和半坡居民是我国农耕时代南北方原始居民的代表。河姆渡地处长江流域,气候温暖湿润,地势低洼,干栏式的房屋有良好的通风和防潮性能,适合其所处的自然环境;而半坡居民地处黄河流域,冬季干燥寒冷,地势较高,半地穴式圆形房屋有保暖、避风的好处。类似的差异还表现在农作物品种上,水稻和粟适合在南北方不