



# 能力评价

NENGLI PINGJIA

初中卷 单元测试

◆ 主编 / 黄步高 刘新民



# 地理

八年级

下册

湘教版

CES 湖南教育出版社

湘教  
考苑

# 能力评价

NENGLI PINGJIA

初中卷 单元测试

◆ 主编 / 黄步高 刘新民



# 地理

八年级

下册

湘教版

CNS 湖南教育出版社

# 编者的话

新

**理念新：**贯彻最新教育教学理念，以最新《课程标准》和教材为依据，将考试内容、命题探索和能力提升融为一体。

**习题新：**选取全国各地最新试题以及名校的精华试题，特别选择具有原创价值的新题，进行合理科学的选取或者改编。

精

**策划精：**试卷设计为活页，便于教学细节的监控和管理，在版式设计上注意合理设计答题空和分值统计，方便学生的作答和老师的快速批改与及时反馈。

**选题精：**单元、月考、期中、分类复习、期末测试题的设置博观而约取，精选试题，保证题型新颖，情境鲜活，梯度合理，充盈着浓浓的时代气息。

全

**类别全：**整体融合单元、月考、期中、分类复习、期末测试卷的科学化设计，倡导自主、合作、探究的学习方式。引领学生挑战自我，达成高分目标，体验成功的快乐。

**检测全：**紧紧抓住各科要求的基础点、重点、难点、疑点、热点，分阶段帮助学生提升综合素质和能力。力求通过实战，增强实效，提高实力。

# 目 录

第五章测试卷 .....	1
第六章测试卷 .....	5
月考测试卷一 .....	9
第七章测试卷 .....	11
第八、九章测试卷 .....	15
月考测试卷二 .....	19
分类测试卷一 .....	23
分类测试卷二 .....	25
期中测试卷一 .....	27
期中测试卷二 .....	31
期末测试卷一 .....	35
期末测试卷二 .....	39
参考答案 .....	43

## 第五章测试卷

(时间:90分钟 满分:100分)

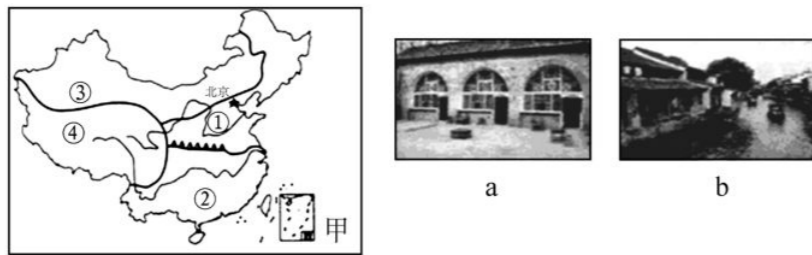
题号	一	二	总分
得分			

### 一、选择题(每小题2分,共60分)

秦岭—淮河是我国南北方重要的地理分界线。据此回答1~2题。

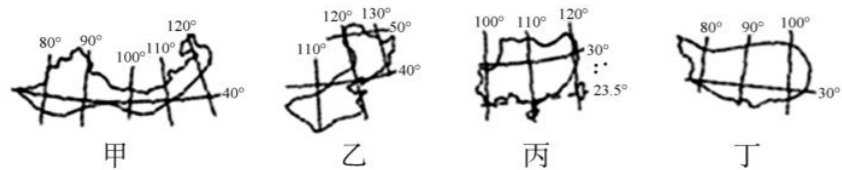
1. 大致与秦岭—淮河一线吻合的是 ( )
- A. 1月0℃等温线  
B. 200毫米年等降水量线  
C. 热带与亚热带的分界线  
D. 干旱地区与半干旱地区的分界线
2. 下列有关我国南北方的叙述,正确的是 ( )
- A. 北方民居屋顶坡度大  
B. 南方人以米饭为主食  
C. 北方的耕地以水田为主  
D. 南方以温带落叶阔叶林为主

读四大地理区域及景观图,完成3~5题。



3. ①地区属于 ( )
- A. 北方地区  
B. 南方地区  
C. 西北地区  
D. 青藏地区
4. 有关四大地理区域的分界线,叙述正确的是 ( )
- A. ①与②的分界线是秦岭—淮河线  
B. ①与③的分界线是800毫米年等降水量线  
C. ③与④的分界线是昆仑山—横断山  
D. ②与④的分界线是阿尔金山—祁连山
5. 右上边的a、b两幅景观图与其在图甲中四大地区的分布,正确的是 ( )
- A. a—①  
B. b—③  
C. a—②  
D. b—④

读我国四大区域简图,完成6~7题。



6. “草长莺飞二月天,拂堤杨柳醉春烟。儿童放学归来早,忙趁东风放纸鸢。”该诗描写的是我国的四大区域中的 ( )

- A. 甲地区  
B. 乙地区  
C. 丙地区  
D. 丁地区
7. 下列对乙、丙两区域的分界线,描述不正确的是 ( )

- A. 此线是我国常绿阔叶林和落叶阔叶林的分界线  
B. 此线与我国1月0℃等温线的分布大体一致  
C. 此线与我国800毫米年等降水量线的分布大体一致  
D. 此线是我国季风区与非季风区的分界线

“一方水土养一方人”,受自然环境的影响,我国北方地区、南方地区的人们在生产生活方式上有很大的差异。据此完成8~9题。

8. 下列表示南方地区生产和生活方式的是 ( )
- A. 作物熟制是一年一熟或两年三熟  
B. 传统运输方式以陆路运输为主  
C. 屋顶坡度较小,墙体较厚  
D. 传统运动项目以游泳、划龙舟为主

9. 北方人喜面食,南方人喜食米饭,造成这一差异的主导因素是 ( )
- A. 地形因素  
B. 气候因素  
C. 海陆位置  
D. 人类活动

10. 有关我国北方地区自然环境的叙述,正确的是 ( )
- A. 北方地区是指中国东部秦岭—淮河线以北的地区  
B. 主要的地形区有华北平原、东北平原、东南丘陵  
C. 北方地区的年降水量大致为200~800毫米  
D. 北方地区全部位于我国的第三级阶梯

11. 有关我国北方地区的叙述,正确的是 ( )
- A. 北方地区盛产温带水果,比如柑橘、梨、桃、杏、柿、枣、葡萄等  
B. 位于北方地区的古都是西安、北京、南京  
C. 我国最大的油田是大庆油田,山西省是我国出产煤炭最多的省份  
D. 本区煤、铁、石油等矿产丰富,建立了沪宁杭和京津唐工业区

12. 有关我国南方地区自然环境的叙述,正确的是 ( )
- A. 南方地区是指中国秦岭—淮河线以南、青藏高原以东的地区  
B. 主要的地形区有长江中下游平原、四川盆地、黄土高原  
C. 南方地区属于温带季风气候和亚热带季风气候  
D. 南方地区的东部有云贵高原和东南丘陵

13. 有关南方地区的叙述,正确的是 ( )
- A. 贵州是中国少数民族最多的省级行政区域单位,有“旅游天堂”之称  
B. 长江中下游平原有“水乡”“天府之国”“鱼米之乡”之称  
C. 南方地区的洞庭湖平原、江汉平原、成都平原、鄱阳湖平原是中国重要的商品粮基地  
D. 南方地区有色金属丰富,比如贵州铜仁的铜矿、湖南冷水江锡矿山的锡矿等

14. 下列各个省级行政区中,位于我国北方地区的是 ( )



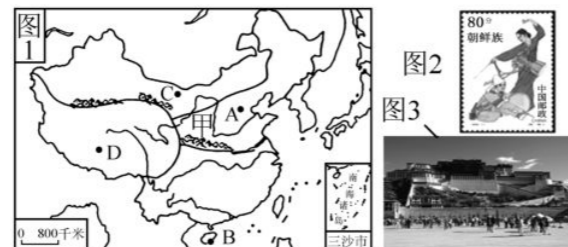
- A. ①②③④  
B. ①②④  
C. ②③④  
D. ②④



27. 下列四大地理区域差异对人类活动的影响,叙述正确的是 ( )

- A. 区域①的农业以旱作为主,传统民居多为平顶屋
- B. 区域②水热资源丰富,是我国的“鱼米之乡”
- C. 区域③干旱,传统民居多为窑洞
- D. 区域④高寒,农业以种植业为主

我国幅员辽阔,地域差异显著,自然、人文条件各异。读下图,回答28~29题。



28. 关于图中四大地理区域的叙述,正确的是 ( )

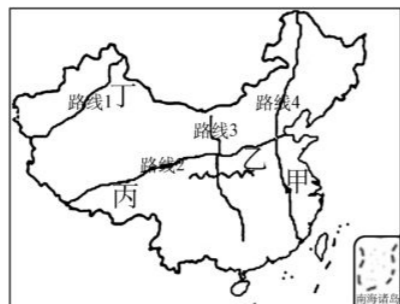
- A. 图1中C和D两大区域的分界线是400毫米年等降水量线
- B. 图2邮票中的少数民族主要集中分布在C区域
- C. 图3所示景观是藏族人崇佛礼佛的圣地,位于D区域内
- D. A区域有色金属相当丰富,煤、铁、石油等资源缺乏

29. 下面是某位旅游者,在我国四个不同地方所写的旅游札记,与图中A、B、C、D四个地点对应正确的是 ( )

①三月积雪仍厚,爬雪山虽然寒冷,但仍需做好防晒准备 ②6月的这里,麦浪翻滚,到处都是喜人的金灿灿的丰收景象,农民的心里格外甜 ③7月穿的短袖衣服1月穿也相当合适;阵雨像是识途老马,总在午后报到 ④凭良心讲,骑骆驼真的是很恐怖的记忆,尤其是从骆驼背上落地,仿佛是突然从二楼降到一楼

- A. ①—A ②—B ③—C ④—D
- B. ①—B ②—C ③—A ④—D
- C. ①—C ②—B ③—D ④—A
- D. ①—D ②—A ③—B ④—C

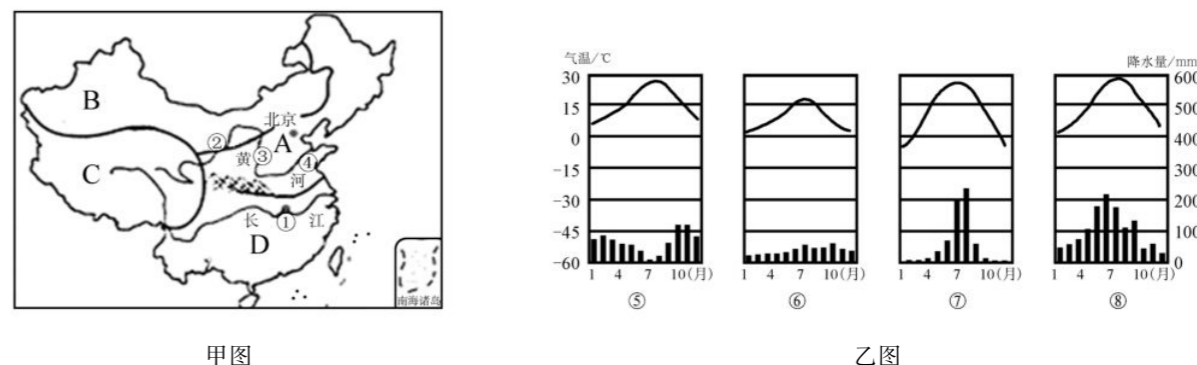
30. 众多的“驴友”游遍大江南北,感受美丽中国。他们在网上发布微博,分享沿途的见闻。据“驴友”真真提供的旅游路线图判断,下列真真所发微博错误的是 ( )



- A. 沿路线1领略了天山风光的美丽
- B. 沿路线2看到了东耕西牧的差异
- C. 沿路线3感受到了壮族和藏族同胞的热情
- D. 沿路线4自北向南从麦浪滚滚到稻花飘香

二、非选择题(共40分)

31. 读我国四大地理区域示意图(甲图)及气温变化曲线和降水量柱状图(乙图),完成下列各题。(12分)



(1)受地理位置、地形地势等因素的影响,四大地理区域A、B、C、D的自然环境差异较大。其中,以畜牧业为主,高寒区面积广的是\_\_\_\_\_ ;河湖众多,水热条件最为优越的是\_\_\_\_\_ (以上均填字母)。

(2)图中黄河的②③④河段中,出现“地上河”现象的是\_\_\_\_\_ ;城市①是\_\_\_\_\_ ,属于乙图中哪一气候类型\_\_\_\_\_ (填序号)。

(3)A地区的耕地以\_\_\_\_\_ 为主,主要种植的粮食作物是\_\_\_\_\_ 。

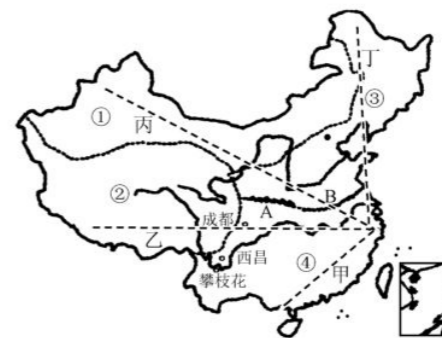
(4)B地区发展农业生产最突出的制约因素是\_\_\_\_\_ ,但是其瓜果特别甜,原因是\_\_\_\_\_ 。

(5)C地区的种植业主要分布在\_\_\_\_\_ ;拉萨有“\_\_\_\_\_ ”之称。

(6)下列对中国四大地理区域自然地理特征的说法,正确的是 ( )

- A. 由于B区域位于内陆地区,所以该区域都是内流河
- B. A区域的山脉主要有太行山、长白山、巫山、泰山
- C. D区域的河流大部分注入太平洋,少部分注入印度洋
- D. C区域石灰岩广布,多喀斯特地貌发育

32. 读我国四大地理区域图,完成下列各题。(8分)



(1)图中A、B是我国一条重要的地理分界线——\_\_\_\_\_ 线。

(2)区域①自然环境的主要特征是\_\_\_\_\_ 。

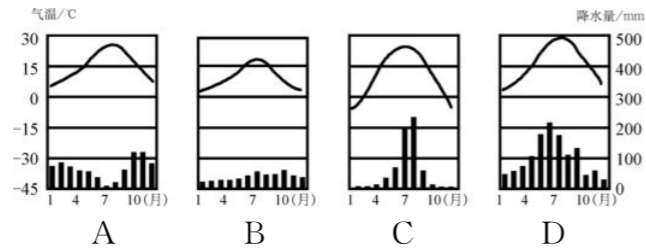
(3)区域②的小麦等农作物单位面积产量高,其主要原因是\_\_\_\_\_ 。

(4)下列四句话描述的景观出现在①地区的是 ( )

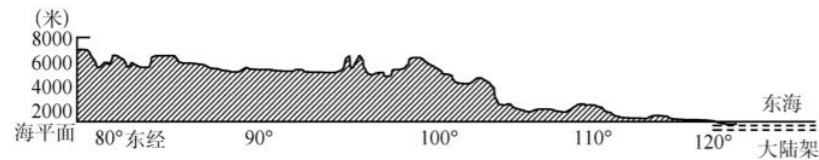
- A. 千里莺啼绿映红,水村山廓酒旗风
- B. 天苍苍,野茫茫,风吹草低见牛羊
- C. 北国风光,千里冰封,万里雪飘
- D. 到了昆仑山,气息已奄奄;上了风火山,三魂已归天

(5)④地区的河流具有分布密集、多外流河的特点,①地区的河流具有\_\_\_\_\_的特点。造成这一差异的主要原因是①地区\_\_\_\_\_。

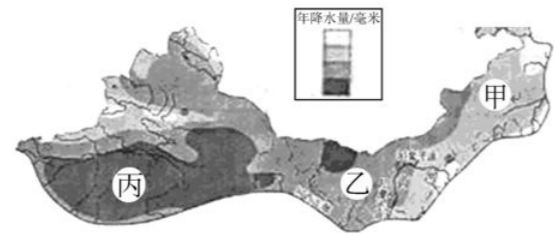

(6)下列气温年变化曲线和逐月降水量图所示气候的特点与③区域相符的是 ( )



(7)图中甲、乙、丙、丁四条线的地势剖面图与下图相符的是\_\_\_\_\_。



33. 读西北地区年降水量分布图,完成下列问题。(8分)



(1)从甲到乙再到丙,年降水量逐渐\_\_\_\_\_。甲地典型的地表景观是 A、B、C 中的\_\_\_\_\_。

(2)西北地区是我国重要的畜牧业基地,这里有\_\_\_\_\_和\_\_\_\_\_两大牧区。

(3)丙区域的河流主要为\_\_\_\_\_ (内流河或外流河),其河水主要来源于山地降水和\_\_\_\_\_。

(4)图中引黄河水灌溉的地区有\_\_\_\_\_、\_\_\_\_\_。自古以来,这里被誉为“塞外江南”。

34. 同学们计划暑假从西宁乘火车到拉萨旅游,请帮助他们完成旅游攻略。(7分)

信息准备:青藏高原素有“世界屋脊”之称,地高天寒,雪山连绵,牛羊成群,青稞飘香。图中示意铁路沿线景点分布。

物品准备:羽绒服、登山鞋、氧气袋、药品、照相机。



(1)西宁到拉萨之间的铁路线是\_\_\_\_\_铁路。

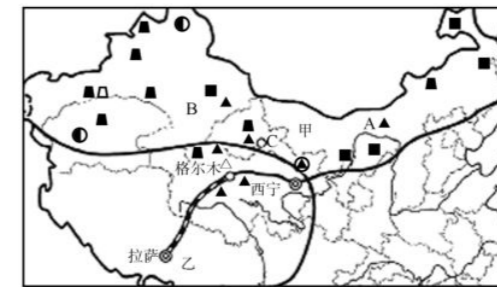
(2)青藏高原由于\_\_\_\_\_ ,形成独特的高寒气候。

(3)高原地区太阳辐射强烈,为此他们还需要准备的物品有\_\_\_\_\_等。(写一种)

(4)在该铁路沿线可以游览全国最大的湖泊\_\_\_\_\_湖,参观拉萨著名的藏传佛教建筑\_\_\_\_\_ ,品尝高原特有的农作物\_\_\_\_\_酿造的美酒。

(5)为保护青藏高原的生态环境,在旅游途中应该注意\_\_\_\_\_。

35. 读我国西部地区局部图,回答下列问题。(5分)



(1)图中 B 代表的省区有古老的引水工程\_\_\_\_\_ ,被称为吐鲁番盆地的生命之泉。

(2)北京时间 2012 年 6 月 16 日 18 时 37 分,“神舟九号”飞船搭载航天员在卫星发射中心 C \_\_\_\_\_ 成功发射。

(3)2006 年 7 月 1 日,青藏铁路全线通车。该铁路线经过我国四大盆地的\_\_\_\_\_盆地。

(4)由图中信息可知,甲、乙两地区发展经济的共同优势条件是什么?

(5)乙地区有丰富的新能源,请列举两种。

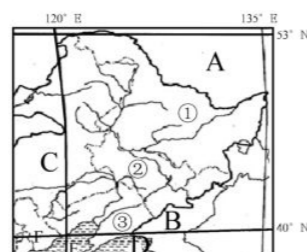
## 第六章测试卷

(时间:90分钟 满分:100分)

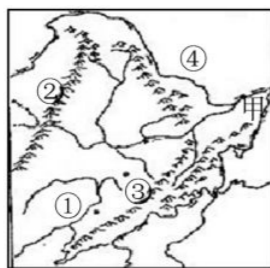
题号	一	二	总分
得分			

### 一、选择题(每小题2分,共60分)

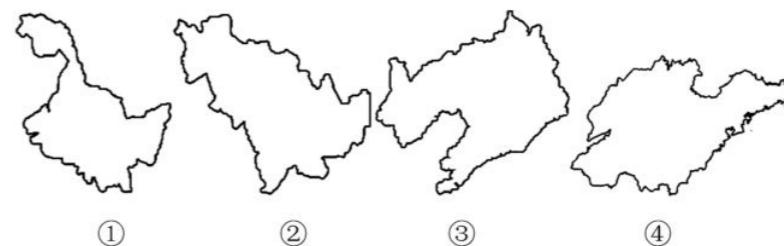
读东北地区略图,完成1~4题。



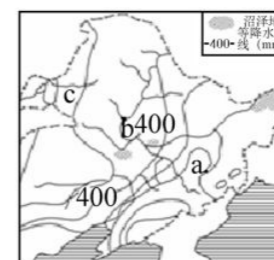
1. 有关东北地区省级行政区域单位的叙述,正确的是 ( )
    - A. ①简称吉,隔黑龙江与俄罗斯相邻
    - B. ②的行政中心是哈尔滨,是汽车制造中心
    - C. ③隔乌苏里江与朝鲜为邻
    - D. 位于我国最北和最东的省级行政区域是①
  2. 有关东北地区相对位置的叙述,正确的是 ( )
    - A. A是蒙古
    - B. B是朝鲜
    - C. C是河北省
    - D. D是渤海
  3. ①省级行政区域的主要农作物有 ( )
    - A. 春小麦、甜菜、大豆
    - B. 春小麦、甘蔗、大豆
    - C. 水稻、玉米、油菜
    - D. 水稻、甜菜、花生
  4. 有关③省级行政区域的叙述,正确的是 ( )
    - A. 简称辽,行政中心是长春
    - B. 行政中心是我国最大的综合性中心城市和交通枢纽
    - C. 这里有我国著名的重工业基地——辽中南工业基地
    - D. 隔图们江与韩国为邻
- 读下图,完成5~7题。



5. 图中甲所在的区域是我国著名的 ( )
    - A. 辽河平原
    - B. 三江平原
    - C. 松嫩平原
    - D. 河套平原
  6. 下列地理事物搭配正确的一组是 ( )
    - A. ①—松花江
    - B. ②—小兴安岭
    - C. ③—武夷山
    - D. ④—黑龙江
  7. 有关东北地区地形的叙述,正确的是 ( )
    - A. 本区的地形以平原、高原、山地为主
    - B. 东北平原是我国第二大平原
    - C. 三江平原是由黑龙江、松花江和鸭绿江冲积而成的
    - D. 本区的地表结构大致呈半环状的三带分布
  8. 下列符合东北地区气候特征的是 ( )
    - A. 属温带大陆性气候
    - B. 夏季南北温差大,冬季普遍寒冷
    - C. 降水集中在夏季,冬季降雪较多
    - D. 地跨暖温带和寒温带
- 读四幅省区轮廓图,回答9~10题。



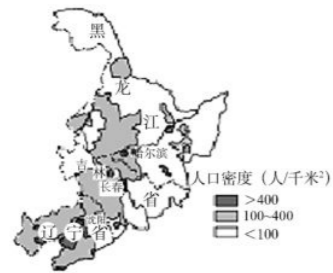
9. 下列省份中,不属于东北三省的是 ( )
  - A. ①
  - B. ②
  - C. ③
  - D. ④
10. 东北三省中邻河北省的是 ( )
  - A. ①
  - B. ②
  - C. ③
  - D. ④
11. 读东北地区年降水量分布图,图中a—b—c年降水量的空间变化为 ( )



12. 有关东北地区人口与民族的说法,正确的是 ( )
  - A. 目前,本区中黑龙江省人口最多
  - B. 三江平原和辽河平原人口较为稠密
  - C. 黑龙江省北部山区人口相对稀疏
  - D. 朝鲜族是东北地区人数最多的少数民族
13. 关于东北地区城市与交通的说法,不正确的是 ( )
  - A. 本区最主要的运输方式是铁路

- B. 本区的城市主要集中在哈大线、滨洲线、滨绥线上  
 C. 哈尔滨是中国著名的汽车制造基地  
 D. 沈阳是本区最大的综合性中心城市和交通枢纽

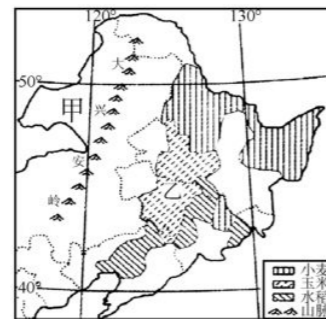
阅读东北地区的面积与人口统计表及东北地区人口分布图,回答 14~16 题。



省份		黑龙江	吉林	辽宁
项目				
面积(万千米 <sup>2</sup> )		45.4	18.7	14.7
人口(万人)	1953 年	1190	1133	2039
	2010 年	3833	2747	4375

14. 目前,东北三省中人口密度最大的省区是 ( )  
 A. 黑龙江省 B. 吉林省 C. 辽宁省 D. 不能确定
15. 自 1953 年至 2010 年,东北三省中人口增长率最高的是 ( )  
 A. 黑龙江省 B. 吉林省 C. 辽宁省 D. 不能确定
16. 在东北地区,不属于人口稠密区的是 ( )  
 A. 中部、南部平原地区 B. 工业和交通运输发达的地区  
 C. 松嫩平原和辽河平原 D. 黑龙江省北部山区

读东北地区略图,完成 17~18 题。



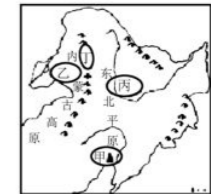
17. 东北平原粮食作物的分布特点是 ( )  
 A. 小麦种植面积占绝对优势  
 B. 从北向南大致分布着小麦、玉米、水稻  
 C. 从东向西依次分布着小麦、玉米、水稻  
 D. 粮食作物品种单一
18. 甲地和乙地的畜牧业类型分别是 ( )  
 A. 农耕区畜牧业、牧区畜牧业 B. 农耕区畜牧业、农耕区畜牧业  
 C. 牧区畜牧业、牧区畜牧业 D. 牧区畜牧业、农耕区畜牧业
19. 关于东北地区重工业基地的说法,正确的是 ( )  
 A. 重工业是东北地区的支柱产业  
 B. 沈阳是中国重要的动力机械基地  
 C. 辽中南工业基地是中国最大的综合性工业基地  
 D. 中国最大的油田位于吉林省

20. 下列城市与其主要工业部门的连线,正确的是 ( )  
 A. 大庆——机械工业 B. 长春——汽车工业  
 C. 鞍山——石油工业 D. 大连——煤炭工业

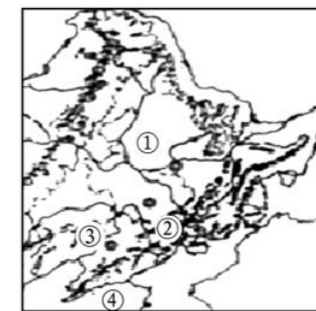
21. 有关东北地区的叙述,正确的是 ( )  
 A. 东北地区三面临海  
 B. 东北地区的降水多集中在冬季  
 C. 东北地区主要的农作物有青稞、油菜、甘蔗等  
 D. 东北地区是中国传统的老工业基地

读右图,完成 22~23 题。

22. 下列地区的工农业布局符合因地制宜思想的是 ( )  
 A. 甲地——制糖工业 B. 乙地——种植业  
 C. 丙地——渔业 D. 丁地——林业



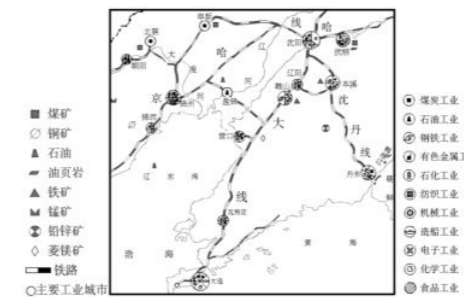
23. 下列对东北地区的描述,正确的是 ( )  
 A. 被称为高原湿地 B. “红土地”广布  
 C. 是干旱的宝地 D. 山环水绕、沃野千里
- 东北地区物产丰富。读我国东北地区地形图,回答 24~25 题。



24. 图中序号对应的地理事物名称,正确的是 ( )  
 A. ①—辽河平原 B. ②—长白山  
 C. ③—松花江 D. ④—渤海

25. 东北稻米质量高的主要原因是 ( )  
 A. 一年一熟,生长期较长 B. 夏季高温多雨  
 C. 水源充足,灌溉便利 D. 当地生产技术先进

26. 中华人民共和国第十二届运动会于 2013 年 8 月 31 日下午在辽宁省沈阳市隆重开幕。结合下图可知,辽中南地区发展重工业的有利条件是 ( )



- ①煤、铁、石油资源丰富 ②交通运输便利 ③人口稀少,农产品丰富 ④科技力量雄

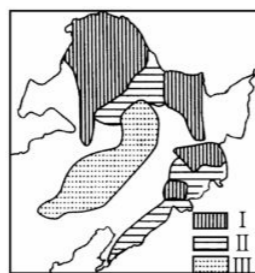
厚,高新技术产业发达

- A. ①②                      B. ②④                      C. ①③                      D. ③④

27. 东北地区的农作物分布和种植比例由南向北逐渐减少的是 ( )

- A. 玉米                                      B. 小麦和大豆  
C. 春小麦                                      D. 甜菜

读下图,回答 28~30 题。



28. 该图最有可能是 ( )

- A. 东北地区耕地分布图                      B. 东北地区经济作物分布图  
C. 东北地区粮食作物分布图                      D. 东北地区林地分布图

29. 图中图例Ⅲ表示的地理事物是 ( )

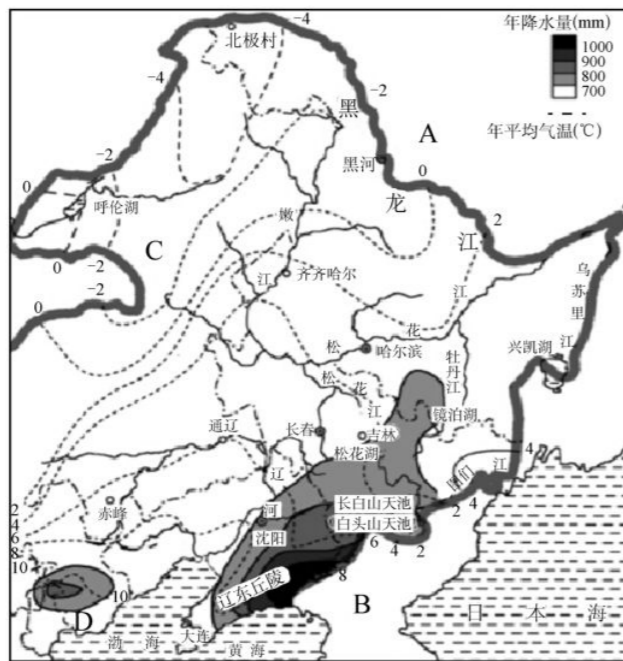
- A. 针叶林                                      B. 人工经济林和次生林  
C. 春小麦                                      D. 大豆

30. 该地区农业发展的重点方向是 ( )

- A. 保护水土                                      B. 建成我国的畜牧业基地  
C. 综合治理中、低产田                      D. 建成我国重要的农林基地

二、非选择题(共 40 分)

31. 读下图,完成相关问题。(10 分)



(1)写出字母所代表的国家及我国省级行政区的名称。

国家:A \_\_\_\_\_, B \_\_\_\_\_;

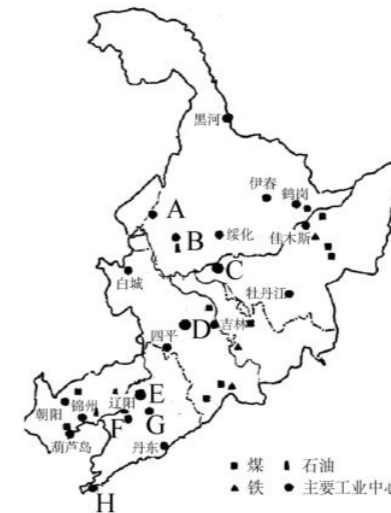
省级行政单位:C \_\_\_\_\_。

(2)大连—齐齐哈尔—北极村气温的变化规律是 \_\_\_\_\_,产生这种变化的主导因素是 \_\_\_\_\_。

(3)总体来讲,东北三省的气候特点是 \_\_\_\_\_。黑龙江省的北部地区长冬无夏,气候严寒,原因是 \_\_\_\_\_。

(4)整个东北三省相比较,年降水量最多的区域在 \_\_\_\_\_(省区)的东南沿海地区。造成该区域降水较多的主导因素有 \_\_\_\_\_和 \_\_\_\_\_。

32. 读东北地区工业城市分布图,回答下列问题。(12 分)



(1)东北地区工业结构的突出特点是 \_\_\_\_\_。

(2)城市主要集中在 \_\_\_\_\_地区,特别是 \_\_\_\_\_、滨洲线、滨绥线沿线地区。主要城市包括:北部中心城市 \_\_\_\_\_;工业发达,重要铁路枢纽;中部中心城市 \_\_\_\_\_:是中国著名的汽车制造基地;南部中心城市 \_\_\_\_\_:是该地区最大的综合性中心城市和交通枢纽,是国家历史文化名城。

(3)东北地区有丰富的 \_\_\_\_\_等重要的矿产资源,有我国重要的工业基地 \_\_\_\_\_,该工业基地发展的有利条件是: \_\_\_\_\_。

(4)东北老工业区存在的问题主要是什么? 如何解决?

①问题: \_\_\_\_\_

②措施: \_\_\_\_\_

(5)针对资源枯竭型城市如何发展,谈谈你的看法。

\_\_\_\_\_

\_\_\_\_\_

\_\_\_\_\_

33. 读下图,回答下列问题。(4分)



东北地区商品粮基地的分布

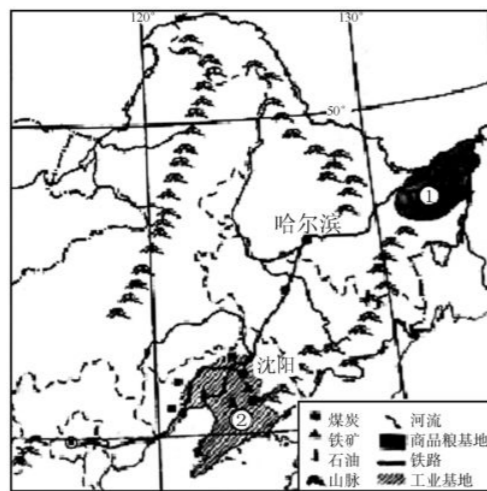
(1)A区域是世界范围内纬度最高的水稻种植区,该地区适宜水稻种植的主要原因是

(2)B区域是玉米的集中产区,被称为中国的“玉米带”。如果借鉴美国“玉米带”的经验,该地区今后的发展策略应该是

(3)C区域有“北大荒”之称,建国以后,该地区大力开垦荒地,发展粮食生产,成为“北大仓”。现在,“北大荒”不再开垦荒地,这是因为

(4)东北地区是我国最大的商品粮基地,对于缓解我国粮食不足有着重要意义。除此以外,还有哪些途径可以解决我国的粮食问题?

34. 读东北三省简图,回答问题。(5分)



(1)图中的铁路线是东北三省联系我国广大地区的一条重要干线,其铁路线的名称是

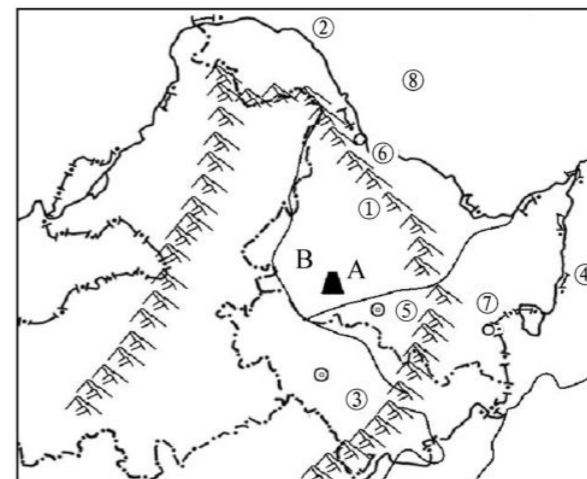
(2)图中②表示的是\_\_\_\_\_平原。

(3)图中①地曾经是沼泽遍地、人迹罕至的“北大荒”,现在却是我国的“米粮仓”。请简

要说明①地成为我国“米粮仓”的条件:\_\_\_\_\_。

(4)请在图中相应位置标注字母A——渤海。

35. 读中国部分区域图,回答问题。(9分)



(1)写出图中字母代表的地理事物名称。

山脉①\_\_\_\_\_;河流②\_\_\_\_\_,河流④\_\_\_\_\_;

城市⑤\_\_\_\_\_;邻国⑧\_\_\_\_\_。

(2)在图中标出下列地理事物的代号。

⑨大兴安岭 ⑩长春

(3)B所在的地形区是\_\_\_\_\_,是我国重要的商品粮基地。

(4)对于③山区的开发,玲玲和贝贝发表了各自不同的看法。贝贝的想法是可以种植药材,饲养梅花鹿。玲玲的建议是这里山清水秀,朝鲜族的舞蹈又好看,可以发展旅游业。你认为呢?

\_\_\_\_\_

\_\_\_\_\_

# 月考测试卷一

(时间:90分钟 满分:100分)

题号	一	二	总分
得分			

## 一、选择题(每小题2分,共50分)

1. 受地理环境的影响,我国秦岭—淮河一线南北形成了具有地域特色的人文风情。有关这种地域差异的描述,不符合实际情况的是 ( )

- A. 民间体育——南赛马北滑雪  
B. 饮食习惯——南米北面  
C. 民居风格——南尖顶北平顶  
D. 传统交通——南船北马

2. 我国北方地区与西北地区的分界线接近 ( )

- A. 地势第一、二级阶梯的分界线  
B. 1月0℃等温线  
C. 季风区和非季风区的分界线  
D. 800毫米年等降水量线

3. 俗话说“一方水土养一方人”。下列自然景观和人文活动与我国秦岭—淮河以北地区相符的是 ( )

- A. 民居屋顶坡度大,墙体高  
B. 多水田,以种植水稻为主  
C. 水运仍然是人们常用的一种交通运输方式  
D. 耕地以旱地为主,农作物熟制为一年一熟或两年三熟

4. 下列四幅民居邮票中,反映我国江南水乡特点的是 ( )



A B C D

5. 《晏子春秋》中说:“橘生淮南则为橘,生于淮北则为枳。”造成这一差异的主要因素是 ( )

- A. 市场因素 B. 土壤因素 C. 地形因素 D. 气候因素

6. 下列盆地中,位于青藏地区的是 ( )

- A. 四川盆地 B. 塔里木盆地 C. 柴达木盆地 D. 准噶尔盆地

7. 同一纬度的青藏高原和四川盆地的自然景观差异大的原因是 ( )

- A. 海陆因素 B. 临近边界 C. 地形地势 D. 地理位置

8. 在我国四大地理分区中,处于我国地势第一级阶梯的是 ( )

- A. 北方地区 B. 南方地区 C. 西北地区 D. 青藏地区

9. 请你判断,下列说法中可信的是 ( )

- A. 海南黎族同胞:“我们栽种的苹果个大香甜。”  
B. 藏族同胞:“我们用青稞酒招待远方来客。”  
C. 朝鲜族同胞:“我们种的甘蔗又获得大丰收。”  
D. 壮族同胞:“泼水节是我们传统盛大的节日。”

10. 我国西部地区地形复杂,主要的地形类型是 ( )

- A. 山地、高原和盆地  
B. 山地、高原和平原  
C. 高原、平原和丘陵  
D. 平原、丘陵和盆地

11. 青藏高原地区的主要农作物是 ( )

- A. 小麦、谷子、高粱  
B. 水稻、玉米、棉花  
C. 玉米、大豆、甘蔗  
D. 青稞、小麦、豌豆

12. “三江源自然保护区”中的“三江”是指 ( )

- A. 长江、黄河、珠江  
B. 长江、黄河、雅鲁藏布江  
C. 长江、珠江、澜沧江  
D. 长江、黄河、澜沧江

13. 下列四个省区中,少数民族数量最多的是 ( )



读下图,回答14~15题。



14. 我国东北平原主要的粮食作物是 ( )

- A. 棉花 B. 甘蔗 C. 小麦 D. 水稻

15. 该区域的农作物熟制是 ( )

- A. 一年三熟 B. 一年两熟 C. 两年三熟 D. 一年一熟

16. 商品粮基地分布在长江中下游地区的是 ( )

- A. 三江平原 B. 松嫩平原 C. 洞庭湖平原 D. 辽河平原

17. 我国西北地区有一座山脉,山区为著名的牧场,山的南北两侧为盆地。这座山是 ( )

- A. 天山 B. 昆仑山 C. 秦岭 D. 祁连山

18. 被称为“高原之舟”的是 ( )

- A. 骆驼 B. 三河马 C. 滩羊 D. 牦牛

19. 关于我国东北地区地表结构的描述,最为准确的是

- A. 山河相间,纵列分布
- B. 呈半环状的三带
- C. 支离破碎,水乡处处
- D. 黄土遍地,沟壑纵横

( )



20. 东北地区人口相对稀疏的地区是

- A. 松嫩平原和辽河平原
- B. 辽宁省中南部地区
- C. 黑龙江省北部山区
- D. 哈大线沿线地区

( )

21. 东北地区是我国城市密集、城市化水平较高的区域,城市集中在

- A. 沿海地区
- B. 沿边地区
- C. 交通干线沿线地区
- D. 自然资源丰富地区

( )

22. 下列地形区中,位于南方地区的是

- A. 长江中下游平原
- B. 柴达木盆地
- C. 内蒙古高原
- D. 黄土高原

( )

23. 南方地区丰富的能源和矿产资源是

- A. 煤炭和石油资源
- B. 煤炭和铁矿资源
- C. 石油和铁矿资源
- D. 水能和有色金属

( )

24. 下列景观照片中,在我国东北地区不可能见到的是



( )

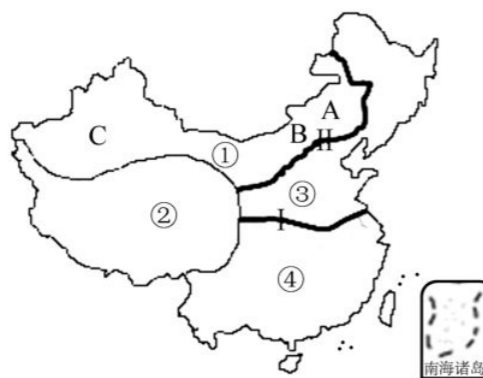
25. 制约西北地区农业生产的主要因素是

- A. 地形条件
- B. 光照条件
- C. 水源条件
- D. 技术条件

( )

二、非选择题(共 50 分)

26. 读我国四大地理区域图,回答下列问题。(30 分)



(1) 填出四大地理单元的名称。

③ \_\_\_\_\_, ④ \_\_\_\_\_。

(2) 图中界线 I 是 \_\_\_\_\_ — \_\_\_\_\_ 一线; 界线 II 与 \_\_\_\_\_ 毫米年等降水量线大致吻合。

(3) 区域①最显著的自然特征是 \_\_\_\_\_。

(4) 在区域①中, 由 A → B → C 的景观变化依次是 \_\_\_\_\_ → \_\_\_\_\_ → \_\_\_\_\_。

(5) 图中①地区有我国面积最大的 \_\_\_\_\_ 沙漠, ②地区主要的农业类型是 \_\_\_\_\_ (灌溉农业、河谷农业或生态农业)。④地区的耕地以 \_\_\_\_\_ 为主。

(6) 青藏地区成为众多大河的发源地, 主要原因是 \_\_\_\_\_。

(7) 关于青藏地区生态环境问题的叙述, 正确的是 ( )

- A. 草场资源不足, 加上过度放牧, 是我国土地荒漠化最严重的地方
- B. 长期种地不养地, 水土流失严重, 土壤肥力大幅度下降
- C. 暴雨集中, 土质疏松, 形成千沟万壑的地表形态
- D. 气温低, 牧草矮小, 载畜能力低

(8) 藏族人穿的藏袍可以适应当地 ( )

- A. 气候寒冷的特点
- B. 气候干旱的特点
- C. 昼夜温差大的特点
- D. 日照强烈的特点

27. 读东北地区图, 回答下列问题。(20 分)



(1) 写出图中字母代表的地理事物名称。

省区: A \_\_\_\_\_, B \_\_\_\_\_;

山脉: C \_\_\_\_\_, D \_\_\_\_\_;

河流: F \_\_\_\_\_, G \_\_\_\_\_。

(2) H 所在区域是 \_\_\_\_\_ 平原, 该地种植的糖料作物是 \_\_\_\_\_。

(3) 居住在 D 地区的少数民族主要是 ( )

- A. 朝鲜族、满族
- B. 藏族、维吾尔族
- C. 傣族、壮族
- D. 高山族、土家族

(4) 对于 D 山区的开发, 玲玲和贝贝发表了各自不同的看法。贝贝的想法是可以种植药材, 饲养梅花鹿。玲玲的建议是这里山清水秀, 少数民族的舞蹈又好看, 可以发展旅游业。你认为呢?

## 第七章测试卷

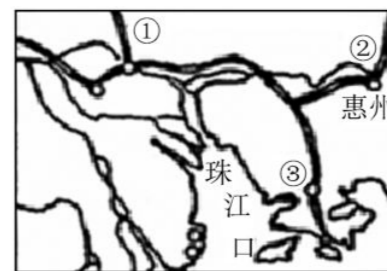
(时间:90分钟 满分:100分)

题号	一	二	总分
得分			

### 一、选择题(每小题2分,共60分)

1. 有关香港自然环境的叙述,正确的是 ( )
  - A. 位于珠江口东侧,北与广东省珠海相连
  - B. 由香港岛、九龙和“新界”三部分组成
  - C. 香港的地形以平原为主
  - D. 香港属于热带季风气候
2. 北京直达香港的铁路线是 ( )
  - A. 陇海线
  - B. 京广线
  - C. 京沪线
  - D. 京九线
3. 香港拥有先进的电信系统,是重要的国际性信息中心。香港的报业、电视、广播、出版、邮政都很发达,能够及时传递各种信息。这说明香港 ( )
  - A. 现代旅游业发达
  - B. 现代商业发达
  - C. 现代服务业发达
  - D. 现代高新技术产业发达
4. 香港回归以来,为祖国内地的发展作出了巨大贡献,祖国内地为香港繁荣提供了坚实的后盾和强有力的支撑。关于香港的叙述,正确的是 ( )
  - ①被誉为“东方明珠”
  - ②世界著名的自由贸易港
  - ③重要的国际金融中心和信息服务中心
  - ④博彩旅游业发达
  - A. ①②③
  - B. ②③④
  - C. ①②④
  - D. ①③④
5. 香港地少人多,而且山地多、平地少,可供城市发展的土地有限,香港人采用“上天”“下海”的方式扩展城市建设用地。对这两种方式的正确理解是 ( )
  - ①建设高层建筑
  - ②居住在船上
  - ③向月球移民
  - ④填海造地
  - A. ①③
  - B. ③④
  - C. ②④
  - D. ①④
6. 香港的进口商品主要来自 ( )
  - A. 中国台湾
  - B. 美国
  - C. 日本
  - D. 中国内地
7. 香港是著名的自由港,逐步形成了多元化经济结构。其经济的基础是 ( )
  - A. 博彩业
  - B. 对外贸易
  - C. 重工业
  - D. 建筑业

8. 关于澳门地理概况的叙述,正确的是 ( )
  - A. 澳门位于珠江口西南,与广东省的深圳市相连
  - B. 澳门由澳门半岛、九龙和路环岛组成
  - C. 澳门属于热带季风气候
  - D. 澳门国际机场,是采取人工填海方式建成的
9. 下列美称属于澳门的是 ( )
  - A. “世界公园”
  - B. “花园城市”
  - C. “购物天堂”
  - D. “海上花园”
10. 关于澳门的说法,正确的是 ( )
  - A. 澳门的工业以生产重工业产品为主
  - B. 澳门的人口集中分布在岛屿上
  - C. 澳门的商业发达,商业收入成为主要经济来源
  - D. 澳门旅游业发达,旅游业收入和博彩业收入是经济发展的重要支柱
11. 下列关于我国内地、香港、澳门的说法,不正确的是 ( )
  - A. 香港交通、旅游业非常发达,因其特殊的历史背景,成为东西方文化的荟萃之地
  - B. 澳门的面积不断扩大,是由于珠江口泥沙淤积和填海造地双重因素造成的
  - C. 香港和澳门之间“港澳跨海大桥”的建成,更加强了两地的联系,促进了两地的合作与发展
  - D. 内地有丰富的资源,港澳有雄厚的经济基础,应将香港和澳门建成大型的重工业基地
12. 有关广州的叙述,不正确的是 ( )
  - A. 是珠江三角洲的区域的中心城市
  - B. 是著名的侨乡,华侨人数居全国之首
  - C. 是京九铁路与广深铁路的交汇枢纽
  - D. 是著名的沿海开放城市
13. 读图,下列说法不正确的是 ( )



- A. 珠江三角洲区域生产总值的一半左右是通过国际贸易来实现的
- B. ①城市是珠江三角洲区域的中心城市,也是著名的侨乡
- C. ②铁路线是京广线

D. ③城市毗邻香港,是中国第一批经济特区之一

14. 下列有关珠江三角洲的叙述,正确的是 ( )

- A. 珠江三角洲的地形以低山、丘陵为主
- B. 气候属于热带季风气候
- C. 珠江三角洲区域是中国的“南大门”
- D. 深圳是著名的侨乡,华侨人数居全国各城市之首

15. 下列关于珠江三角洲地区对外开放的有利因素,分析错误的是 ( )

- A. 珠江三角洲位于广东省东南部,珠江下游,靠近港澳和东南亚,交通便利
- B. 许多地方是侨乡
- C. 这里平原广阔,水网密布,矿产资源丰富,人口众多,经济发达
- D. 珠江三角洲地区有一个包括经济特区、沿海开放城市、经济开放区在内的多层次的

开放体系,享有发展经济的优惠政策

16. 港澳和珠江三角洲地区相比,港澳的优势是 ( )

- A. 廉价的劳动力
- B. 土地资源
- C. 先进的技术和管理经验
- D. 矿产资源

17. 珠江三角洲地区外向型经济的特点是 ( )

- A. 加大了资源的开发力度
- B. 吸引外资,引进先进的技术和管理经验,发展出口加工工业
- C. 利用本地资源大力发展重工业
- D. 生产的产品主要满足国内需要

18. 珠江三角洲地区人均国民生产总值增长迅速的主要原因是 ( )

- A. 劳务输出
- B. 农业产值的迅速增加
- C. 外向型经济的带动作用
- D. 传统工业的发展

19. 每年有大量的“打工妹”和“打工仔”纷纷涌向珠江三角洲,其原因是 ( )

- A. 气候湿润,农业发达
- B. 资源丰富,开发潜力大
- C. 加工业发展较快,劳动力需求大,就业机会多,报酬高
- D. 沿海的位置,交通便利

20. 上海市成为我国第一个自由贸易区,具有的优势是 ( )

- ①科技力量雄厚 ②矿产资源丰富,工业发达 ③拥有全国最大的港口,水陆交通便利 ④对外开放程度高,外向型经济特色显著

- A. ①②③
- B. ①②④
- C. ②③④
- D. ①③④

21. 读右图,有关长江三角洲区域的概况,不正确的是 ( )



- A. 地势低平,气候湿润
- B. 其核心城市上海是中国规模最大的城市
- C. 其北翼的中心城市是杭州
- D. 南京是江苏省省会,有“六朝古都”之称

22. 在浦东新区可能看到的景象是 ( )

- A. 春耕大忙时期,人们忙着播种小麦
- B. 夜晚的东方明珠电视塔闪烁着耀眼的光芒
- C. 资源密集型产业比比皆是
- D. 到处是等待开发的棚户区

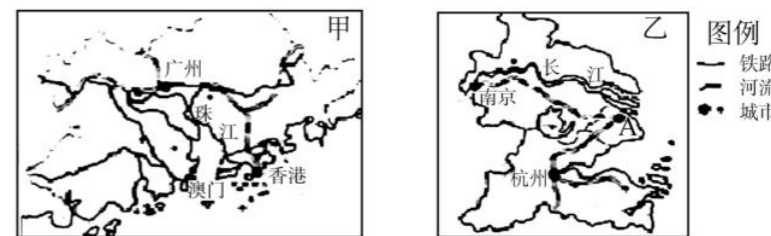
23. 有关长株潭三市发展差异的叙述,正确的是 ( )

- A. 长沙是湖南省的省会,所辖的韶山市是毛泽东同志的故乡
- B. 株洲是中国南方重要的铁路枢纽,京九、沪昆等铁路在此交会
- C. 湘潭是制造业和旅游业相对发达的城市
- D. 就机械行业来说,长沙侧重电工机械,株洲侧重铁路机械,湘潭侧重工程机械

24. 长株潭正倾力建设资源节约型、环境友好型社会。下列措施中,不符合“两型社会”要求的是 ( )

- A. 湘江上游地区大力开采、冶炼有色金属
- B. 建设湘江生态风光带,保护沿江湿地和山水景观
- C. 推广节能建筑,优先发展公共交通
- D. 三个城市之间保留大面积的生态绿地

读下图,完成 25~26 题。



25. 图甲所示区域是我国重要的工业基地,与乙相比,甲所示区域发展工业的突出优势是 ( )

- A. 煤、铁等矿产分布集中
- B. 多港湾,海上运输便利
- C. 毗邻港澳,很多地方是“侨乡”
- D. 高等院校众多,科技力量雄厚

26. 关于乙图中 A 城市的说法,不正确的是 ( )

- A. 京沪、沪杭两条铁路在此交会
- B. 位于长江入海口,是全国最大的港口
- C. 是我国规模最大的城市
- D. 拥有中关村高新技术产业区

27. 香港建设高层建筑和填海造地的最主要原因是

- A. 人多地少
- B. 信息发达
- C. 建筑水平高
- D. 资金雄厚

读中国部分地区经济区和城市带分布图,完成 28~29 题。



中国部分地区经济区和城市带分布图

28. 关于乙城市群的叙述,正确的是

- A. 中心城市是南昌
- B. 有著名风景区武陵源
- C. 京沪高铁纵贯
- D. 地处湖南省的东部

29. 制约“珠三角”和“长三角”社会经济发展的主要自然因素是

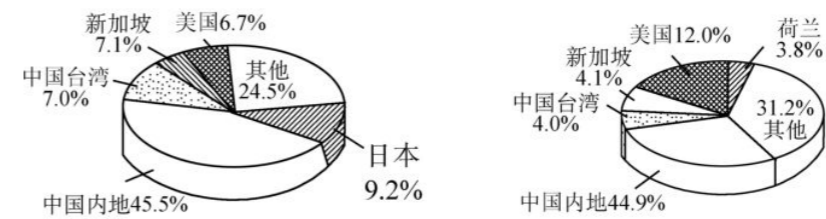
- A. 能源短缺
- B. 河网密集
- C. 水旱灾害
- D. 临江面海

30. 关于港澳与祖国内地联系的叙述,正确的是

- A. 因社会制度不同,港澳的经济发展与祖国内地联系不大
- B. 港澳的发展主要靠自身优越的位置和丰富的资源
- C. 祖国内地主要通过澳门与世界各地进行贸易往来
- D. 港澳与祖国内地的经济合作是互惠互利、优势互补

二、非选择题(共 40 分)

31. 根据下图,回答问题。(5 分)



2010 年香港进口商品的地区构成

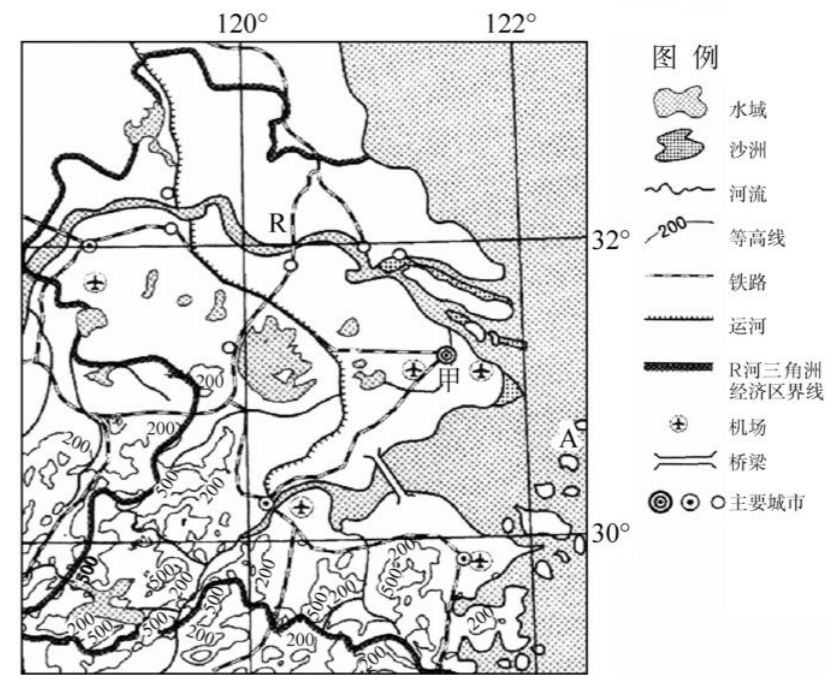
2010 年香港出口商品的地区构成

(1)香港进口贸易的商品主要来自于\_\_\_\_\_地区,出口贸易的商品主要出口到\_\_\_\_\_地区,其主导产业是\_\_\_\_\_。

(2)香港和\_\_\_\_\_的贸易占香港进出口贸易的首位,强大的社会主义祖国是香港经济发展的坚强后盾。

(3)利用所学知识分析,香港和内地在经济上是如何优势互补的?

32. 读下图,回答下列问题。(7 分)



(1)图示区域北部地区的地形主要以\_\_\_\_\_为主,南部地区的地形主要以\_\_\_\_\_为主。

(2)该区域地处沿海,R 河口以南的海岸线比以北的海岸线\_\_\_\_\_。A 岛所在的地区有我国最大的\_\_\_\_\_渔场。

(3)该区域城市分布的特点是\_\_\_\_\_。

(4)试分析该区域经济发展的有利条件:\_\_\_\_\_