


湘教
考苑

能力评价

NENGLI PINGJIA

初中卷 单元测试

◆ 主编 / 黄步高 刘新民



历史

八年级

下册

岳麓版

CES 湖南教育出版社


湘教
考苑

能力评价

NENGLI PINGJIA

初中卷 单元测试

◆ 主编 / 黄步高 刘新民



历史

八年級

下册

岳麓版

CBS 湖南教育出版社

编者的话

新

理念新：贯彻最新教育教学理念，以最新《课程标准》和教材为依据，将考试内容、命题探索和能力提升融为一体。

习题新：选取全国各地最新试题以及名校的精华试题，特别选择具有原创价值的新题，进行合理科学的选取或者改编。

精

策划精：试卷设计为活页，便于教学细节的监控和管理，在版式设计上注意合理设计答题空和分值统计，方便学生的作答和老师的快速批改与及时反馈。

选题精：单元、月考、期中、分类复习、期末测试题的设置博观而约取，精选试题，保证题型新颖，情境鲜活，梯度合理，充盈着浓浓的时代气息。

全

类别全：整体融合单元、月考、期中、分类复习、期末测试卷的科学化设计，倡导自主、合作、探究的学习方式。引领学生挑战自我，达成高分目标，体验成功的快乐。

检测全：紧紧抓住各科要求的基础点、重点、难点、疑点、热点，分阶段帮助学生提升综合素质和能力。力求通过实战，增强实效，提高实力。

目 录

第一单元测试卷	1
第二单元测试卷	3
月考卷一	5
第三单元测试卷	7
第四单元测试卷	9
第五单元测试卷	11
月考卷二	13
第六单元测试卷	15
分类复习卷一	17
分类复习卷二	19
分类复习卷三	21
分类复习卷四	23
分类复习卷五	25
期中测试卷一	27
期中测试卷二	29
期末测试卷一	31
期末测试卷二	33
期末测试卷三	35
期末测试卷四	37
期末测试卷五	39
参考答案	41

第一单元测试卷

测试时间:60分钟 满分:100分

题号	一	二	总分
得分			

一、选择题(本大题共15小题,每小题3分,共45分。在每小题给出的四个选项中,只有一项是最符合题目要求的)

1. 1953年7月,抗美援朝战争胜利结束,朝鲜和中国的代表同美方代表在板门店签署了 ()

- A. 《朝鲜停战协定》 B. 《共同纲领》
C. 《土地改革法》 D. 《中美联合公报》

2. 向全世界庄严宣告“中国人民站起来了”的国家领导人是 ()

- A. 毛泽东 B. 朱德 C. 刘少奇 D. 周恩来

3. 右图中,毛泽东在天安门城楼上庄严宣告 ()



- A. 第一届中国人民政治协商会议开幕
B. 中华人民共和国成立
C. 第一届全国人民代表大会开幕
D. “文化大革命”开始

4. 八年级(2)班准备召开纪念新中国成立66周年(2015年)的主题班会,同学们搜集了下列资料与图片,其中不符合主题的是 ()

- A. 开国大典的影像资料 B. 毛泽东宣告中华人民共和国成立的录音
C. 《义勇军进行曲》 D. 人民解放军进入拉萨的图片

5. 历史学家费正清说:“中国的革命正是由这样两种梦想推动着:一是爱国主义者想看到一个新中国傲立于世界民族之林;二是提高处于社会底层的农民的地位,消除古代旧有的……社会差别。”第一种梦想变为现实的标志性事件是 ()

- A. 开国大典 B. 土地改革 C. 三大改造 D. 香港回归

6. 2014年3月28日是西藏百万农奴解放55周年纪念日。当日,西藏各地群众以不同方式共同庆祝这一盛大节日。由于特殊的地理、历史原因,西藏解放推迟至1951年。其解放的方式是 ()

- A. 和平解放 B. 武力攻克
C. 民族区域自治 D. “一国两制”

7. 2014年10月7日,《新闻晨报》报道:日前,国务院隆重召开第六次全国民族团结进步模范表彰大会。你认为下列能体现民族团结的事件是 ()

- A. 新中国的成立 B. 镇压反革命 C. 土地改革 D. 西藏和平解放

8. 下列历史题材的影片所再现的史实,按其先后顺序排列,正确的是 ()



①《辛亥革命》



②《鸦片战争》



③《开国大典》



④《抗美援朝》

- A. ④①②③ B. ②①③④ C. ④③②① D. ②③①④

9. 同学们为开展研究性学习搜集了以下图片资料,这些资料共同反映的学习主题是 ()



黄继光



邱少云



彭德怀

- A. 八路军将士抗击日本侵略者的斗争
B. 解放战争时期的英雄人物
C. 抗美援朝时期志愿军的爱国主义和革命英雄主义事迹
D. 人民解放军进军西藏

10. 毛泽东曾写诗赞扬一位将军:“山高路远坑深,大军纵横驰奔。谁敢横刀立马?唯我彭大将军!”建国初期,“彭大将军”指挥并取得胜利的对外战争是 ()

- A. 雅克萨之战 B. 渡江战役 C. 百团大战 D. 抗美援朝战争

11. “联合国军”总司令克拉克在回忆录《从多瑙河到鸭绿江》中写道:“我获得了一个不值得羡慕的名声——我是美国历史上第一个在没有取得胜利的停战协定上签字的司令官。”美国“没有取得胜利的停战协定”是指 ()

- A. 《朝鲜停战协定》 B. 《凡尔赛和约》 C. 《雅尔塔协定》 D. 《慕尼黑协定》

12. 20世纪50年代,人们用“最可爱的人”来赞美抗美援朝战争中涌现出的英雄人物。下列人物中,被誉为“最可爱的人”的是 ()

- ①焦裕禄 ②黄继光 ③邓稼先 ④邱少云
A. ①③ B. ②③ C. ①② D. ②④

13. 下表为“白城县岭下、胜利、建政三村阶级结构变动情况表(单位:户)”。表中阶级结构变动的直接原因是 ()

年份	雇农	贫农	中农	富农	新富农	地主	其他
1948年	83	197	116	18	0	27	2
1953年	3	74	355	0	4	0	7

- A. 《共同纲领》的颁布 B. 新中国的成立
C. 土地改革的完成 D. 抗美援朝的胜利

14. 世代没有田地的人今天分得了田地,还分得了农具和牲口,他们从心里感到这才是人民当家作主,脸上充满了微笑。右图反映的是哪一文件颁布后的情景 ()



- A. 《中华人民共和国民法通则》
- B. 《共同纲领》
- C. 《中华人民共和国土地改革法》
- D. 《中华人民共和国宪法》

15. 中央电视台大型电视政论片《复兴之路》分六集,反映自 1840 年以来中国艰难曲折的民族振兴之路。下列是其前四集的名称,其中“西藏和平解放、土地改革、抗美援朝”可能集中在 ()

- A. 《千年巨变》
- B. 《峥嵘岁月》
- C. 《中国新生》
- D. 《伟大转折》

二、非选择题(本大题共 3 小题,第 16 题 19 分,第 17 题 18 分,第 18 题 18 分,共 55 分)

16. (19 分)读下列两幅反映土地改革情况的照片,回答问题。



农民拔除地界碑
图 1



向农民宣传《土地改革法》
图 2

(1)图 1 中的地界碑是旧中国封建土地制度的产物,在这种制度下的土地分配状况是什么样的?(5 分)

(2)如果让封建土地制度继续存在,危害是什么?(4 分)

(3)图 2 反映了农民对《土地改革法》热烈欢迎和拥护的态度。请问,这部“法”的基本目的是什么呢?(4 分)

(4)《土地改革法》的颁布起到了什么作用?(6 分)

17. (18 分)阅读下列材料,回答问题。

材料一 中国人民政治协商会议第一届全体会议于 9 月 21 日至 30 日召开。会议代行全国人民代表大会职权,通过了起临时宪法作用的《中国人民政治协商会议共同纲领》……会议决定首都定于北平,北平改名为北京;纪年采用公元;在中华人民共和国国歌未正式制定前,以《义勇军进行曲》为代国歌;国旗为五星红旗。会议选举出中央人民政府委员会……10 月 1 日下午 2 时,中央人民政府委员会举行第一次会议,一致决定:接受《共同纲领》为政府施政方针。

材料二



(1)简要说明第一届中国人民政治协商会议召开的历史背景,并根据材料一归纳指出这次会议的主要内容。(12 分)

(2)材料二中的图片反映的重大事件使中国人民的社会地位发生了怎样的巨大变化?(6 分)

18. (18 分)阅读下列材料,回答问题。

材料一 一百多年的中国近代历史,既是屈辱的历史,也是抗争的历史、探索的历史,要解决的问题是独立、民主、富强,即反帝反封建和实现近代化(现代化)。近代社会的变革……从旧民主主义革命到新民主主义革命,都是围绕这个主题进行的。

材料二 1949 年 9 月,毛泽东在第一届全国人民代表大会上说:“……我们的工作将写在人类的历史上,它将表明:占人类总数四分之一的中国人从此站立起来了。……我们的民族将再也不是一个被人侮辱的民族了。”

(1)依据材料一,指出近代中国民主革命的主题。围绕这个主题,20 世纪头 20 年,中国社会发生了哪些变革?(8 分)

(2)材料二中“中国人从此站立起来了”的标志性事件是什么?这个事件有哪些重大意义?(10 分)

装
订
线

第二单元测试卷

测试时间:60分钟 满分:100分

题号	一	二	总分
得分			

一、选择题(本大题共15小题,每小题3分,共45分。在每小题给出的四个选项中,只有一项是最符合题目要求的)

1. 我国第一个五年计划取得了重大成就。下列史实中,可以证明这一结论的是()

①武汉长江大桥建成 ②开展了大炼钢铁的群众运动 ③长春汽车制造厂生产出第一辆汽车 ④康藏、青藏公路修通

A. ①②③ B. ①②④ C. ①③④ D. ②③④

2. 我国在“一五”计划时期各部门的投资比例表

部门	工业	农林水利	交通运输	文化教育卫生	其他
投资比例	58.2%	7.6%	19.2%	7.2%	7.8%

注:在工业内部,轻、重工业之间的投资比例约为1:7.9。

由此可知,我国 ()

A. 优先发展重工业 B. 农、轻、重三业均衡发展
C. 优先发展交通运输业 D. 已进入社会主义初级阶段

3. 1954年,第一届全国人民代表大会在北京召开,大会通过的法律文献是 ()


A. 《中国人民政治协商会议共同纲领》 B. 《中华人民共和国宪法》
C. 《中华人民共和国土地改革法》 D. 《中华人民共和国民法通则》

4. 某校历史兴趣小组筹备“新中国经济建设成果”图片展,文字说明部分如下,其中有误的是 ()

A. “一五”计划各项经济建设指标超额完成,为实现社会主义工业化打下了基础
B. “文化大革命”期间,社会主义建设取得巨大成就
C. 1961年春,党和政府全面调整国民经济,恢复发展生产,取得明显成效
D. 粉碎林彪反革命集团后,在周恩来、邓小平的努力下,扭转了经济下滑的局面

5. 右图所示的“江苏省江宁县公私合营股票”,其印发的主要目的是 ()

A. 建立人民民主政权
B. 满足农民获得土地的愿望
C. 引导农民走合作化道路
D. 实现对私营工商业的社会主义改造



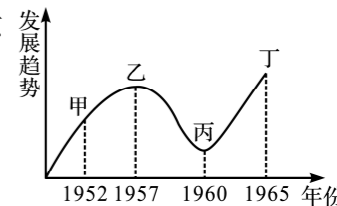
6. 下表中两种所有制经济百分比出现的主要原因是 ()

1956年国民经济中公私经济成分的比较

项目	社会主义公有制经济	私有制经济
国民收入	92.9%	7.1%
工业总产值	100%	
商品零售额	95.8%	4.2%

A. 土地改革的基本完成 B. 三大改造的基本完成
C. 家庭联产承包责任制的实行 D. 国有企业改革的深化

7. 右图是新中国在20世纪五六十年代的农业发展趋势示意图。其中,导致甲到乙段发展变化的主要原因是 ()



A. 新解放区的土地改革
B. 开展“大跃进”运动
C. 推行人民公社化运动
D. 农业的社会主义改造

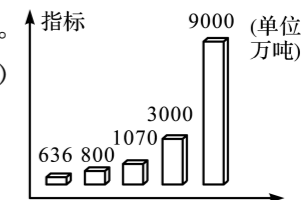
8. 1956年,对中国人民来说是“非同寻常的一年”。在这一年,新中国取得的主要成就是 ()

A. “大跃进”运动在全国范围内发动起来 B. 基本完成三大改造
C. “一五”计划开始 D. 西藏和平解放

9. “人有多大胆,地有多大产”“土地潜力无穷尽,亩产多少在人为”等口号应出现于 ()

A. 20世纪50年代中后期 B. 20世纪70年代
C. 20世纪80年代 D. 20世纪90年代

10. 右图为“我国某一时期规划五年钢产量生产指标示意图”。图中计划指标剧增的主要原因是 ()



A. 三大改造的实施
B. “大跃进”运动和人民公社化运动的开展
C. 国有企业的改革
D. 社会主义市场经济体制的确立

11. 中国走社会主义道路是历史的选择、人民的选择。社会主义制度在中国确立的标志是 ()

A. 1949年,新中国成立 B. 1956年,三大改造基本完成
C. 1952年,土地改革基本完成 D. 1957年,“一五”计划提前完成

12. 2014年5月14日,是焦裕禄去世50周年的日子。他已远行半个世纪,而他的精神却始终存留神州。焦裕禄曾76次出现在《人民日报》头版。焦裕禄被誉为 ()

A. “党的好干部” B. “铁人”
C. “解放军好战士” D. “杂交水稻之父”

13. “铁人”王进喜克服重重困难,带领工人打出大庆第一口油井;焦裕禄为改变兰考的面貌,献出生命。他们的事迹出现在 ()



- A. 新中国成立时期
B. 建设社会主义道路探索时期
C. “文化大革命”时期
D. 社会主义现代化建设新时期

14. 一些历史名词往往被打上时代的烙印。“大串联”“红卫兵”“停课闹革命”发生在 ()

- A. 土地改革时期
B. 整风运动时期
C. “大跃进”时期
D. “文化大革命”时期

15. 有资料表明,十年“文革”时期国民收入损失了 5000 亿元,这超过了建国 30 年全国固定资产的总和。这反映出“文化大革命”的一个严重后果是 ()

- A. 民主与法制遭到践踏
B. 国民经济遭受巨大损失
C. 各级政府机构瘫痪
D. 科学文化教育事业遭到摧残

二、非选择题(本大题共 3 小题,第 16 题 17 分,第 17 题 18 分,第 18 题 20 分,共 55 分)

16. (17 分)读图,回答问题。

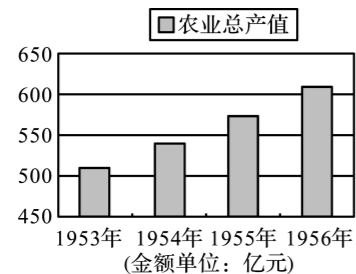


图 1 1953—1956 年我国农业总产值

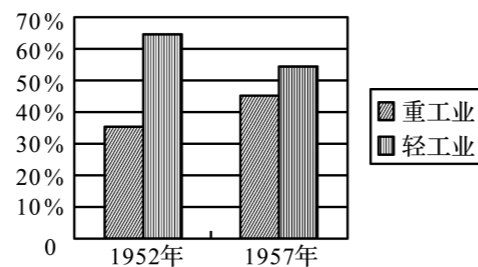


图 2 1952 年与 1957 年我国轻重工业对比

(1)看图 1 并分析,1953—1956 年,我国粮食产量发生了怎样的变化? 请说明发生这种变化的主要原因。(5 分)

(2)看图 2 并分析,建国初期,我国工业中轻重工业的比重发生了哪些变化? 请说明发生这种变化的主要原因。(5 分)

(3)结合两幅图片所呈现的相关史实,谈一谈农业对工业发展所起的促进和推动作用。(7 分)

17. (18 分)阅读材料,回答下列问题。

材料一 1956 年,中共“八大”指出,生产资料私有制的社会主义改造基本完成以后,国内的主要矛盾,是人民对于建立先进的工业国的要求,同落后的农业国的现实之间的矛盾;是人民对于经济文化迅速发展的需要,同当前经济文化不能满足人民需要的状况之间的矛盾。

材料二 1958 年 5 月,中共“八大”二次会议提出建设社会主义总路线:“鼓足干劲,力争上游,多快好省地建设社会主义。”

(1)根据材料一,结合所学知识思考,当时党和人民的主要任务应该是什么?(4 分)

(2)材料二中所说的“建设社会主义总路线”有什么积极作用? 存在什么问题?(8 分)

(3)这个总路线开始实施后,党中央为了加快建设速度,发动的两大运动是什么?(6 分)

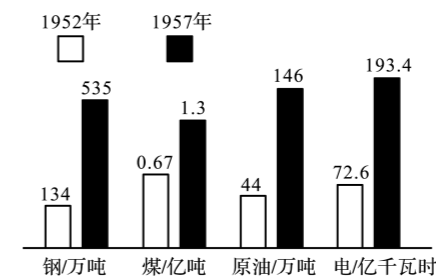
18. (20 分)新中国建立后,强国成为时代的主题。阅读下列材料,回答问题。

【艰难起步】

材料一 新中国成立之初,我国是一个落后的农业国,既不能制造汽车、飞机,也没有冶金设备、矿山设备和大型发电设备等制造业。

【神奇逆转】

材料二 下图是 1952 年和 1957 年我国工业主要产品产量示意图。



【艰苦创业】

材料三 1962 年 12 月,焦裕禄调任河南兰考县委书记。时值该县遭受内涝、风沙、盐碱三害,粮食产量降到历史最低水平。在一年多时间里,在全县 149 个大队中,他跑遍了 120 多个。他家里也很困难,没有像样的棉被,县里补助他 3 斤棉花票,他就是不要,说群众比他更困难。他患了肝癌,仍坚持工作,为改变兰考县的落后面貌奋斗到最后一息。群众说:“他心里装着全体人民,唯独没有他自己。”

(1)材料一反映了建国初期我国怎样的经济状况?(6 分)

(2)材料二中 1952 年到 1957 年工业产品产量变化的主要原因是什么? 结合所学知识,说出到 1956 年我国在汽车工业和飞机制造工业方面的成就。(10 分)

(3)材料三中焦裕禄的事迹体现了什么样的精神?(4 分)

月考卷一

测试时间:60分钟 满分:100分

题号	一	二	总分
得分			

一、选择题(本大题共15小题,每小题3分,共45分。在每小题给出的四个选项中,只有一项是最符合题目要求的)

1. 它“展示了一幅宏伟的建设蓝图,是新中国的建国纲领。在全国人民代表大会制定宪法前,它具有国家临时宪法的作用……”这里的“它”是指 ()

- A. 《中国人民政治协商会议共同纲领》 B. 《劳动和社会保障法》
C. 《中华人民共和国民法通则》 D. 《中华人民共和国宪法》

2. 国家博物馆收藏着一面五星红旗,它是毛泽东主席亲手升起的新中国第一面五星红旗。它的第一次升起标志着中国 ()

- ①新民主主义革命取得伟大胜利 ②半殖民地半封建时代的结束 ③人民当家做了主人 ④开始进入社会主义初级阶段

- A. ①②③ B. ②③④ C. ①②④ D. ①③④

3. 过春节贴春联是中国特有的习俗,春联的内容往往是社会历史变迁的写照。下列春联中,反映建国初期的是 ()

- A. 新四军拼命抗日 老百姓安心过年
B. 万里山河归人民 五亿群众庆新生
C. 宁要社会主义草 不要资本主义苗
D. 世博亚运扬国威 改革发展创奇迹

4. 1950年10月,中国人民志愿军雄赳赳,气昂昂,跨过鸭绿江,赴朝作战。下面四组人物中,符合这一主题的是 ()

- A. 王进喜、黄继光 B. 黄继光、董存瑞
C. 黄继光、邱少云 D. 邱少云、董存瑞

5. 小明从学校图书馆借了下面两本书,由此我们可以断定,他最近感兴趣的可能是 ()



- A. 北伐战争 B. 解放战争 C. 土地改革 D. 抗美援朝战争

6. 建国初期,毛泽东曾说:“现在我们能造什么?能造桌子椅子,能造茶碗茶壶……但是,一辆汽车、一架飞机、一辆坦克、一辆拖拉机都不能造。”为了扭转这一局面,我国在“一

五”计划中决定 ()

- A. 集中主要力量发展重工业 B. 加速实现手工业的合作化
C. 逐步改造资本主义工商业 D. 大力发展轻工业

7. 2014年7月31日,中共中央政治局常委、国务院总理李克强在北京主持召开国务院振兴东北地区等老工业基地工作会议。中共中央政治局常委、国务院副总理张高丽出席会议。新东北老工业基地形成于 ()

- A. 新中国成立前 B. 新中国建立时期
C. 社会主义三大改造时期 D. 第一个五年计划时期

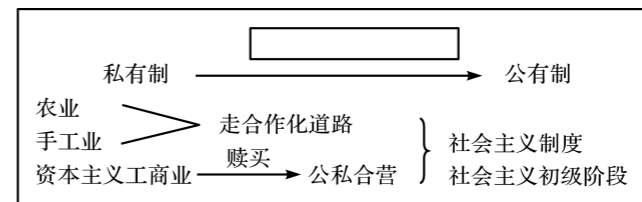
8. 1954年颁布的《中华人民共和国宪法》是我国第一部社会主义类型的宪法,也是我国有史以来真正反映人民利益的宪法。制定该宪法的会议是 ()

- A. 第一届中国人民政治协商会议 B. 第一届全国人民代表大会
C. 第二届全国人民代表大会 D. 第三届全国人民代表大会

9. 泰来机器面粉厂是泰州最早具有近代意义的工厂,始建于清光绪三十二年(1906年),迄今已有一百多年的历史,经过社会主义改造后改名为“公私合营泰州面粉厂”。该厂改名的时间是在20世纪 ()

- A. 40年代 B. 50年代 C. 70年代 D. 80年代

10. 见下面的板书设计,其标题应为 ()



- A. 稳定物价 B. 家庭联产承包责任制
C. 国有企业改革 D. 三大改造

11. 下列有关我国社会主义改造的叙述,不准确的一项是 ()

- A. 社会主义改造的实质是变生产资料私有制为社会主义公有制
B. 社会主义改造的对象是农业、手工业和资本主义工商业
C. 社会主义改造的完成标志着我国进入社会主义初级阶段
D. 社会主义改造于1952年基本完成

12. 八年级(2)班的同学准备举行一场有关王进喜、焦裕禄等人的先进事迹故事会,如果要拟定故事会的主题,下列最为恰当的是 ()

- A. 科技战线的前沿人物 B. 建设社会主义的楷模
C. 石油战线的时代标兵 D. 舍生忘死的人民公仆

13. 观看右图,结合所学知识判断,这幅漫画可能出现在中国社会主义建设的哪一运动中 ()

- A. 农业合作化运动 B. 土地改革
C. “大跃进”运动 D. 改革开放



得分
姓名
班级
能力评价
历史八年级下册(岳麓版)
密
封
线

14. “公社的山羊长得壮，上山碰到非洲象，山羊打个大喷嚏，轰隆一声比雷响。大象吓得直哆嗦，扑通跪倒直喊娘：‘娘啊娘，还是公社的山羊大，跟它比，我简直就是屎壳郎。’”这首歌谣中的现象导致的结果是 ()

- A. 社会主义制度建立
- B. 农业科学技术的发展
- C. 国民经济比例严重失调
- D. 农民生产积极性高涨

15. 邓小平曾经很沉痛地说：“中国六十年代同世界上有差距，但不太大。六十年代末期到七十年代这十一年，我们同世界的差距拉得太大了！”造成这一局面最重要的原因是 ()

- A. 帝国主义国家的封锁
- B. “文化大革命”
- C. 自然灾害的影响
- D. 人民公社化运动

二、非选择题(本大题共3小题,第16题16分,第17题22分,第18题17分,共55分)

16. (16分)阅读下列材料,回答问题。

材料一 中华人民共和国的根本政治制度是全国人民代表大会制度。在这个基础上,中国的国家与政府领导体制,经历了两个不同阶段:1949—1954年,史称《共同纲领》时期,是国家与政府领导体制初建的第一阶段;第二阶段,起自1954年9月召开第一届全国人民代表大会,颁布第一部《中华人民共和国宪法》,中国的国家与政府领导体制,随之发生深刻的变化。

材料二



图1 毛泽东主席在天安门城楼宣告:
中华人民共和国中央人民政府今天成立了!



图2 跨过鸭绿江

(1)材料一中的《共同纲领》出自哪次会议? (3分)

(2)图1反映了中国历史上哪一重大事件? (4分)

(3)图2反映了哪一重大事件? 当时中国参加这一事件的目的是什么? 这一事件的结果如何? (9分)

17. (22分)阅读下列材料,回答问题。

材料一 “一五”计划取得了巨大的成就,这种成就也给中央决策者们带来错误的信号:全面建设社会主义的时期可能即刻到来。

材料二 “三面红旗”是指总路线、“大跃进”和人民公社化。高举“三面红旗”的时代已经过去50多年了。回过头来看,“三面红旗”的提出与实施,反映出一个盲目冒进的问题:总路线是在经济建设总的指导思想上的盲目冒进;“大跃进”表现在生产力发展方面的盲目冒进;人民公社化则是反映在生产关系和社会制度变革方面的盲目冒进。

(1)依据材料一分析,“一五”计划何时开始实施? 它取得了哪些成就? 请你列举其中的两项。(6分)

(2)依据材料二及所学知识分析,这里所说的“三面红旗”都提出或开始实行于哪一年?“三面红旗”造成了怎样的危害?(6分)

(3)造成“大跃进”和人民公社化运动错误的原因是什么? 这些错误的主要特点是什么?(6分)

(4)从以上材料中,你得到了什么启示?(4分)

18. (17分)新中国成立后,我国进入了从新民主主义向社会主义过渡的时期。经过三年努力,国民经济得到恢复,人民政权巩固。据此回答下列问题。

(1)新中国成立是在哪一年? 哪个地区的解放标志着祖国大陆实现统一?(4分)

(2)我国对生产资料私有制进行社会主义改造的主要内容是什么? 什么时候改造基本完成?(8分)

(3)1954年,我国颁布了第一部社会主义类型的宪法。这部宪法是在哪次会议上通过的? 名称是什么?(5分)

第三单元测试卷

测试时间:60分钟 满分:100分

题号	一	二	总分
得分			

一、选择题(本大题共15小题,每小题3分,共45分。在每小题给出的四个选项中,只有一项是最符合题目要求的)

1. “一个党,一个国家,如果一切从本本出发,思想僵化,迷信盛行,那它就不能前进,它的生机就停止了,就要亡党亡国。”“如果现在再不实行改革,我们的现代化事业和社会主义事业就会被葬送。”邓小平讲这段话的历史场景是在 ()

- A. 中共七届二中全会 B. 中共十一届三中全会召开之前
C. 南方谈话 D. 中共十二大

2. 正确的思想路线是社会发展的灵魂。中共十一届三中全会确立的思想路线是 ()

- A. “一国两制” B. 建设有中国特色的社会主义
C. 解放思想,实事求是 D. 求同存异,和平共处

3. 常比较、多鉴别,掌握历史更快捷。以下关于新中国成立与十一届三中全会的评述,正确的是 ()

- ①前者结束了旧时代,后者结束了错误方针 ②前者开启了新纪元,后者开创了新时期
③前者开创的事业为后者提供了宝贵经验 ④后者是对前者开创事业的继承与发展

- A. ①②③ B. ③④ C. ②③④ D. ①②③④

4. 十一届三中全会之所以成为建国以来党的历史上具有深远意义的伟大转折点,最主要的依据是 ()

- A. 把工作重心转移到经济建设上来,提出改革开放的总方针
B. 确立了实事求是的马克思主义思想路线
C. 停止了“以阶级斗争为纲”的错误方针
D. 决定拨乱反正,纠正冤假错案

5. 邓小平说:“农村改革有两个省带头,一个是四川省,那是我的家乡;一个是安徽省……我们就是根据这两个省积累的经验,制定了关于改革的方针政策。”材料中所说的农村改革是属于 ()

- A. 思想改革 B. 政治改革 C. 经济改革 D. 对外开放

6. “凤阳地多不打粮,磙子一住就逃荒。只见凤阳女出嫁,不见新娘进凤阳。”“说凤阳,道凤阳,改革鼓点先敲响,三年跨了三大步,如今飞出金凤凰。”导致安徽凤阳发生变化的原因是当地 ()

- A. 进行了土地改革 B. 开展了“大跃进”和人民公社化运动
C. 进行了农业的社会主义改造 D. 推行了农业生产责任制

7. 1980年,著名作曲家施光南深入安徽、四川农村体验生活,满怀激情地谱写了经典歌曲《在希望的田野上》。他选择赴上述农村体验生活的最主要理由是 ()

- A. 当地山川秀美,风景秀丽宜人 B. 少数民族众多,民俗文化丰富
C. 同属革命老区,富有红色传统 D. 率先包产到户,农民生活改善

8. 20世纪70年代末以来,我国稳步推进国有企业改革。为适应市场经济和社会化大生产的要求,国有企业改革确立的目标是 ()

- A. 扩大企业自主权 B. 增强企业活力和竞争力
C. 建立现代企业制度 D. 建立社会主义市场经济体制

9. 党的十一届三中全会作出了把党和国家的工作重点转移到经济建设上来,实行改革开放的伟大决策。20世纪80年代,我国改革开放的主要内容是 ()

- A. 设立上海浦东开发区 B. 兴建经济特区
C. 加入世界贸易组织 D. 收回香港、澳门主权

10. 《时代》周刊是美国影响最大的期刊之一,邓小平先后在1979年和1986年两度当选其年度风云人物,并先后8次登上它的封面。在这之前,能够两次当选该刊年度风云人物的只有丘吉尔等几位世界领导人。你认为他获得此殊荣的原因是 ()

- A. 他为新中国的成立作出了巨大的贡献
B. 他为中国的外交事业作出了巨大的贡献
C. 他实行改革开放战略,实现了中国经济的快速发展
D. 他为中国军队的现代化建设作出了重要贡献

11. 社会主义初级阶段指我国生产力落后、商品经济不发达条件下建设社会主义必然要经历的特定阶段。提出社会主义初级阶段理论的会议是 ()

- A. 十一届三中全会 B. 中共“十三大” C. 中共“十六大” D. 中共“十五大”

12. 英国《金融时报》说:“自1978年以来,中国企业有三次创业的高潮点,分别是1984年、1992年和2001年。”催生1992年创业高潮点的动因是 ()

- A. 1992年,中共“十四大”提出建立社会主义市场经济体制的目标
B. 中国加入世贸组织
C. 开发上海浦东
D. 扩大企业自主权

13. 春联作为中国特有的文学形式,具有很强的时代性。以下春联出现的先后顺序是 ()

①抗美援朝万民一心,保家卫国众志成城 ②一世风云,安邦定国存伟绩。八斗韬才,邓公理论照千秋
③改革开放同添异彩,经济建设共展宏图 ④大跃进一日千里,总路线光芒万丈

- A. ④①②③ B. ③④①② C. ②①③④ D. ①④③②

14. 右图是王老师上历史课时给同学们展示的复习提纲。据此判断,他复习的专题是 ()

- A. 建国后农村政策的新变化
B. 邓小平理论的形成和发展
C. 社会主义民主和法制建设
D. 社会主义经济建设新成就

提纲

1. 十一届三中全会
2. 建设中国特色社会主义
3. 社会主义初级阶段理论
4. 1992年南方谈话
5. 党的指导思想

15. 习近平总书记参观《复兴之路》展览时强调,道路决定命运,找到一条正确的道路多么不容易。回顾所学知识,在十一届三中全会后,我国找到的正确道路是 ()

- A. 计划经济的道路 B. 农村包围城市的道路
C. “以阶级斗争为纲”的道路 D. 建设有中国特色社会主义道路

二、非选择题(本大题共3小题,第16题16分,第17题18分,第18题21分,共55分)

16. (16分)1978年以后,我国进入社会主义现代化建设的新时期。

(1)结合所学知识,指出导致图1粮食产量变化的政策因素。据图2说出国有企业改革的内容。(6分)

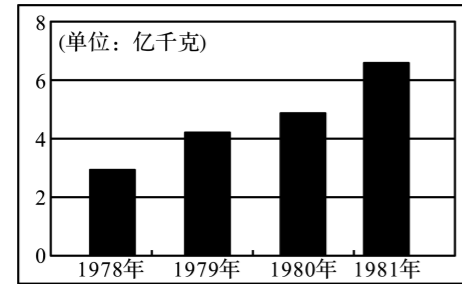


图1 安徽凤阳县部分年份粮食产量



图2 1979年6月《人民日报》刊登的企业广告

(2)我国在对内改革的同时,对外开放也开始起步。1984年,国家决定开放南通等14个沿海城市。结合所学知识,说一说国家作出这一决定的历史背景。(5分)

(3)请你结合上述材料,为家乡今后的对外开放提出合理化建议。(5分)

17. (18分)阅读下列材料,完成问题。

材料一 我们必须坚持抓好发展这个第一要务,不断开拓生产发展、生活富裕、生态良好的文明发展道路,为实现全体人民共同富裕而不懈努力;我们必须坚持改革创新,顺应历史前进的要求,坚定不移全面深化改革,推动中国始终走在时代前列;我们必须坚持走和平发展道路,奉行互利共赢的开放战略,维护国际公平正义,促进世界和平与发展。

材料二 20世纪70年代末,安徽凤阳小岗村农民首先实行分田包产到户,自负盈亏。这一做法得到中央的肯定,并在中央的指导下,在农村逐步推行,农业生产得到大发展,农村开始富裕起来了。

材料三



邓小平为深圳特区题词:“深圳的发展和经验证明,我们建立经济特区的政策是正确的。”

(1)材料一中的“改革开放”是在中国共产党召开的哪次重要会议上提出的?说出会议的主要内容。(6分)

(2)材料二中的改革使农民拥有了什么权利?(3分)

(3)根据材料三回答,改革开放之初,对外开放的主要做法是什么?(3分)

(4)根据上述材料及所学知识,谈谈你对邓小平在改革开放中所起作用的认识。(6分)

18. (21分)某中学历史兴趣小组准备举办一次关于“建设有中国特色社会主义”的成果展览。请你协助完成以下有关资料的收集、整理工作。


展览一:追根溯源

(1)改革开放这一重大战略决策提出于哪一年?(2分)

展览二:领导风采



A



B

(2)要展示“党中央第二代领导集体的核心,改革开放的总设计师”的光辉形象,应选择以上哪幅图片?(2分)

展览三:农村巨变

1958年,几千万人开始大炼钢铁,不仅钢铁厂开足马力、土高炉也遍地开花,到10月底就达到了几百万座。……1958年夏秋之际,各地成立人民公社,公社的一切财产统一核算,统一分配;公社还大办公共食堂,实行吃饭不要钱,“鼓足干劲生产,放开肚皮吃饭”是当时流行的口号。

(3)上述材料反映出党在探索建设社会主义道路中出现了哪些严重失误?(6分)

展览四:开放窗口

特区是个窗口,是技术的窗口,管理的窗口,知识的窗口,也是对外政策的窗口。

(4)1980年,我国决定设置经济特区,并逐步加大对外开放。写出我国全方位对外开放格局形成的步骤。(6分)

展览结语:展望未来

(5)今天,中国的发展已经站在一个新的历史起点。你认为中华民族伟大复兴之路将如何继续?(5分)

第四单元测试卷

测试时间:60分钟 满分:100分

题号	一	二	总分
得分			

一、选择题(本大题共15小题,每小题3分,共45分。在每小题给出的四个选项中,只有一项是最符合题目要求的)

1. 国家统一和民族团结是全国各族人民的共同愿望。下表所示内容,表明新中国解决民族问题的基本国策是 ()

省级民族自治区成立的时间表

地区	名称	成立时间
自 治 区	内蒙古自治区	1947年5月
	新疆维吾尔自治区	1955年10月
	广西壮族自治区	1958年3月
	宁夏回族自治区	1958年10月
	西藏自治区	1965年9月

- A. 民族区域自治制度
B. 民族平等、民族团结和各民族共同繁荣的原则
C. 西部大开发
D. 尊重少数民族的宗教信仰

2. 新中国成立以来,党和政府的下列举措中,推动了西藏社会进步和经济发展的是 ()

①和平解放西藏 ②修建青藏公路 ③在西藏建立经济特区 ④实施西部大开发战略

- A. ①②③ B. ②③④ C. ①②④ D. ①③④

3. 香港媒体在评论中国收回香港时说:“收回香港这篇文章,是邓小平的天才创造。”这里的“天才创造”是指 ()

- A. 维护中华民族的根本利益 B. 尊重历史与现实
C. “一国两制”构想 D. 香港顺利回归

4. 下列地区中,不适宜使用“一国两制”政策的是 ()

- A. 台湾 B. 深圳 C. 澳门 D. 香港

5. 2015年7月1日,是香港特别行政区成立18周年。对“特别行政区”中的“特别”理解正确的是 ()

- A. 政治上不直属中国中央政府管辖 B. 香港断绝与英国的一切政治、经济联系
C. 中国政府不向香港派驻军队 D. 在一个中国的前提下,保持资本主义制度

6. 嘉兴有一位著名大师——金庸。他作为香港特别行政区基本法起草委员会成员,参与基本法的起草,见证了香港回归祖国的场面。香港回归祖国 ()

①结束了英国在香港的殖民统治 ②洗雪了百年国耻 ③是“一国两制”构想的成功实践 ④标志着祖国统一大业的完成

- A. ①②③ B. ②③④ C. ①②④ D. ①③④

7. 林则徐的后裔,曾任我国驻联合国大使的著名外交官凌青曾写诗:“粤海销烟扬我威,但悲港岛易英徽。百年国耻今昭雪,只缘华夏已腾飞。”下列历史场景中,可印证诗中“百年国耻今昭雪”的是 ()

- A. 新中国成立 B. 澳门回归
C. 我国实行改革开放的政策 D. 台湾问题解决

8. 父母在给孩子起名时,往往以当年发生的重大事件为元素,表示具有纪念意义。王师傅的儿子叫“港归”,港归今年(2015年)多大了 ()

- A. 13岁 B. 18岁 C. 16岁 D. 28岁

9. 为纪念香港回归,八年级(5)班要主办学校的一期手抄报。下列图片中,不能选入的是 ()



A. 《南京条约》的签订



B. 邓小平与撒切尔夫人在交谈



C. 中英举行香港政权交接仪式



D. 十一届三中全会

10. 小芳同学整理所学知识时,制成的卡片中含有如下内容:“20世纪80年代,邓小平提出‘一国两制’;1997年7月1日,香港政权交接仪式;1999年12月20日,澳门政权交接仪式。”如果要给卡片拟一个名称,最合适的是 ()

- A. 民族工作成就 B. 外交工作纪事 C. 思想文化成果 D. 祖国统一大业

11. 2014年,是澳门回归祖国15周年,也是广西获得解放65周年。这两地分别是特别行政区和民族自治区,它们的相同点是 ()

- A. 都实行社会主义制度 B. 都是为了实现祖国和平统一而设立的
C. 都实现了“一国两制”的构想 D. 都是中央人民政府管辖下的地方行政区域

12. 2014年10月9日至10日,“海峡两岸中华诗词论坛暨聂绀弩诗词奖颁奖大会”在湖北武汉举行。本次大会主要分为聂绀弩诗词奖颁奖大会、两岸中华诗词论坛学术交流两部分。论坛旨在促进鼓励两岸当代传统诗词创作和诗词评论,推动中华传统诗词的复兴。这反映出海峡两岸 ()

- A. 都是中华民族 B. 有共同的语言 C. 有共同的文字 D. 有共同的传统文化

13. 下列历史事件按其发生的时间先后顺序排列,正确的是 ()

- ①香港回归 ②“一国两制”的提出 ③澳门回归 ④江泽民提出八项建议和主张
A. ①②③④ B. ②④①③ C. ③①②④ D. ①③②④

14. 在电视荧屏上,你经常可以看到台湾艺人的身影:欧弟在主持《天天向上》,林志颖父子出演《爸爸去哪儿》;你也可以看到李宇春等祖国大陆艺人在台湾舞台上靓丽的身影。这主要说明了 ()

- A. 台湾自古以来是中国神圣不可分割的领土
- B. 祖国大陆明星的实力不如台湾明星
- C. 台湾同胞完全赞同“一国两制”
- D. 海峡两岸交流密切

15. 我国《反分裂国家法》中规定:“以和平方式实现祖国统一,最符合台湾海峡两岸同胞的根本利益。”实现中国和平统一的基础和前提是 ()

- A. 坚持一个中国的原则
- B. 坚持社会主义道路的原则
- C. 坚持不使用武力的原则
- D. 坚持反对外国干涉的原则

二、非选择题(本大题共3小题,第16题15分,第17题24分,第18题16分,共55分)

16. (15分)20世纪以来,中国的国际地位不断发生变化,为了让学生更好地掌握这些内容,张老师组织了一节活动课,请你也参与进来。

首先,张老师出示了三幅图片,用来反映不同时期中国的国际地位。



图1 《南京条约》签字仪式 图2 香港回归交接仪式 图3 澳门回归交接仪式

接着,张老师请同学们分析材料,同学们得出了以下结论:

- A. 中国开始沦为半殖民地半封建社会,国际地位非常低下。
- B. 成功地解决了历史遗留问题,使中国的国际地位大大提高。

(1)请你根据上述结论和所学知识,将表格空白处填写完整。(10分)

历史时期	时间	史实	国际地位(序号)
19世纪40年代	1842年	鸦片战争后,清政府被迫与西方列强签订《南京条约》	
20世纪90年代末		香港回归	
20世纪90年代末	1999年		

(2)通过以上探究,你能从中得到哪些启示?(5分)

17. (24分)阅读下列材料,回答问题。

材料一 两岸关系和平发展是两岸同胞顺应历史潮流作出的共同选择。只要我们都从“两岸一家亲”的理念出发,将心比心,以诚相待,就没有什么心结不能化解,没有什么困难不能克服。两岸关系和平发展大局稳定,经得起风浪考验。两岸关系风风雨雨几十年,总体趋势是向前发展的,这是历史的必然。和平发展是两岸同胞的共同追求,两岸共享其利、同受其惠。我们推动两岸关系和平发展的方针政策不会改变,促进两岸交流合作、互利

共赢的务实举措不会放弃,团结台湾同胞共同奋斗的真诚热情不会减弱,制止“台独”分裂图谋的坚强意志不会动摇。我们真诚希望台湾社会安定、经济发展、民生改善,台湾同胞过上安宁幸福的生活。

材料二



回祖国大陆探亲的台湾同胞登上长城

分别50载姐弟喜相逢

(1)当前,我国政府解决台湾问题的“方针政策”是什么?(4分)

(2)为推动两岸和平发展,材料一中提出了哪些主张?结合当前海峡两岸的形势,简要谈谈发展两岸关系的现实意义。(10分)

(3)从材料二的两幅图中,你感受到了什么?(5分)

(4)作为新世纪的主人,为了促进祖国统一,请你提出一些好的建议。(5分)

18. (16分)台湾自古以来就是我国神圣领土不可分割的一部分,曾经历多次分裂和统一,实现祖国统一是两岸人民的共同心愿。结合所学知识,完成下列问题。

(1)新时期,为解决台湾问题,邓小平提出了什么伟大构想?(3分)

(2)新构想的成功实践有哪些?(4分)

(3)最终海峡两岸发展的趋势如何?(4分)

(4)“海峡两岸同一脉,合作交流共受益”。请你结合史实,展望海峡两岸关系发展的美好前景。(5分)

第五单元测试卷

测试时间:60分钟 满分:100分

题号	一	二	总分
得分			

一、**选择题**(本大题共15小题,每小题3分,共45分。在每小题给出的四个选项中,只有一项是最符合题目要求的)

1. 近代以来,西方列强凭借坚船利炮,对中国发动了一次次的侵略战争,给中华民族带来了深重的灾难。历史证明:要维护国家独立和民族尊严,必须拥有强大的国防力量。中国人民解放军第一支海军建立于 ()

- A. 1949年 B. 1951年 C. 1952年 D. 1953年

2. 从人民海军和空军的建立、“两弹一星”的成功研制、第二炮兵的组建等内容中,提炼出一个学习主题,其名称应是 ()

- A. 中国的工业化历程 B. 近代的科学技术和文化
C. 新中国的国防建设 D. 现代的社会生活

3. 1954年12月,缅甸总理吴努应周恩来总理邀请回访中国时表示:“中国好比大象,缅甸好比羔羊,大象发怒,无疑会使羔羊常常提心吊胆……很坦率地讲,我们对中国很恐惧。但是周恩来访问缅甸后,大大消除了缅甸人的这种恐惧。”缅甸人消除这种恐惧的主要原因是 ()

- A. 中国取得抗美援朝战争的胜利 B. 中国提出和平共处五项原则
C. 中国恢复了在联合国的合法席位 D. 中美关系由对抗开始走向正常化

4. 和平共处五项原则已经成为处理国与国之间关系的基本准则。下列属于其内容的是 ()

- ①互相尊重领土主权 ②互不侵犯 ③互不干涉内政 ④平等互惠 ⑤和平共处
⑥求同存异
A. ①②③④⑤ B. ②③④⑤⑥ C. ①②③④⑥ D. ①②③⑤⑥

5. “中国代表团是来求团结而不是来吵架的。我们是来求同的,而不是来立异的。”周恩来说这段话是在 ()

- A. 1954年访问缅甸时 B. 出席万隆会议时
C. 出席联合国大会时 D. 1971年会见基辛格时

6. 20世纪50年代,我国提出的外交方针、原则至今仍富有生命力并被广泛运用的是 ()

- ①“求同存异”的方针 ②“一边倒” ③和平共处五项原则 ④发展与第三世界国家的友好合作关系
A. ①② B. ①③ C. ②③ D. ③④

7. 20世纪70年代,恢复中华人民共和国政府在联合国的一切合法权利的会议是 ()

- A. 第24届联合国大会 B. 第25届联合国大会
C. 第26届联合国大会 D. 第27届联合国大会

8. 20世纪中后期,有一位美国在联合国的代表就一件大事发表感慨:“这是联合国历史上的转折点。”结合下图判断,这个“转折点”是 ()

- A. 万隆会议召开
C. 中日建立外交关系

- B. 中国在联合国的合法席位得到恢复
D. 中美建立外交关系



第8题图



第9题图

9. 上右图漫画名为《眼疾》。漫画中,站着的医生说:“难道你连六亿人口的中华人民共和国也看不见吗?”坐着的美国国务卿杜勒斯回答:“我看不见。我只能看见蒋介石。”漫画表明 ()

- A. 杜勒斯不承认新中国 B. 内战中美国支持国民党
C. 杜勒斯确实有眼疾 D. 美国支持蒋介石抗战

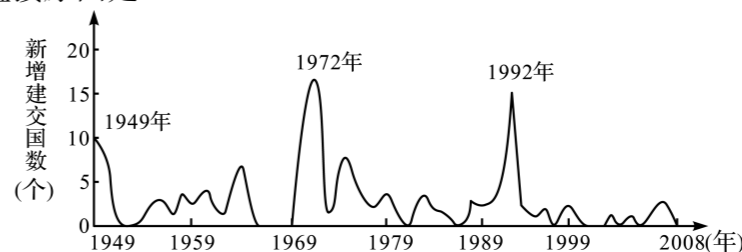
10. 尼克松在回忆1972年访华时说:“当我们的手相握时,一个时代结束了,另一个时代开始了。”尼克松所说的“另一个时代”开始的标志是签署了 ()

- A. 《中美友好通商航海条约》 B. 《中美联合公报》
C. 《中美建交公报》 D. 《中美八一七联合公报》

11. 新中国成立以来,我国的外交事业取得了诸多成就。下列属于我国20世纪70年代外交成就的是 ()

- ①和平共处五项原则的提出 ②推动万隆会议圆满成功 ③中国恢复在联合国的合法席位 ④中美建交
A. ①② B. ②③ C. ①④ D. ③④

12. 下图是1949—2008年中国与外国建交状况曲线图。其中,20世纪70年代出现第二次建交高峰的直接原因是 ()



- A. 和平共处五项原则的提出 B. 中美关系的改善
C. 抗美援朝战争的胜利 D. 苏联解体

13. 上课的时候,老师出示了右图的图板。右图图板中的内容与下列哪个历史事件有关 ()

- A. 万隆会议
B. 第26届联合国大会
C. 中美建交
D. 亚太经合组织领导人非正式会议

2001 《上海共识》 江泽民
中国举办最高规格的外交活动

14. 八年级(1)班本月负责学校文化长廊的黑板报设计,他们选定的主题是“外交事业的发展”,并拟定了如下四个标题,不恰当的是 ()

- A. 创设经济特区
B. 中国在联合国合法席位的恢复
C. 中美建交
D. 亚太经济合作组织领导人非正式会议的召开

15. 新中国建立后,我国在外交方面取得了一系列重要成就。按时间先后顺序排列,正确的是 ()

- ①出席亚非会议 ②《中美联合公报》的签署 ③重返联合国 ④亚太经合组织会议召开
- A. ①②③④ B. ②③①④ C. ③④②① D. ①③②④

二、非选择题(本大题共3小题,第16题24分,第17题17分,第18题14分,共55分)

16. (24分)从近代中国的屈辱外交到新中国既充满艰辛又闪耀着智慧的外交,新中国外交取得了一系列重大成就,既赢得了世界各国的尊重,又有利于中国在国际事务中发挥更大作用。看下面的图片,结合所学知识,回答下列问题。



图1 周恩来出席亚非会议 图2 乔的笑 图3 中英香港政权交接仪式 图4 各经济体领导人在上海科技馆前

(1)1955年,在亚非会议上,周恩来提出的“改变了会议的航向”的方针及作用是什么?(6分)

(2)图2中的现象出现在哪一年?这一现象有何意义?(5分)

(3)图3反映的事件是邓小平哪一创造性构想的成功实践?(3分)

(4)图4中身着唐装的各经济体领导人参加的是哪个组织的会议?(3分)

(5)综合上面的图可看出,新中国成立以来,我国以崭新的外交形象活跃在世界舞台,取得了辉煌的外交成就。我国取得辉煌的外交成就的原因是什么?(7分)

17. (17分)阅读下列材料,回答问题。

材料一 周恩来健步走上讲台,平静地说,“中国代表团是来求团结而不是来吵架的”“中国代表团是来求同而不是来立异的”“从解除殖民主义痛苦和灾难中去找共同基础,我们就很容易互相了解和尊重、互相同情和支持”……全场爆发出热烈的掌声。印度尼西亚、印度、缅甸三国总理等纷纷离座,争相同周总理握手。就连之前态度一直非常强硬的菲律宾外长罗慕洛都高度评价周总理的讲话是“出色的、和解的,表示了民主精神”。

材料二



美国总统尼克松访华

材料三 1971年7月,尼克松在堪萨斯城发表演说,指出:当今世界上有美国、西欧、苏联、大陆中国、日本五大力量中心。他在对外政策报告中说:“中国人是一个伟大的生气勃勃的民族……如果没有这个拥有7亿多人民的国家出力量,要建立稳定持久的国际秩序是不可想象的。”

(1)据材料一思考,周恩来总理参加的是哪次国际会议?中国在这次会议上起到了什么作用?(6分)

(2)据材料二,结合所学知识思考,尼克松访华产生的影响是什么?(4分)

(3)综合上述材料,结合所学知识分析,旧中国外交失败,新中国的外交则取得巨大成功,其决定性因素是什么?(7分)

18. (14分)中共“十八大”以来,我国领导人多次出访世界各地,向世界传递了一个负责任大国的气度和胸怀,国际地位不断提高。阅读下列材料,回答问题。

材料一 中国的反动分子在外交上一贯是神经衰弱怕帝国主义的。清朝的慈禧太后、北洋政府的袁世凯,哪个不是跪在地上办外交的呢?

——《周恩来传》

材料二 20世纪50年代,新中国积极同邻近国家和新兴独立国家发展友好关系,参加了一系列外交活动并产生了积极的影响,国际政治舞台上开始有了“中国声音”,中国的国际地位大大提高。

材料三 20世纪70年代,我国外交取得了显著成就:1971年,中华人民共和国开始以新的角色登上国际政治舞台;70年代,我国与西方许多国家建立了外交关系,如日本、美国、意大利、加拿大、联邦德国、澳大利亚、英国等。

材料四 改革开放以后,特别是90年代以来,中国政府积极参加国际及区域性组织,在双边与多边外交领域内取得了一系列重大成就。

(1)据材料一,指出中国近代外交的特征。(3分)

(2)结合所学知识思考,材料二中国际舞台上的“中国声音”主要是指什么?(5分)

(3)材料三中,“中华人民共和国开始以新的角色登上国际政治舞台”指什么?(3分)

(4)我国在21世纪初加入了哪一国际经济组织?(3分)

月考卷二

测试时间:60分钟 满分:100分

题号	一	二	总分
得分			

一、选择题(本大题共15小题,每小题3分,共45分。在每小题给出的四个选项中,只有一项是最符合题目要求的)

1. 奥运会上,鲜艳的五星红旗一次次在雄壮的《义勇军进行曲》声中升起五星红旗。《义勇军进行曲》被确立为代国歌的会议是 ()

- A. 第一届中国人民政治协商会议 B. 中央人民政府委员会第一次全体会议
C. 第一届全国人民代表大会 D. 中国共产党第一次全国代表大会

2. 右图是小明制作的一张知识卡片,请你帮他完成 ()

时间:1951年
事件: _____
意义:标志着祖国大陆获得统一。

- A. 南京解放 B. 北平和平解放
C. 西藏和平解放 D. 抗美援朝

3. 在抗美援朝战争中,视纪律重于生命,在烈火中永生的战斗英雄是 ()

- A. 黄继光 B. 董存瑞 C. 邱少云 D. 罗盛教

4. 我国改变工业落后的面貌,独立的工业化体系初步建立的标志性事件是 ()

- A. 1952年土地改革的完成 B. 1953—1957年“一五”计划的完成
C. 新中国的成立 D. 1958年“大跃进”运动的开展

5. 第一届全国人民代表大会的最大成果是 ()

- A. 颁布了《共同纲领》 B. 提出了和平共处五项原则
C. 通过了《中华人民共和国宪法》 D. 社会主义改造基本完成

6. 我国初步建立起社会主义制度,进入社会主义初级阶段的标志是 ()

- A. 中华人民共和国的成立 B. 第一部宪法的颁布
C. 第一个五年计划的完成 D. 三大改造的基本完成

7. 下列人物中,为我国科技强军作出杰出贡献的是 ()

- A. 焦裕禄 B. 王进喜 C. 袁隆平 D. 邓稼先

8. 以毛泽东为代表的共产党人开创了革命的正确道路;1978年以后,以邓小平为代表的共产党人开创了中国特色社会主义道路。两者的根本共同点是 ()

- A. 坚持中国共产党的领导 B. 坚持社会主义方向
C. 坚持从中国的国情出发 D. 坚持民主集中制

9. 右图所示的是1978年12月一次重要会议的公报,其主要内容应是 ()

- A. 颁布《中华人民共和国宪法》



- B. 确定社会主义建设总路线
C. 作出改革开放的伟大决策
D. 确定邓小平理论为党的指导思想

10. 既是中国近代第一批被迫开放的通商口岸,又是改革开放时期的经济特区的是 ()

- A. 厦门 B. 福州 C. 广州 D. 南京

11. 改革开放以来,中国社会发展迅速,GDP对世界的贡献从1%提高到9%,国际影响力日增。下列成就中,不属于改革开放新时期的是 ()

- A. 重返联合国
B. 初步建立起中国特色社会主义法律体系的框架
C. 祖国统一大业取得重大进展
D. 《中华人民共和国义务教育法》的颁布

12. 英国首相撒切尔夫人说:“中国领导人提出的一个富有力量的国家两种制度的概念是富有想象力的。”这个“富有想象力”的中国领导人是 ()

- A. 毛泽东 B. 邓小平 C. 江泽民 D. 胡锦涛

13. 《剑桥中华人民共和国史》评论说,在1955年的一次国际会议上,“周恩来利用了他个人的巨大魅力和外交机敏,逐渐减弱了那些怀疑中国或怀疑共产主义的领导人的敌对情绪。”这次会议是 ()

- A. 万隆会议 B. 日内瓦会议
C. 第26届联合国大会 D. 第九届亚太经合组织会议

14. 2014年是周恩来总理去世38周年,某校八年级学生要办一次周恩来外交风云的演讲比赛。下列内容中,可以入选并作为题材的是 ()

①历史转折——西安事变时的周恩来 ②争取和平——周恩来赴重庆谈判 ③英明睿智——提出和平共处五项原则的周恩来 ④中美建交——周恩来接见尼克松

- A. ①② B. ②③ C. ③④ D. ②④

15. 1969年,美国总统尼克松说:“十年后,到中国核武器方面取得了重大进展的时候,我们就没有选择的余地了。”“十年后”,中美之间发生的重大事件是 ()

- A. 基辛格秘密访问中国 B. 中美签署《中美联合公报》
C. 尼克松访华 D. 中美正式建立外交关系

二、非选择题(本大题共3小题,第16题22分,第17题15分,第18题18分,共55分)

16. (22分)看图,回答问题。



图1 1954年6月访问印度、缅甸



图2 1955年4月在万隆



图3



图4 乔冠华大笑