

根据最新审定教材编写

GDR



# 导学案

《导学案》编委会 编著

## 地理

八年级（上）



四川大学出版社

根据最新审定教材编写

GDR



# 导学案

《导学案》编委会 编著

## 地理

八年级（上）

DAO  
XUE  
AN



四川大学出版社

责任编辑:梁平  
责任校对:史香玲  
封面设计:墨创文化  
责任印制:王炜

### 图书在版编目(CIP)数据

导学案. 地理八年级. 上 / 《导学案》编委会编著.  
—成都: 四川大学出版社, 2017. 5  
ISBN 978-7-5690-0585-1

I. ①导… II. ①导… III. ①中学地理课—初中—教  
学参考资料 IV. ①G634

中国版本图书馆CIP数据核字(2017)第104004号

### 书名 导学案·地理八年级(上)

---

编 著 《导学案》编委会  
出 版 四川大学出版社  
地 址 成都市一环路南一段24号(610065)  
发 行 四川大学出版社  
书 号 ISBN 978-7-5690-0585-1  
印 刷 四川胜翔数码印务设计有限公司  
成品尺寸 210 mm×297 mm  
印 张 18  
字 数 532千字  
版 次 2017年8月第1版  
印 次 2017年8月第1次印刷  
定 价 54.00元



◆本社图书如有印装质量问题,请  
寄回印刷厂调换。

---

版权所有◆侵权必究

# 目 录

CONTENTS



<b>第一章 中国的疆域和人口</b>	
第一节 位置和疆域 .....	2
第一课时 优越的地理位置 疆域辽阔 海陆兼备 .....	2
第二课时 三级行政区域 .....	12
第二节 人口和民族 .....	22
第一课时 世界人口大国 .....	22
第二课时 56 个民族是一家 华侨华人共亲情 .....	30
第一章综合整理 .....	40
<b>第二章 中国的自然环境</b>	
第一节 地形 .....	44
第二节 气候 .....	57
第一课时 气候类型复杂多样 .....	57
第二课时 季风气候显著 我国的灾害性天气 .....	67
第三节 河流 .....	78
第一课时 我国的河湖概况 .....	78
第二课时 中华民族的母亲河——黄河 .....	86
第三课时 我国最大的河流——长江 .....	95
第二章综合整理 .....	104
<b>第三章 中国的自然资源</b>	
第一节 自然资源概况 .....	110
第二节 土地资源 .....	121
第三节 水资源 .....	131
第一课时 水资源概况 空间分布差异显著 不同季节变化明显 .....	131
第二课时 保护水资源从我做起 .....	142
第四节 海洋资源 .....	151
第三章综合整理 .....	161
<b>第四章 中国的经济与文化</b>	
第一节 农业 .....	166
第二节 工业 .....	182
第三节 交通运输业 .....	198
第一课时 铁路运输 公路和航空运输 水上运输 .....	198
第二课时 选择不同的交通运输方式 .....	208
第四节 民俗与旅游 .....	215
第四章综合整理 .....	224
正文参考答案 .....	229
测试卷参考答案 .....	246

## 同步测试卷

第一单元测试卷 .....	1
第二单元测试卷 .....	5
期中测试卷 .....	9
第三单元测试卷 .....	13
第四单元测试卷 .....	17
期末测试卷 (一) .....	21
期末测试卷 (二) .....	25

# 第一章

## 中国的疆域和人口

### 单元概览

本章是八年级地理的第一章,是对我国地理背景和基本国情的宏观介绍。共分为两节,第一节讲述了我国的位置、疆域、行政区划,第二节讲述了我国的人口、民族等知识。这种设计旨在让我们初步了解我国的位置、疆域、行政区划以及人口、民族等方面的基本国情。本章作为中国地理的开篇,难度不大,是学习其他章节的基础。本章的学习不仅使我们认识我国的自然地理环境特征和人文地理环境特征,也使我们认识人类活动与地理环境的关系,树立人地和谐观念,更是进行爱国主义教育、人口教育、民族团结教育的素材。

### 学习目标

1. 运用地图说出我国的地理位置及其特点。
2. 记住我国的领土面积,在地图上指出我国的邻国和濒临的海洋,认识我国既是陆地大国,也是海洋大国。
3. 在我国行政区图上准确找出 34 个省级行政区域单位,记住它们的简称和行政中心。
4. 运用有关数据说明我国人口增长趋势,理解我国的人口国策。
5. 运用中国人口分布图描述我国人口的分布特点。
6. 运用中国民族分布图说出我国民族的分布特征。

### 要点简介

- |    |  |
|----|--|
| 重点 | <ol style="list-style-type: none"><li>1. 我国的经纬度位置、海陆位置的特点及其优越性。</li><li>2. 我国 34 个省级行政区域的名称、简称、轮廓、位置和行政中心。</li><li>3. 我国的人口增长特点、分布特点及人口政策。</li><li>4. 我国民族的分布特征。</li></ol> |
| 难点 | <ol style="list-style-type: none"><li>1. 我国地理位置优越性的表现。</li><li>2. 我国 34 个省级行政区域的名称、简称、轮廓、位置和行政中心。</li><li>3. 我国的人口问题及人口政策。</li></ol>                                       |

### 学法指导

1. 本章设计我国的空间位置,训练学生从纬度位置、海陆位置来描述一个国家的地理位置,学习用四至点的方法界定一个国家的疆域。
2. 通过开展我国省级行政区域单位拼图活动,让学生观察、体验和学习多种记忆方式,掌握相关的知识,并加深对祖国的认识。
3. 学生通过绘制人口统计图和计算等活动,培养信息转换和处理能力。
4. 学生通过收集计划生育标语,观察身份证号码、邮政编码、汽车牌照等,培养观察能力和关心社会事物的意识。
5. 充分利用教材插图养成读图的习惯。

## 第一节 位置和疆域

### 第一课时 优越的地理位置 疆域辽阔 海陆兼备

#### 第1版块 自主学习导学

##### 目标导引

1. 通过观察地球仪及阅读地图,能说出我国的纬度和海陆位置,并能正确表述我国地理位置的优越性。
2. 能在中国疆域图上填注出我国的四至点,濒临的海洋,主要岛屿、海峡,陆上邻国和隔海相望的国家。

##### 挑战新知

##### 一、优越的地理位置

1. 从海陆位置看,我们伟大的祖国位于亚欧大陆的\_\_\_\_\_部,太平洋的\_\_\_\_\_岸。
2. 从纬度位置看,我国领土南北跨度大,大部分位于\_\_\_\_\_半球的\_\_\_\_\_纬度地区。

##### 二、疆域辽阔 海陆兼备

1. 我国有辽阔的疆域,陆地总面积约\_\_\_\_\_万平方千米,居世界第\_\_\_\_\_位。
2. 我国领土的最北端在漠河以北黑龙江主航道的中心处,最南端在南沙群岛的\_\_\_\_\_,最东端在黑龙江与乌苏里江的主航道汇合处,最西端在新疆的\_\_\_\_\_上。
3. 我国陆地国界线长 2.2 万多千米,有\_\_\_\_\_个国家与我国接壤。我国大陆海岸线长达 1.8 万多千米,岛屿岸线 1.4 万多千米,是世界上海岸线最长的国家之一,有\_\_\_\_\_个国家与我国隔海相望。
4. 我国海域分布有台湾岛、海南岛、舟山群岛、南海诸岛等,\_\_\_\_\_是我国最大的岛屿。

##### 初步体验

1. “中国位于亚欧大陆东部,太平洋西岸”描述的是 ( )  
A. 半球位置      B. 相关位置      C. 纬度位置      D. 海陆位置
2. 我国适宜人居和农业等生产活动,是因为我们大部分地区属于 ( )  
A. 北寒带      B. 北温带      C. 亚热带      D. 热带
3. 我国领土最南端在 ( )  
A. 新疆帕米尔高原上      B. 漠河以北黑龙江主航道中心线上  
C. 南沙群岛的曾母暗沙      D. 黑龙江与乌苏里江交汇处
4. 下列海洋中属于我国内海的是 ( )  
A. 渤海 琼州海峡      B. 渤海 黄海  
C. 黄海 琼州海峡      D. 渤海 南海

## 第2版块 课堂学习导学

## 要点精析

## 要点一 优越的地理环境

一个地区或国家的地理位置,通常可以从半球位置、经纬度位置、海陆位置、相对位置等方面进行描述。

## 1. 地理位置的特点

(1)半球位置:中国位于北半球,东半球。

赤道是南、北半球的分界线,我国位于赤道以北,所以,位于北半球。 $20^{\circ}\text{W}$ 和 $160^{\circ}\text{E}$ 经线组成的经线圈是东、西半球的分界线,我国位于 $20^{\circ}\text{W}$ 以东, $160^{\circ}\text{E}$ 以西,所以我国位于东半球。

(2)纬度位置:我国领土南北跨度大,北到 $53^{\circ}\text{N}$ ,南到 $4^{\circ}\text{N}$ 附近,大部分位于北半球中纬度地区,大部分位于北温带,南部部分地区位于热带,没有寒带。

(3)海陆位置:我国位于亚欧大陆东部,太平洋西岸。不仅陆地上与许多国家接壤,而且海域广阔,有众多的岛屿和港湾。

## 2. 地理位置的优越性

## (1) 纬度位置的优越性

一方面,我国大部分领土位于北温带,北回归线穿过我国南部,南部少量地区位于热带,没有寒带,热量条件好,适合动植物生长。另一个方面,我国领土南北跨纬度广,南北气候差异大,适宜发展多种经营。

## (2) 海陆位置的优越性

①海陆兼备的地理位置,有利于同陆上邻国的联系和海外各国的交往。

②我国是一个临海国,东部多港湾,海上交通便利,有利于发展海洋事业。

③东部濒临太平洋,来自海洋的湿润气流给陆地带来丰沛的降水,有利于发展农业生产。

## 相关链接

## 国家或地区地理位置的分析方法

一个国家或地区的地理位置,一般从半球位置、经纬度位置、海陆位置、相对位置等方面进行描述。半球位置又往往根据经纬度位置来判定。

1. 经纬度位置:从经度位置可以判断所在的东、西半球位置,从纬度位置可以判断所在的南、北半球位置,判断所属的纬度带和温度带。

2. 海陆位置:判断一个地区或国家所在的大陆或濒临的海洋。

3. 相对位置:是一个地区或国家相对于其他地理事物的位置,一般从相邻的国家、地区,以及其他地理事物的位置关系等方面分析。

## 典例精解

【例1】小明对中国地理位置的描述中,正确的是

( )

A. 位于西半球、北半球

B. 大部分位于北温带,少部分位于热带和寒带



- C. 位于亚洲西部,太平洋东岸  
D. 从亚洲地理分区来讲,中国属于东亚地区

**解析:**本题考查我国的地理位置。从东西半球看,我国位于东半球;从南北半球看,我国位于北半球;领土南北跨纬度广,大部分位于中纬度地区,属北温带,南部少数地区位于北回归线以南的热带,没有寒带;从海陆位置看,位于亚洲东部,太平洋的西岸;从亚洲地理分区来看,中国属于东亚地区。

**答案:**D

**【例2】**我国地理位置的优越性主要表现在 ( )

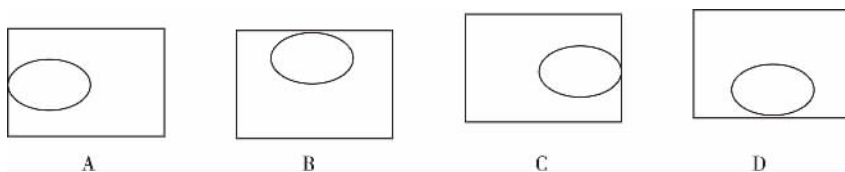
- A. 我国领土地跨热带、温带和寒带,利于发展多种经营  
B. 各地都能受到夏季风的影响,雨量充沛  
C. 东部地区受海洋影响较大,洪涝灾害频繁  
D. 我国海岸线漫长,利于海洋资源的开发利用和发展海外贸易

**解析:**本题考查我国的地理位置的优越性。我国大部分位于北温带,南部部分地区位于热带,没有地区位于寒带。东部地区在夏季来自海洋湿润气流的影响下,降水充沛,有利于农业生产。我国海岸线漫长,海上交通便利,利于发展海洋事业和与海外各国进行交往。

**答案:**D

### 对应练习

1. 我国的地理位置可以形象地用“背陆面海”来描述,这是因为我国位于 ( )  
A. 亚欧大陆西部、大西洋东岸  
B. 亚欧大陆南部、印度洋东岸  
C. 亚欧大陆南部、印度洋北岸  
D. 亚欧大陆东部、太平洋西岸
2. 下图中长方形代表亚欧大陆,圆圈代表中国,能正确反映中国位置的是 ( )



3. 我国领土大部分位于五带中的 ( )  
A. 热带  
B. 南温带  
C. 北温带  
D. 北寒带

### 知识拓展

#### 内陆国、临海国和岛国

世界上的国家,从地理位置上看可分为内陆国、临海国和岛国三种类型。

**内陆国:**指没有海岸线的国家,即被周围邻国陆地领土所包围的国家,又称陆锁国,如蒙古、老挝。

**临海国:**指毗邻海洋,有海岸线,也有大陆国界线的国家,如中国。

**岛国:**指一个国家的四周皆邻靠海洋,整个国土完全位于岛屿之上的国家,如日本。

### 要点二 疆域辽阔 海陆兼备

我国有辽阔的疆域,是一个海陆兼备的国家。

#### 1. 陆地大国

##### (1) 陆地领土面积

我国陆地总面积约 960 万平方千米,约占亚洲陆地总面积的 1/4,世界陆地总面积的 1/5,仅次于俄罗斯、加拿大,居世界第三位。

##### (2) 我国领土四端

最北端:漠河以北黑龙江主航道的中心处。

最南端:南沙群岛的曾母暗沙。

最东端:黑龙江与乌苏里江的主航道汇合处。

最西端:新疆的帕米尔高原。

### (3) 陆地国界线与邻国

我国陆上国界线长达 2.2 万多千米,有 14 个国家与我国接壤。分别是朝鲜、俄罗斯、蒙古、哈萨克斯坦、吉尔吉斯斯坦、塔吉克斯坦、阿富汗、巴基斯坦、印度、尼泊尔、不丹、缅甸、老挝、越南。

## 2. 海洋大国

我国大陆海岸线长达 1.8 万多千米,岛屿岸线 1.4 万多千米,是世界上海岸线最长的国家之一,我国拥有辽阔的海域。

### (1) 濒临的海洋

我国大陆濒临的海洋,从北到南依次为渤海、黄海、东海、南海,台湾岛东岸直接濒临太平洋。

### (2) 内海

内海是指领海基线向内一侧的全部海水,包括:①海湾、海峡、河口湾;②领海基线与海岸之间的海域;③被陆地所包围或通过狭窄水道连接海洋的海域。

渤海和琼州海峡是我国的内海。

### (3) 岛屿

我国海域分布着众多的岛屿,其中面积大于 500 平方米的岛屿有 6500 多个,岛屿总面积约 8 万平方公里,占我国陆地总面积的 0.8%。近海分布有台湾岛、海南岛、舟山群岛、南海诸岛等,台湾岛是我国最大的岛屿。

### (4) 隔海相望的国家

有 6 个国家与我国隔海相望。它们分别是韩国、日本、菲律宾、马来西亚、印度尼西亚、文莱。



中国隔海相望的国家

## 相关链接

### 我国 14 个陆上邻国的记忆

1. 顺口溜记忆法。朝俄蒙哈阿富汗,塔吉巴印尼不丹,缅甸老挝接越南,十四邻国紧相连。
2. 按方位进行记忆。东朝鲜,北俄蒙,西北哈吉塔,西边巴基阿,西南印尼和不丹,南方老缅和越南。

## 典例精解

【例3】下列属于我国陆上邻国的一组国家是

( )

A. 蒙古 日本

B. 俄罗斯 哈萨克斯坦

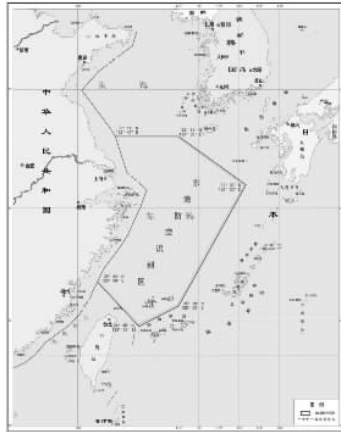
C. 俄罗斯 韩国

D. 朝鲜 菲律宾

**解析:**该题考查了我国的陆上邻国,我国共有 14 个陆上邻国,分别是朝鲜、俄罗斯、蒙古、哈萨克斯坦、吉尔吉斯斯坦、塔吉克斯坦、阿富汗、巴基斯坦、印度、尼泊尔、不丹、缅甸、老挝、越南。

**答案:**B

**【例4】**为了维护海洋权益,2013 年 11 月,国防部宣布划设东海防空识别区。据此回答,下列在东海防空识别区内的岛屿是 ( )



A. 钓鱼岛

B. 冲绳岛

C. 九州岛

D. 宫古列岛

**解析:**本题表面上是考查我国的岛屿,实际上是考查学生的读图能力。学生要能从图中读出我国东海防空识别区域的范围,读出冲绳岛、九州岛、宫古列岛在东海防空识别区域的范围之外,钓鱼岛在东海防空识别区域的范围之内。

**答案:**A

### 对应练习

4. 下列关于我国领土四端的叙述中,错误的是 ( )
- A. 最东端在黑龙江与乌苏里江的主航道汇合处  
B. 最北端在漠河以北黑龙江主航道的中心处  
C. 最南端在曾母暗沙,位于南半球  
D. 最西端在新疆的帕米尔高原上
5. 有关我国疆域的数据,不正确的是 ( )
- A. 陆地总面积约 960 万平方千米  
B. 陆地国界线长 2.2 万多千米  
C. 大陆海岸线长达 1.8 万多千米  
D. 有 16 个国家与我国接壤
- 海南省三沙市是目前我国最年轻的地级市,读图完成 6、7 题。



6. 三沙市位于 ( )
- A. 渤海  
B. 黄海  
C. 东海  
D. 南海

7. 与我国隔海相望的国家甲是

( )

A. 越南

B. 菲律宾

C. 老挝

D. 印度尼西亚

### 知识拓展

#### 领海、毗连区、专属经济区

领海是指与海岸平行并具有一定距离宽度的带状海洋水域。临海国的领海范围从领海基线算起,向海上延伸到 12 海里(1 海里=1.852 千米)。

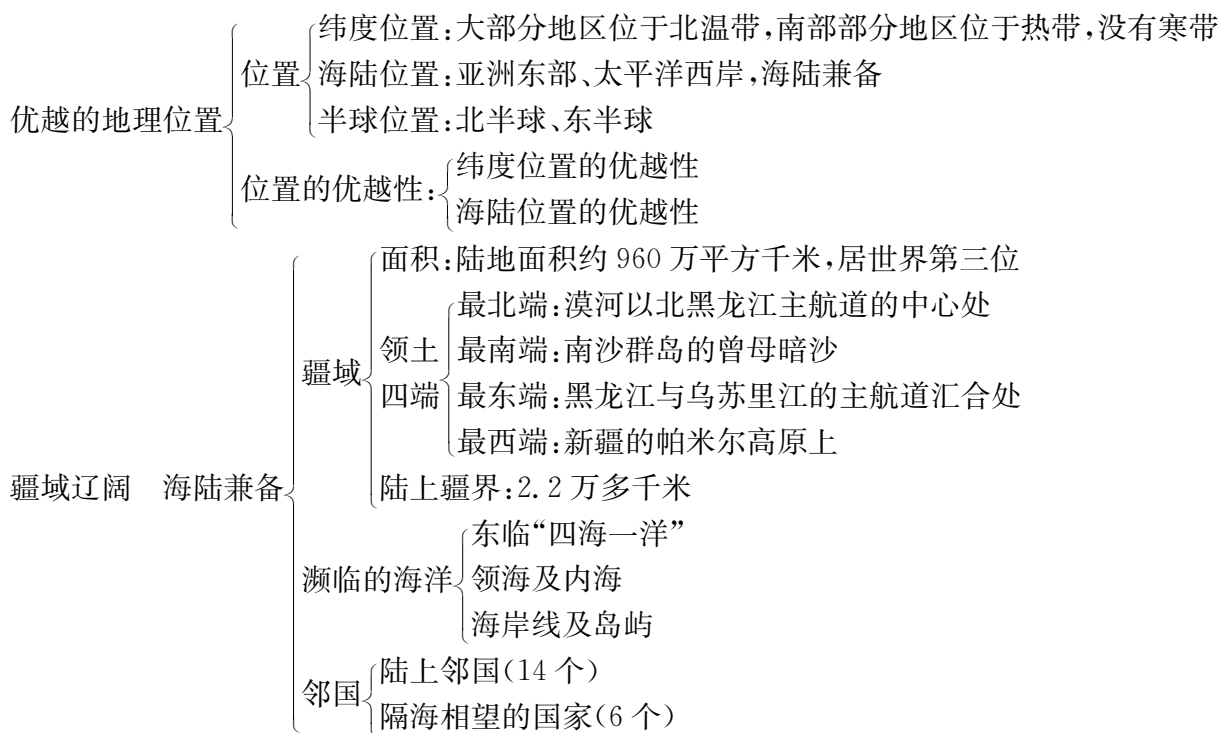


毗连区是领海之外邻接领海的一片海域,宽度一般为 12 海里。

专属经济区是指领海以外并邻接领海的一个区域,专属经济区从测算领海宽度的基线量起,不超过 200 海里(370.4 公里),除去离另一个国家更近的点。

专属经济区:海岸基线往外 200 海里。

### 归纳总结



### 活动探究

#### 1. 教材 P3 活动。

第 1 题,该活动对比了俄罗斯、中国、印度尼西亚三个国家的纬度位置和主要温度带的差异。

**解析:**俄罗斯、中国、印度尼西亚三个国家的纬度位置可以从教材第 2 页“图 1.2 中国在亚洲的位置”图中获取,温度带的判定需要回顾地球上五带的划分,0~南北纬 23°26'为热带,北纬 23°26'~66°34'为北温带,南纬 23°26'~66°34'为南温带,北纬 66°34'~90°为北寒带,南纬 66°34'~90°为南寒带。

答案:

国家	大致纬度位置范围	主要温度带
俄罗斯	41°N~82°N	北温带、北寒带
中国	4°N~53°N	北温带、热带
印度尼西亚	12°S~7°N	热带

第2题,该活动对比了蒙古、中国、日本三个国家的海陆位置差异及海陆位置对降水、交通运输的影响。

**解析:**蒙古、中国、日本三个国家的海陆位置可以从教材P2“图1.2中国在亚洲的位置”图中获取。蒙古地处亚欧大陆内部,是一个内陆国,远离海洋;日本地处太平洋西部,是一个岛国,四面临海,没有陆上邻国,没有与外界进行陆上交往的通道;中国地处亚欧大陆东部,太平洋西岸,是一个海陆兼备的国家。东部沿海多港湾,海上交通便利,有利于发展海洋事业,西部深入亚欧大陆腹地,有利于与西亚、中亚和欧洲国家的对外交往与合作

答案:

国家	海陆位置	对降水的影响	对交通运输的影响
蒙古	亚欧大陆内部,远离海洋	降水少	以陆上交通为主,没有海上交通
中国	亚欧大陆东部,太平洋西岸	沿海地区降水多;远离海洋的地区降水少	临海地区发展海洋运输,内陆地区发展陆上交通
日本	四面临海	降水丰沛	海洋运输事业发达

## 2. 教材 P5 活动。

第1题,该活动需要计算我国所跨的经、纬度度数,并分析这种差异给生产、生活带来的影响。

**解析:**我国领土最东端在黑龙江与乌苏里江的主航道汇合处,约135°E,最西端在新疆帕米尔高原,约73°E,东、西跨经度约62°;最北端在漠河以北黑龙江主航道的中心处,约53°N,最南端在南海群岛的曾母暗沙,约4°N,南、北跨纬度约50°。经度的差异带来中国领土东西端的时间差异,纬度的差异带来中国领土南北部的气候差异。

**答案:**(1)62 50 (2)南北气温差异大,东西降水量差异大,人们生活习惯、生活条件存在明显差异,农业生产类型不同;东部地区海洋运输、陆上运输发达,西部地区以陆上交通为主等。

第2题,该活动通过情景设计,判断我国经纬度差异带来的影响。

**解析:**春节期间,广州的阿鹏早上9点给漠河的明明、帕米尔高原的古丽、三亚的阿勇,乌苏里江畔的琦琦送上问候。猜测漠河的明明在路灯下放鞭炮,错误。猜测帕米尔高原的古丽在睡觉,正确。因为越往东边时刻越早,漠河在广州的东边,阿鹏此时是早上9点,漠河比广州时刻早,此时已是白天,不可能在路灯下放鞭炮。帕米尔高原在广州西边,时间比广州约晚3小时,古丽大约在早上6点,有可能在睡觉。猜测三亚的阿勇在游泳,乌苏里江畔的琦琦在滑雪,正确。因为从纬度位置看三亚属于热带,四季气温高,乌苏里江位于北温带,春节期间正值冬季,气温低于0℃,有积雪。

**答案:**漠河的明明在路灯下放鞭炮,错误,因为此时已经是白天,没有明亮的路灯。帕米尔高原的古丽在睡觉,正确,此时该地天还未亮。三亚的阿勇在游泳,正确,这里天气炎热。乌苏里江畔的琦琦在滑雪,正确,这里天气寒冷。

## 3. 教材 P6 活动。

第 1 题,该活动是在地图上填出我国的领海及两大岛屿。

**解析:**我国领海自北向南依次是渤海、黄海、东海、南海及台湾岛东部的太平洋。台湾岛是我国最大的岛屿,海南岛是我国的第二大岛屿。

**答案:**略。

第 2 题,该活动要求掌握我国的 14 个陆上邻国和 6 个隔海相望的国家。

**解析:**我国的陆上邻国有朝鲜、俄罗斯、蒙古、哈萨克斯坦、吉尔吉斯斯坦、塔吉克斯坦、阿富汗、巴基斯坦、印度、尼泊尔、不丹、缅甸、老挝、越南。隔海相望的国家有印度尼西亚、马来西亚、文莱、菲律宾、日本、韩国。其中朝鲜和越南既与我国陆上相邻又隔海相望。

**答案:**与我国陆上接壤的国家是朝鲜、俄罗斯、蒙古、哈萨克斯坦、吉尔吉斯斯坦、塔吉克斯坦、阿富汗、巴基斯坦、印度、尼泊尔、不丹、缅甸、老挝、越南。

与我国隔海相望的国家是印度尼西亚、马来西亚、文莱、菲律宾、日本、韩国。

## 第 3 版块 能力巩固提升

## 一、选择题

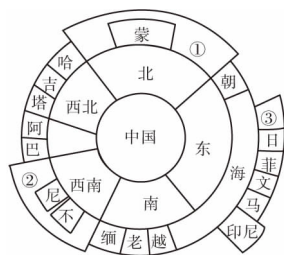
- 下列有关我国地理位置的叙述,正确的是 ( )
  - 位于北半球,在亚洲的东部,西临太平洋
  - 位于东半球,南回归线穿过我国南部
  - 南北跨度很大,大部分地区位于北温带
  - 从半球位置来看,我国位于西半球和北半球
- 我国陆上疆界长,邻国多,从经济角度看有利于发展 ( )
  - 海洋事业
  - 边境贸易
  - 淡水养殖业
  - 种植业
- 家在黑龙江哈尔滨的小明,每天北京时间 7 点就上学了;而在新疆乌鲁木齐的小强,每天北京时间 10 点后才开始上学,这主要是因为 ( )
  - 纬度位置差异
  - 经度位置差异
  - 习惯不同
  - 学校制度不同
- 当黑龙江还是冰天雪地时,海南岛却是农忙时节,造成这种差异的主要原因是 ( )
  - 我国所处纬度高
  - 我国跨纬度大
  - 离海远近不同
  - 地形起伏大
- 电视剧《西游记》的主题曲《敢问路在何方》中唱道:“你挑着担,我牵着马,迎来日出,送走晚霞。”那么我国最早“迎来日出”的地方与最迟“送走晚霞”的地方是 ( )
 

①黑龙江与乌苏里江的主航道汇合处 ②帕米尔高原 ③漠河以北黑龙江主航道的中心处 ④曾母暗沙

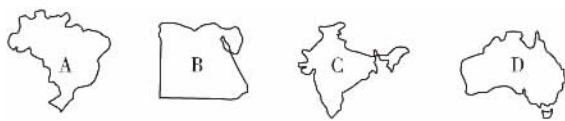
  - ①②
  - ①③
  - ②③
  - ②④
- 在学习我国的海岸线时,乐乐有以下想法。你认为她的想法不正确的是 ( )
  - 乘船到日本看樱花
  - 乘船到亚丁湾拍摄军舰护航的照片
  - 乘船到蒙古旅游
  - 乘船到海口观椰子树
- 我国濒临的海洋中,纬度最高的是 ( )
  - 黄海
  - 南海
  - 东海
  - 渤海



8. 如图为我国的陆上邻国及与我国隔海相望的国家示意图,数字①②③代表的国家分别是 ( )



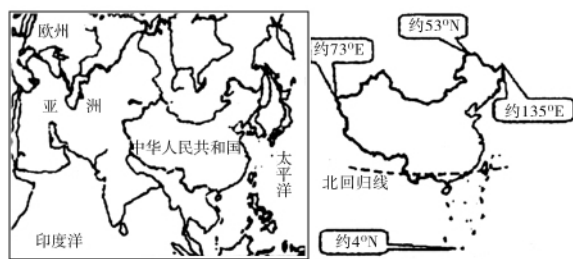
- A. 俄罗斯、印度尼西亚、美国
  - B. 美国、印度、韩国
  - C. 俄罗斯、印度、韩国
  - D. 美国、印度尼西亚、俄罗斯
9. 下列关于我国地理位置和疆域的叙述,正确的是 ( )
- A. 我国领土南北跨度大,大部分位于北温带,没有热带
  - B. 我国东临大西洋,是一个海陆兼备的国家
  - C. 我国陆地领土面积约 960 万平方千米
  - D. 我国最大的岛屿是海南岛
10. 与我国隔海相望的国家是 ( )
- A. 俄罗斯、韩国
  - B. 日本、菲律宾
  - C. 印度、文莱
  - D. 马来西亚、缅甸
11. 读世界四个国家轮廓图,四个国家中,与我国相邻的是 ( )



12. 台湾是我国神圣不可分割的领土,据此回答。
- 我国爱国诗人余光中先生的《乡愁》诗中写到“……而现在,乡愁是一湾浅浅的海峡,我在这头,大陆在那头。”
- 诗中的“海峡”是指 ( )
- A. 渤海海峡
  - B. 琼州海峡
  - C. 朝鲜海峡
  - D. 台湾海峡

**二、非选择题**

13. 我国幅员辽阔,地理位置优越,读图,完成下列问题。

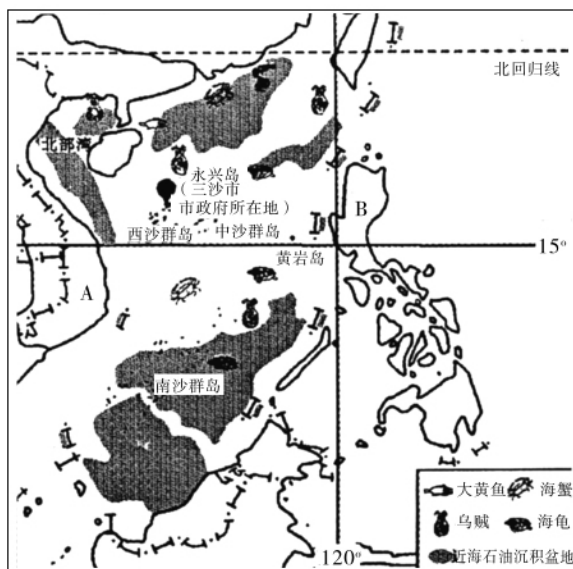


- (1) 从海陆位置来看,我国位于亚欧大陆 \_\_\_\_\_ 部,太平洋 \_\_\_\_\_ 岸。
- (2) 我国濒临的四个海中属于内海的是 \_\_\_\_\_ 海,最南面的是 \_\_\_\_\_ 海。
- (3) 我国陆地面积约 \_\_\_\_\_ 平方千米。领土最南端和最北端约跨纬度 \_\_\_\_\_ 度。
- (4) 我国的邻国中,面积最大的是 \_\_\_\_\_,人口最多的是 \_\_\_\_\_。

14. 读“中国的疆域”略图,回答下列问题。



- (1)我国最北端位于约 53°N 漠河以北黑龙江主航道中心线处,最南端在约 4°N 南沙群岛的\_\_\_\_\_ ,南北相距 5500 千米。从纬度位置看,我国大部分位于\_\_\_\_\_带、少部分在热带。
- (2)由于我国位于\_\_\_\_\_大陆与\_\_\_\_\_洋之间,巨大的海陆热力差异使大部分地区一年内的风向随季节有显著变化,形成了典型的季风气候。
- (3)与我国隔南海相望的国家有\_\_\_\_\_、\_\_\_\_\_等(写出两个)。
15. 三沙市于 2012 年 6 月 21 日设立,是中国最南端的城市,为海南省第三个地级市,下辖西沙群岛、南沙群岛、中沙群岛的岛礁及其海域。读图回答下列问题:



- (1)三沙市所处的海域是\_\_\_\_\_,所处的温度带是\_\_\_\_\_。
- (2)三沙市人民政府驻地是永兴岛,它位于\_\_\_\_\_ ( )
- A. 西沙群岛                      B. 中沙群岛                      C. 南沙群岛                      D. 舟山群岛
- (3)写出图中字母所代表的我国陆上邻国及与我国隔海相望的国家的名称。
- A. \_\_\_\_\_ B. \_\_\_\_\_
- (4)黄岩岛是我国的固有领土,它位于三沙市政府所在地的\_\_\_\_\_方向。
- (5)长期以来,我国南海海域受到周边国家的非法占有和掠夺。试从资源和交通地位两方面简要分析其原因。

---



---



---

## 第二课时 三级行政区域

## 第1版块 自主学习导学

## 目标导引

1. 结合地图,了解我国现行的三级行政区域划分。
2. 记住全国 34 个省级行政区域单位的名称、位置、轮廓特点、简称和行政中心。

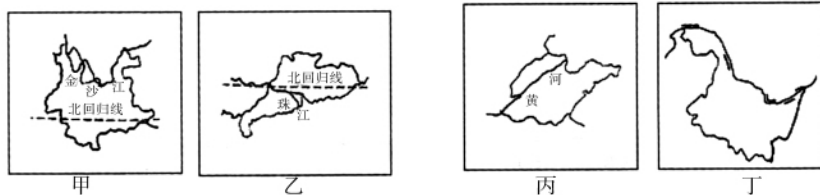
## 挑战新知

1. 我国的行政区域划分是:
  - (1) 全国分为省、\_\_\_\_、直辖市;
  - (2) 省、自治区分为自治州、\_\_\_\_、自治县、市;
  - (3) 县、自治县分为乡、民族乡、镇。
2. 目前,我国划分为 34 个省级行政区域单位,包括 \_\_\_\_\_ 个省、\_\_\_\_\_ 个自治区、\_\_\_\_\_ 个直辖市和 2 个特别行政区。

## 初步体验

1. 我国面积最大和最小的省区是 ( )
  - A. 内蒙古自治区和宁夏回族自治区
  - B. 新疆维吾尔自治区和澳门特别行政区
  - C. 四川省和北京市
  - D. 西藏自治区和上海市
2. 南海诸岛在行政区划上由下列哪个省级行政区管理 ( )
  - A. 台湾省
  - B. 广东省
  - C. 海南省
  - D. 广西壮族自治区

下图为我国四个省级行政区轮廓图,读图回答 3~5 题。



3. 下列四省中,濒临我国内海渤海的省区是 ( )
  - A. 甲省
  - B. 乙省
  - C. 丙省
  - D. 丁省
4. 牌照为“粤 A12345”的小轿车所属的省区是 ( )
  - A. 甲省
  - B. 乙省
  - C. 丙省
  - D. 丁省
5. 我国领土最东端和最北端的省区是 ( )
  - A. 甲
  - B. 乙
  - C. 丙
  - D. 丁

## 第2版块 课堂学习导学

## 要点精析

## 要点三 级行政区域

我国疆域辽阔,为了便于国家对各地进行管理,设立了各级行政区划。

## 1. 我国的行政区域

我国的行政区划分为省、县和乡三级。

- (1)省级行政区:省、自治区、直辖市
- (2)县级行政区:自治州、县、自治县、市
- (3)乡级行政区:乡、民族乡、镇

其中自治区、自治州、自治县都是民族自治地方。各民族自治地方都是:中华人民共和国不可分割的组成部分。

此外,在省级行政区域单位和县级行政区域单位之间,还设立一个行政管理单位——地级市。

我国在香港和澳门还设立了特别行政区。

## 2. 34个省级行政区域的全称、简称和行政中心

目前,我国划分为34个省级行政区域单位,包括23个省、5个自治区、4个直辖市、2个特别行政区。台湾是我国的一个省级行政区域,北京是中华人民共和国首都。

## (1)34个省级行政区的名称

## (2)34个省级行政区的位置

①东北三省:黑龙江、吉林、辽宁。

②黄河中下游四省二市:山西、山东、河北、河南、北京、天津。山西、山东以太行山为界,太行山以西是山西,以东是山东。河北、河南以黄河为界,黄河以北是河北,以南是河南。

③长江流域的七省二市:重庆市、湖北、湖南、安徽、江西、江苏、浙江、上海。

④南部沿海四省三区:广西、广东、澳门、香港、福建、台湾、海南。

⑤西南三省一区:四川、云南、贵州、西藏。

⑥西北五省二区:陕西、甘肃、青海、宁夏、新疆。

北回归线自西向东穿过的省级行政区有:云南省、广西壮族自治区、广东省、台湾省。

## (3)34个省级行政区的简称和行政中心