

责任编辑 范秀娟

封面设计 秘金通

声 明

河南省“扫黄打非”工作领导小组办公室协同河南省财政厅、河南省公安厅、河南省新闻出版局、河南省版权局等五厅局联合制订的《对举报“制黄”、“贩黄”、侵权盗版和其他非法活动有功人员奖励办法》中规定“各级财政部门安排专项经费，用于奖励举报有功人员。”奖励标准为“对于举报有功人员，一般按每案所涉及出版物经营额百分之二以内的奖励金予以奖励。”

此外，大象出版社也郑重承诺：一经执法机关查处和大象出版社认定，对举报非法盗版我社图书的印刷厂、批发商的有功人员给予图书码洋2%的奖励并替举报人保密。

举报电话：0371-65710929（河南省扫黄打非办公室）

800-883-6289，0371-63863536（大象出版社）

与人教版义务教育课程标准

实验教科书配套

七年级历史暑假作业

河南省基础教育教学研究室 编

责任编辑 范秀娟

责任校对 牛志远

大象出版社 出版

（郑州市经七路25号 邮政编码450002）

网址：www.daxiang.cn

河南第一新华印刷厂印刷

新华书店经销

开本 787×1092 1/16 1.5印张 33千字

2003年5月第1版 2006年6月第4次印刷

ISBN 7-5347-2252-7/G·1861

定价 1.50元

若发现印、装质量问题，影响阅读，请与承印厂联系调换。

印厂地址 郑州市经五路12号

邮政编码 450002 电话 (0371)65957860-351

ISBN 7-5347-2252-7



0 1 >



9 787534 722523

暑假寄语

为了在教学过程中深入贯彻课程改革精神,全面开发课程资源,给同学们提供优质高效的学习辅助材料,我室组织编写了这套《暑假作业》。

编写工作按照素质教育的要求,根据《全日制义务教育各科课程标准(实验稿)》和相关版本教材的内容,在复习巩固已有知识、加强基础知识和基本技能训练的同时,注重扩大知识面,培养探究性学习能力。从整套作业的内容安排上看,各册基本与上学期课本的章、节或单元内容相对应。按照“课内知识复习及拓展性训练——社会实践及课外阅读活动——全面培养素质、丰富暑假生活”的思路,设置了“基础知识下载”、“探究能力链接”、“课外资讯浏览”三个栏目,增加了课外学习材料,增强了趣味性。使同学们能够在完成作业的过程中开阔视野,愉悦性情,培养创新精神和实践能力。

“业精于勤荒于嬉”,“温故知新”。暑假是同学们学习征途中的一个驿站,在这个驿站中,同学们在身心得到充分休息的同时,不要忘了给自己加加油、充充电,为再次踏上征途做好准备。暑假又是进行综合实践活动的有利时期。接触社会,接近大自然,进行多种有益于身心的社会实践活动,是假期生活的另一重要内容。因此,我们安排的作业没有把假期排满,不同学科安排的作业量也略有差别。同学们可根据自己的情况灵活安排每天的作业科目和作业量。

暑假,好比是长征路上的短暂休息,休息的目的,是为了更好地积蓄力量,更快地前进。祝同学们假期愉快!祝同学们在新学期中取得更大的进步!

河南省基础教育教学研究室

欢迎订阅《今日英语报》

《今日英语报》，全国优秀出版社——大象出版社主办。她是目前我国惟一一家由教育出版社出版，分年级同步辅导中学英语课程的报纸。国内统一刊号：CN41—0706/(F)

《今日英语报》，每个年级都有自己的一份报纸。她有讲，有练，有导学，更有测试。每期单元测试的听力部分还配有听力磁带，是一种真正的有声辅导读物！

《今日英语报》共分七年级、八年级、九年级、高一、高二、高三六个年级版，每周都各有一期报纸。每学期26期，定价均为13.00元；全学年52期，定价均为26.00元。

每学期每个年级版的听力测试题部分，均配有由外籍专家录制的磁带，分别按中考和高考模式录制，定价均为8.00元/盘。

订阅办法有三种：

1. 直接到当地邮局（所）订阅。无论订阅份数多少，均不加收邮寄费、手续费，且可破季、破月订阅。

邮发代号：

七年级版：35—158；八年级版：35—159；九年级版：35—171

高一版：35—114；高二版：35—115；高三版：35—116

2. 直接汇款至本报订阅。本报常年开设邮购业务。集体或个人错过邮局征订时间者，可直接通过邮局汇款至报社，汇款时请务必在汇款单“附言栏”内注明所订报纸或磁带的年级、期数、数量。款到后，报社将迅速根据您的附言栏里所注明的具体事项按期将报纸或磁带寄发给您。不必另函说明。

注意：（1）按上述方法订报，5份以下者，一学期每份另加邮费2.00元，全学年每份另加4.00元；6份以上者免费邮寄。量大从优，欢迎垂询。

（2）邮购磁带1—2盘者，每盘加收邮费4.00元；3—5盘，每盘加收2.00元；6盘以上免费邮寄。

（3）随时补订，常年邮购，邮局汇款，款到发货。

汇款地址：河南省郑州市经五路66号北四楼413房《今日英语报》

邮编：450002

联系电话：0371—65726194 65856790 65741923（传真）

3. 通过本报社在当地市、县设立的工作机构或联系点订阅。具体事项同上。

本报社欢迎全国各级教育行政部门、教研单位、学校、本报作者、广大教师或其他单位与个人热心宣传本报，大力组订发行本报。欢迎来函、来电联系，咨询联系电话：0371—65726194 65856790 65741923（传真）

8. 长安城内分为坊和市,其中坊是 []
 A. 生产作坊 B. 娱乐场所
 C. 居民住宅区 D. 商业区
9. 我国科举制正式诞生是在 []
 A. 汉朝 B. 北魏 C. 隋朝 D. 唐朝
10. 唐玄宗时,进士科考试的主要内容是 []
 A. 明经 B. 武艺 C. 诗赋 D. 政论

二、填空题

1. 581年,杨坚夺取北周政权,建立_____,定都长安,杨坚就是_____。

2. 大运河以_____为中心,北达_____,南至_____,全长两千多公里,是古代世界最长的运河。

3. 右图人物是_____,他是唐朝的第_____位皇帝,历史上把他的统治称为“_____”。

4. _____是我国历史上惟一的女皇帝,她建立的国号称_____。

5. 唐朝时,南方水稻广泛采用_____的方法栽培;蔬菜的新品种大都是从_____传入的;饮茶之风在_____范围盛行。

6. 陶瓷业在唐朝有很大发展,其中最有名的是越窑的_____的白瓷和_____。

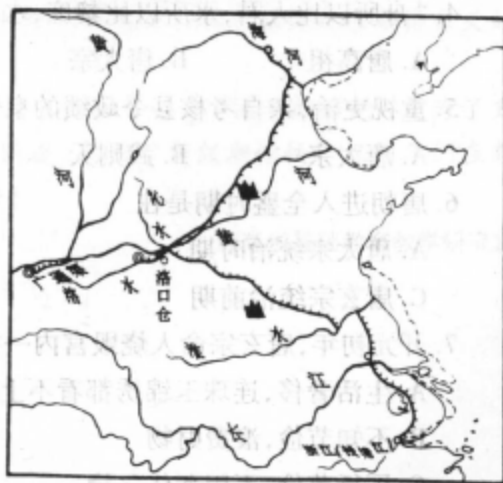
7. 唐朝的商业繁荣,有许多繁华的大都市,最主要的有_____和_____。其中的_____既是当时各民族交往的中心,又是一座国际性的大都市。



三、填图

1. 用不同的色笔在右图中勾画出永济渠、通济渠、邗沟和江南河,并写出它们的名字。

2. 在右图上写出涿郡、余杭、洛阳、长安和江都等地名。





1. 大运河开凿后,历代有不少文人写下了关于大运河的诗词,请你查阅唐诗宋词,找几首摘录下来,看看他们都是如何评价大运河的,再以你自己的观点,仿照某一首诗,写一首关于大运河的诗。

2. 唐太宗、武则天、唐玄宗统治时期,社会都得到了繁荣和发展,总结他们三人采取的措施,找出共同点,并谈谈自己的想法。

3. 请同学们自由组成小组,共同探讨一下筒车的原理,如有条件请试做一个,看其能否把水汲到高处,开学后把自制筒车带到学校展示一下。



4. 查阅资料,上网收集一些唐三彩的图片,或到市场上观察,并了解其烧制过程,写一篇简单的有关唐三彩的说明文。

5. 查阅教材和有关历史资料,了解一下科举制实行前,中国还实行过哪些选官制度(至少说出一种),对比一下说明科举制的实行有什么意义。





茶业生产的兴盛

我国是茶的故乡,是世界上种茶、制茶、饮茶最早的国家。茶最初被当做一种药材,在长期的医药实践中,人们认识到茶不仅可以治病,而且味道清香,可以清热解渴,是一种很好的饮料。西汉时完成了从药用到饮料的过渡,当时已有煮茶、卖茶的记载。东汉著名医学家华佗说:“苦茶久食益意思。”认识到茶对人体能起到兴奋大脑和心脏的作用。三国时江南一带已形成饮茶习惯。《三国志·韦曜传》说:吴国皇帝孙皓,每次宴会都强迫群臣喝酒,每人至少以七升为限。韦曜不会喝酒,孙皓密赐茶给他,允许以茶代酒。说明当时已有了饮茶的习惯。魏晋南北朝时茶被用来招待客人。东晋桓温招待宾客主要用茶果。

唐时南北统一,各地交往密切,饮茶风气从南方传入北方,中唐以后又从中土传往塞外,渐成为各族人民日常生活之必需。黄河流域的关西、山东饮茶之盛到了“累日不食犹得,不得一日无茶”的地步。“上自宫省,下至邑里,茶为食物,无异米盐。”当时一些城市里,已经有了专门卖茶的茶馆。

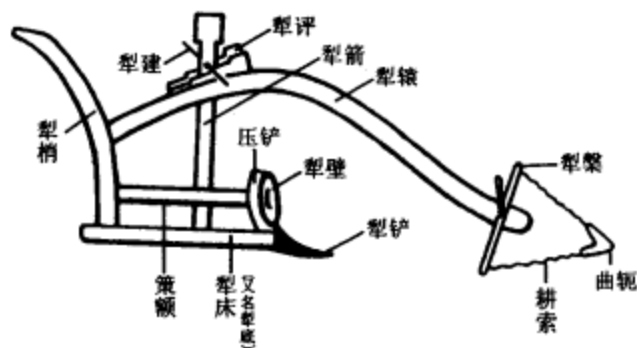
由于茶的需要量大增,刺激了茶的生产 and 贸易,除野生茶树外,大量进行人工栽培。唐时茶叶产地遍及今四川、云南、贵州、广东、广西、福建、浙江、江苏、江西、安徽、湖北、湖南、河南、陕西等省。茶叶生产已是江南农业的重要部门。“江淮之人,什二三以茶为业。”祁门县境甚至“千里之内,业于茶者什七八”(《全唐文》张途《祁门县新修阊门溪记》)。茶树栽培技术和管理方法也有显著进步,茶树种植三年后,每亩鲜茶可收120斤。每到茶叶收获季节,茶产地盛况空前,四远商人纷纷赶来,大量采购。南方的茶叶,通过大运河和陆路大批运往北方,“舟车相继,所在山积,色额甚多”。当时名茶就有二十多种,如蒙顶、石花等。793年唐政府征收茶税,“十税其一”,是年征得茶赋40万缗,约占当年全年收入的1/15,可见茶叶在当时经济中的重要地位。唐朝茶业承前启后,不仅在南北朝的基础上有了迅速发展,而且影响及于世界。从唐朝开始我国的茶叶相继输往世界各国,至今各国语言中茶字语音,无不源出于我国的茶字,可见茶是我们祖先对人类饮料的一大贡献。

曲 辕 犁

生产工具是生产力的一个重要因素,农具的改进以及广泛的采用,对唐朝农业生产的发展起了重要作用。唐以前笨重的长直辕犁,回转困难,耕地费力。农民在长期生产实践中创造出一种轻便的短曲辕犁。陕西三原贞观时期李寿墓壁画上的牛耕图,以及敦煌壁画晚唐时的牛耕图,犁辕都是弯曲的,说明许多地方广泛采用了曲辕犁。晚唐时的陆龟蒙《耒耜经》记载曲辕犁由11个部件构成,重大改进有三处:1.长直辕改成了短曲辕。旧式犁长一般为今9尺左右,前及牛肩,曲辕犁长合今6尺左右,只及牛后。犁架变小重量减



轻,便于回转,操纵灵活,节省畜力。由旧式犁的两牛抬杠变成一牛牵引。2. 增装了犁评,由于犁评厚度逐级下降,推进犁评,使犁箭向下,犁插入地深;拉退犁评,使犁箭向上,犁插入地浅,可适应深耕和浅耕的不同需要。3. 改进了犁壁,唐时犁壁呈圆形,因此又称犁镜。犁壁可将翻起的土推到一旁减少前进的阻力,而且能翻覆土块,以断绝草根的生长。这种犁出现后逐渐推广,成为最先进的耕具。耕犁至此基本定型,这是唐代劳动人民对耕犁的重大改进。



曲辕犁构造示意图



基础知识下载

Downloading ...

- 唐朝时,藏族的祖先被称为 []
 A. 赞普 B. 吐蕃 C. 回纥 D. 靺鞨
- 东渡日本,传播唐朝文化的僧人是 []
 A. 鉴真 B. 玄奘 C. 戒贤 D. 戒日王



3. 唐朝时,仿照唐朝采用科举制选拔官吏的国家是 []
- A. 日本 B. 新罗
C. 天竺 D. 越南
4. 深刻地反映唐朝由盛转衰的历史,作品被称为“诗史”的诗人是 []
- A. 李白 B. 杜甫
C. 白居易 D. 陶渊明
5. 继王羲之之后,我国书法史上最有成就的大书法家是 []
- A. 颜真卿 B. 柳公权
C. 欧阳询 D. 吴道子
6. 现存世界上最早的、标有确切日期的雕版印刷品是 []
- A. 《金刚经》 B. 《黄帝内经》
C. 《诗经》 D. 《神农本草经》
7. 下列内容,跟白居易有关的一项是 []
- A. 写了大量赞美名山大川的壮丽诗篇
B. 诗歌深刻反映了那个复杂、动荡的历史时期,诗人命运与国家命运融为一体
C. 提倡诗歌要反映现实生活,通俗易懂,达到教育目的
D. 创造出一种适于反映现实生活的新文体——散文
8. 右图壁画在 []
- A. 洛阳龙门石窟
B. 敦煌莫高窟
C. 大同云冈石窟
D. 长安大雁塔中



二、填空题

1. _____ 和 _____ 统治时期,在今新疆地区设立了管辖 _____ 的最高行政和军事机构。
2. 7 世纪前期,吐蕃杰出的赞普 _____ 统一青藏高原,定都 _____。唐太宗把 _____ 嫁给他,增强了汉藏两族的友好关系。8 世纪初,唐朝皇帝又将 _____ 嫁到吐蕃,吐蕃赞普上书唐朝皇帝说,吐蕃和唐朝已经“_____”。
3. _____ 是维吾尔族的祖先。隋唐时期,生活在松花江、黑龙江流域的是 _____。生活在云南苍山洱海一带的六诏是 _____ 和 _____ 的祖先。
4. 唐朝鼓励各国商人到中国贸易, _____、_____、_____、_____ 等城市都有频繁的外贸活动,各国称中国人为“_____”。





三、在下列关系最密切的两项之间连线

鉴真

《历代帝王像》

玄奘

《送子天王图》

李春

《玄秘塔碑》

李白

《颜氏家庙碑》

杜甫

《大唐西域记》

白居易

赵州桥

颜真卿

唐招提寺

柳公权

《蜀道难》

阎立本

“三吏”、“三别”

吴道子

《秦中吟》



四、看图回答问题



1. 上图现在存在什么地方?

2. 此图反映了什么历史事实? 它在历史上起了什么作用?



探究能力链接 Linking



1. 自己动手绘制一幅唐朝后期疆域和边疆各族分布图。对照一下今天的中国政区图,在地图上标出广州、扬州、赵州桥的大约位置并指出日本、新罗、天竺的大致方位。



2. 在“唐朝对外主要交通路线图”中找出玄奘去天竺的路线,再查阅有关地形图。假设你追随玄奘西游,试想一下你会遇到哪些艰难险阻,把你的设想写出来。

3. 考察你家乡现存的桥梁,比较它们与赵州桥的异同。如有可能,找到设计者或建筑者,请他们谈谈设计和建筑思路,并谈谈自己的感想。你做到了哪一步,将过程记录下来。

4. 设法找到教材中提到的几首有代表性的唐诗,如《早发白帝城》、《蜀道难》、“三吏”、“三别”、《秦中吟》、《新乐府》等,朗诵几篇,体会三位大诗人诗作的特点。



课外资讯浏览

Skimming

飞 天

正在飞翔的神,梵语称之为提婆,由于提婆有天的意思,所以汉译为飞天。一些佛教作品描写飞天往往出现在乐鼓齐鸣、天花乱坠的佛说法的庄严时刻。据说她们居住在风光明媚的天宫十座山中,不食酒肉,专采百花香露,散天雨花,放百花香。敦煌莫高窟在现存的492个洞窟中,有270多个洞窟绘有飞天,总计4500余身。其中有的飞天身长2.5米,也有的不到5厘米。这些飞天图像不受任何约束,姿态千变万化,反映了古代艺术家们的丰富想像。

玄奘西游

玄奘(600~664)俗姓陈,名祜(hù),洛州缑(gōu)氏(今河南偃师缑氏镇)人,13岁出家,玄奘是其法名。后人称他三藏法师(三藏是对佛教经典的三个部分——佛经、戒律、论述与注解的总称,通晓三藏的僧人被称为三藏法师)。唐初,他在四川、长安研究佛教理论,感到佛教宗派众多,佛经译文多误,自己无所适从,决心到天竺学习佛经,研究解



决关于佛教教义的一些疑难问题。627年他从长安出发,杂于返西域的客商中,出玉门关独自西行。经过白天热风如火、夜晚寒风如刀的八百里流沙(即玉门关外的莫贺延碛),由天山南路横穿新疆。他在路上丢失了行李,有五天滴水未沾,几乎昏死,但他战胜千难万险,穿过新疆,越过葱岭,通过中亚,于628年夏末到达天竺西北部。然后沿一条由西向东的路线,参谒访问了恒河流域著名的佛教圣地和许多高僧。631年末,到达摩揭陀国,来到那烂陀寺。

那烂陀寺是天竺佛教的最高学府。该寺住持戒贤是印度的佛学权威。玄奘到达时,1000多人持香、花沿路迎接。90高龄的戒贤,本已不再讲学,为表示对中国的友好情谊,特收玄奘为弟子,用15个月的时间给他讲了最难懂的佛经——《瑜伽论》。玄奘用了5年时间精研佛学理论,取得优异成绩,成为那烂陀寺十大法师之一。接着他外出游学,环游印度半岛,一路多次参加佛学辩论会,战胜许多学者,声誉满天竺。641年返回那烂陀寺,主持寺内讲座。一个反对那烂陀派的人写了一篇论文呈给戒日王,声称无人能驳倒其中一字。戒日王把论文转给戒贤,并决定在国都曲女城举行学术大会,玄奘和1000多名僧人代表那烂陀寺参加大会。戒日王非常高兴地会见玄奘,向他问起唐太宗和中国音乐。玄奘介绍了中国的政治、经济、文化、艺术情况,称颂唐太宗的功业,引起戒日王极大兴趣,戒日王随即遣使至长安通好。642年12月辩论大会开始,与会者有天竺18国国王,佛教徒3000多人,婆罗门等教徒2000多人,玄奘担任大会论主(主讲人)。他用梵文写了一篇反驳那个人的论文,作为辩论的主题在会上宣读。同时誊写一份悬挂在会场门口,并依照惯例声明:如有人能据理驳倒一个字,就斩下论主的头以谢罪。可是五天过去了,仍无人前来辩论。大会连续举行18天,大家都为玄奘的精辟议论所折服。大会结束那天,戒日王和18国国王各以厚礼相赠,他全部谢绝了。最后,戒日王恳请玄奘乘坐一头用精美的华幢(chuáng)装饰的大象绕场一周,表示对这位中国大师的尊敬。

643年,玄奘谢绝戒日王的一再挽留,决心回国,戒日王及当地人民送他几十里路才洒泪而别。645年正月,玄奘带着657部佛经回到长安。唐太宗派宰相房玄龄等出城迎接,长安城成千上万老百姓走出坊门欢迎他,他把带回的佛经陈列在朱雀街南端,请大家参观,观众几十里不绝。唐太宗在洛阳行宫召见了玄奘,极有兴趣地听他介绍了西域及天竺见闻。他随即回长安开始了佛经翻译工作。20年间译出佛经75部1335卷。这些佛经后来在印度大部失传,中译本就成了研究古代印度宗教、哲学、文学、科学的重要文献。由于他具有较高的汉文化素养,又精通梵文,所以译文流畅优美,有些专用名词如“印度”、表示时间的词“刹那”就是他确定下来的。

玄奘还根据旅途见闻,写了一本《大唐西域记》,记载了亲历的110国、传闻的28国的情况。涉及地域包括今新疆以及中亚、阿富汗、巴基斯坦、印度、孟加拉、尼泊尔、斯里兰卡等国家和地区。他把当时各国的方位、路程、疆域、城市、人口、风俗人情、名胜古迹、历史人物、传说故事等一一写下来,内容丰富生动,准确可靠,是研究这些地区历史的重要材料。现在《大唐西域记》已译成数国文字,成为一部世界名著。





基础知识下载

Downloading ...

- 契丹国与中原政权冲突加剧是在]
A. 契丹建国之后 B. 唐朝灭亡以后
C. 辽占幽云十六州后 D. 北宋建立之后
- 力劝宋真宗亲征并在澶州打退辽军的北宋宰相是]
A. 石守信 B. 寇准 C. 秦桧 D. 岳飞
- 订立澶渊之盟的两个政权是]
A. 北宋与辽 B. 北宋与西夏 C. 南宋与西夏 D. 南宋与金
- 宋高宗和秦桧命令岳飞班师,解除其兵权并杀害岳飞,是因为宋高宗和秦桧]
A. 是金国的奸细 B. 害怕岳飞打不过金军
C. 害怕抗金力量壮大,威胁其统治 D. 了解到岳飞有谋反之心
- 宋朝产量位居首位的农作物是]
A. 粟 B. 小麦 C. 水稻 D. 玉米
- 我国的棉织业最先兴起于]
A. 东南沿海 B. 海南岛 C. 黄河流域 D. 西北地区
- 我国经济重心南移最后完成是在]
A. 唐朝后期 B. 五代时期 C. 北宋时期 D. 南宋时期
- 在宋代最受重视的节日是]
A. 元旦 B. 中秋节 C. 端午节 D. 元宵节



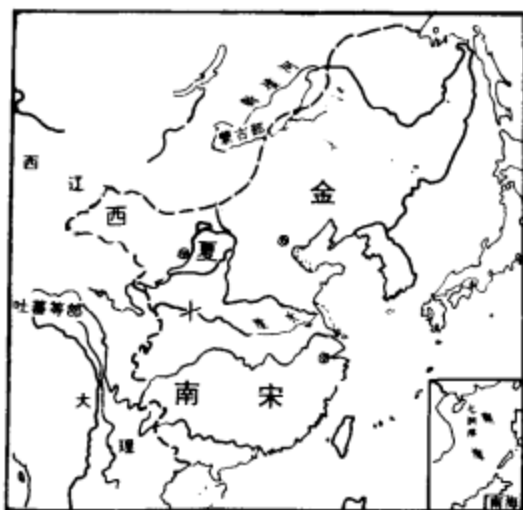


- 10世纪初,契丹杰出的首领_____,统一契丹各部,建立契丹国,都城在_____。
- 960年,_____大将_____在_____发动兵变,当上皇帝,建立了宋朝。
- 11世纪前期,党项族的首领_____称大夏国皇帝,都_____,建立西夏。
- 12世纪初,女真族的杰出首领_____起兵抗辽,在_____称帝,建立金国。金先后灭掉了辽和北宋。南宋建立后,金军又几次南下,南宋抗金名将_____从金军手中收复_____,后又在_____大败金军。
- 北宋时,从越南引进优良品种_____,在江南地区推广。太湖流域的_____,_____成为重要的粮仓。
- 北宋时_____的丝织品“号为冠天下”。丝绸产量最高的地区是_____。浙江的_____烧制出别致的冰裂纹瓷器。著名的瓷都_____也是这时开始兴起的。
- 宋代最大的商业都市是_____和_____。闻名世界的大商港是_____和_____。宋朝鼓励海外贸易,在主要港口设立_____,加以管理。
- 世界上最早的纸币是宋朝出现的_____,它最早出现在_____地区。



识图

- 在下左图中填上临安、中都、兴庆、大散关等地名。



- 看图回答问题。
 - (1)上右图是什么?
 - (2)它的出现有什么作用?





探究能力链接

Linking



1. 比较一下宋辽、宋夏和宋金关系,看有什么共同点。然后谈谈你的看法。
2. 在教材中寻找证据,说明我国经济重心在南宋时确实已南移。你能结合当时的政治、经济、自然条件和民族关系等方面指出造成经济重心南移的原因吗?
3. 仔细观察你家乡衣食住行的风俗习惯以及过节的风俗,看看哪些是从宋代发展过来的。



课外资讯浏览

http://

Skimming



历史上的杨家将

杨业(? ~986)原名崇贵,幼年随父杨信(戏曲中多作杨衮或杨滚)转战晋西北,抗御契丹和后晋的石敬瑭。后来杨业迎娶了府州折德扆的女儿折太君。后周初年,应北汉皇帝刘崇之召,到太原任职,为避汉帝刘崇讳,改名重贵。刘崇赐杨业姓刘,改其名为继业。杨业在北汉29年,屡立战功,官至建雄军节度使。979年(太平兴国四年),宋太宗灭北汉,他与北汉国君一同归宋。宋太宗让他恢复杨姓,名业。从此以后,史书上即称他为杨业。杨业死后,北宋追赠他为太尉、中书令。中书令尊称为“令公”,所以后来杨业又被尊称为“杨令公”或“老令公”。

杨业有几个儿子,史书上记载不一,《杨家将史事考》一书的作者常征认为《宋史》的记载比较可靠。《宋史·杨业传》说:杨业被俘后,“其子延玉亦歿焉”。“业既歿,朝廷录其子供奉官,延朗为崇仪副使,次子殿直延浦、延训并为供奉官,延瓌、延贵、延彬并为殿直。”也就是说,杨业有七个儿子。但并没有记载还有什么“八姐九妹”等等。

在杨家将的第二代中,以杨延昭(958~1014)最为著名。在戏曲中,称延昭为“杨六郎”、“六将军”,所以民间都误认为他是杨业的第六子,其实照《宋史》的记载看应是杨业的长子。他本名延朗,后改名延昭,年轻时经常随杨业出征,任先锋。后在河北任缘边都巡检使,高阳关(今河北高阳)副都部署等职。999年(咸平二年)和1001年(大中祥符四



年)在遂城两次大败辽军。他守边 20 年,号令严明,屡破契丹军。1004 年(景德元年),契丹南下攻宋,杨延昭当时上疏建议:乘辽兵大举南下之机,出兵攻取幽、易等州。但宋真宗没有采纳他的建议。辽军北撤时,延昭率军追击辽军直至灵丘之古城。

杨家将的第三代是杨文广(? ~1074),他是杨延昭四个儿子中的第三子,也是在《宋史》中惟一有传的儿子(戏曲中说延昭子宗保,宗保子文广),他于宋仁宗时为范仲淹所擢用,后从大将狄青到南方,为广西钤辖,知宜、邕两州。神宗初年在西北为秦凤路副都总管,防御西夏的进攻,使秦凤路的军力和军储大为增强。后来又升任步军都虞候(步军司次帅),兼领定州路副都总管。辽宋争议代州地界时,他反对让步,主张必要时进行战斗,并乘势收复幽云。他还献上进兵作战的阵图和取幽云策,但未及回报,便病死军中。

戏曲“杨门女将”中以佘太君为中心,包括她的七个儿媳妇,还有女儿八姐九妹、孙媳穆桂英以及丫头杨排风,等等。这些人,除佘太君外,其他人在史书中均无记载。佘太君即折太君,生卒年代不详,估计其寿数在 77 岁以内。她掌握了很高的骑射战斗、布阵行兵的本领。杨业牺牲之后,潘美等人曾隐瞒真相,诬罪于杨业,折太君上本力辩,最后真相大白,朝廷削潘美三秩。

从史书记载上看,杨家诸将大多位列偏裨,在北宋政治舞台上并非中心人物,但在民间传说和戏曲、小说中,却成为一门系国安危的角色。杨家将的故事在人民群众中流传十分广泛,这说明人民总是怀念、尊敬历史上有气节的英雄人物。



基础知识下载

Downloading ...

1. 1206 年,建立统一的蒙古政权的是

[]

A. 铁木真

B. 完颜阿骨打

C. 耶律阿保机

D. 忽必烈



2. 忽必烈正式定国号为元是在
A. 1206年 B. 1271年 C. 1276年 D. 1279年
3. 我国省级行政区的设立,始于
A. 隋朝 B. 唐朝 C. 宋朝 D. 元朝
4. 毕升发明活字印刷术比欧洲早约
A. 200年 B. 300年 C. 400年 D. 800年
5. 四大发明早于宋元时期完成的一项是
A. 印刷术 B. 指南针 C. 火药 D. 造纸术
6. 主持编写《资治通鉴》的史学家是
A. 司马迁 B. 司马光 C. 苏轼 D. 韩愈
7. 北宋著名词人苏轼的代表作是
A. 《念奴娇·赤壁怀古》 B. 《如梦令》
C. 《菩萨蛮·书江西造口壁》 D. 《破阵子》
8. “和羞走,倚门回首,却把青梅嗅。”这美妙的词句是谁写的
A. 苏轼 B. 李清照 C. 辛弃疾 D. 赵孟頫
9. 《清明上河图》的作者是
A. 顾恺之 B. 吴道子 C. 张择端 D. 赵孟頫
10. 右图是谁的书法作品
A. 黄庭坚 B. 苏轼
C. 米芾 D. 蔡襄

二、填空题

1. 元朝的_____是闻名世界的商业大都市,意大利旅行家马可·波罗写的《_____》描述了它的繁华景象。
2. 元世祖为加强统治,在中央设中书省,地方设行中书省,简称“_____”。
3. 元朝时,_____成为元朝正式的行政区。元政府还加强对_____ (今台湾)的管辖。
4. _____族是在元朝时开始形成的。
5. _____时期是中国古代科技发展的高峰。
6. 我国在世界上最早发明了印刷术,隋唐时已有_____印刷的佛经,北宋平民_____又发明了_____印刷术,比欧洲早约400年。
7. 右图所示的是_____模型。到了北宋,它应用于_____。

