

ZHEJIANGSHENG XINGAOKAO XUEKAO
XUANKAO MONIJUAN

《浙江省新高考学考·选考模拟卷》编写组 编著

浙江省新高考学考 ▶ 选考模拟卷

历史



 江西科学技术出版社

浙江省新高考学考·选考模拟卷

历史(一)

命题学校:诸暨中学

本试卷分选择题和非选择题两部分,满分100分,考试时间90分钟,其中加试题部分30分

一、选择题(本大题共25小题,每小题2分,共60分。每小题列出的四个备选项中只有一个是符合题目要求的,不选、多选、错选均不得分)

1. 周人统治“依仗宗族纽带,用祖先崇拜的繁缛礼节……不断加强亲戚之间的关系。”周人的统治机制指()
A. 宗法制 B. 分封制 C. 郡县制 D. 世袭制
2. 从右图“画像砖上的集市场景”可以看出市的中央设置亭楼,四面建有门、墙,据说其都城有正式的市九处。该朝代为()
A. 秦代 B. 汉代 C. 南北朝 D. 唐朝
3. 宋代苏轼在《石炭并引》记载:彭城旧无石炭,元丰元年十二月,始遣人访获于州之西南白土镇之北,以冶铁作兵,犀利胜常云。关于该材料下列说法错误的是()
A. 彭城在北宋属于次级地方行政机构
B. 《石炭并引》中的“石炭”是指煤
C. 苏轼派人从其他地方获得石炭
D. 宋代用石炭冶炼兵器锋利无比
4. 有人咏中华文明四大发明。其中“陶泥一块嫁薪火,孕育灵娃好快活。应谢布衣传大道,布衣无意颂歌多”指的是()
A. 指南针 B. 造纸术 C. 火药 D. 印刷术
5. 空城计是三十六计之一,意指虚虚实实,兵无常势。空城计故事取自()
A. 《三国演义》 B. 《水浒传》 C. 《西游记》 D. 《红楼梦》
6. 君主专制和中央集权日益强化是古代中国政治演化的基本趋势。下列官职的职能相似的是()
①郡尉 ②刺史 ③枢密院 ④帝师
A. ①②③ B. ①③④ C. ②③④ D. ①②④
7. 梁启超在评论维新派一位代表人物的思想时说:“其思想为吾人所不能达,其言论为吾人所不敢言。”下列言论最有可能属于这个代表人物的是()
A. 乃降圣人而极民患,为圣王,为万民作师,为大地教示
B. 世道必进,后胜于今;物竞天择,适者生存
C. 变法之本,在育人才;人才之兴,在开学校
D. 男女同为天地之菁英,同有无量之盛德大业
8. 观察右面《民国初年江浙地区民族工业分布示意图》,关于此图说法不正确的是()
A. 该地区经济的发展以纺织工业和食品工业为主
B. 该地区的工业发展主要集中在沿江、沿海地区
C. 外商的直接投资对该地区经济发展起促进作用
D. 江浙地区的重工业如机器制造也有一定的增长
9. 列强在经济上疯狂地向中国倾销商品和掠夺原料,同时通过政治贷款、在中国设厂筑路等,控制中国的经济命脉。列强在中国设厂开始于()
A. 鸦片战争后 B. 中法战争后
C. 中日甲午战争后 D. 八国联军侵华战争后
10. 新文化运动期间,李大钊认为:“所谓孔子的政治哲学,修身齐家治国平天下,‘一以贯之’全是‘以修身为本’;又是孔子所谓的修身,不是使人完成他的个性,乃是使人牺牲他的个性。”据此可知。下列说法合理的是()
A. “打倒孔家店”的口号是反对孔子个人 B. 个性解放是提倡民主与科学的重要内容
C. 孔教理论在当时社会无价值可言 D. 孔子伦理观贯彻了奴隶服从观念
11. 孙中山是站在时代前列的伟人,不断更新自己的思想理论。其中成为大革命时期的“旗帜”是()
A. “民主共和” B. “工农武装割据” C. “革命的三民主义” D. “革命统一战线”
12. 抗战期间,东北地区的城市化得到了很大发展。1931年日本对东北的投资总额为5.5亿元,其后逐年增加,到1944年则增至52.7亿元。日本对中国东北投资增加的主要原因是()
A. 对东北进行殖民掠夺和奴役 B. 为了适应全面侵华战争需要



- C. 为了转借国内的经济大危机 D. 在东北建一个经济独立政权
13. 日本军人记载：“……昭和 15 年 8 月 20 日夜，一齐向我交通线和生产基地实施奇袭，特别是山西省……共军这次奇袭完全出乎意料之外。”“日方从未想到中共势力竟扩大到如此程度。”此战役是 ()
A. 平型关大捷 B. 台儿庄战役 C. 百团大战 D. 枣宜会战
14. 2017 年，中国首个执行月面取样返回任务的“嫦娥五号”将在海南文昌用长征五号火箭发射。下列尖端科技领域的开拓者与之相关的是 ()
A. 李四光 B. 钱学森 C. 邓稼先 D. 吴阶平
15. 人民民主是社会主义的生命。右图是 1980 年 8 月在北京举行的全国人大五届三次会议。下列属于这个会议的内容是 ()
A. 国家领导体制改革和废除领导干部领导职务终身制
B. 强调国家的根本任务是集中力量进行现代化建设
C. 提出依法治国，建设社会主义法治国家历史任务
D. 对国家机构设置、职责、管理体制规定做出调整
16. 1999 年 12 月 20 日，中国和葡萄牙两国政府在澳门如期举行了澳门政权交接仪式。澳门回归是中华民族发展史上的重大事件，它的重要意义是 ()
A. 在中国国土上彻底结束了外国列强的占领 B. 中华人民共和国统一大业的道路得以实现
C. 为安全先行的新型区域合作模式提供范例 D. 推动中国改革开放步入一个新的发展阶段
17. 建立社会主义市场经济体制是一项前无古人的开创性事业，是社会主义发展史上的重大突破。经历确立目标、勾画基石、深化认识到初步建立的过程。其中勾画基石的会议是 ()
A. 中共十一届三中全会 B. 中共十四大 C. 中共十四届三中全会 D. 中共十五大
18. 罗马法在人类历史上有重大意义。其中“人类所共有的权利或正义体系，它先于国家而存在，是社会得以维系的人类正当行为的原则”指的是 ()
A. 习惯法 B. 公民法 C. 自然法 D. 万民法
19. 欧洲大学是教师和学生在与市民、城市当局和教会势力斗争过程中形成的。城市的复兴为大学提供了物质基础，翻译运动使古典知识重新返回欧洲，为师生提供了讨论和研究的材料。据此判断欧洲大学形成于 ()
A. 古罗马时期 B. 文艺复兴时期 C. 启蒙运动时期 D. 工业革命时期
20. 1688 年的光荣革命终结了英国历代君主试图在不列颠建立绝对政府体系的目标。这一温和革命生出有限政府的形式，君主在这一体系内倘不能与议会合作则无法有效统治，国王只能在法律原则下进行统治。下列符合 17 世纪末英国政治的是 ()
A. 内阁已经掌握行政权 B. 国王权力来源于上天
C. 枢密大臣由国王任命 D. 责任内阁制形成完善
21. 用特殊的代号表示某种军事行动是军事史上的常见现象，下列第二次世界大战时期的军行动按时间先后顺序排列正确的是 ()
①“巴巴罗萨计划” ②“海狮计划” ③“火炬计划” ④“曼斯坦因方案”
A. ④②①③ B. ②①④③
C. ④①②③ D. ①②③④
22. 右图的计算与近代哪一理论密切相关 ()
A. 经典力学 B. 天演论
C. 相对论 D. 量子论
23. “近俄内争益烈，广义派势力益张，要求操政权，主和议，并以暴动相挟制。政府力弱，镇压为难，恐变在旦夕。”材料中“暴动”指的是 20 世纪初俄国发生的 ()
A. 二月革命 B. 七月事件
C. 参加一战 D. 彼得格勒武装起义
24. 某次重大会谈的记录有“保护专利与版权的法律将更为严格”“所有会员国都将被要求提出开放服务业市场的时间表”。下列属于这次会谈成果的是 ()
A. 签署《关税与贸易总协定临时适用协定书》
B. 发表了《经济展望声明》，提出大家庭精神
C. 达成《建立世界贸易组织协定》
D. 签署了《马斯特里赫特条约》
25. 右图为《英国脱欧，自力更生》漫画，说法不正确的是 ()
A. 在英国存在脱与不脱两种不同意见
B. 脱欧一定程度上打击欧洲一体化进程
C. 脱欧可能使利己和单边主义愈演愈烈
D. 英国与新兴经济体的互动必将受削弱



◆ 静能 m_0c^2 :物体静止时所具有的能量。
电子的静质量 $m_0=0.911 \times 10^{-30}\text{Kg}$
电子的静能 $m_0c^2=8.19 \times 10^{-14}\text{J}=0.511\text{MeV}$
质子的静质量 $m_0=1.673 \times 10^{-27}\text{Kg}$
质子的静能 $m_0c^2=1.503 \times 10^{-10}\text{J}=938\text{MeV}$



26. 【加试题】2017年初,教育部下发《关于在中小学地方课程教材中全面落实“十四年抗战”概念的函》,学界部分专家认为,虽然海峡两岸此前都习惯称之为“八年抗战”,但从学术界根据史实的研究成果来看。“十四年抗战”的说法更科学。从“八年抗战”到“十四年抗战”概念的转变具体反映出 ()
- A. 历史研究对象的直接性造成史实表述的不确定性
B. 同一史实从不同时代背景出发,历史解释会不同
C. 多元化史观的指导下研究得出的结论具有差异性
D. 历史事件发生年代越久远,历史史实评价越客观
27. 【加试题】清朝第一位外交大臣郭嵩焘于1876年率副使刘锡鸿等随员三十余人启程赴英,在伦敦设立了使馆。赴英途中,郭嵩焘将沿途见闻记入日记《使西纪程》。下列选项不可能在其笔记中出现的是 ()
- A. 参观体验电话,并与同行官员通话,“其语言多者亦多不能明,惟此数者分明”
B. 目睹西方政治制度,“其中尤谬者,至谓西洋立国二千年,政教修明”
C. 见到内燃机作为动力的轮船次序井然,叹“条理之繁密乃至如此”
D. 受邀进入英国王宫并加以赞美,“闾阖之盛,宫室之美”
28. 【加试题】约翰·托兰认为,许多人在回顾过去几个月中那些惊心动魄的事件,历史上有过如此多事的年头吗?俄国、德国和奥匈帝国的暴君一个个都垮台了。就连英法在同一战壕里共过患难之后,也绝不会是老样子了。“英法在同一战壕里共过患难之后,也绝不会是老样子了”的含义是 ()
- A. 为争夺殖民地和海外市场走向敌对
B. 战后为争夺欧洲领导权产生矛盾
C. 是否同意严厉制裁德国和肢解德国
D. 建立国联调遣国际部队发生分歧
29. 【加试题】孙中山遗嘱写道:“余致力国民革命凡四十年,其目的在求中国之自由平等。……必须唤起民众及联合世界上以平等待我之民族,共同奋斗。……务须依照余所著《建国方略》《建国大纲》《三民主义》及《第一次全国代表大会宣言》……最近主张开国民会议及废除不平等条约,尤须于最短期间促其实现。是所至嘱!”据此分析下列说法正确的是 ()
- ①孙中山开始踏上民主革命道路是从建立兴中会开始的 ②唤起民众及联合世界民族指提出联俄联共扶助农工三大政策 ③孙中山的建国方案包括发展实业,如交通运输业 ④孙中山在北伐期间,宣传召集国民会议和废除不平等条约
- A. ①②③
B. ①②④
C. ①③④
D. ②③④
30. 【加试题】意大利是欧洲民族及文化的摇篮,曾孕育出罗马文化,13世纪末更是成为欧洲文艺复兴发源地,都留下丰富的文化遗产。下列遗产按其完成的先后顺序排列正确的是 ()



①



②



③



④

- A. ①②③④
B. ①③④②
C. ③①④②
D. ②③④①

二、非选择题(本大题共4小题,每小题10分,共40分)

31. (10分)阅读下列材料,回答问题。

材料一:顾炎武:且叹夫百余年以来之为学者……置四海之困穷不言……以无本之人,而讲空虚之学,无见其从事于圣人而去之弥远也。

王夫之:天地之德不易,而天地之化日新。……日之有昼夜,犹人之有生死,世之有鼎革也。纪世者以一君为一世,一姓为一代足矣。

——顾炎武《亭林文集》、王夫之《思问录》

材料二:19世纪末20世纪初,孟德斯鸠、卢梭等人的思想被中国资产阶级维新派和革命派广为宣传。《论法的精神》和《社会契约论》也被译成汉语出版。

(1)根据材料一,分别概括顾炎武、王夫之的思想。(4分)

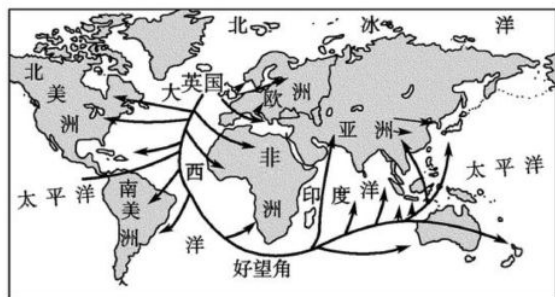
(2)根据上述材料和所学知识,说出启蒙思想家在政治主张与明末清初的不同。分析启蒙思想在近代中国广为传播的原因。(6分)

32. (10分)阅读下列材料,回答问题。

材料一:英国的优越地位在18世纪归功于优越的政治制度……在19世纪初期则几乎完全归功于机械技术。在1740年,“效法英国”一词已经成为人们的口头禅,而到1830年,英国已成为“工业欧洲的老师”……

——C. W. 克劳利《新编剑桥世界近代史》第九卷

材料二：



19世纪中后期英国海外贸易示意图

- (1)根据材料一，概括英国优越地位在18、19世纪的表现。飞梭发明推动纺纱技术改进，进而又呼唤织布技术革新，请结合所学知识各举一例说明。（4分）
- (2)材料二从市场角度说明什么。结合所学知识，分析材料一、二对19世纪四十到六七十年代中国经济结构的变动产生了怎样的影响？（6分）

33. 【加试题】(10分)阅读下列材料，回答问题。

材料一：我把下列的三种勋章归还给你：(一)王头金章系前任总督因我在南非洲所做的慈善工作而赐予我的；(二)苏鲁战争，因我在1906年为印度义勇救伤队的官职而赐予的；(三)波尔战章，因我在1899年至1900年波尔战争中为印度义勇护伤队的副监督而赐予的。我这样做，心中并不是毫无苦衷的。

——选自甘地给印度总督的信(1919年)

材料二：甘地是印度现代史上非常复杂的人物。他出身望族，却极富平民主义的思想。……他力图兼收并蓄各种宗教的真谛，俨然像个圣徒，但又不是宗教改革家。他为祖国的独立战斗终生，却为“对于不列颠的忠心所驱使”多次支持英帝国主义的正义战争。他诅咒西方现代文明，却又认为过错并不在其制度本身。他受过西方现代教育，也很讲究养生之道，却又迷信难于想像的落后治疗方法。他的思想行为充满矛盾，看起来不可理解，但都不难从印度的历史和社会的根源上去追寻原因。应该说，他是印度这个特定社会的产物。这个社会具有悠久的历史和高度的文化，但却遭受长期殖民统治的屈辱与损害。

……

现在，无论在印度国内还是国外，追随甘地主义的人越来越少了，这不能不说是甘地的悲剧。倘若视这种情况为不可避免的历史发展，较之简单地归咎于甘地个人，也许更为公允。但是这并没有减少人们对甘地的历史贡献的应有肯定，尤其是对于他的为人，对于他的品德情操所怀有的崇高敬意，仍将历久不衰。他在历史上闪烁的光辉，毕竟全靠他非凡的品格。

——摘自《中外历史人物评说教师教学用书》

- (1)根据材料一及结合所学知识，写出甘地为反对英国暴行做了哪些事情？联系1917年世界历史，说明发生此事的有利条件。甘地在第二次世界大战期间发动的运动与之前相比有何新特点。（6分）
- (2)材料二对甘地的评价有两种说法：①追随甘地主义的人越来越少，是甘地的悲剧；②没有减少人们对甘地历史贡献的肯定。请结合史实任选一种加以评论。（4分）

34. 【加试题】(10分)阅读下列材料，回答问题。

材料一：



材料二：



德和园大戏楼

- (1)说出材料一遗产名称及主要组成，指出图中①的建筑名称和建筑特点。（6分）
- (2)说出材料二与京剧崛起之间的关系。综合上述材料，结合所学知识，在此处文化遗产还能见证哪些历史事件(举两例)？说明什么？（4分）

浙江省新高考学考·选考模拟卷

历史(二)

命题学校:绍兴一中

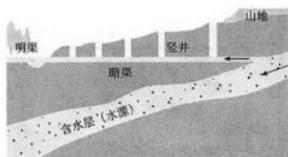
本试卷分选择题和非选择题两部分,满分 100 分,考试时间 90 分钟,其中加试题部分 30 分

一、选择题(本大题有 30 小题,每小题 2 分,共 60 分。每小题列出的四个备选项中只有一个是符合题目要求的,不选、多选、错选均不得分)

- 商鞅在秦国主持变法时期,曾经实施了一项制度,使国家被分成若干区域,由君主任命行政长官管理。对这一制度的认识,错误的是 ()
 - 使朝廷的权威在乡村地区增强
 - 世袭封地制度的影响力下降
 - 中央与地方的联系进一步密切
 - 容易形成地方和中央的对抗
- 农业是古代中国最基本的经济形式。在汉代,中国文明似乎才确定了它发展的方向,走上了农业文明的道路。下列属于两汉时期促成中国转向农业经济的关键因素 ()



①



②



③

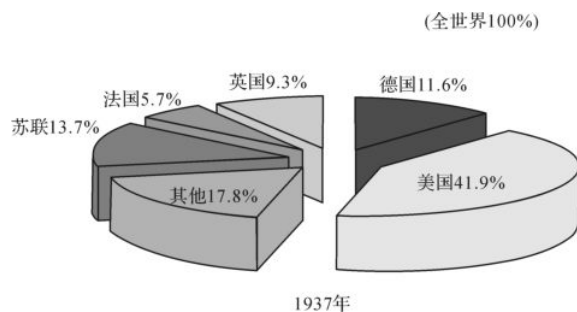


④

- ①②③
 - ①②④
 - ②③④
 - ①③④
- 春秋战国是中国古代思想和文化最为辉煌灿烂的时代。这一时期许多思想流派开始形成,出现了诸子百家彼此诤难、相互争鸣的学术局面。下列学派与思想主张不符的是 ()
 - 儒家:行仁德之政,因民之所利而利之
 - 道家:合抱之木,生于毫末;九层之台,起于累土;千里之行,始于足下
 - 法家:立君上之执以临之,明礼义以化之,起法正以治之,重刑罚以禁之
 - 墨家:不辨贫富、贵贱、远迩、亲疏,贤者举而尚之,不肖者抑而废之
 - 钱穆在《中国历代政治得失》中说:“在当时,并不是说把全国划分成几个地方行政区,乃是这几区地方各驻有中央宰相,即成为中央宰相府的活动分张所。”这种情况出现于 ()
 - 秦汉
 - 唐宋
 - 元朝
 - 明清
 - 明清时期中国政府实行闭关锁国政策,颁布一系列法令和政策限制或禁止沿海居民赴海外经商。下列选项体现这一政策的是 ()
 - ①滨海居民不许与外洋番人贸易
 - ②沿海省份,应立严禁,不许片帆入海,违者立置重典
 - ③定沿海之界,令居民徙入内地 50 里……出界者死
 - ④海塘之民以捕鲜、煮盐为业,宜弛其禁
 - ②③④
 - ①②④
 - ①③④
 - ①②③
 - 八国联军入京之后,据时人记述:在德军所驻守的顺治门外一带,“其界内新设各店牌号,大都为之命名,有曰‘德兴’,有曰‘德盛’,有曰‘德昌’,有曰‘德永’,‘德长胜’等。甚至不相联属之字,而亦强以德字冠其首。英美德日诸界亦莫不皆然”。此种现象的产生说明 ()
 - 中国人民的民族意识觉醒
 - “贵中华贱夷狄”传统观念崩塌
 - 国人意识到要向西方学习
 - 清政府完全沦为列强的统治工具
 - 鸦片战争以后,“洋布、洋纱、洋花边、洋袜、洋巾入中国,而女红失业;……洋铁、洋针、洋钉入中国,而业冶者多无事投闲……”从近代化史观看,该现象对中国社会造成的主要影响是 ()
 - 使中国开始沦为半殖民地半封建社会
 - 自然经济的解体推动了民族工业兴起
 - 使中国开始卷入了资本主义世界市场
 - 推动中国从农业文明向工业文明过度
 - 《海国图志》出版后,在中国并没有广泛传播,但在日本大受欢迎,1854 年到 1856 年,各种版本达 21 种。同时,另一学者丁韪良翻译的《万国公法》传到日本后成为教科书,外交官人手一册,拿它去和外国人谈判,修改不平等条约。这表明 ()
 - 鸦片战争后的新思想没有任何进步意义
 - 魏源等人的思想引领了世界思想的潮流
 - 不同的社会条件影响了思想的实践意义
 - 日本近代社会变革的指导思想源于中国
 - 近代史上,国共两党关系错综复杂。从 1924—1949 年,国共关系的基本特征是“合作—分裂—再合作—再分裂”的曲折历程。下列有关国共关系的说法,不正确的是 ()
 - 推动两次合作的原因及两次合作的方式都不相同
 - 国际政治势力的态度和国际环境影响两党间关系
 - 两次合作都打击了封建军阀和列强在中国的统治

- D. 阶级性质不同是两党关系矛盾斗争到分裂的根源
10. 周恩来曾指出：“世界各国不分大小强弱，不论其社会制度如何，是可以和平共处的。各国人民都应该有选择其国家制度和生活方式的权力，不应受到其他国家的干涉。”“我们应该以我们共信的原则给世界建立一个范例，证明各国是可以和平共处的。”中国提出这一“原则”是因为 ()
- A. 国内大规模经济建设即将开始
B. 朝鲜停战，冷战对抗结束
C. 中国需要发挥世界大国的作用
D. 推进新型区域合作的需要
11. 在我国社会主义建设过程中曾经提出“调整国民经济各部门的比例关系，主要是农轻重、工业内部、生产与基建、积累与消费等比例关系”。希望通过调整，适当控制重工业的发展速度，特别是钢铁工业的发展速度，使工业和农业之间、重工业和轻工业之间、积累与消费之间的比例趋于协调。这里的“调整”指的是 ()
- A. “一五计划”时期对生产关系的全面调整
B. “大跃进”运动后对经济“纠左”的调整
C. “文革”时期邓小平全面整顿经济的调整
D. 社会主义市场经济体制确立后的经济调整
12. 邓小平在某次讲话中提出“权力过分集中，妨碍社会主义民主制度和党的民主集中制的实行……对各级各类领导干部职务的任期，以及离休、退休，要按照不同情况，作出适当的、明确的规定。任何领导干部的任职都不能是无限期的。”对上述材料的理解，不正确的是 ()
- A. 体现中国共产党人对“文革”历史教训的总结
B. 这次讲话实际是“依法治国”方略提出的标志
C. 全国人大五届三次会议实践了这一讲话的精神
D. 反映新时期建设社会主义民主政治的初步构想
13. 中共某次会议上提出：建立社会主义市场经济体制，就是要使市场在国家宏观调控下对资源配置起基础性作用。为实现这个目标，必须坚持以公有制为主体，多种经济成分共同发展的方针，要进一步转换国有企业经营机制，建立适应市场经济要求的现代企业制度。该会议是 ()
- A. 中共十二届三中全会
B. 中共“十四大”
C. 中共十四届三中全会
D. 中共“十五大”
14. 右边是毛泽东《新民主主义论》一书的目录节选，若要补充省略号部分缺失的目录，比较合理的是 ()
- A. 中国的历史特点
B. 抗战的政治动员
C. 割据地区的现势
D. 中央和地方的关系
- 中国向何处去
我们要建立一个新中国
……
中国革命是世界革命的一部分
新民主主义的政治
新民主主义的经济
15. 新中国的科技事业在困难的条件下艰难起步，通过科技人员的不懈努力取得了一批标志性成果。在新时期，中国的科学技术发展迅速，在尖端科学技术领域取得了巨大进展。下列科技成就按照时间先后顺序排列正确的是 ()
- ①第一颗实用通信广播卫星升空 ②首次人工合成结晶牛胰岛素 ③中国爆发第一颗氢弹 ④“神舟 5 号”载人宇宙飞船成功发射
- A. ③②①④
B. ②③④①
C. ③①②④
D. ②③①④
16. 公元前 399 年，苏格拉底被雅典陪审法庭以亵渎神明和蛊惑青年的罪名判处死刑。他认为审判过程符合雅典法律程序，遵守合法的判决也是正义的要求。最终他选择在弟子面前饮下毒药，从容赴死。这在本质上说明 ()
- A. 直接民主存在严重弊端
B. 苏格拉底坚持法律至上
C. 陪审法庭审判程序不公
D. 雅典民主缺乏公平正义
17. 世界各地的纪年方法曾经各有不同。格里历(即公历)从 16 世纪开始在欧洲一些国家使用，1918 年俄国采用，后来，中国、印度、阿拉伯世界以及世界各地的大多数国家都使用或承认。目前，处理国际事务、召开国际会议等都采用格里历。对此理解正确的是 ()
- ①反映了世界一体化的进程 ②是近代欧洲称雄的结果 ③世界文化完全同化的表现 ④有助于全球经济的交流
- A. ①②③
B. ②③④
C. ①③④
D. ①②④
18. 有学者通过研究发现 14 世纪中叶欧洲爆发的“黑死病”大瘟疫导致大量人口死亡，从而动摇了人民对教会的迷信，唤起了劫后余生的人们对自己生命幸福的追求。于是，追求现世享乐便成为人们的生活信念。这一材料可以为下列哪一主题的研究提供依据 ()
- A. “地理大发现”影响
B. 文艺复兴运动的原因
C. 启蒙运动的时代背景
D. 殖民扩张的血腥本质
19. 托克维尔曾这样描写某一城市：巨大的建筑物高耸于住所之上，隔绝了空气和阳光。城市的一边属于富裕的少数人，另一边属于贫穷的绝大多数人。男人、女人和儿童都被绑在永不疲倦的机器，肮脏的下水道里淌出的却是足赤的黄金。这个城市最有可能是 ()
- A. 工业革命时期的曼彻斯特
B. 鸦片战争后的上海
C. “大航海”时代的里斯本
D. 冷战对峙时的柏林
20. 美国《1787 年宪法》实现了权力的制衡，也调节了多方矛盾。下列措施不能证明这一观点的是 ()
- A. 联邦制取代邦联制，调和了中央与地方的矛盾
B. 参、众两院代表比例分配，调和了大小州间矛盾

- C. 黑人按五分之三人计算,让宪法打上种族歧视的烙印
D. 实行三权分立,体现制衡原则,避免绝对权力的出现
21. 100年前,俄国爆发了一场革命运动,使世界上出现了第一个社会主义国家,关于其历程和意义,叙述正确的是 ()
- A. 二月革命后形成了两个政权并存且平分权力的局面
B. 《四月提纲》提出以武力实现“全部政权归苏维埃”
C. 七月流血事件导致两个政权并存局面的结束
D. 十月革命建立了世界上第一个无产阶级政权
22. 罗斯福新政开启了美国国家对经济的大规模干预,此后历届政府都曾经采取措施干预经济,下列对历届政府干预措施的认识,不正确的是 ()
- A. 实施《全国工业复兴法》——减少盲目生产,调节劳资矛盾
B. 举办救济和公共工程——增加就业,刺激消费,稳定社会
C. 缩减政府开支,裁减政府雇员——增加就业,解决财政赤字
D. 扶植高新技术产业——刺激新需求,促进经济持续增长
23. 1933年美国国会通过一部法令,其中规定:“工人有权组织起来,可选派代表与雇主进行谈判,签订集体合同,雇主不得以工人参加何种工会为雇佣条件,雇主必须遵守最高工时和最低工资的限额。”这一法令是 ()
- A. 《全国工业复兴法》 B. 《联邦紧急救济法》 C. 《全国劳工关系法》 D. 《社会保险法》
24. 正当独裁者们兴风作浪之际,西方民主构架正在严重的和平主义支配下摇来摆去,没有定见。所谓和平主义,大体可以说是不顾后果而硬要坚持和平。上述材料是对三十年代西方世界部分国家政策的描述。下列史实不能证明材料观点的是 ()
- A. 意大利入侵埃塞俄比亚,美国推行“中立”政策 B. 德意入侵西班牙时,英法采取了“不干涉政策”
C. 签署《慕尼黑协定》,把苏台德地区交给德国 D. 全面侵华战争爆发后,中国开始了全民族抗战
25. 第二次世界大战后期,为打败法西斯及安排战后世界秩序曾经召开了一系列国际会议。下列会议涉及战后世界秩序安排的有 ()
- ①雅尔塔会议 ②德黑兰会议 ③布雷顿森林会议 ④慕尼黑会议
- A. ①③④ B. ①②③ C. ①②④ D. ②③④
26. 【加试题】维新变法时期,康有为写了《孔子改制考》一书。在书中,他运用一系列证据论证孔子是一位主张改革的先师,对此理解最准确的是 ()
- A. 康有为完全缺乏历史研究的证据意识 B. 《孔子改制考》没有史学研究的价值
C. 历史研究也可以为政治变革提供帮助 D. 孔子的政治主张本身有很大的争议性
27. 【加试题】历史上,我国一直重视对边疆地区的管理,下列对新疆地区管理的措施排序,正确的是 ()
- ①平定准噶尔叛乱 ②设立新疆行省 ③设立安西都护府 ④成立新疆维吾尔自治区
- A. ①③②④ B. ①③④② C. ③②①④ D. ③①②④
28. 【加试题】右图所示的是某一时期世界各国的工业总产值在世界工业总产值中的比例,对此图信息理解正确的是 ()
- A. 第一次世界大战结束后英法两国的经济遭受了重创
B. 第二次世界大战后德国成为欧洲经济的火车头
C. “二五”计划完成后苏联成为工业强国
D. 二战后美国已成为世界经济的霸主
29. 【加试题】美国好莱坞被称为“世界电影之都”,但是第二次世界大战后的一段时间里美国电影在世界各地曾经一度受到冷遇。1959年,美国只生产了166部影片。下列原因不能解释这种现象的是 ()
- A. 战争阴影和经济困难的制约 B. 欧亚各国电影事业的发展
C. 电视的发展带来了巨大冲击 D. 冷战对峙影响了文化交流
30. 【加试题】为了庆祝自滑铁卢战役以来欧洲大陆享受的40年和平,1855年在巴黎举办了世博会。在该世博会中,可能见到的展品为 ()
- A. 西门子带来的发电机 B. 达尔文的《物种起源》
C. 贝尔发明的电话机 D. 莫尔斯发明的有线电报



二、非选择题(本大题共4小题,每小题10分,共40分)

31. (10分)阅读下列材料,回答问题。

材料一:理学家提出“理”作为宇宙万物的本源,它以儒家的礼法、伦理思想为核心,吸收佛道思想中的精粹,形成了析理精微、论证明确的哲学体系,这是两汉的粗糙儒学所无法比拟的。理学家以儒家“圣人”为最高

境界,充分肯定人的现实生活、道德精神的意义;它摒弃佛道所宣扬的彼岸世界,不相信灵魂不灭、轮回转世之说,而力求在现实世界中实现崇高的理想,所以它是一种理性主义的哲学。

——马克垚《世界文明史》

材料二:关于宋代的思想文化有两种看法具有代表性。

费正清认为:“朱熹歿后,他的理学思想逐渐成为一种僵化的正统思想……宋代以后中国文化发展滞缓,使得中国在19世纪时积弱不振。”

吕思勉对宋代文化在总体上还是相当推崇的,认为“宋朝是一个有创辟的时代。其学术思想和文艺都有和前人不同之处。”

(1)根据材料并结合所学知识,说明宋代理学如何发展了“儒学”。朱熹认为怎样才能达到“圣人”境界?(6分)

(2)关于宋代的思想文化,你同意材料二中的哪种看法?请结合史实说明理由。(只列看法,不说理由不得分)(4分)

32. (10分)阅读下列材料,回答问题。

材料一:世界已分为“自由制度”和“极权政制”两个阵营……我认为,美国的政策必须是支持自由国家的人民抵抗少数武装分子或外来压力企图加于他们的奴役。我认为我们必须援助自由人民“自己的方式来规划自己的命运。全世界自由的人民指望着我们支持他们、维护他们的自由”。

——杜鲁门在国会两院联席会议上的讲话(1947)

材料二:北约组织则将西欧国家纳入共同防御体系,从而避免了共产主义的扩张。后修正主义学派不认为共产主义具有扩张性,企图推翻“自由世界”,但是他们同时认为美国在欧洲的政策在确保欧洲的稳定方面是必要的,从而避免权力向苏联倾斜,最终危及到西方的经济、政治制度。

——根据百度词条“冷战”整理

(1)材料一中杜鲁门所说的“自由制度”和“极权政制”分别指什么?(2分)指出美国“援助自由人民”在经济上的具体措施。(1分)

(2)根据材料二,指出北约组织建立的时间并概括其作用。(3分)

(3)根据材料并结合所学知识,分析美苏冷战的历史影响。(4分)

33. 【加试题】(10分)古罗马在世界文明发展史上曾经创造了辉煌的成果,留下了许多杰出的文明遗产。阅读下列材料,回答问题。

材料一:罗马是从一个点逐渐发展开来,用战争的手段,用征服的手段把罗马逐步扩大,扩大成为我们所知道的罗马帝国,覆盖了绝大部分现在的欧洲还包括一部分小亚细亚,和一部分北非,成为一个跨欧洲、亚洲、非洲三大洲的这么一个庞大帝国。

——陈乐民《欧洲文明十五讲》

材料二:罗马给后人留下的第二个精神就是孟德斯鸠所说的“法的精神”。……哪个皇帝都有法律,根据当时不同的情况有针对元老院的、针对公民的、针对人际关系的、针对社会秩序的等各种法律,这些法律汇集成为了“罗马法”。

——陈乐民《欧洲文明十五讲》

(1)试举两个能印证罗马“用征服的手段把罗马逐步扩大”的历史遗迹。并说明这两个遗迹的重要价值。(6分)

(2)结合材料二和所学知识,说明罗马法律如何有效地维护了统治?(4分)

34. 【加试题】(10分)孙中山和甘地是近代亚洲觉醒的先驱。阅读下列材料,回答问题。

材料一:我们革命的目标,是为中国谋幸福,因不愿少数满洲人专制,故要民族革命;不愿君主一人专制,故要政治革命;不愿少数富人专制,故要社会革命。……达到了这三样目的之后,我们的中国当成为至完美的国家。

——孙中山《民报》创刊周年纪念会演说

材料二:非暴力的核心是爱和感化。甘地继承了古代耆那教、佛教和印度教道德观中的“戒杀”原则……虽然甘地的“非暴力”学说带有很浓的宗教神秘主义色彩,但是也表现出他对西方自由、平等、博爱的人道主义思想的强烈追求。

——朱明忠《学者评甘地的非暴力主义及其影响》

材料三:甘地认为振兴印度经济必须从复兴手纺车开始,“回到纺车去”成为甘地经济思想的中心口号,开展家庭纺织运动成为他的经济自主运动的主要内容。

——人教版《中外历史人物评说》

(1)根据材料一并结合所学知识,分别列举孙中山在民族革命、政治革命和社会革命方面的具体举措。(3分)

(2)根据材料二,概括甘地“非暴力思想”的内涵与来源。(3分)

(3)结合上述三则材料和所学知识,简述孙中山和甘地在民族独立和发展问题上的异同。(4分)

浙江省新高考学考·选考模拟卷

历史(三)

命题学校:鲁迅中学

本试卷分选择题和非选择题两部分,满分 100 分,考试时间 90 分钟,其中加试题部分 30 分

一、选择题(本大题共 30 小题,每小题 2 分,共 60 分。每小题列出的四个备选项中只有一个是符合题目要求的,不选、多选、错选均不得分)

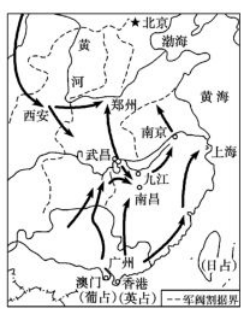
1. “民为贵,社稷次之,君为轻”。下列与此主张属于同一个思想流派的是 ()
 - A. 事在四方,要在中央。圣人执要,四方来效
 - B. 以德兼人者王,以力兼人者弱,以富兼人者贫,古今一也
 - C. 天子唯能一同天下之义,是以天下治也
 - D. 邻国相望,鸡犬之声相闻,民至老死,不相往来
2. 史载:“入阁办事者,职在批答,犹开府之书记也,其事既轻,而批答之意,又必自内授之后而拟之,可谓有其实乎!”这从本质上反映了 ()
 - A. 内阁入阁官员的权势和地位逐渐提高
 - B. 内阁最终掌握朝廷一切决策大权
 - C. 专制皇权在制度上得到了进一步强化
 - D. 内阁是统率六部百司的政务机构
3. 文天祥在《指南录》中写道:“臣心一片磁针石,不指南方不肯休。”以此来体现其报国之心坚定不二,像磁针石一样,永远指向南方。这里他的比喻借用的是古代科技中的 ()
 - A. 造纸术
 - B. 火药
 - C. 指南针
 - D. 印刷术
4. 中国古代有一思想家认为,“发窍之最精处,是人心一点灵明”,“愚夫愚妇与圣人同”,这位思想家是 ()
 - A. 朱熹
 - B. 陆九渊
 - C. 王阳明
 - D. 黄宗羲
5. 水利对中国古代农业的发展有着十分重要的作用。下列关于中国古代水利成就的介绍,不正确的是 ()
 - A. 宋代的水转翻车利用水力来灌溉高处的农田
 - B. 都江堰是造福关中地区人民的著名水利工程
 - C. 早期史书中把《河渠书》、《沟洫志》列为专篇
 - D. 汉代创造的“井渠”至今还流行于吐鲁番等地
6. 甲午战争后,清政府放宽了民间设厂的限制,在“实业救国思潮”的影响下涌现出一批民族实业家,他们是 ()
 - ①孙英德 ②张謇 ③陈启源 ④荣德生
 - A. ①③
 - B. ②③
 - C. ①④
 - D. ②④
7. 有一位近代思想家在其著作《仁学》中论述道:“俗学陋行,动言名教……以名为教,则其教已为实之宾,而决非实也。又况名者由人创造,上以制其下而下不能不奉之,则数千年三纲五常之惨祸酷毒由此矣。”这位思想家最有可能是 ()
 - A. 康有为
 - B. 梁启超
 - C. 谭嗣同
 - D. 严复
8. 《中华民国临时约法》第二条规定:中华民国之主权属于国民全体。这 ()
 - A. 体现了主权在民的原则
 - B. 说明中国人民当家作主了
 - C. 标志着封建制度的灭亡
 - D. 使民主共和观念深入人心
9. 右表反映了 1913—1918 年我国民族资本棉纺织工业的情况,这一情况出现的原因有 ()

年	纱锭(枚)	布机(台)
1913	482192	1986
1914	554780	2316
1918	647570	2736

 - A. 列强终止对华商品输出
 - B. 南京国民政府的鼓励
 - C. 提倡国货运动的推动
 - D. 新文化运动直接冲击
10. 近代一位学者曾说过这样一段话:“古文经过桐城派的廓清,变成通顺明白的文体,所以在那几十年中,古文家还能勉强挣扎,要想运用那种文体来供给一个骤变的时代的需要。新的事物太多了,新的知识太复杂了,新的思想太广博了,那种简单的古文体,无论怎样变化,终不能应付这个新时代的要求,终于失败了。”这位学者最有可能是 ()
 - A. 辜鸿铭
 - B. 张謇
 - C. 鲁迅
 - D. 胡适
11. 下面四幅图片反映了中国共产党在不同历史时期的活动,下面时序排列正确的是 ()



①



②



③



④

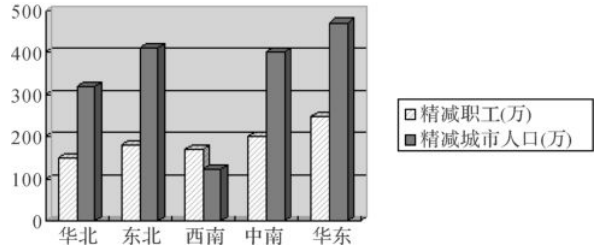
- A. ①②③④ B. ②①④③ C. ②④①③ D. ③④①②

12. 周恩来曾在一次国际会议上提出如下建议:1、交战双方的一切武装力量在印度支那全境同时实现完全停火;……3、停火期间停止从境外进入各种新的部队和军事人员以及各种武器和弹药;……6、互相释放战俘和被拘的平民。这次会议是 ()

- A. 日内瓦会议 B. 万隆会议 C. 第26届联合国大会 D. 朝鲜停战谈判会议

13. 实现祖国的完全统一是海内外中华儿女的共同心愿,为早日解决台湾问题,中国政府多次出台政策和方针。下列在20世纪90年代成为中国政府解决台湾问题纲领性文件的是 ()

- A. 《告台湾同胞书》
B. 《关于台湾回归祖国,实现和平统一的方针政策》
C. 《中华人民共和国台湾同胞投资保护法》
D. 《为促进祖国统一大业的完成而继续奋斗》



14. 右图所示为“1962年各地精减职工和减少城镇人口计划数”。当时各地这些数据的出台,主要是由于 ()

- A. 知青上山下乡运动开展
B. 工业布局的区域性调整
C. 经济体制开始有所突破
D. 粮食供应发生重大变化

15. 右图反映了中国共产党的某次会议首次确定的关于经济结构的方针,这一方针是与要使市场在国家宏观调控下对资源配置起基础作用的目标相适应的。这次会议是 ()



- A. 中共十一届三中全会
B. 中共十二届三中全会
C. 中共十四届三中全会
D. 中共十五大

16. 图拉真广场建于公元107年,是为了纪念图拉真大帝远征罗马尼亚获胜而修建。如果当时有罗马尼亚人因试图破坏图拉真广场而被捕,进行判决可以依据的法律是 ()

- A. 习惯法 B. 公民法 C. 万民法 D. 自然法

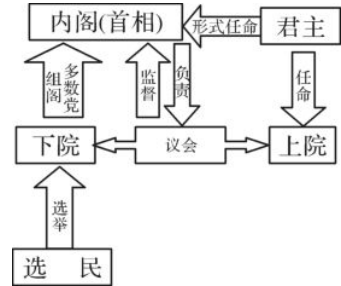
17. 近代西方有一思想家指出“我们人类的骨肉都是用同样的物质造成的,我们的灵魂都是天主赐给的,具备着同等的机能和一样的效用。”这一论断 ()

- A. 肯定了人类天生一律平等 C. 首次论证了天赋人权的核心理论
B. 歌颂了人间的仁爱和友谊 D. 使人们获得了灵魂自救的自主权

18. 中国近代一位思想家在游历欧美时发现一种新出现的企业组织对经济会产生如下影响:它一方面可以保障投资者的优厚利润,提高投资者兴趣,刺激投资,促进业务扩充,有利于经济发展;另一方面会减少竞争,阻碍企业技术进步和新兴企业的发展,影响中小企业的生存,增加消费者的负担。这种组织的出现最早可能发生在 ()

- A. 18世纪中后期 B. 19世纪前期 C. 19世纪中后期 D. 20世纪中叶

19. 右图为近代西方某个国家的机构之间相互关系的示意图,这个国家最有可能是 ()



- A. 英国 B. 美国
C. 法国 D. 德国

20. 1755年,伏尔泰在给卢梭的回信中这样写道:“从来没有人用这么多的才智来让我们变得愚蠢;读您的大作让人想爬在地上四足行走。不过,由于我丢掉这个习惯已有六十多年,我遗憾地意识到要重操旧习在我不可能的了……”伏尔泰以上说法主要是针对卢梭的 ()

- A. “人生而自由平等” B. 浪漫主义
C. 社会契约论 D. 人民主权说

21. 有学者曾这样评论美国1787年宪法中的某一制度设计“既由小共和国组成,它便享有各共和国的内部幸福,至于对外情况,由于联合,它具有大君主国的一切优点。”在这一制度设计中 ()

- A. 联邦和各州的权力冲突由独立的司法机构来裁决
B. 全国政府与构成单位政府是核心与边缘的关系
C. 各构成单位的人民在主权让渡以后丧失了自治权
D. 各构成单位的政府首长一般由中央政府予以任命

22. 第二次世界大战中盟军进行了多次军事行动,大大加速了第二次世界大战的历史进程。右图中描绘的盟军的军事行动 ()



- A. 使德国处于东西两线作战的局面
B. 促使法西斯轴心国集团开始瓦解
C. 使盟军牢牢掌握太平洋战场主动权
D. 使苏德战场局势发生根本性转折

23. 一位评论家在谈到美国某总统一项政策声明的真实目的时指出:“我们

选择希腊和土耳其不是因为它们特别需要援助,也不是因为它们是民主的光辉典范,而是因为它们是通向黑海和苏联心脏的战略大门。”这项政策声明 ()

①力图将战争的祸水引向苏联 ②表明东西方意识形态的对立日益显现 ③导致世界分裂为两个对立的经济体系 ④标志着美国的对外政策开始发生重大变化

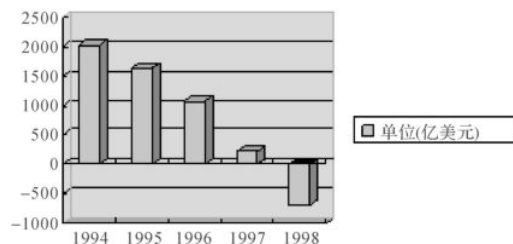
- A. ①② B. ①③ C. ②④ D. ③④

24. 1929年后,各主要资本主义纷纷实行本国货币贬值的政策,各国之间货币战愈演愈烈,导致了资本主义世界金融体系的崩溃。第二次世界大战后初期为改变这种局面,国际社会建立了 ()

- A. 经济互助委员会 B. 世界贸易组织 C. 布雷顿森林体系 D. 关贸总协定

25. 右图为1994—1998年美国政府的财政赤字变化的统计数据,下列美国政府的举措与这些变化的形成无关的是 ()

- A. 裁减政府所雇人员
B. 扶植高新技术产业
C. 适当增税鼓励消费
D. 减少健康保险投资



26. 【加试题】《汉书》有不少关于葬制的记载,其中有“黄肠题凑”,即黄心柏木累于棺外,称“黄肠”,木的头向内称“题凑”。但有不少专家一直怀疑这种记载的真实性。1974—1975年,考古工作者在北京丰台大葆台发掘了一座西汉墓葬,为了解古籍中记载的“黄肠题凑”提供了直接的证据。这说明 ()

- A. 考古资料比文献材料更加真实可信 B. 历史文献的记载不存在纯粹客观性
C. 历史文献必须经过考古发现的证实 D. 田野考古是历史研究的重要依据

27. 【加试题】鲁迅在《汉文学史纲要》对屈原的一部作品论述道:“战国之世……在韵言则有屈原起于楚,被谗放逐所作。逸响伟辞,卓绝一世。……较之于《诗》,则其言甚长,其思甚幻,其文甚丽,其旨甚明,凭心而言,不遵矩度。”下列作品在创作风格上,可与屈原的这部作品对应的是 ()



A. 《星月夜》



B. 《安娜·卡列尼娜》



C. 《命运交响曲》



D. 《唐璜》

28. 【加试题】孔子和亚里士多德是东西方先哲,他们的共同点不包括 ()

- A. 热衷教育,广招门徒 B. 著书立说,文化巨擘
C. “中庸思想”,反对极端 D. 为政以德,以礼治国

29. 【加试题】这是一场被称为“大炮巨舰高峰”的战役,交战的英德双方共出动约250多艘战舰。以下对这场战役的描述正确的是 ()

- A. 宣告了德军“速战速决”战略的破产 B. 这是第一次世界大战中规模最大的战役
C. 英国海军仍然牢牢掌握着制海权 D. 是大战中最具有决定性意义的一战

30. 【加试题】宏村和西递是最具代表性的皖南古村落,下列属于它们共同特点的是 ()

- ①粉墙青瓦马头墙 ②木雕、砖雕、石雕精美 ③巧夺天工的村落水系 ④与自然环境和谐统一
A. ①②③ B. ①③④ C. ②③④ D. ①②③④

二、非选择题(本大题共4小题,每小题10分,共40分)

31. (10分)为了适应新时代,出现了许多新思想,在实践中又不断演化。阅读下列材料,回答问题。

材料一:大天而思之,孰与物畜而制之;从天而颂之,孰与制天命而用之。……圣人之所以同于众其不异于众者,性也;所以异而过众者,伪也。……学恶乎始?恶乎终?曰:其数则始乎诵经,终乎读礼。其义则始乎为士,终乎为圣人。

——《荀子》

材料二:甲午战后,严复开始翻译赫胥黎的《进化论与伦理学》,严复的翻译并不是系统介绍地该书的学说,而是结合中国的国情,对原著做了选择和改造。……随着时代的变迁,历史的发展,天演思潮的倡导者们在思想上发生了分歧。一种以康有为、严复为代表的和平渐进论。强调社会进步的循序性,反对革命突变论。一派以孙中山等人为代表的革命突变论,注重质变、飞跃,认为中国可以跨越一个时期而达于另一个时期。

——《中国历史(晚清民国卷)》

(1)根据材料一并联系所学知识,概括荀子的思想观点,并指出荀子对战国时期儒家思想发展所做出的历史贡献。(4分)

(2)根据材料二并结合所学知识,简述严复对赫胥黎著作“选择和改造”的内容。用一句话概括严复宣扬该

学说的历史意义。分析康有为和孙中山在倡导天演论上产生“分歧”的背景。(6分)

32. (10分) 德国作为第二次工业革命的发源地之一,是世界市场的形成中重要的推动力。阅读下列材料,回答问题。

材料一:德国全境的工业化开始于19世纪中期,进展速度较快。工业化进展最快的是德国的西南部,这里正是德意志境内最早摆脱传统生产方式的地方……1835年德国,铁路网才开始建设,到1871年达到12253英里,通过铁路网的建设和运行,德意志境内各个邦国已经连接在一起了。虽然从19世纪中期起德国已经突破了传统生产方式的束缚,建立了资本主义制度,并较快地推进了工业化,但从那时起,在德国经济中,政府高层官员同企业界巨头之间有形或无形的结盟对经济一直发生有力的影响。

——厉以宁《工业化和制度调整》

材料二:19世纪90年代的世界和18世纪90年代的世界究竟有什么不一样?……首先,它现在已是名副其实的全球化世界。世界的每一个角落现在几乎均已为人所知,也都或详细或简略地被绘制成地图。除了无关紧要的例外情形以外,探险不再是“发现”,而是一种运动挑战,往往带有强烈的个人或国家竞争的成分。

——《世界近代史资料汇编》

- (1)根据材料一并结合所学知识,概括19世纪后半期德国工业化道路的特点,并列举3例德国在第二次工业革命中的主要发明。(6分)
- (2)根据材料二并结合所学知识,简述“全球性世界”形成的原因,并概述“全球性世界”的框架和手段。(4分)

33. 【加试题】(10分)阅读下列材料,回答问题。

材料一:第四条 苏联之经济基础为社会主义经济体系及社会主义生产工具与生产资料所有制,此体系及所有制因铲除资本主义经济体系,废除生产工具与生产资料私有制以及消灭人对人的剥削而业经奠定。……第十一条 苏联之经济生活,受国家所定国民经济计划之决定及指导,以期增进社会财富,一贯提高劳动民众之物质文化水准,巩固苏联之独立并加强其国防能力。

——《1936年苏联宪法》

材料二:必须优先发展生产资料的生产,这是已经定了的。但是决不可以因此忽视生活资料尤其是粮食的生产。……我国全部轻工业和重工业,都有约百分之七十在沿海,只有百分之三十在内地。……内地工业必须大力发展。……在合作社的收入中,国家拿多少,合作社拿多少,农民拿多少,以及怎样拿法,都要规定得适当。

——毛泽东《论十大关系》(1956年4月)

- (1)根据材料一并联系所学知识,概括斯大林模式在经济方面的特征,并分析其对苏联经济所产生的影响。(5分)
- (2)根据材料二,简述《论十大关系》的主要内容。指出毛泽东《论十大关系》的历史地位。(5分)

34. 【加试题】(10分)作为“全希腊的学校”的雅典,创造了辉煌灿烂的文明。阅读下列材料,回答问题。

材料一:



雅典卫城遗址



平遥古城平面图

材料二:苏格拉底在政治上所立的前提,可概括成这样的原则:“整个城邦的一切应尽可能地求其划一,愈一致愈好。”可是一个尽量趋向整体化的城邦最后一定不会成其为一个城邦。……城邦不同于军事联盟。为了互相支援,城邦因形势所向而订结的联盟就是以量取胜的;加盟各邦在本质上相似,但一邦加上另一邦,就像在天秤上的这一边加了另一重物,势必压倒另一边了。……那些思想家所拟的以划一求完整,实际上不合于城邦的本性,他们那种城邦所希望达到的最高成就实际上就是城邦的消亡。……达到高度自给的城邦才可以称为真正的城邦。

——亚里士多德《政治学》

- (1)根据材料一并结合所学知识,分别简述雅典卫城、平遥古城在建筑布局、文化内涵上的差异。(4分)
- (2)材料二中苏格拉底和亚里士多德二人在城邦政治发展趋势上持有不同观点,你支持谁的主张?请选择其中一人对他的观点加以概括,并说明其观点的合理性。(6分)

浙江省新高考学考·选考模拟卷

历史(四)

命题学校:衢州二中

本试卷分选择题和非选择题两部分,满分100分,考试时间90分钟,其中加试题部分30分

一、选择题(本大题共30小题,每小题2分,共60分。每小题列出的四个备选项中只有一个是符合题目要求的,不选、多选、错选均不得分)

1. “然则反古者未可必非,循礼者未足多是也。”此话最有可能出自 ()

- A. 法家 B. 儒家 C. 道家 D. 墨家

2. “先生游南镇,一友指岩中花树,问曰:‘天下无心外之物,如此花树在深山中自开自落,于我心亦何相干?’先生云:‘尔未看此花时,此花与尔心同归于寂;尔来看此花时,则此花颜色一时明白起来,便知此花不在尔的心外。’”材料中的先生是 ()

- A. 张载 B. 朱熹 C. 陆九渊 D. 王守仁

3. 王莽执政时曾在长安和“五都”设“五均”官,控制市场物价。在右图中属于“五都”的是 ()

- A. ①②③④⑤
B. ②③④⑤⑥
C. ①②③④⑥
D. ①③④⑤⑥



4. 古代中国和西方都产生了法治思想。下列关于两者的比较,说法正确的是 ()

- A. 中国的法治思想比西方悠久得多
B. 两者诞生的社会背景有很大差异
C. 都体现法律面前人人平等的精神
D. 都有一样强大的生命力和影响力

5. 历史武侠小说《神雕英雄传》第1回:“(曲三)慢慢烫了两壶酒,摆出一碟蚕豆、一碟咸花生,一碟豆腐干,另有三个切开的咸蛋。”“杨铁心见一壶酒已喝完了,又要了一壶,三人只是痛骂秦桧。那跛子又端上一碟蚕豆、一碟花生。”对材料看法正确的是 ()

- ①反映的时代背景是在宋朝 ②是研究宋代经济的有力材料 ③是虚构小说,毫无史料价值 ④有知识性错,虚构有硬伤

- A. ①② B. ③④ C. ①④ D. ②④

6. 钱穆在《中国历代政治得失》中说:“当时虽非封建社会,爵位不世袭,而书却可以世袭。……学问与书本,却变成了一种变相的资本。所以说黄金满籯,不如遗子一经,这便是一本书的资本价值胜过了一箩筐黄金的资本价值了。因此当时一个读书家庭,很容易变成一个做官家庭,而同时便是有钱有势的家庭。”材料所反映的情况最早可能出现于 ()

- A. 先秦 B. 汉代 C. 隋唐 D. 明清

7. 有学者认为“中国古代的政治制度有一些是制度,有一些则只能叫做法术。大抵制度是出之于公的,在公的用心下形成的一些度量分寸是制度。而法术则出之于私,因此没有一定恰好的节限。”下列制度中更倾向于“法术”的是 ()

- A. 刺史制度 B. 三省六部制 C. 科举制 D. 内阁制度

8. 《文献通考·钱币考》说:“初蜀人以铁钱重,私为券,谓之交子,以便贸易。富人16户主之。其后富人稍衰,不能偿所负,争讼数起。……薛田为转运使……请官为置务,禁民私造。诏从其请,置交子务于益州(四川)。”材料不能说明交子 ()

- A. 方便商人的携带 B. 有利于商业活动 C. 始终是私人发行 D. 使用也产生弊端

9. 1912年2月13日,孙中山向参议院辞职,并咨文参议院:“此次清帝逊位,南北统一,袁君之力实多……且袁君富于经验,民国统一,赖有建设之才,故敢以私见贡荐于贵院。请为民国前途熟计,无失当选之人。大局幸甚。”材料不能说明孙中山 ()

- A. 自己辞去临时大总统职位 B. 认为袁世凯是总统适合人选
C. 肯定袁世凯革命贡献颇多 D. 看出袁世凯善于耍阴谋诡计

10. 2008年6月1日,四川省利州区第三次全国文物普查工作队在在大石镇境内开展文物普查时发现石刻标语(右图)。标语内容为“武装保卫苏联”,落款为“丁一”(部队番号代码)。由此得出的结论不正确的是 ()

- A. 此标语肯定出现在1936年前
B. 这支部队名称叫中国工农红军
C. 刻标语时国共未实现再次合作
D. 这时苏联已经被卷入世界大战



11. 抗日战争是中国人民反对帝国主义侵略的第一次完全胜利。右图所示的战争 ()



- A. 标志着中国抗战全面开始
- B. 粉碎了日本速灭中国图谋
- C. 使抗日战争达到最大规模
- D. 取得了抗战以来最大胜利

12. 光绪 34 年(1908 年), 朝廷就颁行了《违警律》, 其中第 27 条规定: “乘自行车不设铃(铃铛)号(牌)者, 处五日以下一日以上拘留, 或五元以下一角以上之罚金。” 这表明 ()

- ①1908 年前后自行车才传入我国。 ②当时自行车已有较多的人使用。
- ③政府制定法律阻止自行车普及。 ④政府对自行车进行了规范使用。
- A. ①② B. ③④
- C. ②③ D. ②④

13. 1922 年北大入学考试, 国文题目共有两道, 其中一道是作文, 题为《述五四运动以来青年所得之教训》, 没想到有不少中学毕业生竟然不知“五四运动”为何事而缴了白卷。材料表明五四运动 ()

- A. 促进了新文化的传播 B. 有利于解放人们思想
- C. 是新民主主义的开端 D. 对中国影响远未普及

14. 下列新中国外交事件, 按时间先后顺序排列正确的是 ()

- ①中国恢复在联合国合法席位 ②中美在上海签订《中美联合公报》
- ③中日签署《中日联合声明》 ④中美发表《关于建立外交关系的联合公报》
- A. ①②③④ B. ①③②④ C. ①④②③ D. ②①③④

15. 中国共产党自成立以来, 通过召开会议制定方针、政策, 以适应时势, 下列会议所对应内容不正确的是 ()

- A. 中共七届二中全会——通过《共同纲领》 B. 中共八大——分析基本国情和任务
- C. 中共十四大——明确经济体制改革目标 D. 中共十五大——提出邓小平理论作为党的指导思想

16. 标志着中国在航天技术和运载火箭技术方面已经迈入世界先进国家行列的是 ()

- A. 1970 年用长征 I 号把“东方红一号”卫星送入预定轨道
- B. 1980 年中国向南太平洋成功发射远程运载火箭
- C. 1984 年中国成功发射了第一颗试验通信卫星
- D. 1999 年以来“神舟号”宇宙飞船的成功发射

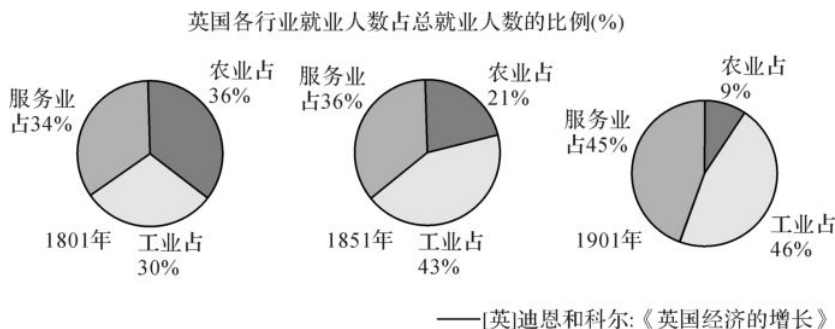
17. “我们看到雅典城邦是如何运转的, 在这里, 善于辞令具有根本的重要性。唯有这种能力能使一个人为人所知、在公民大会提交计划、从事政治职业。” 出现这一情况的主要原因是 ()

- A. 雅典城邦的民主政治 B. 雅典城邦的智者学派
- C. 古希腊特殊的地理环境 D. 古希腊城邦林立的环境

18. 约翰·密尔在《代议制政府》中说: “代议制政体就是这样一种手段, 它使社会中现有的一般水平的智力和诚实以及社会中最有智慧的成员的个人才智和美德, 更直接地对政府施加影响……” 代议制有这样的优点, 主要原因在于 ()

- A. 自下而上的民主选举 B. 国王变成统而不治的虚君
- C. 民众直接行使决策权 D. 议会成为国家权力的中心

19. 从下图中得出的结论, 错误的是 ()



- A. 经济结构发生了很大变化 B. 农业经济在不断下降倒退
- C. 工业革命是其变化的主因 D. 英国工业化水平不断提高

20. “人为追求自己利益最大化, 必然导致争斗, 社会必然无序混乱, 从而使每个人的利益都受害。于是人们在一起相互订立契约, 自愿让渡一部分自然权利, 交付给某一个人或一些人, 使他们具有权威统一治理, 这样国家、政府、君主就诞生了, 人类进入了有政府的和平安全状态”。材料所蕴含的思想不包括 ()

- A. 社会契约论 B. 人民主权说 C. 人性论 D. 分权学说

21. 某学说被诬蔑为“褻渎圣灵”，触犯“君权神授天理”，有失人类尊严。这一学说是 ()
 A. 万有引力 B. 进化论 C. 量子理论 D. 相对论
22. 路德维希·艾哈德：“在现有条件下，国家必须有计划和有调节地为经济确定目标并且提出方向性的经济政策原则。在这个意义上，国家的主动性就是而且应该是无可辩驳的。但是进而想把企业家弄成官府意志的奴隶和单纯的执行机器，那就必然毁灭一切人格价值并剥夺经济界最宝贵的动力。”对材料理解最确切的是 ()
 A. 体现凯恩斯主义的经济思想 B. 主张实行自由主义的经济思想
 C. 认为干预会带来严重的问题 D. 主张干预和自由之间取得平衡
23. 当前世界政治格局多极化的趋势中存在多个力量中心，这些力量中心有 ()
 ①美国 ②苏联 ③中国 ④不结盟运动
 A. ①②③ B. ①③④ C. ①③ D. ①②③④
24. 钱学森说：“科学革命是人认识客观世界的飞跃，技术革命是人改造客观世界技术的飞跃。而科学革命、技术革命又会引起全社会整个物质资料生产的变革及产业革命。在今天，科学革命在先，然后导致技术革命，最后出现产业革命。”下列符合钱学森观点的是 ()
 A. 自由落体定律——惯性定律——相对论 B. 牛顿力学体系——改良蒸汽机——水力纺纱厂
 C. 电磁感应现象——发电机——电力生产 D. 爱因斯坦相对论——原子弹——核电站
25. 2016年6月23日英国进行脱欧公投，结果同意脱欧51.9%，共1570万人，同意留欧48.1%，共1458万人，此后英国开始了脱欧的进程。这表明 ()
 ①欧洲一体化遭遇挫折 ②英国违背全球化的潮流 ③英国民众政治素养低 ④英国与欧盟矛盾难化解
 A. ①② B. ②③ C. ③④ D. ①④
26. 【加试题】唐太宗的出生，《旧唐书》里的记载极为神奇：隋开皇十八年十二月戊午，生于武功之别馆。时有二龙戏于馆门之外，三日而去。高祖之临岐州，太宗时年四岁。有书生自言善相，谒高祖曰：“公贵人也，且有贵子。”见太宗，曰：“龙凤之姿，天日之表，年将二十，必能济世安民矣。”高祖惧其言泄，将杀之，忽失所在，因采“济世安民”之义以为名焉。用此段材料研究唐太宗所得出的下列结论，可靠的是 ()
 A. 是编造的，没有可信之处 B. 表明唐太宗不是一般的常人
 C. 有迷信色彩，对研究唐太宗没有价值 D. 虽有编造和迷信，还是有可信之处及价值
27. 【加试题】康德曾预言：“通过一场革命或许可以实现推翻个人专制以及贪婪心和权势欲的压迫，但却绝不能实现思想方式的真正改革；而新的偏见也正如旧的一样，将会成为驾驭缺少思想的广大人群的圈套”。其含义最确切的是 ()
 A. 革命有很大的局限和副作用 B. 革命只会出现新的思想偏见
 C. 革命不能促使思想革新变化 D. 革命只能推翻政治上的压迫
28. 【加试题】斯大林说：“我们比先进国家落后了五十年至一百年。我们应当在十年内跑完这一段距离。或者我们做到这一点，或者我们被人打倒。”“落后了一百年并因落后而有灭亡危险的国家是不能不加以督促的”。由此直接导致斯大林模式的特点是 ()
 A. 重点发展重工业 B. 突出高速度发展 C. 建立高集权制度 D. 排斥市场的调节
29. 【加试题】恩格斯说：“商业日益变成欺诈。革命的箴言‘博爱’在竞争的诡计和嫉妒中获得了实现。贿赂代替了暴力压迫，金钱代替了刀剑，成为社会权力的第一杠杆……总之，和启蒙学者的华美预言比起来，由‘理性的胜利’建立起来的社会制度和政治制度竟是一副令人极度失望的讽刺画。”下列哪部作品不是诞生于材料所揭示的社会背景 ()
 A. 雨果的《巴黎圣母院》 B. 贝多芬《第九交响曲》
 C. 德拉克洛瓦《自由引导人民》 D. 司汤达的《红与黑》
30. 【加试题】右图是第二次世界大战过程中发生的一次重大事件，下列对此事件的评价正确的是 ()



二、非选择题(本大题共4小题,每小题10分,共40分)

31. (10分)阅读下列材料,回答问题。

《新青年》杂志起死回生的一个重要转折点,是陈独秀担任北大文科学长。那个时候的北大,比今天北大在全国教育界的地位要高得多。杂志主编被教育部任命为全国最高学府的文科学长,本身就是一种无形的“广告”。

陈独秀到北大以后,拉了一批北大教授为《新青年》写稿,使杂志真正以全国最高学府为依托。这样一来,《新青年》由一个以安徽读书人为中心的地方性刊物,转变成为以北大教授为主体的“全国性”刊物。以至于“外面的人往往把《新青年》杂志和北京大学混为一谈”。

陈独秀为了扩大杂志的影响,还采取了一些措施:第一招,是文章“故作危言,以耸国民”,语不惊人死不

休。第二招,是自己骂自己。杂志编辑部假冒读者的名义,写一封骂自己杂志的“读者来信”,同时又写一篇文章加以批驳。两文同时登出来。虚拟的正方和反方各尽意气之能事,骂的人百般挑剔,批驳的人刻薄淋漓,非常具有戏剧性和观赏效果,激发和吸引读者的注意力。第三招,挑衅竞争对手,拿当时最有影响的刊物《东方杂志》开刀。

当时有一个赫赫有名的人物,叫林琴南。这个人到晚年,思想相当保守。他对《新青年》杂志发表的激进言论十分看不顺眼,于是就想方设法攻击《新青年》。最初写小说讽刺,后来直接写信责骂。由于林琴南名气很大,他这一骂可不得了,引起了新闻媒体的高度关注。新闻媒体竞相报道的结果是,《新青年》越挨骂,越出名,销量迅速攀升。

胡适曾经说过这样一段话:《新青年》杂志自1916年就有主张白话文,但白话文真以“一日千里”之势传播,是1919年以后。白话的传播遍于全国,与1919年的学生运动大有关系。因为“五四”运动发生后,各地的学生团体忽然办了约四百种白话报刊。这样一来,《新青年》提倡的白话文,迅速在全国传播开来,并且发展成为一场全国性的新文化运动。

——王奇生《新文化运动是如何“运动”起来的——以〈新青年〉为视点》

- (1)根据以上材料,概括《新青年》能逐步扩大影响的原因?(4分)哪点原因让你印象最深?选择其中一点简要说明理由。(2分)
- (2)根据材料和结合所学知识,列举《新青年》宣传的主要思想。(4分)

32. (10分)阅读下列材料,回答问题。

材料一:不同的历史时期,人类遭受的精神束缚是不一样的,这导致人类对人文精神追求的主题也有所不同。认识到这一点,意味着我们给人文精神下定义的时候,千万不要以某一历史时期的人文精神主题来涵盖一般意义上的人文精神概念。……我们不能够简单地认为人类对人文精神的追求是线性发展、不断进步的。……因此,我不主张把人文精神的历史看作是一个不断发展进步的历程,而主张采取“_____”这样一个中性词。

材料二:现代人文精神建设的一个特点就是人文主义与科学主义的交锋。随着现代科学技术的突飞猛进,人类创造了亘古未有、令人眩目的物质文明,与此同时,人被物质化的倾向也十分严重,疯狂地追求物质享受似乎成为现代人生存的唯一意义。这就是现代人文精神建设所面临的严峻课题。

——黄牧航《抓住教学的核心概念——二听“西方人文主义思想的起源”》

- (1)在人文精神这一问题上,材料一提示我们要注意什么问题?(4分)材料中空白处应填上的词是什么?(2分)
- (2)材料认为“不同的历史时期,……人类对人文精神追求的主题也有所不同”,结合材料二和所学知识,试举两例证明这一观点。(4分)

33. 【加试题】(10分)阅读下列材料,回答问题。

材料一:秦始皇陵建于秦王政元年(前247年)至秦二世二年(前208年),历时39年……。有内外两重夯土城垣,象征着帝都咸阳的皇城和宫城。陵冢位于内城南面,呈覆斗形,现高51米,底边周长1700余米。据史料记载,秦陵中还建有各式宫殿,陈列着许多奇异珍宝。秦陵四周分布着大量形制不同、内涵各异的陪葬坑和墓葬,现已探明的有400多个,其中包括举世闻名的“世界第八大奇迹”兵马俑坑。

——摘编自360百科

材料二:兵马俑坑内出土数千件形体高大的陶俑和陶马……都是按照秦军将卒的真实形象塑造的。它们用泥做材料,先用陶模按俑、马的不同部位翻出胎型,然后套合、粘接,再塑出五官、须发、铠甲、衣纹等细部。待阴干后,放进陶窑焙烧,然后再施以彩色。……千人千面,无一相同。

——摘编自人教版《世界文化遗产荟萃》

- (1)根据材料一、二,概括秦始皇陵及兵马俑的特点。(6分)
- (2)结合所学知识,分析秦朝能修成秦始皇陵的原因。(4分)

34. 【加试题】(10分)阅读下列材料,回答问题。

材料一:叶公(楚国大夫)语孔子曰:“吾党(乡)有直(正直)躬者,其父攘(窃取)羊,而子证之。”孔子曰:“吾党之直者异于是:父为子隐,子为父隐。直在其中矣。”

——《论语·子路》

材料二:在哲学思想的内容和方法上亚里士多德都同自己的老师柏拉图存在着严重的分歧。于是有些人就指责他背叛了老师,亚里士多德对此回敬了一句流传至今的名言:“吾爱吾师,吾更爱真理!”他还倡导“求知是人的本性”。

材料三:但丁(1265—1321):“知识加美德等于天堂之路”。培根(1561—1626):“知识就是力量”。牛顿(1643—1727):“我是柏拉图的朋友,我是亚里士多德的朋友,可我更好的朋友是真理。”

- (1)孔子和亚里士多德作为东西方文化的杰出代表,从材料一、二中可以看出他们的思想价值观有何不同?(2分)
- (2)材料一中的“隐”在我国历史文化的传统中有何表现,试举两例。(2分)请你简要谈谈对这种情况的看法。(2分)
- (3)根据材料三,指出亚里士多德的思想产生了怎样的影响?(2分)它与欧洲近代科学的产生有怎样的联系?(2分)