



# 脑洞动力 过关 游戏

刘玉成 | 编著




 中华工商联合出版社



# 脑动力 过关 游戏

刘玉成 | 编著



 中华工商联合出版社

## 图书在版编目 (CIP) 数据

脑动力过关游戏 / 刘玉成编著. -- 北京: 中华工商联合出版社, 2018.11

ISBN 978-7-5158-2425-3

I. ①脑… II. ①刘… III. ①智力游戏 IV.

①G898.2

中国版本图书馆CIP数据核字(2018)第228351号

### 脑动力过关游戏

---

作者: 刘玉成

选题策划: 关山美

责任编辑: 付德华 关山美

封面设计: 北京聚佰艺文化传播有限公司

责任审读: 于建廷

责任印制: 迈致红

出版发行: 中华工商联合出版社有限责任公司

印制: 北京毅峰迅捷印刷有限公司

版次: 2019年1月第1版

印次: 2019年1月第1次印刷

开本: 880mm×1230mm 1/32

字数: 180千字

印张: 7.125

书号: ISBN 978-7-5158-2425-3

定价: 30.00元

---

服务热线: 010—58301130

销售热线: 010—58301130

地址邮编: 北京市西城区西环广场A座  
19—20层, 100044

http: //www.chgslcbs.cn

E-mail: cicap1202@sina.com(营销中心)

E-mail: gslzbs@sina.com(总编室)

工商联版图书

版权所有 侵权必究

凡本社图书出现印装质量

问题, 请与印务部联系

联系电话: 010-58302915

# 目录

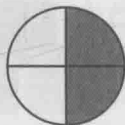
|        |     |
|--------|-----|
| 图形过关游戏 | 001 |
| 答案     | 015 |
| 创意过关游戏 | 026 |
| 答案     | 040 |
| 数字过关游戏 | 053 |
| 答案     | 074 |
| 逻辑过关游戏 | 086 |
| 答案     | 105 |
| 字母过关游戏 | 124 |
| 答案     | 133 |
| 谋略过关游戏 | 142 |
| 答案     | 157 |
| 立体过关游戏 | 171 |
| 答案     | 183 |
| 整合过关游戏 | 194 |
| 答案     | 208 |




图形过关游戏

## 第1关 按规律填图

?




(1)

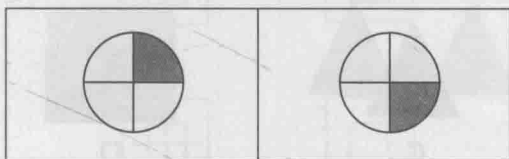


(2)

(3)



(4)




A


B

图形过关游戏

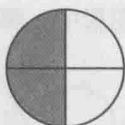
## 第2关 按规律填图



(1)



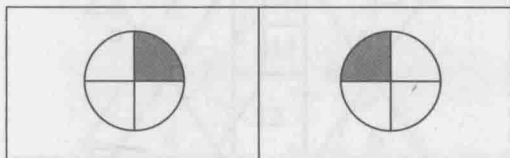
(2)



(3)

?

(4)




A

B




图形过关

### 第3关 哪个不一样



(5) A (7)



(5) B (7)



C




D

图形过关

### 第4关 找规律

A~F 六个图形中，哪个能延续这个图形序列？



A



B



C



D



E

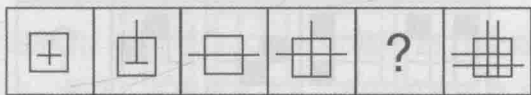


F



图形过关游戏

## 第5关 下一个图形



A



B



C

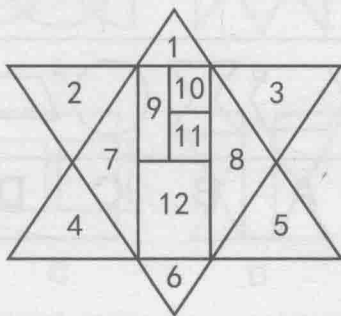


D

图形过关游戏

## 第6关 找图形


1. 图中有多少个三角形？
2. 图中有多少个长方形？
3. 你能够找到多少个六边形？






图形过关游戏

第7关 下一个图形




A



B



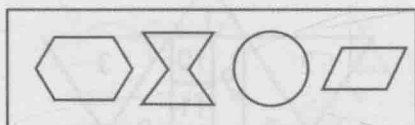

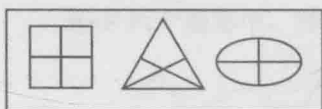
C



D

图形过关游戏

第8关 图形接龙



A

B

C

D



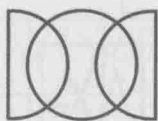
## 第9关 填入符号

如图所示，将符号○、△、×填入25个空格中，每格1个。那么，其中标有“？”的格子应该填入什么符号？


|   |   |   |   |   |
|---|---|---|---|---|
| ○ | × | △ | ○ | ○ |
| △ | × | △ | × | × |
| × | ○ | ○ | △ | △ |
| ○ | △ | × | ○ | ○ |
| ? | × | ○ | △ | × |

## 第10关 与众不同的一个


下面四个图形中，请找出与众不同的那个。



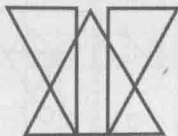
A



B



C

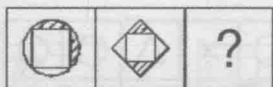


D



图形过关游戏

### 第 11 关 图形接龙



A

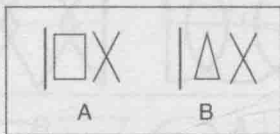
B

C

D

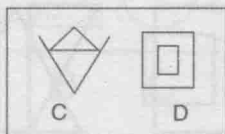
图形过关游戏

### 第 12 关 找出同类图形



A

B



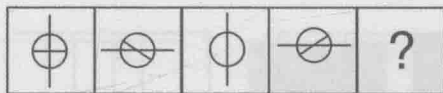
C

D



图形过关游戏

### 第 13 关 选出下一个图形



A



B



C

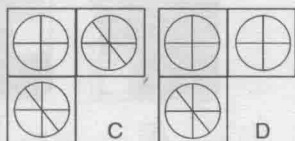
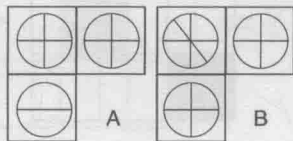



D

图形过关游戏

### 第 14 关 填补空白


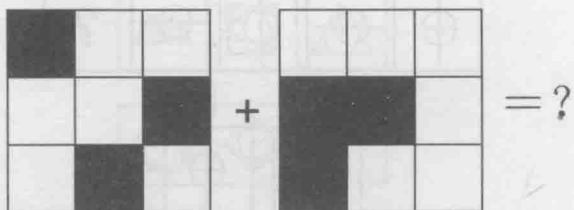
A~D 中，哪一块图案适合填在空白处？





图形过关游戏

## 第 15 关 黑白格




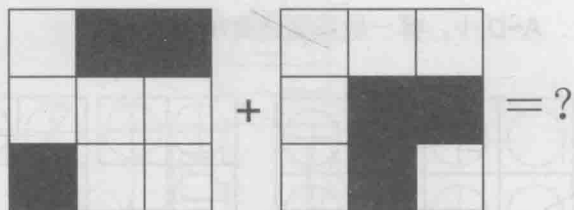
A

B

C

图形过关游戏

## 第 16 关 黑白格



A


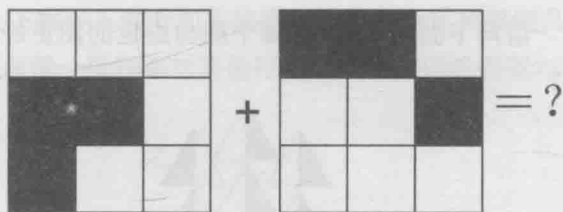
B

C




图形过关游戏


## 第17关 黑白格



A




B




C

图形过关游戏


## 第18关 黑白格



A



B




C



图形过关

## 第19关 相反的一面

请问下面 A~D 中的哪个图与给定的图正好左右相反?



图形过关

## 第20关 三色连线

请你用线将相同的颜色连起来。要求线与线之间不能交叉。






图形过关游戏

## 第21关 看图片找规律

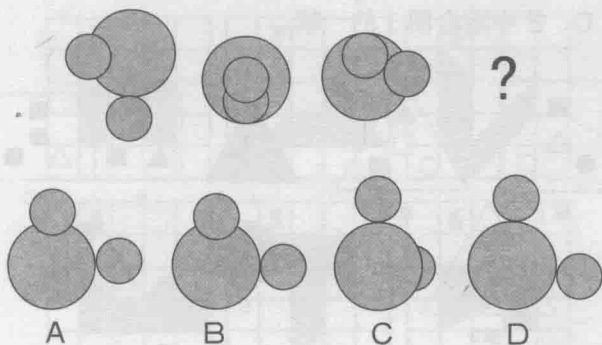
上下翻转下图中的条状框，请问最少需要颠倒几条才可以使每一横行都与其他行含有完全相同的图案？



图形过关游戏

## 第22关 图形变化

哪个选项是这一序列中缺少的？






图形过关

## 第23关 右下角是什么图

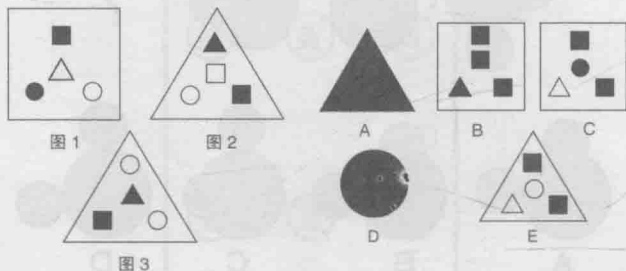
寻找下图中的规律，然后找出下图右下角的“？”处应该配上哪一个图形？



图形过关

## 第24关 图形匹配

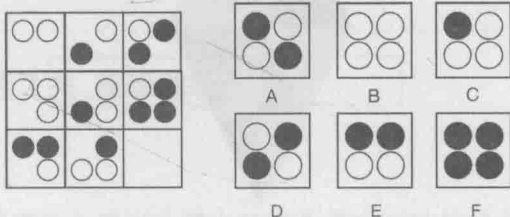
根据图1、图2这两幅图案间的关系，找出A、B、C、D、E中适合图3的一幅。





## 第25关 图形规律

仔细观察下面方格图形的每一横排和每一竖排，寻找其中的规律，然后按照这一规律，从下列A、B、C、D、E、F图中找出合适的图形填入下面图形中的空白方格。请问应该选择哪一个图形？



## 第26关 最大面积

图中的六个图形，哪个阴影面积最大？

