

ZHONGKAO NENGLI TISHENG XUNLIAN


本书编写组 编

中考能力提升训练

2016年郴州市初中毕业学业考试标准配套练习(含答题卡)

地理



 湖南教育出版社

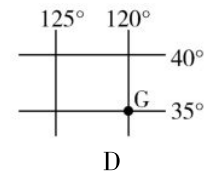
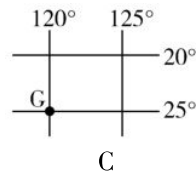
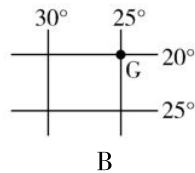
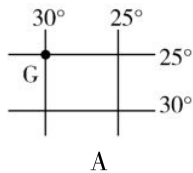
第一专题 地球 地图

(总分：100分 时量：45分钟)

一、单项选择题(把正确答案的字母代号填入下面的表中。每小题2分，共50分)

题号	1	2	3	4	5	6	7	8	9	10	11	12	13
答案													
题号	14	15	16	17	18	19	20	21	22	23	24	25	
答案													

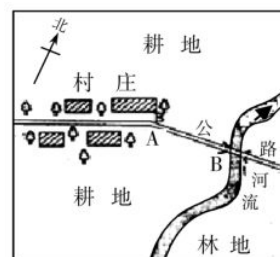
1. 下列四幅图中，同时符合“南半球、西半球、低纬度、有阳光直射现象”的G点是



2. 本初子午线是
 - A. 0°经线
 - B. 0°纬线
 - C. 最长的经线
 - D. 最长的纬线
3. 有关 23.5°N 的叙述，正确的是
 - A. 每年只有夏至日正午一次太阳直射
 - B. 在元旦这天，这里昼长夜短
 - C. 地处高纬度
 - D. 23.5°N 线比赤道长
4. 对某地(170°E、24°S)的判断，正确的是
 - A. 位于东半球
 - B. 位于北半球
 - C. 有极昼极夜现象
 - D. 位于南温带
5. 从长沙开私家车来郴州旅游，下列四种地图中，最方便实用的是
 - A. 车载电子交通旅游地图
 - B. 湖南省地形图
 - C. 湖南省政区图
 - D. 中国旅游景点分布图
6. 图上甲、乙两地的直线距离为 3 cm，地图的比例尺为 1 : 10000000，则甲、乙两地的实地距离是
 - A. 3000 千米
 - B. 300 千米
 - C. 30 千米
 - D. 3 千米
7. 四幅图幅大小相同的地图，比例尺最小的是
 - A. 世界地图
 - B. 中国地图
 - C. 郴州市地图
 - D. 湖南省地图
8. 下列四个时间中，郴州白昼最长的是
 - A. 元旦
 - B. 夏至
 - C. 冬至
 - D. 国庆节
9. 下列现象中，与地球自转有关的是
 - A. 郴州市四季分明，春暖、夏热、秋凉、冬冷
 - B. 我们学校冬、夏季使用不同的上课作息时间

- C. 低纬度气候炎热，高纬度气候寒冷，地球上形成了气候上的五带
- D. 地球上出现昼、夜更替现象

10. 读右图，下列叙述正确的是

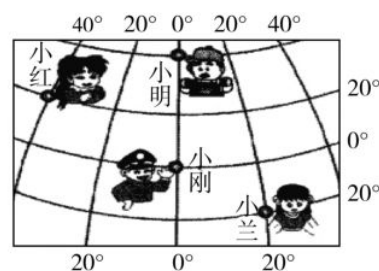


- A. 据图即可测量出公路 AB 间的实际距离
- B. 图示区域的地势西高东低
- C. 本区域以发展畜牧业为特色
- D. 图中河流的流向是自南向北

11. 在楼房的高层房间内遇到地震时，应如何避震

- A. 快速向高楼层移动
- B. 躲在玻璃窗下或横梁下
- C. 乘电梯快速下楼逃命
- D. 用枕头护头，就近躲在床、桌子下或躲在开间较小的房间里

12. 仔细判读经纬网图，对图中四个小朋友所在位置的叙述，正确的是



- A. 小红站在东、西半球的分界线上
- B. 小兰所在的地方气候终年寒冷
- C. 小刚站在南、北半球的分界线上
- D. 小明所在的地方正午时太阳总是照在头顶上

13. 下列自然灾害中，可能由人为因素诱发的是

- A. 山体滑坡、泥石流
- B. 火山喷发
- C. 台风
- D. 寒潮

14. 下列能证实地球是一个不规则的球体的事实是

- A. 海上归航的轮船，人们先见到船帆，再见到船身
- B. 哥伦布发现新大陆
- C. 麦哲伦船队环球航行
- D. 空间卫星遥感技术

15. 在等高线地形图上，下列说法正确的是

- ①山谷为集水线 ②鞍部等高线会重叠 ③山顶海拔数值小 ④山脊为分水线
- A. ①②
- B. ②③
- C. ②④
- D. ①④

16. 有关下列四个比例尺的叙述，正确的是

- ①1:10000000 ②图上1厘米代表实际距离100千米 ③1/100000 ④0 20千米
- A. 四个比例尺中，比例尺最大的是①
- B. 比例尺①>②
- C. 使用③比例尺的地图，内容最详细
- D. ④比例尺适合作为城市小区的规划图使用

读地中海沿岸图，完成 17~18 题。

17. 阿尔卑斯山脉的形成原因是

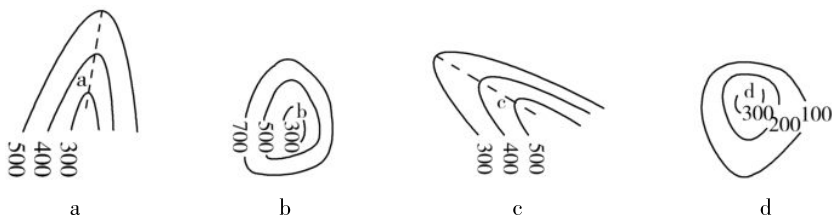
- A. 亚欧板块与非洲板块张裂形成的
- B. 非洲板块与亚欧板块互相挤压碰撞形成的
- C. 地中海的海浪冲刷堆积而形成的
- D. 原因不明



18. 有关地中海沿岸的叙述，正确的是

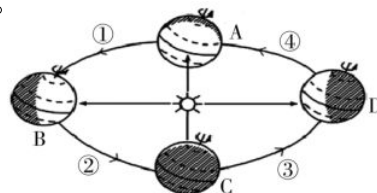
- A. 地中海沿岸深受大西洋的影响，形成了温带海洋性气候

- B. 受板块活动的影响，地中海和红海一样，面积都在不断扩大
 C. 地处亚、非、欧三大洲的交通要道，尤其是直布罗陀海峡、苏伊士运河等地理位置十分重要
 D. 地中海沿岸人种不同，北面是白色人种，南面多为黑色人种
19. 有关世界火山地震带的分布，下列叙述中错误的是
 A. 板块内部地壳活动剧烈，多火山和地震
 B. 板块的交界处地壳活跃，多火山和地震活动
 C. 环太平洋沿岸、地中海沿岸都是地壳活跃区，多火山和地震
 D. 日本被称为“地震之国”，印度尼西亚被称为“火山之国”
20. 下面的等高线图(单位：米)表示的地形部位 a、b、c、d 的名称依次是



- A. 山脊、盆地、山谷、山顶
 B. 山谷、盆地、山脊、山顶
 C. 山脊、山顶、山谷、盆地
 D. 山谷、山顶、山脊、盆地
21. 太阳光直射在南回归线(23.5°S)的时候，郴州地区是
 A. 昼长夜短
 B. 昼夜等长
 C. 冬季
 D. 夏季
22. 我们的家乡所在地郴州(约 25.46°N)一年中有太阳光直射的次数是
 A. 0 次
 B. 1 次
 C. 2 次
 D. 3 次
23. 一个人要想在最短的时间内跨越所有的经线，他应该选择的地点是
 A. 0°纬线上
 B. 0°经线上
 C. 180°经线
 D. 南(北)纬 90°

24. 读地球公转位置示意图。2016 年的春节是 2 月 8 日，此时，地球运行至
 A. ①区
 B. ②区
 C. ③区
 D. ④区

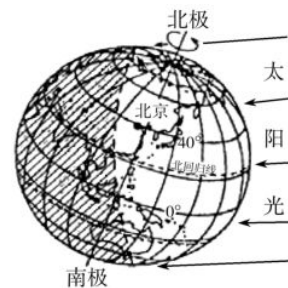


25. 郴州市正午太阳高度最大的季节是
 A. 冬季
 B. 春季
 C. 夏季
 D. 秋季

二、综合题(共 50 分)

26. 读地球某时刻太阳光照示意图，回答下列问题。(每空 1 分，共 6 分)

- (1) 这是_____ (节气) 日太阳照射图。此时，北极圈内有_____ (极昼或极夜) 现象。
 (2) 此时，太阳直射点在_____ (纬线) 附近。
 (3) 北京此时是_____ (白天或黑夜)，昼夜长短情况是_____。
 (4) 此时适合去_____ (南极或北极) 地区进行科学考察。



27. 对比地球的自转和公转，完成下列表格。(每空 1 分，共 7 分)

地球运动	描述	方向	周期	产生的自然现象
自转	绕_____的运动	自西向东	_____	_____、_____
公转	绕_____的旋转	自西向东	_____	四季变化、_____

28. 读经纬网图，回答问题。(每空 1 分，共 11 分)

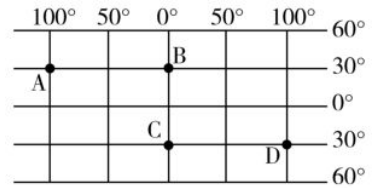
(1) 写出 A 点的地理坐标。纬度：_____ 经度：_____

(2) 从南北半球看，A 点在_____半球。

从东西半球看，D 点在_____半球。

(3) A 点在 B 点的_____方，B 点在 D 点的_____方。

(4) 纬线与经线特征的比较。



特点	经线	纬线
形状特征	半圆弧	_____
长度特征	_____	_____
指示方向	指示_____方向	指示_____方向

29. 读世界海陆分布图，完成下列问题。(每空 1 分，共 11 分)

(1) 写出图中字母代表的大洲名称。

A. _____洲 B. _____洲 C. _____洲

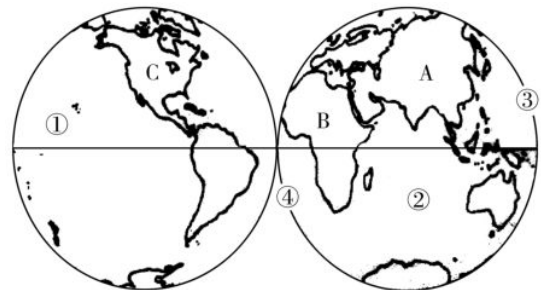
(2) 写出图中数码代表的大洋名称。

①_____ ②_____

(3) 写出东、西半球分界线的经度。

③_____ ④_____

(4) 写出下列大洲及分界线的名称。



大洲	_____两洲的分界线	亚、非的分界线	_____洲的分界线	亚洲、北美洲的分界线
分界线	乌拉尔山脉—乌拉尔河—里海—大高加索山脉—土耳其海峡	_____	巴拿马运河	_____海峡

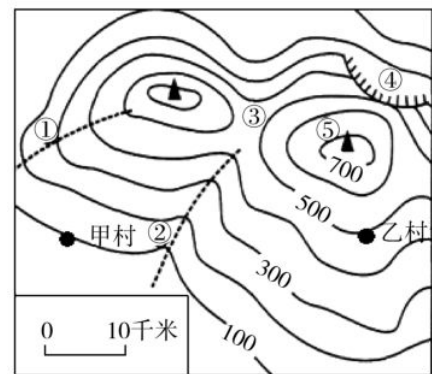
30. 我国南方某学校在元旦后，组织了一次对地形、气候的地理课外考察活动。出行前，他们画出了考察区域的等高线示意图(单位：米)。读图，回答下列问题。(每空 1 分，共 9 分)

(1) 甲村与山顶⑤的相对高度_____米。若地图上量得甲、乙两村的图上距离为 2 厘米，则实际直线距离约_____千米。

(2) 写出地形部位名称：①_____，②_____，③_____，④_____。

(3) 测得甲村的气温是 16℃，则乙村此时的气温约为_____℃。

(4) ①②③④⑤所示的五个地点中，可能有河流出现的是_____ (填序号)处，该河流的流向是_____。



31. 读世界主要山脉分布图，回答问题。(6 分)

(1) 在图中标出七大洲、四大洋。(2 分)

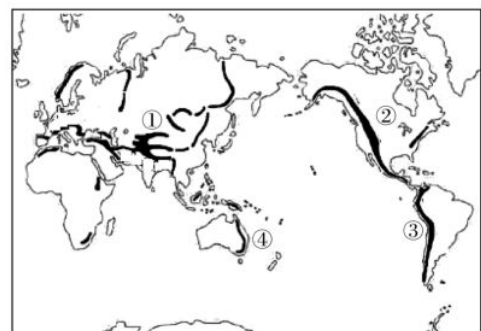
(2) 写出图中数码表示的地形区名称。(4 分)

①_____高原

②_____山脉

③_____山脉

④_____ (山脉)



世界主要山脉的分布

第二专题 世界的居民

(总分：100分 时量：45分钟)

一、单项选择题(把正确答案的字母代号填入下面的表中。每小题2分，共50分)

题号	1	2	3	4	5	6	7	8	9	10	11	12	13
答案													
题号	14	15	16	17	18	19	20	21	22	23	24	25	
答案													

- 世界上人口最多的两个国家是
A. 中国、美国
B. 中国、印度
C. 中国、俄罗斯
D. 中国、日本
- 下列关于目前世界人口问题的叙述，正确的是
A. 凡是降水多、气温高的地方都人口稠密
B. 衡量世界人口增长速度的指标是人口自然增长率
C. 许多农村自然环境恶化，导致人口大量迁出
D. 欧美发达国家，经济发展水平高，人口增长快；亚、非、拉地区的发展中国家，人口增长慢
- 世界上使用人数最多和分布最广泛的语言分别是
A. 英语、汉语
B. 汉语、法语
C. 汉语、英语
D. 法语、日语
- 南北美洲的原住居民印第安人属于
A. 白种人
B. 黑种人
C. 混血种人
D. 黄种人
- 下列地区中，以白色人种为主的是
A. 东亚、东南亚
B. 欧洲西部、西亚
C. 拉丁美洲
D. 非洲
- 下列数据分别表示某四个地区的人口出生率和死亡率，其中人口出现负增长的是
A. 2%和1.8%
B. 1.5%和0.8%
C. 2.5%和1.5%
D. 1%和1.2%
- 聚落的主要形式是
A. 城市和乡村
B. 草原和牧场
C. 工厂和林区
D. 道路和桥梁
- 城市环境问题日趋严重，下列有利于保护城市生态环境的措施是
①增加绿地面积，提倡低碳生活和绿色出行 ②拓宽城市交通道路，多建立立交桥 ③节能减排，关停或迁出重污染产业 ④出台政策鼓励购买和使用环保新能源车
A. ①③④
B. ①②③④
C. ①②
D. ②③④

9. 目前，农村人口大规模向大城市迁移的现象，主要发生在
- A. 发展中国家
B. 发达国家
C. 沿海国家
D. 内陆国家
10. 世界人口稠密区主要位于中低纬度的近海地带，原因是这里
- A. 自然条件优越
B. 气候终年高温多雨
C. 矿产资源丰富
D. 都是农业发展历史悠久、经济发达的地区
11. 影响人种形成的主要因素是
- A. 社会制度
B. 地理环境
C. 语言文化
D. 风俗习惯
12. 黄色人种主要分布的地区是
- A. 欧洲
B. 非洲
C. 南美洲、北美洲
D. 亚洲的东部和东南部
13. 世界上人口最多的民族是
- A. 俄罗斯族
B. 大和族
C. 汉族
D. 日耳曼族
14. 美国总统奥巴马的身世令人关注，他父亲的祖籍是非洲肯尼亚，母亲是美国白人，奥巴马应是
- A. 白色人种
B. 黄色人种
C. 黑色人种
D. 混血人种
15. 下列不属于联合国工作语言的是
- A. 汉语、英语
B. 英语、法语
C. 英语、俄罗斯语
D. 拉丁语、日语
16. 神话故事《西游记》中，孙悟空保护唐僧去西天取经。与此有关的宗教是
- A. 佛教
B. 基督教
C. 伊斯兰教
D. 印度教
17. 我国南方民居的屋顶坡度较陡、窗户都比较大，是为了
- A. 美观
B. 便于排水和通风散热
C. 防风沙
D. 避免被积雪压坏屋顶
18. 人口自然增长率最高、人口总数最多的大洲分别是
- A. 亚洲、欧洲
B. 欧洲、非洲
C. 非洲、亚洲
D. 北美洲、欧洲
19. 区别人种的主要根据是
- A. 经济生活水平和文化程度
B. 居住地区和生活水平
C. 风俗习惯、语言文化、宗教信仰
D. 肤色、眼色、毛发、脸型等体质特征
20. 被称为世界三大宗教的是
- A. 基督教、伊斯兰教、佛教
B. 基督教、犹太教、佛教
C. 犹太教、印度教、道教
D. 基督教、天主教、佛教
21. 下列属于描述乡村聚落特征的是
- A. 高楼大厦林立，人们乘车上班
B. 依山傍水，人们居住相对分散
C. 交通拥堵，空气质量较差
D. 医疗、卫生、教育、文化等条件很好
22. 下列属于城市聚落景观的是

- A. 公路弯曲
- B. 大片农田
- C. 山地牧场
- D. 高楼林立，地铁便利

23. 下列文化遗产中，属于中国的是

- A. 雅典卫城
- B. 自由女神像
- C. 悉尼歌剧院
- D. 敦煌莫高窟

24. 保护世界文化遗产的正确措施是

- A. 在著名文化遗产周围修建高大的现代建筑物
- B. 尽量控制现代工业污染对古建筑、雕塑和壁画的剥蚀
- C. 对著名古建筑进行修缮和改建，并加入现代的流行元素
- D. 尽量多地吸纳参观人数，以充分挖掘文化遗产的经济价值

25. 右图所示的民居建筑特色反映的自然环境是

- A. 炎热干旱的沙漠
- B. 终年严寒的地区
- C. 炎热多雨的气候
- D. 适合游牧的大草原



二、综合题(共 50 分)

26. 读亚洲人口密度分布图，回答下列问题。(每空 1 分，共 16 分)

(1) 人口增长是由_____决定的。
人口的地区分布差异用_____来表示。

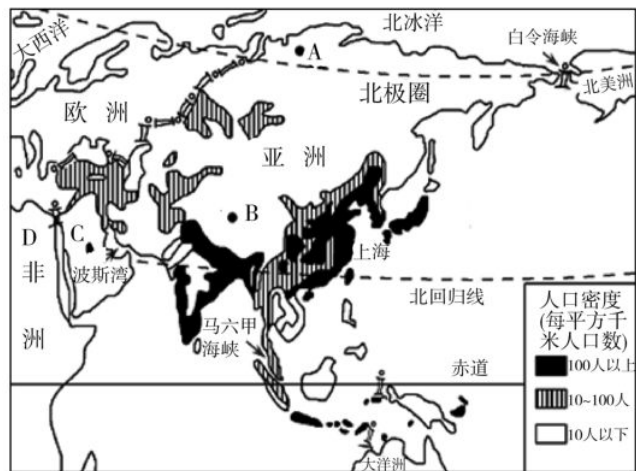
(2) 世界人口的分布受多种因素的影响。
自然条件优越、经济发达的_____地带往往形成人口稠密区，如亚洲的_____。

(3) 在 A、B、C、D 四地中，干旱的_____ (字母) 地区、空气稀薄的_____ (字母) 地区、高纬度气候寒冷的_____ (字母) 地区人口密度小。

此外，如南美洲的_____平原、非洲的_____盆地等地区，因气候过于湿热人烟稀少。

(4) 人口增长太多太快，会带来_____、_____等问题；人口增长太慢，也会带来_____、_____等社会问题。40 多年来，我国为控制人口数量，实行“_____”政策，取得了巨大的成效。

(5) 联合国确定的 6 种工作语言中，A 处使用的是_____语，流行于 C、D 两地的是_____语。



27. 下面的表格是四个国家的相关数据(2014 年)。读表，回答下列问题。(每空 1 分，共 10 分)


	甲	乙	中国大陆	丙
人均 GDP(美元)	53101	12795	6747	1592
人口(人)	3.15 亿	1.43 亿	13.7 亿	12.1 亿
面积(km ²)	937 万	1700 多万	960 万	约 320 万

(1)从表格中的数据可以看出,在甲、乙、丙三个国家中,_____国家的发展水平最高;_____国家地广人稀;与中国大陆一样,同属于发展中国家的是_____。

(2)根据表格中的信息可以判断出,甲、乙、丙三个国家分别是_____、_____、_____。

(3)不同的国家存在文化的差异。甲、乙、丙三个国家中,主要使用英语的是_____。甲国的居民多信奉_____教。丙国是_____教的发源地。中国的本土宗教是_____教。

28. 读世界三大宗教建筑图,完成下列问题。(每空1分,共6分)



(1)写出上面各图片所代表的宗教建筑名称。

A图是_____，B图是_____，C图是_____。

(2)宗教建筑是信徒进行宗教活动的场所。手持《_____》(经书),歌颂上帝耶稣和圣母玛利亚的信徒,会在A建筑里做礼拜。信奉真主安拉的信徒称“_____”,他们在B建筑里吟诵《_____》。

29. 下面是我国几种民居示意图的邮票。读图,回答问题。(每空1分,共10分)



①草原风情

②周庄烟雨

③滇南吊脚楼

④闽南土楼

(1)四种特色民居,从聚落类型看,都是_____聚落。

(2)传统民居的建筑结构特色,体现了我们的先祖与自然环境和谐共存的智慧。根据邮票信息分析,①②③④民居中,适应气候湿润、降水丰富的民居是_____ (填序号)。最能体现我国“江南水乡”特色的是_____号邮票所示的民居。这里的房屋屋顶呈“人”字形倾斜,是为了便于_____。

(3)传统民居①最大的特点是便于_____，它反映了我国_____族的“游牧”特色。

(4)③所示的“滇南吊脚楼”是我国_____省_____ (少数民族)的传统民居。每年西双版纳的“_____节”都会吸引众多中外游客流连忘返。

(5)你想探访中国的“土楼”民居,应去_____省。

30. 把文化遗产与所在国家用直线连接起来。(4分)

雅典卫城	埃及
金字塔	希腊
水城威尼斯	法国
罗浮宫	意大利

31. 我国被纳入“联合国自然文化遗产”的有哪些? (写出其名称及所在省区,任意列举四项即可)(4分)

第三专题 世界的气候

(总分: 100分 时量: 45分钟)

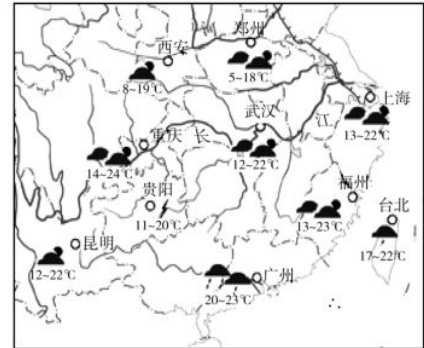
一、单项选择题(把正确答案的字母代号填入下面的表中。每小题2分,共50分)

题号	1	2	3	4	5	6	7	8	9	10	11	12	13
答案													
题号	14	15	16	17	18	19	20	21	22	23	24	25	
答案													

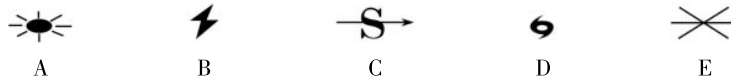
- 下列叙述中,描写天气的是
A. 山前桃花山后雪
B. 终年炎热干燥
C. 夜来风雨声,花落知多少
D. 昆明四季如春
- 在卫星云图上,表示云雨区的是
A. 白色
B. 绿色
C. 蓝色
D. 棕色
- 关于世界各地降水量的叙述,正确的是
A. 山地迎风坡比背风坡容易产生降水
B. 赤道地区蒸发旺盛,不易产生降水
C. 两极地区有很厚的积雪,是多雨区
D. 中纬度内陆地区的降水比沿海地区多
- “天涯海角隆冬暖,青藏高原盛夏寒。”这两地气候特征的成因
A. 都是受纬度位置的影响
B. 都与地形有关
C. 前者受纬度位置的影响,后者受地形地势的影响
D. 都是受海陆位置的影响
- 赤道地区全年高温多雨,南极大陆终年严寒。导致这种差异的主要原因是
A. 地形因素
B. 海陆因素
C. 纬度位置
D. 人类活动
- 下列关于气温分布的说法,正确的是
A. 低纬度气温低,高纬度气温高
B. 冬季,同纬度地区陆地的气温比海洋高
C. 山地的气温随着海拔的升高而降低,每升高100米,气温下降约 0.6°C
D. 同一纬度的不同地区,无论平原或高原,无论沿海或内陆,气温一定相差不大
- 关于气温变化与气温分布的叙述,正确的是
①迎风坡气温高,背风坡气温低 ②同纬度地区,高山、高原气温低,平原、盆地气温高 ③一天当中,陆地最高气温出现在正午(12时),最低气温出现在午夜(零时) ④陆地月平均气温的最高值,北半球出现在7月,南半球出现在1月
A. ①④
B. ①②
C. ①③
D. ②④
- 我国的降水从东部沿海向西北内陆逐渐减少的主要原因是
A. 海陆位置差异
B. 地形地势对气候的影响
C. 人类活动对气候的影响
D. 植被对气候的影响
- 地球日益变暖的最主要原因是
A. 目前还不知道
B. 地震日益增多
C. 二氧化碳排放日益增多
D. 空气中的尘埃日益增多

10. 除南极洲外，各大洲都有的气候类型是
 A. 热带雨林气候 B. 地中海气候 C. 温带季风气候 D. 温带大陆性气候
11. 温带海洋性气候分布最广的大洲是
 A. 亚洲 B. 非洲 C. 欧洲 D. 大洋洲

12. 读我国部分地区某日天气预报图，根据图中各城市的天气状况判断，下列叙述中正确的是



- A. 广州、台北有雨，沿长江城市都阴转多云
 B. 此时是冬季，南北温差很大
 C. 此时是夏季，南北普遍高温
 D. 郑州、西安等城市已经十分寒冷，黄河进入结冰期
13. 关于地球五带的说法，正确的是
 A. 热带地区，太阳总是直射
 B. 温带地区太阳总是斜射
 C. 四季变化最明显的地区是寒带
 D. 赤道是热带与温带的分界线
14. 2009年2月2日，位于 $80^{\circ}25'S$ 、 $77^{\circ}06'E$ 的我国南极科学考察站——昆仑站建立。下列叙述中正确的是
 A. 昆仑站在此时正值极夜 B. 此时南半球正处于夏季
 C. 昆仑站位于南半球、西半球 D. 昆仑站经常是风和日丽的好天气
15. 在山脚(海拔500米)气温为 $25^{\circ}C$ 的时候，下列哪个海拔的高山上会有积雪
 A. 600米 B. 1500米 C. 5500米 D. 3500米
16. 天气的变化，与人们的日常生活、生产活动密切相关。有关我国下列图示天气情况的叙述，正确的是



- A. 我国西部地区 A 天气多，太阳能丰富
 B. 南方地区，夏季多 A 天气，冬季多 B 天气
 C. 天气 C、D、E，多出现秦岭—淮河以北地区
 D. 五种天气中，C、D 天气对我国东南沿海危害大
17. 有关气温、降水的说法，正确的是
 A. 南极洲是最寒冷的大陆，亚洲是最湿润的大陆
 B. 赤道附近降水多，两极地区降水少
 C. 大陆的气温总是比海洋的气温高
 D. 海洋性气候降水多，温差大
18. 世界上最炎热的大洲和最大的热带雨林所在的大洲分别是
 A. 非洲、亚洲 B. 非洲、南美洲 C. 大洋洲、南美洲 D. 非洲、欧洲
19. 生长着稀树高草，生活着斑马、长颈鹿等典型动物的景观属于
 A. 热带雨林气候区 B. 热带季风气候区 C. 热带草原气候区 D. 温带草原气候区
20. 我国横断山区“一山有四季，十里不同天”的主要成因是
 A. 人类活动对气候的影响 B. 地形、地势对气候的影响
 C. 纬度位置对气候的影响 D. 植被对气候的影响
21. 防止全球气候变暖的重要措施是
 A. 不再使用煤炭、石油、天然气
 B. 减少人口数量

- C. 尽量生吃食物
D. 开发新型的、清洁的、污染小的能源，倡导低碳生活

22. 湿润空气遇到山地，沿着山坡爬升，在迎风坡产生地形雨。与此对应的图片是



A



B



C



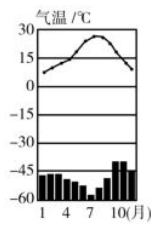
D

23. 根据某地的气候数据判断，该气候类型是

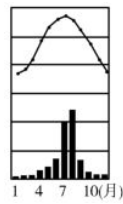
月份	1	2	3	4	5	6	7	8	9	10	11	12
气温(℃)	9	11	12	13	15	16	19	17	18	16	13	10
降水(mm)	102	88	68	33	12	3	0	1	5	19	40	104

- A. 热带雨林气候 B. 地中海气候 C. 温带大陆性气候 D. 温带季风气候

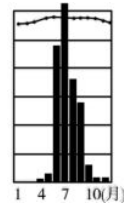
读下列气候类型图，完成 24~25 题。



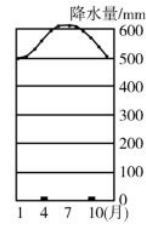
甲



乙



丙



丁

24. “夏季高温多雨，冬季寒冷干燥”的气候类型是图

- A. 甲 B. 乙 C. 丙 D. 丁

25. 关于四种气候类型的叙述，正确的是

- A. 四地全部位于北半球 B. 四地全部位于热带
C. 四种气候在中国都有分布 D. 乙地冬季河流会结冰，丁地最寒冷

二、综合题(共 50 分)

26. 根据表中的资料，绘制气候图，回答问题。(10 分)

月份	1	2	3	4	5	6	7	8	9	10	11	12
气温/℃	13	11	14	17	22	24	26	27	25	23	19	15
降水/mm	40	80	70	102	160	210	140	120	98	20	26	20

(1) 根据表中的资料，在右图给出的坐标中绘制该地的气温变化曲线和降水量柱状图。(2 分)

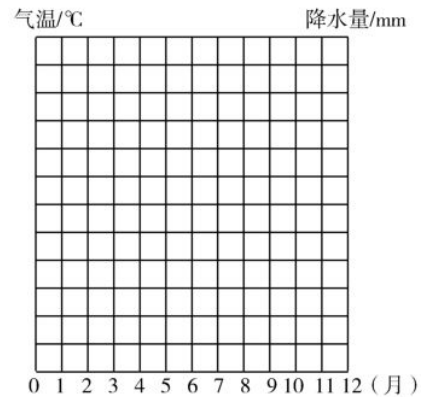
(2) 根据表中的资料分析，该地区降水的季节分配特征是 _____ 多、_____ 少。(2 分)

(3) 这里的河流冬季有结冰期吗? _____。该地位于南半球还是北半球? _____。(2 分)

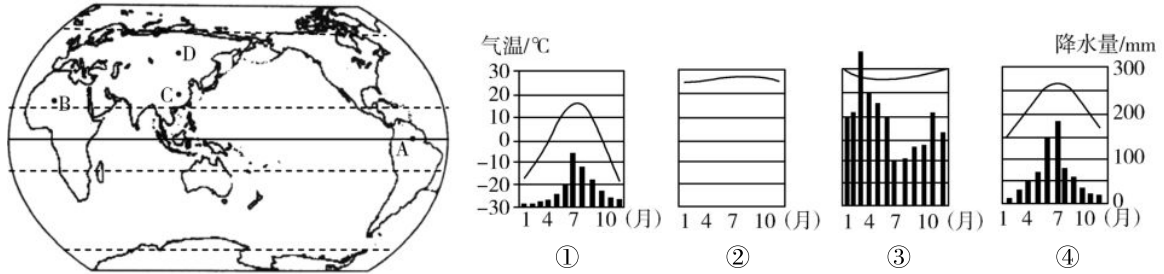
(4) 该气候类型是 _____ 气候。在我国，该气候类型分布在秦岭—淮河一线 _____ (以南或以北) 广大地区。(2 分)

(5) 这种气候特点，对我国的农业生产有哪些有利和不利的影响? (2 分)

有利: _____。
不利: _____。



27. 读图，回答问题。(每空 1 分，共 14 分)

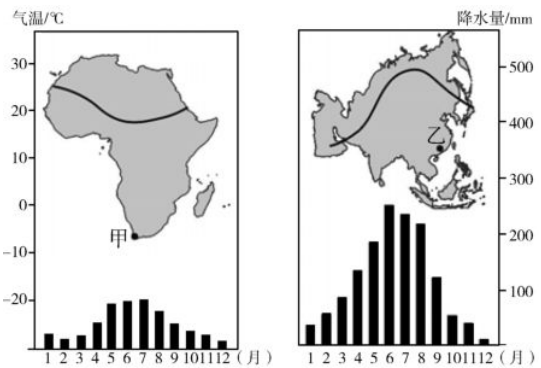


- (1) 根据世界气候的分布规律，写出四地气候类型的名称：A 处是_____气候，B 处是_____气候，C 处是_____气候，D 处是_____气候。
- (2) 请分别写出①②③④四幅气候类型图与图中 A、B、C、D 四地气候特点的对应关系：A 为_____，B 为_____，C 为_____，D 为_____。(填数码)
- (3) A 地为_____平原，A 地的气候多分布在赤道附近。与 A 地的气候类型一致的还有非洲的_____盆地、亚洲的_____群岛。
- (4) A、B、C、D 四地中，降水最丰富的是_____地，降水最少的是_____地，冬季最寒冷的是_____地。

28. 读甲、乙两地的气候图，回答下列问题。(每空 1 分，共 13 分)

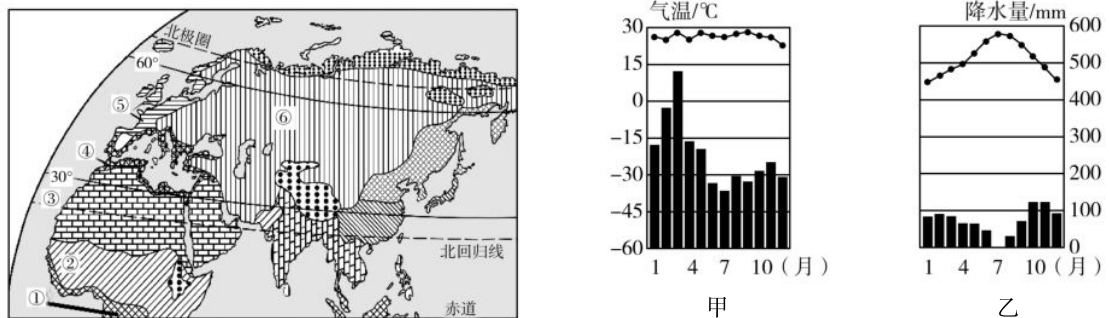
(1) 根据右边的气候资料，完成下列表格。

	甲地	乙地
所属的大洲		
7 月降水量(mm)		
1 月均温(°C)		
气候类型		



- (2) 甲地气候的特点是夏季_____，冬季_____。
- (3) 甲、乙两地对比，_____地年降水量较多，且在_____季容易出现水灾。
- (4) 甲、乙两种气候的共同点是_____。

29. 读世界气候类型分布示意图(局部)，回答问题。(每空 1 分，共 13 分)



- (1) ①地的气候类型是_____，该种气候的分布规律是_____。
- (2) ②地的气候类型是_____，这里可以看见的典型动物有_____、_____。
- (3) ③地的气候类型是_____，该种气候的分布规律是_____。
- (4) 亚欧大陆分布最广的气候类型⑥是_____气候。
- (5) 在图中所示的①②③④⑤⑥气候类型分布中，冬季气温在 0 °C 以下的是_____，常年温和湿润的是_____，人口较稀少的是_____等气候区。(均填数码)
- (6) 甲气候分布于_____处，乙气候分布于_____处。(均填数码)

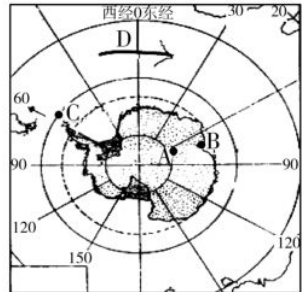
第四专题 认识大洲

(总分：100分 时量：45分钟)

一、单项选择题(把正确答案的字母代号填入下面的表中。每小题2分，共50分)

题号	1	2	3	4	5	6	7	8	9	10	11	12	13
答案													
题号	14	15	16	17	18	19	20	21	22	23	24	25	
答案													

1. 下列关于亚洲的叙述，正确的是
 - A. 亚洲的地形以高原、山地为主，地势中部高、四周低，河流呈放射状向四周分流
 - B. 亚洲是世界上平均海拔最高的大洲
 - C. 亚洲多为经济发达的国家
 - D. 亚洲季风气候显著，热带气候分布面积最广
2. 读南极洲图，下列叙述中正确的是
 - A. 南极洲是跨经度最多、纬度最高的大洲
 - B. 南极洲被太平洋、印度洋、北冰洋所包围
 - C. 图中 A、B、C 三地，夏季白昼时间最长的是 B 处
 - D. 图中 D 处标出的地球自转方向是错误的
3. 下列各个大洲的叙述，正确的是
 - A. 亚洲面积最大，人口最多，国家最多
 - B. 北美洲混血人种所占比例最大
 - C. 欧洲面积最大、人口最多的国家是俄罗斯
 - D. 人口自然增长率最高的南美洲
4. 亚洲的大多数河流都发源于中部，呈放射状向四周分流的原因是
 - A. 亚洲是平均海拔最高的大洲
 - B. 亚洲地面起伏平缓，以平原为主
 - C. 亚洲的地势中部高，四周低
 - D. 亚洲的地势是西部高、东部低
5. 下列对各大洲地形的叙述，正确的是
 - A. 亚洲的地形复杂多样，中部多平原和盆地，沿海多高原山地
 - B. 欧洲的地形以平原为主，南部和北部分布着山脉
 - C. 南、北美洲地形分布的特点都是西部山地、中部平原、东部高原
 - D. 非洲号称“高原大陆”，因此没有其他地形类型分布
6. 在四大洋中，全部位于东半球的是
 - A. 太平洋
 - B. 北冰洋
 - C. 大西洋
 - D. 印度洋
7. 全部位于北半球的大洲是
 - A. 亚洲
 - B. 欧洲
 - C. 非洲
 - D. 南美洲
8. 赤道穿越的两个大陆是
 - A. 亚欧大陆、非洲大陆
 - B. 亚欧大陆、北美大陆
 - C. 非洲大陆、澳大利亚大陆
 - D. 非洲大陆、南美大陆



9. 下列世界著名湖泊与其描述，组合不正确的是
- 里海——世界最大的内陆湖泊
 - 死海——位于西亚，世界陆地表面最低点
 - 苏必利尔湖——全部位于美国境内，世界最大的湖泊
 - 贝加尔湖——位于俄罗斯境内，世界最深的淡水湖
10. 亚洲南部有三大半岛，其中分布着大面积热带沙漠气候的是
- 朝鲜半岛
 - 中南半岛
 - 印度半岛
 - 阿拉伯半岛
11. 亚洲季风气候分布广泛，亚热带季风气候与温带季风气候的共同特点是
- 冬季时间特别长
 - 雨热同期
 - 风向无规律地变换
 - 冬季多雨
12. 下列对欧洲河流的叙述，正确的是
- 多瑙河——欧洲流经国家最多、流程最长河流
 - 莱茵河——受地形和气候影响，水流平稳，水量较大，航运价值高
 - 伏尔加河——世界最长的内流河，注入黑海
 - 塞纳河——英国最重要的河流，向南注入地中海，河流冬季水量大增
13. 下列属于黄色人种的是
- 澳大利亚人
 - 西亚与北非的阿拉伯人
 - 撒哈拉以南的原住民
 - 南北美洲的印第安人
14. 由于距海远近不同、纬度高低不同，欧洲各地的气候有很大的差异。下列说法正确的是
- 自西向东，气候的大陆性增强
 - 自西向东，降水逐渐增多
 - 自西向东，气候的海洋性增强
 - 自西向东，冬季越来越温暖
15. 读图，北美洲的中部，冬季常受大风、暴雪、寒冷天气袭击，其主要原因是
- 地处高纬度
 - 中部地区海拔高
 - 西部的安第斯山脉阻挡了来自太平洋的暖湿气流进入北美洲内地
 - 中部大平原南北贯通无阻，极地寒冷气流能长驱南下



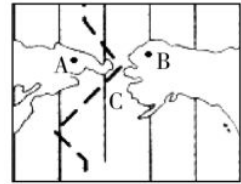
16. 有关亚洲气候和景观的表述，正确的是
- 地形复杂多样，是亚洲气候多样化的最重要原因
 - 海陆热力性质差异大，亚洲形成典型的热带、亚热带、温带季风气候
 - 亚洲有大面积的热带雨林、热带草原及热带沙漠分布
 - 亚洲中部地区深居内陆，形成了炎热干旱的热带沙漠气候
17. 南美洲的热带雨林气候主要分布在
- 巴西高原
 - 撒哈拉地区
 - 太平洋沿岸
 - 亚马孙平原
18. 下列有关非洲的叙述，错误的是
- “非洲屋脊”是指东非高原
 - 东非大裂谷带是世界最长的裂谷带
 - 马达加斯加岛是非洲最大的岛屿
 - 非洲的“金砖五国”成员是南非
19. 下列对欧洲河流的叙述，正确的是
- 欧洲西部的河流，大多数冬季进入汛期，夏季进入枯水期
 - 欧洲西部河网密布，受地形影响，水流湍急，水能丰富
 - 欧洲最长的河流是伏尔加河，但最重要的、航运极为发达的是莱茵河
 - 多内流河

20. 关于南美洲与北美洲的共同点，下列叙述中正确的是

- A. 都濒临太平洋、大西洋和北冰洋
- B. 西部多山地，属于科迪勒拉山系
- C. 地形都是呈东、中、西纵向分布
- D. 大西洋沿岸多火山地震

21. 读某海峡图，下列叙述中正确的是

- A. 图中 C 海峡是马六甲海峡
- B. 图中 A、B 两处，A 属于俄罗斯，B 属于美国
- C. 海峡 C 沟通了北冰洋和大西洋
- D. A、B 两地日期相同，但时刻不同



22. 下列各项中，有大面积冰川分布的岛屿是

- A. 马达加斯加岛
- B. 苏门答腊岛
- C. 格陵兰岛
- D. 大不列颠岛

23. “世界人种大熔炉”是指

- A. 南美洲
- B. 大洋洲
- C. 欧洲
- D. 非洲

24. 下列轮廓图中，地形以平原为主，海洋性气候显著的大洲是



A



B



C



D

25. 下列有关南极洲的叙述，正确的是

- A. 南极洲是世界上跨纬度最多的大洲
- B. 南极洲有巨厚的冰层，说明这里每年的降雪量很大
- C. 南极洲有丰富的生物资源，海豹、鲸和北极熊是这块大陆的主人
- D. 酷寒、烈风、干燥是南极大陆气候的特点

二、综合题(共 50 分)

26. 读图及下列材料，回答问题。(每空 1 分，共 13 分)

材料 2015 年 9 月和 10 月，习近平主席先后对美国、英国进行了国事访问，在诸多领域取得了成果，加强了中国与世界各国的交流和合作。

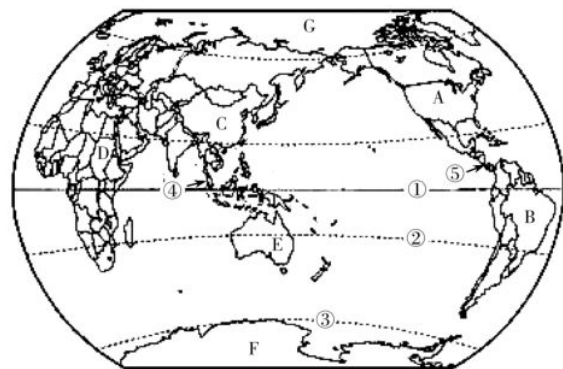
(1) 美国所在的大洲是 A _____ 洲，隔 _____ 洋与亚洲相望。英国是一个群岛国家，隔 _____ 海峡与亚欧大陆相望。

(2) D 是 _____ 洲。E 是 _____ 洲，独占这块大陆的国家是 _____。海拔最高，冰雪覆盖的是 F _____ 洲。

(3) 美国以南的美洲地区称为 _____ 洲，因这些国家大多数使用 _____ 语或葡萄牙语而得名。

(4) 图中的①②③三条特殊纬线中，一年有两次太阳直射的是 _____ (填数码)。

(5) ④ _____ 海峡、⑤ _____ 运河都是重要的海上通道。据图分析，简述海峡④地理位置的重要性： _____。

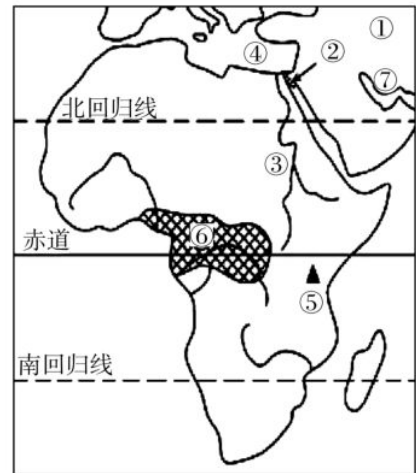


27. 阅读下列材料，回答问题。(每空 1 分，共 14 分)

材料一 “中非合作论坛”机制启动以来，中国与非洲国家的合作进入新阶段。合作是多领域的，是“合作共赢”的。2015 年 9 月 23 日，“2015 南非中国年·北京周”暨“北京·南非经贸合作论坛”在南非隆重举行，为两国人民加强交流、增进了解与友谊提供了重要平台。

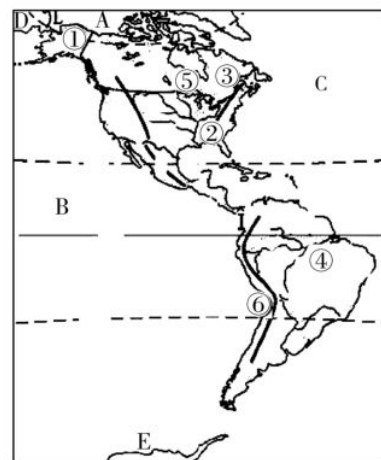
材料二 非洲及西亚示意图(见右图)。

- (1)大洲①是_____洲；大洲分界线②是_____运河，沟通了④_____海和红海。
- (2)河流③是_____河，哺育了古_____文明。该河下游地区每年定期泛滥的原因是_____。
- (3)非洲最高峰⑤是_____山，号称“赤道雪峰”，山顶终年被积雪覆盖，是因为_____。
- (4)⑥处有_____河，由于该河流域是终年高温多雨的_____气候，因此河流⑥比河流③的水量要_____ (大或小)。
- (5)海湾⑦是_____湾，蕴藏着丰富的_____ (矿产)资源。
- (6)由于赤道横穿中部，非洲的气候分布特点是_____。



28. 读北美洲略图，回答问题。(每空 1 分，共 12 分)

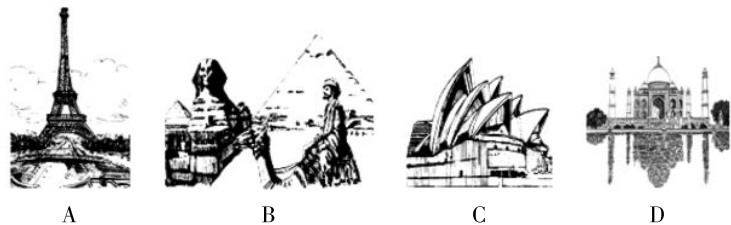
- (1)①地区是美国的领土_____州，西隔白令海峡与 D _____洲相望。
- (2)写出大洋名称：A _____，B _____。
- (3)②是北美洲最重要的河流_____河。
- (4)④是_____河。该河流域气候暖湿，这里大面积分布的_____被称为“地球之肺”。它对调节_____和保护_____意义重大。
- (5)美国北面是北美洲面积最大的国家⑤_____。⑥是世界最长的_____山脉，它是由板块的_____ (碰撞或张裂)作用而形成的。



29. 读亚洲图和世界名胜图，完成下列问题。(每空 1 分，共 11 分)



亚洲图



- (1)亚洲的大河多发源于中部的高原山地，亚洲最长的河流①是_____。
- (2)据图可以看出，亚洲河流的分布特征是_____。根据河流的分布特征可以看出，亚洲的地势特征是_____。
- (3)亚洲重要的国际河流是②_____河，它是_____半岛上最重要的河流。
- (4)写出世界湖泊之最：③_____，④_____，⑤_____。
- (5)山脉⑥是亚欧两洲的分界线_____山脉，该山脉以东是俄罗斯地广人稀的_____平原。
- (6)A、B、C、D 名胜中，位于亚洲的是_____ (填字母和名胜名称)。