



• 根据教育部颁发的《幼儿园教育指导纲要（试行）》编写

幼小衔接 一日一练

20以内的不进位、不退位、进位、退位加减法

宋添舰 编著

数学
2



河北美術出版社

图书在版编目 (CIP) 数据

幼小衔接一日一练·数学·2, 20 以内的不进位、不退位、进位、退位加减法 / 宋添舰编著. -- 石家庄: 河北美术出版社, 2018.10

ISBN 978-7-5310-9436-4

I. ①幼… II. ①宋… III. ①数学课—学前教育—习题集 IV. ①G613

中国版本图书馆 CIP 数据核字 (2018) 第 228791 号



河北美术出版社
各地新华书店经销

服务电话: 0311-87060677

质量服务承诺: 如发现缺页、倒装等印制质量问题, 可直接向本社调换。



目录

11~20 不进位、不退位练习题（一）	2
11~20 不进位、不退位练习题（二）	4
11~20 进位、退位练习题（一）	6
11~20 进位、退位练习题（二）	8
100 以内的数字认识和计算	10
整十加减法（一）	12
整十加减法（二）	14
100 以内混合运算（一）	16
100 以内混合运算（二）	18
认识钱币	20
认识图形	22
应用题（一）	24
应用题（二）	26
综合练习（一）	28
综合练习（二）	30
综合练习（三）	32
综合练习（四）	34
综合练习（五）	36
参考答案	39



11~20 不进位、不退位练习题(一)

一、写一写。

+	+	+	+	+	+	+	+
---	---	---	---	---	---	---	---

+	+	+	+	+	+	+	+
---	---	---	---	---	---	---	---

+	+	+	+	+	+	+	+
---	---	---	---	---	---	---	---

+	+	+	+	+	+	+	+
---	---	---	---	---	---	---	---

+	+	+	+	+	+	+	+
---	---	---	---	---	---	---	---

+	+	+	+	+	+	+	+
---	---	---	---	---	---	---	---

+	+	+	+	+	+	+	+
---	---	---	---	---	---	---	---

+	+	+	+	+	+	+	+
---	---	---	---	---	---	---	---

+	+	+	+	+	+	+	+
---	---	---	---	---	---	---	---

+	+	+	+	+	+	+	+
---	---	---	---	---	---	---	---

二、算一算，把左右两边得数相等的算式连起来。

11+5

18-1

18-13

3+11

6+11

12+4

16-2

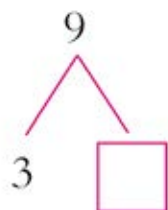
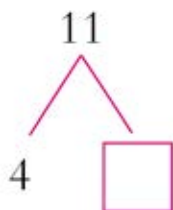
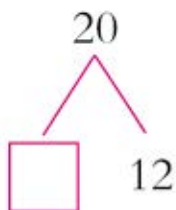
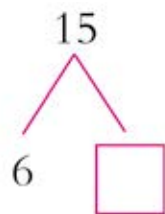
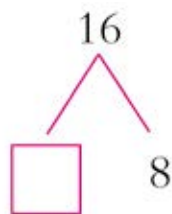
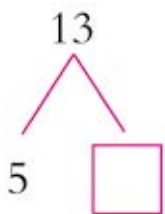
19-14

19-15

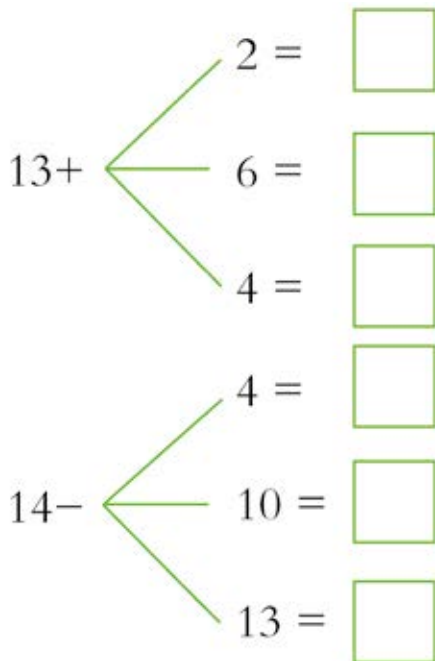
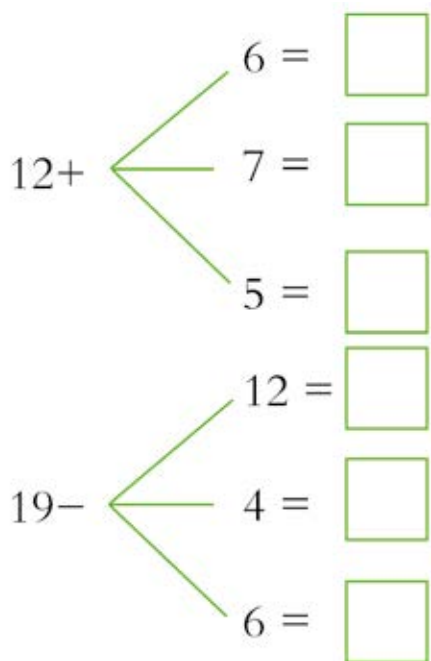
17-13



三、在“□”里面填上适当的数。



四、算一算，填一填。



五、在☆里面填上“>”“<”或“=”。

$5+4 \quad \star \quad 4+6$

$13-1 \quad \star \quad 3+8$

$20-8 \quad \star \quad 17-5$

$6+8 \quad \star \quad 19-7$

$20-10 \quad \star \quad 8+7$

$7-7 \quad \star \quad 7+8$



11~20 不进位、不退位练习题(二)

一、快帮小动物找到自己的座位。



二、看图写出四个算式。



$$\square + \square = \square$$

$$\square + \square = \square$$

$$\square - \square = \square$$

$$\square - \square = \square$$



三、请按照要求把算式写在相应的位置。

$12-1$

$11+3$

$15-11$

$17-11$

$18-7$

$2+16$

$16-5$

$10+9$

$19-14$

$18-14$

$14-12$

$11+8$

得数大于12

得数小于12

四、按照规律填数。

19  15  11  7

2  6  10  14

12  14  16  18 

10  8  6  4 



11~20 进位、退位练习题（一）

一、算一算，然后在“○”里填上正确的数。

9+7=○

8+5=○

6+8=○

8+2=○

13-5=○

17+1=○

15-7=○

18-12=○

15-10=○

19-8=○

12+3=○

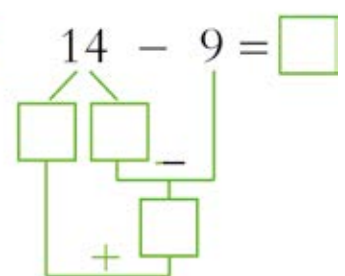
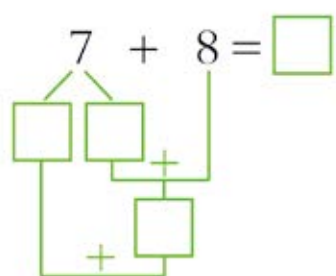
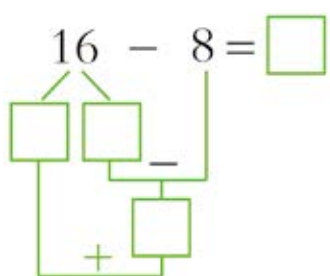
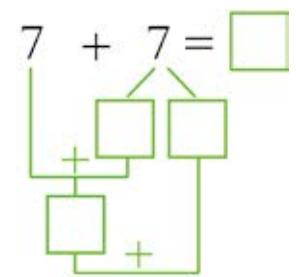
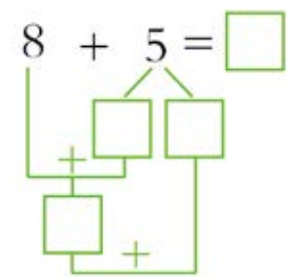
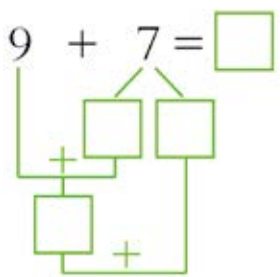
16-8=○

19-6=○

8-6=○

15-9=○

二、想一想，填一填。





三、在“○”里填上适当的数。

$$11 + \bigcirc = 9 + 7$$

$$7 + 4 = 11 + \bigcirc$$

$$15 + \bigcirc = 16 + 4$$

$$6 + 14 = 14 + \bigcirc$$

$$17 + \bigcirc = 16 + 3$$

$$5 + 12 = 13 + \bigcirc$$

$$10 + \bigcirc = 9 + 8$$

$$4 + 14 = 15 + \bigcirc$$

$$10 + \bigcirc = 14 + 5$$

$$3 + 13 = 12 + \bigcirc$$

$$12 + \bigcirc = 16 + 2$$

$$9 + 8 = 10 + \bigcirc$$

$$10 + \bigcirc = 5 + 13$$

$$14 + 5 = 11 + \bigcirc$$

四、按照规律填数。

$$\begin{array}{r} 6 \\ + 7 \\ \hline \square \square \end{array}$$

$$\begin{array}{r} 9 \\ + 4 \\ \hline \square \square \end{array}$$

$$\begin{array}{r} 7 \\ + 8 \\ \hline \square \square \end{array}$$

$$\begin{array}{r} 5 \\ + 9 \\ \hline \square \square \end{array}$$

$$\begin{array}{r} 5 \\ + 8 \\ \hline \square \square \end{array}$$

$$\begin{array}{r} 6 \\ + 4 \\ \hline \square \square \end{array}$$

$$\begin{array}{r} 8 \\ + 9 \\ \hline \square \square \end{array}$$

$$\begin{array}{r} 9 \\ + 7 \\ \hline \square \square \end{array}$$

$$\begin{array}{r} 6 \\ + 5 \\ \hline \square \square \end{array}$$



11~20 进位、退位练习题 (二)

一、用给出的三个数列式计算。

15	9	6
----	---	---

7	13	6
---	----	---

$\square + \square = \square$

$\square + \square = \square$

$\square + \square = \square$

$\square + \square = \square$

7	16	9
---	----	---

9	5	14
---	---	----

$\square + \square = \square$

$\square + \square = \square$

$\square + \square = \square$

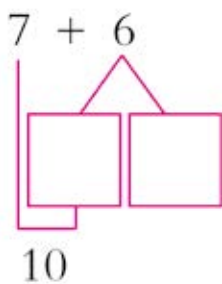
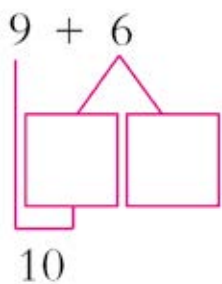
$\square + \square = \square$

二、想一想，填一填。

$9 + 6 = \square$

$7 + 6 = \square$

$6 + 8 = \square$





三、捡松果,把小松鼠捡到的松果与对应的篮子用线连起来吧!



$$7-5$$

$$3+2$$

$$9-4$$

$$13-9$$

$$8-7$$

$$11-8$$

$$0+1$$

$$2+2$$



四、算一算,请在“○”里填上“>”“<”或“=”。

$$6+8 \bigcirc 4+9$$

$$8+7 \bigcirc 9+5$$

$$5+6 \bigcirc 4+7$$

$$9+9 \bigcirc 7+5$$

$$7+5 \bigcirc 8+6$$

$$3+9 \bigcirc 5+6$$

$$7+9 \bigcirc 6+7$$

$$9+8 \bigcirc 5+8$$

$$9+5 \bigcirc 5+8$$

$$6+7 \bigcirc 9+4$$

$$5+7 \bigcirc 6+9$$

$$7+8 \bigcirc 4+9$$



100 以内的数字认识和计算

一、数一数，写一写，读一读。



写作：_____



写作：_____



写作：_____

二、想一想，填一填。

$$7 + 5 + 2 = \square$$

$$8 + 6 + 5 = \square$$

$$9 + 1 + 3 = \square$$

$$5 + 6 + 7 = \square$$


三、填空。

1. 和 88 相邻的数是_____和_____。
2. 4 个 10 和 5 个 1 组成的数是_____。
3. 76 是由_____个 10 和_____个 1 组成的。
4. 一个数的个位是 4，十位是 6，这个数是_____。



整十加减法（一）


一、看图写数。



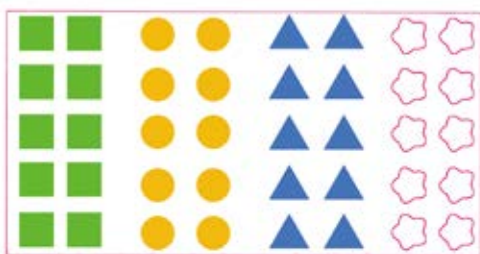
()



()



()





()

二、填空题。

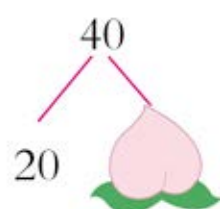
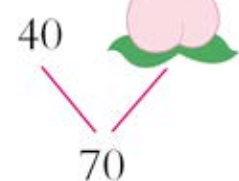
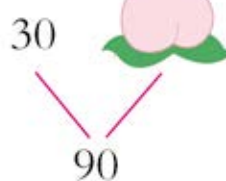
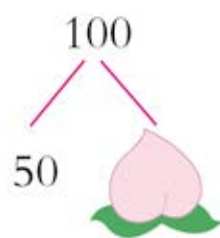
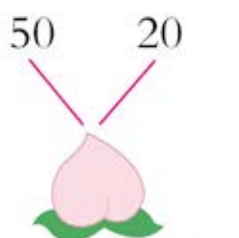
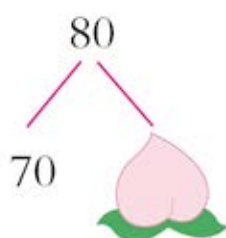
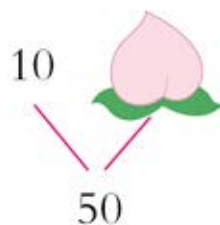
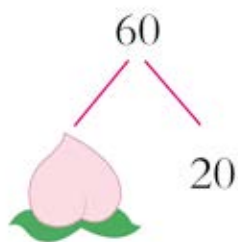
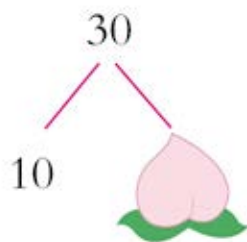
1. 比 10 大 10 的数是 ()。
2. 比 30 小 10 的数是 ()。
3. 与 50 相邻的两个整十数是 () 和 ()。
4. 一个加数是 20，另一个加数是 40，和是 ()。
5. 被减数是 80，减数是 60，差是 ()。
6. 十位是 1，个位是 0，这个数是 ()。
7. 90 里面有 () 个 10。



三、画一画，根据所给的数字，把缺少的图形画出来。



四、在  里填上适当的数。





整十加减法（二）

一、算一算。

10+10=

20-10=

20+30=

60-20=

20-20=

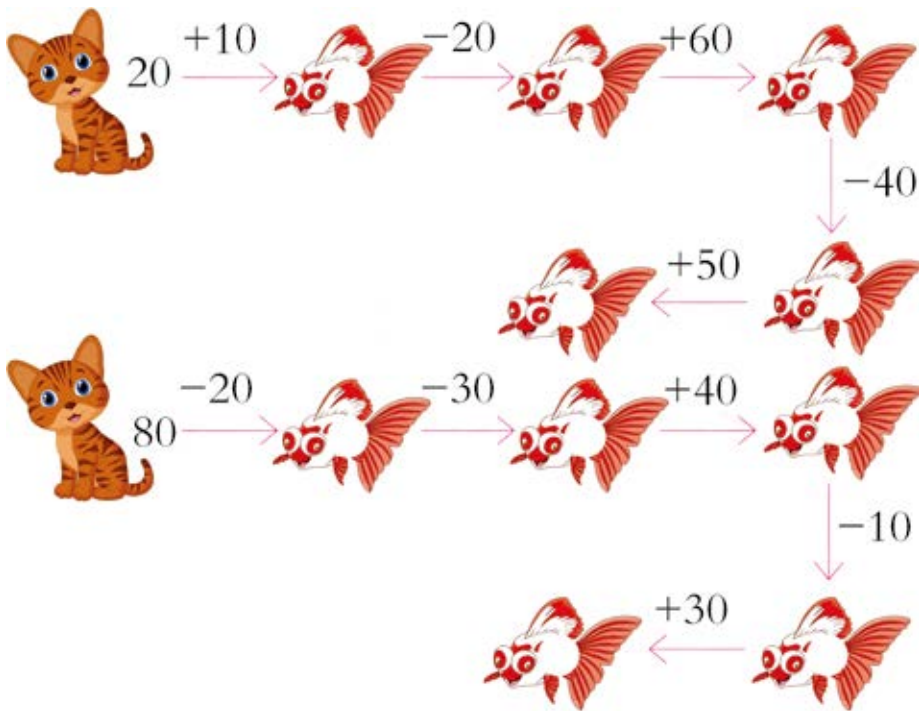
50+40=

70-30=

10+10+10=

30-10-10=

二、填空题。



三、把下面的数按从大到小排列起来。

30 50 90 10 70

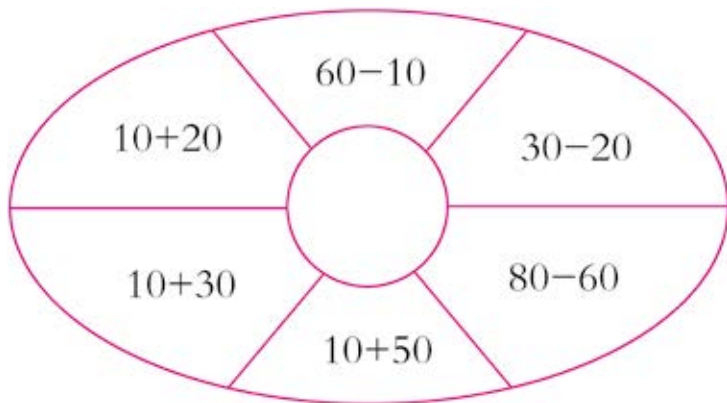
() > () > () > () > ()

20 80 60 10 90

() > () > () > () > ()



四、看谁算得又对又快。



五、数一数，填一填，并列式计算。



=10



=20



=30



=40

1. 和 一共多少个？

$$\square \bigcirc \square = \square$$

2. 比 多多少个？

$$\square \bigcirc \square = \square$$

3. 比 多多少个？

$$\square \bigcirc \square = \square$$

六、应用题。

1. 池塘里的 第一天开了 20 朵，第二天又开了 30 朵，一共开了多少朵 ？

$$\square \bigcirc \square = \square \text{ (朵)}$$

答：一共开了 朵 。