



主 编 \ 潘承慧

针对性强 命中率高 含金量足

试卷汇编

成都

SHI·JUAN·HUI·BIAN

成都考生定制

四川各地区期末真题精选



BS | 二年级·下

图书在版编目(CIP)数据

试卷汇编. 数学二年级. 下 / 潘承慧主编. — 成都:
电子科技大学出版社, 2017.4

ISBN 978-7-5647-4301-7

I. ①试… II. ①潘… III. ①小学数学课—习题集
IV. ①G624

中国版本图书馆 CIP 数据核字(2017)第 065926 号

试卷汇编. 数学二年级. 下

主 编 潘承慧

出 版: 电子科技大学出版社(成都市一环路东一段 159 号电子信息产业大厦

邮编:610051)

策划编辑: 杜 倩 刘 愚

责任编辑: 熊晶晶

主 页: www.uestcp.com.cn

电子邮箱: uestcp@uestcp.com.cn

发 行: 新华书店经销

印 刷: 成都兴怡包装装潢有限公司

成品尺寸: 410 mm×290 mm 印张 3 字数 48 千字

版 次: 2017 年 4 月第一版

印 次: 2017 年 4 月第一次印刷

书 号: ISBN 978-7-5647-4301-7

定 价: 25.00 元

■ 版权所有 侵权必究 ■

◆ 本社发行部电话:028-83202463;本社邮购电话:028-83201495。

◆ 本书如有缺页、破损、装订错误,请寄回印刷厂调换。



成都市武侯区 2015—2016 学年
第二学期期末测试题

测试时间:60 分钟

测试分值:100 分

题号	一	二	三	四	五	六	总分
得分							

一、计算。(22 分)

1. 直接写出得数。

$9 \times 3 =$

$90 - 34 =$

$200 + 800 =$

$2000 + 400 =$

$40 \div 5 =$

$81 - 18 =$

$170 - 70 =$

$420 - 60 =$

$42 - 4 =$

$130 + 55 =$

$500 + 400 =$

$36 \div 5 =$

$46 + 35 =$

$65 + 24 =$

$630 - 120 =$

$1000 - 800 =$

2. 用竖式计算(带★的需写出验算过程)。

$60 \div 7 =$

$82 \div 9 =$

$\star 27 + 18 =$

$\star 100 - 51 =$

姓名

封

班级

密

学校

二、填空。(25分)

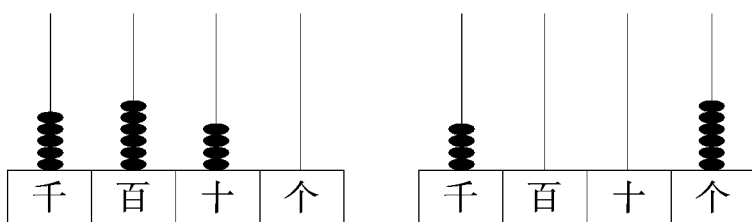
1. 写出横线上的数。

峨眉山主峰万佛顶的海拔是三千零七十九米；

青城山主峰老霄顶海拔是一千二百六十米。

写作： ； 。

2. 看图写数并比较大小。



() ○ ()

3. 在()里填合适的单位。

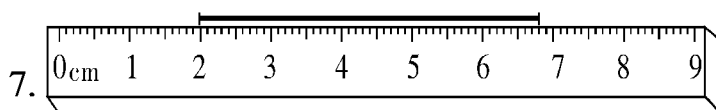
刷一次牙大约用 3() 中国象棋棋盘厚 15()

乒乓球桌高 76() 夏天午睡大约用 1()

4. 一个四位数,千位是 8,十位是 5,其他数位上是 0,这个数是(),比它大 1 的数是()。

5. 在 5、0、9、4、6 中选择四个数字组成一个最大的四位数(),组成一个最接近 5000 的四位数()。

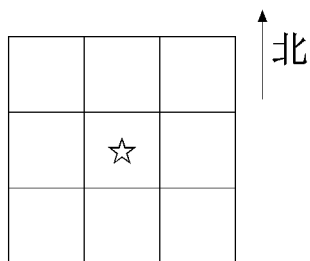
6. 有一串珠子是这样排列的●●●○○●●●○○●●●○○……想一想,第 32 个珠子是(),第 45 个珠子是()。



图上所示的线段长度是()毫米,大约是()厘米。

五、动手操作。(10分)

1. 按要求写上“我爱数学”这四个字。

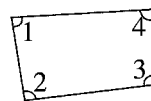


在☆的东北面的方格里写上“我”字；
 在☆的西北面的方格里写上“爱”字；
 在☆的南面的方格里写上“数”字；
 “学”字的东面方格里是“数”字。

2. 仔细观察右图。

(1) 请在图中找到最短的一条边，描一描，

再量一量长度是()毫米。

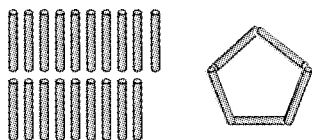


(2) 再画一条长度是 2cm 的线段。

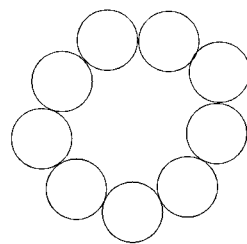
(3) 判断：图中 $\angle 1$ 是()角， $\angle 3$ 是()角。

六、解决生活中的数学问题。(33分)


1. 5根小棒搭1个五边形，24根可以搭几个五边形，还剩几根？



2. 妙想有 37 个珠子,最多能穿几串这样的手链?



3. 将 41 个鸡蛋全部放在蛋托里,至少需要多少个蛋托?



41个鸡蛋

每个蛋托最多
放6个鸡蛋



姓名

班级

学校

线

封

密

4. 白云小学一年级订《科学画报》205 份,二年级比一年级少订 46 份,三年级比二年级多订 39 份。

(1)二年级订了多少份?

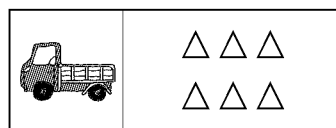
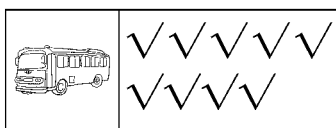
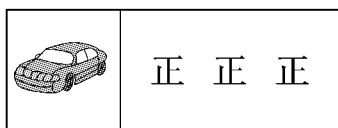
(2)三年级订了多少份?

5. 学校为二年级购买 254 本新图书,一年级比二年级少 69 本。




(1)一年级有多少本新图书?

(2)两个年级一共有多少本新图书?

6. 小明、小刚和小华三人记录了 20 分钟内校门口通过汽车的情况如下：



(1) 填一填。

	() 辆
	() 辆
	() 辆

(2) 回答问题。

① 小汽车和大巴车哪个数量多？多几辆？

② 20 分钟内通过校门口的汽车一共有多少辆？



成都市锦江区 2015—2016 学年
第二学期终结性评价

测试时间:60 分钟

测试分值:(100+10)分

题号	一	二	三	四	五	六	七	总分	智力挑战
得分									

一、用心思考,认真填写。(28 分)

1. 比 9999 多 1 的数是(),比 1000 少 1 的数是()。

2. 最大的三位数是(),它比最大的两位数多()。

3. 找规律,填一填。

①570,670,(),(),970。

②1010,1000,(),(),970。

4. 算一算,填一填。

5 千米=()米

95 秒=()分()秒

20 毫米=()厘米

3 时=()分

6 米=()厘米

1 时 45 分=()分

5. 填上合适的单位。

①大树高约 10()。


②汽车每时行驶约 60()。

③数学书厚约 5()。

④吃晚饭大约需要 30()。

⑤眨一下眼睛大约需要 1()。⑥这次数学考试时间是 1()。

6. 正方形的四条边(),四个角都是()角。

7.  周长为()厘米()毫米

①在上图上量一量,再填空。

②上图中有()个角。其中有()个锐角、()个钝角、()个直角。

姓名

班级

学校

姓名

学校

二、仔细计算。(24分)

1. 算一算。

$58 \div 8 =$

$540 + 50 =$

$607 + 400 =$

$1300 - 500 =$

$32 \div 9 =$

$760 - 120 =$

$189 - 60 =$

$420 + 110 =$

2. 在○里填上“>”“<”或“=”。

$567 - 112 \bigcirc 567 - 113$

$3297 \bigcirc 3279$

$800\text{m} \bigcirc 8\text{km}$

$1655 + 289 \bigcirc 1655 + 298$

$40\text{mm} \bigcirc 4\text{cm}$

$1\text{时}10\text{分} \bigcirc 80\text{分}$

3. 用竖式计算。(②、④小题要验算)

$\textcircled{1} 34 \div 6 =$

$\textcircled{2} 499 + 208 =$

$\textcircled{3} 521 - 361 =$

$\textcircled{4} 700 - 176 =$

三、认真选一选。(6分)

1. 下面各数, 读数时只读一个零的是()。

$\textcircled{1} 10000$

$\textcircled{2} 10101$

$\textcircled{3} 10001$

2. $5\Box < 56$, \Box 里最大应填()。

$\textcircled{1} 9$

$\textcircled{2} 5$

$\textcircled{3} 6$

3. 8块月饼装满一盒, 60块月饼最多能装满()盒。

$\textcircled{1} 8$

$\textcircled{2} 7$

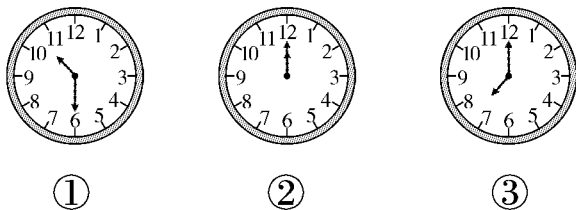
$\textcircled{3} 6$

四、画一画。(6分)

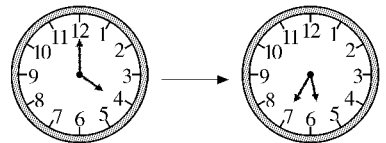
<p>1. 接着画出平行四边形。</p>	<p>2. 画出一个更大的钝角。</p>	<p>3. 标出 1691 的大致位置。</p>
----------------------	----------------------	--------------------------

五、仔细辨认。(12分)

1. 下面哪个钟表坏了? 我认为是()号。

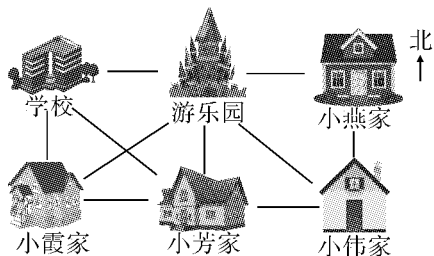


2.



从()时到()时
()分, 经过了()
时()分。

3. 观察左图, 判断右边的话对不对。(对的打“√”, 错的打“×”)



- ① 游乐园在学校的东面。()
- ② 游乐园在小伟家的西南面。()
- ③ 游乐园在小霞家的东北面。()
- ④ 小芳家的东北面是小燕家。()

六、调查与记录。(10分)

下面是小猫文具店的销售记录表。

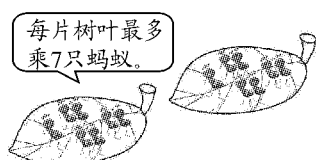
钢笔	铅笔	尺子	橡皮
+++ +++ 	+++ +++ +++ +++ +++	+++	+++ +++ +++

- 1. 帮小猫整理数据。钢笔卖了()支, 铅笔卖了()支, 尺子卖了()把, 橡皮卖了()个。
- 2. 小猫要去进货了, 你建议哪一种文具多进点? ()


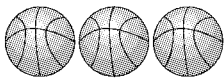
七、解决问题。(14分)

1. 有 18 个苹果,平均分给 5 个小朋友,每个小朋友分几个? 还剩几个?

2. 有 50 只小蚂蚁要过河,至少需要几片树叶?



3.

	花了 177 元
	花了 234 元

①一共花了多少元?

②李老师付了 500 元,找回 89 元,对吗?

※智力挑战!(10分)

1. ○○○○●○○○○●○○○○●……

①接着画下去,第 19 个应画_____,第 25 个应画_____。

②如果一共有 25 个,那么●一共有_____个。

2. 填一填。

$$\begin{array}{r}
 (1) \quad \square \quad \square \quad \square \\
 + \quad \square \quad 3 \quad \square \\
 \hline
 1 \quad 0 \quad 0 \quad 0
 \end{array}$$

$$\begin{array}{r}
 (2) \quad 9 \quad \square \quad \square \\
 - \quad \quad 5 \quad 8 \\
 \hline
 9 \quad \square \quad 3
 \end{array}$$



成都市青羊区 2015—2016 学年

第二学期期末质量检测

测试时间:60 分钟

测试分值:(100+20)分



题号	一	二	三	四	五	六	总分	附加题
得分								

一、口算。(15 分)

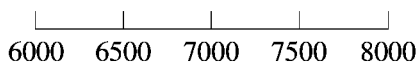
(口算题卷监考老师需在答题开始 5 分钟后收卷)

二、画与填。(20 分)

- 写数。育才小学全校学生人数是二千六百二十四人,写作:_____ ; 其中女生人数是一千零五人,写作:_____。
- 用两种不同的方法表示“1230”这个数。



- 在下面的数线上分别标出 6630 和 7818 这两个数的大致位置,画上“▲”。



利用数线图直接比较大小:6630 ○ 7818, 因为数线上左边的数一定比右边的数_____。

- 按规律填数:305, 405, 505, _____, _____, _____, _____。
- 1018 中的两个“1”分别表示_____和_____。
- 正方形“边”的特点是四边相等,我们是用_____或_____的方法得到的。
- 填上合适的单位:
铅笔长约 16_____。 大树高约 15_____。
- 4km = _____ m 30cm = _____ dm 90 分 = _____ 时 _____ 分
- 如果三位数 $45\square > 458$, \square 是_____ ; 如果四位数 $\square 909 < 3000$, \square 可能是_____ 或_____。

- 从 _____ : _____ 到 _____ : _____ , 经过了 _____ 分钟。

姓名

线

班

班级

号

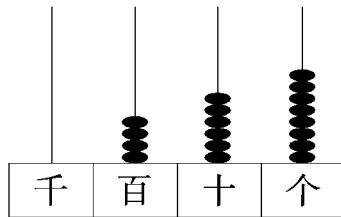
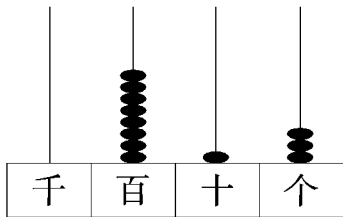
学校

三、画与算。(29分)

1. 画出下面的计算过程。

(1) $813+216=$ _____

(2) $468-232=$ _____



2. 算一算、填一填。(注意:方框里要求填最大数哦!)

$250+43=$

$8000-3000=$

$3200-320=$


$50 \div 7=$


$6 \times \square < 35$

$7 \times \square < 45$

$\square \times 7 < 40$

$\square \times 7 < 30$

3. 下面的可以穿出几串 ? 圈一圈,算一算,再把竖式每步表示的意思连一连。



$4 \overline{) 27}$

—

用去的个数

剩下的个数

穿成的串数

总个数

算式是: _____ = _____ () …… _____ ()

4. 竖式计算(第④、⑤两题要验算)。

① $38 \div 5 =$

② $60 \div 8 =$

③ $820 - 356 =$

④ $81 + 459 =$

验算:

⑤ $1000 - 365 =$

验算:

四、看与做。(9分)

1. 确定方向。

(1) 超市在游乐场的_____方向, 在公园的_____面。

(2) 医院在学校的_____面, 在电影院的_____方向。

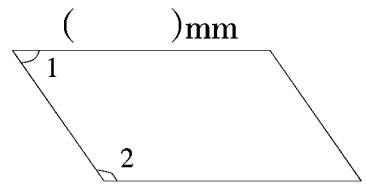
(3) 游乐场在超市的_____方向, 在医院的_____面。

2. 量一量, 填一填, 想一想, 让图形“变魔术”。

(1) 量出图形指定边的长度, 写在()里。

(2) 这个图形的形状是_____。

(3) 图中 $\angle 1$ 是_____角, $\angle 2$ 是_____角。



(4) 有一个和上图形状相同的框, 拉一拉, 当四个角变成_____角时, 这个框的形状就变成了_____。

五、想与选。(选出一个正确的画 \square)(4分)

1. 小丽早上面向太阳行走, 她右面的方向是(东 南 北)

2. 在 $\sphericalangle 1$ 、 $\sphericalangle 2$ 和 $\sphericalangle 3$ 中, 最小的角是($\sphericalangle 1$ $\sphericalangle 2$ $\sphericalangle 3$)

3. 淘气早上刷牙大约要用(3秒 3分 3时)

4. 如果 $\blacksquare - 345 < \blacktriangle - 345$, 那么($\blacksquare > \blacktriangle$ $\blacksquare = \blacktriangle$ $\blacksquare < \blacktriangle$)

六、学与用。(23分)

1. 有 40 颗纽扣。

(1) 6 颗装一袋, 要装完这些纽扣, 需要准备几个袋子?

(2) 每件衬衣需要钉 7 颗纽扣, 这些纽扣最多能钉几件衬衣?

答: _____

答: _____