

人教版

湘教
考苑



单元测评全优用书

基础达标训练卷

(单元A卷)

立足基础注重训练
全面夯实基础知识

能力提升测试卷

(单元B卷)

着眼综合拓展延伸
培养创新应用能力

半程优化检测卷

(期中卷)

优化阶段巩固测控
实现半程复习效果

全程优化检测卷

(期末卷)

构建体系形成能力
确保夺取高分目标

1 数学
一年级下册

湘教考苑·单元测试卷

XIANGJIAO KAOYUAN DANYUAN CESHIJUAN

本书编写组 编

配套单元测试卷 + 期中测试卷 + 期末测试卷

CTS 湖南教育出版社

注意事项

考生要与清姓名、姓名和班级
不在试卷上做任何标识
字迹要清楚,卷面要整洁


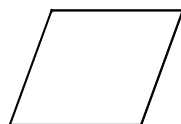
第一单元测试卷

时间:60分钟 满分:100分+10分

| | | | | | | | | | |
|----|---|---|---|---|---|---|---|---|----|
| 题号 | 一 | 二 | 三 | 四 | 五 | 六 | 七 | 八 | 总分 |
| 得分 | | | | | | | | | |

wǒ huì rèn tú xíng yòng zhí xiàn lián qǐ lái

一、我会认图形,用直线连起来。(5分)



三角形

圆形

正方形

平行四边形


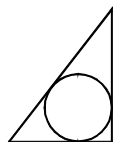
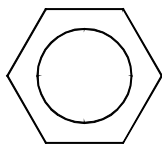
长方形

huà yí huà tú yì tú

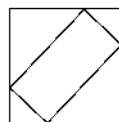
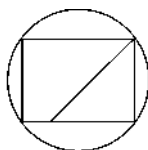
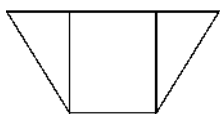
二、画一画,涂一涂。(第1小题4分,第2、3、4小题每题3分,共13分)

1. 用■和□拼出两种不同的大正方形。

2. 给圆形涂上绿色。



3. 给三角形涂上红色。



班级

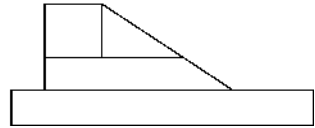
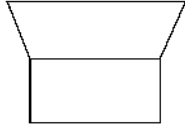
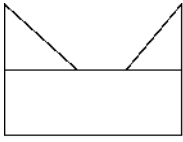
姓名

乡

县(区) 学校

订装线


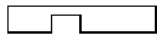
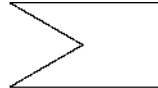

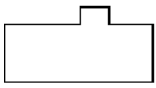
4. 给长方形涂上黄色。



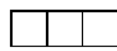
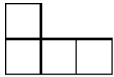
bǐ yì bǐ kàn shéi lián de duì

三、比一比，看谁连的对。(每小题8分，共16分)

1. 在下列图形中，下面的一块是从上面的哪一块上剪下来的？用线连一连。



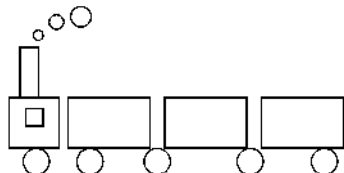
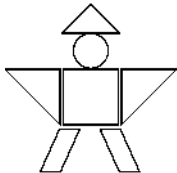
2. 请把能拼成长方形或正方形的图形连起来。








shù yì shù tián yì tián

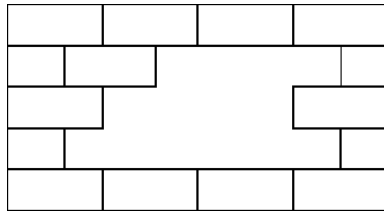
四、数一数，填一填。(第1小题10分，第2小题2分，第3小题8分，共20分)

1.

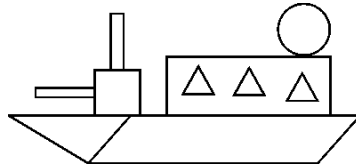


| | | | | |
|---|---|---|---|---|
|  |  |  |  |  |
| () 个 | () 个 | () 个 | () 个 | () 个 |

2. 缺了 () 个长方形。



3.



(1) 比 () (填“多”或“少”) () 个。

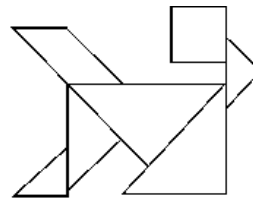
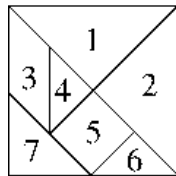
(2) () 比 () 多 1 个。

xià tú zuǒ biān shì qī qiǎo bǎn yòu biān shì qī qiǎo bǎn pīn chéng de xiǎo gǒu tú
 五、下图左边是七巧板，右边是七巧板拼成的小狗图

àn qǐng nǐ gěi tú àn zhōng de měi yí kuài biāo shàng tā zài zuǒ tú zhōng xiāng
 案，请你给图案中的每一块标上它在左图中相

yīng de xù hào

应的序号。(14分)



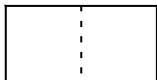
(小狗)

yán zhe xū xiàn zhé yì zhé nǐ fā xiàn le shén me

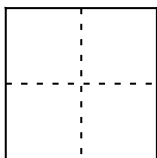
六、沿着虚线折一折，你发现了什么？(每空3分，共18分)



折成了 () 个 () 形。



折成了 () 个 () 形。




折成了 () 个 () 形。

wǒ huì huà yí huà

七、我会画一画。(第1小题6分,第2小题8分,共14分)

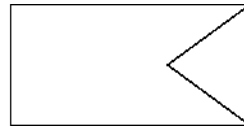
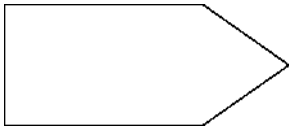
1.



画一条线把正方形分成
两个相同的长方形。

画一条线把正方形分成
两个相同的三角形。

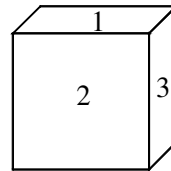
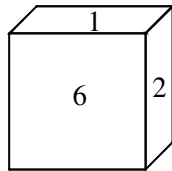
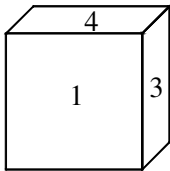
2. 在下面的图形上画一条线,把它们分成长方形和三角形。



fù jiā tí

八、附加题。(10分)

在一个正方体木块的6个面上分别写上1, 2, 3, 4, 5, 6, 然后按照下面的三种位置摆放。



从图中可以看出,“1”的对面是(),“2”的对面是(),“3”的对面是()。

第二单元测试卷

时间:60分钟 满分:100分+10分

| 题号 | 一 | 二 | 三 | 四 | 五 | 六 | 七 | 八 | 总分 |
|----|---|---|---|---|---|---|---|---|----|
| 得分 | | | | | | | | | |

注意事项

考生要与清姓名、姓名和班级
不在试卷上做任何标识
字迹要清楚,卷面要整洁

班级

年级

姓名

乡

县(区) 学校

订装线

kàn shéi suàn de yòu kuài yòu zhǔn

一、看谁算得又快又准。(12分)

$15-4=$

$13+5=$

$17-8=$

$19-6=$

$12-9=$

$18-7=$

$14+2=$

$14-4=$

$11-8+6=$

$13+4-2=$


$16-5-7=$

$7+8-5=$

kàn tú tián kòng


二、看图填空。(每小题2分,共8分)

1.




$11-3= ()$

2.



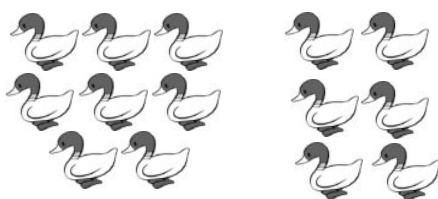
$12-2= ()$

3.



$15-8= ()$

4.



$14-6= ()$

zài lǐ tián shàng

三、在()里填上“>”“<”或“=”。(8分)

$14-7()6$

$15-6()9$

$13-6()6$

$10-9()13-8$

$12-7()6$

$17-5()11$

$11-9()5$

$11-7()7+7$

lǐ yīng tián jǐ

四、()里应填几?(9分)

$15-()=8$

$9+()=17$

$16-()=9$

$8 + () = 16$

$19 - 4 = ()$

$17 - () = 11$

$14 - () = 8$

$11 - () = 9$

$13 - 7 = ()$

kàn tú liè shì jì suàn

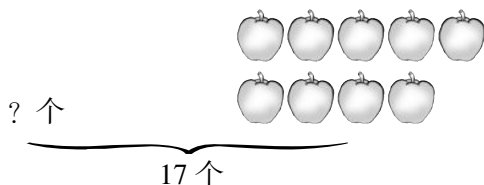
五、看图列式计算。(每小题4分,共16分)

1.



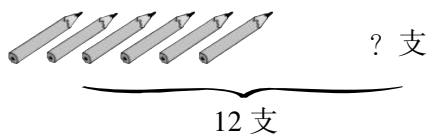
$\square \bigcirc \square = \square ()$

2.




$\square \bigcirc \square = \square ()$

3.



$\square \bigcirc \square = \square ()$

4.



$\square \bigcirc \square = \square ()$

qǐng tián xiě xià liè biǎo gé

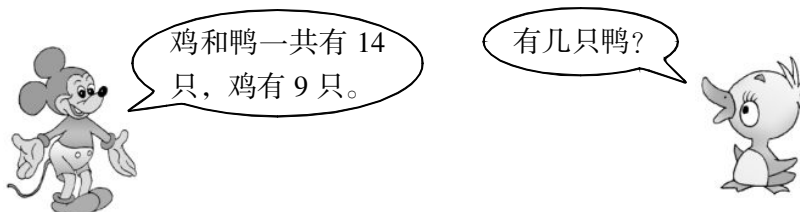
六、请填写下列表格。(每空3分,共12分)

| | 鞋子 | 衣服 | 帽子 | 围巾 |
|----|-------|-------|-------|-------|
| 原有 | 14 双 | 18 件 | () 顶 | 16 条 |
| 卖出 | 5 双 | () 件 | 2 顶 | 7 条 |
| 还剩 | () 双 | 10 件 | 13 顶 | () 条 |

wǒ huì jiě jué wèn tí


七、我会解决问题。(第 1、2 小题每题 6 分, 第 3、5 小题每题 8 分, 第 4 小题 7 分, 共 35 分)

1.



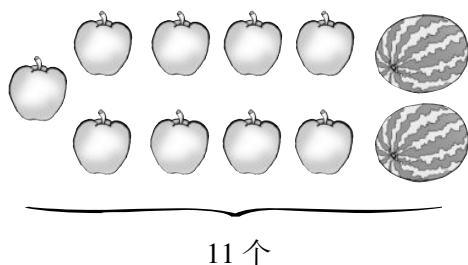
$$\square \bigcirc \square = \square \text{ (只)}$$

2.



$$\square \bigcirc \square = \square \text{ (朵)}$$

3.



苹果有 9 个, 西瓜有多少个?

$$\square \bigcirc \square = \square \text{ (个)}$$

西瓜有 2 个, 苹果有几个?

$$\square \bigcirc \square = \square \text{ (个)}$$

4.


公共汽车上原有 9 名乘客，到站后有 5 名乘客上车，8 名乘客下车。



现在公共汽车上一共有多少名乘客？



$$\square \bigcirc \square \bigcirc \square = \square \text{ (名)}$$

5. 停车场原有 16 辆  和 9 辆 ，现在开走了 8 辆 ，
停车场现在还有多少辆 ？现在  和  共多少辆？

fù jiā tí

八、附加题。(10分)

一共有 10 名男生站在一排，老师让相邻两名男生之间站一名女生，一共可以站进多少名女生？

注意事项

考生要与清姓名、姓名和班级
不在试卷上做任何标识
字迹要清楚, 卷面要整洁

第三单元测试卷

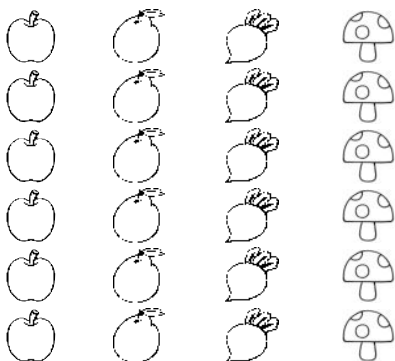

时间:60 分钟 满分:100 分

| | | | | | | | |
|----|---|---|---|---|---|---|----|
| 题号 | 一 | 二 | 三 | 四 | 五 | 六 | 总分 |
| 得分 | | | | | | | |

fēn yī fēn tú yì tú tián yì tián



一、分一分,涂一涂,填一填。(每空4分,共28分)

1.



() 个
 () 个
 () 个
 () 个

2.



() 个
 () 个
 () 个

班级

年级

乡

县(区) 学校

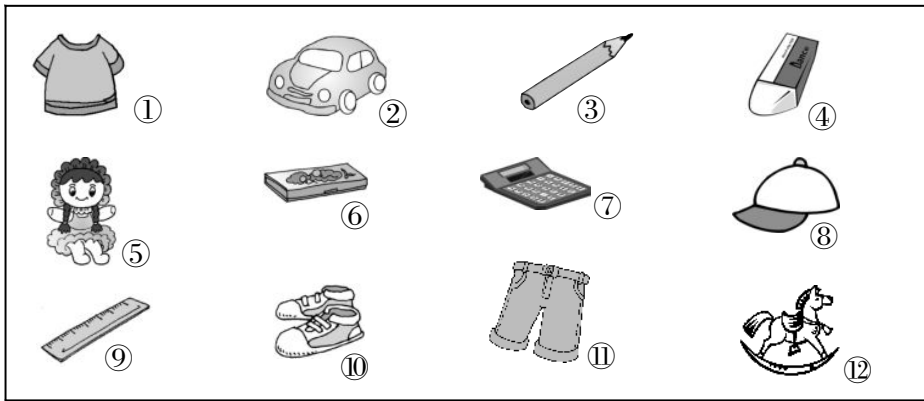
姓名

学校

线
订
装

kàn yí kàn fēn yì fēn

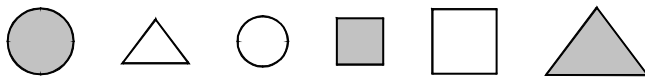
二、看一看，分一分。（每空4分，共12分）



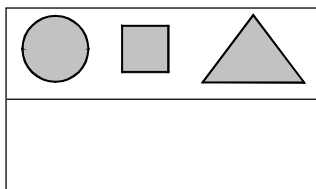
1. 文具：（ ）
2. 服装鞋帽：（ ）
3. 玩具：（ ）

bāng máng wán chéng xià miàn tú xíng de fēn lèi

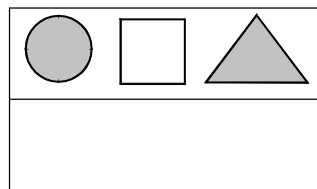
三、帮忙完成下面图形的分类。（8分）



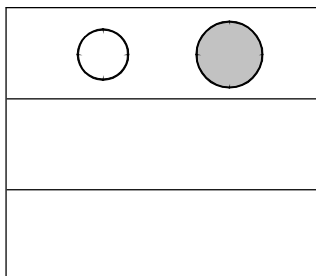
分法一



分法二



分法三



xiǎng yì xiǎng kě yǐ zěnyàng fēnlèi bǎ tā men xiě zài yì qǐ
 四、想一想可以怎样分类？把它们写在一起。(8分)



(1)



(2)



(3)



(4)



(5)



(6)



(7)



(8)

()
 ()

shǔ yì shǔ tián yì tián
 五、数一数，填一填。(18分)

期末评比时，一(1)班四位同学得小红花的情况如下图所示：



王红



张玉



李洁



刘新宇

1. 根据上图填写下列表格。

| | | | | |
|----|----|----|----|-----|
| | 王红 | 张玉 | 李洁 | 刘新宇 |
| 朵数 | | | | |

2. 根据上面的表格，回答下面的问题。

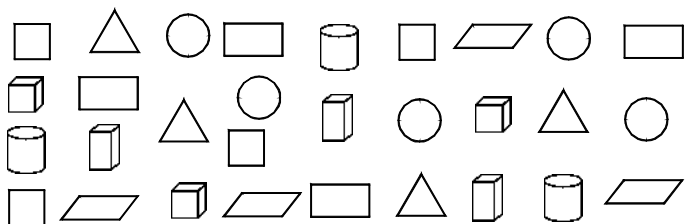
本次得小红花最多的是（ ），得到（ ）朵。

（ ）和（ ）得到的小红花一样多。

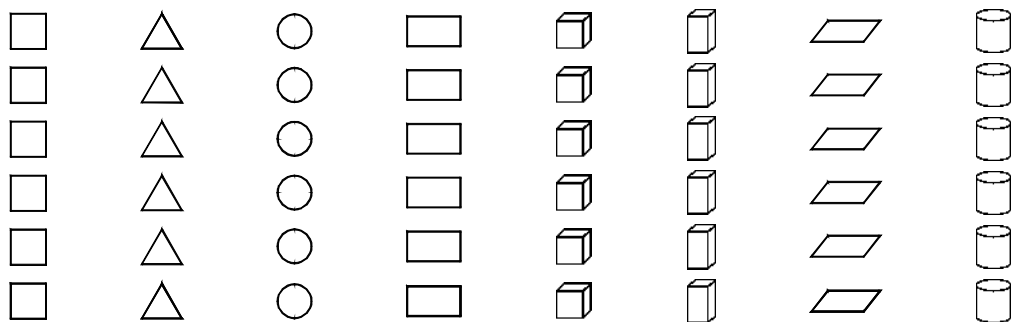
3. 我还能提出一个数学问题（ ）。

fēn lèi zhěng lǐ xué guò de tú xíng

六、分类整理学过的图形。（第1小题16分，每2小题6分，第3小题4分，共26分）



1. 按形状分一分，涂一涂，说一说每种图形各有几个。



()个 ()个 ()个 ()个 ()个 ()个 ()个 ()个

2. 如果把这些图形分成两组，可以怎么分？把分组结果表示出来。

| | | |
|--|--|--|
| | | |
| | | |

3. 请再提出一个数学问题，并解答。

第四单元测试卷

时间:60分钟 满分:100分

| | | | | | | | | | |
|----|---|---|---|---|---|---|---|---|----|
| 题号 | 一 | 二 | 三 | 四 | 五 | 六 | 七 | 八 | 总分 |
| 得分 | | | | | | | | | |

注意事项

考生要与清姓名、姓名和班级
不在试卷上做任何标识
字迹要清楚,卷面要整洁

班级

年级

乡

县(区)

姓名

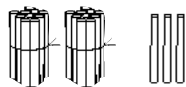
学校

订 装 线

rèn zhēn tián yì tián

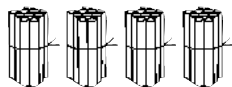
一、认真填一填。(每小题2分,共12分)

1. 看图填空。

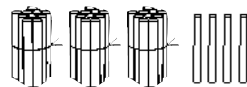


() 个十和

() 个一



() 个十



() 个十和

() 个一

2. 64 是由 () 个十和 () 个一组成的。

3. 4 个十和 8 个一是 () ; 十位数上是 8, 个位数上是 6, 这个数是 () 。

4. 78 前面一个数是 () , 后面一个数是 () 。

5. 最大的两位数和最大的一位数的差是 () 。

6.

45, 54, 62, 17,

90, 74, 32, 21

大于 50 的数

小于 50 的数

xuǎn zé tí

二、选择题。(每小题2分,共10分)

1. 与 65 相邻的两个数是 () 。

①62 和 63

②64 和 66

③66 和 67

2. 最小的两位数比 15 少 () 。

①4

②3

③5

3. 8个十和8个一合起来是 ()。

①81

②18

③88

4. 45到50之间有 ()个数。

①4

②5

③6

5. 一个两位数,个位上与十位上的数相同,且这个数比40小,则这个数可能是 ()。

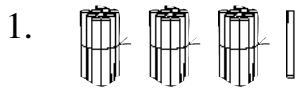
①44

②33

③35

dú shù yǔ xiě shù

三、读数与写数。(每空2分,共24分)



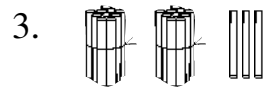
读作 ()

写作 ()



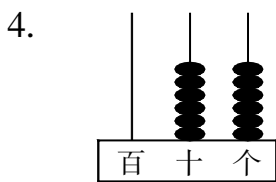
读作 ()

写作 ()



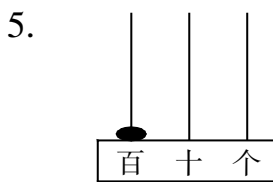
读作 ()

写作 ()



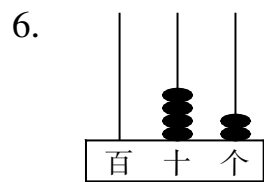
读作 ()

写作 ()



读作 ()

写作 ()



读作 ()

写作 ()

zài lǐ tián shàng

四、在 ()里填上“>”“<”或“=”。(每空1分,共8分)

45()54

64()54

70()80

67()68

58()58




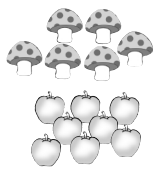
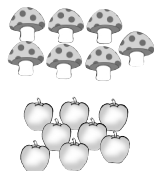
78-6()70

90+9()100

20+8()30

kàn tú tián yì tián

五、看图填一填。(每空1分,共8分)



1. 蘑菇有 ()个,蘑菇比苹果 (),蘑菇比花 ()。

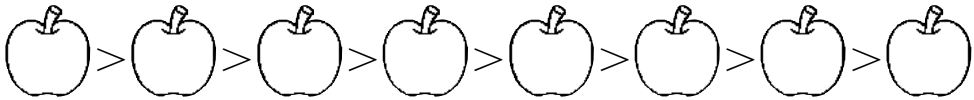
2. 苹果有 ()个,花有 ()朵,苹果比花 ()。

3. 数一数，苹果和花总共有（ ）个，苹果和花的总数比蘑菇个数（ ）。

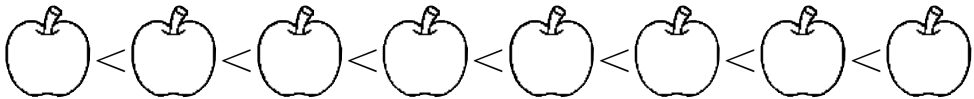
àn zhào yāo qiú jiāng xià liè gè shù pái liè qǐ lái

六、按照要求将下列各数排列起来。（每小题3分，共6分）

1. 20 57 64 15 38 49 87 73



2. 34 52 23 89 47 65 12 91



wǒ huì suàn yí suàn

七、我会算一算。（16分）

$50 + 8 =$

$45 - 4 =$

$21 + 8 =$

$99 - 9 =$

$43 - 40 =$

$5 + 50 =$

$38 - 8 =$

$40 + 9 =$

$7 + 70 =$

$90 + 5 =$

$76 - 6 =$

$35 + 9 =$

$28 - 8 =$

$66 - 60 =$


$3 + 20 =$

$89 - 9 =$

wǒ néng jiě jué wèn tí





八、我能解决问题。（第1、2小题每题5分，第3小题6分，共16分）

1.



走掉了10只小鸡，现在剩下4只小鸡，请问原来有多少只小鸡？



2. 小商店卖  (气球)，第一天卖出 8 个 ，第二天卖出 20 个 ，两天一共卖出多少个 ？

3. 3 月 12 日是植树节，学校老师都参加了义务植树活动。一年级老师植了 34 棵树，二年级老师植了 30 棵树。一年级老师比二年级老师多植了多少棵树？