

湘教考苑

XIANGJIAO KAOYUAN ZHONGKAO ZONGFUXI

中考总复习

● 本书编写组 编



地理

【长沙版】

CES
PUBLISHING & MEDIA

湖南教育出版社

写给同学

亲爱的同学,当你翻阅这本饱蘸浓厚深情、汇集多年复习经验的图书时,你是否意识到,你已经拥有了叩开中考大门的金钥匙呢?《湘教考苑·中考总复习·地理》由一线名师在系统分析各地市中考命题特点及题型设置的基础上,精心编撰而成。全书共分四编,以“三轮复习+考前回扣”为编写理念,以“课时学案”为复习模式,详解精析,巧妙点拨,透析中考,是中考备战的最佳选择,是圆梦的杠杆支点。

特色一 三轮一回扣

借鉴杜郎口中学、昌乐二中等名校课改成功经验。一轮教材基础梳理,完善知识体系;二轮专题针对突破,对应考点,强化专题训练;三轮考前提升,提高知识运用能力;考前复习效果评估,提高学生应试技巧,提升学生考试能力。

特色二 课时复习案

采用“复习课案”模式进行编写。内容严格按照课堂环节、复习用时设置。归纳系统,剖析透彻,点拨精练,选题经典,解析规范,做到知识易明,问题易清,效果易升。

特色三 图书一本装

成书采用简洁一本装模式。成书,含前三轮复习过程,复习效果评估及答案;复习效果评估,题目新颖,题型紧扣中考;答案,突出方法点拨、技巧提炼和学生规范答题意识的培养。

特色四 人性化设计

重点内容文本框标记;原白护眼纸,高仿真演练试题,充足的答题空间。人性化设计,让每一位学生从高品质教育图书中享受学习的快乐。





第二编 专题突破篇 112

专题一 地理图像的阅读与应用 112

专题二 自然环境与人类活动 114

专题三 区域联系与区域差异 118

专题四 地理时事热点 123

考前回扣 127

第三编 考前提升篇 129

选择题全能提升 129

综合题全能提升 134

综合全能提升卷(一) 139

综合全能提升卷(二) 144

世界地理专项提升卷 149

中国地理专项提升卷 152

参考答案 155



第一编 基础梳理篇

第一单元 让我们走进地理 地球的面貌

基础整合

一、学会看地图

1. 地图分为①_____地图和②_____地图两类。
2. 地图三要素:方向、③_____、图例和注记。
3. 比例尺大小与内容、范围的关系:在图幅相同的情况下,比例尺越④_____,表示范围越⑤_____,内容越⑥_____;比例尺越小,表示范围越大,内容越简略。

二、认识地球

1. 地球的形状与大小

- (1)人类对地球形状的认识过程:麦哲伦船队的环球航行第一次证明地球是一个球体。
- (2)地球的形状:地球是一个⑦_____、⑧_____的不规则球体。

2. 地球仪

- (1)地轴:从地球内部穿过地心的假想的轴,叫⑨_____。
- (2)两极:地轴与地球表面有两个交点,叫两极。北极是地球的最北端,与其对应的南极是地球的最南端。

(3)纬线和经线

	纬线	经线
定义	在地球仪表面,与⑩_____垂直并环绕地球一周的圆圈	在地球仪表面,连接南、北两极,并垂直于纬线的弧线
形状	圆	⑪_____
长度	从赤道向两极递减,赤道最长,南、北两极缩成一点	所有经线的长度⑫_____
指示方向	⑬_____方向	南北方向

(4)纬度和经度

	纬度	经度
起始线	⑭_____	⑮_____
度数划分	从赤道向南和向北,各分 90°	从本初子午线向东和向西,各分 180°
代号	北纬 N,南纬 S	东经 E,西经 W
变化规律	北纬:愈向北,度数愈大; 南纬:愈向南,度数愈⑯_____。 南极点和北极点各为 90°	东经:愈向东,度数愈大; 西经:愈向西,度数愈⑰_____。 东经和西经⑱_____经线是重合的

(5)重要的经、纬线

纬线	赤道	南、北半球和南、北纬的分界线
	⑲_____	低纬度地区和中纬度地区的分界线
	60° 纬线	中纬度地区和高纬度地区的分界线
经线	⑳_____	东、西经的分界线
	20° W 和 160° E 经线	东、西半球的分界线

(6)经纬网:在地球仪上,由经线和纬线相互交织所构成的网络,叫做⑳_____。

(7)经纬网的用途:利用经纬网,我们可以很方便地确定地球表面任何一个地点的㉑_____。

3. 地球的运动

	中心	方向	周期	地理意义
自转	地轴	自西向东	1天或24小时	㉒_____
公转	太阳	自西向东	1年或365天	㉓_____



三、世界的海陆分布

1. 海洋和陆地

世界海洋面积占地球总面积的 25，陆地占 26。

2. 七大洲

主要概念	大陆:面积广大的陆地。全球共有六块大陆, 27 最大,澳大利亚大陆最小
	岛屿:面积较小的陆地。格陵兰岛是世界最大的岛屿
分布	大洲:大陆和它附近的岛屿,合称大洲。全世界共有 28 个大洲
	面积(由大到小):亚洲、非洲、北美洲、南美洲、南极洲、欧洲、大洋洲(亚非北南美、南极欧大洋)
界线	东半球主要有:亚洲、非洲、欧洲、大洋洲、南极洲
	西半球主要有:北美洲、南美洲
界线	北半球主要有:亚洲、欧洲、非洲、北美洲(全部在北半球的有欧洲、北美洲)
	南半球主要有:大洋洲、南极洲、南美洲(全部在南半球的有南极洲)
界线	赤道穿过的大洲:大洋洲、亚洲、南美洲、非洲(谐音记为“大雁南飞”)
	赤道穿过的大陆:南美洲大陆、非洲大陆
界线	亚洲、欧洲: 29 —乌拉尔河— 30 —土耳其海峡(沟通地中海和黑海)
	亚洲、非洲: 31 (沟通地中海和红海)
界线	南美洲、北美洲: 32 (沟通太平洋和大西洋)
	亚洲、北美洲: 33 (沟通北冰洋和太平洋)
界线	欧洲、非洲: 34 (沟通大西洋和地中海)
	南美洲、南极洲: 35 (沟通太平洋和大西洋)

3. 四大洋

- (1)太平洋:跨南北半球,在四大洋中最 36、最 37,岛屿最 38。
- (2)大西洋:跨南北半球,形状略呈“39”形,世界第二大洋。
- (3)印度洋:大部分位于 40 半球,世界第三大洋。
- (4)北冰洋:位于 41 地区,是四大洋中面积最

小、纬度最 42、最浅、跨经度最广的大洋。

(5)海:海是海洋的边缘部分。与大洋相比,海的面积和深度小得多。

(6)海峡:是沟通两个海域之间的狭窄水道,通常是重要的海上通道。

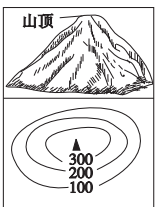
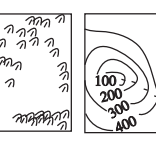
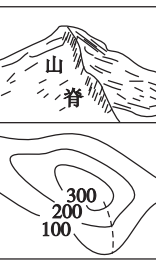
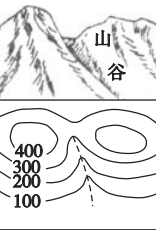

(7)四大洋:从大到小排列为 43、大西洋、印度洋、44。

四、世界的地形

1. 两大山脉带: 45 山脉带;横贯亚欧大陆 46 和非洲 47 的山脉带。

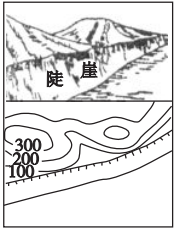
2. 海底地形: 48 最浅,水深一般在 200 米以内,是发展海洋事业的主要场所,海洋资源最丰富。

3. 判读常见地形

地形	表示方法	示意图和等高线图	地形特征	说明
山峰(山顶)	闭合曲线,外低内高,符号为“▲”		四周低,中部高	在等高线闭合区域,等高线数值由外侧向内侧越来越大
盆地、洼地	闭合曲线,外高内低		四周高,中间低	在等高线闭合区域,等高线数值由外侧向内侧越来越小
山脊	等高线凸向低处山脊连线		从山顶到山麓凸起高脊部分	山脊线也叫分水线
山谷	等高线凸向高处山谷连线		山脊之间低洼部分	山谷线也叫集水线
鞍部	一对山脊等高线组成		相邻两个山顶之间呈马鞍形	鞍部是山谷线最高处

在通往成功的路上,任何你自己所谓的“捷径”都只是一个弯路,而真正的捷径只有一条,那就是“脚踏实地,努力、拼搏、奋斗……”

续表

地形	表示方法	示意图和等高线图	地形特征	说明
峭壁 陡崖	多条等高线重合在一处		近于垂直的山坡称陡崖	

4. 判读坡度陡缓 { 等高线密集→坡度陡
等高线稀疏→坡度缓

5. 等高线的特点

- (1) 等高线都是连续闭合的曲线。
- (2) 在等高线上标注的数字为该等高线的海拔,单位是米。
- (3) 同一等高线上,海拔相等。
- (4) 同一幅等高线地形图上,等高距一般相同。











五、海陆变迁

1. 地球岩石圈是由板块拼合而成的,全球主要有 49 大板块,其中 50 板块几乎全部是海洋。板块内部地壳比较 51,板块交界处地壳比较 52。
2. 世界上火山与地震活动最剧烈的地方,主要位于两大地带。一是 53 火山地震带,二是横贯欧洲南部到亚洲的 54 火山地震带。

典图导学

一、地图上常见的图例

请将图中字母所代表的地理事物名称填写在相应横线上。

	A		山峰
	省、自治区、直辖市界		等高线
	B		水库
	公路		航海线
	C		D

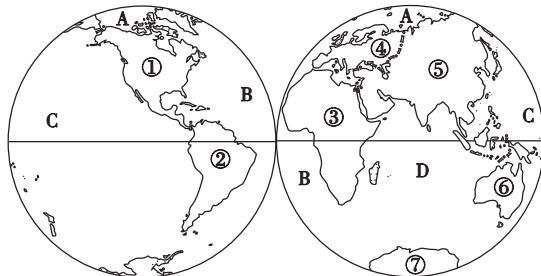
A 首都、B 铁路、C 长城、D 运河。

读图技巧 地图是地理学习的第二语言,地图的三要素是方向,比例尺,图例和注记。图例是地图必备的三要素之一,图例识记的最好方法是形象记忆法。大部分图例的设计和实际地理事物之间有一定的联系,因此在记忆过程中,把图例与它所代表的实际地理事

物联系起来,可以提高记忆效率。

二、东西半球图

1. 请将图中数字所代表的大洲的名称填写在相应横线上。



①北美洲、②南美洲、③非洲、④欧洲、⑤亚洲、⑥大洋洲、⑦南极洲。

2. 请将图中所代表的大洋的名称填写在相应横线上。

A 北冰洋、B 大西洋、C 太平洋、D 印度洋。

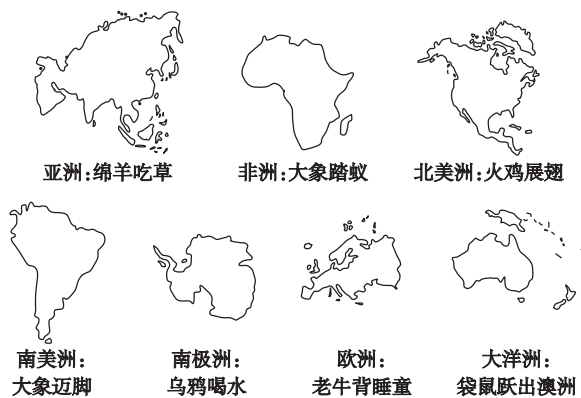
3. 按东西半球来说,海洋面积广阔的是南半球。

①②的分界线是巴拿马运河。

①⑤的分界线是白令海峡。

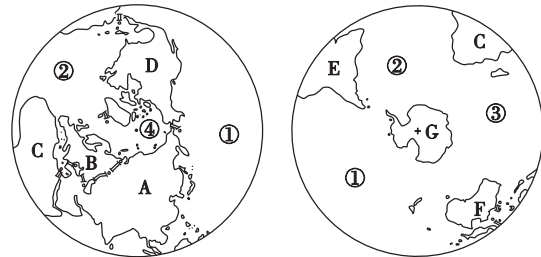
③⑤的分界线是苏伊士运河。

读图技巧 大洲轮廓是地理学习的基础。在记忆过程中可以利用轮廓特征形象记忆。



三、南北半球图

1. 请将图中数字所代表的地理事物名称填写在相应横线上。



①太平洋、②大西洋、③印度洋、④北冰洋。

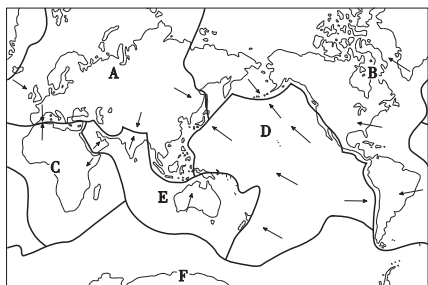
2. 请将图中字母所代表的地理事物名称填写在相应横线上。

A 亚洲、B 欧洲、C 非洲、D 北美洲、E 南美洲、F 大洋洲、G 南极洲。

读图技巧 根据各大洲的位置轮廓特征记忆大洲的名称,根据海陆的相对位置关系记住各大洲、大洋的分布。

四、六大板块示意图

请将图中字母所代表的地理事物名称填写在相应横线上。



A 欧亚板块、B 美洲板块、C 非洲板块、D 太平洋板块、E 印度洋板块、F 南极洲板块。

读图技巧 板块位置和名称的记忆可以结合大陆、大洲、大洋的名称。如:美洲板块、欧亚板块与大陆的名称位置一致。南极洲板块、非洲板块的命名与大洲的名称一致。太平洋板块、印度洋板块与太平洋、印度洋一致。但是要关注其中范围不同的区域。

考点突破

考点一 我们身边的地理知识

中考关注指数★★★★

【典题 1】(2014 湘西)“好的开端是成功的一半”,怎样学好地理,下列做法错误的是 ()

- A. 学会看地图
- B. 在旅游中学习地理
- C. 死记硬背
- D. 在网上查找地理信息

方法技巧 地理与日常生活、生产建设、风土人情有密切的关系。“一方水土,养一方人”,我们在学习地理的过程中,要把所学的知识与我们身边的生活实际相结合,用地理知识解释发生在我们日常生活中的地理现象。

【迁移运用】

1. 地理与人们的生活联系紧密,以下选项与地理没有直接关系的是 ()

- A. 辨别方向
- B. 风土人情
- C. 预报天气
- D. 王强考上清华大学

考点二 学会看地图

中考关注指数★★★★★

【典题 2】教室里贴有 4 幅大小一样的地图,按比例尺由大到小排列的是 ()

①世界地图 ②中国地图 ③山东地图 ④文登地图

- A. ①②③④
- B. ④③②①
- C. ①②④③
- D. ④③①②

方法技巧 地图比例尺大小与表示范围的大小、表示内容的详略程度判断是地理学习的难点。在图幅相同的情况下,比例尺越大,表示的范围越小,内容越详细;比例尺越小,表示的范围越大,内容越简略。同样,可以推理出:同一个地理事物,只要图中显示的信息越详细,比例尺就越大;显示的信息越简略,比例尺就越小

误区警示 误区:比例尺大小与内容、范围的关系

警示:在绘制地图时,若要画一幅小区域地图,比如学校或乡镇地图,要选用较大的比例尺;而要画一幅大区域地图,比如中国地图或世界地图,要选用较小的比例尺。

【迁移运用】

2. (15 预测)要绘制一张学校平面图,下列比例尺较为合适的是 ()

- A. 1 : 1 000
- B. 0 5千米
- C. 图上 1 厘米代表实地距离 2 千米
- D. 1/2 000 000

考点三 认识地球

中考关注指数★★★★★

【典题 3】关于经纬线的说法,正确的是 ()

- A. 纬线指示东西方向
- B. 经线是连接南北两极并垂直于纬线的圆圈
- C. 0°和 180°经线是东西半球的分界线
- D. 本初子午线的地方时即为东一区的区时

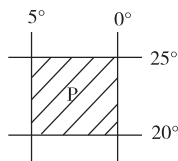
误区警示 误区:区别东西半球的分界线和东西经度的分界线

警示:东西半球的分界线是 20°W 和 160°E 两条经线组成的经线圈,东西经度的分界线是 0°和 180°两条经线组成的经线圈。

【迁移运用】

3. (15 预测)关于图中 P 区域所在半球位置的叙述,正确的是 ()

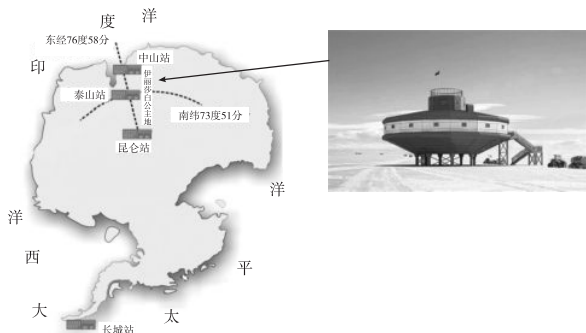
- A. 南半球、西半球
- B. 南半球、东半球
- C. 北半球、东半球
- D. 北半球、西半球



考点四 世界的海陆分布

中考关注指数★★★★★

【典题 4】(2014 邵阳)“雪龙”号科学考察船,从长城站按地球自转方向绕南极洲海域航行一周,它所经过的大洋顺序依次为 ()



- A. 大西洋→太平洋→印度洋
- B. 太平洋→印度洋→大西洋
- C. 太平洋→大西洋→印度洋
- D. 大西洋→印度洋→太平洋

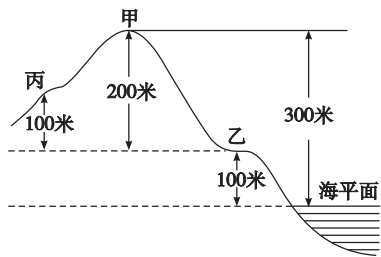
方法技巧 解答此类问题的关键是仔细审题,认真读图。

【迁移运用】

4. (15 预测)世界海陆的分布特点是 ()
- A. 南极地区是海洋,北极地区是陆地
 - B. 地球表面陆地面积比海洋面积大
 - C. 陆地全部集中在北半球
 - D. 赤道依次穿过南美洲、非洲、亚洲和大洋洲

考点五 世界的地形 中考关注指数★★★★★

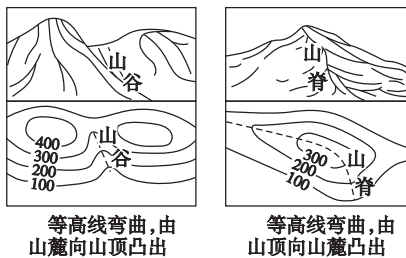
【典题 5】读图,下列说法正确的是 ()



- A. 甲地的海拔是 200 米
- B. 甲、乙两地的相对高度是 100 米
- C. 丙地的海拔是 200 米
- D. 乙、丙两地的相对高度是 300 米

方法技巧 解答此类问题的关键是把握好海拔和相对高度的定义,能准确读出图中的信息。海拔是地面某一个地点高出海平面的垂直距离,相对高度是指地面某个地点高出另一个地点的垂直距离,即两个地点之间的高度差。

误区警示 误区:区别山脊和山谷



警示:山脊和山谷判读的方法,不能只看等高线的形状,必须看等高线的海拔。等高线向高处(山顶)凸出的是山谷,等高线向低处(山麓)凸出的是山脊。

【迁移运用】

5. (15 预测)下列有关等高线地形图的叙述,正确的是 ()
- A. 坡陡的地方等高线稀疏
 - B. 选择等高线重叠的地方爬山最容易
 - C. 同一条等高线上的各地海拔都相等
 - D. 等高线从高处向低处凸出的部位是山谷

考点六 海陆变迁 中考关注指数★★★★★

【典题 6】(2014 长沙)印度尼西亚有“火山王国”之称,是因为印度尼西亚地处 ()

- A. 欧亚板块与太平洋板块交界地带
- B. 欧亚板块与印度洋板块、太平洋板块交界地带
- C. 欧亚板块与印度洋板块交界地带
- D. 太平洋板块与印度洋板块交界地带

【典题 7】(2013 聊城)魏格纳是根据哪两个大洲的轮廓相吻合而提出大陆漂移假说的 ()



- A. 非洲与南美洲
- B. 亚洲与大洋洲
- C. 北美洲与南美洲
- D. 南美洲与南极洲

方法技巧 解答此类问题的关键是掌握相关的地理理论和基本的读图能力。根据图中的轮廓,可以判断出大洲的名称。根据两个大洲的拼合状况,可以判断出两个大洲曾经连在一起,后来经过大陆漂移形成现在的海陆状况。

【迁移运用】

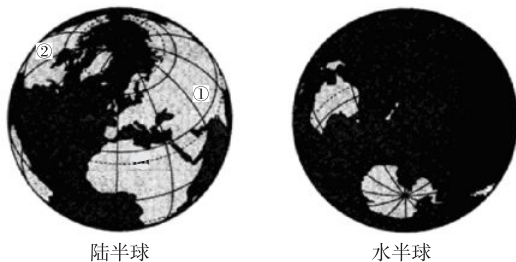
6. (2014 德州)北京时间 2014 年 4 月 2 日 7 时 46 分,智利北部沿海发生了 8.2 级地震。这里多发生地震的原因是位于_____交界处。 ()



- A. 美洲板块与印度洋板块
- B. 美洲板块与亚欧板块
- C. 美洲板块与太平洋板块
- D. 美洲板块与南极洲板块

直击中考

(2014 怀化) 根据地球表面海陆相对集中的程度, 可以将地球划分为陆半球和水半球。它们分别是以西经 $1^{\circ}32'$ 、北纬 $47^{\circ}13'$ 和东经 $178^{\circ}28'$ 、南纬 $47^{\circ}13'$ 为中心划分的两个半球。读图, 回答 1~2 题:



1. 北极圈穿过的大洲有 ()
 - A. 亚洲、北美洲、大洋洲
 - B. 非洲、北美洲、大洋洲
 - C. 亚洲、北美洲、欧洲
 - D. 欧洲、南极洲、南美洲
2. ①②两大洲的分界线是 ()
 - A. 苏伊士运河
 - B. 巴拿马运河
 - C. 直布罗陀海峡
 - D. 白令海峡
3. (2014 湘西) 国庆放假, 地理老师给七年级同学布置一项绘制学校平面图的任务, 下列比例尺最合适的是 ()
 - A. $\frac{1}{8\ 000\ 000}$
 - B. 1 : 5 000
 - C. 图上 1 厘米代表实地距离 700 千米
 - D. $\frac{1}{8\ 000\ 000}$

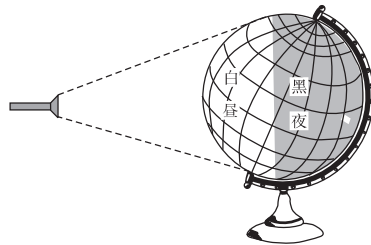
4. (2014 湘潭) 2014 年 1 月以来, 乌克兰局势持续动荡。玲玲想了解乌克兰的位置, 她最好查找 ()
 - A. 世界地形图
 - B. 世界气候图
 - C. 世界政区图
 - D. 世界水系图

(2013 怀化) 中考结束了, 小明和同学相约去公园游玩。在公园大门看见了导游图。读图, 回答 5~6 题:

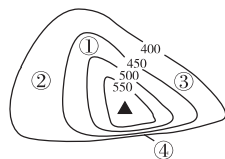


5. 小明是一个粗心的孩子, 在看导游图的时候没有注意到图上的指向标, 告诉同学观景台位于大门的正南方, 请你帮他改正 ()
 - A. 观景台位于大门的东北方
 - B. 观景台位于大门的东南方
 - C. 观景台位于大门的西北方
 - D. 观景台位于大门的西南方
6. 小明量出观景台和湖心亭的图上距离为 2 厘米, 他运用所学的地理知识计算出两地的实地距离为 ()
 - A. 1 千米
 - B. 100 米
 - C. 600 米
 - D. 6 千米

(2014 茂名) 演示地球自转时, 用手电筒模拟“太阳”, 拨动地球仪(如图)。读图, 回答 7~8 题:



7. 在演示过程中, 拨动地球仪的正确方法是 ()
 - A. 自东向西
 - B. 自西向东
 - C. 自南向北
 - D. 自北向南
8. 地球自转产生的自然现象是 ()
 - A. 极昼极夜现象
 - B. 昼夜更替现象
 - C. 四季变化
 - D. 昼夜长短变化
9. (2013 郴州) 读图, 在①②③④四点中, 坡最陡的是 ()
 - A. ①
 - B. ②
 - C. ③
 - D. ④



10. (2014 泰安) 读“泰安市区部分图”, 回答问题:



(1)星期天上午,小明和小亮相约去天平湖划船,图中①②两处分别是小明和小亮的家,根据地图提供的信息,请用简要的语言分别描述他们的位置。

(2)图中火车站以西“东岳大街”的走向是_____。

(3)在划船过程中,船从 A 处划向 B 处是顺风还是逆风?

(4)如果他们两人保持 25 米/分的划船速度,从 A 处到 B 处大约需要多长时间?

(5)他们计划下星期天叫上小伟一起去祖徕山进行定向越野活动,事先要设计行动方案,他们应选择哪种类型的地图进行策划?

沙场练兵

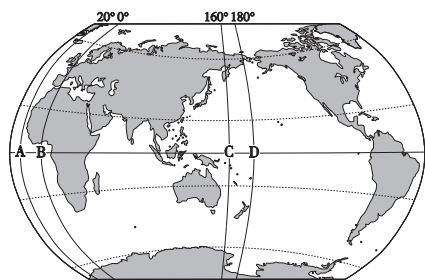
(参考时间:30 分钟)

一、单项选择题

- 诸葛亮借东风的故事,说明 ()
 - 观察自然现象可以预测天气
 - 通过念咒语可以呼风唤雨
 - 每天都会有东南风
 - 诸葛亮具有“神功异术”
- 下列活动与相关地理工具对应错误的是 ()
 - 自然探险—指南针
 - 出差旅游—地图
 - 天气预报—温度计
 - 极地探险—雨伞
- (2014 娄底) 2014 年 4 月 2 日 7 时 46 分(北京时间),智利西北部沿海发生了 8.3 级地震。小雨想知道智利在哪里,他应查阅 ()
 - 亚洲政区图
 - 亚洲地形图
 - 世界政区图
 - 世界地形图
- (2014 滨州) 在中学生科普知识交流会上,小强这样描述了地球的形状和大小,你认为有误的是 ()
 - 地球是一个两极稍扁、赤道略鼓的不规则球体
 - 地球表面积约 5.1 亿平方千米
 - 地球赤道周长约 4 万千米
 - 哥伦布环球航行首次证明地球是一个球体
- 在同样大小的两张图纸上,分别绘:①一幅中国地图,②一幅湖南省地图。则两幅地图选用的比例尺大小关系应为 ()
 - ①大于②
 - ①小于②
 - ①等于②
 - ①和②无法比较
- (2014 长沙) 同学们在收看宇航员的太空课堂后,进行了相关讨论,下列说法可信的是 ()
 - 从太空看地球,应当称地球为“水球”更符合实际
 - 从太空可以看见地球表面布满经纬网
 - 宇航员在北极上空可观察到地球运动方向呈顺时针

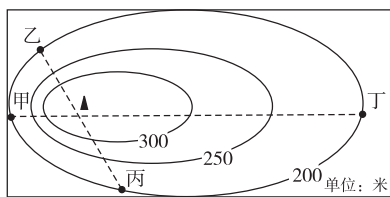
D. 在太空肉眼可观察到赤道半径比极半径约长 21 千米

读图,回答 7~9 题:

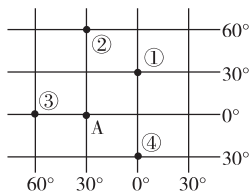


7. 图中又称本初子午线的是 ()
 A. A 线 B. B 线 C. C 线 D. D 线
8. 图中构成东西半球分界线的两条经线是 ()
 A. A 线和 C 线 B. A 线和 D 线
 C. B 线和 C 线 D. B 线和 D 线
9. 图中 B 线穿过的大洲是 ()
 A. 欧洲、非洲、南极洲
 B. 欧洲、非洲、大洋洲
 C. 欧洲、亚洲、南极洲
 D. 南美洲、非洲、南极洲

(2014 衡阳)读图,回答 10~12 题:

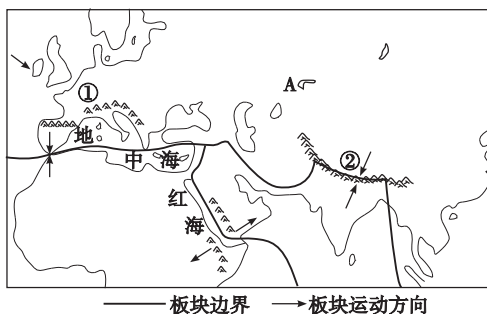


10. 等高距是指相邻两条等高线间的高度差。图中等高距是 ()
 A. 45 米 B. 35 米 C. 50 米 D. 20 米
11. 图中山峰的海拔可能是 ()
 A. 338 米 B. 200 米 C. 285 米 D. 400 米
12. 为选择正确的登山路线,某小组展开了讨论,你认为说法正确的是 ()
 A. 从甲处最近、最费力 B. 从乙处较远、最省力
 C. 从丙处较远、最费力 D. 从丁处最近、最省力
13. (2014 湘西)读图,判断: B 在 A 的东北方向, B 最有可能是 ()



- A. ① B. ② C. ③ D. ④

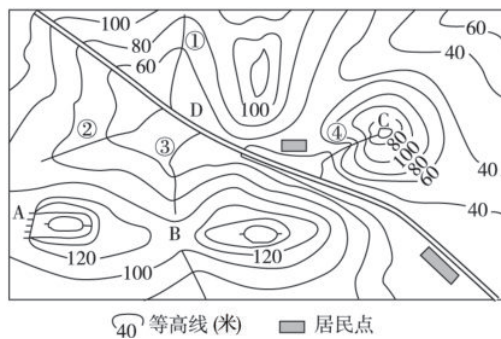
读图,回答 14~15 题:



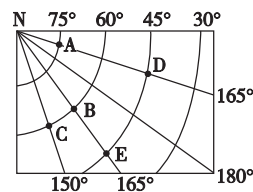
14. 图中 A 板块的名称是 ()
 A. 欧亚板块 B. 印度洋板块
 C. 太平洋板块 D. 非洲板块
15. 按照板块构造学说的观点,下列说法正确的是 ()
 A. 红海会缩小 B. 地中海会缩小
 C. ①山脉会消失 D. ②山脉会消失

二、综合题

16. 读“某地区等高线地形图”,回答下列问题:



- (1) 地形部位名称: A _____, B _____。
- (2) 有人认为 C 处是一座火山,请你从图中找出支持这种说法的依据: _____。
- (3) 图中河流干流 D 的大致流向是 _____; 本区的河流 ①②③④ 中,河水流速最快的是 _____。
17. 根据右面经纬网图,回答问题:
- (1) 写出 D 地的经纬度。
 经度: _____, 纬度: _____。
- (2) B 在 D 的 _____ 方向; A、D 之间的实地距离比 D、E 之间的实地距离 _____ (长/短)。
- (3) E 位于 _____ (东/西) 半球。



分析河流水能丰富的原因 主要从两个方面分析:一是流速(位于地势阶梯过渡地带,河流落差大);二是径流量大(看降水量的多少)。

第二单元 世界的居民

基础整合

一、世界的人口

- 人口的①_____ = 出生率 - 死亡率。
一般来说,经济发展水平高的国家,人口的自然增长速度②_____ ;经济发展水平低的国家,人口的自然增长速度③_____。
- 目前世界上人口自然增长率最高的大洲是④_____ ,最低的是⑤_____。
- 世界人口的分布
 - 人口密度:反映人口地理分布的⑥_____ ,用人/千米²来表示。
 - 四大人口稠密地区
 - ⑦_____ 东部
 - 亚洲南部
 - ⑧_____ 西部
 - 北美洲和⑨_____ 的东部
 - 四大人口稀疏地区
 - 干旱的⑩_____
 - ⑪_____ 的极地
 - 空气稀薄的⑫_____
 - 原始的热带雨林
- 世界的人口问题
人口的增长应与⑬_____、⑭_____ 相协调,与⑮_____ 发展相适应。

二、世界的人种

- 三大人种的划分标准:人类⑯_____ 方面的特征。
- 三大人种:⑰_____ 人种、⑱_____ 人种和⑲_____ 人种。
- 分布
 - 黄色人种主要分布在⑳_____ ,美洲印第安人和北冰洋沿岸的因纽特人也属于黄色人种
 - 白色人种主要分布在㉑_____、㉒_____、㉓_____、亚洲的西部、南部及大洋洲
 - 黑色人种主要分布在㉔_____ 的中部和南部

三、世界的语言与宗教

1. 世界的语言

- 联合国 6 种工作语言是:㉕_____、英语、法语、㉖_____、西班牙语、阿拉伯语。
- 在当今世界上使用㉗_____ 的人数最多,总人数超过 13 亿,㉘_____ 是世界上流传最广的语言。英国是英语的发源地。

2. 世界的宗教

- 三大宗教:㉙_____、㉚_____、㉛_____。
- ㉜_____ 以欧洲、北美洲、南美洲及大洋洲相对集中。基督教起源于巴勒斯坦地区,经典为《圣经》。
- ㉝_____ 诞生在沙特阿拉伯,经典为《古兰经》,教徒被称为穆斯林。
- ㉞_____ 创建于古印度,教徒以亚洲为最多。

四、世界的聚落

1. 聚落的形态

- 人们集中地居住在一起,就形成了㉟_____。聚落的主要形式有城市和乡村。
- ㊱_____ 是人口达到一定规模、主要从事非农业产业活动的居民聚居地。
- 乡村居民的居住地相对分散。规模比较小的居民点叫村庄,规模比较大的居民点叫㊲_____。

2. 民居外貌与自然环境的关系

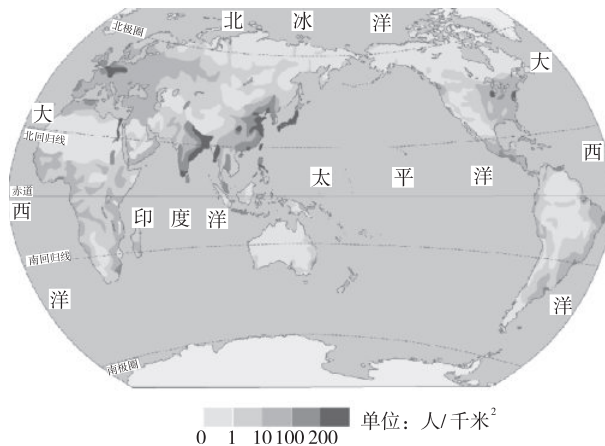
	民居建筑风格	当地气候特点
寒冷地区的民居	窗小、墙体㊳_____、屋顶大多高耸	严寒
湿热地区的民居	窗大、墙体单薄、屋顶大多坡度大	高温多雨
北非的平顶屋	窗小、墙厚、屋顶大多为平顶	干旱、气温日变化大

3. 世界文化遗产的保护

- ㊴_____ 体现了不同历史时期某个国家、民族的文化精神,反映了当时的社会制度、民风民情、宗教习俗、经济和科技发展水平。

典图导学

一、世界人口的分布



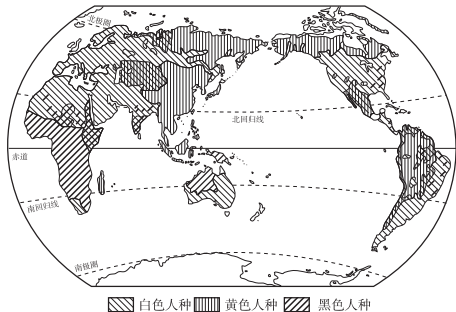
读图,完成下列表格。

	人口稠密地区	人口稀疏地区
分布地区	亚洲东部和南部、欧洲西部、北美洲和南美洲东部	苔原和冰原带、亚寒带针叶林带、热带雨林带、沙漠地区、高原和山区
分布规律	中低纬度临海地区	高纬度、赤道附近、干旱地区、地势高的地区
原因	平原面积广阔,气候温和湿润,农业发展历史早,工业、交通、城市发展迅速	自然条件非常恶劣 寒冷、湿热、干旱、高寒

读图技巧+ 人口分布与地理环境的关系

人口的分布状况与地理环境有密切关系,中低纬度的临海地区、地势平坦的平原地带往往形成人口稠密地区。自然地理环境恶劣的地区人口稀疏。主要从海陆位置、纬度位置、气候特征、地形地势特点等几个方面分析。

二、世界人种的分布



1. 读世界人种分布图,填写下表。

人种	主要分布地区
黄色人种	亚洲东部,美洲和北冰洋沿岸
白色人种	欧洲、北美洲、非洲北部、亚洲的西部和南部、大洋洲
黑色人种	非洲的中部和南部、美洲

2. 读图分析,填写下表:

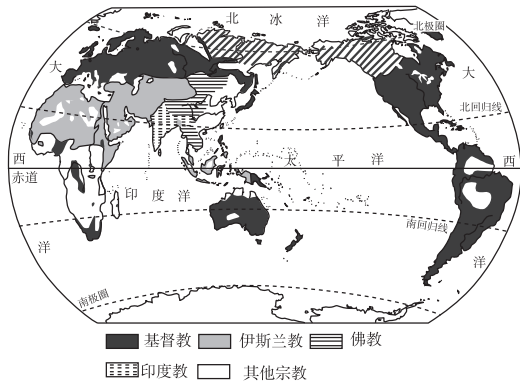
人种	环境	体质特征
黑色人种	太阳辐射强,气候炎热	皮肤黑,头发卷曲
黄色人种	过渡	皮肤呈黄色,鼻子中等
白色人种	太阳辐射弱,气候寒冷	皮肤白,鼻子高而窄

读图技巧+ 人种的分布与地理环境的关系

人种的分布是长期适应自然地理环境的结果。读图分析首先看清楚图例所代表的含义。根据图例读出分布地区。根据人种分布的地区分析与自然地理环境的关系。

系。一般来说,从地理分布来看,人种由赤道向极地肤色逐渐变浅,这与各地太阳辐射的强度密切相关。

三、世界三大宗教的分布




1. 读图分析,填表。

三大宗教	源地	产生年代	经典	宗教建筑	主要分布地区
基督教	巴勒斯坦地区	公元1世纪	《圣经》	教堂	欧洲、南美洲、北美洲和大洋洲
伊斯兰教	沙特阿拉伯	公元7世纪	《古兰经》	清真寺	亚洲的西部和东南部、非洲的北部和东部
佛教	古印度	公元前6世纪	佛经	佛塔、寺庙	东亚、东南亚和南亚的斯里兰卡

2. 读图,请将图中字母所代表的宗教名称,填写在相应横线上。

宗教建筑 三大宗教 主要分布地区 主要特点 发源地



— A —


欧洲
大洋洲
北美洲
南美洲

—

世界上信徒最多和流传最广的宗教

—

巴勒斯坦地区



— B —


非洲北部和东部
亚洲的西部和东南部

—

世界第二大宗教

—

沙特阿拉伯



— C —

东亚
东南亚
斯里兰卡

—

世界第三大宗教

—

古印度

A 基督教 B 伊斯兰教 C 佛教

读图技巧+ 三大宗教的分布与人种的分布有密切的关系。可以结合人种分布图,综合分析读图。如西亚和北非的居民信奉伊斯兰教,是白色人种。

考点突破

考点一 世界的人口 中考关注指数★★★

【典题 1】(2014 永州)下列关于世界居民的叙述,错误的是 ()

- A. 人口自然增长率反映人口增长的快慢,一般用%来表示
- B. 人口密度反映人口分布的疏密程度,用人/千米²来表示
- C. 世界上的居民可分为黄色人种、白色人种和黑色人种
- D. 英语是世界上使用人数最多的语言

方法技巧 人口过快或过慢的增长都会带来一些问题,人口的增长必须与资源、环境相协调,与社会经济发展相适应。

误区警示 误区一:人口稠密地区与人口自然增长率最高的地区概念不同,并不是人口稠密的地区,人口一定增长快,如欧洲西部人口稠密,但人口增长慢。

误区二:计算人口密度要注意单位:人/千米²及万、亿等数量词的转换,另外分子、分母不能颠倒,可想象为人生活在地球上,用图案记忆法。

误区三:人口自然增长率高的地区,人口增长数量不一定大,人口增长数量还与当地人口基数有关。如中国人口自然增长率不太高,但由于中国是个人口数量庞大的国家,即人口基数大,所以中国的人口增长量较大。

【迁移运用】

1. (15 预测)下列关于世界人口的叙述,正确的是 ()

- A. 发达国家人口密度大
- B. 发展中国家人口密度大
- C. 自然条件恶劣的地区人口稀疏
- D. 所有国家都存在人口增长过快的问题

考点二 世界的人种 中考关注指数★★★★

【典题 2】拉丁美洲的白色人种的祖先主要来自 ()

- A. 非洲
- B. 亚洲
- C. 大洋洲
- D. 欧洲

方法技巧 白色人种在欧洲分布最广,拉丁美洲

的白色人种主要来自欧洲。

【迁移运用】

2. (15 预测)深圳某化妆品公司专门为黑种人研制日用化妆品,你认为该公司在下列地区销售最好的是 ()

- A. 东南亚
- B. 非洲的中部和南部
- C. 欧洲西部
- D. 北美洲

考点三 世界的语言与宗教 中考关注指数★★★★

【典题 3】(2014 滨州)当地时间 2014 年 2 月 7 日晚,索契冬奥会隆重开幕,国家主席习近平应邀出席开幕式。习主席在俄期间哪个语种的随行翻译最忙碌 ()

- A. 俄语
- B. 阿拉伯语
- C. 法语
- D. 西班牙语

方法技巧 各大宗教集会都有特定的地方。特色建筑物名称是:基督教——教堂、伊斯兰教——清真寺、佛教——寺庙、佛塔。

【迁移运用】

3. (15 预测)国家主席习近平于 2013 年 6 月初对墨西哥进行国事访问。在访问期间,习主席随行的翻译人员中哪几个语种的翻译任务最繁重 ()

- A. 意大利语和俄语
- B. 德语和葡萄牙语
- C. 英语和西班牙语
- D. 阿拉伯语和法语

考点四 世界的聚落 中考关注指数★★★★

【典题 4】(2014 长沙)下列四幅聚落景观图中,能反映东南亚传统民居特色的是 ()



拓展归纳 寒冷、湿热、干旱地区的民居特色:寒冷地区的民居——厚墙、小窗、屋顶高耸;湿热地区的民居——薄墙、大窗、有完备的排水系统;干旱地区的民居——屋顶大多平顶。城市与交通条件:河流干、支流的汇合处或河流的入海口处交通便利,易形成城市。



【迁移运用】

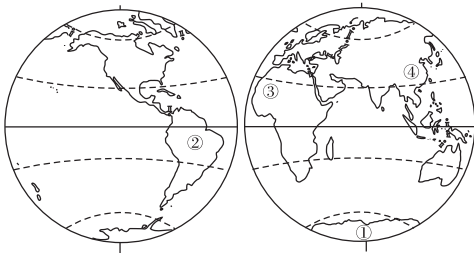
4. (15 预测) 一个地区的民居特点和当地气候特点有密切联系。图中的传统民居反映出当地气候



- A. 寒冷干燥 B. 炎热干燥
C. 降水丰沛 D. 降水稀少

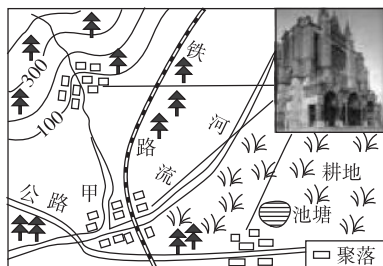
直击中考

- (2014 益阳) 某地区在一年中平均每 1 000 人当中, 出生并成活 28 个婴儿, 死亡人数 15 人, 那么该地区的人口自然增长率为 ()
A. 2.8% B. 1.5% C. 1.3% D. 4.3%
- (2014 湘西) 琳琳同学在街上遇见一位朋友, 他手拿一本《古兰经》, 身穿白色长袍, 用阿拉伯语与琳琳交流, 请你猜猜琳琳朋友他最可能来自 ()
A. 美国 B. 埃及 C. 印度 D. 俄罗斯
- (2014 长沙) 人口老龄化在一些欧美发达国家表现突出, 下列国家人口老龄化问题严重的是 ()
A. 印度 B. 德国
C. 埃及 D. 墨西哥
- (2014 湘潭) 下列地区和国家, 人口最稠密的是 ()
A. 亚洲南部 B. 非洲北部
C. 澳大利亚 D. 加拿大
- (2013 怀化) 图中序号所示四个地区中, 人口最为稠密的是 ()



- A. ① B. ② C. ③ D. ④

(2013 娄底) 读“某地区聚落示意图”, 回答 6~7 题:



6. 甲聚落高楼林立, 有许多企业、商店、学校、医院……道路纵横, 车辆很多。该类聚落叫 ()

- A. 村庄 B. 集镇 C. 乡村 D. 城市

7. 该地区的聚落中, 建有多座尖顶的宗教建筑物——教堂, 居民皮肤白皙, 头发多呈波状且色浅, 鼻梁高, 嘴唇薄……试判断该地区可能地处 ()

- A. 非洲南部 B. 亚洲东部
C. 欧洲西部 D. 非洲北部

沙场练兵

(参考时间: 30 分钟)

一、单项选择题

(2013 株洲) 下表是 2005 年两个国家的人口资料统计表。据此回答 1~2 题:

	年龄结构(%)			出生率(%)	死亡率(%)
	0~14 岁	15~60 岁	60 岁及以上		
甲	13.5	64.3	22.2	0.76	0.95
乙	36.7	58.1	5.20	2.81	0.44

- 据表判断甲国可能是 ()
A. 德国 B. 印度 C. 埃及 D. 菲律宾
- 与甲、乙两国目前所出现的问题不符的是 ()
A. 甲国劳动力比重小 B. 甲国老龄化严重
C. 乙国人口增长过快 D. 乙国经济欠发达
- (2014 昆明) 到西班牙旅游, 看到的人种和听到的语言主要是 ()
A. 白种人, 西班牙语 B. 白种人, 英语
C. 混血人种, 法语 D. 黑种人, 英语
- 与北冰洋沿岸的因纽特人属于同一人种的是 ()
A. 撒哈拉以南的非洲人 B. 欧洲人
C. 阿拉伯人 D. 印第安人
- 对世界人口的叙述, 错误的是 ()
A. 目前, 欧洲是世界上人口自然增长率最低的大洲
B. 人口的增长要与社会经济发展相适应, 与环境、资源相协调
C. 中纬度临海地区的人口分布多, 高寒地区的人口分布少
D. 人口越多的国家, 人口密度就越大
- 下列属于人口稀疏地区的是 ()
A. 亚洲东部 B. 非洲北部
C. 亚洲南部 D. 北美洲东部
- 1998 年青岛市的总人口为 699.6 万人, 人口出生率为 1.08%, 死亡率为 0.67%, 则青岛市在 1998 年一年内人口的自然增长率为 ()
A. 7.51 万人 B. 2.83 万人
C. 1.75% D. 0.41%

8. 拉丁美洲许多国家通用的语言是 ()
 A. 西班牙语 B. 葡萄牙语
 C. 英语 D. 法语
9. 以《古兰经》为经典的宗教是 ()
 A. 佛教 B. 基督教
 C. 伊斯兰教 D. 道教
10. 下列说法错误的是 ()
 A. 城市中的居住条件相对拥挤
 B. 乡村居民的居住地相对分散
 C. 规模较大的乡村居民点叫小城市
 D. 规模较小的乡村居民点叫村庄
11. 下列说法错误的是 ()
 A. 乡村居民有的集中,有的分散
 B. 早期居民临河、临湖分布的现象相当普遍
 C. 我国南方的民居多为平顶
 D. 我国北方地区的民居墙体厚实,屋内建有火炕
12. (2014 济南)下列民居适应炎热干燥环境的是 ()




浙江绍兴的斜顶房
A



西亚厚墙小窗民居
B



北极地区的冰屋
C



东南亚的高架屋
D

13. 下列选项不属于世界文化遗产的是 ()
 A. 桂林山水 B. 北京故宫
 C. 雅典卫城 D. 拉美西斯神庙


二、综合题

14. 家喻户晓的《西游记》描述的是唐僧师徒四人到“西天”取经的故事,其背景来自于唐太宗贞观年间,僧人玄奘历尽艰难险阻去天竺国取经的真实事迹。读图,回答下列各题:

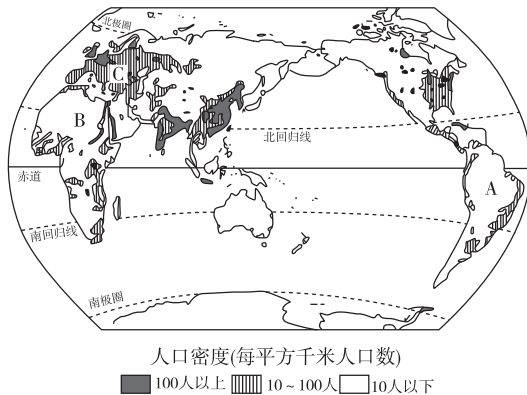


玄奘取经的路线图

- (1)“天竺国”指 _____, 现在这里的人们多信仰 _____ 教, _____ 语为官方语言。
- (2)唐玄奘取回的“真经”是 _____ 教的经典, 现在该宗教的教徒以亚洲为最多, 在亚洲又集中分布于 _____。
- (3)唐玄奘信仰的宗教的代表建筑是 ()



15. 读图, 回答问题:



- (1)世界人口的分布很不均匀, 其中人口最稠密的四个地区是: _____、_____、_____、_____。
 四个地区的共性是: 海陆位置方面: _____;
 _____;
 气候方面: _____;
 地形方面: _____。
- (2)图中 A、B 两地, 人口 _____ (稠密/稀疏)。
- (3)图中 C 地所处的大洲的人口密度 _____ (大/小)。
- (4)图中 B 地所处的大洲的人口自然增长率 _____ (高/低)。

16. 读地理漫画, 回答问题:



不堪重负的地球

- (1)上图漫画反映出当前世界上存在着严重的 ()
 A. 水污染问题 B. 人口问题
 C. 资源问题 D. 环境问题
- (2)世界上的人口增长应与 _____、_____ 相协调, 与 _____ 发展相适应。