



《新编单元练测卷》编写组 编

新编 单元 练测卷

有练 | 有测 | 实用 | 好用



历史

岳麓版

七年级上册



湖南教育出版社

图书在版编目(CIP)数据

新编单元练测卷. 历史七年级. 上册: 岳麓版/《新编单元练测卷》编写组编. —长沙: 湖南教育出版社, 2016. 8
ISBN 978-7-5539-4301-5

I. ①新… II. ①新… III. ①中学历史课—初中—习题集
IV. ①G634

中国版本图书馆 CIP 数据核字(2016)第 195284 号

XINBIAN DANYUAN LIANCEJUAN

新编单元练测卷

历史

七年级上册 岳麓版

《新编单元练测卷》编写组 编

责任编辑: 周 霞

封面设计: 游 麒

出版发行: 湖南教育出版社(长沙市韶山北路 443 号)

网 址: <http://www.hneph.com>

电子邮箱: hnjycbs@sina.com

微信服务号: 多点学习

客 服: 电话 0731-85486979

总 经 销: 湖南省新华书店

印刷装订: 益阳市顺鑫印务有限公司

开 本: 880 mm×1230 mm 1/8

字 数: 155 千字

印 张: 5

版 次: 2016 年 8 月第 1 版 2016 年 8 月第 1 版第 1 次印刷

书 号: ISBN 978-7-5539-4301-5

定 价: 12.00 元

(本书若有印刷、装订错误, 可向承印厂调换)



第一单元练习卷

(时间: 90 分钟 满分: 100 分)

一、选择题 (每小题 2 分, 共 40 分)

题号	1	2	3	4	5	6	7	8	9	10
选项										
题号	11	12	13	14	15	16	17	18	19	20
选项										

- 人们寻找远古人类的足迹主要依靠 ()
A. 考古学 B. 物理学 C. 地理学 D. 地质学
- 北京周口店遗址被称为“北京人之家”，主要是因为 ()
A. 这里发现了距今约 30000 年的远古人类 B. 这里留下了丰富的北京人的远古遗存
C. 北京人在这里聚居 D. 这里是目前发现的最大的远古人类的居住地
- 据考古发现，北京人距今 ()
A. 约 170 万年 B. 约 100 万年
C. 约 70 万~20 万年 D. 约 200 万年
- 火在北京人生活中的主要作用是 ()
①取暖 ②驱赶野兽 ③烤熟食物
A. ①② B. ①③ C. ②③ D. ①②③
- 据考古发现，北京人肢骨比头骨进化快。这一现象表明 ()
A. 劳动在从猿到人的进化过程中起了重要作用
B. 北京人的身体结构带有明显的猿类特征
C. 北京人在漫长的岁月中进化缓慢
D. 北京人学会了制造工具和使用火
- 人类祖先为了对付大型的猛兽，必须使用武器捕杀猎物，并需要工具来分解猎物。他们用来制作武器和工具最为方便、实用的材料是 ()
A. 鹿角 B. 树木 C. 动物骨头 D. 岩石
- 在漫长的生存实践中，先民们发现植物籽粒能够发芽、结果的现象，并尝试种植，还将一时吃不完的野兽圈养起来，于是产生了 ()
A. 原始农业 B. 最早的产品交换
C. 早期的制陶业 D. 原始手工业
- 我国原始农业产生于 ()
A. 约 170 万年前 B. 距今 1 万年左右
C. 距今 20 万年左右 D. 距今 50 万年左右
- 下列对半坡居民生活状况解析错误的一项是 ()
A. 半坡居民使用磨制石器

- 半坡居民种植粟、白菜和芥菜 ()
- 半坡居民在居住区内挖掘窖穴来贮藏粮食 ()
- 半坡居民主要靠采集果实来生存 ()
- 据考古发现，在半坡居民的居住区外面环绕着一条大壕沟，其主要作用是 ()
A. 贮藏粮食 B. 抵御野兽和敌人的袭击
C. 饲养猪、狗、鸡等畜禽 D. 抵御洪水
- 我国原始农业产生的影响包括 ()
①使人类趋于定居，生活更加稳定 ②人口开始增长 ③先民们开始打制各种石器
A. ①③ B. ①② C. ②③ D. ①②③
- 使用磨制石器的时代，考古学上称为 ()
A. 旧石器时代 B. 新石器时代
C. 封建时代 D. 信息化时代
- 下列对远古的神话与传说理解错误的一项是 ()
A. 大多有虚幻神奇的成分 B. 给后人留下不少远古时期的历史信息
C. 反映了先民们对自然、社会的理解 D. 反映了远古时期宗教和封建迷信盛行
- 下列属于远古时期英雄神话的有 ()
①神农氏发明医药，开辟集市 ②黄帝建造宫殿，发明车船，制作衣裳 ③河姆渡人种植水稻
④半坡人使用陶器
A. ①② B. ③④ C. ①④ D. ②③
- 在远古传说中，“尝百草之滋味，一日而遇七十毒”的部落首领是 ()
A. 黄帝 B. 炎帝 C. 蚩尤 D. 尧
- 炎帝部落和黄帝部落出现于四五千年前的哪一地区? ()
A. 长江上游 B. 长江中下游
C. 黄河流域 D. 西北地区
- 相传黄帝和他的下属有很多发明创造，如教人打井，发明文字、算术和音乐。这反映了 ()
A. 远古时期经济文化有很大发展 B. 远古时期出现了原始农业
C. 远古时期没有战争 D. 黄帝部落是远古时期最强大的部落
- “禅让”曾是原始社会部落联盟首领更替的方式。下列对这一方式的理解，正确的有 ()
①挑选的是有才有德的人 ②受到公共推举 ③被推举的人在战争中表现英勇
A. ①②③ B. ①③ C. ①② D. ②③
- 尧之后，通过“禅让”产生的部落联盟首领是 ()
A. 黄帝 B. 炎帝 C. 舜 D. 禹
- 下列对远古时期的社会状况理解错误的一项是 ()
A. 在炎帝生活的时代，农业有了很大发展
B. 远古时期出现战争主要是因为部落之间存在利益冲突
C. 尧因为品德高尚、才能出众，被推举为部落联盟首领
D. 按照古代文献中的说法，尧、舜之后生活着黄帝、神农氏

二、判断题 (每小题 2 分, 共 10 分)

题号	21	22	23	24	25
正误					

- 为了生存和发展，北京人居住在岩洞中，使用天然火取暖和烤熟食物。 ()
- 为了适应更加复杂的农业生产与生活的需要，人们对传统的打制石器进行改造，并加以磨光。加

得分: _____
学号: _____
姓名: _____
班级: _____

- 工后的石器平整光滑，刃部锋利，大大提高了劳动效率。 ()
23. 也许是人们偶然发现，湿泥遇火会变坚硬，因而有了陶器的发明。 ()
24. 古时候，古人往往把那个时代的文明成果归之于传说中的几位英雄，这就是英雄神话。 ()
25. 相传舜的时代，黄河流域洪水滔天，鲧去治水，结果失败了。 ()

三、填空题 (每小题 2 分，共 10 分)

26. 1965 年，考古学家在一个山沟里发现了两枚人类的门齿化石，经测定距今约 170 万年，这两枚牙齿的主人被命名为“_____”。
27. 不同的环境提供了不同的野生粮食作物。在中国北方被率先栽培的是_____，而在南方则是_____。
28. 原始农业的产生使我们的祖先由食物的采集者变为食物的_____，这是人类历史上一次巨大的变革。
29. 距今四五千年，中华大地上的许多部落经常相互征战，其主要目的是争夺_____。
30. “_____”是尧、舜、禹时期出现的一种公共推举、首领让贤的方式。

四、识图题 (共 10 分)

31. 识读下图，回答问题。



图一 半地穴式房屋示意图



图二 复原的干栏式房屋

- (1) 说说图一和图二的房屋分别是哪一古人类居住。(2 分)

- (2) 这两幅图中的房屋分别出现在中国的哪一地区?(2 分)

- (3) 图一和图二的房屋有什么不同? 为什么会有这种不同?(6 分)

五、综合题 (共 30 分)

32. 阅读下列材料，回答问题。

中国的考古学家发现了距今 1 万年前的陶片，到距今 7000~4500 年，制陶技术有了很大提高，器型更加多样和复杂。黄河流域开始出现大量彩陶，后来又出现许多黑陶、白陶和灰陶。

半坡出土的陶器主要是红色的，有的还绘有图案。其中生活用具就有几十种，如壶、瓶、瓮、罐、钵、甑、盆、碗、杯等，有的用来汲水、运水，有的用来盛水、盛物，有的作为炊具，有的作为饮食的用具。

- (1) 请列举距今 7000~4500 年这一时期制作和使用陶器的古人类。(4 分)

- (2) 材料表明古人类使用的陶器有哪些特点?(5 分)

- (3) 古人类制作和使用陶器有什么意义?(6 分)

33. 阅读下列材料，回答问题。

鲧是奉帝尧之命去治水的。尧在位的时候，洪水横流，到处泛滥成灾。帝尧召集群神开会商议。帝尧说：“哎，四方诸位神啊，现在洪水浩浩荡荡，淹没了大山与丘陵，到处有水患，百姓都很愁苦，有谁能去治理这场水患呢?”大家齐声说：“噢，派鲧去吧!”帝尧接受了大家的建议，便对鲧说：“你去吧，不过要谦恭谨慎。”鲧受命出发后，看到洪水滔滔，无法止住，便大胆地从天帝那里偷来宝物“息壤”，因此触怒了天帝。天帝便命令一个叫祝融的神，在羽山这个地方把鲧杀了。实际上是鲧掘土堵水，挖去了尧部落的肥沃土壤，侵犯了尧部落的利益，被尧杀了。

禹是传说中的历史人物。他总结了鲧治水的经验和教训，改填堵为疏导。他在治水过程中，进行了一场又一场惊天动地的战斗，也经历了无数次惊险。禹治水的足迹遍布南北。《庄子·天下》中说，禹治水后，“通四夷九州也，名山三百，支川三千，小者无数”。华夏大地上，江河畅通了，禹的功德被后人歌颂为“疏川导滞，钟水丰物”。禹治水成功后，农业得到发展。农业是我国古代经济的基础，农业的发展带动了其他方面的发展，禹便继舜之后当上了部落联盟首领。

- (1) 禹治水成功对当时的社会起到了哪些作用?(6 分)

- (2) 禹当上部落联盟首领的主要原因是什么? 这与哪一制度有关?(6 分)

- (3) 材料中鲧、禹治水表现了哪些精神?(3 分)



第一单元测试卷

(时间: 90 分钟 满分: 100 分)

一、选择题 (每小题 2 分, 共 30 分)

题号	1	2	3	4	5	6	7	8
选项								
题号	9	10	11	12	13	14	15	
选项								

- 下列对“女娲造人”“天神创造人”等说法解释错误的一项是 ()
 - 都是有关人类产生的神话或故事
 - 都是科学的推断
 - 反映了人们对人类起源的思考
 - 大多虚幻神奇
- 反映了我国境内的远古人类逐渐告别猿类祖先的发现是 ()
 - 大约 30 亿年前, 地球上开始有了生命
 - 大约 300 万年前, 出现了不同于其猿类祖先的人类
 - 距今 200 万年前后, 在云南元谋一带发现了食草类动物的化石
 - 距今约 170 万年, “元谋直立人”出现
- 有关北京人的考古发现包括 ()
 - ①1921 年, 安特生等人在周口店发现几枚属于人类的牙齿化石
 - ②1929 年, 裴文中发掘出一块完整的古人类头盖骨化石
 - ③1965 年, 在云南元谋一带发现两枚人类的门齿化石
 - ①②③
 - ①③
 - ②③
 - ①②
- 北京人的食物来源主要是 ()
 - ①采集果实
 - ②猎取动物
 - ③饲养家畜
 - ①③
 - ①②
 - ②③
 - ①②③
- 下列哪一选项不符合北京人的特征? ()
 - 已经能够直立行走
 - 上肢接近现代人, 双手灵活
 - 能够打制用途不同的石器
 - 在山洞外的空地上种植粟
- 下列对旧石器时代说法错误的一项是 ()
 - 旧石器时代即使用打制石器的时代
 - 旧石器时代距今 200 多万年至 1 万多年之间
 - 旧石器时代的主要人类有北京人和河姆渡人
 - 人类产生之后的绝大部分时间都属于旧石器时代
- 我国最早的村落出现的原因包括 ()
 - ①先民们建造房屋, 用以保护自己 and 家畜, 贮藏剩余的粮食
 - ②抵御野兽和敌人的袭击
 - ③火堆数量有限, 方便使用天然火
 - ①②③
 - ①③
 - ②③
 - ①②

- 下列哪些人类活动出现在新石器时代? ()
 - ①制作陶器
 - ②饲养畜禽
 - ③磨制工具
 - ①②③
 - ①③
 - ②③
 - ①②
- “他们先在地上埋设木桩, 在桩顶架设横梁, 铺上木头, 然后再立柱安梁, 搭建屋顶, 用木材作墙壁, 还装有栏杆。”以上描述的是哪一古人类的生活? ()
 - 元谋直立人
 - 北京人
 - 半坡居民
 - 河姆渡居民
- 我们身边众多的古迹, 是研究历史的第一手资料。从下列古迹中得出的结论明显错误的是 ()
 - 岩洞内有燃烧后的灰烬—会使用火
 - 出土大量栽培稻—会种植水稻
 - 半地穴式房屋—过穴居生活
 - 出土白菜种子—会种植蔬菜
- 抓关键词是学习历史的重要方法之一。符合“浙江余姚”“干栏式房屋”“农耕文化”这些信息的是 ()
 - 元谋直立人
 - 北京人
 - 河姆渡居民
 - 半坡居民
- 原始农业时代取得的重要成就包括 ()
 - ①种植粟
 - ②制作陶器
 - ③种植水稻
 - ④铸造铁器
 - ⑤发明瓷器
 - ①②③
 - ②③④
 - ①③
 - ①④⑤
- 被华夏子孙尊奉为“人文始祖”的是 ()
 - 炎帝和黄帝
 - 尧
 - 舜
 - 禹
- 下列传说中的人物, 按照出现的先后顺序排列正确的是 ()
 - ①黄帝
 - ②尧
 - ③舜
 - ④禹
 - ①④②③
 - ③④①②
 - ①②③④
 - ①③②④
- 下列对鲧治水解说错误的一项是 ()
 - 鲧治水发生在黄帝生活的时代
 - 鲧治水最终失败
 - 鲧治水反映了古人曾经经受严峻的自然灾害的考验
 - 传说鲧采用堵塞洪水的方法治水

二、判断题 (每小题 2 分, 共 10 分)

题号	16	17	18	19	20
正误					

- 发现动物、植物和古人类的化石, 对认识地质时代和人类早期历史有极为重要的作用。 ()
- 我国村落出现的主要原因是先民们常常采集果实、猎取动物。 ()
- 河姆渡居民和半坡居民的共同点包括制作陶器、从事原始农业生产。 ()
- 传说, 尧命人根据日月星辰的运行, 制定了历法, 使百姓可以不误农时。 ()
- 禹成为部落联盟首领的主要原因是他打败了南方异族的进攻。 ()

三、填空题 (每小题 2 分, 共 10 分)

- 在距今约 70 万~20 万年的漫长岁月里, 北京西南_____一带气候温暖湿润。北京人居住在_____中, 他们已经会使用_____来取暖、驱赶野兽。
- 原始农业的产生要求_____, 这就促使先民们开始建造房屋。
- 半坡居民居住在_____式的房屋中, 普遍使用_____石器, 种植_____、白菜和芥菜。
- 农业文明对后世的影响巨大, 古人往往把那个时代的文明成果归之于传说中的几位英雄, 这就是_____。华夏传说中活跃在黄河流域的_____和_____就是典型的代表。

25. 尧年老后没有把王位传给自己的儿子，而是传给了众人推举的、更为贤能的_____。这种公共推举、首领让贤的方式被古人称为“_____”。

四、识图题 (共 10 分)

26. 识读下图，回答相关问题。



图一 北京人使用的砍砸器、刮削器和尖状器



图二 新石器时代的石斧、石锄



图三 人物舞蹈纹彩陶盆

(1) 读图一，说说这些石器在北京人的生活中有什么功能。(3分)

(2) 读图二，说说这些石器与图一中的石器有什么区别。(3分)

(3) 读图三，说说从这个文物中你了解到哪些历史信息。(4分)

五、综合题 (共 40 分)

27. 阅读下列材料，回答问题。

旧石器时代，火的使用是人类社会的一大进步。原始人类以粗制的、没有磨削的石器为工具，学会了使用棍棒、长矛来捕杀猎物，并利用篝火烤熟猎物，以维持生存。由于那时地广人稀，猎物丰富，凭借简便的捕猎手段就能捕获猎物，加上从大自然中能采集到极为丰富的果实，以及块根、块茎等植物资源，原始人类足可维持简单的生活。

原始人类经过大约 200 万年之久的采集渔猎生活后，逐步过渡到原始农业阶段。这种最原始的农业，出现于新石器时代，并经历了一个极其缓慢的发展过程。发展的主要标志是使用工具的进步，如发明了弓箭、磨削的石器、木制工具、骨器，并将磨削石器缚于棍棒上作为武器等。由于原始种植业的出现，农田的雏形形成。

(1) 读材料，说说旧石器时代人们的食物来源主要有哪些。(4分)

(2) 请列举我国考古学家已经发现的旧石器时代的远古人类。(4分)

(3) 原始农业阶段有哪些早期居民？请列举两例。(3分)

(4) 新石器时代有其鲜明的特征。读材料，并结合所学知识列举两个主要特征。(4分)

28. 阅读下列材料，回答问题。

材料一 昔者先王……未有火化，食草木之实、鸟兽之肉，饮其血，茹其毛。……后圣有作，然后修火之利，范金合土，以为台榭、宫室、牖户，以炮以燔，以亨以炙，以为醴酪。

——《礼记·礼运》

材料二 上古之世，人民少而禽兽众，人民不胜禽兽虫蛇。……民多疾病。有圣人作，钻燧取火以化腥臊，而民说之，使王天下，号之曰燧人氏。

——《韩非子·五蠹》

(1) 读材料一和材料二，描述没有使用火之前的人类生活。(5分)

(2) 读材料一和材料二，说说火在人类生存、发展和进化过程中的作用。(5分)

29. 阅读下列材料，回答问题。

材料一 黄帝是中国原始社会末期一位伟大的部落首领，是开创中华民族文明的祖先。为了纪念和缅怀他，早在公元前 422 年，中国古代帝王就举行过隆重的祭祀活动。后来，官方举行祭祀活动成为惯例。目前，黄帝陵祭祀越来越受到海内外华夏儿女的关注，官方祭祀活动一般在清明节期间举行，有国家领导人参加。民间祭祀活动则在重阳节期间举行。黄帝陵祭典仪式也成为中国的非物质文化遗产。

材料二 帝尧让他的儿子跟随舜，来观察他处理社会事务的能力。帝尧派舜负责协调民间父义、母慈、兄友、弟恭、子孝这五种人伦关系，取得成绩，连帝尧的九个儿子也受到教育，变得更加淳厚谨敬。帝尧又派舜轮流到几个官府任职，舜都尽职尽责，制定制度，使各官府的行政走上了正轨。帝尧又派舜接待四方朝见的使者，舜态度严谨和睦，处事得当。帝尧知道自己的儿子丹朱德行不够，不能将天下交给他，又通过考察发现舜很贤明，终于决定将权力交给舜。

(1) 读材料一，黄帝是生活在哪一时期的部落首领？传说中黄帝对中华文明有很多贡献，请列举几项。(5分)

(2) 读材料一，说说黄帝陵祭典仪式成为中国的非物质文化遗产的主要原因是什么。(5分)

(3) 材料二中尧考察舜的目的是什么？为什么尧最终将权力交给舜？尧传位于舜的方式被称为什么？(5分)



第二单元练习卷

(时间: 90 分钟 满分: 100 分)

一、选择题 (每小题 2 分, 共 40 分)

题号	1	2	3	4	5	6	7	8	9	10
选项										
题号	11	12	13	14	15	16	17	18	19	20
选项										

- 右图为河南偃师二里头遗址宫殿复原图。根据考古发现, 这里可能是下列哪一王朝的遗存? ()
A. 夏朝 B. 黄帝统治时期
C. 商朝 D. 周朝
- 世袭制的主要特点是 ()
A. 父子兄弟相承 B. 选拔贤才
C. 民主推举 D. 由有功之臣继承王位
- 夏朝位于 ()
A. 长江流域 B. 淮河以南
C. 黄河流域 D. 云南地区
- 据说老百姓指着天上骂道: “你这个太阳什么时候灭亡呢? 我愿和你同归于尽!” 这一情景可能出现在下列哪一人物统治时期? ()
A. 舜 B. 禹 C. 启 D. 桀
- 夏朝灭亡的主要原因是 ()
A. 外族进攻 B. 统治者奢侈残暴, 人心尽失
C. 内部贵族叛乱 D. 严重的自然灾害
- 商朝被称为“殷商”的主要原因是 ()
A. 商王的名字统称为殷 B. 商王盘庚迁都到殷
C. 商朝最早定都于殷 D. 在殷墟出土了大量商代文物
- 商朝具有哪些特征? ()
①商建立了军队编制 ②商对较大地域的统治还很不稳固 ③商有割鼻、断足、斩首等残酷刑罚 ④商与各个方国关系紧密
A. ①②③ B. ②③④ C. ①③④ D. ①②④
- “临阵倒戈”意为到阵前要进行战斗的时候向敌人投降, 反过来打自己人。用这一词语来形容下列哪一次战争最合适? ()
A. 黄帝和炎帝之间的战争 B. 周灭夏的战争
C. 炎黄部落联盟打败蚩尤部落的战争 D. 牧野之战



- 古代神魔小说《封神演义》中有“子牙(姜尚)兵伐崇侯虎”“斩侯虎文王托孤”等章节。由此判断这部小说的创作背景是 ()
A. 周文王兴兵伐纣 B. 商汤起兵灭夏桀
C. 西周大封诸侯 D. 周武王兴兵伐纣
- 西周实行分封制的目的是 ()
①巩固对辽阔疆土的统治 ②加强对殷商遗民的管理 ③联合各个方国推翻商朝
A. ①② B. ②③ C. ①③ D. ①②③
- 西周的分封制中, 被分封为诸侯的对象不包括 ()
A. 宗室 B. 功臣 C. 先朝贵族 D. 周边民族的首领
- 西周的分封制中, 按照等级实行层层分封。下列选项中对分封的等级排列正确的是 ()
A. 周王、士、诸侯、卿大夫 B. 周王、诸侯、卿大夫、士
C. 周王、卿大夫、士、诸侯 D. 周王、卿大夫、诸侯、士
- 西周时期, 为了巩固国家统治, 首创了 ()
①世袭制 ②礼乐制度 ③分封制
A. ①② B. ①③ C. ①②③ D. ②③
- 公元前 841 年, 镐京发生了“国人暴动”。国人将谁赶出了镐京? ()
A. 启 B. 桀 C. 商纣王 D. 周厉王
- 西周时期, 哪两个阶层的矛盾激化导致西周的统治基础被削弱? ()
A. 周王与诸侯 B. 周王与卿大夫
C. 诸侯与国人 D. 国人与贵族上层
- 西周时期, 主要的生产部门是 ()
A. 农业 B. 手工业 C. 渔业 D. 商业
- 我国最早发现甲骨文是在 ()
A. 西周 B. 商朝 C. 唐朝 D. 清朝
- 迄今所知中国最古老的文字是 ()
A. 大篆 B. 铭文 C. 小篆 D. 甲骨文
- 商周时期, 青铜器有 ()
①工具 ②车马具 ③兵器 ④礼器
A. ②③④ B. ①②③④
C. ①③④ D. ①②④
- 商朝时, 手工业中最重要的部门是 ()
A. 青铜铸造业 B. 煮盐业
C. 冶铁业 D. 制陶业

二、判断题 (每小题 2 分, 共 10 分)

题号	21	22	23	24	25
正误					

- 传说距今 4000 多年前, 禹成为一个部落联盟的领袖, 掌握了很大的权力。 ()
- 商朝被周所灭主要是因为商朝与方国的关系松散。 ()
- 根据西周的礼乐制度, 使用乐器数量最多的是诸侯。 ()
- 随着时间的推移, 周王室与诸侯国之间的联系日渐紧密。 ()
- 商周时期, 青铜铸造业达到了高度成熟的程度: 从找矿、开采、选矿、冶炼到铸造, 各种技艺都十分精湛。 ()

得分: _____
学号: _____
姓名: _____
班级: _____

三、填空题 (每小题 2 分, 共 10 分)

26. 禹于公元前_____年建立了夏朝。
27. _____是中国历史上第一个留下了自己的文字记载的政权。
28. 距今 5000 年至 3000 年, 在_____等地还存在着多个高度发达的文明, 其出土的众多器物具有鲜明的本地特征, 显示出不同于商核心地区文明的特点。
29. 崛起于渭水流域, 力量不断壮大并起兵反商的是_____。
30. 公元前_____年, _____迁都洛邑, 从此历史进入东周时期。

四、识图题 (共 10 分)

31. 识读下图, 回答问题。



司母戊鼎



甲骨文

- (1) 司母戊鼎是哪一朝代的青铜器? 它有怎样的历史地位? (5 分)

- (2) 甲骨文的发现有什么历史意义? (5 分)

五、综合题 (共 30 分)

32. 1849 年, 陕西岐山出土了大孟鼎。鼎上的铭文记载了康王册封贵族孟, 并赐给他臣民和奴隶的情形, 大意如下:

九月, 王在宗周册命孟。王这样说: “……你年幼时就继承了先辈的显要职位, 我曾让你就读于我的贵胄学堂, 你不能背离我, 而要辅佐我。现在我要效法文王的政令和德行, 犹如文王任命两个执政大臣一样来任命你, 你要恭敬地协调纲纪, 勤勉地早晚入谏, 进行祭祀, 奔走于王事, 敬畏上天的威严。” 王说: “孟, 一定要效法你的先祖南公。” 王说: “孟, 你要辅助我管理军队, 勤勉而及时地处理赏罚狱讼案件, 从早到晚都应辅佐我治理四方, 协助我遵行先王的制度治民治疆土。赏赐给你一亩香酒、头巾、蔽膝、木底鞋、车、马; 赐给你先祖南公的旗帜, 用以巡狩, 赐给你邦国的官员四名, 人众自馭手至庶人六百五十九人; 赐给你异族的王臣十三名, 夷众一千零五十人, 要尽量让这些人在他们所耕作的土地上努力劳动。” 王说: “孟, 你要恭谨地对待你的职责, 不得违抗我的命令。” 孟颂扬王的美德, 制作了纪念先祖南公的宝鼎, 当时是康王在位第二十二年。

- (1) 材料中的事件出现在我国古代哪一朝代? (4 分)

- (2) 从材料中可知, 贵族孟对康王有哪些义务? (6 分)

- (3) 这种制度对当时的国家管理有哪些好处? (5 分)

33. 阅读下列材料, 回答问题。

材料一 西周时期, 农业的进步为手工业的发展奠定了基础。在那些农业发达的地区, 甚至形成了专门生产手工业产品的大型聚落, 产品的数量和种类都很丰富。2011 年以来, 考古学家在陕西周原遗址中的西周姚家墓地遗址进行了发掘, 发现了制铜作坊、制骨角器作坊, 甚至可能有制金箔作坊。这些作坊大都集中在周原遗址的东区, 形成了手工业的聚集区。

材料二 周朝有个周幽王, 他是一个非常残暴而腐败的君主。他有个爱妃名叫褒姒, 长得非常美丽。褒姒虽然很美, 但是“从未开颜一笑”。为此, 周幽王便出了一个赏格: “谁要能叫爱妃一笑, 就赏他一千斤金子 (当时把铜叫作金子)。” 于是有人想出了一个点起烽火戏弄诸侯的办法, 想换取褒姒一笑。一天, 周幽王带着爱妃褒姒登上烽火台, 命令四下点起烽火。邻近的诸侯看到了烽火, 以为犬戎 (西北地区的一个游牧民族) 来犯, 便领兵赶到城下救援, 但见灯火辉煌, 鼓乐喧天。一打听, 才知是周幽王为了取悦爱妃而干的荒唐事儿。各诸侯汗流浹背, 狼狈不堪, 敢怒不敢言, 只好气愤地收兵回营。褒姒见状, 果然淡然一笑。周幽王很高兴, 又多次点燃烽火。后来, 犬戎果真来犯, 虽然周幽王命人点起了烽火, 却无援兵赶到。原来各诸侯以为周幽王故伎重演。结果都城被犬戎攻下, 周幽王也被杀死了, 从此西周灭亡了。

- (1) 读材料一, 说说材料中表现了西周时期经济发展的状况是怎样的。(6 分)

- (2) 读材料二, 说说西周灭亡的主要原因。(5 分)

- (3) 从材料二中可以看出, 西周后期, 周王和诸侯之间的关系发生了怎样的变化? (4 分)



第二单元测试卷




(时间: 90 分钟 满分: 100 分)

一、选择题 (每小题 2 分, 共 30 分)

题号	1	2	3	4	5	6	7	8
选项								
题号	9	10	11	12	13	14	15	
选项								

- 下列人物中, 第一个通过世袭制继承王位的是 ()
A. 尧 B. 舜 C. 禹 D. 启
- 下列关于商朝的说法错误的是 ()
A. 建于公元前 1600 年 B. 定都于亳
C. 商朝的第一个王是殷 D. 国家主要范围在黄河流域
- 河南殷墟被联合国教科文组织列为世界文化遗产。你认为殷墟被列为世界文化遗产主要是因为它向人们展现了哪个王朝的社会风貌? ()
A. 夏朝 B. 商朝 C. 西周 D. 东周
- 商朝时, 商王自称“余一人”, 其主要目的是 ()
A. 显示其至高地位 B. 确定世袭王位的人选
C. 建立军队编制 D. 确立方国的地位
- 夏朝和商朝的暴君分别是 ()
A. 启、桀 B. 汤、桀
C. 桀、纣 D. 汤、纣
- 下列对商朝灭亡的说法正确的是 ()
A. 周文王击溃了商的主力军
B. 公元前 1600 年, 商朝灭亡
C. 纣王在位期间统治残暴
D. 外族起兵攻入商的都城
- 下列关于商朝的方国与西周的诸侯国的说法正确的是 ()
A. 方国与商朝关系紧密 B. 诸侯国与周朝关系松散
C. 方国与商朝关系松散 D. 诸侯国、方国都与分封制有关
- 西周初年疆域辽阔, 对周边民族影响巨大。这一局面主要得益于西周 ()
A. 发动征服战争 B. 实行分封制
C. 实行民族平等政策 D. 加强对方国的控制
- 西周时期, “众建诸侯、裂土为民”。“诸侯”一词产生于西周的 ()
A. “禅让”制 B. 世袭制
C. 分封制 D. 奴隶制

10. 右图为西周晋侯苏编钟。这一文物与当时的哪一制度直接相关? ()



- A. “禅让”制 B. 世袭制
C. 分封制 D. 礼乐制度
- 据《史记·西南夷列传》记载, 宜宾的僰人曾参加过牧野大战。该战役发生在下列哪一事件中? ()
A. 商汤灭夏 B. 盘庚迁殷
C. 武王伐商 D. 国人暴动
- “防民之口, 甚于防川。川壅而溃, 伤人必多, 民亦如之。是故为川者决之使导, 为民者宣之使言。”这一材料最符合下列哪一人物的统治特征? ()
A. 启 B. 桀 C. 商纣王 D. 周厉王
- 周朝时期, 诸侯、卿大夫、士使用的礼器和乐器规格、数量均不同的主要原因是 ()
A. 分封的时间不同 B. 分封的地域不同
C. 等级不同 D. 与周王关系的紧密程度不同
- 下列对西周时期的社会状况分析错误的一项是 ()
①西周时期, 国人是维持周王室统治稳固的重要基础 ②西周后期, 社会的发展造成两极分化, 国人与贵族上层的矛盾日益激化 ③西周后期, 分封制彻底解体
A. ①② B. ②③ C. ①③ D. ①②③
- 妇好是商王的王后。一年夏天, 北方边境发生战争, 妇好自告奋勇, 要求率兵前往, 商王犹豫不决, 占卜后才决定派妇好出征, 结果大胜。这个故事最早可能记载在 ()
A. 龟甲或兽骨上 B. 竹简或木牍上
C. 丝帛或麻布上 D. 宣纸上

二、判断题 (每小题 2 分, 共 10 分)

题号	16	17	18	19	20
正误					

- 在中国古代的历史记载中, 中国的第一个王朝是夏。 ()
- 夏朝时, 王位继承实行“禅让”制。 ()
- 夏朝时, 用文字记载历史取代了口耳相传的神话传说。 ()
- 北方少数民族的进攻导致夏、商和西周三个王朝相继覆灭。 ()
- 西周的分封制中, 诸侯奉周王为天下共主, 必须服从周王号令, 定期到镐京朝觐、纳贡, 率兵随同周王征伐。 ()

三、填空题 (每小题 2 分, 共 10 分)

- 商朝前期屡屡迁都, 至约公元前_____年商王_____迁都至殷后, 统治稳定下来, 国力昌盛, 故后世又称商朝为“_____”。
- 西周定都_____。
- 西周时, 周王分封诸侯, 各诸侯再分封_____, 卿大夫再分封_____。通过逐级分封, 西周建立起一个个统治据点, 形成对全国的控制网络。
- 礼乐制度是_____的外在表征, 两者相辅相成, 有利于_____巩固统治、稳定社会秩序。
- 西周分封制下, 重要的封国多由同姓和异姓而有姻亲的贵族掌握, 用_____关系来维系周王室与_____之间的联系。

得分: _____
学号: _____
姓名: _____
班级: _____

四、识图题 (共 10 分)

26. 识读下图, 回答问题。



图一 鍍金銅面具



图二 毛公鼎铭文(局部)

(1) 读图一, 说说这种铜面具反映了哪一时期哪一地区的文明。(5 分)

(2) 读图二, 说说该铭文主要记录了中国古代哪个朝代的历史。(5 分)

五、综合题 (共 40 分)

27. 阅读下列材料, 回答问题。

少康中兴后, 夏朝的统治逐渐稳固。到第 14 代王孔甲的时候, 夏朝各种社会矛盾尖锐起来。孔甲在位期间, 肆意淫乱, 沉湎于歌舞美酒之中, 而且喜好信奉鬼神, 是一个胡作非为的残暴昏君。桀是夏朝最后一个王, 不思进取, 骄奢淫逸。太史令终古看到夏桀这样荒淫奢侈, 便进宫向夏桀哭泣进谏: “自古帝王, 都是爱惜人民的力量, 才能够得到人民的爱戴。不能把人民的血汗供给一人娱乐。这样奢侈, 只有亡国。”夏桀听了很不耐烦, 斥责终古多管闲事。终古知道夏桀已不可救药, 心里明白夏一定会灭亡, 就投奔了商汤。

(1) 夏朝的少康、孔甲、桀继承王位依靠的是什么制度?(5 分)

(2) 材料中表明夏朝灭亡的主要原因是什么?(5 分)

(3) 从这则材料中我们得到什么历史启示?(5 分)

28. 阅读下列材料, 回答问题。

材料一 当时西周王朝的四周分布着犬戎、狄等少数民族, 这些少数民族经常侵扰西周的边境, 掠夺财富。而西周在这些边界建立诸侯国, 派王室贵族等直接管理, 一方面直接加强了周王室的

统治, 另一方面也对这些少数民族起到了威慑作用。

通过这种制度, 周王确立了天下共主的地位, 加强了对地方的统治, 开发了边远地区, 形成了众星捧月般的政治格局, 统治效果得到加强, 并使西周贵族集团形成了“天子—诸侯—卿大夫—士”的等级秩序。

材料二 周朝实行的礼乐制度, 即周礼。周礼作为各级贵族的政治和生活准则, 成为维护宗法分封制度必不可少的工具。周朝礼乐制度严格, 钟为统治阶层独享。中国古代的乐器浩如烟海。据杨荫浏先生统计, 周朝时有记载的就有近 70 种, 仅《诗经》中提到的乐器就有 29 种之多。周朝以制作乐器的材料不同对乐器进行分类。按照这种方法, 乐器被分为金、石、丝、竹、匏、土、革、木, 亦称八音。

(1) 材料一中的“这种制度”指的是什么制度?(4 分)

(2) 概括材料一中“这种制度”的两种作用。(4 分)

(3) 结合材料二, 并联系所学知识, 说说“钟鸣鼎食”这一成语主要描述的是哪些人的生活。(3 分)

(4) 结合材料和所学知识, 说说两则材料中的制度的共同作用。(4 分)

29. 阅读下列材料, 回答问题。

清末光绪二十五年(1899 年)秋, 清朝官员王懿荣(1845—1900)得病, 派人买回一剂中药。王懿荣无意中看到其中的一味叫龙骨的药上面刻画着一些符号。龙骨是古代哺乳动物的骨骼的化石, 在这种骨头上怎会有刻画的符号呢? 这不禁引起他的好奇。对古代金石文字素有研究的王懿荣便仔细端详起来, 觉得这不是一般的刻痕, 很像古代文字, 但其形状又非籀(大篆)非篆(小篆)。为了找到更多的龙骨做深入研究, 他派人把药店刻有符号的龙骨全部买下, 后来又通过古董商进行收购, 累计共收集了 1500 多片。

(1) 根据所学知识, 说说材料中“龙骨”上的刻痕是什么文字。(5 分)

(2) 说说王懿荣的这一发现有什么历史意义。(5 分)



第三单元练习卷

(时间: 90 分钟 满分: 100 分)

一、选择题 (每小题 2 分, 共 40 分)

题号	1	2	3	4	5	6	7	8	9	10
选项										
题号	11	12	13	14	15	16	17	18	19	20
选项										

- 春秋时期, 周天子政治权威逐渐丧失的主要表现是 ()
A. 诸侯之间的争霸 B. 卿大夫之间的争霸
C. 士的崛起 D. 平民的反抗
- 春秋时期, 争霸战争频繁。诸侯国之间开展争霸战争的目的有 ()
①争夺地盘 ②取得号令诸侯的霸权 ③维护周天子的地位
A. ①② B. ②③ C. ①③ D. ①②③
- 下列哪一战争不是发生在春秋时期? ()
A. 城濮之战 B. 长勺之战 C. 牧野之战 D. 崤之战
- 春秋时期, 最先称霸的是 ()
A. 楚庄王 B. 秦穆公 C. 齐桓公 D. 宋襄公
- “战国七雄”是战国时期的七个较大的诸侯国。下列属于“战国七雄”的是 ()
A. 鲁国 B. 燕国 C. 卫国 D. 晋国
- 到公元前 3 世纪中叶, “战国七雄”中势力最强的诸侯国是 ()
A. 齐国 B. 楚国 C. 韩国 D. 秦国
- 春秋时期, 农业生产技术提高的重要标志是 ()
A. 铁农具和畜拉犁的使用 B. 青铜器和铁农具的使用
C. 青铜器和畜拉犁的使用 D. 铁器和青铜器的使用
- 右图为制造农具“耒”的铁范, 这一文物最早可能出现在 ()
A. 夏朝 B. 商朝 C. 西周 D. 东周
- 春秋史书有“宗庙之牺, 为畎亩之勤”的记载。这说明 ()
A. 春秋时期, 国家非常重视祭祀 B. 春秋时期, 诸侯国之间战争频繁
C. 春秋时期, 牛被用来作为宗庙祭祀的贡品 D. 春秋时期, 牛已经用来耕田了
- 下列选项中对春秋时期的经济发展描述错误的是 ()
A. 农业上生产技术有很大提高
B. 国家鼓励私人垦田
C. 人口大量增长, 城市规模扩大, 商业繁荣
D. 各诸侯国和平相处, 社会稳定



- 中国有史以来城市和商业发展的第一个繁荣期是在 ()
A. 尧、舜、禹时期 B. 夏、商时期
C. 西周时期 D. 春秋战国时期
- 战国时期, 各国纷纷进行变法, 如李悝变法、吴起变法、商鞅变法等。各国进行变法的主要目的是 ()
A. 废除分封制 B. 实现富国强兵
C. 变法是当时潮流 D. 人民要求变法
- 战国时期, 各国纷纷变法, 其中影响最大、改革最彻底的是 ()
A. 李悝变法 B. 吴起变法
C. 商鞅变法 D. 申不害变法
- 支持商鞅变法的国君是 ()
A. 秦穆公 B. 齐桓公 C. 楚庄王 D. 秦孝公
- 右图为漫画《立木为信》, 它从一个侧面反映了商鞅变法成功的原因, 这个原因是 ()
A. 商鞅重视与贵族子弟之间的关系
B. 商鞅讲求信用
C. 商鞅得到了国君的大力支持
D. 商鞅变法的目的是维护老百姓的利益
- 商鞅变法的内容中有“奖励耕织、垦荒, 生产粮食、布帛多的可免除自身的劳役”。下列对这一内容的分析错误的一项是 ()
A. 这一内容属于经济方面的改革 B. 有利于秦国经济的发展
C. 大大提高了秦国军队的战斗力 D. 为以后秦统一天下奠定了坚实的基础
- 老子是哪一时期的思想家? ()
A. 商朝 B. 西周 C. 春秋 D. 战国
- 下列不属于老子的思想的一项是 ()
A. 提出天地“自然无为”
B. 认为一切事物都包含有和无、高和下、生和死等对立面
C. 倡导以“无为”治国, 反对统治者好大喜功
D. “己所不欲, 勿施于人”
- 记录孔子言论的书籍是 ()
A. 《诗经》 B. 《春秋》 C. 《论语》 D. 《道德经》
- 下列对《孙子兵法》的解说错误的是 ()
A. 春秋晚期重要的军事著作
B. 作者是军事家孙武
C. 强调发动战争前要有充分的准备
D. 主张“有教无类”, 因材施教



二、判断题 (每小题 2 分, 共 10 分)

题号	21	22	23	24	25
正误					

- 战国时期, 各诸侯国完全无视周王室的存在, 纷纷称王, 力图一统天下。 ()
- 春秋时期是我国大规模使用铁农具的时期。 ()
- 春秋战国时期, 各诸侯国严厉禁止私人垦田。 ()

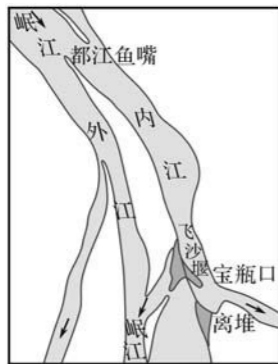
24. 战国时期，由于旧的制度已经不能适应社会经济的急剧变动，各国纷纷进行改革。其中，魏国的商鞅变法影响最大。 ()
25. 老子被后世尊为道家学派的开创者。 ()

三、填空题 (每小题 2 分，共 10 分)

26. 东周时期大体分为_____和_____两个阶段。
27. 春秋战国时期的争霸战争是在_____和_____的前提下，各诸侯国争夺资源、获取更大发展空间的竞争。
28. 春秋战国时期，商业的发展、物资交流需求的增加，使_____的呼声更加强烈。
29. 商鞅变法中规定奖励军功，立了军功的人，按照_____授予_____和田宅；_____若没有军功，就没有爵位。
30. 商鞅变法中规定，将原来的居民聚落合并成_____，由_____任命县令治理，代替以往的贵族分封制。

四、识图题 (共 10 分)

31. 识读下图，回答问题。



图一 都江堰示意图



图二 纪念李冰父子的二王庙

- (1) 读图一，联系所学知识，说说图中的水利工程位于今天的哪一省哪一市。(2 分)

- (2) 这一水利工程在古代有什么作用?(4 分)

- (3) 读图二，说说后人为什么要纪念李冰父子。(4 分)

五、综合题 (共 30 分)

32. 阅读下列材料，回答问题。

材料一 公元前 7 世纪，楚国宋，宋向晋告急。晋文公率军救宋。晋军为避开楚军的锋芒，在未开战之前，主动退军“三舍”。至城濮，晋军大破楚军。这就是著名的城濮之战。战后，晋文公

又大会诸侯于践土，周天子派代表参加会盟。盟约规定：“皆奖王室，无相害也。”晋文公成为中原的霸主。

材料二 公元前 260 年，秦国军队进攻赵国长平。赵军由经验丰富的老将廉颇指挥。他根据双方的实力对比，采用固守的策略让强大的秦军一筹莫展。秦国派人到赵国散布流言，说廉颇胆小怕事，秦军最怕的是青年将军赵括。赵国果然中了反间计，启用缺乏实战经验、惯于空谈兵法的赵括代替了廉颇。秦军利用这一时机大败赵军，赵括本人战死。

- (1) 材料一中的“天子派代表参加会盟”说明了什么现象?(5 分)

- (2) 材料一反映了春秋时期怎样的社会特点?(4 分)

- (3) 据两则材料，结合所学知识，说说春秋战国时期的战争对当时社会有什么影响。(6 分)

33. 阅读下列材料，回答问题。

各学派对同一问题，往往有不同的看法。在如何治理好国家的问题上，墨子认为，应把 A 等，作为国家的基本政策。孟子主张，“劳心者治人，劳力者治于人”，B，让农民有一定数量的土地，有足够的劳动时间。韩非子则认为应大大加强国君的权力，提倡 C。而在思想“消极”的庄子看来，D，统治者要无为而治。

- (1) 上述思想家生活在哪一时代?(3 分)

- (2) 联系材料中人物的思想，将文中字母与下列语句配对。(4 分)

- ① 治人要实行“仁政”。 ()
- ② “治”不如“不治”。 ()
- ③ 对外大国不侵略小国，对内互利互爱、举用贤才。 ()
- ④ 君主专制和中央集权，以“法”治国。 ()

- (3) 材料中“百家争鸣”局面的出现对我国古代的思想文化发展有什么意义?(8 分)



第三单元测试卷



(时间: 90 分钟 满分: 100 分)

一、选择题 (每小题 2 分, 共 30 分)

题号	1	2	3	4	5	6	7	8
选项								
题号	9	10	11	12	13	14	15	
选项								

- 春秋时期, 曾有几位诸侯先后称霸中原, 号令诸侯。按照称霸的先后顺序, 下列诸侯排列正确的是 ()
 - 晋文公、楚庄王、齐桓公
 - 楚庄王、齐桓公、晋文公
 - 齐桓公、晋文公、楚庄王
 - 晋文公、齐桓公、楚庄王
- “他任用管仲为相, 积极改革内政, 发展生产, 增强了国力。”材料中的“他”是 ()
 - 宋襄公
 - 秦穆公
 - 楚庄王
 - 齐桓公
- “凡我同盟之人, 既盟之后, 言归于好。”春秋时期, 由齐国主持的这次会盟的地点是 ()
 - 镐京
 - 殷墟
 - 洛邑
 - 葵丘
- 战国时期, 瓜分晋国的三家大夫是 ()
 - 韩、赵、齐
 - 楚、赵、韩
 - 楚、秦、韩
 - 韩、赵、魏
- 下列哪些战役是战国时期的著名战役? ()

①马陵之战 ②长平之战 ③桂陵之战 ④崤之战

 - ①②③
 - ①③④
 - ①②④
 - ②③④
- 关于春秋时期的战争, 下列说法错误的是 ()
 - 争霸的目的是争夺地盘, 取得号令诸侯的霸权
 - 争霸的结果是给当时的社会带来了种种灾难, 但也出现了一些较大的诸侯国
 - 周王室的衰微是导致诸侯争霸现象出现的主要原因
 - 诸侯国相互征战的目的是消灭大诸侯国, 以维护周天子的威信
- 战国时期, 大量土地被开垦, 各诸侯国农业发展很快。下列选项中, 不属于促进当时农业发展的原因的是 ()
 - 各国兴修水利工程
 - 铁农具的推广
 - 青铜农具的广泛使用
 - 各国国君重视, 纷纷开疆拓土
- 战国时期修建的著名水利工程不包括 ()
 - 都江堰
 - 郑国渠
 - 芍陂
 - 长城

9. 两千多年来, 位于成都平原上的都江堰(见右图)是在哪一条江上? ()

- 珠江
- 湘江
- 长江
- 岷江



10. 战国时期, 各国实行变法的主要原因是 ()

- 周王室要求各诸侯国推行新法
- 各国的民众都要求变法
- 贵族对变法都大力支持
- 各诸侯国为了实现富国强兵

11. 商鞅变法实行后, 秦国“民勇于公战”的主要原因是 ()

- 不立军功就要被罚做奴隶
- 立了军功的人, 按照功劳大小授予爵位和田宅
- 私自斗殴要被处死
- 没有军功的贵族子弟不得授予爵位

12. 诸子百家都提出了如何治理国家的方法, 其中提出“无为而治”的是 ()

- 墨家
- 道家
- 儒家
- 法家

13. 战国时期, 他穿着俭朴的衣服, 匆匆行走在漫天尘土的路上。他匆匆赶去一座城市, 目的是阻止一场不义战争。“他”属于哪个学派? ()

- 儒家学派
- 道家学派
- 法家学派
- 墨家学派

14. 孔子和孟子思想的相同点是 ()

- 宣扬“仁”的思想
- 提倡节俭, 批判贵族的奢侈浪费
- 提倡以“法”治国
- 提倡人应乐天知命, 顺应自然, 追求精神自由

15. “知彼知己, 百战不殆”这两句话被历代军事家奉为箴言。这两句话出自下列哪一作品? ()

- 《春秋》
- 《论语》
- 《诗经》
- 《孙子兵法》

二、判断题 (每小题 2 分, 共 10 分)

题号	16	17	18	19	20
正误					

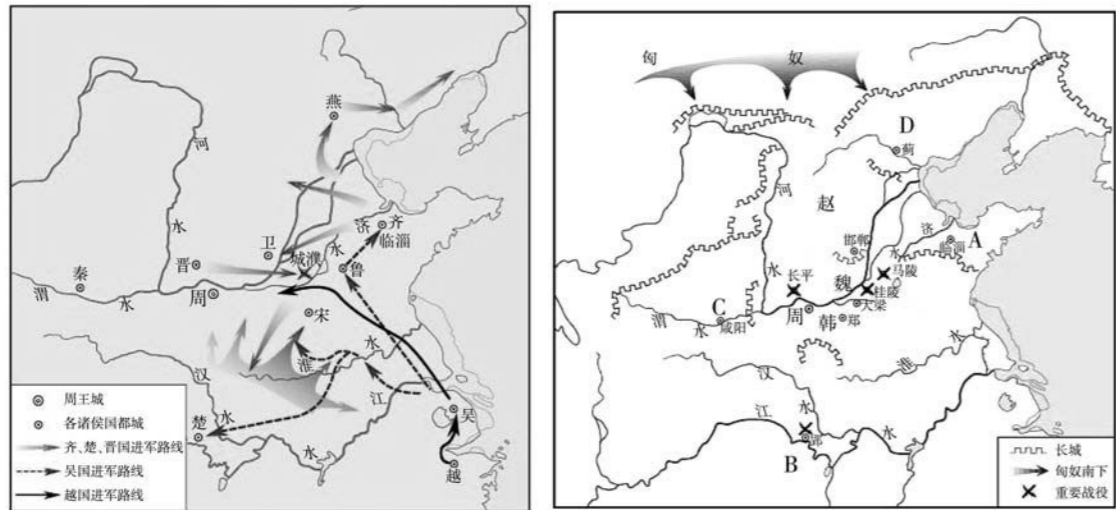
- 春秋时, 发生了晋文公召襄王, 即诸侯召见周王的行为。这表明周天子的地位至高无上。 ()
- “水旱从人, 不知饥馑, 时无荒年, 天下谓之‘天府’也。”这段材料描述了郑国渠带来的益处。 ()
- 战国时期, 各诸侯国为了实现富国强兵, 纷纷进行改革。 ()
- 商鞅被处死后新法继续推行, 主要是因为新法维护了旧贵族的利益。 ()
- 战国时期, 出现“百家争鸣”局面的根本原因是当时涌现出一大批思想家。 ()

三、填空题 (每小题 2 分, 共 10 分)

- 战国时期的主要诸侯国有_____、_____、楚、韩、赵、魏、燕, 史称“_____”。
- 春秋战国时期, 生产技术有了很大的提高, _____和_____在春秋时期开始出现, 到战国时期日益推广。
- 都江堰在成都西北, 由_____主持修建, 是一项综合性的_____工程。
- 春秋战国时期是中国有史以来_____与_____发展的第一个繁荣期。
- 孔子, 名丘, 鲁国人, _____学派的创始人。“_____”的思想是孔子学说的核心。

四、识图题 (共 10 分)

26. 识读下图, 回答问题。



(1) 读图二, 写出图中 A、B、C、D 诸侯国的国名。(6 分)

(2) 比较图一和图二, 两幅图中诸侯国的数量有什么变化?(4 分)

五、综合题 (共 40 分)

27. 阅读下列材料, 回答问题。

材料一 据《国语·齐语》记载, 春秋时期齐国官员管仲曾向齐桓公建议, 用青铜铸造剑戟等武器, 用在狗、马身上; 用铁铸造锄、夷、斤等生产工具, 用来耕种土地。

材料二 秦国日益强大, 与之相邻的韩国为了消耗秦国的力量, 减小对自己的威胁, 就派水工郑国去游说秦王兴修引泾水灌溉关中平原的水利工程。这项大型工程进行到一半的时候, 秦王发现了这一阴谋, 大怒之下要杀郑国。郑国辩解道: “臣为韩延数岁之命, 而为秦建万世之功。”秦王深以为然, 于是让他完成了这一工程。

材料三 齐国都城临淄有居民 7 万户, 其中包括许多手工业者和商人。城里人流涌动, 拥挤得连车轮的轴都会相互碰撞。

(1) 材料一说明春秋时期农业生产中有什么现象?(5 分)

(2) 读材料二, 说说郑国所说“为秦建万世之功”的含义是什么。(5 分)

(3) 读材料三, 说说材料反映了春秋战国时期的什么现象。(4 分)

(4) 综合三则材料, 说说春秋战国时期社会经济发展的原因。(4 分)

28. 阅读下列材料, 回答问题。

李悝是战国时期的政治人物, 法家重要代表人物, 曾任魏文侯的相国, 主持变法。他在经济上推行“尽地力”和“善平糴”的政策, 鼓励农民精耕细作, 增加产量, 主张同时播种多种粮食作物, 以防灾荒; 主张国家在丰年以平价购买余粮, 荒年以平价售出, 以平粮价。他在政治上实行法治, 废除传统的贵族世袭官职的制度, 奖励有功于国家的人。李悝变法使魏国成为战国初期的头号强国。

(1) 联系所学知识, 说说李悝变法的时代背景。(5 分)

(2) 比较李悝变法和商鞅变法的内容和作用, 说说它们有哪些相同点。(5 分)

29. 阅读下列材料, 回答问题。

齐国国君齐威王是一位很有作为的君主, 他任用邹忌为相推行政治改革, 使齐国国力大增。他很重视招纳人才。不过, 他最感兴趣的还是能够冲锋陷阵的猛将和治理政事的贤者。

孟子反对“以力服人”的“霸政”, 提倡“以德服人”的“仁政”, 与齐威王的观点不合。在齐威王眼中, 孟子得民心才能得天下的主张显得迂腐、不切实际。孟子也深知威王不是自己乐于辅佐的君主, 终于决定离开齐国。齐威王派人送来一百镒上等好金作为盘缠, 以表示自己孟子的敬重。孟子坚辞不受, 扬长而去。

他的弟子感到很奇怪。孟子解释说: “齐王没有任用我, 也就没有送给我财物的理由; 没有理由却要赠送, 这是要收买我。哪有君子可以被人用财物收买的呢?”

(1) 材料中孟子是哪一学派的代表人物? 他的治国主张是什么?(4 分)

(2) 根据材料及所学知识, 说说孟子不能得到齐威王重用的原因是什么。(4 分)

(3) 从材料中, 我们可以了解到孟子的哪些精神品质?(4 分)

四、识图题 (共 10 分)

26. 识读下图, 回答相关问题。



图一 神农教稼图(元代王祯《农书》插图)



图二 战国时期的铁农具, 现收藏于中国农业博物馆

(1) 读图一, 说说图中的远古传说反映了我国古代人类社会生活的哪些历史信息。(2 分)

(2) 读图二, 说说铁农具的使用对当时社会经济的发展有什么作用。(4 分)

(3) 列举从远古时期到战国时期我国农业发展的成就。(列举两例)(4 分)

五、综合题 (共 40 分)

27. 阅读下列材料, 回答问题。

材料一 在大道施行的时候, 天下是人们所共有的。人们把品德高尚、有才能的人选拔出来, 人人讲求诚信, 和睦相处。……人们都愿意为公众之事竭尽全力, 而不一定为自己牟私利。因此, 奸邪之谋不会发生, 盗窃、造反和害人的事情也不会发生, 家家户户的大门都不用关闭。这就是理想社会。

材料二 周朝使用礼乐的规定。

身份	使用乐器	乐舞的规模
天子	悬挂的乐器四面排列	八佾, 64 人
诸侯	悬挂的乐器三面排列	六佾, 48 人
卿大夫	悬挂的乐器两面排列	四佾, 32 人
士	悬挂的乐器一面排列	二佾, 16 人

(1) 读材料一, 上述材料描述的现象出现在什么时期? 材料中“把品德高尚、有才能的人选拔出来”指的是什么制度?(5 分)

(2) 读材料二, 说说周朝做出这种使用礼乐的规定的规定的主要目的是什么。(5 分)

(3) 结合所学知识, 说说材料二中的制度是在什么时候被破坏的。(5 分)

28. 春秋战国时期是中国历史上的一个大分裂时期, 也是一个大变革时期。阅读下列材料, 回答问题。

材料一 平王立, 东迁于洛邑, 辟戎寇。平王之时, 周室衰微, 诸侯强并弱, 齐、楚、秦、晋始大, 政由方伯。

材料二 (秦孝公) 有席卷天下、包举宇内、囊括四海之意, 并吞八荒之心。当是时也, 商君佐之, 内立法度, 务耕织, 修守战之具, 外连衡而斗诸侯。于是秦人拱手而取西河之外。

——贾谊《过秦论》

(1) 读材料一, 周平王东迁洛邑开始了东周的历史。东周分为春秋、战国两个时期。春秋时期第一个称霸的是谁?(3 分)

(2) 读材料二, 简述材料中秦国有哪些内外改革措施。(6 分)

(3) 材料二中秦孝公任用“商君”进行变法的主要目的是什么? 这次变法对秦国历史发展有何影响?(6 分)

29. 阅读下列材料, 回答问题。

材料一 ……若使天下兼相爱……故视人之室若其室, 谁窃? 视人身若其身, 谁贼? ……视人家若其家, 谁乱? 视人国若其国, 谁攻?

——《墨子》

材料二 天下皆知美之为美, 斯恶已; 皆知善之为善, 斯不善已。故有无相生, 难易相成, 长短相形, 高下相倾, 音声相和, 前后相随。

——《道德经》

材料三 文王行仁义而王天下, 偃王行仁义而丧其国, 是仁义用于古不用于今也。故曰: 世异则事异。

——《韩非子》

(1) 分别概括上述三则材料的观点或主张。(6 分)

(2) 上述材料体现的观点反映了怎样的时代特征?(4 分)




期中测试卷 (B)

(时间: 90 分钟 满分: 100 分)


一、选择题 (每小题 2 分, 共 30 分)

题号	1	2	3	4	5	6	7	8
选项								
题号	9	10	11	12	13	14	15	
选项								

- 大约 70 万~20 万年前生活在北京周口店龙骨山的岩洞里的人类 ()
 - 能够使用磨制石器
 - 当时已有文字记载其活动
 - 学会了饲养家畜
 - 能够使用天然火
- 某中学七年级学生开展历史文物仿制活动, 某同学仿制了北京人使用的工具, 这个工具应该是 ()
 - 铁制工具
 - 青铜器
 - 磨制石器
 - 打制石器
- 下列选项中对我们的远古祖先解说正确的是 ()
 - 北京人已经过定居生活
 - “元谋直立人”学会了使用骨器和磨制石器
 - 北京人能够制造和使用陶器
 - 半坡居民和河姆渡居民学会原始种植
- 《史记·五帝本纪》中记载: “尧知子丹朱之不肖, 不足授天下, 于是乃权授舜。”这段材料反映的政治制度是 ()
 - 世袭制
 - “禅让”制
 - 礼乐制度
 - 分封制
- 下列与我国历史上第一个王朝的建立有关的是 ()
 - 炎帝与黄帝联合, 打败了蚩尤
 - 禹建立夏朝
 - 汤建立商朝
 - 春秋战国时期实行分封制
- 文物是研究历史的第一手资料。右图文物说明, 此时的原始居民已经 ()
 - ①会制作青铜器
 - ②会织布制衣
 - ③会烧制陶器
 - ④会使用文字记录事情



纺轮



猪纹陶钵

 - ①②
 - ②③
 - ③④
 - ②④
- 我国古代青铜器生产规模大, 品种多, 工艺精美。司母戊鼎是世界上已发现的最大的青铜礼器, 鼎高 1.33 米, 长 1.10 米, 宽 0.78 米, 重 832.84 千克。这件巨大的青铜礼器制造于 ()
 - 夏朝
 - 商朝
 - 周朝
 - 秦朝
- 北京出土的青铜器“克盃”记载: 周成王封克做豳 (今北京地区) 的诸侯, 管理羌族、驭族……克进驻豳地, 接收土地, 平息动乱。此记载印证的分封制的内容是 ()
 - 诸侯得到周天子授予的土地和人民
 - 诸侯不能带兵随从周天子作战
 - 诸侯向周天子缴纳贡品
 - 诸侯定期觐见周天子

- 下列关于春秋战国时期的社会发展趋势的说法错误的一项是 ()
 - 国家统一趋势逐步加强
 - 周天子“天下共主”的地位得到巩固
 - 诸侯与周王室的联系日益松散
 - 诸侯国变得越来越少
- 春秋时期, 社会动荡。下列各项中不是发生在春秋时期的现象的是 ()
 - 孔子周游列国, 到处讲学
 - 秦国的商鞅开始变法
 - 分封制被破坏
 - 诸侯争霸
- 后人写诗称赞李冰: “始知李太守, 伯禹亦不如。”李冰获此赞誉的主要原因是他 ()
 - 主持修建郑国渠, 使关中平原成为一片沃壤
 - 主持修建都江堰, 消除了岷江水患, 造福于民
 - 改进生产工具, 推广牛耕
 - 任秦国蜀郡太守时, 勤政廉洁
- 下列关于战国时期“百家争鸣”的说法, 不正确的是 ()
 - 当时社会正经历着深刻的变化
 - “诸子百家”是泛指, 表示学派众多
 - 各学派著书立说, 激烈辩论, 形成中国古代思想活跃的局面
 - 儒家学派的思想备受统治者推崇
- “‘尊王攘夷’为口号, 第一霸主逞威风。”这段材料所反映的历史时期是 ()
 - 春秋
 - 战国
 - 西周
 - 商朝
- 下列主张中, 最能代表道家思想的是 ()
 - 以德服人, 争取民心
 - 万物虚无, 祸福相倚
 - 爱一切人, 视人如己
 - 以法为教, 今必胜昔
- 下列有关春秋战国时期诸子百家思想的表述, 对应错误的一项是 ()
 - 墨子—“兼爱”“非攻”
 - 韩非子—“民贵君轻”
 - 庄子—“无为而治”
 - 孙武—“知彼知己, 百战不殆”

二、判断题 (每小题 2 分, 共 10 分)

题号	16	17	18	19	20
正误					

- 在生活方式上, 半坡居民和河姆渡居民的共同点是以采集果实为主。 ()
- 原始社会末期, 部落联盟首领出现的顺序排列正确的是尧、舜、禹。 ()
- 春秋战国时期, 各诸侯国为了维护周天子的统治地位, 彼此之间展开混战。 ()
- 秦孝公继位后, 努力招揽人才, 并任用李悝进行变法。 ()
- 史料记载, 孔子朝罢归来, 家人报告: “马厩失火!” 孔子听后, 问: “伤人乎?” 这则故事体现出孔子倡导并实践了他的“仁”的思想。 ()

三、填空题 (每小题 2 分, 共 10 分)

- 根据考古发现, 位于浙江余姚的_____遗址, 距今约 7000 年。这里的居民主要种植_____, 饲养猪、狗、水牛等家畜, 普遍使用_____石器。
- 西周后期, _____对人民采取残暴的压制政策, 公元前 841 年发生了“_____”, 他被驱逐出镐京。
- 商周时期的青铜器有工具、兵器、车马具等, 但最有代表性的是_____, 即举行祭祀、宴会、丧葬等仪式时所用的器具。_____就是其中的典型。
- 面对春秋以来剧烈的社会变动和诸侯国之间的征战, 老子主张顺应_____, 倡导以