



《新编单元练测卷》编写组 编

# 新编单元 练测卷

有练 | 有测 | 实用 | 好用



## 地理

湘教版

七年级上册



湖南教育出版社

### 图书在版编目(CIP)数据

新编单元练测卷. 地理七年级. 上册: 湘教版/《新编单元练测卷》编写组编. —长沙: 湖南教育出版社, 2016. 8  
ISBN 978-7-5539-4298-8

I. ①新… II. ①新… III. ①中学地理课—初中—习题集  
IV. ①G634

中国版本图书馆 CIP 数据核字(2016)第 195282 号

XINBIAN DANYUAN LIANCEJUAN

新编单元练测卷

地 理

七年级上册 湘教版

《新编单元练测卷》编写组 编

---

责任编辑: 程 鸷

封面设计: 游 麒

出版发行: 湖南教育出版社(长沙市韶山北路 443 号)

网 址: <http://www.hneph.com>

电子邮箱: [hnjycbs@sina.com](mailto:hnjycbs@sina.com)

微信服务号: 多点学习

客 服: 电话 0731-85486979

总 经 销: 湖南省新华书店

印刷装订: 益阳市顺鑫印务有限公司

开 本: 880 mm×1230 mm 1/8

字 数: 155 千字

印 张: 5

版 次: 2016 年 8 月第 1 版 2016 年 8 月第 1 版第 1 次印刷

书 号: ISBN 978-7-5539-4298-8

定 价: 12.00 元

(本书若有印刷、装订错误, 可向承印厂调换)



# 第一章第一节练习卷

(时间: 90 分钟 满分: 100 分)

## 一、填空题 (每空 1 分, 共 25 分)

1. 人类的生产活动不能\_\_\_\_\_，它受到\_\_\_\_\_环境的影响和制约。
2. 滑雪运动一般应在\_\_\_\_\_纬度地区或\_\_\_\_\_地区开展。
3. 冲浪运动一般在低纬度的\_\_\_\_\_地区开展。
4. 农业生产必须\_\_\_\_\_。
5. 土地与生产建设的主要联系有\_\_\_\_\_、\_\_\_\_\_、\_\_\_\_\_、\_\_\_\_\_等。
6. 在南美，可以感受到\_\_\_\_\_比赛和\_\_\_\_\_节的热烈气氛。
7. 英、美等国居民主要讲\_\_\_\_\_语，信奉\_\_\_\_\_教。
8. 喜辣的习俗多与\_\_\_\_\_的地理环境有关。
9. 汉族的\_\_\_\_\_、蒙古族的\_\_\_\_\_、傣族的\_\_\_\_\_等给我们展示了各地民俗风情的绚丽画卷。
10. 受太阳能分布不均的影响，\_\_\_\_\_、\_\_\_\_\_等气候因素均有区域差异。
11. 中国人以说\_\_\_\_\_语为主，属于\_\_\_\_\_人种。
12. 去埃及旅游可能会看到著名的\_\_\_\_\_，去欧洲威尼斯可领略到“\_\_\_\_\_”的独特风情，去“音乐之都”\_\_\_\_\_可欣赏到优美的音乐。

## 二、选择题 (每小题 2 分, 共 40 分)

题号	1	2	3	4	5	6	7	8	9	10
选项										
题号	11	12	13	14	15	16	17	18	19	20
选项										

1. 下列现象与“地理”没有关系的是 ( )
  - A. 夏天我们的家乡昼长夜短
  - B. 黑龙江的小麦在春天播种
  - C. 台风“桑美”在浙江沿海登陆
  - D. 电子产品更新换代很快
2. 千百年来，人们出门看天，靠的是祖祖辈辈观察、积累、流传下来的天气知识。请根据下列现象并结合自己的生活经验判断，可能不会下雨的是 ( )
  - ①星星布满天 ②蜻蜓、燕子低飞 ③蟑螂乱飞 ④蜘蛛织网 ⑤蚂蚁搬家
  - A. ①②⑤
  - B. ①④
  - C. ②③⑤
  - D. ③④

3. 身着白色长袍、头戴白色头巾，是下列哪个国家男子的传统打扮? ( )
  - A. 英国
  - B. 日本
  - C. 沙特阿拉伯
  - D. 巴西
4. 气候对人类活动的影响表现在 ( )
  - ①农业生产方面 ②水利工程建设方面 ③城市建设方面 ④交通方面
  - A. ②③
  - B. ①④
  - C. ①③④
  - D. ①②③④
5. 下列问题中，不属于地理问题的是 ( )
  - A. “我国新疆生产的瓜果为什么特别甜?”
  - B. “酷寒的南极大陆为什么沉睡着万顷煤矿?”
  - C. “我们为什么要学习雷锋精神?”
  - D. “昔日的海洋如今为什么变成了高耸的山脉?”
6. 下列体育活动与开展地区的组合，正确的是 ( )
  - A. 冲浪运动—青藏高原
  - B. 滑雪运动—广东沿海地区
  - C. 登山运动—东北平原
  - D. 滑雪运动—东北山地
7. 下列农作物主要分布在我国南方地区的是 ( )
  - A. 水稻
  - B. 小麦
  - C. 玉米
  - D. 大豆
8. 地理与日常生活密切相关，下列选项中不正确的是 ( )
  - A. 日本人喜欢吃鱼
  - B. 新疆人爱吃羊肉抓饭
  - C. 南方地区房屋屋顶坡度大
  - D. 海南省普及冰上运动
9. 下列国家与特色地理活动或事物搭配，不正确的是 ( )
  - A. 巴西—足球
  - B. 西班牙—斗牛
  - C. 波兰—风车
  - D. 沙特阿拉伯—骆驼
10. 下列符合因地制宜、扬长避短原则的措施是 ( )
  - A. 围湖造田，增加粮食产量
  - B. 变草场为耕地，种植粮食
  - C. 林区放牧，发展畜牧业
  - D. 山区种植果树
11. 在沙特阿拉伯，一些旅店把床铺安排在屋顶上。这样做的原因是 ( )
  - A. 利于欣赏夜景
  - B. 人口密度大，房间有限
  - C. 降水少，屋顶是平的，方便住宿且晚上较凉爽
  - D. 为了避免大型野生动物的侵袭
12. 下列关于北极地区因纽特人住冰屋的说法，正确的是 ( )
  - A. 因纽特人特别耐寒
  - B. 为了体现民居特色
  - C. 建造冰屋是因纽特人适应环境的结果
  - D. 因纽特人喜欢住冰屋

13. “早穿皮袄午穿纱，围着火炉吃西瓜”反映的是 ( )
- A. 地形特征                      B. 气候特征  
C. 植被特征                      D. 水文特征
14. 玲玲来自海南省，她说的话可信的是 ( )
- A. 我们那儿的人喜欢游泳                      B. 我们经常到户外溜冰  
C. 我们那儿的传统民居是平顶的                      D. 春天，我们经常受到沙尘暴的侵袭
15. “风调雨顺，五谷丰登”说明气候对以下哪种活动影响较大？ ( )
- A. 日常生活                      B. 农业生产  
C. 交通运输                      D. 工业生产
16. 我国的青岛为夏季的避暑之地，影响青岛气候的因素是 ( )
- A. 纬度位置                      B. 海陆位置  
C. 地形                      D. 降水
17. 煤被人们称为“工业的粮食”。下列有关煤用途的叙述，不正确的是 ( )
- A. 取暖做饭                      B. 炼钢  
C. 发电                      D. 农作物肥料
18. 地理与人们的生活密切相关，以下词语与地理无关的是 ( )
- A. 风土人情                      B. 辨认方向  
C. 随心所欲                      D. 预报天气
19. 下列生产建设活动与海洋关系不大的是 ( )
- A. 航运                      B. 捕鱼  
C. 开采石油                      D. 种植水稻
20. 下列生产活动，符合因地制宜原则的是 ( )
- A. 内蒙古草原地区超载放牧                      B. 长江中下游地区种植水稻  
C. 生活在湖区的居民围湖造田                      D. 毁林开荒以扩大耕地面积

### 三、综合题 (共 35 分)

1. 将下列国家与其风土人情或物产连线。(8 分)

- |      |           |
|------|-----------|
| ①西班牙 | A. 风车、郁金香 |
| ②巴西  | B. 斗牛     |
| ③荷兰  | C. 樱花     |
| ④日本  | D. 桑巴舞    |

2. 请将下列地理学家与他们的突出贡献连线。(10 分)

- |      |                 |
|------|-----------------|
| ①李四光 | A. 中国物候学的创始人    |
| ②竺可桢 | B. 系统研究了我国的岩溶地貌 |
| ③徐霞客 | C. 对我国河流进行了深入研究 |
| ④郿道元 | D. 大陆漂移学说的创始者   |
| ⑤魏格纳 | E. 创立了地质力学      |

3. 下面是几个同学根据“地理与生活”联想到的一系列事物和现象，请你读后结合自己的生活经验或体会，任意举出两个“地理与生活”的例子。(6 分)

A: 明天降温，我们应适当增加衣服。

B: 电视上的阿拉伯男子习惯穿白色长袍。

C: 外出旅游需要有一幅地图。

我知道的例子:

D: \_\_\_\_\_。

E: \_\_\_\_\_。

4. 你家乡群众最喜欢的体育活动是什么？与地理环境有什么关系？(4 分)

5. 阅读下面的对话，回答问题。(7 分)

巴特尔：我家在内蒙古大草原上，为了发展经济，我们把草原开垦成耕地种粮食。结果事与愿违，粮食没长成，草却没了，土地也沙化了。

山杏：我家在山区，过去在山坡上种粮，收成很不好，家里很穷。现在改种果树了，每年收入明显增加，生活也富裕起来了。

(1) 以上两人的对话说明了什么道理？

(2) 请你列举几个运用地理知识搞好生产、生活的事例。



# 第一章第二节练习卷

(时间: 90 分钟 满分: 100 分)

## 一、填空题 (每空 1 分, 共 40 分)

1. 地图可分为\_\_\_\_\_地图和\_\_\_\_\_地图。自然地图包括\_\_\_\_\_图、\_\_\_\_\_图、\_\_\_\_\_图、\_\_\_\_\_图等, 社会经济地图包括\_\_\_\_\_图、\_\_\_\_\_图、\_\_\_\_\_图、\_\_\_\_\_图、人口分布图等。

2. 地图的三要素: \_\_\_\_\_、\_\_\_\_\_和\_\_\_\_\_。

(1) 地图上的方向: 阅读地图, 一定要学会辨别地图上的方向。一般来说, 地图上的方向有三种不同的表示方法。

①普通地图: 既没有指向标, 也没有经纬网的地图, 通常用“\_\_\_\_\_”的原则确定方向, 进一步确定东北、东南、西北、西南四个方向。

②指向标地图: 在有指向标的地图上要根据\_\_\_\_\_来确定方向, 指向标箭头一般指向\_\_\_\_\_, 与箭头相反的方向是\_\_\_\_\_, 垂直箭头方向的左侧是\_\_\_\_\_, 右侧是\_\_\_\_\_。

③经纬网地图: 在经纬网地图上用经线指示南北方向, 用纬线指示东西方向。

(2) 地图上的比例尺 (注意: 比例尺是个比值, 无单位):

①概念: 比例尺就是\_\_\_\_\_距离与\_\_\_\_\_距离之比。

②表示方式: \_\_\_\_\_、\_\_\_\_\_、\_\_\_\_\_。

③公式: \_\_\_\_\_。

(3) 牢记单位的换算: 1 米 = \_\_\_\_\_ 厘米; 1 千米 = 100 000 厘米。

(4) 比例尺的大小比较: 比例尺大小的含义是指比值的大小, 比例尺形式统一时, 直接比较大小, 形式不统一时, 先转化成统一形式再比较大小。对于数字式, 分母越大, 比例尺\_\_\_\_\_; 分母越小, 比例尺\_\_\_\_\_。对于线段式和文字式, 1 厘米代表的实地距离越大, 比例尺\_\_\_\_\_; 1 厘米代表的实地距离越小, 则比例尺\_\_\_\_\_。

(5) 比例尺的选择:

绘制地图时, 比例尺的大小选择与所绘地图的范围、内容有关系。图幅大小相等时, 比例尺越大, 反映的实地范围\_\_\_\_\_, 反映的地理事物越\_\_\_\_\_; 比例尺越小, 反映的实地范围\_\_\_\_\_, 反映的地理事物越\_\_\_\_\_。

(6) 不同形式的比例尺的转换:

数字式	文字式	线段式
1 : 100 000		
	图上 1 厘米代表实地距离 50 千米	

## 二、选择题 (每小题 2 分, 共 40 分)

题号	1	2	3	4	5	6	7	8	9	10
选项										
题号	11	12	13	14	15	16	17	18	19	20
选项										

1. 下面所列的四个比例尺中, 最小的是 ( )

- A. 图上 1 厘米代表实地距离 100 千米
- B. 1/50 000
- C. 五十万分之一
- D. 1 : 1 000 000

2. 一般情况下, 指向标指示的方向为 ( )

- A. 东方
- B. 西方
- C. 南方
- D. 北方

3. 下列四个图例中, 表示铁路的是 ( )

- A.
- B.
- C.
- D.

4. 下图中, 甲、乙、丙、丁代表的图例正确的是 ( )



- A. 甲—沼泽
- B. 乙—铁路
- C. 丙—长城
- D. 丁—公路

5. 四幅比例尺不同、图幅面积相同的地图, 以下比例尺地图所表示的内容最详细的是 ( )

- A. 1 : 40 000
- B. 1 : 400 000
- C. 1 : 4 000 000
- D. 1 : 400 000 000

6. 若下列四幅地图图幅面积相同, 那么比例尺最大的是 ( )

- A. 亚洲地图
- B. 中国地图
- C. 湖南省地图
- D. 怀化市地图

7. 如果在地图上量得两地间的直线距离为 2 厘米, 图上比例尺是 1 : 10 000 000, 算得两地间实地距离大约是 ( )

- A. 200 千米
- B. 10 千米
- C. 20 千米
- D. 20 000 000 千米

8. 下列选择地图的方法正确的是 ( )

- A. 去公园游览用交通图
- B. 去旅行用地形图
- C. 去勘察地形用政区图
- D. 确定国际时事发生地用政区图

9. 绘制学校规划图, 下列比例尺较为合适的是 ( )

- A. 1 : 500
- B. 1 : 50 000
- C. 1 : 100 000
- D. 1 : 15 000

10. 下列各项不属于地图要素的是 ( )





- A. 图例
- B. 方向
- C. 分层设色
- D. 比例尺

11. 某学校组织旅游团到峨眉山旅游, 为更好地游览峨眉山各景点, 他们应选择 ( )

- A. 中国旅游图
- B. 四川省旅游图
- C. 峨眉市交通图
- D. 峨眉山旅游图

得分: \_\_\_\_\_ 学号: \_\_\_\_\_ 姓名: \_\_\_\_\_ 班级: \_\_\_\_\_

12. 下列图例，描画错误的是 ( )

- A.  火山
- B.  高速公路
- C.  中国省、自治区、直辖市界
- D.  首都

13. 地图的种类很多，如地形图、旅游图、交通图、人口分布图、政区图等。阅读下面三个情境，分析这三位同学分别需要选择什么类型的地图 ( )

- ①登山队准备到郊外的山地进行越野活动，需要设计越野路线
- ②小强想找一找伊拉克的位置
- ③小明想去博物馆参观，博物馆离他家很远，他想查一查怎样乘车

- A. 交通图、世界政区图、地形图
- B. 地形图、城市交通图、人口分布图
- C. 水文图、人口分布图、城市交通图
- D. 地形图、世界政区图、城市交通图

14. 某幅地图的比例尺是 1 : 8 000 000，若比例尺缩小到原比例尺的一半，缩小后的地图比例尺是 ( )

- A. 1 : 4 000 000
- B. 图上 1 厘米代表实地距离 20 千米
- C. 1 : 16 000 000
- D. 1 : 24 000 000

15. 在 1 平方米的墙壁上绘制学校规划图，下列比例尺较为合适的是 ( )

- A. 两千分之一
- B. 1/1 100 000
- C. 图上 1 厘米代表实地距离 5 千米
- D. 1 : 15 000

16. 下列四幅地图的图幅大小相同，其中表示的内容最详细的是 ( )

- A. 南京市地图
- B. 江苏省地图
- C. 中国地图
- D. 世界地图

17. 外出旅游最常用的地图有 ( )

- ①导游图 ②地形图 ③政区图 ④交通图
- A. ②③
- B. ③④
- C. ①④
- D. ①②

18. 下列有关地图的叙述，正确的有 ( )

- ①在任何地图上都可以根据“上北下南，左西右东”来判别方向
- ②等高线地形图上，等高线在陡崖处出现重合
- ③有了地图，就可以知道图示范围内的地势高低起伏状况
- ④图幅相同的地图的比例尺大小不同，所表示的内容详略程度就不同
- A. ③④
- B. ①③
- C. ②④
- D. ①②

19. 下列表示中国省、自治区、直辖市界的图例是 ( )

- A. 
- B. 
- C. 
- D. 

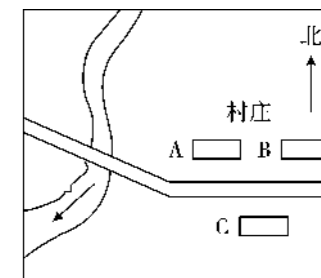
20. 将 1 : 3 000 000 的原图比例尺放大一倍或缩小一半，则放大或缩小后的新图上 1 厘米各代表的实地距离分别是 ( )

- A. 60 千米、15 千米
- B. 15 千米、60 千米
- C. 30 千米、60 千米
- D. 15 千米、30 千米

### 三、综合题 (共 20 分)

1. 右图是某地平面图。据图回答下列问题。(5 分)

- (1) 图中河流流向的总趋势是从\_\_\_\_\_流向\_\_\_\_\_。
- (2) 村庄 B 在村庄 A 的\_\_\_\_\_方向；村庄 C 分别在村庄 A、B 的\_\_\_\_\_方向和\_\_\_\_\_方向。



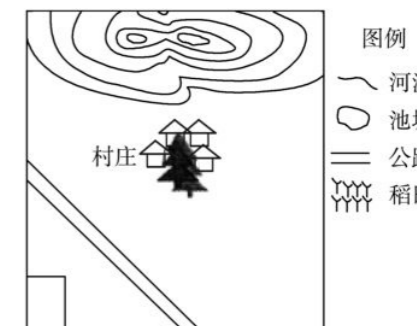
2. 阅读材料，回答下列问题。(5 分)

丽丽同学日记摘录：“我的家乡在一个偏僻的小山村，村的北面是一片连绵的山地。一条河流从山中流出，蜿蜒从西绕村庄向东南流去。村庄的东面，有一南北狭长的池塘，周围是大面积的稻田。村庄西南面距离村庄约 500 米处，一条干道公路自西北向东南斜穿而过，那是通向县城唯一的公路。”

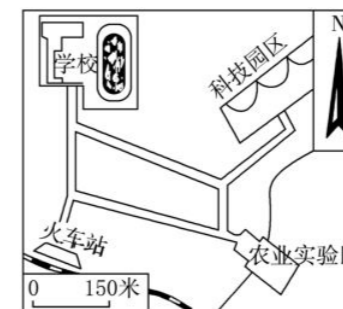
- (1) 在图的左下角方框中画出指向标。
- (2) 按照给出的图例，补画出材料中的画线内容。

(3) 该图比例尺最合适的是 ( )

- A. 1 : 500 000
- B. 1 : 50 000
- C. 1 : 10 000
- D. 1 : 100 000



3. 读下面某地区平面图，回答下列问题。(6 分)



- (1) 图中，学校在农业实验区的\_\_\_\_\_方向，科技园区在火车站的\_\_\_\_\_方向。
- (2) 沿公路从学校去科技园区，大约要走\_\_\_\_\_米。
- (3) 图中的比例尺是\_\_\_\_\_式比例尺，它表示\_\_\_\_\_，这个比例尺改为数字式比例尺表示，应是\_\_\_\_\_。

4. 根据你学到的地图知识，自己设计图例，画出医院、公园的位置。其中，医院在学校的正东方 600 米，公园在医院正南方向 300 米。(4 分)





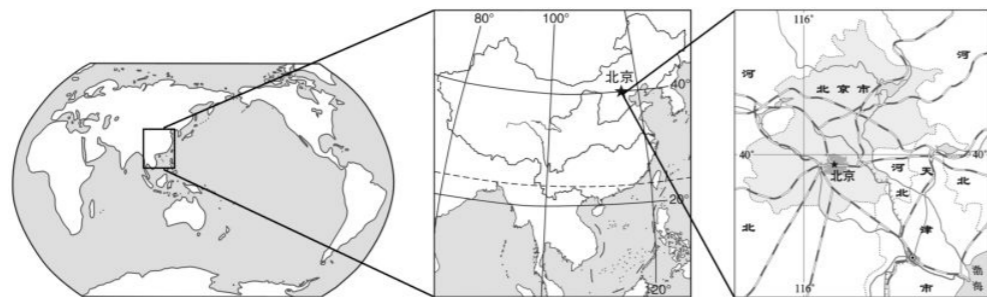
# 第一章测试卷

(时间: 90 分钟 满分: 100 分)

## 一、选择题 (每小题 2 分, 共 40 分)

题号	1	2	3	4	5	6	7	8	9	10
选项										
题号	11	12	13	14	15	16	17	18	19	20
选项										

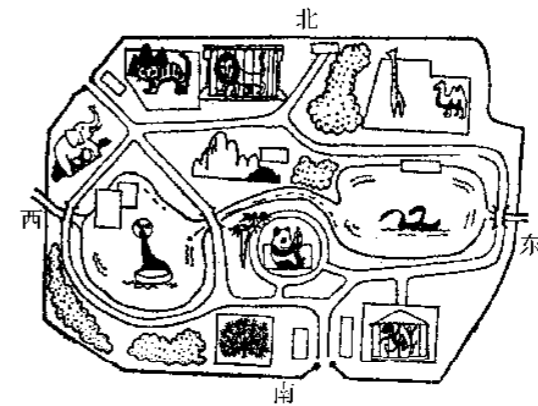
- 下列地图中, 属于社会经济地图的是 ( )  
A. 农业图      B. 气候图      C. 水文图      D. 地形图
- 下列语句, 能反映出地理与人们的日常生活密切相关的有 ( )  
①能进一步熟悉我们的生活环境    ②确认方位    ③知道天气变化    ④了解世界  
A. ①②③      B. ②③④  
C. ①③④      D. ①②③④
- 在比例尺为 1 : 5 000 的地图上, 量得甲、乙两地的直线距离是 4 厘米, 则两地的实地距离是 ( )  
A. 0.2 千米      B. 2 千米      C. 4 千米      D. 20 千米
- 通常, 在没有指向标和经纬网的地图上, 面对地图, 其上方是 ( )  
A. 北方      B. 南方      C. 西方      D. 东方
- 若下列各幅地图的图幅大小相同, 比例尺由小到大排列, 正确的是 ( )  
①世界地图    ②中国地图    ③湖南省地图    ④怀化市地图  
A. ④③②①      B. ④①③②      C. ①③②④      D. ①②③④
- 某地图比例尺为 1 : 25 000 000, 在图上量得两地间的距离是 2 厘米, 则这两地之间的实地距离是 ( )  
A. 5 千米      B. 50 千米  
C. 500 千米      D. 5 000 千米
- 下列地图中, 比例尺最大的是 ( )



- 甲      乙      丙
- A. 甲      B. 乙      C. 丙      D. 无法判断

- 下列四幅地图的图幅大小相同, 其中比例尺最小的一幅是 ( )  
A. 中国地形图      B. 北京市交通图  
C. 天津市旅游图      D. 亚洲政区图

下图是某动物园门口的一幅导游图。据图回答 9~10 题。



- 该图不属于一幅真正意义的地图, 因为它缺少地图应具备的某些基本要素, 所以在使用该图时, 你无法做到的是 ( )  
A. 辨别方向      B. 估算距离  
C. 确定自己的游览路线      D. 确定各种动物的位置
  - 该图没有标题, 如果由你来命名, 下列标题你认为最确切的是 ( )  
A. 动物园地图      B. 动物园地形图  
C. 动物园各种动物分布地图      D. 动物园各种动物分布示意图
  - 如果在地图上量得两地间的直线距离为 5 厘米, 其比例尺是 1 : 10 000 000, 则可算得两地间实地距离是 ( )  
A. 500 千米      B. 30 千米  
C. 50 千米      D. 50 000 000 千米
- 贝贝一家自驾车从所在城市到北京游览, 应该怎样选择地图? 据此回答 12~13 题。
- 为了保证顺利到达, 最适用的地图是 ( )  
A. 中国铁路交通图      B. 中国公路交通图  
C. 世界政区图      D. 中国地形图
  - 到达北京后, 他们想去游览北京的旅游景点, 需要查找 ( )  
A. 北京市地形图      B. 北京政区图  
C. 北京市导游图      D. 北京市交通图
  - 我国最东端到最西端的距离约 5 000 千米, 若按图上 1 厘米代表实地距离 500 千米的比例尺绘制地图, 那么图上的距离约为 ( )  
A. 5 厘米      B. 10 厘米      C. 15 厘米      D. 20 厘米
  - 泼水节是我国傣族的传统节日, 这类节日属于 ( )  
A. 生产建设      B. 风土人情  
C. 地区规划      D. 环境问题
  - 下列图例表示山峰的是 ( )  
A.      B.      C.      D.
  - 我国南方地区传统的交通工具是 ( )  
A. 船      B. 马车      C. 火车      D. 汽车
  - 我国蒙古族的主要风俗习惯之一是饮用 ( )  
A. 米酒      B. 果酒      C. 奶酒      D. 青稞酒

19. 下列四幅图是怀化市一同学在探究学习活动中绘制的正午日照图（分别选取不同季节的一天），你认为与夏季的正午日照最接近的是（ ）



20. “橘生淮南则为橘，生于淮北则为枳”反映的是（ ）  
 A. 气候与农业的关系  
 B. 地形与农业的关系  
 C. 气候与工业的关系  
 D. 地形与工业的关系

二、综合题（共 60 分）

1. 请将下列资源与其适宜开展的生产建设活动用直线连起来。（10 分）

- |       |      |
|-------|------|
| A. 海洋 | ① 航运 |
| B. 土地 | ② 建筑 |
| C. 森林 | ③ 放牧 |
|       | ④ 捕鱼 |
|       | ⑤ 伐木 |

2. 写出下列地理事象所在的国家名称。（6 分）



风车—（ ）



埃菲尔铁塔—（ ）



斗牛—（ ）

3. 下面是我国不同地区的两种建筑景观示意图。读图，回答下列问题。（6 分）



甲

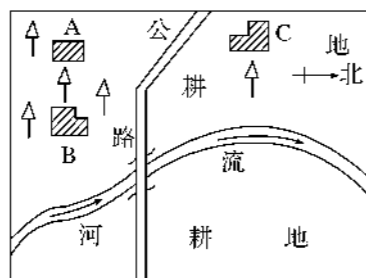


乙

(1) 甲图中的居民分布在我国的北方地区还是南方地区？平顶的房屋更节省材料，为何不将房屋设计成平顶的呢？\_\_\_\_\_。

(2) 乙图是我国陕北地区的窑洞，你知道当地居民住这种窑洞有什么好处吗？\_\_\_\_\_。

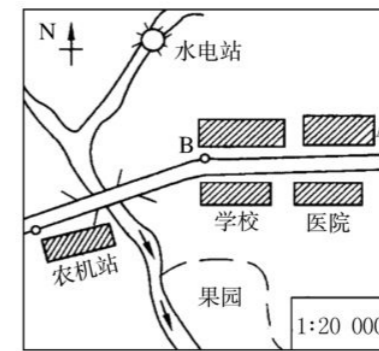
4. 读下边的某村平面图，回答下列问题。（6 分）



(1) 此图可用\_\_\_\_\_来辨别方向，图中 A 村在 B 村的\_\_\_\_\_方向。

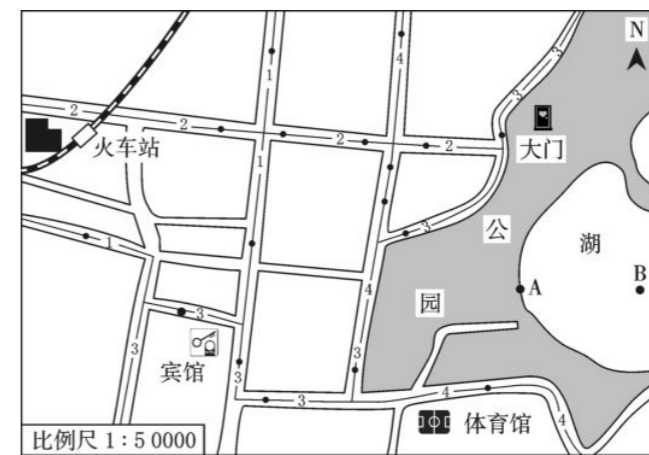
(2) 图中公路实地长度为 3 000 米，在图上量得其长度是 4 厘米，则该图比例尺为\_\_\_\_\_。（任写一种形式即可）

5. 读下图，回答下列问题。（22 分）



- 图中箭头所标示的小河的流向大致为：自\_\_\_\_\_向\_\_\_\_\_。
- 一辆汽车从学校驶向农机站，其行驶方向应是：从\_\_\_\_\_向\_\_\_\_\_。
- 水电站位于农机站的\_\_\_\_\_方向。水电站到农机站的直线距离约为\_\_\_\_\_千米。从 A 点到 B 点的直线距离约为\_\_\_\_\_千米。
- 如果将图中的指向标顺时针旋转 45°，那么，面对此图，其上、下、左、右的方向分别应为：\_\_\_\_\_、\_\_\_\_\_、\_\_\_\_\_、\_\_\_\_\_。

6. 读下图，回答下列问题。（10 分）



- 图中火车站在宾馆的\_\_\_\_\_方向。
- 量算一下宾馆到火车站的直线距离有多远？\_\_\_\_\_。
- 从宾馆到公园，选择哪条公交线路最好？并说明选择的理由：\_\_\_\_\_。
- 假如有一天刮东北风，那么湖中的船只从 A 处划到 B 处，是顺风还是逆风？\_\_\_\_\_。
- 如果划船保持 5 米/秒的速度，从 A 处到 B 处需要多少时间？\_\_\_\_\_。



## 第二章第一、二节练习卷

(时间: 90 分钟 满分: 100 分)

### 一、填空题 (每空 1 分, 共 40 分)

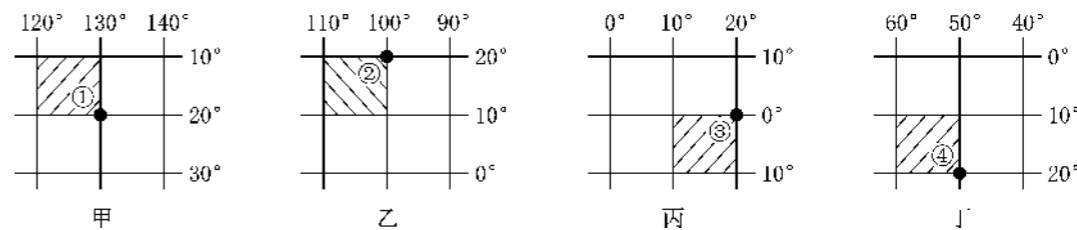
- 古人提出过许多关于天地关系的学说。中国比较早且有代表性的是\_\_\_\_\_和\_\_\_\_\_。
  - 地球的真实形状是一个\_\_\_\_\_、\_\_\_\_\_的不规则球体。
- 地球有多大: 赤道周长约为\_\_\_\_\_千米, 地球的平均半径约为\_\_\_\_\_千米, 地球的表面积约为\_\_\_\_\_平方千米。
- 赤道是指在与\_\_\_\_\_、\_\_\_\_\_距离相等的地方画的圆圈。赤道把地球平分成\_\_\_\_\_、\_\_\_\_\_两个半球。
- 纬线的特征: 都指示\_\_\_\_\_方向, 形状都是\_\_\_\_\_ (极点除外), 长度\_\_\_\_\_ , 其中最长的纬线是\_\_\_\_\_。从赤道向两极, 纬线的长度越来越\_\_\_\_\_。
- 经线的特征: 都指示\_\_\_\_\_方向, 形状都是\_\_\_\_\_ , 长度\_\_\_\_\_。
- 公转时的重要特征: 地球公转时地轴总与公转轨道平面保持\_\_\_\_\_度的夹角不变。
- 全球的海洋面积占世界海陆面积的\_\_\_\_\_%, 陆地占\_\_\_\_\_%, 所以人们常用“三分陆地, 七分海洋”粗略地说明海陆面积的比例。
- 概念: 大陆指\_\_\_\_\_ , 岛屿指\_\_\_\_\_ , 大洲是\_\_\_\_\_和它附近的岛屿的合称。
- 七大洲。
  - 按面积从大到小排列, 依次为: \_\_\_\_\_。
  - 世界上跨经度最多的大洲是\_\_\_\_\_ , 跨纬度最广的大洲是\_\_\_\_\_。
  - 亚洲和欧洲的大陆部分是一个整体, 称作\_\_\_\_\_大陆, 是地球上最大的大陆。
- 四大洋。
  - 世界上面积最大、最深、岛屿最多的大洋是\_\_\_\_\_ ; 最浅、最小的大洋是\_\_\_\_\_。
  - 第二大洋是\_\_\_\_\_ , 形状略呈“\_\_\_\_\_”形。
  - \_\_\_\_\_是世界上跨经度最多的大洋。
- 大洲之间的界线。
  - 亚洲和欧洲的分界线: \_\_\_\_\_山脉、乌拉尔河、里海、大高加索山脉、黑海、土耳其海峡。
  - 亚洲和非洲的分界线: \_\_\_\_\_运河 (沟通了\_\_\_\_\_海和地中海)。
  - 南美洲和北美洲的分界线: \_\_\_\_\_运河 (沟通了\_\_\_\_\_洋和大西洋)。
  - 亚洲和北美洲的分界线: \_\_\_\_\_。

### 二、选择题 (每小题 1 分, 共 20 分)

题号	1	2	3	4	5	6	7	8	9	10
选项										
题号	11	12	13	14	15	16	17	18	19	20
选项										

- 假如要给地球缝制一件外衣, 那么所需的布料应不少于 ( )
  - 5.1 亿  $\text{km}^2$
  - 5.1 亿  $\text{km}^3$
  - 5.7 亿  $\text{km}^2$
  - 5.1 亿 km
- 小赵和小普是好朋友, 他们有一个大胆的愿望, 两人以相同的速度, 从南极同时出发, 分别沿  $20^\circ\text{E}$  和  $20^\circ\text{W}$  经线一直向北旅行, 请你判断下列现象正确的是 ( )
  - 他们相遇在北极
  - 在赤道上他们的距离最远
  - 他们之间的距离始终保持一致
  - 最后他们可回到南极相会
  - ①②
  - ③④
  - ②③
  - ①④
- 地球自转产生了 ( )
  - 昼夜更替
  - 四季变化
  - 五带的形成
  - 南、北半球季节相反
- 由于地球是球体, 所以在海边有帆船从远方驶来, 总是先看到 ( )
  - 船身
  - 船头
  - 船尾
  - 桅杆
- 下列关于本初子午线的叙述, 错误的是 ( )
  - 本初子午线就是通过英国伦敦东南的格林尼治天文台旧址的经线
  - 本初子午线就是  $180^\circ$  经线
  - 本初子午线是东经和西经的分界线
  - 本初子午线就是  $0^\circ$  经线
- 我们每天看到的日月星辰东升西落现象是因为 ( )
  - 太阳和星星绕着地球转
  - 地球绕太阳自西向东转
  - 地球自西向东自转
  - 地球公转时, 地轴是倾斜的
- 地球载着地球的居民环绕太阳一周所用的时间是 ( )
  - 一年
  - 一个夏季
  - 24 小时
  - 一个月

读下图, 回答 8~9 题。



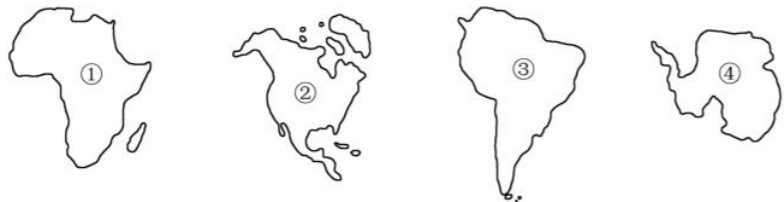
- 图中四地位于北京 ( $40^\circ\text{N}$ ,  $116^\circ\text{E}$ ) 的东南方向, 且经度差较小的是 ( )
  - ①
  - ②
  - ③
  - ④
- 在四幅图中阴影部分所表示的经纬网方格内, 面积最大的是 ( )
  - 甲
  - 乙
  - 丙
  - 丁

10. 某点以西是西半球，以东是东半球，以南是南半球，以北是北半球，则该点位于 ( )  
 A.  $0^{\circ}, 0^{\circ}$       B.  $0^{\circ}, 180^{\circ}$       C.  $0^{\circ}, 160^{\circ}\text{E}$       D.  $0^{\circ}, 20^{\circ}\text{W}$

11. 我们居住的星球之所以叫地球，你认为理由应该是 ( )  
 A. 地球表面 70.8% 是海洋      B. 地球表面 29.2% 是陆地  
 C. 人们生活在陆地上      D. 海洋对我们的影响太小

12. 下列大洲中，不位于北冰洋沿岸的是 ( )  
 A. 北美洲      B. 欧洲      C. 大洋洲      D. 亚洲

13. 下列四个大洲中，表示南美洲的是 ( )



A. ①      B. ②      C. ③      D. ④

14. 亚洲和非洲的分界线是 ( )  
 A. 苏伊士运河      B. 巴拿马运河  
 C. 乌拉尔河      D. 大高加索山脉

15. 下列关于海洋的叙述，正确的是 ( )  
 A. 太平洋位于亚洲、非洲、南美洲和北美洲之间  
 B. 印度洋分布在东半球，位于亚洲、欧洲和非洲之间  
 C. 北冰洋介于亚洲、欧洲和北美大陆北岸之间  
 D. 大西洋完全位于西半球

16. 七大洲中，符合面积由大到小排序的是 ( )  
 A. 亚洲、非洲、欧洲、北美洲      B. 亚洲、南极洲、非洲、北美洲  
 C. 北美洲、南美洲、亚洲      D. 亚洲、非洲、南美洲

17. 纬度位置最高、跨经度最多的大洲和大洋分别是 ( )  
 A. 亚洲、太平洋      B. 北美洲、大西洋  
 C. 南极洲、北冰洋      D. 欧洲、印度洋

18. 被五个大洲包围的大洋有 ( )  
 A. 大西洋、印度洋      B. 太平洋、大西洋  
 C. 北冰洋、大西洋      D. 太平洋、印度洋

19. 下列有关世界海陆分布的叙述，正确的是 ( )  
 A. 无论是北半球还是南半球，都是海洋面积所占比重重大  
 B. 赤道穿过的大洲有亚洲、非洲和北美洲  
 C. 七大洲中，北美洲是唯一全部位于北半球的洲  
 D. 北回归线穿过的大洲有欧洲、非洲、亚洲、北美洲

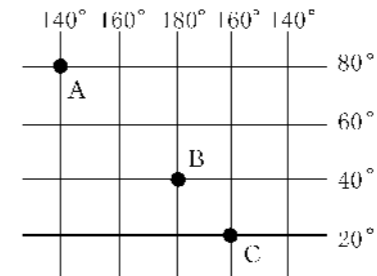
20. 下列各组地理事物，均为大洲分界线的是 ( )  
 A. 苏伊士运河、京杭运河  
 B. 苏伊士运河、巴拿马运河  
 C. 土耳其海峡、霍尔木兹海峡  
 D. 乌拉尔山脉、阿尔卑斯山脉

### 三、综合题 (共 40 分)

1. 根据所学知识，填写下表。(6 分)

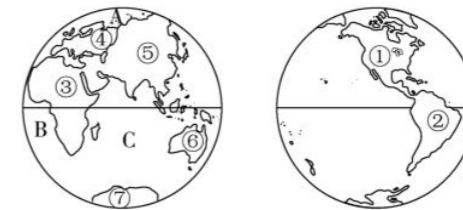
地球的运动	绕转中心	方向	周期	产生的自然现象
地球的自转	地轴			
地球的公转	太阳			

2. 读下面经纬网图，回答下列问题。(10 分)



- 写出图中 A、B、C 三点的经纬度。  
 A \_\_\_\_\_, B \_\_\_\_\_, C \_\_\_\_\_。
- A、B、C 三点中，按东西半球划分，位于东半球的是 \_\_\_\_\_，位于西半球的是 \_\_\_\_\_；位于中纬度的是 \_\_\_\_\_。
- 图中 B 点位于 C 点的 \_\_\_\_\_ 方向。
- 1884 年国际经度会议决定，以通过 \_\_\_\_\_ 格林尼治天文台旧址的经线作为  $0^{\circ}$  经线，又称作 \_\_\_\_\_ 线。

3. 读下面世界海陆分布示意图，回答下列问题。(24 分)



- 填出上图中数码所代表的大洲名称：① \_\_\_\_\_，④ \_\_\_\_\_，⑥ \_\_\_\_\_，⑦ \_\_\_\_\_。  
 我国位于 \_\_\_\_\_ 洲。
- 将图中字母所代表的大洋的名称填写在下列横线上。  
 A \_\_\_\_\_，B \_\_\_\_\_，C \_\_\_\_\_。
- 四大洋中面积最大的是 \_\_\_\_\_；介于五大洲之间的大洋是 \_\_\_\_\_ 和 \_\_\_\_\_；跨经度最多的大洋是 \_\_\_\_\_。
- 七大洲中面积最大的是 \_\_\_\_\_；同在一个大陆的大洲是 \_\_\_\_\_ 和 \_\_\_\_\_。
- 就东、西半球来说，陆地主要分布在 \_\_\_\_\_ 半球；就南、北半球来说，陆地主要分布在 \_\_\_\_\_ 半球。
- ①⑤ 大洲的分界线为 \_\_\_\_\_；①② 大洲的分界线为 \_\_\_\_\_；④⑤ 大洲的分界线为 \_\_\_\_\_、\_\_\_\_\_、里海、\_\_\_\_\_、黑海、土耳其海峡；③⑤ 大洲的分界线为 \_\_\_\_\_；③④ 大洲的分界线为 \_\_\_\_\_ 和地中海。



## 第二章第三、四节练习卷

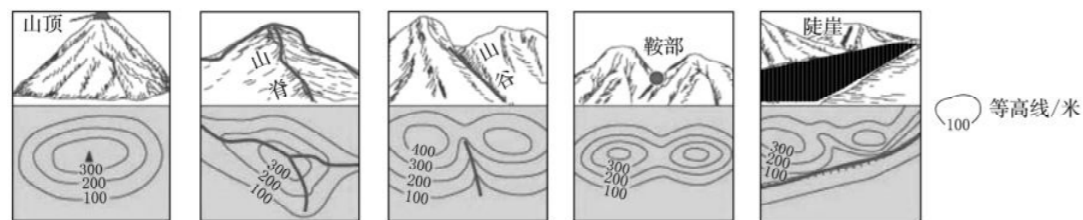
(时间: 90 分钟 满分: 100 分)

### 一、填空题 (每空 1 分, 共 50 分)

#### (一) 陆地地形和海底地形

- 人们通常把陆地上的地形分为\_\_\_\_\_、高原、山地、丘陵和盆地五种基本类型。
- 高度的表示方法有\_\_\_\_\_和海拔两种, 其中海拔指的是地面某一个地点高出\_\_\_\_\_的垂直距离; 相对高度是指地面某个地点高出\_\_\_\_\_的垂直距离。在地图上用\_\_\_\_\_表示地面起伏的大小。
- 五种基本地形的特点。  
平原海拔较\_\_\_\_\_, 地表\_\_\_\_\_; 高原海拔较\_\_\_\_\_, 地表\_\_\_\_\_, 边缘\_\_\_\_\_; 山地海拔较\_\_\_\_\_, 坡度\_\_\_\_\_; 丘陵海拔较\_\_\_\_\_; 盆地周围\_\_\_\_\_, 中间\_\_\_\_\_。
- 陆地上的山脉主要有两大山脉带: 一是太平洋沿岸山脉带, 二是\_\_\_\_\_的山脉带。
- 海底地形包括\_\_\_\_\_, \_\_\_\_\_、海沟、大洋中脊、洋盆等。

#### (二) 学看地形图



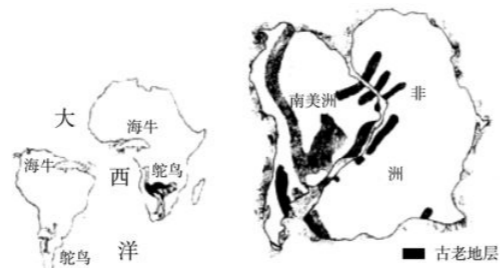
- 概念: 等高线指的是将\_\_\_\_\_相等的点连接成的线。等高距指两条相邻等高线之间的\_\_\_\_\_差。
- 等高线上的数值为海拔, 单位为米, 数值越\_\_\_\_\_, 即海拔越高。
- 陡坡和缓坡的等高线区别: 等高线稀疏的地方表示的是\_\_\_\_\_坡, 等高线稠密的地方表示的是\_\_\_\_\_坡。

#### (三) 大陆漂移假说和板块构造学说

- 地球表面形态处于永不停息的\_\_\_\_\_与变化之中。
- 大陆漂移假说: 20 世纪初由德国科学家\_\_\_\_\_提出。他认为, 地球上原先只有一块叫“\_\_\_\_\_”的庞大陆地, 被叫作“\_\_\_\_\_”的广袤海洋所包围。后来原始大陆分裂成几块陆地, 缓慢地漂移分离, 逐渐形成了今天\_\_\_\_\_、\_\_\_\_\_的分布状况。地球科学研究表明, 大陆漂移是由板块运动引起的。

#### 3. 大陆漂移假说证据。(见右图)

- 古老地层分布的相似性。
- 两块大陆上古生物化石的相似性。在巴西和南非均找到了恐龙类动物化石, 这表明恐龙生活的时代, \_\_\_\_\_和\_\_\_\_\_是连在一起的。



海牛、鸵鸟在非洲和南美洲的分布 古地层分布的相似性

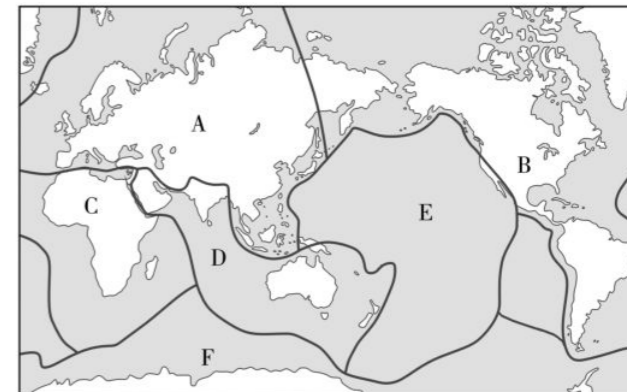
海牛栖息在热带浅海环境中, 鸵鸟生活在陆地上, 它们都不会飞, 按理它们没有远涉大

洋的能力, 却分布在两块大陆上。这说明非洲大陆和南美大陆曾是紧密相连的整体。后来又有一些证据证明大陆漂移假说的正确性:

- 根据测量, \_\_\_\_\_洋在扩张, 太平洋在收缩。
- 红海在扩张, 地中海在收缩。

#### 4. 板块构造学说。[六大板块分布示意图 (见右图)]

- 地球岩石圈由\_\_\_\_\_大板块组成, 即 A \_\_\_\_\_ 板块、B \_\_\_\_\_ 板块、C \_\_\_\_\_ 板块、D \_\_\_\_\_ 板块、E \_\_\_\_\_ 板块和 F \_\_\_\_\_ 板块。其中\_\_\_\_\_板块几乎全部是海洋。
- 一般来说, 板块内部地壳比较\_\_\_\_\_; 板块与板块交界的地带, 有的\_\_\_\_\_, 有的碰撞挤压, 地壳比较活跃, \_\_\_\_\_和地震活动频繁。
- 证据: a. 地中海在不断缩小, 因为\_\_\_\_\_板块与非洲板块碰撞挤压。  
b. 东非大裂谷不断扩张, 因为\_\_\_\_\_板块与印度洋板块不断张裂拉伸。  
c. 喜马拉雅山脉是亚欧板块与\_\_\_\_\_板块碰撞挤压形成的。



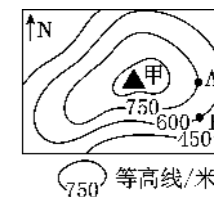
#### 5. 火山和地震。

- 地球上的两大火山地震带: \_\_\_\_\_火山地震带和横贯\_\_\_\_\_南部到亚洲的阿尔卑斯—喜马拉雅火山地震带。
- 这些地方多火山、地震的原因是: \_\_\_\_\_。
- 世界上火山最多的国家是\_\_\_\_\_。

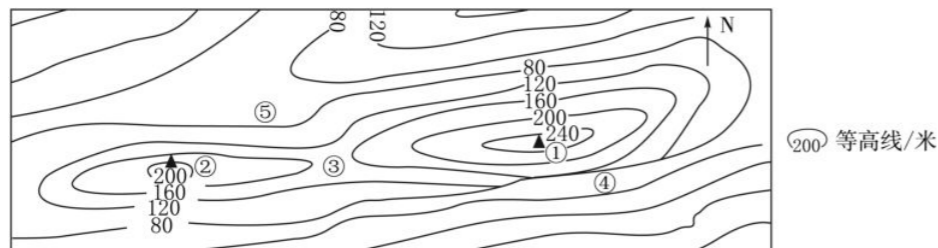
### 二、选择题 (每小题 1 分, 共 20 分)

题号	1	2	3	4	5	6	7	8	9	10
选项										
题号	11	12	13	14	15	16	17	18	19	20
选项										

- 下列关于地形类型的叙述, 正确的是 ( )
  - 平原与高原的共同点是地表起伏较小
  - 山地与丘陵的共同点是海拔多在 500 米以上
  - 盆地四周多被山地或高原环绕, 中部一定是平原
  - 相对高度小, 而绝对高度大的地形是平原
- 世界上最长的山脉是 ( )
  - 亚洲的喜马拉雅山脉
  - 南美洲的安第斯山脉
  - 欧洲的阿尔卑斯山脉
  - 中国的大兴安岭
- 右图中 A、B 两地的相对高度是 ( )
  - 150 米
  - 200 米
  - 300 米
  - 400 米
- 下列对五种陆地基本地形特征的叙述, 正确的是 ( )
  - 地表平坦的一定是平原
  - 地表连绵起伏的一定是山地
  - 高原相对高度大, 但海拔低
  - 盆地是四周高、中间低的地形



5. 某种地形是陆地向海洋的自然延伸部分, 坡度较缓, 水深一般在 200 米以内。这种地形是 ( )  
 A. 洋盆 B. 大陆架 C. 大陆坡 D. 海沟
6. 在等高线地形图上, 等高线重合的地方所代表的地形是 ( )  
 A. 山地 B. 盆地 C. 缓坡 D. 陡崖
7. 下列关于等高线的说法, 正确的是 ( )  
 A. 等高线上的数值是指相对高度 B. 等高线闭合的地方一定是山顶  
 C. 等高线密集的地方, 坡度陡 D. 等高线向高处凸出的地方是山脊
8. 下列地图中, 能够最直观地表示地势高低起伏状况的是 ( )  
 A. 等高线地形图 B. 地形剖面图 C. 分层设色地形图 D. 平面示意图
9. 下列不属于海底地形的是 ( )  
 A. 洋盆 B. 盆地 C. 大陆坡 D. 海沟
10. 下图是某地的等高线地形图。下列描述正确的是 ( )



- A. ④处为陡崖 B. ①处比②处海拔低 C. ⑤处是山脊 D. ③处为盆地
11. “沧海桑田”这个成语说明了 ( )  
 A. 地形是静止不动的 B. 地形是不断变化的  
 C. 农田不能变成大海 D. 高山是永恒不变的
12. 根据大陆漂移假说, 目前仍在不断扩张的大洋是 ( )  
 A. 太平洋 B. 印度洋 C. 大西洋 D. 北冰洋
13. 下列关于地球上海陆轮廓形成的叙述, 符合大陆漂移假说理论的是 ( )  
 A. 地球上七大洲、四大洋的分布是由原始大陆分裂、缓慢漂移分离形成的  
 B. 大地十分坚固、稳定, 海陆轮廓自古就是这样  
 C. 地壳是一个整体, 不能够移动  
 D. 全球的大陆是漂浮在海面上的, 所以大陆在海浪的推动下处于不断运动之中
14. 北宋沈括在《梦溪笔谈》中记载: 在太行山中考察时, 发现很多海藻、海螺等海洋生物化石。这说明 ( )  
 A. 太行山是从古老的大海里升起来的 B. 太行山今后将从陆地变成海洋  
 C. 古老的海藻、海螺原本是生活在陆地上的 D. 海洋生物演化过程中自行爬到山上
15. 地球上, 造成海陆变迁的主要因素是 ( )  
 A. 人类活动对地表的改造 B. 气候的变化对地表的影响  
 C. 人类的主观臆想 D. 地壳的变动和海平面升降
16. 下列关于大陆漂移假说的叙述, 正确的是 ( )  
 A. 大陆漂移假说是德国地球物理学家莫霍提出来的  
 B. 大陆漂移假说认为海陆分布状况将来要发生变动  
 C. 大陆漂移假说认为海底地壳稳定  
 D. 大陆漂移假说认为大西洋面积在不断缩小
17. 关于东非大裂谷, 下列说法不正确的是 ( )  
 A. 板块张裂运动造成的 B. 板块碰撞挤压造成的  
 C. 裂谷将成为新的大洋 D. 裂谷中多火山和地震
18. 下列关于日本多火山、地震的解释, 正确的是 ( )  
 A. 日本位于亚欧板块与美洲板块的交界地带  
 B. 日本位于亚欧板块与太平洋板块的交界地带

- C. 日本位于亚欧板块与印度洋板块的交界地带  
 D. 日本位于亚欧板块与非洲板块的交界地带
19. 下列地区位于火山地震带的是 ( )  
 A. 南极洲大陆 B. 南、北美洲东海岸  
 C. 欧洲地中海沿岸 D. 亚洲北冰洋沿岸
20. 澳大利亚大陆属于 ( )  
 A. 亚欧板块 B. 印度洋板块 C. 太平洋板块 D. 南极洲板块

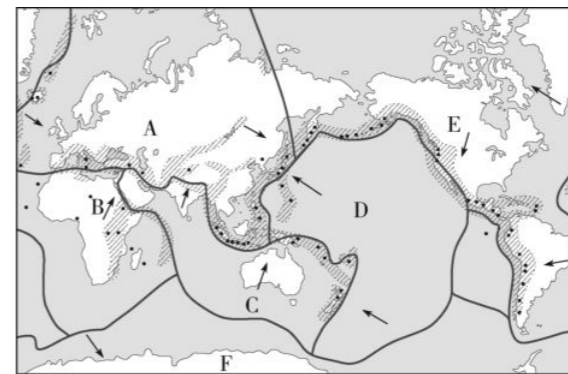
### 三、综合题 (共 30 分)

1. 请将下列地形与其对应的叙述连线。(4 分)

- A. 海拔较低、地面平坦、起伏较小  
 B. 海拔 500 米以上, 坡度较陡、地面崎岖  
 C. 海拔较高、起伏较小、边缘陡峻  
 D. 海拔较低、崎岖不平, 相对高度低于 200 米

- ①山地  
 ②丘陵  
 ③平原  
 ④高原

2. 读下面六大板块示意图, 回答下列问题。(9 分)



(1) 由坚硬岩石组成的地球表层, 并非整体一块, 而是分成\_\_\_\_\_大板块。它们是: A \_\_\_\_\_ 板块, B \_\_\_\_\_ 板块, C \_\_\_\_\_ 板块, D \_\_\_\_\_ 板块, E \_\_\_\_\_ 板块, F \_\_\_\_\_ 板块。

(2) 六大板块是不断\_\_\_\_\_的。当板块运动时, 地表分属不同板块的大陆, 便出现\_\_\_\_\_现象。

3. 读下列材料, 回答问题。(17 分)

- ①科学家发现台湾海峡海底有古河床遗迹, 海底地层中也发现有森林植物化石。  
 ②科学家在喜马拉雅山上找到了海洋生物化石, 现在喜马拉雅山还在不断地上升, 只不过上升的速度太慢, 不易被人们觉察罢了。  
 ③公元 79 年意大利维苏威火山突然爆发, 将附近的两座小城——庞贝和斯塔比亚全部埋在火山灰下。火山也给人类带来一些财富……

(1) 以上材料说明了什么现象?

(2) 请你再举出一个具有以上材料①②中变迁的例证。

(3) 用所学知识说明喜马拉雅山脉还在不断上升的原因。

(4) 根据材料③补充火山给人类带来的财富。

(5) 如果你遇到地震, 你将采取哪些措施?

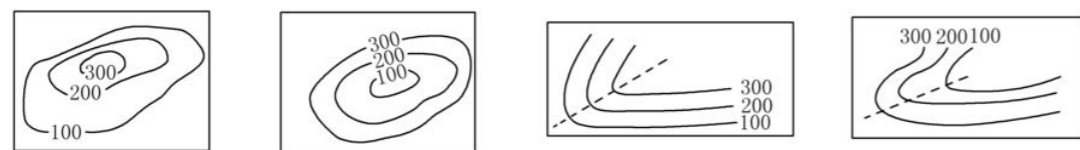



# 第二章测试卷

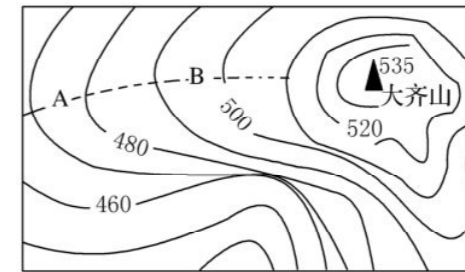
(时间: 90 分钟 满分: 100 分)

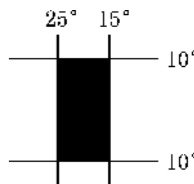
## 一、选择题 (每小题 2 分, 共 40 分)

题号	1	2	3	4	5	6	7	8	9	10
选项										
题号	11	12	13	14	15	16	17	18	19	20
选项										

- 一个人要想在最短时间内跨越所有的经线, 他应选择的地点是 ( )  
A. 0°纬线上 B. 0°经线上 C. 北纬 80° D. 南极点
- 在分层设色地形图上, 绿色一般代表 ( )  
A. 平原 B. 山地 C. 高原 D. 丘陵
- 1519—1522 年, 首次实现人类环球航行, 从而证实地球形状的船队是 ( )  
A. 麦哲伦 B. 哥伦布 C. 库克 D. 郑和
- 下列描述表示相对高度的是 ( )  
A. 学校教学楼高 20 米 B. 死海海拔 -415 米  
C. 珠穆朗玛峰海拔 8 844.43 米 D. 岳麓山海拔 300.8 米
- 珠穆朗玛峰海拔约 8 844 米, 攀登珠峰的大本营海拔约 5 200 米, 珠峰与大本营的相对高度是 ( )  
A. 8 844 米 B. 3 644 米 C. 5 200 米 D. 14 044 米
- 下列等高线 (单位: 米) 图中, 表示盆地的是 ( )  

- 下面四幅图中, 地球自转方向正确的是 ( )  

- 下列关于地球形状的描述, 正确的是 ( )  
A. 天圆地方 B. 天如斗笠, 地如覆盘  
C. 地球是正圆形的 D. 地球是一个两极稍扁、赤道略鼓的不规则球体

- 地球上最大的纬线圈是 ( )  
A. 北极点 B. 赤道  
C. 23.5°纬线圈 D. 南回归线
- 下列海陆变迁不是由地壳运动引起的是 ( )  
A. 香港填海造陆 B. 红海的形成  
C. 大西洋的形成 D. 喜马拉雅山脉的形成
- 在等高线地形图上, 等高线从低处向高处凸出, 可以判定该地形为 ( )  
A. 山谷 B. 盆地 C. 陡崖 D. 山脊
- 板块构造学说认为 ( )  
A. 地球的岩石圈由五大板块拼合而成 B. 板块交界地带是世界主要火山、地震分布带  
C. 板块内部稳定, 不可能再分成小块 D. 板块都处于静止状态
- 读下面某地等高线 (单位: 米) 地形图, 图中虚线 AB 表示 ( )



- 读下面某地等高线 (单位: 米) 地形图, 图中虚线 AB 表示 ( )  
A. 山脊 B. 山谷 C. 鞍部 D. 山顶
- 下列关于右图经纬网中阴影部分的描述, 不正确的是 ( )  

- 被四个大洲包围的大洋是 ( )  
A. 大西洋 B. 太平洋 C. 北冰洋 D. 印度洋
- 下列关于经纬线的说法, 正确的是 ( )  
A. 赤道是最长的经线  
B. 本初子午线是南、北半球的分界线  
C. 20°W, 160°E 组成的经线圈是东、西半球分界线  
D. 经线指示东西方向
- 某点以东是西半球, 以西是东半球, 以北是北半球, 以南是南半球, 该点是 ( )  
A. 纬度 0°, 经度 0° B. 纬度 0°, 经度 180°  
C. 纬度 0°, 160°E D. 纬度 0°, 20°W
- 六大板块之中, 几乎全部是海洋的是 ( )  
A. 太平洋板块 B. 印度洋板块  
C. 大西洋板块 D. 北冰洋板块
- 面积最大的大洋和面积最小的大洲分别是 ( )  
A. 大西洋、欧洲 B. 太平洋、大洋洲  
C. 印度洋、非洲 D. 北冰洋、南美洲
- 产生太阳东升西落现象的原因是 ( )  
A. 地球的公转 B. 地球的自转  
C. 太阳的公转 D. 太阳的自转

得分:

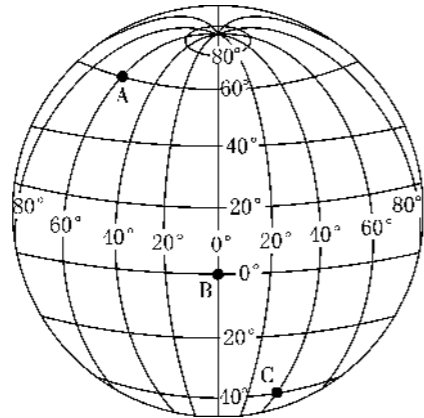
学号:

姓名:

班级:

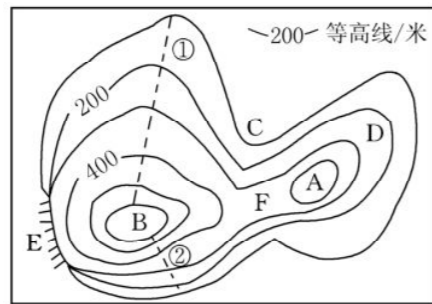
二、综合题 (共 60 分)

1. 读下图, 回答下列问题。(12 分)



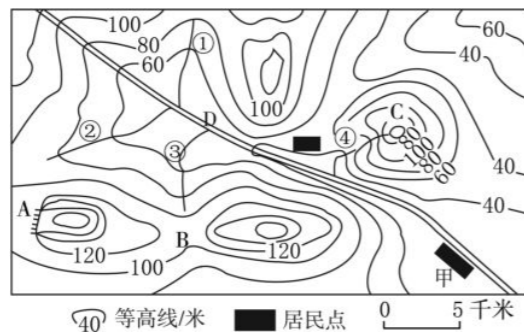
- 指出图中 A、B、C 三地的地理位置: A \_\_\_\_\_ (纬度), \_\_\_\_\_ (经度); B \_\_\_\_\_ (纬度), \_\_\_\_\_ (经度); C \_\_\_\_\_ (纬度), \_\_\_\_\_ (经度)。
- 在图中 A、B、C 三地中, 位于南、北半球分界线上的是 \_\_\_\_\_ 地, 位于东半球的是 \_\_\_\_\_ 和 \_\_\_\_\_ 地, 位于西半球的是 \_\_\_\_\_ 地。
- A 地位于 C 地的 \_\_\_\_\_ 方向, C 地位于 B 地的 \_\_\_\_\_ 方向。

2. 读下面某地等高线地形图, 回答下列问题。(9 分)



- A 山峰的海拔在 \_\_\_\_\_ 米以上。B 山峰的海拔在 \_\_\_\_\_ 米以上。
- 此图的等高距是 \_\_\_\_\_ 米。
- ①② 两坡中, 陡坡是 \_\_\_\_\_, 缓坡是 \_\_\_\_\_。
- C 地的地形名称是 \_\_\_\_\_, D 地的地形名称是 \_\_\_\_\_, E 地的地形名称是 \_\_\_\_\_, F 地的地形名称是 \_\_\_\_\_。

3. 读下面某地区等高线地形图, 回答下列问题。(7 分)



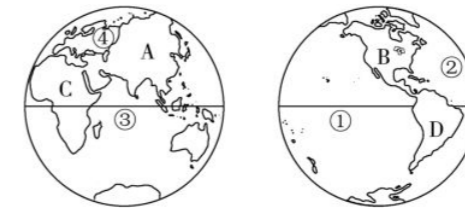
- 填写图中字母代表的地形部位名称: A \_\_\_\_\_, B \_\_\_\_\_。
- 有人认为 C 处是一座火山, 请你从图中找出支持这种说法的依据: \_\_\_\_\_。

(3) 图中河流干流 D 的大致流向是 \_\_\_\_\_; 本区的河流 ①②③④ 中, 河水流速最快的是 \_\_\_\_\_。

(4) 从改善生态环境的角度出发, 本区最适合大力发展的产业是 \_\_\_\_\_ ( )  
A. 畜牧业      B. 种植业      C. 渔业      D. 林业

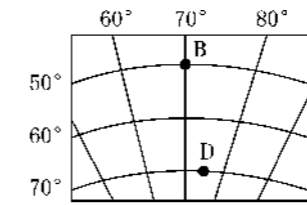
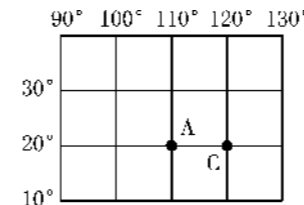
(5) 分析说明甲地居民点的形成条件: \_\_\_\_\_。

4. 读下面东、西半球图, 回答下列问题。(20 分)



- 跨经度最广的大洋是 \_\_\_\_\_ 洋, 其周围大洲中面积最小的是 \_\_\_\_\_ 洲。
- 本初子午线穿过的大洲是南极洲、\_\_\_\_\_ 洲和 \_\_\_\_\_ 洲。本初子午线与赤道的交点位于 \_\_\_\_\_ (填“东”或“西”) 半球。
- 世界最大的平原——亚马孙平原所在的大洲的字母代号是 \_\_\_\_\_, 该洲与 B 洲的界线是 \_\_\_\_\_。
- 德国科学家魏格纳从 \_\_\_\_\_ 洋的两岸大陆轮廓相似得到启示, 创立了大陆漂移假说。
- 我国是一个多地震的国家, 2016 年 5 月 18 日 00 时 48 分, 云南省大理州云龙县发生里氏 5.0 级地震, 震源深度 15 千米。地震发生时, 应采取哪些自救措施?

5. 读下面两幅经纬网图和有关信息, 回答下列问题。(12 分)



21 日 7 时, 台风“鲑鱼”的中心位置已经移至 (19.4°N, 117.5°E), 中心附近最大风力在 12 级以上

- 图中 D 地在 B 地的 \_\_\_\_\_ 方向。“鲑鱼”台风位于图中 \_\_\_\_\_ 地, A 地坐标是 \_\_\_\_\_。
- 图中四地中, 所在纬线最长的是 \_\_\_\_\_ 地, 属于寒带范围的是 \_\_\_\_\_ 地, 位于东半球的有 \_\_\_\_\_ 地。(填字母)
- 从南、北半球看, 图中 D 地位于 \_\_\_\_\_, A 地位于 \_\_\_\_\_。
- 图中四地中, 有阳光直射的是 \_\_\_\_\_ 地, 四季分明的是 \_\_\_\_\_ 地。
- 图中四地中, 位于中纬度的是 \_\_\_\_\_ 地, 位于高纬度的是 \_\_\_\_\_ 地。



# 第三章第一、二节练习卷

(时间: 90 分钟 满分: 100 分)

## 一、填空题 (每空 1 分, 共 40 分)

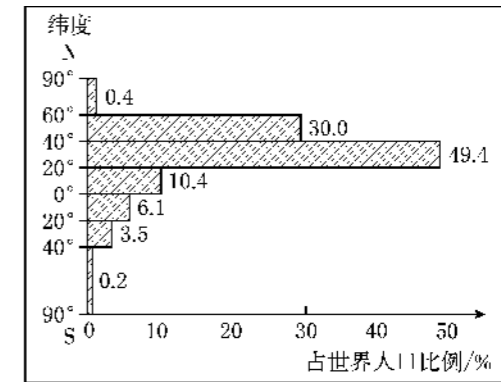
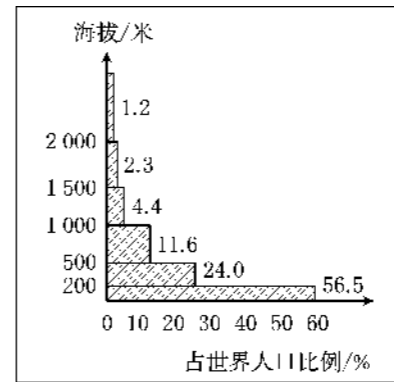
- 世界人口增长特点: 公元 1800 年以前, 人口增长得相当\_\_\_\_\_, 此后世界人口进入\_\_\_\_\_时期。到 1999 年 10 月 12 日, 世界人口总数突破\_\_\_\_\_大关。到 2011 年 10 月底, 世界人口总数突破\_\_\_\_\_。
- 人口增长速度加快的原因: \_\_\_\_\_。
- 人口的自然增长主要由\_\_\_\_\_和\_\_\_\_\_决定。
- (1) 一般来说, 经济发展水平高的国家 (发达国家), 人口的自然增长速度较\_\_\_\_\_; 经济发展水平低国家 (发展中国家), 人口的自然增长速度较\_\_\_\_\_。  
(2) 世界人口自然增长率最高的大洲是\_\_\_\_\_, 最低的大洲是\_\_\_\_\_。
- 世界人口绝大部分住在\_\_\_\_\_纬度的\_\_\_\_\_地带, 其中亚洲东部和\_\_\_\_\_部、欧洲\_\_\_\_\_部、北美洲和南美洲的\_\_\_\_\_部为人口稠密地区, 原因是这些地区位于气候\_\_\_\_\_、降水丰富的平原和盆地。
- 人口稀少的地区: \_\_\_\_\_、\_\_\_\_\_、\_\_\_\_\_、\_\_\_\_\_。
- 人口密度反映人口地理分布的\_\_\_\_\_程度, 单位是\_\_\_\_\_。
- 世界的人口问题。  
(1) 人口过多出现的问题: \_\_\_\_\_。  
(2) 人口过少出现的问题: \_\_\_\_\_等。
- 人口的增长应与\_\_\_\_\_、\_\_\_\_\_相协调, 与\_\_\_\_\_相适应。
- 根据人类的\_\_\_\_\_特征, 世界上的居民可分为三个主要人种。\_\_\_\_\_是人口最多的人种。  
(1) 黄色人种分布: 主要在亚洲的\_\_\_\_\_部, 美洲的\_\_\_\_\_和北冰洋沿岸的\_\_\_\_\_也属黄色人种。  
(2) 白色人种分布: 欧洲、\_\_\_\_\_洲、非洲\_\_\_\_\_部、亚洲\_\_\_\_\_部和南部及大洋洲。  
(3) 黑色人种分布: 非洲的\_\_\_\_\_部和南部。
- 划分人种的重要标志是\_\_\_\_\_。人种肤色大致由赤道向极地逐渐变\_\_\_\_\_。
- 由于历史原因, \_\_\_\_\_地区有一定数量的黑色人种。

## 二、选择题 (每小题 2 分, 共 40 分)


题号	1	2	3	4	5	6	7	8	9	10
选项										
题号	11	12	13	14	15	16	17	18	19	20
选项										

- 下列关于世界人口分布的叙述, 正确的是 ( )  
A. 人口稠密地区都位于发展中国家      B. 面积较大的平原都是人口稠密地区

- C. 人口自然增长率最高的洲是南美洲      D. 荒漠、极地、高山高原地区人口稀少
- 目前世界上人口自然增长率最低的洲是 ( )  
A. 大洋洲      B. 北美洲      C. 欧洲      D. 南美洲
- 2011 年 10 月底, 世界人口达到 ( )  
A. 50 亿      B. 60 亿      C. 70 亿      D. 13 亿
- 某国家 2008 年初共有 500 万人口, 该年内出生并成活婴儿 4.85 万, 死亡人口 5.2 万, 则该国 2008 年度的人口自然增长率为 ( )  
A. 0.35%      B. -0.07%      C. 0.7%      D. -0.35%
- 下列属于人口增长过快带来的问题是 ( )  
A. 劳动力短缺      B. 国防兵源不足  
C. 消耗更多的自然资源      D. 社会抚养老年人的负担加重
- 下列地区中, 属于人口稠密地区的有 ( )  
①亚洲的东部和南部    ②亚洲的南部和西部    ③欧洲的西部    ④北美洲的东部    ⑤非洲的北部  
⑥南美洲的亚马孙河流域    ⑦大洋洲  
A. ①③④      B. ②⑤⑥      C. ②③⑦      D. ③④⑥
- 世界上人口最多的国家是 ( )  
A. 印度      B. 巴基斯坦      C. 俄罗斯      D. 中国
- 人口大量进入城市将会带来的问题有 ( )  
①环境污染    ②交通拥挤、居住困难    ③绿地面积扩大    ④就业机会增多    ⑤供水紧张    ⑥犯罪率上升  
A. ①②④⑤      B. ①②③④⑤      C. ②③④⑥      D. ①②⑤⑥
- 下图是世界人口分布与海拔、纬度的关系统计图。下列关于世界人口分布与海拔、纬度关系的叙述, 正确的是 ( )



- A. 世界人口集中分布在海拔 500 米以上的地区  
B. 世界人口分布随海拔升高而增多  
C. 世界人口集中分布在 20°N~60°N 的平原地区  
D. 世界人口分布随纬度升高而减少
- 右边漫画《不堪重负的地球》反映了当前世界存在着严重的 ( )  
A. 环境问题      B. 人口问题  
C. 资源问题      D. 水污染问题
- 下列说法正确的是 ( )  
A. 黑色人种分布在整个非洲      B. 印第安人是黑色人种  
C. 因纽特人是黄色人种      D. 日本人是白色人种



不堪重负的地球

12. 黄色人种主要分布在 ( )
- A. 亚洲西部 B. 亚洲东部  
C. 欧洲 D. 拉丁美洲
13. 世界三大人种划分的依据是 ( )
- A. “高等”或“低等”的标准 B. 人类体质方面的特征  
C. 人们的风俗习惯、语言等 D. 居住地的自然环境
14. 分布在欧洲的人种主要是 ( )
- A. 白色人种 B. 黑色人种  
C. 黄色人种 D. 混血人种
15. 黑色人种主要分布在 ( )
- A. 亚洲东部 B. 非洲的中部和南部  
C. 欧洲和大洋洲 D. 北美洲和南美洲
16. 美洲的印第安人属于 ( )
- A. 白色人种 B. 黑色人种  
C. 混血人种 D. 黄色人种
17. 下列人种与其主要分布地区的组合, 正确的是 ( )
- A. 黑色人种—欧洲 B. 白色人种—非洲中部  
C. 黄色人种—亚洲西部 D. 混血人种—拉丁美洲
18. 从地理分布来看, 人种肤色大致由赤道向极地逐渐 ( )
- A. 变红 B. 变暗 C. 变紫 D. 变浅
19. 上海某公司专门为白色人种配方生产日用化妆品。你认为下列地区中, 该公司最佳的销售市场是 ( )
- A. 东南亚 B. 非洲中部  
C. 北美洲 D. 非洲南部
20. 洋洋学校来了一位高鼻梁、白皮肤、蓝眼睛的外籍老师, 洋洋想了解这位老师来自哪个国家。老师说: “我的祖国是世界上面积最大的国家。” 这位老师来自 ( )
- A. 加拿大 B. 俄罗斯 C. 日本 D. 印度

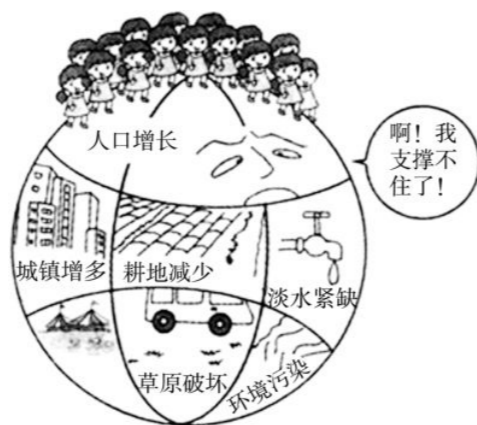
### 三、综合题 (共 20 分)

1. 阅读下列材料和漫画, 回答下列问题。(5 分)

**材料一** 1830 年世界人口仅有 10 亿, 1930 年增加到 20 亿, 1974 年为 40 亿, 1987 年为 50 亿, 1999 年为 60 亿, 2011 年达到 70 亿。按照近 20 年的人口增长速度, 世界上平均每年要增加 7 575 万人。

**材料二** 见右边漫画。

- (1) 材料一反映出世界人口增长速度\_\_\_\_\_。
- (2) 给漫画配上合适的名字: \_\_\_\_\_。漫画反映出的人口增长过快所带来的问题有\_\_\_\_\_等。
- (3) 我国在今后一段较长时期内, 人口总量还将持续增长, 因此, 我国政府把实行\_\_\_\_\_作为一项长期的基本国策。



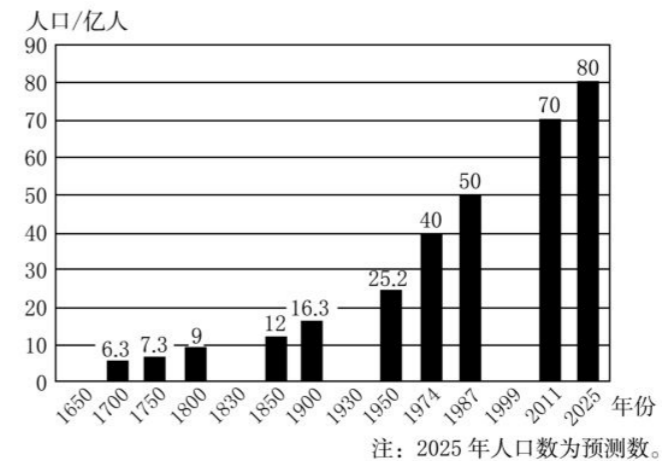
2. 根据图表和材料, 回答下列问题。(4 分)

**材料一** 公元 1800 年以前, 世界人口增长缓慢, 此后世界人口进入迅速增长时期。到 2011 年 10 月底, 世界人口总数已突破 70 亿大关。目前, 世界人口仍以较快的速度在持续增长。

**材料二** 世界人口统计数据表。

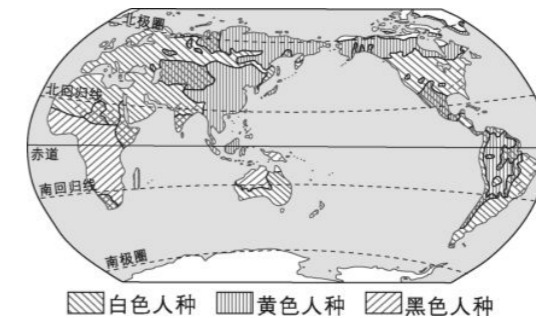
年份	1650	1700	1750	1800	1830	1930	1974	1987	1999	2011
人口/亿	5.5	6.3	7.3	9	10	20	40	50	60	70

(1) 根据材料二所提供的世界人口数据, 将下面世界人口增长柱状图补充完整。



- (2) 从材料一和所绘制的世界人口增长柱状图可以看出, 人口增长的特点是\_\_\_\_\_。
- (3) 某城市某年的人口出生率为 1.05%, 死亡率 0.61%, 该城市该年的人口自然增长率为\_\_\_\_\_。
- (4) 我国在今后一段较长时期内, 人口总量还将持续增长。因此, 实行\_\_\_\_\_政策, 控制人口数量, 提高人口质量, 是我国一项长期的基本国策。

3. 读下面世界人种分布图, 回答下列问题。(11 分)



- (1) 根据人类体质方面的特征, 世界上的居民可以分为\_\_\_\_\_、\_\_\_\_\_和\_\_\_\_\_三个主要人种。三大人种在世界上既有大范围的\_\_\_\_\_分布区, 又有小范围的\_\_\_\_\_分布。世界上所有的人种都是\_\_\_\_\_的, 没有优劣之分。
- (2) 白色人种主要分布在\_\_\_\_\_洲、\_\_\_\_\_洲北部、北美洲、亚洲的西部和南部及大洋洲等地。
- (3) 黄色人种主要分布在\_\_\_\_\_洲的东部。
- (4) 黑色人种主要分布在\_\_\_\_\_洲中部和南部。



# 第三章第三、四节练习卷



(时间: 90 分钟 满分: 100 分)

## 一、填空题 (每空 1 分, 共 25 分)

- 目前被联合国确定为工作语言的有: \_\_\_\_\_、\_\_\_\_\_、\_\_\_\_\_、\_\_\_\_\_、\_\_\_\_\_、\_\_\_\_\_。其中使用范围最广的语言是 \_\_\_\_\_, 使用人数最多的语言是 \_\_\_\_\_。
- 拉丁美洲地区, 巴西通用 \_\_\_\_\_ 语, 其他多数国家讲 \_\_\_\_\_ 语。西亚和北非通用 \_\_\_\_\_ 语。
- 世界三大宗教。
  - 基督教: 经典为《\_\_\_\_\_》, 是世界上信徒最 \_\_\_\_\_ 和流传最 \_\_\_\_\_ 的宗教, 教徒主要分布在 \_\_\_\_\_ 洲、\_\_\_\_\_ 洲和 \_\_\_\_\_ 洲。
  - 伊斯兰教: 经典为《\_\_\_\_\_》, 教徒主要分布在亚洲 \_\_\_\_\_ 部和东南部、非洲的北部和东部。教徒被称为 \_\_\_\_\_。
  - 佛教: 世界第三大宗教, 教徒主要分布在 \_\_\_\_\_ 洲, 在亚洲又集中分布于 \_\_\_\_\_、\_\_\_\_\_ 和南亚的斯里兰卡。
- 聚落的主要形式包括: \_\_\_\_\_ 和 \_\_\_\_\_。

## 二、选择题 (每小题 2 分, 共 40 分)

题号	1	2	3	4	5	6	7	8	9	10
选项										
题号	11	12	13	14	15	16	17	18	19	20
选项										

- 被伊斯兰教、基督教、犹太教都看作圣城的城市是 ( )
    - 开罗
    - 麦加
    - 麦地那
    - 耶路撒冷
  - 阿拉伯人多信仰 ( )
    - 基督教
    - 佛教
    - 伊斯兰教
    - 犹太教
- 读下图, 完成 3~4 题。



- 图中反映的仪式所属的宗教是 ( )
  - 基督教
  - 伊斯兰教
  - 佛教
  - 道教

- 这种宗教的教徒主要分布在 ( )
  - 西亚和北非
  - 东亚和东南亚
  - 日本
  - 欧洲、美洲和大洋洲
- 2016 年巴西举办了第 31 届夏季奥运会, 我国去采访报道的工作人员应该优先熟练掌握的语言是 ( )
  - 俄语
  - 葡萄牙语
  - 日语
  - 西班牙语
- 世界上信仰人数最多的宗教是 ( )
  - 伊斯兰教
  - 佛教
  - 道教
  - 基督教
- 目前, 许多工业区逐渐向城郊迁移, 最重要的原因是 ( )
  - 为了扩大城市规模
  - 为了保护城市环境
  - 为了疏散城市人口
  - 为了促进城市经济发展
- 下列关于聚落发展与保护的說法, 正确的是 ( )
  - 随着社会的发展, 聚落规模的不断扩大, 所有过去的一切旧的聚落建筑都应全部拆除, 建新的聚落建筑
  - 在城市与乡村的发展中, 所有旧的聚落建筑都要保存下来, 作为历史文化留作纪念
  - 处理好聚落发展与保护的关系, 是各个国家自己的事情, 与其他国家无关
  - 处理好聚落发展与保护的关系, 是全人类共同面临的问题
- 下列地理条件中有利于聚落形成的是 ( )
  - 地表崎岖, 资源贫乏
  - 交通闭塞, 联系不便
  - 气候恶劣, 荒漠广布
  - 土壤肥沃, 水源充足
- 利比亚位于非洲北部, 伊朗和叙利亚位于亚洲西部, 它们的共同特点是 ( )
  - 居民都是白色人种, 大多信奉基督教
  - 居民都是黑色人种, 大多信奉基督教
  - 居民都是黄色人种, 大多信奉伊斯兰教
  - 居民都是白色人种, 大多信奉伊斯兰教
- 世界上使用人数最多和流传最广的语言分别是 ( )
  - 汉语和俄语
  - 英语和俄语
  - 汉语和英语
  - 汉语和法语
- 假如你有机会去埃及旅游, 你听到当地居民所讲的语言是 ( )
  - 西班牙语
  - 英语
  - 阿拉伯语
  - 汉语
- 小丽到某地旅游, 她发现当地居民皮肤白皙, 头发多呈波状, 鼻梁细高, 嘴唇较薄。游览的过程中, 常见到尖顶的宗教建筑——教堂。小丽旅游的地方可能是 ( )
  - 非洲南部
  - 亚洲西部
  - 亚洲东部
  - 欧洲西部
- 于公元 7 世纪诞生于沙特阿拉伯的宗教是 ( )
  - 伊斯兰教
  - 基础教
  - 佛教
  - 印度教
- 下列关于城市和乡村聚落的叙述, 正确的是 ( )
  - 城市人口主要从事非农业产业活动
  - 乡村人口主要从事非农业产业活动
  - 乡村居民的居住状况相对拥挤
  - 城市居民的居住地相对分散

得分: \_\_\_\_\_ 弥  
学号: \_\_\_\_\_ 封  
姓名: \_\_\_\_\_ 线  
班级: \_\_\_\_\_