


Hao Qi Gou Pei Ni Xue
好奇狗陪你学

由易到难
循序渐进
赠送贴纸

数学2 启蒙游戏

[德] 好奇狗数学启蒙游戏团队 著

畅销欧洲
30年



浙江少年儿童出版社

图字：11—2015—259 号

图书在版编目(CIP)数据

数学启蒙游戏. 2/好奇狗数学启蒙游戏团队著;尤岚译. —杭州:浙江少年儿童出版社,2017. 1

(好奇狗陪你学)

ISBN 978-7-5342-9613-0

I. ①数… II. ①好…②尤… III. ①数学课-学前教育-教学参考资料 IV. ①G613.4

中国版本图书馆 CIP 数据核字(2016)第 275414 号

Title of the original German edition: Logli Lernspiele-Rechen-Rätsel für das 4. Schuljahr-Heft 2 © 2000 Loewe Verlag GmbH, Bindlach

责任编辑 刘迎曦

装帧设计 傅行鸣

美术编辑 成慕姣

责任校对 冯季庆

责任印制 阙云

好奇狗陪你学

数学启蒙游戏 2

SHUXUE QIMENG YOUXI 2

好奇狗数学启蒙游戏团队/著 尤岚/译

出版 浙江少年儿童出版社
发行 浙江少年儿童出版社
地址 杭州市天目山路 40 号
印刷 浙江新华印刷技术有限公司
经销 全国各地新华书店
开本 787×1092 1/16
印张 2
彩插 1
印数 1—10120
版次 2017 年 1 月第 1 版
印次 2017 年 1 月第 1 次印刷

本册书号:ISBN 978-7-5342-9613-0

本册定价:12.00 元

盒装书号:ISBN 978-7-5342-9611-6

盒装定价:156.00 元(全套 13 册)

(如有印装质量问题,影响阅读,请与购买书店或承印厂联系调换)

目录

归类	2
多米诺骨牌	3
数字1到9	4
数数1到10	5
得数为10的加法	6
去车站	7
10以内的加法	8
10以内的减法	9
图形观察	10
走格子	11
相邻数	12
找脚印	13
数数和计算：加法	14
数数和计算：减法	15
平均分	16
零花钱	17
20以内的加法	18
连线猜谜	19
比较大小	20
冠军的编号	21
区分数值	22
比较多少	23
两倍的食物	24
找东西	25
做习题	26
数字火箭	27
100以内的两位数	28
100以内的加减法	29
20以内的加减法	30
找错误	31
答案	32

亲爱的爸爸妈妈们：

数学是很多小朋友喜欢的科目，和好奇狗一起学习数学会带给您的孩子更多乐趣！

好奇狗数学启蒙游戏系列图书将数学和好玩的游戏相结合，帮助您的孩子尽快地步入奇妙的数学世界。本系列图书的内容相互独立，但都能为孩子提供丰富的内容和富有想象力的游戏，在游戏中激发他们对数字的敏感，锻炼他们的逻辑思维能力，提升他们的学习兴趣，让孩子尽情享受学习过程中的快乐。

好奇狗是孩子们的伙伴和好帮手，在书中他的提示会很好地指引孩子们独立完成学习任务。当然，如果您的孩子在学习遇到困难，您可以和孩子一起解决问题，给他一些帮助，让他能够持续地取得进步，这样才能培养出孩子的自信心。

现在就开始吧！



好奇狗数学启蒙游戏团队

【德】罗兰德·福尔克 (Roland Volk)


他是一位全身心投入到教育事业中的小学教师。在他看来，孩子们对学习的兴趣以及在学习中的乐趣至关重要。为此，他为本书设计出了许多有趣的练习题。



【德】安吉拉·魏因霍尔德 (Angela Weinhold)

她是一名优秀的插画家。除了为少儿图书绘制插图外，还为学校的教材设计了大量插图，这些插图能让孩子们的学习变得轻松和简单。





有9只鹦鹉藏在这本书里，你发现它们了吗？

小朋友：

你已经会数数了吗？

你喜欢画画吗？

你想知道，怎样变成算术大师吗？

快点拿上这本书，让我们现在就开始吧！当你出色地完成任务后，别忘了给自己奖励“好奇狗”贴纸哦！

祝你玩得愉快！

你的好奇狗



本书属于：


名字：.....

年龄：.....

班级：.....

老师：.....

请你按照下面的例子，找出其他5对相互有关联的卡片，把它们用线连在一起。




我们在做什么？按编号提示写出对应的拼音字母，你就知道了。

1	2	3	4	5	6





好奇狗应该怎样搭建这些多米诺骨牌呢？请你帮他按提示画出正确的图案。



数字1到9在花园里玩捉迷藏。如果你找到了它们，就把它们圈出来吧！










还有一个数字没有躲在花园里，它是谁？为它在花园里找一个躲藏的地方，然后画上它。




好奇狗正在数他在花园里看到的東西。请你帮他在单子上填写正确的数量。




下面的小火车只有等到每节车厢里都坐满10个小朋友才会开。快来学好奇狗在车厢里画上缺少的人数，使每节车厢都有10个人，然后请你在横线上填上缺少的人数。



小火车怎样才能开到车站去？请把到车站的正确路线用笔画出来。




降落伞会落在什么地方呢？得出计算结果后，你就知道了。开动脑筋，在降落伞和降落地点间连线。



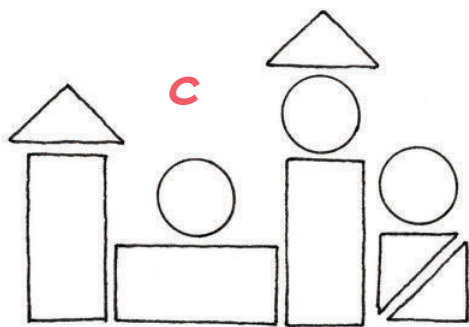
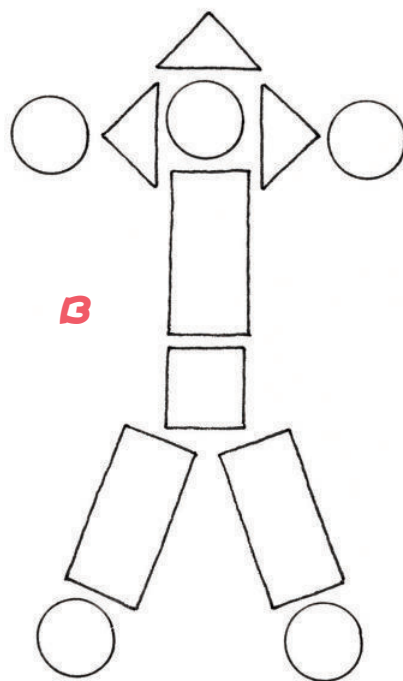






好奇狗的降落伞上有非常漂亮的图案。你想知道都是什么吗？快来计算降落伞上的算式，根据计算结果在每个区域里涂上与气球对应的颜色，你就知道答案了。



好奇狗的积木能拼出下面的哪些图形？请把能够拼出的图形涂上相应的颜色吧！





好奇狗用积木摆了一条蛇。从箭头所指的地方开始，按左侧提示把拼音字母写到积木蛇上，你就能拼出积木蛇的名字了。

从X开始

向右走2格

向下走1格

向左走3格

向下走1格

向右走3格



向上走3格

向左走2格

向下走2格

向右走1格

向上走1格



小朋友们穿着狂欢节的衣服，装扮成小丑、海盗和女巫等。他们每3人为一组，举着的牌子上都是相邻数，你能根据中间牌子上的数写出它们旁边牌子上的数吗？



是谁留下了这样的脚印？



I



J



X



I



ANG



AO

请根据编号提示的拼音字母，把答案填到空格里，你会得到一种水果的名字！

1	2	3	4	5	6

下面几个小朋友中，有一个人在钓鱼比赛中获得了胜利。他是谁呢？开动脑筋计算一下，你就会知道答案的。

谁能钓到最多的鱼呢？

阿里

	+		=	
--	---	--	---	--

莫娜

	+		=	
--	---	--	---	--

乌多

	+		=	
--	---	--	---	--

汤姆

	+		=	
--	---	--	---	--

埃娃

	+		=	
--	---	--	---	--