



◆ 主编/黄步高 刘新民

# 能力评价

NENGLI PINGJIA

办学卷 单元测试



## 数学

一年级·下册

苏教版

CES 湖南教育出版社

湘教  
考苑

◆ 主编/黄步高 刘新民

# 能力评价

NENGLI PINGJIA

小学卷 单元测试



## 数学

一年级·下册

苏教版

CBS 湖南教育出版社

# 目 录

第一单元测试卷 .....	1
第二单元测试卷 .....	3
第一、二单元测试卷 .....	5
月考卷(一) .....	7
第三单元测试卷 .....	9
第四单元测试卷 .....	11
第三、四单元测试卷 .....	13
月考卷(二) .....	15
第五单元测试卷 .....	17
第六单元测试卷 .....	19
第五、六单元测试卷 .....	21
月考卷(三) .....	23
分类复习卷(一) .....	25
分类复习卷(二) .....	27
分类复习卷(三) .....	29
分类复习卷(四) .....	31
分类复习卷(五) .....	33
分类复习卷(六) .....	35
期中测试卷(一) .....	37
期中测试卷(二) .....	39
期中测试卷(三) .....	41
期末测试卷(一) .....	43
期末测试卷(二) .....	45
期末测试卷(三) .....	47
参考答案 .....	49

# 第一单元测试卷

测试时间:60分钟 总分:100分

题号	一	二	三	四	五	六	七	八	总分
得分									

## 一、直接写出得数。(30分)

$$\begin{array}{cccc}
 9+4= & 12-8= & 6+9= & 11-4= \\
 7+7= & 12-4= & 14-9= & 18-9= \\
 13-7= & 15-7= & 13-9= & 12-3= \\
 11-2= & 4+9= & 16-9= & 9+3= \\
 11-7= & 12-6= & 16-8= & 14-8= \\
 5+6= & 17-7= & 9+9= & 12-10= \\
 8+4-9= & 9+9-8= & 19-9+8= & \\
 18-8-6= & 3+8-7= & 10-1+5= & 
 \end{array}$$


## 二、在○里填上“>”“<”或“=”。(6分)

$$\begin{array}{ccc}
 15-8 \bigcirc 10 & 11-3 \bigcirc 11-4 & 18-9 \bigcirc 12-2 \\
 13-9 \bigcirc 5 & 12-7 \bigcirc 14-9 & 13-7 \bigcirc 13-6
 \end{array}$$

## 三、在括号里填上合适的数。(6分)

$$\begin{array}{ccc}
 7+( )=13 & 13-( )=4 & 16-( )=8 \\
 ( )+8=14 & ( )-8=9 & 9+( )=16
 \end{array}$$

## 四、写算式。(8分)



$$\square \bigcirc \square = \square \qquad \square \bigcirc \square = \square$$

$$\square \bigcirc \square = \square \qquad \square \bigcirc \square = \square$$

## 2. 从3,9,16,7中选三个数写出四道算式。

$$\square \bigcirc \square = \square \qquad \square \bigcirc \square = \square$$

$$\square \bigcirc \square = \square \qquad \square \bigcirc \square = \square$$

## 五、选择题。(在正确答案后面的□里画“√”)(4分)

### 1. 下面计算结果不等于7的是哪个算式?

$$13-6 \square \qquad 15-8 \square \qquad 11-5 \square$$

### 2. 小明已经做了8朵花,小红说:“不够,还差很多。”你认为小明应该做多少朵?

$$10 \text{朵} \square \qquad 8 \text{朵} \square \qquad 20 \text{朵} \square$$

### 3. $8+( ) < 14$ 中,括号里最大填多少?

$$6 \square \qquad 5 \square \qquad 13 \square$$

### 4. 一(2)班第一小组有女生5人,男生6人,每人发一本书,10本够不够?

$$\text{够} \square \qquad \text{不够} \square \qquad \text{正好} \square$$

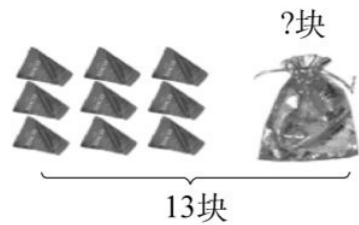
## 六、谁先到达小屋?(12分)

$$14 \xrightarrow{-7} ( ) \xrightarrow{+5} ( ) \xrightarrow{-8} ( ) \xrightarrow{+9} ( ) \quad \text{小屋}$$

$$16 \xrightarrow{-9} ( ) \xrightarrow{+8} ( ) \xrightarrow{-7} ( ) \xrightarrow{+8} ( ) \quad \text{小屋}$$

$$3 \xrightarrow{+8} ( ) \xrightarrow{-7} ( ) \xrightarrow{+9} ( ) \xrightarrow{-5} ( ) \quad \text{小屋}$$

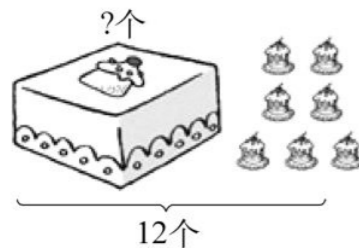
七、看图列式。(12分)



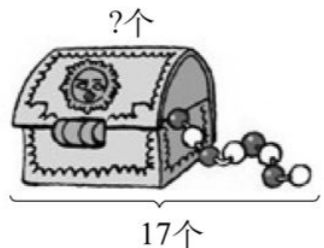
$$\square - \square = \square$$



$$\square - \square = \square$$



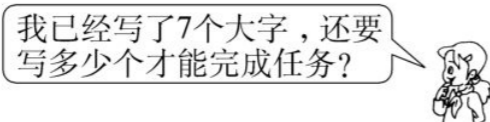
$$\square - \square = \square$$



$$\square - \square = \square$$


八、解决问题。(22分)

1. 红红一共要写 16 个大字。(4分)



$$\square \bigcirc \square = \square (\quad)$$

2. 学校合唱队有 15 人。(4分)



$$\square \bigcirc \square = \square (\quad)$$

3.  共有 14 条。(6分)

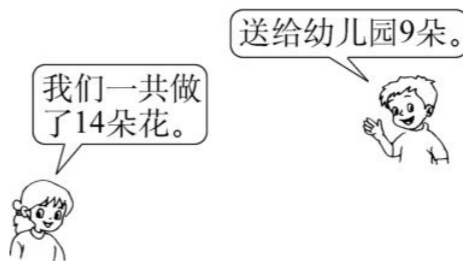
(1)  有 8 条， 有多少条?

$$\square \bigcirc \square = \square (\quad)$$

(2)  有 6 条， 有多少条?

$$\square \bigcirc \square = \square (\quad)$$

4.

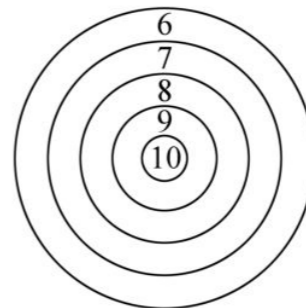


还剩多少朵花?(4分)

$$\square \bigcirc \square = \square (\quad)$$

5. 小明在下面的靶子上射中了两支飞镖，共 16 环。他可能射中的是

( ) 环和( ) 环。(4分)



装订线

## 第二单元测试卷

测试时间:60分钟 总分:100分

题号	一	二	三	四	五	六	七	八	总分
得分									

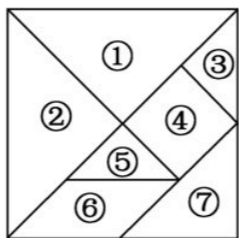
### 一、找朋友。(下面物体的面各是什么图形,用线连一连)(8分)



三角形      长方形      正方形      圆

### 二、填空题。(28分)

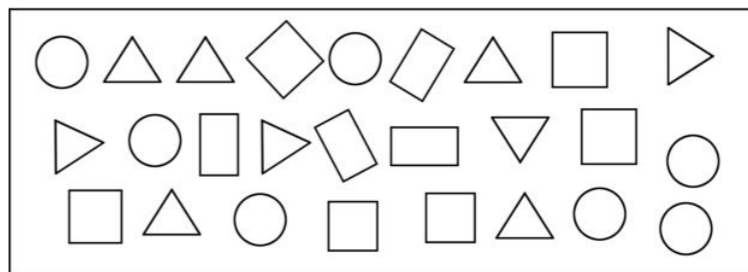
- 黑板的面是( )形,红领巾的面是( )形,硬币的面是( )形。
- 搭一个三角形至少需要( )根同样长的小棒,搭一个长方形至少需要( )根同样长的小棒,搭一个正方形至少需要( )根同样长的小棒。
- 两个 可以拼成一个( )形,还可以拼成一个( )形。
- 一张正方形的纸对折两次可以折成四个( )形,还可以折成四个( )形。
- (1)在七巧板中共有( )个三角形,( )个正方形。三角形中,( )和( )大小相等,( )和( )大小相等。



(2)③号图形可以和( )号图形拼成一个正方形。

(3)( )号图形可以和( )号图形拼成一个( )形。

### 6. 数一数,再填空。



△有( )个,○有( )个,□有( )个,◇有( )个,( )最多,

( )最少,△比□( ),◇比□( )。

### 三、选择题。(将正确答案的序号填在括号里)(12分)

- 课桌的表面是 ( )  
A. 长方形      B. 正方形      C. 三角形
- 搭两个单独的正方形至少要\_\_\_\_\_根小棒。 ( )  
A. 7      B. 8      C. 9
- 左图中有\_\_\_\_\_个三角形。 ( )  
A. 2      B. 3      C. 4
- 用七巧板里的两个相同的三角形,不能拼成 ( )  
A. 三角形      B. 正方形      C. 圆
- 找规律,接着会是一个什么图形? ( )




6. 如下图,小男孩用手中的长方体和笔,最多可以画出\_\_\_\_\_个不同的长方形。( )




- A. 6                      B. 4                      C. 3

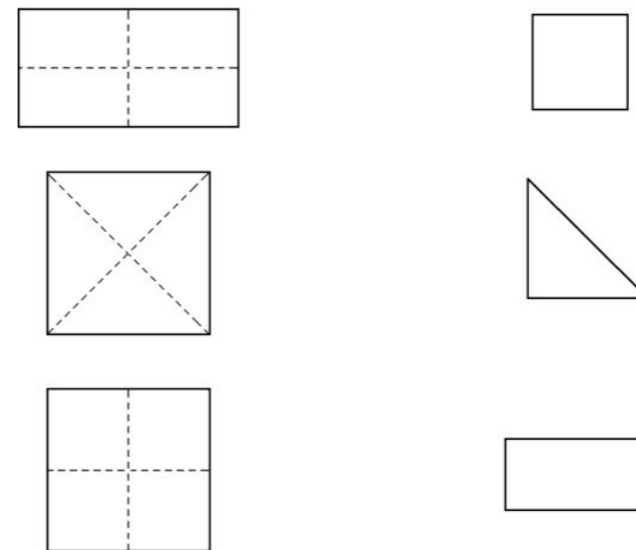
四、判断题。(对的画“√”,错的画“×”)(10分)

1. 用薯片盒子不可以画出圆。( )
2. 正方形的四边都相等。( )
3. 摆一个三角形最少要用3根小棒,摆两个三角形最少要用6根小棒。( )
4. 数学书的封面是正方形。( )
5. 是圆。( )

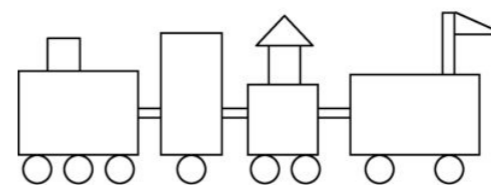
五、在方格纸上画一个三角形、一个正方形和一个长方形。(12分)



六、按虚线折一折,折出来是什么样子?用线连一连。(6分)



七、你会数一数吗?(8分)



在上图中,长方形有( )个,正方形有( )个,三角形有( )个,圆有( )个。

八、找一找,画一画。(16分)

1.  $\triangle$   $\bigcirc$   $\triangle$   $\bigcirc$   $\triangle$   $\bigcirc$   $\triangle$   $\bigcirc$  \_ \_
2.  $\triangle$   $\square$   $\bigcirc$   $\triangle$   $\square$   $\bigcirc$   $\triangle$  \_ \_
3.  $\triangle$   $\bigcirc$   $\bigcirc$   $\triangle$   $\bigcirc$   $\bigcirc$   $\triangle$  \_ \_
4.  $\bigcirc$   $\triangle$   $\triangle$   $\bigcirc$   $\triangle$   $\triangle$   $\bigcirc$   $\triangle$   $\triangle$  \_ \_

# 第一、二单元测试卷

测试时间:60分钟 总分:100分

题号	一	二	三	四	五	六	七	八	总分
得分									

## 一、直接写出得数。(16分)

$18-9=$	$11-3=$	$5+9=$	$12-4+5=$
$15-8=$	$10+5=$	$8+10=$	$13+2-9=$
$12+5=$	$7+8=$	$2+9=$	$11+4-7=$
$16-7=$	$12-4=$	$13-7=$	$13-7+8=$

## 二、填空题。(21分)

- 比11大1的数减去3得( )。
- 比12小3的数是( )。
- 一个十和七个一组成的数是( )。
- 在○里填上“>”“<”或“=”。

$13-7 \bigcirc 8$	$7 \bigcirc 15-8$	$11-6 \bigcirc 14-8$
$12-5 \bigcirc 6$	$15 \bigcirc 7+9$	$7+2 \bigcirc 18-9$

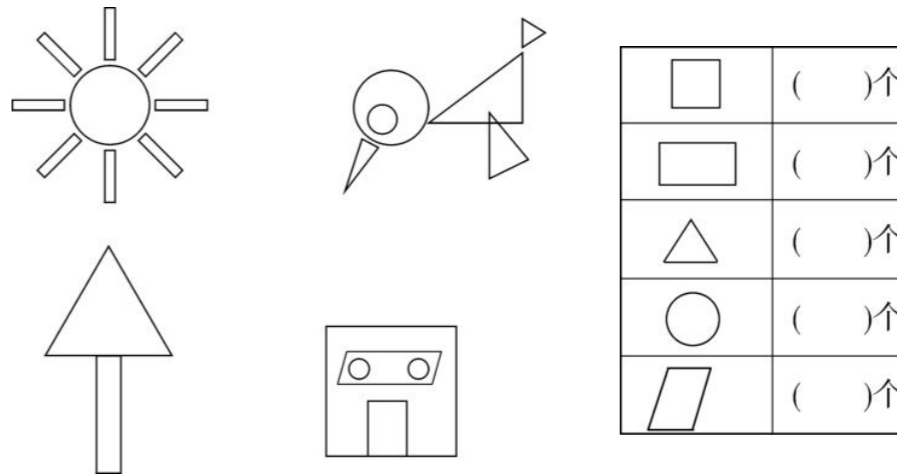
- 在○里填上“+”或“-”。

$17 \bigcirc 8=9$	$13 \bigcirc 3 \bigcirc 7=9$
$7 \bigcirc 8=15$	$13 \bigcirc 3 \bigcirc 7=17$

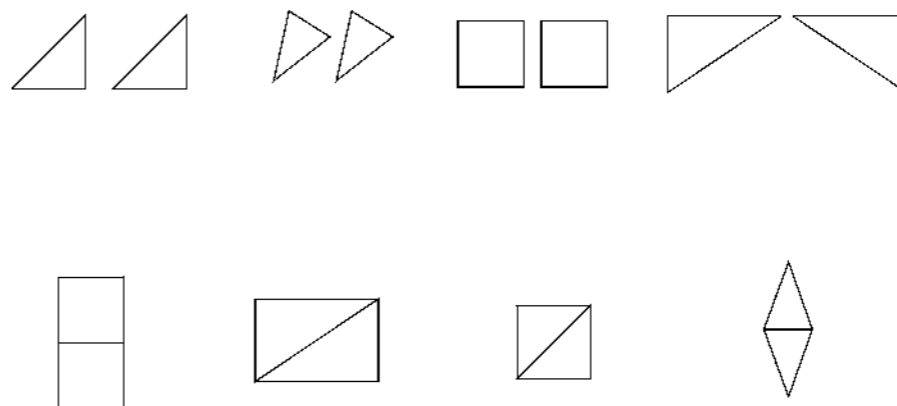
- 在□中填上合适的数。

$\square+8=18$	$3+\square-\square=8$
$17-\square=9$	$13-\square+\square=12$

## 三、数一数,填一填。(10分)



## 四、将下列每组图形与对应的拼图连起来。(8分)



## 五、在下面每组得数较大的算式后面的括号内画“√”。(6分)

$\left\{ \begin{array}{l} 13-8( ) \\ 13-9( ) \end{array} \right.$	$\left\{ \begin{array}{l} 15-9( ) \\ 16-9( ) \end{array} \right.$	$\left\{ \begin{array}{l} 7+8( ) \\ 7+9( ) \end{array} \right.$
---	---	---

从上面的算式中我发现:\_\_\_\_\_

\_\_\_\_\_。

六、算一算,填一填。(16分)


1.  $13 \xrightarrow{-7} \square \xrightarrow{+5} \square \xrightarrow{-2} \square \xrightarrow{+6} \square$

2.  $8 \xrightarrow{-3} \square \xrightarrow{+9} \square \xrightarrow{-7} \square \xrightarrow{+8} \square$

3.  $17 \xrightarrow{-9} \square \xrightarrow{-7} \square \xrightarrow{+9} \square \xrightarrow{-3} \square$

4.  $11 \xrightarrow{+3} \square \xrightarrow{-4} \square \xrightarrow{-2} \square \xrightarrow{+9} \square$

七、在下面方格纸上画一个平行四边形和一个三角形。(4分)



八、解决问题。(19分)

1. 小红要写 18 个大字,已经写了 9 个,还要写几个就全部完成了?(3分)

2. 妈妈买了 8 个○,16 个□,再买几个○,○就和□一样多?(4分)

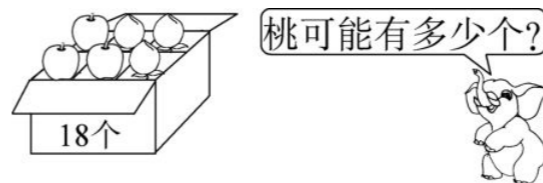
3. 一辆公共汽车上,原有 17 个乘客,到了一个车站后下车 8 人,又有 9 人上车,这时车上有多少人?(4分)

4.

班级	一(1)班	一(2)班
三好学生人数	8 人	9 人

三好学生中男生有 7 人,女生有多少人?(4分)

5. 数一数。(4分)

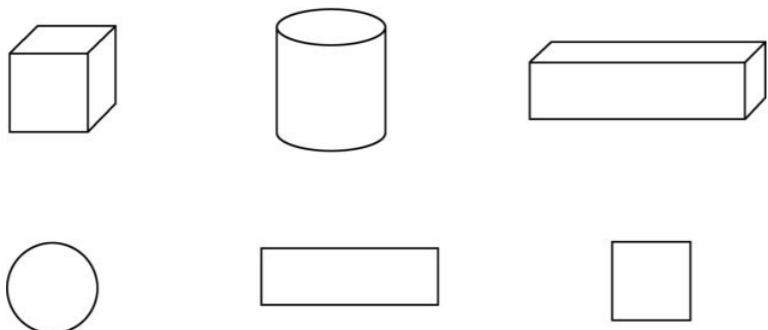


## 月考卷(一)

测试时间:60分钟 总分:100分

题号	一	二	三	四	五	六	七	八	总分
得分									

一、用下面物体的面可以画出下面哪个图形? 用线连起来。(6分)



二、直接写出得数。(14分)

$12-6=$	$14-9=$	$4+9=$	$16-9=$
$7+7=$	$16-8=$	$14-8=$	$5+6=$
$8+5-9=$	$9+7-8=$	$19-9+3=$	
$18-8-5=$	$3+8-7=$	$12-8+9=$	

三、填空题。(18分)

1. 河岸上有 15 只 ,跳进河里 8 只,河岸上还有( )只 .

2. 计算  $12-8=( )$  时,可以把 12 分成 10 和( ),先算  $10-8=2$ ,再算( )。

3. 在○里填上“>”“<”或“=”。

$15-7 \bigcirc 15-8$	$4+7 \bigcirc 12-4$
$11-3 \bigcirc 12-4$	$14-5 \bigcirc 13-5$

$14-5 \bigcirc 18-9$

$6+8 \bigcirc 9+6$

4. 想一想,填一填。

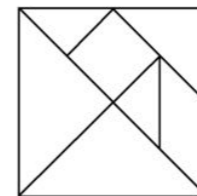
(1)用同样长的小棒,摆一个正方形至少需要( )根小棒,摆两个正方形至少需要( )根小棒。

(2)一个长方体最多可以画出( )种不同的长方形。

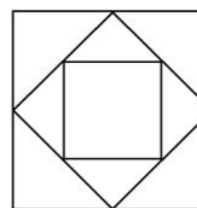
5. 下图中有( )个图形,从右往左数,第 3 个是( ),第 5 个是( )。



6. 数一数,填一填。



七巧板中有( )个三角形。



上图中一共有( )个正方形。

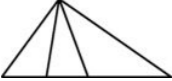
四、在得数大于 7 的算式后面画“√”。(8分)

$12-4 \square$	$15-8 \square$	$12-9 \square$	$13-8 \square$
$14-5 \square$	$14-10 \square$	$17-8 \square$	$10-8 \square$


五、在括号里填上合适的数,使等式成立。(10分)

$18-9=( )+4$	$3+( )=15-6$
$3+9=5+( )$	$14-( )=13-( )$


六、判断题。(对的画“√”,错的画“×”)(8分)

1.  $16-8$  比  $18-8$  的得数要大。 ( )
2. 8 比 17 少 9, 17 比 8 少 9。 ( )
3.  左图中有 6 个三角形。 ( )
4. 正方形对折后一定是长方形。 ( )


七、看图写算式。(18分)




$\square \bigcirc \square = \square$        $\square \bigcirc \square = \square$   
 $\square \bigcirc \square = \square$        $\square \bigcirc \square = \square$



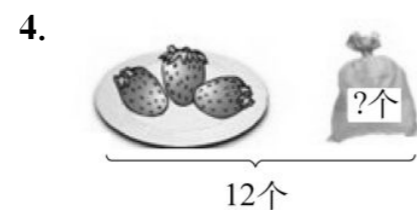
$13 - \square = \square$        $13 - \square = \square$



$\square \bigcirc \square = \square$




$\square \bigcirc \square = \square$



$\square \bigcirc \square = \square$

八、解决问题。(18分)



(1) 小明有 5 本, 小刚有多少本? (4分)

$\square \bigcirc \square = \square$  ( )

(2) 小刚有 7 本, 小明有多少本? (4分)

$\square \bigcirc \square = \square$  ( )



屋子里原来有 15 个人, 走了 ( ) 个, 屋子里还剩 ( ) 个人。(6分)

$\square \bigcirc \square = \square$  ( )



每个学生坐一把椅子, 还差几把? (4分)

$\square \bigcirc \square = \square$  ( )

装订线

## 第三单元测试卷

测试时间:60分钟 总分:100分

题号	一	二	三	四	五	六	七	总分
得分								

### 一、直接写出得数。(18分)

$5+3=$	$10+8=$	$6+4=$	$9-5=$
$45-5=$	$2+40=$	$48-40=$	$62-60=$
$24-20=$	$16-7=$	$7+50=$	$47-7=$
$13-9+50=$	$5+40-5=$	$43-40+9=$	
$86-80+20=$	$63-3+9=$	$19-10+4=$	

### 二、填空题。(37分)

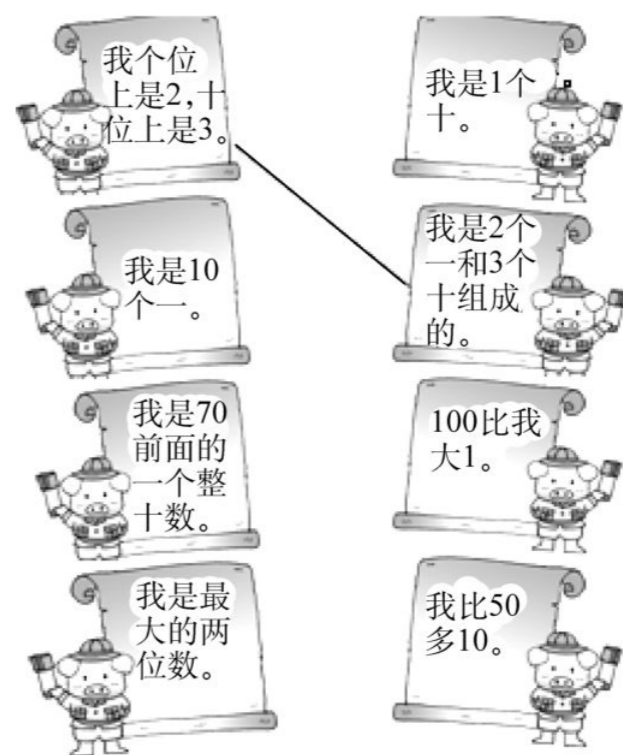
1. 一个数从右边起,第一位是( )位,第二位是( )位,第( )位是百位。
2. 68里面有( )个十和( )个一;( )个一和( )个十合起来是27。10个十是( );从45里面去掉5个一,还剩( )个十。
3. 最大的一位数是( ),最小的两位数是( ),100是( )位数。
4. 把34,52,43,25,64,46按从小到大的顺序排列起来。(3分)  
( ) < ( ) < ( ) < ( ) < ( ) < ( )
5. 一个数是50,另一个数是20,它们的和是( ),差是( )。
6. 小朋友们排队做操,小军排在第32个,小军前面有( )人。
7. 在○里填上“>”“<”或“=”。  
 $50+40$  ○  $80$        $50+6$  ○  $56$        $87-7$  ○  $73$   
 $10+30$  ○  $30+20$        $55-5$  ○  $50+5$        $17-9$  ○  $28-20$

8. 有35个梨和20个苹果,发给30个小朋友每人一个苹果和一个梨,( )还剩( )个;( )不够,还差( )个。

9. 写出4个个位上是6的两位数:( ),( ),( ),( ),其中最接近60的数是( )。

10. 在36,75,41,22,87,89中,单数有( )个,双数有( )个,个位数字和十位数字相同的数是( ),( )的个位数字比十位数字小1。

### 三、小猪找兄弟。(3分)



### 四、连一连。(4分)

☆有56个,○有48个,△有85个。

☆比△      △比○      ☆比○      ○比☆

少一些      少得多      多得多      多一些

五、填一填。(11分)

1. 根据百数表填数。

		59

		26

2. 按顺序填数。

	19		21			
--	----	--	----	--	--	--

	90		80			
--	----	--	----	--	--	--

六、在你认为合适的答案下面画“√”。(8分)

1. 趣味数学班男生有 31 人,女生比男生少一些,女生可能有多少人?

33 人	28 人	12 人

2. 一盏台灯 32 元,一个书包的价钱和它差不多,一个书包大约多少元?

41 个	16 元	30 元

3. 篮球 58 元,排球比篮球便宜得多,排球可能是多少元?

58 元	50 元	25 元

4. 张老师带 20 名小男孩和 30 名小女孩一起去参观历史博物馆,买 50 张票够吗?

够	不够

七、解决问题。(19分)



1. 送给小猴 6 个,小兔还剩多少个?(2分)

$$\square \bigcirc \square = \square (\quad)$$

2. 学校体育室原来有 60 个足球,又买来了 8 个,现在有多少个足球?(2分)

$$\square \bigcirc \square = \square (\quad)$$

3. 小明要写 54 个大字,已经写了 50 个,还剩多少个没有写?(2分)

$$\square \bigcirc \square = \square (\quad)$$

4. 红红看一本书,已经看了 40 页,还有 4 页没有看,这本书有多少页?(2分)

$$\square \bigcirc \square = \square (\quad)$$

5. 你熟悉日历吗?这是 2007 年 3 月份的日历表。在  $\square$  里填出日期。(11分)

一	二	三	四	五	六	日
			1	2	3	4
5	6	7	$\square$	$\square$	10	11
$\square$	1 $\square$	14	15	16	17	18
19	20	21	22	23	24	25
26	$\square$	28	29	30	$\square$	

(1)3 月份一共有( )天。

(2)从这张日历表中,你发现竖着看相邻两个数总是相差( )。

(3)国际妇女节是( )月( )日,这一天是星期( )。

装订线

## 第四单元测试卷

测试时间:60分钟 总分:100分

题号	一	二	三	四	五	六	七	八	总分
得分									

### 一、填空题。(14分)

1. 一个加数是 52,另一个加数是 30,和是( )。
2. 被减数是 64,减数是 20,差是( )。
3. 两个加数是 40,和是( )。
4. 二(1)班男同学有 28 人,女同学有 20 人,男同学比女同学多( )人,女同学比男同学少( )人。
5. 最大的一位数和最小的两位数之和是( ),差是( )。

### 二、不计算,在得数小于 40 的算式后面画○,在得数大于 40 的算式后面画□。(12分)

- 34+5( )      20+20( )      78-40( )  
 57-20( )      54-14( )      20+17( )

### 三、选择题。(将正确答案的序号填在括号里)(8分)

1. 选出得数比 60 大的算式 ( )  
 A. 60-20      B. 50+18      C. 75-20
2. 桃树 30 棵,\_\_\_\_\_,梨树和桃树一共有多少棵? 补哪个条件最合适。 ( )  
 A. 桃树 10 棵      B. 梨树 20 棵      C. 种植了 10 棵
3. 小红有 12 本书,小青有 4 本书,小红要给小青\_\_\_\_\_本书两个人的书就同样多了。 ( )  
 A. 2      B. 3      C. 5      D. 4

4. 小真走进教室,看到教室里已有 45 名同学,那么现在教室里有多少名学生? ( )

- A. 44      B. 47      C. 46

### 四、直接写出得数。(12分)


- 20+40=      39+20=      64+3=      63+20=  
 7+31=      50+48=      82+6=      5+44=  
 40+25=      6+91=      30+52=      8+71=

### 五、用竖式计算。(12分)


34+64=      79-65=

41+6=      57-4=

### 六、列算式计算。(6分)



$\square \circ \square = \square$  ( )



$\square \circ \square = \square$  ( )

七、填一填。(8分)

				
原有	84个	78只	( )个	( )本
卖出	20个	( )只	32个	54本
还剩	( )个	8只	6个	5本

八、解决问题。(第3、5题每题8分,其余每题4分,共28分)

1.



停车场原来有多少辆车?

$$\square \bigcirc \square = \square ( \quad )$$

2.



已经坐了多少人?

$$\square \bigcirc \square = \square ( \quad )$$

3.



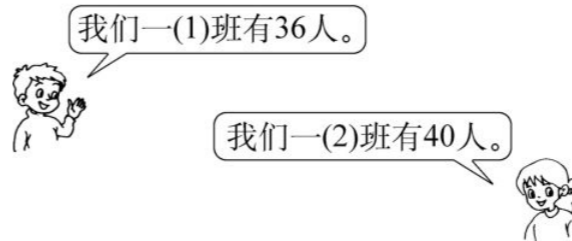
(1)买1盏台灯和1个计算器一共要多少元?

$$\square \bigcirc \square = \square ( \quad )$$

(2)台灯比地球仪贵多少元?

$$\square \bigcirc \square = \square ( \quad )$$

4.



现有80个苹果,给他们两个班每人发1个苹果,够不够?



$$\square \bigcirc \square = \square ( \quad )$$

(够 不够)

5. 红气球 20 个,绿气球 32 个,蓝气球 48 个,你能提出哪些问题? 列式解答。

问题 1: \_\_\_\_\_

$$\square \bigcirc \square = \square ( \quad )$$

问题 2: \_\_\_\_\_

$$\square \bigcirc \square = \square ( \quad )$$

装订线

### 第三、四单元测试卷

测试时间:60分钟 总分:100分

题号	一	二	三	四	五	六	七	八	九	总分

#### 一、填空题。(10分)

- 38 里面有( )个十和( )个一。
- 7 个十和 5 个一组成的数是( )。
- 10 个一是( ),100 里面有( )个十。
- 89 前面的一个数是( ),后面的两个数是( ),( )。
- 一个数从右边数起,第一位是( )位,第二位是十位,第三位是( )位。

#### 二、判断题。(对的画“√”,错的画“×”)(10分)


- 一个数个位上是 8,十位上是 3,这个数是 83。( )
- 36 和 63 都有数字 6 和 3,所以 36 和 63 一样大。( )
- 最大的一位数和最小的两位数相差 1。( )
- 个位上一个数也没有就写 0。( )
- 一个数里面有 9 个十和 7 个一,这个数是 97。( )

#### 三、选择题。(净正确答案的序号填在括号里)(6分)

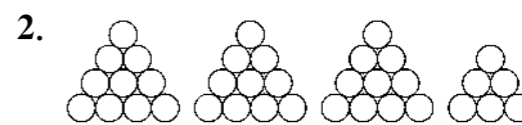
- 和 60 相邻的两个数分别是 ( )  
A. 61 和 62      B. 58 和 59      C. 59 和 61
- 从 79 数到 82,一共有\_\_\_\_\_个数。( )

- A. 4                      B. 3                      C. 2
3. 最小的三位数和最小的两位数之间相差 ( )  
A. 90                      B. 1                      C. 9

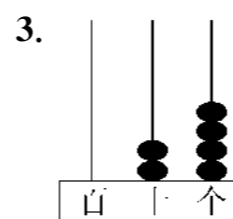
#### 四、看图写数。(12分)



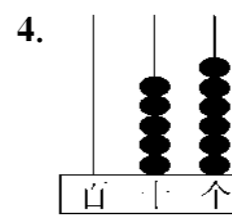
( )个十和( )个一  
合起来是( )。



( )个十和( )个一合起来是( )。



( )个十和( )个一  
合起来是( )。



( )个十和( )个一  
合起来是( )。

#### 五、在○里填上“>”“<”或“=”。(6分)

28○87                      38-7○30                      23+5○20+8  
25○23                      8+40○49                      73-3○20+40


#### 六、把下面的数按要求排列起来。(14分)

- 38,79,25,88,49,54,65。  
( )<( )<( )<( )<( )<( )<( )
- 23,17,37,49,28,16,100。  
( )>( )>( )>( )>( )>( )>( )

七、直接写出得数。(16分)

$8+70=$	$37-30=$	$28-8=$	$40+30=$
$44-4=$	$56-6=$	$34-30=$	$95-90=$
$4+8=$	$17-9=$	$80-20=$	$66-6=$
$66-60=$	$92-2=$	$27+10=$	$33+5=$

八、在你认为最合适的答案下面画“√”。(6分)

1.  的岁数比 60 大,比 80 小,她的岁数可能是

60 岁	72 岁	82 岁
<input type="checkbox"/>	<input type="checkbox"/>	<input type="checkbox"/>

2.  有 35 个, 的个数比  多得多, 的个数可能是

40 个	52 个	28 个
<input type="checkbox"/>	<input type="checkbox"/>	<input type="checkbox"/>

3.  有 33 个, 比  少一些, 的个数可能是

7 个	13 个	28 个
<input type="checkbox"/>	<input type="checkbox"/>	<input type="checkbox"/>

九、解决问题。(每题 4 分,共 20 分)

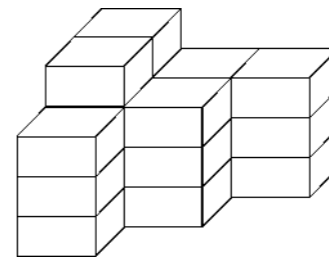
1. 妈妈有 48 元钱,买菜用了 20 元,还剩多少元?

2. 王老师发给同学们 30 本作业本,还有 8 本,王老师原来有多少本作业本?

3. 水果店原来有 58 筐橘子,卖掉一些后还剩下 20 筐,卖掉了多少筐?

4.  我采了 20 个。  共 45 个  我采了多少个?

5. 数一数,一共有多少个小木块?



装订线