

Hao Qi Gou Pei Ni Xue
好奇狗陪你学

由易到难

循序渐进

赠送贴纸

数学 11 启蒙游戏

[德] 好奇狗数学启蒙游戏团队 著



畅销欧洲
30年

浙江少年儿童出版社

图字：11—2015—259 号

图书在版编目(CIP)数据

数学启蒙游戏. 11/好奇狗数学启蒙游戏团队著;尤岚译.—杭州:浙江少年儿童出版社,2017.1

(好奇狗陪你学)

ISBN 978-7-5342-9621-5

I. ①数… II. ①好…②尤… III. ①数学课-学前教育-教学参考资料 IV. ①G613.4

中国版本图书馆 CIP 数据核字(2016)第 275763 号

Title of the original German edition: Logli Lernspiele-Rechen-Rätsel fürdas 2. Schuljahr © 2003 Loewe Verlag GmbH, Bindlach

责任编辑 刘迎曦

装帧设计 傅行鸣

美术编辑 成慕姣

责任校对 冯季庆

责任印制 阙云

好奇狗陪你学

数学启蒙游戏 11

SHUXUE QIMENG YOUXI 11

好奇狗数学启蒙游戏团队/著 尤岚/译

出版 浙江少年儿童出版社
发行 浙江少年儿童出版社
地址 杭州市天目山路 40 号
印刷 浙江新华印刷技术有限公司
经销 全国各地新华书店
开本 787×1092 1/16
印张 2
彩插 1
印数 1—10120
版次 2017 年 1 月第 1 版
印次 2017 年 1 月第 1 次印刷

本册书号:ISBN 978-7-5342-9621-5

本册定价:12.00 元

盒装书号:ISBN 978-7-5342-9611-6

盒装定价:156.00 元(全套 13 册)

(如有印装质量问题,影响阅读,请与购买书店或承印厂联系调换)

目录

数的顺序	2
数字的排列	3
用图形来表示数	4
直角	5
相加、相减到1000	6
找项链	7
数字的逻辑排列	8
乘和除	9
笔算减法	10
克和千克	11
几何图形	12
4的整除	13
7的乘法(一)	14
7的乘法(二)	15
一个数乘10或100	16
链条式运算	17
笔算加法	18
找不同	19
9的乘法	20
符号对比	21
对称	22
厘米和毫米	23
用钱计算	24
连线猜谜	25
除法	26
有余数的除法	27
分和秒	28
整数	29
正方体	30
比较	31
答案	32

亲爱的爸爸妈妈们:

数学是很多小朋友喜欢的科目，和好奇狗一起学习数学会带给您的孩子更多乐趣!

好奇狗数学启蒙游戏系列图书将数学和好玩的游戏相结合，帮助您的孩子尽快地步入奇妙的数学世界。本系列图书的内容相互独立，但都能为孩子提供丰富的内容和富有想象力的游戏，在游戏中激发他们对数字的敏感，锻炼他们的逻辑思维能力，提升他们的学习兴趣，让孩子尽情享受学习过程中的快乐。

好奇狗是孩子们的伙伴和好帮手，在书中他的提示会很好地指引孩子们独立完成学习任务。当然，如果您的孩子在学习中遇到困难，您可以和孩子一起解决问题，给他一些帮助，让他能够持续地取得进步，这样才能培养出孩子的自信心。

现在就开始吧!



好奇狗数学启蒙游戏团队

[德] 扎比内·卡尔维茨基 (Sabine Kalwitzki)

她是位热心公益的教育学家，出版了许多儿童图书。她认为孩子们在快乐的环境下能更好地学习，她为本书设计了许多有意思的游戏和任务。



[德] 西尔克·维格特 (Silke Voigt)


她认为孩子的图书一定要丰富多彩。她为本书绘制了大量有趣的图片。



小朋友：

在这次游戏中，我需要一个聪明的同伴，你有兴趣跟我一起完成吗？

好的，现在就行动，拿起你的铅笔、尺子和橡皮，和我一起进入有趣的问题中来吧。当你出色地完成任务后，别忘了给自己奖励“好奇狗”贴纸哦！

有10个指纹  藏在这本书里，你能找到它们吗？

祝你玩得愉快！

你的好奇狗

本书属于：

名字：.....

年龄：.....

班级：.....

老师：.....



好奇狗想把下面的宝箱打开，看看里面装的是什么。请把钥匙上的数字按从小到大的顺序排列，从最小的那个数字开始，拼一拼数字对应的字母组成的词，你就知道答案了。





参加马拉松比赛的选手分为4组，每位选手的号码都印在他们的衣服上。按照第3组的排列方式，将其他选手的号码填补完整。这样你就知道谁是冠军啦！

获胜选手的号码是_____！

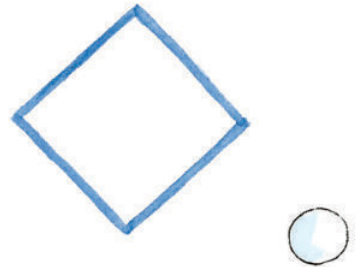
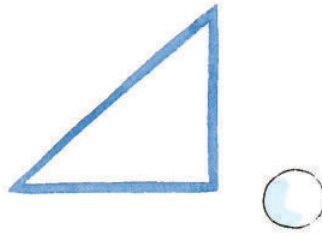

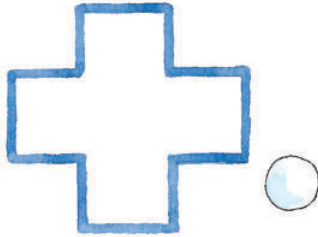

最后一名跑到终点的选手是_____号。

_____号选手由于脚受伤退出了比赛。





在下面的每个图形里，好奇狗能够找到多少个直角？请把图下对应的结果写在圆圈里。



直角是这样的：当一条直线与另一条横的直线交成的邻角彼此相等时，这些角的每一个被叫作直角。



4

2

8

1

4


2



玛丽小姐丢失了她珍贵的项链，只剩下了一条与其配套的手链。请你帮助好奇狗找到这条项链，并把它标出来。

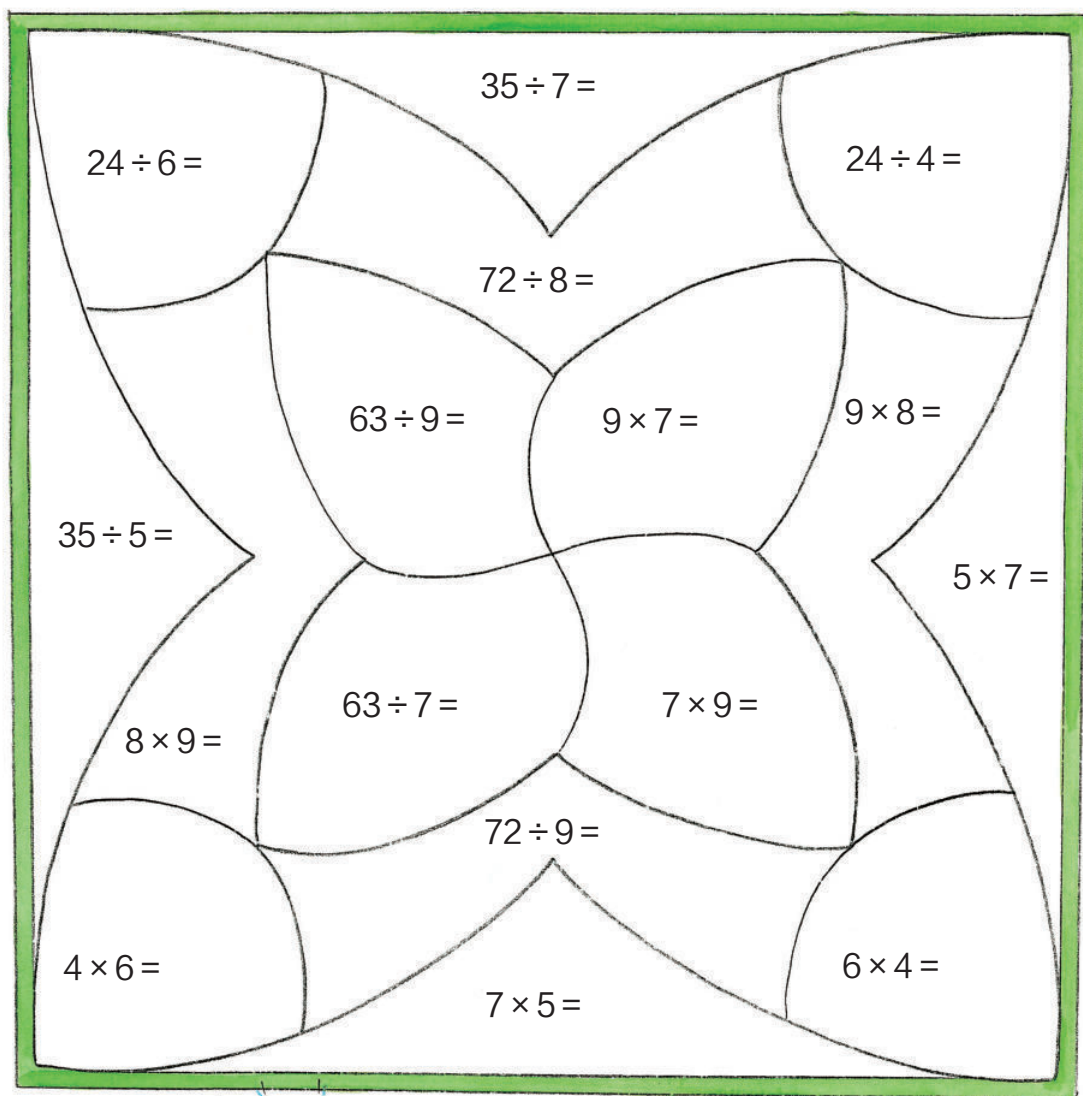


每列火车的车厢上都标着数字，你能找出规律，并把正确的数字填写在车厢上吗？





计算下面的式子，把它们分成4组，给每一组涂上相同的颜色，最后你会发现一个漂亮的图案！



好奇狗和孩子们一起玩掷骰子游戏。每次用3个骰子掷出一个数，点数最大的为百位，点数第二大的为十位，点数最小的为个位。用1000减去这个数，得数最小的人获胜。谁获胜了呢？



祖西
1000
—



多罗
1000
—



好奇狗
1000
—



马克
1000
—



蒂内
1000
—



尤勒
1000
—

_____ 在掷骰子游戏中获胜。




豚鼠吃了哪只袋子里的东西？请你算一算，照样子把相对应的结果连起来。



1 千克 = 1000 克
1kg = 1000g


仔细看这些图形，在下面的图形小镇里你还能发现它们吗？请把相同的图形用相同的颜色画出来。



球



圆锥体



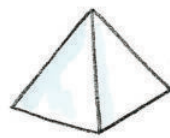
正方体



长方体



圆柱体




棱锥体



查尔只能购买价钱能够被4整除的物品，请你把这些物品圈出来。



下面所有数学题都与7的倍数有关，算出结果后，你就会知道如果好奇狗要打开箱子需要哪些数字当密码了。



苏西14岁，她的两个双胞胎妹妹的年龄加起来正好和她的年龄一样大。双胞胎的年龄是_____。

我在寻找40到50之间的一个数，它符合7的乘法表，它距离40比距离50更近。这个数是_____。

