



# 阶梯数学 思维训练

斯塔熊文化 著 野作插画 绘

360个全彩情景，360道趣味题目，阶梯式提升数学能力

4~6岁 ②

河北美术出版社



# 阶梯数学

## 思维训练

斯塔熊文化 著 野作插画 绘

4~6岁

②



河北美術出版社

# 版权所有 盗版必究

## 图书在版编目 (CIP) 数据

阶梯数学思维训练. 4-6岁 : 全5册 / 斯塔熊文化著 ;  
野作插画绘. -- 石家庄 : 河北美术出版社, 2018.12  
ISBN 978-7-5310-9570-5

I. ①阶… II. ①斯… ②野… III. ①数学课—学前教育—教学参考资料 IV. ①G613.4

中国版本图书馆 CIP 数据核字 (2018) 第 279504 号

策 划 : 袋鼠妈妈童书  
责任编辑 : 单海运  
责任校对 : 李 宏  
装帧设计 : 卫 瑶

---

出 版 : 河北美术出版社  
发 行 : 河北美术出版社  
地 址 : 石家庄市和平西路新文里 8 号  
邮 编 : 050071  
电 话 : 0311-87060677  
网 址 : www.hebms.com  
制 版 : 北京成业恒信印刷有限公司  
印 刷 : 北京成业恒信印刷有限公司  
开 本 : 787 毫米 × 1092 毫米 1/16  
印 张 : 12.5  
印 数 : 1 ~ 5000  
版 次 : 2018 年 12 月第 1 版  
印 次 : 2018 年 12 月第 1 次印刷


---

定 价 : 84.00 元 (全 5 册)

质量服务承诺 : 如发现缺页、倒装等印刷质量问题, 可直接向本社调换。  
服务电话 : 0311-87060677

# 目录

看钟表·····	2
过节啦·····	3
填一填（一）·····	4
填一填（二）·····	5
放水桶·····	6
做游戏·····	7
认识椭圆·····	8
考眼力·····	9
能旋转的物体·····	10
数火柴·····	11
16 是多少·····	12
找邻居·····	13
17 是多少·····	14
小狗找骨头·····	15
18 是多少·····	16
猫捉老鼠·····	17
19 是多少·····	18
找房子·····	19





20 是多少·····	20
连一连·····	21
一样多·····	22
填数字·····	23
蜜蜂送信·····	24
比一比·····	25
8 的组成·····	26
看图写数 (一) ·····	27
9 的组成·····	28
分苹果·····	29
10 的组成·····	30
看图写数 (二) ·····	31
数菠萝·····	32
数青蛙·····	33
搬胡萝卜·····	34
看图写数 (三) ·····	35
涂颜色·····	36
看图计算·····	37



# 看钟表

认识整点

你会看钟表了吗？请连一连吧！



1点

6点

8点



# 过节啦

了解节日

小朋友，你知道下面这些节日的时间吗？请用线连一连吧！



元旦

5月1日



劳动节

1月1日



儿童节

10月1日



国庆节

6月1日

# 填一填（一）

按规律  
递增

观察下面数字的排列有什么规律，然后请在后面框里填出正确的数。

1	2	3	4			
---	---	---	---	--	--	--

2	4	6	8	
---	---	---	---	--

1	3	5	7	
---	---	---	---	--

# 填一填（二）

按规律  
递减

观察下面数字的排列有什么规律，然后请在后面框里填出正确的数。

10 9 8 7

8 6 4

7 5 3



# 放水桶

按规律  
排列

请观察下面这些水桶，它们都是按一定规律摆放的。你知道空白框里应该摆放几个水桶吗？画一画吧！



# 做游戏

复习空间  
位置

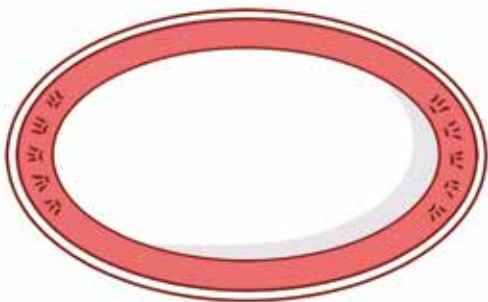

小动物们在做游戏，请来说一说它们的位置吧！



# 认识椭圆

## 认识 椭圆形

小朋友，你认识下面的图形吗？它们都是椭圆形。  
请数一数，一共有多少个椭圆形？



# 考眼力

分类

请数一数下面图中有几个圆形？有几个椭圆形？  
圆形有（ ）个。椭圆形有（ ）个。



# 能旋转的物体

## 认识旋转

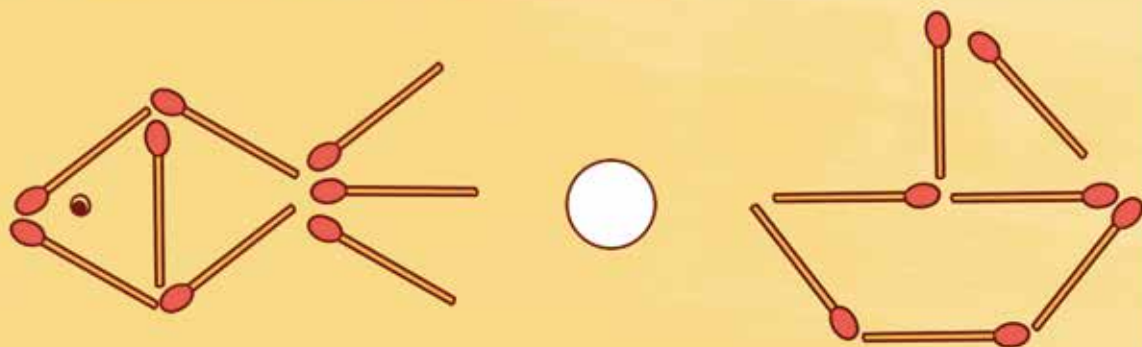
请看下面的图，说一说，图中有哪些物体能旋转？说一说它们是怎么转的。



# 数火柴

## 综合比较

请猜一猜，哪个图中的火柴多？然后数一数，在圆圈里填出“>”或“<”。



# 16 是多少

认识 16

请说一说，16 比 15 多了多少？



16



15

# 找邻居

## 练习 相邻数

请找出下图这些数的邻居吧，把它们圈起来，用线连到正确的位置。

□ 6 □

10 8 11

7 5

13 12 9 4

□ 12 □

11 8 9

6 12 13

10 15 7

□ 16 □

15 12 13

7 11 17

6 9 8