



• 根据教育部颁发的《幼儿园教育指导纲要（试行）》编写 •

幼儿 学前 数学

6

100以内不进位、不退位、进位、退位加减法

宋添舰 编著

- 数学入门
- 巩固基础
- 分类统计
- 编排科学



河北美术出版社

图书在版编目 (CIP) 数据

幼儿学前数学 . 6, 100 以内不进位、不退位、进位、退位加减法 / 宋添舰编著 . -- 石家庄: 河北美术出版社, 2018.9

ISBN 978-7-5310-9435-7

I . ①幼… II . ①宋… III . ①数学课—学前教育—习题集 IV . ① G613.4

中国版本图书馆 CIP 数据核字 (2018) 第 220012 号



幼儿学前数学 . 6



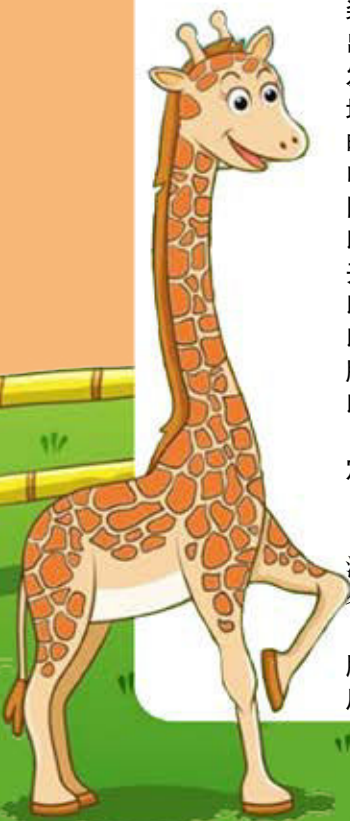
责任编辑: 单海运
责任校对: 李宏
装帧设计: 北京青柠树文化
出版: 河北美术出版社
发行: 河北美术出版社
地址: 石家庄市和平西路新文里 8 号
邮编: 050071
电话: 0311-87060677
网址: www.hebms.com
印刷: 三河市春园印刷有限公司
开本: 787mm × 1092mm 1/16
印张: 15
印数: 1~10000
版次: 2018 年 9 月第 1 版
印次: 2018 年 9 月第 1 次印刷

定价: 64.80 元 (全 6 册)

河北美术出版社
各地新华书店经销

服务电话: 0311-87060677

质量服务承诺: 如发现缺页、倒装等印制质量问题, 可直接向本社调换。



目录

100 以内数的测试 (一)	2
100 以内数的测试 (二)	4
100 以内数的测试 (三)	6
100 以内数的测试 (四)	8
100 以内数的测试 (五)	10
100 以内数的测试 (六)	12
100 以内数的测试 (七)	14
100 以内数的测试 (八)	16
100 以内数的测试 (九)	18
100 以内数的测试 (十)	20
100 以内数的测试 (十一)	22
100 以内数的测试 (十二)	24
100 以内数的测试 (十三)	26
100 以内数的测试 (十四)	28
100 以内数的测试 (十五)	30
100 以内数的测试 (十六)	32
100 以内数的测试 (十七)	34
100 以内数的测试 (十八)	36
参考答案	38



太好了



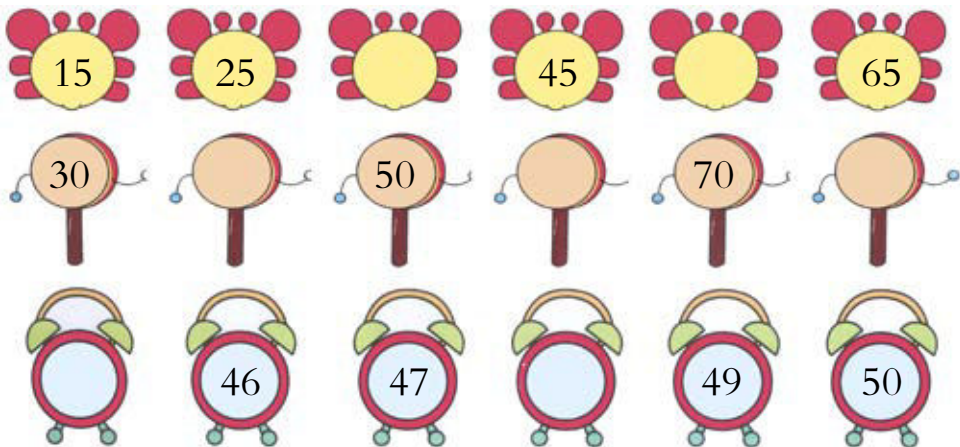
还不棒



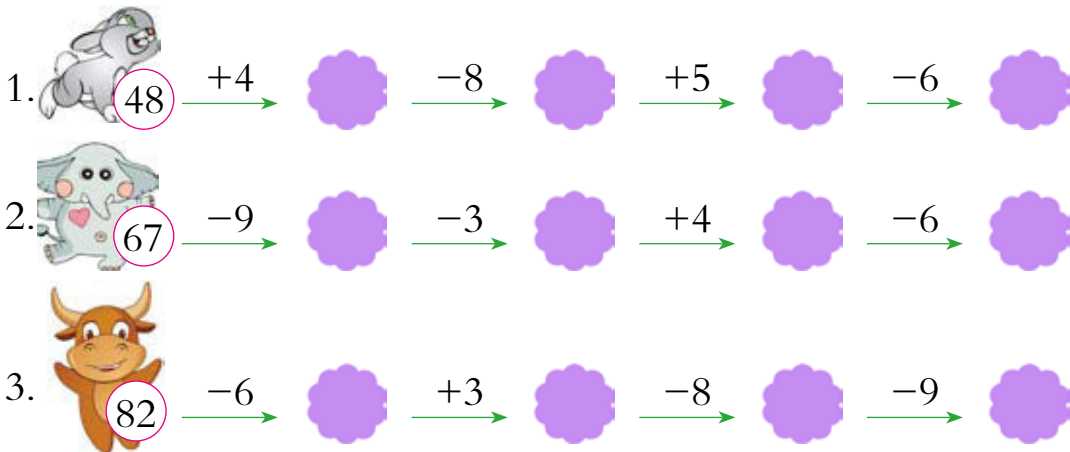
加油哦

100 以内数的测试 (一)

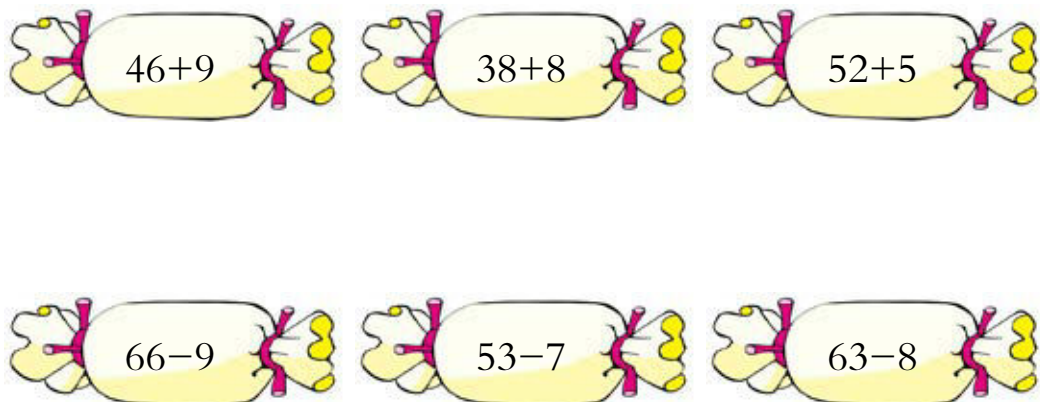
一、按照规律填数字。




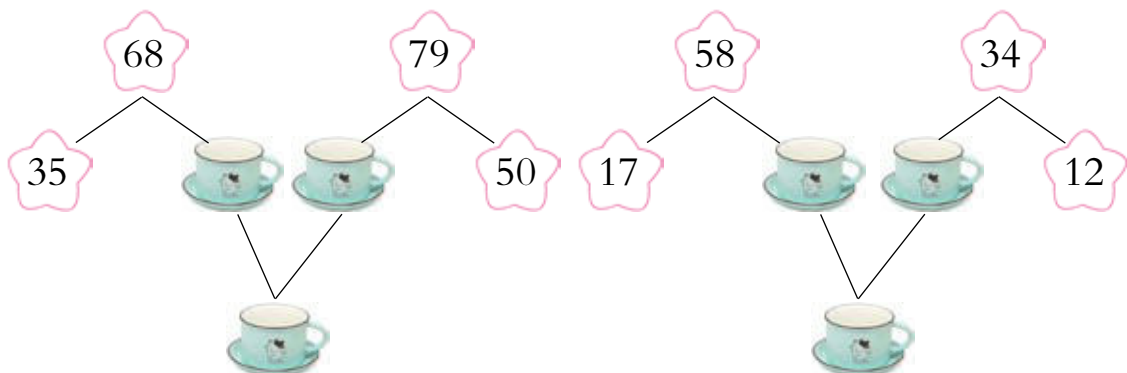
二、数字接龙。



三、算一算，把得数相同的两个算式连起来。



四、在  里填上适合的数字。



五、根据文字填数字。


1. 比 66 大 30 的数是 ()。
2. 个位数是 9，十位数是 3 的数是 ()。
3. 39 的两个相邻数是 ()、()。
4. 68 里面有 () 个 10 和 () 个 1。
5. 被减数是 72，减数是 9，差是 ()。


六、看图列算式。



共几副 

$$\square \bigcirc \square \bigcirc \square = \square$$



共 77 根 

$$\square \bigcirc \square \bigcirc \square = \square$$



太好了



还不棒



加油哦

100 以内数的测试 (二)

一、把下面大写数字换成阿拉伯数字，写在田字格里。



四十八



五十一



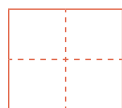
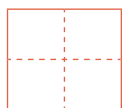
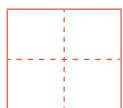
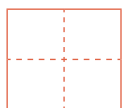
三十



七十六



二十九



二、竖式计算。

$$\begin{array}{r} 57 \\ + 9 \\ \hline \square \square \end{array}$$

$$\begin{array}{r} 38 \\ - 6 \\ \hline \square \square \end{array}$$

$$\begin{array}{r} 49 \\ + 7 \\ \hline \square \square \end{array}$$

$$\begin{array}{r} 83 \\ - 9 \\ \hline \square \square \end{array}$$

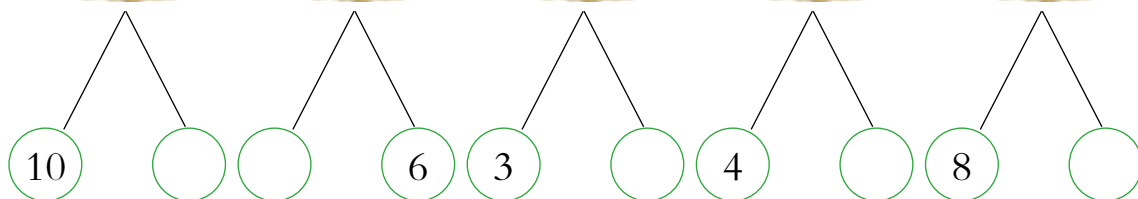
$$\begin{array}{r} 45 \\ - 7 \\ \hline \square \square \end{array}$$

$$\begin{array}{r} 63 \\ + 4 \\ \hline \square \square \end{array}$$

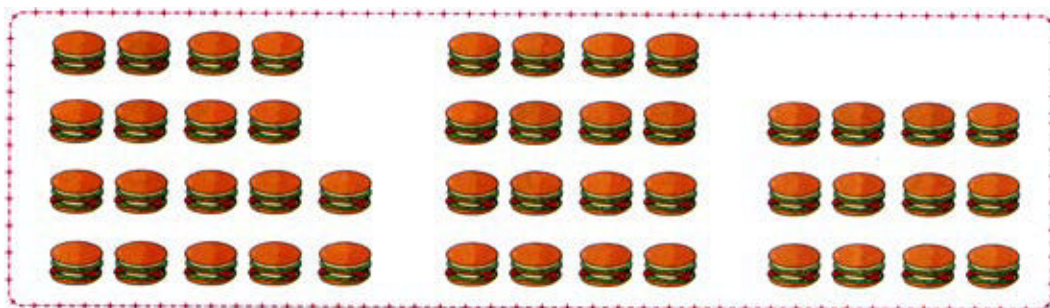
$$\begin{array}{r} 75 \\ - 7 \\ \hline \square \square \end{array}$$

$$\begin{array}{r} 94 \\ + 5 \\ \hline \square \square \end{array}$$


三、在□里填上适当的数字。



四、看图列算式。



$$\square \bigcirc \square \bigcirc \square = \square$$



$$\square \bigcirc \square = \square$$

五、在 里填上 “>” “<” 或 “=”。

$53 \text{ } \text{ } \text{ } 56$

$49 \text{ } \text{ } \text{ } 52$

$73 \text{ } \text{ } \text{ } 84$

$48+7 \text{ } \text{ } \text{ } 53$

$65+7 \text{ } \text{ } \text{ } 73$

$80-5 \text{ } \text{ } \text{ } 78$

$80-6 \text{ } \text{ } \text{ } 75$

$62+8 \text{ } \text{ } \text{ } 80$

$77+5 \text{ } \text{ } \text{ } 82$

六、应用题。

菲菲和悦悦一起折 , 菲菲折了 43 个 , 悦悦只折了 9 个 , 菲菲比悦悦多折了多少个 ?

$$\square \bigcirc \square = \square \text{ (个)}$$

答：菲菲比悦悦多折了 个 .



太好了



还不棒



加油哦

100 以内数的测试 (三)

一、按照要求排序。

1. 按照从小到大的顺序排列。

76 39 84

53 42 91

83 42 69

○ < ○ < ○

○ < ○ < ○

○ < ○ < ○

2. 按照从大到小的顺序排列。

37 69 74 46 83 53 92 59 63

○ > ○ > ○ > ○ > ○ > ○ > ○ > ○ > ○

二、在☆里写上正确的数字。

$$77 + 8 = \star$$

$$\star + 9 = 85$$

$$7 + \star = 52$$

$$\star + 4 = 81$$

三、算一算，将得数相同的算式连起来。



$$45+7$$



$$58+6$$



$$48+2$$



$$73+9$$



$$61-11$$



$$48+4$$



$$88-6$$



$$72-8$$



太棒了



还不错



加油哦

四、在  里填上 “>” “<” 或 “=”。

$56+4 \text{  } 63$

$90+4 \text{  } 99$

$85-4 \text{  } 80$

$75-4 \text{  } 73$

$46+3 \text{  } 82$

$77+6 \text{  } 83$

$93-7 \text{  } 85$


$85+7 \text{  } 90$

$92-5 \text{  } 48$

$90-6 \text{  } 83$

$49+7 \text{  } 56$

$49+4 \text{  } 55$

五、在  里填上 “>” 或 “<”。



$36+4$



$53-3$



$67-9$



$53+6$






$83-6$




$78+4$



六、应用题。


1. 藤上结了 85 串 ，摘下来 9 串 ，还剩下多少串 。

$\square \bigcirc \square = \square \text{ (串)}$

答：还剩下 串 。

2. 阳光幼儿园小班有 42 个 ，大班比小班少 4 个 ，大班有多少个 ？

$\square \bigcirc \square = \square \text{ (个)}$

答：大班有 个 。



太棒了



还不棒



加油哦

100 以内数的测试 (四)

一、按照规律填数字。



二、将钟表与下面给出的时间连在一起。



9:00



8:20



10:35

三、竖式计算。

$$\begin{array}{r} 87 \\ + 8 \\ \hline \square \square \end{array}$$

$$\begin{array}{r} 56 \\ - 8 \\ \hline \square \square \end{array}$$

$$\begin{array}{r} 49 \\ + 9 \\ \hline \square \square \end{array}$$

$$\begin{array}{r} 96 \\ - 7 \\ \hline \square \square \end{array}$$


$$\begin{array}{r} 43 \\ - 6 \\ \hline \square \square \end{array}$$

$$\begin{array}{r} 93 \\ + 4 \\ \hline \square \square \end{array}$$

$$\begin{array}{r} 39 \\ - 9 \\ \hline \square \square \end{array}$$

$$\begin{array}{r} 66 \\ + 7 \\ \hline \square \square \end{array}$$



四、在  里填上“+”或“-”。

$54 \text{  } 8=46$

$75 \text{  } 4=79$

$99 \text{  } 8=91$

$67 \text{  } 5=62$

$38 \text{  } 6=44$

$39 \text{  } 3=42$

$39 \text{  } 9=30$

$94 \text{  } 7=87$

$64 \text{  } 6=70$

$42 \text{  } 2=44$

$68 \text{  } 3=71$

$73 \text{  } 7=66$

五、连一连，帮助小猫吃到鱼。



$50+9$



$40+6$



$65+5$



$66+4$



$49-3$




$67-8$

六、应用题。

1. 小兔子和妈妈一起去拔 ，妈妈拔了 59 根 ，小兔子拔了 9 根 ，小兔子和妈妈一共拔了多少根 ？

$\square \bigcirc \square = \square \text{ (根)}$

答：小兔子和妈妈一共拔了 根 。

2. 草原上有 49 匹 ，8 头 ，草原上一共有多少只动物？

$\square \bigcirc \square = \square \text{ (只)}$

答：草原上一共有 只动物。



太好了



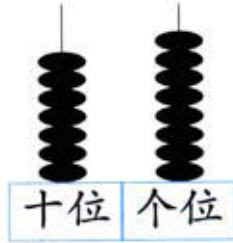
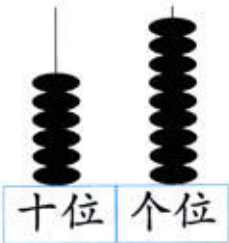

还不错



加油哦

100 以内数的测试 (五)

一、数一数，连一连。



二、找一找，连一连。



73 的相邻数

最小的两位数

个位数是 3，十位是 6 的数字

比 48 多 10 的数

三、算一算，把算式和正确的得数连起来。



$67+5$



$73-4$



$48+7$



$92-8$



$90-6$




$74-2$



$60+9$



$50+5$

四、在  里填上正确的数字。

$36 + \text{flower} = 45$

$20 + \text{flower} = 35$

$87 - 7 - \text{flower} = 60$

$42 - \text{flower} = 30$

$79 - \text{flower} = 59$


$53 + \text{flower} = 75$

$7 + \text{flower} = 32$

$100 - \text{flower} = 90$

$26 - 3 + \text{flower} = 30$

$25 + \text{flower} = 61$

五、在  里填上正确的数字。

$\text{cup}(67) + \text{cup}(4) = \text{cup}(\quad)$

$\text{cup}(\quad) + \text{cup}(8) = \text{cup}(83)$




$\text{cup}(9) + \text{cup}(\quad) = \text{cup}(80)$

$\text{cup}(\quad) + \text{cup}(3) = \text{cup}(92)$


$\text{cup}(83) + \text{cup}(9) = \text{cup}(\quad)$




$\text{cup}(\quad) + \text{cup}(5) = \text{cup}(79)$

六、应用题。

1. 家电广场七月份卖出 62 台 ，八月份比七月份多卖 8 台 ，八月份卖出多少台 ？

$\square \bigcirc \square = \square \text{ (台)}$

答：八月份卖出 台 。

2. 海浪花幼儿园有 36 个 ，8 个 ， 和  共有多少人？

$\square \bigcirc \square = \square \text{ (人)}$

答： 和  共有 人。



太好了



还不棒



加油哦

100 以内数的测试 (六)

一、读一读，连一连。

四十八

七十二

九十四

八十七

72

87

48

94

二、看谁算得又快又准。

$68+5=$



$72+9=$



$68-9=$



$93+6=$



$52-8=$



$73+4=$



$56-7=$



$63+8=$



$92-8=$



$60+7=$



$93-9=$



$63+9=$



三、算一算，将算式与正确的得数连起来。



$63-2$



77

$53+8$



$78+4$



61

$89-7$



$83-6$



82





$72+5$



四、算一算，填表格。

加数		64	73	
加数	3		8	6
和	74	73		57
被减数	93		85	63
减数		9	7	
差	5	73		55

五、应用题。


1. 花猫和猫头鹰捉 ，花猫捉了 52 只 ，猫头鹰捉了 9 只 ，花猫和猫头鹰一共捉了多少只 ？

$$\square \bigcirc \square = \square \text{ (只)}$$

答：花猫和猫头鹰一共捉了 _____ 只 。

2. 菲菲和甜甜一起去采 ，菲菲采了 64 朵 ，甜甜采了 6 朵 ，两个人一共采了多少朵 ？

$$\square \bigcirc \square = \square \text{ (朵)}$$

答：两个人一共采了 _____ 朵 。



太棒了



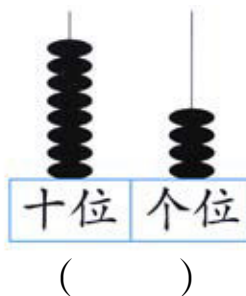
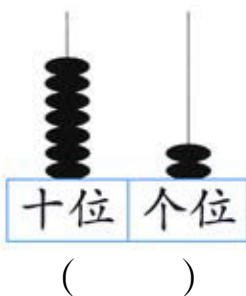
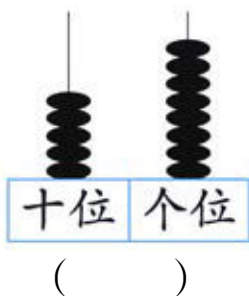
还不棒



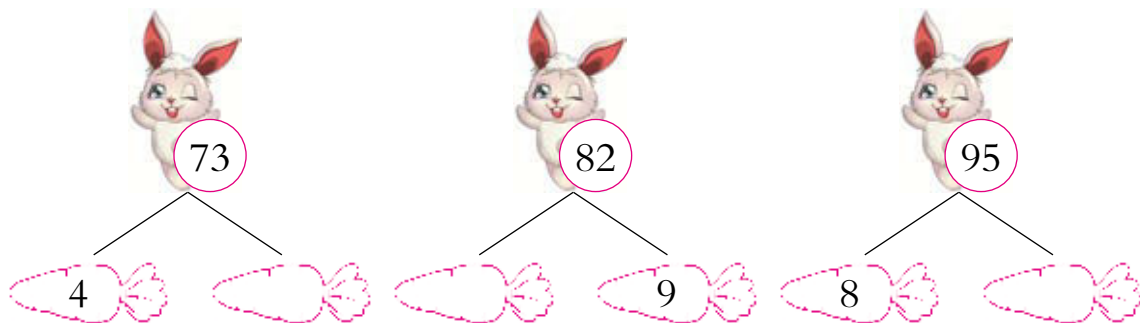
加油哦

100 以内数的测试 (七)

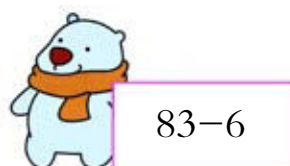
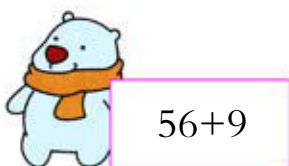
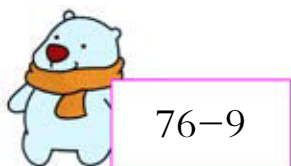
一、看图写数。



二、在 里填上适合的数。




三、帮小企鹅找朋友，连一连。




得数是“73”的北
极熊是我的朋友。








四、在  里填上正确的得数。


$63-4=$ 


$92-7=$ 

$69+4=$ 


$52+7=$ 


$65+9=$ 


$86-8=$ 


$39+4=$ 


$38+6=$ 


$83-3=$ 

$95-8=$ 

$44+5=$ 

$49+3=$ 

$44+6=$ 

$73-3=$ 

$53+6=$ 


五、连一连，看一看哪个小朋友能得到玩具。



$53-8$



$64+9$



79







$73+6$



$84-7$

六、应用题。

体育商店一共有两种球， 有 85 个， 有 9 个， 和  一共有多少个？

$\square \bigcirc \square = \square$ (个)

答： 和  一共有 _____ 个。