



《新编单元练测卷》编写组 编

新编 单元 练测卷

有练 | 有测 | 实用 | 好用



历史

岳麓版

八年级上册



湖南教育出版社

图书在版编目(CIP)数据

新编单元练测卷. 历史八年级. 上册: 岳麓版/《新编单元练测卷》编写组编. —长沙: 湖南教育出版社, 2016. 8
ISBN 978-7-5539-4302-2

I. ①新… II. ①新… III. ①中学历史课—初中—习题集
IV. ①G634

中国版本图书馆 CIP 数据核字(2016)第 195063 号

XINBIAN DANYUAN LIANCEJUAN

新编单元练测卷

历史

八年级上册 岳麓版

《新编单元练测卷》编写组 编

责任编辑: 周 霞

封面设计: 游 麒

出版发行: 湖南教育出版社(长沙市韶山北路 443 号)

网 址: <http://www.hneph.com>

电子邮箱: hnjycbs@sina.com

微信服务号: 多点学习

客 服: 电话 0731-85486979

总 经 销: 湖南省新华书店

印刷装订: 怀化市百草园印务有限公司

开 本: 880 mm×1230 mm 1/8

字 数: 155 千字

印 张: 5

版 次: 2016 年 8 月第 1 版 2016 年 8 月第 1 版第 1 次印刷

书 号: ISBN 978-7-5539-4302-2

定 价: 12.00 元

(本书若有印刷、装订错误, 可向承印厂调换)



第一单元练习卷 (第1~2课)

(时间: 90分钟 满分: 100分)

一、选择题 (每小题2分, 共40分)

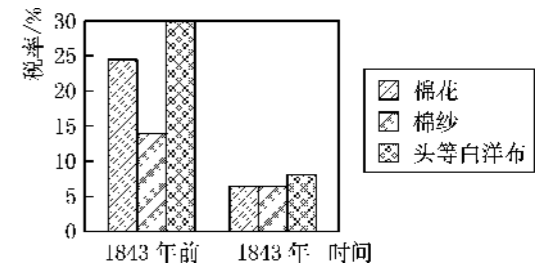
题号	1	2	3	4	5	6	7	8	9	10
选项										
题号	11	12	13	14	15	16	17	18	19	20
选项										

- 鸦片的输入给中华民族带来的深重灾难有 ()
①广大劳动人民的生活更加贫困 ②军队战斗力遭到削弱 ③清政府的财政收入激增 ④各级官僚贪污腐败更加严重
A. ①②④ B. ①③④ C. ③④ D. ①②③④
- “请君莫畏大炮子，百炮才闻几个死？请君莫畏火箭烧，彻夜才烧二三里。我所畏者鸦片烟，杀人不计亿万千……”这首《炮子谣》唱出了人们对鸦片的痛恨之情。清朝时上书道光帝、亲赴广东禁烟的钦差大臣是 ()
A. 郑成功 B. 林则徐 C. 关天培 D. 邓世昌
- 陈旭麓在《近代中国社会的新陈代谢》中写道：“对于中国来说，这场战争是一块界碑。它铭刻了中世纪古老的社会在炮口逼迫下走入近代的最初一步。”材料中的“这场战争”指的是 ()
A. 鸦片战争 B. 第二次鸦片战争
C. 三元里人民的抗英斗争 D. 太平天国运动
- 中国近代史以鸦片战争为开端，主要是因为 ()
A. 中国第一次被西方国家打败
B. 长期闭关锁国状态被打破
C. 社会性质开始发生根本变化
D. 民族矛盾取代了阶级矛盾
- 逛灯市、赏花灯是元宵节的一大民俗文化活动，福建福州人民为纪念本地的一位近代民族英雄，精心制作了一个大花灯，灯上有他的名言：“苟利国家生死以，岂因祸福避趋之。”这位民族英雄是 ()
A. 林则徐 B. 关天培 C. 洪秀全 D. 李秀成
- 在鸦片战争中，东南沿海地区的群众纷纷奋起抗英，其中规模最大的是 ()
A. 虎门人民的抗英斗争 B. 南京人民的抗英斗争
C. 三元里人民的抗英斗争 D. 厦门人民的抗英斗争
- 鸦片战争爆发的根本原因是 ()
A. 英国迫切需要打开中国的大门以推销商品、掠夺原料
B. 林则徐虎门销烟
C. 林则徐下令停止中英贸易
D. 英国急需占领香港岛

- 6月26日是国际禁毒日，我国政府往往在6月3日开始禁毒宣传月活动。它与下列哪一历史事件有着直接关系？ ()
A. 鸦片战争 B. 第二次鸦片战争
C. 虎门销烟 D. 太平天国运动
- 中国近代史上，被迫同西方侵略者签订的第一个不平等条约是 ()
A. 《尼布楚条约》 B. 《南京条约》
C. 《天津条约》 D. 《北京条约》

- 鸦片战争以后，中国开始沦为 ()
A. 资本主义社会 B. 殖民地
C. 半封建社会 D. 半殖民地半封建社会

- 识读右图，导致清朝这一时期几种主要进口货物税率(关税)发生变化的主要原因是 ()
A. 清朝实行闭关锁国政策
B. 中国纺织技术水平较低
C. 中英《南京条约》的签订
D. 英国棉纺织业发达



- 说第二次鸦片战争是第一次鸦片战争的继续，主要是因为 ()
A. 两次鸦片战争都是由鸦片输入问题引起的
B. 第二次鸦片战争中签订了使中国主权受到更大损害的不平等条约
C. 第二次鸦片战争英国仍为主要的侵略国家
D. 两次鸦片战争都是为打开中国市场而发动的
- 第二次鸦片战争前后俄国趁火打劫，割占中国领土达 ()
A. 40万平方千米 B. 44万平方千米
C. 60多万平方千米 D. 150多万平方千米
- 1853年，太平军定都 ()
A. 上海 B. 广州 C. 北京 D. 天京
- 1860年10月9日美国《纽约时报》的一篇报道说：“最近这两天发生在那里(指圆明园)的景象却是任何笔杆子都无法恰当描述的……”这则报道反映了 ()
A. 鸦片战争的相关史实 B. 虎门销烟的相关史实
C. 第二次鸦片战争的相关史实 D. 签订《南京条约》的相关史实
- 人民英雄纪念碑上有一幅浮雕刻画的是金田起义的壮丽场景，领导这场起义的历史人物是 ()
A. 洪秀全 B. 林则徐
C. 孙中山 D. 毛泽东
- 太平天国运动中，列强成立洋枪队，与清政府共同镇压太平军。这说明 ()
A. 太平军已攻陷北京城 B. 清军已失去抵抗能力
C. 外国势力已全面侵华 D. 中外反动势力已勾结
- “洋人好比一只鹰，黄毛高鼻绿眼睛；鸱鹰凶恶怕弓打，洋人怕的红头军。”这是19世纪中期在浙江一带流传的民歌。歌谣中的“红头军”指的是 ()
A. 太平军 B. 黄巾军 C. 清军 D. 绿林军
- 下列哪一个现象在1860年是可能发生的？ ()
A. 广州地方官员扣押不按中国自定的关税税率缴纳进口税的英国商人
B. 英国公使常驻北京
C. 中国人不得居住在北京东交民巷
D. 大批日本人到台湾定居

弥

得分：

学号：

封

姓名：

线

班级：

20. 下列罪行，发生在第二次鸦片战争期间的有 ()
- ①火烧圆明园 ②割占香港岛 ③组织洋枪队镇压太平军 ④割占库页岛
- A. ①② B. ②③④ C. ①③④ D. ①②④

二、判断题 (每小题 2 分, 共 10 分)

题号	21	22	23	24	25
正误					

21. 1841 年 6 月, 英国舰队封锁珠江口, 进行武装挑衅, 鸦片战争爆发。 ()
22. 《南京条约》中规定割香港岛给英国。 ()
23. 第二次鸦片战争中, 西方列强迫使清政府先后签订了《上海条约》和《北京条约》, 使中国丧失了更多的主权和领土。 ()
24. 火烧圆明园, 不仅给中国文化造成了不可弥补的损失, 也是对世界文明的践踏和破坏。 ()
25. 1860 年夏, 太平军将领李秀成率军进攻上海。上海地方官绅与西方侵略者勾结, 雇用美国人华尔组织洋枪队, 对抗太平军。 ()

三、填空题 (每小题 2 分, 共 10 分)

26. 在鸦片战争中, 中国爱国官兵进行了英勇的抵抗, 涌现了_____、_____等英雄人物。
27. 从鸦片战争开始, 中国人民肩负着既反对_____侵略, 又反对本国_____的重任。
28. 太平天国运动的主要领导人是_____。
29. _____是近代侵占中国领土最多的国家。
30. 太平军在_____击毙了洋枪队的头目华尔。

四、识图题 (共 15 分)

31. 看右图, 请回答:

(1) 这幅图反映了被焚烧的什么地方? (3 分)



(2) 这个地方是在什么时候被焚烧的? (3 分)

(3) 这个地方是被哪两个国家焚烧的? (4 分)

(4) 对此你有何感想? (5 分)

五、综合题 (共 25 分)

32. 马克思曾说: 英国的大炮破坏了中国的权威, 迫使天朝帝国与地上的世界接触。与外界完全隔绝曾是保存旧中国的首要条件, 而当这种隔绝状态在英国的努力之下被暴力所打破的时候, 接踵而来的必然是解体的过程。

(1) 造成中国与世隔绝的主要原因是当时统治者实行了什么政策? (2 分)

(2) “英国的大炮破坏了中国的权威”具体是指什么战争? (2 分) 它给中国带来的最严重影响是什么? (3 分)

(3) 这次战争中清政府被迫签订的不平等条约, 使中国哪些主权遭到了破坏? (3 分)

33. 阅读下列材料, 回答问题。

张三 (1817—1864), 广东梅县人, 靠祖辈留下的五亩薄地为生; 多次参加科举, 奈何屡试不中; 当过县官的幕僚, 看不惯官府黑暗, 愤而离开; 后战祸起, 为保国跑到广州去当兵, 可惜空有报国之志, 难有用武之地; 后来战争又起, 只得在听到敌人在京师杀人放火后, 悻悻 (怨恨、不高兴) 回家。当天国兴起时, 他加入太平军, 最终力战而死。死后他的家人想请当地士绅写墓碑碑文, 因其曾是“贼”遭到拒绝。但很久以后, 人们还常提起他。

(1) 根据材料中的描述, 张三亲历了我国近代史上哪些重大事件? (6 分)

(2) “敌人在京师杀人放火”的典型事件是什么? (2 分)

(3) 当地士绅为什么说张三曾是“贼”? (4 分)

(4) 从材料中可以看出张三是一个什么样的人? (3 分)



第一单元练习卷 (第3~4课)

(时间: 90分钟 满分: 100分)

一、选择题 (每小题2分, 共40分)

题号	1	2	3	4	5	6	7	8	9	10
选项										
题号	11	12	13	14	15	16	17	18	19	20
选项										

1. 驳斥放弃新疆, 力主收复失地, 制定“先北后南, 缓进急战”战略方针, 挥师入疆的是 ()
A. 林则徐 B. 曾国藩 C. 左宗棠 D. 李鸿章
2. 清政府任命的新疆第一任巡抚是 ()
A. 曾国藩 B. 李鸿章 C. 左宗棠 D. 刘锦棠
3. “大将西征人未还, 湖湘弟子满天山。新栽杨柳三千里, 赢得春风度玉关。”此诗反映的是 ()
A. 林则徐被发配到伊犁后开发新疆的业绩 B. 林则徐领导虎门销烟的事迹
C. 洪秀全领导金田起义的情形 D. 左宗棠率军收复新疆、治理边疆的伟大功绩
4. 根据下表推断该地区应该是 ()

西汉	西域都护
唐朝	安西都护府、北庭都护府
清朝前期	伊犁将军
清朝后期	设立行省

- A. 云南 B. 西藏 C. 新疆 D. 台湾
5. “从前我国还只是被西方大国打败过, 现在竟被东方的小国打败了, 而且失败得那样惨, 条约又订得那样苛, 这是多么大的耻辱啊!”这场战争是 ()
A. 第一次鸦片战争 B. 八国联军侵华战争
C. 甲午中日战争 D. 第二次鸦片战争
6. 甲午中日战争的起止时间是 ()
A. 1840—1842年 B. 1856—1860年
C. 1875—1881年 D. 1894—1895年
7. “东沟海战天如墨, 炮震烟迷船掀侧。致远鼓楫冲重围, 万火丛中呼杀贼。”清末郑观应的这首诗描述的应是哪次海战的悲壮场面? ()
A. 丰岛海战 B. 黄海大战
C. 青浦大捷 D. 威海卫战役
8. 右图是在甲午中日战争中为国捐躯的民族英雄 ()
A. 关天培 B. 左宗棠
C. 林则徐 D. 邓世昌



9. 中国“三军败绩”, 在马关“割地求和”, 颐和园内却“万寿无疆, 普天同庆”。把这些联系在一起, 你认为“三军败绩”的主要原因是 ()
A. 清政府的腐朽 B. 清政府不抵抗
C. 中国人民不觉醒 D. 日本的强大
10. 中日《马关条约》是继中英《南京条约》签订以来, 对中国造成最严重危害的不平等条约之一。前者内容与后者相比, 最大的不同点是允许列强在中国 ()
A. 开埠通商 B. 索取赔款
C. 割占土地 D. 开办工厂
11. 据统计, 1893年, 中国消费品原料进口占进口总额的13%; 到1903年, 这一比例上升到22.3%。导致这一现象出现的主要原因是 ()
A. 中英《南京条约》的影响 B. 中俄《瑷珲条约》的影响
C. 中日《马关条约》的影响 D. 《辛丑条约》的影响
12. 2014年4月13日, 《人民日报》在《从甲午战争的废墟上崛起》一文中指出: “120年前的那个甲午, 是黑暗的、痛苦的、流血的、沉沦的甲午。”这里主要是指甲午战争后 ()
A. 签订了不平等条约, 中国开始沦为半殖民地半封建社会
B. 日本发动了全面侵华战争, 中华民族面临着灭亡的危险
C. 完全沦为半殖民地半封建社会, 清政府成为“洋人的朝廷”
D. 刺激了帝国主义列强侵略中国的野心, 中国社会半殖民地化程度大大加深
13. 1896年的某一天, 苏州的一家日本工厂内机器轰鸣。这种情景之所以出现, 是因为 ()
A. 《南京条约》的签订 B. 《北京条约》的签订
C. 《马关条约》的签订 D. 《辛丑条约》的签订
14. 自1840年以来, 西方列强不断侵略中国, 中华民族饱受屈辱。下列侵略战争曾经攻占和炮轰北京城的是 ()
①鸦片战争 ②第二次鸦片战争 ③甲午中日战争 ④八国联军侵华战争
A. ①② B. ③④ C. ①③ D. ②④
15. 康有为于1899年从美洲回国, 途经日本马关, 触景生情写下了绝句一首: “碧海沉沉岛屿环, 万家灯火夹青山。有人遥指旌旗处, 千古伤心过马关。”马关一地使作者伤心的主要原因是 ()
A. 思念家乡 B. 《马关条约》的签订
C. 改革失败 D. 上书皇帝要求变法没有成功
16. 甲午中日战争后, 列强加紧了对中国的侵略, 其中进行资本输出的方式有 ()
①商品推销 ②设立银行 ③兴修铁路 ④开矿办厂
A. ①②③ B. ②③④
C. ①②④ D. ①③④
17. “义和团, 起山东, 不到三月遍地红。”出现这种状况的根本原因是 ()
A. 清政府的腐败 B. 帝国主义侵略日益加深
C. 贪官恶霸横行乡里 D. 贫苦农民富有斗争精神
18. 《庚子西狩丛谈》记载: “庚子(1900年)之役, 国家以乱民肇衅, 外国连衡而入京师……”这段文字叙述的应是 ()
A. 英军攻陷南京 B. 太平军占领天津
C. 义和团攻占南京 D. 八国联军占领北京
19. 八国联军攻陷北京后, 慈禧太后批准了《议和大纲》, 说要“尽中华之物力, 结与国之欢心”。这说明 ()
A. 中国开始沦为半殖民地半封建社会 B. 中国割让了黑龙江北岸大片国土给列强
C. 北洋舰队的失利使中国无力再战 D. 清政府完全沦为帝国主义统治中国的工具

得分: _____ 学号: _____ 姓名: _____ 班级: _____

20. 《辛丑条约》的内容中哪一项最能说明清政府已完全沦为帝国主义统治中国的工具? ()
- A. 中国赔偿白银 4.5 亿两
- B. 清政府保证严禁人民参加反帝活动
- C. 拆毁北京至大沽的炮台, 准许各国派兵驻守北京至山海关铁路沿线要地
- D. 划定东交民巷为“使馆界”, 界内不许中国人居住, 由各国派兵保护

二、判断题 (每小题 2 分, 共 10 分)

题号	21	22	23	24	25
正误					

21. 19 世纪六七十年代, 中亚浩罕国将领阿古柏侵占新疆南部及北部的一些地区。俄国还出兵侵占伊犁。 ()
22. 19 世纪末日本单独发动的侵华战争是甲午中日战争。 ()
23. 1876 年, 为了维护民族利益, 爱国将领关天培率军进入新疆讨伐阿古柏。 ()
24. 1895 年, 日军攻陷山东半岛和北洋海军基地威海卫, 中国战败。 ()
25. 《辛丑条约》中, 清政府赔偿日本军费白银 2 亿两。 ()

三、填空题 (每小题 2 分, 共 10 分)


26. 为加强西北边疆的管理和防务, 根据左宗棠的建议, 清政府于 1884 年设立了_____。
27. 陕甘总督_____坚决主张收复新疆, 被清政府任命为钦差大臣, 督办新疆军务。
28. 1900 年 6 月, _____、日、法、意、奥八国组成联军, 悍然发动侵华战争。
29. 中日《马关条约》中, 中国割让辽东半岛、_____和_____给日本。
30. 在_____中, 义和团和清军在老龙头火车站和紫竹林租界, 痛击了外国侵略者。

四、识图题 (共 15 分)

31. 观察下列两幅漫画:



漫画一 八国之辱



漫画二 洋人的玩偶

请回答:

- (1) 这两幅漫画均与哪次侵华战争有关? (2 分)
- (2) 漫画一中身着清朝官服的人代表什么? (1 分) 中国在这次战争中失败的原因有哪些? (4 分)
- (3) 请结合所学知识说说你对漫画二的理解。(4 分)

- (4) 说说你看到这两幅漫画后的感想。(4 分)

五、综合题 (共 25 分)

32. 阅读下列材料, 回答问题。

1900 年 8 月, 八国联军攻入北京。慈禧太后挟持光绪帝逃往西安, 途中下令清军“铲除”义和团, 并请求八国联军“助剿”。义和团运动失败了。

- (1) 以上材料反映了义和团运动失败的原因。从客观上看, 义和团运动失败的原因是_____的联合绞杀。(4 分)
- (2) 八国联军侵华给中国带来了什么后果? (6 分)

33. 阅读下列材料, 回答问题。

材料一 公元前 138 年和公元前 119 年, 汉武帝两次派张骞出使西域, 故《汉书》曰: 张骞始开西域之迹。

材料二 重新疆者, 所以保蒙古; 保蒙古者, 所以卫京师。

——左宗棠

- (1) 根据材料一, 你认为张骞通西域有哪些进步意义? (3 分) 这一地区开始归属中央政权管辖的标志是什么? (3 分)

- (2) 材料二中, 左宗棠的话语说明了什么? (2 分) 我们为什么称左宗棠为民族英雄? (3 分)

- (3) 近些年来, 民族分裂分子活动猖獗。你认为民族分裂分子分裂新疆的阴谋能得逞吗? 请说明原因。(4 分)



第一单元测试卷

(时间: 90 分钟 满分: 100 分)

一、选择题 (每小题 2 分, 共 30 分)

题号	1	2	3	4	5	6	7	8
选项								
题号	9	10	11	12	13	14	15	
选项								

- 中国近代史上, 列强发动了多次侵华战争。其中, 改变了中国社会性质的战争是 ()
A. 鸦片战争 B. 第二次鸦片战争
C. 甲午中日战争 D. 八国联军侵华战争
- 右图是某城市的一座雕塑, 寓意中国人民禁烟运动的伟大胜利, 其主题是“怒折烟枪”。雕塑中整个枪杆两头朝下、中间向上, 裂开的一侧形成犬牙状的尖锐裂口, 愤怒地直刺蓝天。该城市是 ()
A. 上海 B. 南京
C. 福州 D. 虎门
- 1839 年, 英国驻广州商务监督给首相发出密件, 建议向清廷发出通牒, 要求其割让一个岛屿给英王陛下。后来英国通过鸦片战争达到了该目的。这个“岛屿”是 ()
A. 香港岛 B. 辽东半岛
C. 台湾岛 D. 澎湖列岛
- 电影《鸦片战争》中有这样一个场景: 一个商人用手指着一个精美的彩色瓷瓶器张地说: “这就是清朝的形象, 丰满、浑圆、骄傲, 瞧不起世界上的一切。它满身自以为是, 但只要轻轻一碰, 它就会粉身碎骨。”鸦片战争中清朝“粉身碎骨”的结局实质上反映了当时中国 ()
A. 阶级矛盾尖锐 B. 军事技术落后
C. 综合国力衰落 D. 封建制度腐朽
- 有专家说: “条约中有三项规定对中国的危害最大——核定关税、治外法权和最惠国待遇。中国人同意这些条款部分是出于权宜之计, 部分是由于不懂国际法和国家主权概念。”“这些条款”出自 ()
A. 《南京条约》及其附件 B. 《北京条约》
C. 《马关条约》 D. 《辛丑条约》
- 清政府在两次鸦片战争中失败的根本原因是 ()
A. 清政府制度腐朽 B. 清政府的武器装备落后
C. 当时中国社会人心不稳 D. 清政府临战时战和不定
- 同学们都观看了以下几部影视剧, 按照事件发生的先后顺序排列, 正确的是 ()
①《鸦片战争》 ②《甲午风云》 ③《八国联军侵华之战》 ④《火烧圆明园》
A. ①②③④ B. ①④③②
C. ①④②③ D. ④①②③



- 对下面年代尺中提供的时间, 解读最准确的是 ()



- 中国近代遭受外来侵略的全过程
 - 中国一步步沦为半殖民地半封建社会的历程
 - 中国半殖民地半封建社会逐渐形成和瓦解的历史
 - 中国近代化的进程
- 某外国侵略者在镇压中国人民的一次抗争运动后感叹: “故瓜分一事, 实为下策。”这次运动是指 ()
A. 三元里人民的抗英斗争 B. 太平天国运动
C. 台湾人民的反割台斗争 D. 义和团运动
 - 清政府同西方侵略势力公开勾结镇压中国人民, 开始于 ()
A. 第一次鸦片战争后 B. 第二次鸦片战争前
C. 义和团运动中 D. 太平天国运动中
 - 19 世纪六七十年代, 直接出兵侵占我国伊犁地区的是 ()
A. 英国 B. 法国 C. 俄国 D. 美国
 - 《日本的战争赔偿责任》一文中写道: 甲午中日战争后, 中国赔偿日本白银 2 亿两, 这笔巨额赔偿相当于当时日本四年的国家预算额。日本把这笔巨款的 84.7% 用于军事, 其他部分用于皇室费用及教育基金等。以下对这则材料的解读最为准确的是 ()
A. 日本利用这笔巨款, 开始向欧美国家学习
B. 日本利用这笔巨款, 建立了一支效忠天皇的军队
C. 这笔赔款为日本扩充海陆军军备提供了大量资金
D. 这笔赔款为日本对中国进行经济扩张奠定了基础
 - 以下不平等条约中规定清政府向外国列强赔款最多的是 ()
A. 《南京条约》 B. 《马关条约》 C. 《辛丑条约》 D. 《北京条约》
 - 第二次鸦片战争与八国联军侵华战争的相似之处有 ()
①两国或两国以上的列强策划, 组成侵华联军 ②侵略者攻陷北京, 烧杀抢掠, 给中国人民生命财产和中国文化造成巨大破坏 ③镇压中国人民的革命运动 ④强迫中国签订不平等条约, 掠夺侵略权益
A. ①②③④ B. ①②③ C. ②③④ D. ①②④
 - 近代前期, 中国的对外战争多以失败告终。从历史的发展趋势而言, 这突出表明的实质问题是 ()
A. 战争的性质决定战争的胜负 B. 综合国力的强弱决定战争的结局
C. 政府的决策是战争胜负的关键 D. 落后的社会制度不敌先进的社会制度

二、判断题 (每小题 2 分, 共 10 分)

题号	16	17	18	19	20
正误					

- 在鸦片战争中, 东南沿海地区的群众纷纷奋起抗英, 其中规模最大的是虎门人民的抗英斗争。 ()
- 1862 年 9 月, 华尔率洋枪队进犯浙江。 ()
- 1884 年, 清政府为了加强西北边疆的管理和防务, 在那里设立了伊犁将军。 ()

弥封线
得分: _____
学号: _____
姓名: _____
班级: _____

19. 小强在一本回忆录中看到这样一句话：“我们与八国联军展开了血战，迫使敌人退回到天津租界。”这个战斗的场面应该发生在紫竹林租界。()
20. 1881年，中国收回伊犁。()

三、填空题 (每小题2分，共10分)

21. 鸦片战争后，中国社会的主要矛盾是_____和_____的矛盾。
22. 它“不花一文钱，不出动一兵一卒，而能比任何参战国得到更多的好处”。“它”是指侵占中国领土最多的_____。
23. 《_____》的签订使中国完全沦为半殖民地半封建社会。
24. 大规模的反帝爱国运动——义和团运动，首先在_____兴起。
25. 甲午中日战争中国战败后，美国提出“_____”政策，主张利益均沾，共同掠夺中国。

四、识图题 (共10分)

26. 看右图，请回答：

(1) 这幅图反映了哪个条约签订时的场景？(2分)



(2) 这个条约是在哪一年签订的？(2分)

(3) 清政府的代表是谁？(2分)

(4) 这个条约的签订对中国有何影响？(4分)

五、综合题 (共40分)

27. 阅读下列材料，回答问题。

1895年，有人写出这样的对联：“台湾省已归日本，颐和园又搭天棚。”

(1) 台湾是中国的领土，为什么那时“已归日本”？(3分)

(2) “颐和园又搭天棚”指的是什么？(3分)

(3) 这两件事联系在一起，说明了什么问题？(4分)

28. 阅读下列材料，回答问题。

材料一 割让香港岛给英国；赔款2100万元；开放广州、厦门、福州、宁波、上海五处为通商口岸；英商在华进出口货物应缴纳的税款，中国须同英国商定。

材料二 中国割让辽东半岛、台湾和澎湖列岛给日本；赔偿日本军费白银2亿两；增开沙市、重庆、苏州、杭州为通商口岸；日本人可在通商口岸设立工厂。

材料三 中国赔偿白银4.5亿两；拆毁北京至大沽的炮台，准许各国派兵驻守北京至山海关铁路沿线要地；划定东交民巷为“使馆界”，界内不许中国人居住，由各国派兵保护；清政府保证严禁人民参加反帝活动。

(1) 材料一、二、三分别是哪三个不平等条约的主要内容？(6分)

(2) 这三个条约的签订，对中国社会形态的变化分别起到了什么作用？(9分)

29. 阅读下列材料，回答问题。

由于中国人闭关自守、骄傲自满，(19世纪的)三次灾难性的战争使他们受到了巨大的刺激……在这些战争中所遭受到的耻辱性失败，迫使中国人打开大门，结束他们对西方的屈尊态度，重新评价自己的传统文明。其结果是入侵和反入侵的连锁反应……

——《全球通史》

(1) 你认为材料中所说的“(19世纪的)三次灾难性的战争”分别指的是哪三次战争？(6分)

(2) 材料中所提到的中国人民“反入侵”的斗争有哪些？请列举出来。(5分)

(3) 针对中国19世纪这种“入侵和反入侵”，你有何认识？(4分)



第二单元练习卷 (第5~6课)

(时间: 90分钟 满分: 100分)

一、选择题 (每小题2分, 共40分)

题号	1	2	3	4	5	6	7	8	9	10
选项										
题号	11	12	13	14	15	16	17	18	19	20
选项										

1. 学习完“洋务运动”这课后, 小明对知识进行了如下整理:

①洋务运动是中国封建地主阶级的一次自救运动; ②它刺激了中国资本主义的产生和发展; ③它虽为民族自强做了努力, 但对抑制外国经济势力的扩张没有起到任何作用; ④它没能使中国富强起来。

整理的内容符合史实的有 ()

- A. ①②③ B. ①②④ C. ①③④ D. ②③④

2. 近代化的起步始于洋务运动, 你知道洋务派开展洋务运动的主要目的是什么吗? ()

- A. 发展军事, 维护闭关自守的政策
B. 引进西方先进的技术, 抵制外国侵略
C. 引进西方先进的军事技术, 维护清朝统治
D. 引进西方先进的技术, 发展资本主义

3. 洋务运动后期, 洋务派提出的口号是 ()

- A. 制度 B. 自强 C. 灭洋 D. 求富

4. 洋务运动的主要内容包括 ()

- ①创办军事工业 ②创办民用工业 ③筹建海军 ④废除科举制
A. ①②③ B. ②③④ C. ①②③④ D. ①③④

5. 洋务派在湖北创办的民用企业是 ()

- A. 江南制造总局 B. 汉阳铁厂
C. 轮船招商局 D. 开平矿务局

6. 洋务派认为: “自强以练兵为要, 练兵又以制器为先。”洋务运动的内容中能体现“制器为先”的是 ()

- A. 创办军事工业 B. 创办民用工业
C. 兴办新式学校 D. 派留学生出国

7. 大不列颠的枪炮使洋务派深刻认识到: “自强之道, 以育人才为本; 求才之道, 尤宜以设学堂为先。”因此, 洋务派在各地创办外国语学堂、技术学堂和军事学堂。这些洋务学堂的创办所起的主要作用是 ()

- A. 促进民族资本主义的发展 B. 抵制外国经济势力的入侵
C. 建立起先进的工业体系 D. 推动中国教育近代化进程

8. 陈旭麓在《近代中国社会的新陈代谢》中提到: “1865年, 李鸿章在上海成立的江南制造总局, 成为当时最大的军工厂。此外, 各省先后办过20个机器局, 都是兵工厂。其间不仅搬入了外国的枪炮、弹丸、雷管, 而且外国的机器也由此而传入中国。这些企业由国库支付开销, 以调拨分配产品, 内无利润积累, 外无市场联系。”下列对上述材料理解正确的是 ()

- A. 兴办这些企业体现了洋务派“求富”的要求
B. 兴办这些企业使李鸿章等官僚大发横财
C. 洋务派兴办了近代第一批民族资本主义企业
D. 这些企业的经营方式导致它们的经济效益低下

9. 甲午战败后, 李鸿章伤感地说: “我办了一辈子的事, 练兵也, 海军也, 都是纸糊的老虎……不过勉强涂饰, 虚有其表。”从他的话中, 我们可以看出洋务运动是 ()

- A. 一次使中国走上富强道路的运动
B. 一次资产阶级的民主革命运动
C. 一次失败了的封建统治者的自救运动
D. 一次资产阶级的改良运动

10. 在洋务企业的刺激下, 19世纪六七十年代, 中国沿海一些地区部分官僚、地主、商人、买办和手工业作坊主, 开设工厂, 雇用工人进行生产。这说明洋务运动 ()

- A. 培养了一批科技人才
B. 对外国经济势力的扩张起到一些抵制作用
C. 刺激了中国资本主义的产生和发展
D. 引进了西方先进的科学技术

11. 1895年的公车上书中, 康有为痛陈《马关条约》的危害, 强烈主张“拒和、迁都、变法”, 最终得以实践的只有 ()

- A. 拒和 B. 迁都 C. 变法 D. 革命

12. 在某校八年级(1)班举行的一次历史活动探究课上, 同学们围绕中国的近代化问题展开激烈的讨论, 李明同学发表了自己的看法。你认为他的观点中, 与历史事实不相符的是 ()

- A. 洋务派主张兴办近代工业的目的是维护清朝的统治
B. 洋务运动刺激了中国资本主义的产生和发展
C. 公车上书拉开了中国维新变法运动的序幕
D. 戊戌变法的目的是推翻清朝统治, 在中国建立资本主义制度

13. 小丽想利用网络查找一下“戊戌变法”的主要内容, 她使用的关键词是“戊戌变法”, 如果换一个关键词, 最恰当的应是 ()

- A. 百日维新 B. 公车上书
C. 戊戌政变 D. 中外纪闻

14. 某历史兴趣小组的同学正在讨论戊戌变法, 下列说法中不正确的是 ()

- A. 康有为、梁启超等领导的一场救亡图存的爱国运动
B. 从开始到失败历时103天
C. 由于慈禧太后发动政变而失败
D. 是一次失败的运动, 不利于社会进步

15. 维新派的改革遭到顽固派的激烈反对, 主要是因为 ()

- A. 维新派反对清政府 B. 改革触犯了顽固派的利益
C. 改革完全是错误的 D. 维新派反对帝国主义

16. 《时务报》《国闻报》《万国公报》等出现于 ()

- A. 洋务运动中 B. 鸦片战争时期
C. 甲午中日战争时期 D. 戊戌变法时期

得分:

学号:

姓名:

班级:

17. 我们说维新变法运动起了思想启蒙作用, 其中的“思想”指的是 ()
 A. 封建思想 B. 帝国主义思想
 C. 资产阶级思想 D. 无产阶级思想
18. 在中国近代化道路探索过程中, 力图通过改革在中国发展资本主义的是 ()
 A. 维新变法运动 B. 洋务运动
 C. 太平天国运动 D. 辛亥革命
19. 下列哪一事件的失败说明资产阶级改良道路在半殖民地半封建社会的中国行不通? ()
 A. 太平天国运动 B. 戊戌变法 C. 洋务运动 D. 辛亥革命
20. 近代中国曾有人指出:“(土耳其)不变旧法, 遂为六大国割地废君, 而柄其政。日本一小岛夷耳, 能变旧法, 乃能灭我琉球, 侵我大国。前车之辙, 可以为鉴。”“伏惟皇上……破除旧习, 更新大政。”由此可知他主张 ()
 A. 率领清军、抵抗侵略 B. 学习西方、发展科技
 C. 变法维新、救亡图存 D. 放弃抵抗、妥协求和

二、判断题 (每小题 2 分, 共 10 分)

题号	21	22	23	24	25
正误					

21. 洋务运动刺激了中国资本主义的产生和发展, 从而启动了中国近代化的进程。 ()
22. 京师同文馆的设立是戊戌变法的主要内容之一。 ()
23. 洋务派创办了一批培养翻译、军事、工业人才的新式学堂, 并派人出国留学。 ()
24. 公车上书成功了, 并在社会上产生了广泛的影响。 ()
25. 湖南巡抚陈宝箴支持戊戌变法。 ()

三、填空题 (每小题 2 分, 共 10 分)

26. 洋务派在中央以_____为代表, 在地方以_____、_____、_____、张之洞等为代表。
27. 洋务运动的侧重点在于学习西方先进的_____。
28. 洋务运动前期的口号是“_____”。
29. 洋务运动后期创办了一批民用企业, 如李鸿章在上海创办的_____, 张之洞创办的_____、_____等。
30. 1898 年光绪帝颁布诏书宣布变法, 史称“_____变法”。

四、识图题 (共 12 分)

31. 读图, 猜猜他们分别是谁。



- (1) 图一中的人物提出“变者, 天下之公理也”。他是_____。(4分)
- (2) 图二中的人物在牺牲前大声说道:“有心杀贼, 无力回天, 死得其所, 快哉! 快哉!”他是_____。(4分)

(3) 图三中的人物在公车上书后, 又三次上书光绪帝, 痛切陈述变法的重要性, 使光绪帝深为感动, 让他全面筹划变法。他是_____。(4分)

五、综合题 (共 28 分)

32. 根据下表回答问题。

类别	名称	创办时间	创办人
中国第一个近代兵工厂	安庆内军械所	1861 年	曾国藩
中国第一个近代采煤企业	开平矿务局	1878 年	李鸿章
中国第一个近代钢铁企业	汉阳铁厂	1890 年	张之洞

(1) 表格中所列内容与哪一次运动有关? 该运动的目的是什么? (5分)

(2) 表格中的许多“第一”对中国近代社会的发展有何作用? (5分)

33. 材料一 观大地诸国, 皆以变法而强, 守旧而亡……能变则全, 不变则亡; 全变则强, 小变仍亡。

——康有为

材料二 使戊戌政变不致推翻, 行二十年之新政, 或已致中国于富强。

——胡适

请回答:

(1) 材料一反映了康有为的什么主张? (3分)

(2) 从材料二中可以看出此事件的结果如何? 结合所学内容, 分析出现这种结果的原因。(8分)

(3) 胡适的观点是否正确? 为什么? (7分)



第二单元练习卷 (第7~9课)


(时间: 90分钟 满分: 100分)

一、选择题 (每小题2分, 共40分)

题号	1	2	3	4	5	6	7	8	9	10
选项										
题号	11	12	13	14	15	16	17	18	19	20
选项										

- 毛泽东指出:“中国反帝反封建的资产阶级民主革命, 正规地说起来, 是从孙中山先生开始的。”这是因为孙中山 ()
 - 第一个提出了发展资本主义的方案
 - 第一个建立了资产阶级政治团体
 - 第一个提出推翻清政府, 建立资产阶级共和国
 - 第一个发动了旨在推翻清朝统治的武装起义
- 目前, 李教授正在兴中会成立地讲学, 他讲学的地点是 ()
 - 广州
 - 香港
 - 檀香山
 - 东京
- 1912年元旦, 中华民国成立后开始采用中华民国纪元, 一位老人出生于民国二十三年, 请问他出生于公元多少年? ()
 - 1934年
 - 1935年
 - 1936年
 - 1937年
- 是谁于1912年在南京宣誓就职, 宣告中华民国临时政府成立? ()
 - 孙中山
 - 黎元洪
 - 黄兴
 - 宋教仁
- 同盟会纲领:“驱除鞑虏, 恢复中华, 创立民国, 平均地权。”这里的“鞑虏”指的是 ()
 - 西方列强
 - 满洲贵族
 - 汉族人民
 - 少数民族
- 中国第一个全国规模的统一的资产阶级革命政党是 ()
 - 兴中会
 - 保国会
 - 国民党
 - 同盟会
- “三民主义”指导思想的内涵是指 ()
 - ①民族 ②民权 ③民生 ④民主
 - ①②③
 - ①③④
 - ②③④
 - ①②④
- “这个事件的意义是结束了2000多年的帝制, 赶跑了皇帝, 建立了共和。”“这个事件”是指 ()
 - 戊戌变法
 - 辛亥革命
 - 南昌起义
 - 西安事变
- 某地拟建辛亥革命纪念馆, 以纪念辛亥革命首义成功等事情, 这一地点应该是 ()
 - 上海
 - 武昌
 - 北京
 - 广州

- 辛亥革命后, 译著《平民政治》立即更名为《共和政治》, 《国粹学报》改名为《共和杂志》后一段时间内畅销不衰。这反映了当时 ()
 - 书籍报刊出现更名热潮
 - 民主共和观念深入人心
 - 宣传共和的报刊大量创办
 - 封建势力退出历史舞台
- 有人说:“辛亥革命在一片欢呼声中失败了。”说辛亥革命“失败了”的根本依据是 ()
 - 孙中山辞去临时大总统的职务
 - 袁世凯窃取辛亥革命果实
 - 资产阶级太软弱
 - 没有完成反帝反封建的民主革命任务
- 新文化运动的主要代表人物有 ()
 - ①陈独秀 ②李大钊 ③鲁迅 ④胡适 ⑤毛泽东
 - ①②
 - ①②③
 - ①②③④
 - ①②③④⑤
- 某历史兴趣小组的同学要查找新文化运动兴起的资料, 应选的刊物是 ()
 - 《民报》
 - 《革命军》
 - 《我的马克思主义观》
 - 《新青年》
- 中国同盟会的机关刊物是 ()



- 不懈的探索是中国近代史的主题之一。下列探索中的口号或主张提出的先后顺序是 ()
 - ①“民主”和“科学” ②“自强”与“求富” ③“民族”“民权”“民生”
 - ①②③
 - ①③②
 - ②③①
 - ②①③
- 新文化运动是近代中国的一次思想大解放, 其“新”主要表现在 ()
 - 宣传“尊孔读经”
 - 宣传维新变法
 - 宣传推翻清王朝
 - 宣传民主、科学
- 新文化运动后期, 在宣传俄国十月革命和马克思主义方面成就较为显著的人物是 ()
 - 李大钊
 - 胡适
 - 鲁迅
 - 陈独秀
- 史学界认为: 新文化运动是辛亥革命的继续。这主要是就其 ()
 - 是一场文化运动来说的
 - 作为反复辟运动来说的
 - 要求民主与科学来说的
 - 批判儒家思想来说的
- 新文化运动的主要内容之一是文学革命, 以白话文取代文言文。这一提倡 ()
 - 开启了新文化运动
 - 使中华传统文明逐渐消失
 - 发展了马克思主义
 - 为文化发展提供了新模式
- 下列事件发生在上海的有 ()
 - ①《申报》创刊 ②商务印书馆成立 ③《新青年》创刊 ④中国同盟会成立 ⑤辛亥革命爆发
 - ①②③④⑤
 - ②③④⑤
 - ①②③
 - ①③⑤

二、判断题 (每小题 2 分, 共 10 分)

题号	21	22	23	24	25
正误					

21. 中国同盟会成立时的执行部庶务是黄兴。 ()
22. 三民主义是孙中山领导民主革命的指导思想。 ()
23. 中华民国临时政府定都天津, 改用公历, 以中华民国纪元。 ()
24. 陈独秀发表《敬告青年》一文, 提倡科学和民主, 吹响了新文化运动的号角。 ()
25. 《民报》是新文化运动的主要阵地。 ()

三、填空题 (每小题 2 分, 共 10 分)

26. 孙中山成立了革命团体兴中会, 提出了“_____”的口号。
27. 1905 年 8 月, 中国同盟会在日本东京成立, 公推_____为总理。
28. 1911 年, 武昌起义在武汉三镇取得胜利。湖北军政府成立, _____任都督。
29. 1917 年初, _____就任北京大学校长后, 提倡学术上“_____”, 聘请具有新思想的学者到北大任教。
30. 新文化运动的内容是: 提倡_____, 反对_____ ; 提倡_____, 反对_____ ; 提倡新道德, 反对旧道德; 提倡新文学, 反对旧文学。

四、识图题 (共 12 分)

31. 图说历史。

- (1) 右图人物是中国民主革命的先行者_____。(4 分)
- (2) 他领导了推翻清朝统治的革命, 这次革命的名称是_____ ; 这次革命是一次伟大的反帝反封建的_____革命。(8 分)



五、综合题 (共 28 分)

32. 民主和科学是近代以来中国人不懈追求的目标。辛亥革命后, 中国一批先进的知识分子就曾高举这两面旗帜, 为寻找救国的新出路, 掀起了一场新文化运动。这场运动的基本内容是什么? (6 分) 代表人物有哪些? (5 分) 有什么重要意义? (6 分)

33. 阅读下列材料:

材料一 新文化运动的口号是“德先生”和“赛先生”, 也就是民主和科学。

材料二 我们现在认定只有这两位先生, 可以救治中国政治上道德上学术上思想上一切的黑暗。

——陈独秀

请回答:

(1) 上述材料反映了新文化运动哪方面的内容? (4 分)

(2) 你认为陈独秀为什么要在新文化运动中提出“民主和科学”的口号? (7 分)



第二单元测试卷



(时间: 90 分钟 满分: 100 分)

一、选择题 (每小题 2 分, 共 30 分)

题号	1	2	3	4	5	6	7	8
选项								
题号	9	10	11	12	13	14	15	
选项								

- 洋务运动始于 ()
A. 19 世纪 50 年代初
B. 19 世纪 60 年代初
C. 19 世纪 70 年代初
D. 19 世纪 80 年代初
- 洋务派创办的规模最大的近代军事企业是 ()
A. 江南制造总局
B. 福州船政局
C. 安庆内军械所
D. 汉阳铁厂
- 两千多年前, 古罗马哲学家西塞罗说: “谁控制了海洋, 谁就控制了世界。” 洋务运动中创建的海军有 ()
①南洋 ②北洋 ③广东 ④福建
A. ①②③
B. ①③④
C. ②③④
D. ①②③④
- 据资料统计, 从 1862 年到 1894 年这 30 多年中, 李鸿章所主办和参与筹办的“新政”事业占中国这一时期举办的全部新政的 80% 以上, 其范围包括军火、采矿、民用, 此外还举办新式学校。李鸿章“新政”事业的主题是 ()
A. 废除八股取士, 举办新式教育
B. 发展近代产业, 抵御外侮
C. 引进先进技术, 兴办民族工业
D. 学习西方思想, 改变传统习俗
- 戊戌政变时, 慷慨表示甘为变法流血牺牲的第一人是 ()
A. 康有为
B. 邓世昌
C. 梁启超
D. 谭嗣同
- 19 世纪末一西方报纸称: “甲午战争以后, 中国有三党: 一党……意在保现存之局面; 一党……意在保国以变法; 一党……意以作乱为自振之机。” 文中的“三党”分别是指 ()
A. 顽固派、维新派和革命派
B. 顽固派、洋务派和维新派
C. 洋务派、维新派和革命派
D. 顽固派、抵抗派和洋务派
- 新文化运动是一场 ()
A. 马克思主义的宣传教育运动
B. 资产阶级改良运动
C. 民主和科学思想的普及教育运动
D. 空前的思想解放运动
- “舍得一身剐, 敢把皇帝拉下马!” 你认为“敢把皇帝拉下马”的是下面哪位人物? ()
A. 康有为
B. 梁启超
C. 孙中山
D. 陈独秀

- 右图杂志创办于 ()
A. 洋务运动时期
B. 戊戌变法时期
C. 辛亥革命时期
D. 新文化运动时期
- 它首次在中国大地宣告国家主权属于人民……国会政治、政党政治、舆论监督政府等民权政治, 变人治为法治的尝试由此正式开端。替代文中“它”最恰当的是 ()
A. 中国同盟会
B. 武昌起义
C. 中华民国
D. 中华苏维埃共和国
- “八荣八耻”中提出“以崇尚科学为荣, 以愚昧无知为耻”。下列哪一事件也曾提出过类似的思想主张? ()
A. 洋务运动
B. 维新变法运动
C. 辛亥革命
D. 新文化运动
- “打倒孔家店”这个口号的提出是在 ()
A. 洋务运动中
B. 维新变法运动中
C. 辛亥革命中
D. 新文化运动中
- “女学生已经开始觉悟, 抵制学校开设的‘列女传’ (修身课)。在操场的树荫下, 在宿舍里, 她们常常聚在一起, 争得面红耳赤, 后来由争论变成抗婚、逃婚, 以实际行动反抗旧礼教, 争取婚姻自由。” 这则材料反映的是 ()
A. 维新启蒙思想开始传播
B. 民主共和观念深入人心
C. 近代学校开设修身课程
D. 民主科学思想冲击封建礼教
- 历史课上, 历史老师给学生提供了近代史上的 12 位历史人物, 让学生将这些人物进行分类。下列是一名同学的分类结果, 其中不恰当的是 ()
A. 曾国藩、李鸿章、左宗棠
B. 张之洞、孙中山、袁世凯
C. 陈独秀、李大钊、胡适
D. 康有为、梁启超、谭嗣同
- 下列内容与新文化运动相对应的是 ()
A. 以“民主”“科学”为旗帜, 是中国近代一次空前的思想解放运动
B. 是一场旨在变法图强、挽救中华民族危亡的资产阶级改革
C. 是一场结束了中国 2000 多年封建帝制的革命
D. 以“自强”“求富”为口号, 开辟了中国近代化道路的运动



二、判断题 (每小题 2 分, 共 10 分)

题号	16	17	18	19	20
正误					

- 洋务派创办的著名民用企业有轮船招商局、江南制造总局、汉阳铁厂等。 ()
- 戊戌变法是一场救亡图存的政治变革, 又是一次思想启蒙运动。 ()
- 1905 年, 孙中山成立兴中会, 确立了推翻清朝的斗争目标。 ()
- 三民主义的内容为“民主”“民权”“民生”。 ()
- 新文化运动的斗争锋芒集中指向封建正统思想——孔孟之道。 ()

三、填空题 (每小题 2 分, 共 10 分)

- 在举办近代工业的同时, 洋务派用新式枪炮、轮船装备军队, 改造_____, 建立新式_____。

得分: _____ 姓名: _____ 学号: _____ 班级: _____

22. 德国强占_____以后,康有为几次上书光绪帝,陈述民族危机的严重和维新变法的重要。
23. 1898年_____月_____日,慈禧太后发动政变,戊戌变法失败。
24. 袁世凯就任中华民国临时大总统表明_____的统治建立。
25. 新文化运动的代表人物有_____、_____、_____、_____等。

四、识图题 (共10分)

26. 观察下列人物图片,回答问题。



图一



图二



图三



图四

(1) 图片中的四位历史人物分别是谁?(4分)

(2) 结合所学知识,请你分别谈谈他们对中国近代化所做的贡献。(4分)

(3) 你知道图三中的人物创办的宣传新思想的刊物的名称吗?(2分)

五、综合题 (共40分)

27. 阅读下列材料:

材料一 1912年2月12日,隆裕太后带着清王朝的末代皇帝溥仪,在养心殿里举行了最后一次朝见礼仪。在中国历史上延续了2000多年的封建君主专制制度被推翻了。

材料二 在帝国主义的干涉和封建势力的压力下,1912年4月孙中山被迫解职,袁世凯窃夺革命果实,临时政府北迁。

请回答:

有人说:“辛亥革命推翻了封建帝制,建立了资产阶级共和国,革命胜利了。”也有人说:“辛亥革命只赶走了一个皇帝,剪了一条辫子,革命失败了。”辛亥革命是胜利了还是失败了?请结合材料谈谈你的观点。(10分)

28. 阅读下列材料:

查治国之道,在乎自强,而审时度势,则自强以练兵为要,练兵又以制器为先。

——《筹办夷务始末》同治朝第25卷

请回答:

(1) 材料中的内容是清朝什么政治派别的主张?(3分)你是依据什么内容得出这一结论的?(4分)

(2) 这一派别在19世纪60至90年代进行了哪些主要的实践活动?(8分)

29. 阅读下列材料,回答问题。

材料一 1895年,《马关条约》签订的消息传到北京,康有为和梁启超正在北京参加会试,他们联合各省参加会试的举人1000多名,上书光绪帝,反对同日本议和,请求变法。

材料二 有心杀贼,无力回天,死得其所,快哉!快哉!

——谭嗣同

(1) 材料一描述的是什么历史事件?(2分)这次事件有什么影响?(3分)

(2) 材料二引述的诗句是谭嗣同在什么事件失败后说的?(1分)这次事件的失败说明了什么?(2分)

(3) 材料二中的“贼”指的是哪一派力量?(3分)维新派为什么“无力回天”?(4分)



第三单元练习卷 (第10~12课)

(时间: 90分钟 满分: 100分)

一、选择题 (每小题2分, 共40分)

题号	1	2	3	4	5	6	7	8	9	10
选项										
题号	11	12	13	14	15	16	17	18	19	20
选项										

- 五四运动的口号有 ()
①外争国权, 内除国贼 ②拒绝在巴黎和会上签字 ③提倡民主, 反对专制 ④取消二十一条
A. ①②③ B. ②③④ C. ①②④ D. ①③④
- 五四爱国运动爆发的导火线是 ()
A. 北洋军阀的黑暗统治 B. 北洋军阀逮捕爱国学生
C. 俄国十月革命的影响 D. 巴黎和会上中国外交的失败
- “痛殴卖国贼, 火烧赵家楼。锄奸不惜死, 来把中国救。”青年学生, 总是用他们满腔的热血与辛勤的汗水书写着永不褪色的青春传奇。1919年, 就是这样一群学生揭开了一个新时代的序幕。这里的“新时代”是指 ()
A. 旧民主主义革命时代 B. 资产阶级革命时代
C. 新民主主义革命时代 D. 清朝统治时代
- 今天的五四青年节来源于五四运动, 因为在这次运动中青年学生发挥了 ()
A. 领导作用 B. 主力军作用
C. 先锋作用 D. 决定作用
- 右图是五四运动后北京高等师范学校被捕学生回校时受到同学们热烈欢迎的情景, 这表明 ()
A. 五四运动的主体是青年学生
B. 五四运动的中心在北京
C. 学生在与北洋军阀的斗争中不屈不挠
D. 五四运动扩大了马克思主义的传播
- 翻开《谢觉哉日记》, 1921年6月29日有这样一行字: “午后六时叔衡往上海, 偕行者润之, 赴全国○○○○○之招。”这五个圆圈, 谢觉哉后来解释说是“共产主义者”, 当时他知道这是件大事, 怕泄露, 只能以圈代意。其中“大事”是指 ()
A. 中共“一大” B. 遵义会议
C. 中共“七大” D. 重庆谈判
- “自从有了中国共产党, 中国革命的面貌就焕然一新了。”“新”主要表现在 ()
①革命出现了崭新的无产阶级政党的领导 ②改变了近代以来革命屡败的局面 ③马克思主义开始成为革命的指导思想 ④以实现社会主义、共产主义为奋斗目标
A. ①②③ B. ①②④ C. ②③④ D. ①②③④



- 胡适回忆说: “民(国)十五六年之间, 全国多数人心倾向中国国民党……”出现这一现象的原因是中国发生了 ()
A. 北伐战争 B. 武昌起义 C. 洋务运动 D. 新文化运动
- 国民革命军出师北伐的时间是 ()
A. 1924年 B. 1925年 C. 1926年 D. 1927年
- 标志着国民政府在形式上完成南北统一的事件是 ()
A. 宁汉合流 B. 东北易帜
C. 国共合作 D. 南京国民政府成立
- 北伐时的国民革命军总司令是 ()
A. 孙中山 B. 叶挺 C. 蒋介石 D. 汪精卫
- 右边漫画反映了我国近代民主革命进程中的某一重大历史事件, 该事件是 ()
A. 辛亥革命 B. 国民革命
C. 新文化运动 D. 五四运动
- 2016年7月1日是中国共产党诞生多少年的纪念日? ()
A. 89年 B. 90年 C. 93年 D. 95年
- 中国第一个共产党早期组织诞生的地址和创建者分别是 ()
A. 北京、陈独秀 B. 上海、陈独秀
C. 长沙、李大钊 D. 济南、李大钊
- 中共“一大”确定党成立以后的中心任务是 ()
A. 组织工会, 领导工人运动 B. 实现共产主义
C. 民主集中制 D. 推翻资产阶级政权, 建立无产阶级专政
- 某历史兴趣小组若要实地考察中国共产党的诞生地, 他们应去 ()
①南京 ②上海 ③广州 ④嘉兴南湖 ⑤武汉
A. ①② B. ②⑤ C. ②④ D. ③⑤
- 在北伐战争胜利进军的过程中, 英勇善战、战功显赫、为第四军赢得“铁军”称号的是 ()
A. 叶挺独立团 B. 东路军
C. 冯玉祥部 D. 国民革命军
- 1927年4月, 蒋介石在哪里建立了国民政府? ()
A. 南京 B. 上海 C. 武汉 D. 北京
- 孙中山接受中国共产党反帝反封建政治主张的根本原因是 ()
A. 护法运动的失败 B. 坚持民主革命的立场
C. 共产国际的建议 D. 中国共产党的真诚帮助
- 某中学历史兴趣小组准备参观20世纪20年代建立的陆军军官学校的旧址, 他们应去的地方是 ()
A. 武汉 B. 广州 C. 上海 D. 南京



二、判断题 (每小题2分, 共10分)

题号	21	22	23	24	25
正误					

- 无产阶级开始登上政治舞台, 成为五四运动的主力。运动的中心由北京转移到上海。 ()

得分: _____ 姓名: _____ 班级: _____

22. 五四运动是中国近代史上一次彻底的反帝反封建的爱国运动。 ()
23. 中国共产党第一次全国代表大会选举了党的中央领导机构——中央局，李大钊为书记。 ()
24. 北伐的方针是，先集中主力于两湖战场，扫除孙传芳的势力，然后挥师东进，歼灭吴佩孚的兵力，最后消灭张作霖的军队，统一全国。 ()
25. 1928年底，张学良冲破日本的阻挠，宣布东北“服从国民政府，改易旗帜”。 ()

三、填空题 (每小题2分，共10分)

26. 在五四运动中，学生提出的“内除国贼”是指惩办_____、_____、_____。
27. 1921年7月23日，中国共产党第一次全国代表大会在_____召开。
28. 1924年，国民党建立了黄埔军校，_____兼任军校总理，_____为校长。
29. 1926年5月，国民革命军_____，以及第七军的一部开赴湖南前线，揭开了北伐战争的序幕。
30. 汪精卫发动政变后，武汉国民政府迁往南京，与南京国民政府合并，仍用“国民政府”之名，史称“_____”。

四、识图题 (共15分)

31. 看图学史。



图一



图二 嘉兴南湖游船

请回答：

(1) 图一是哪一位历史人物？(3分)

(2) 图二说明他曾经参加了什么会议？(5分)

(3) 谈谈当代学生应从他身上学习什么精神。(7分)

五、综合题 (共25分)

32. 打倒列强，打倒列强，除军阀，除军阀。国民革命成功，国民革命成功，齐欢唱，齐欢唱。

(1) 这是什么时期哪个部队的军歌？(4分)

(2) 从歌词中可以看出这次革命的目标是什么？(6分)

33. 阅读下列材料，回答问题。

“誓死力争，还我青岛”；“外争国权，内除国贼”；“取消二十一条”；反对在对德“和约”上签字；惩办卖国贼曹汝霖等人。

(1) 上述材料反映了历史上的一次重大运动，请写出这次运动爆发的时间、地点。(4分)

(2) 这次运动有什么历史意义？(6分)

(3) 简述这次运动的性质。(5分)



第三单元练习卷 (第13~14课)

(时间: 90分钟 满分: 100分)

一、选择题 (每小题2分, 共40分)

题号	1	2	3	4	5	6	7	8	9	10
选项										
题号	11	12	13	14	15	16	17	18	19	20
选项										

- 八一建军节是对下列哪一事件的纪念? ()
A. 武昌起义 B. 南昌起义 C. 秋收起义 D. 井冈山会师
- 中国共产党开始独立领导武装斗争的标志是 ()
A. 广州起义 B. 南昌起义
C. 秋收起义 D. 井冈山革命根据地的建立
- “田里豆子开红花, 红军来到笑哈哈。土豪劣绅都打倒, 山林土地回老家。”这是歌颂中国第一个农村革命根据地的歌谣, 该根据地是 ()
A. 鄂豫皖革命根据地 B. 闽浙赣革命根据地
C. 中央革命根据地 D. 井冈山革命根据地
- 1928年4月, 领导部队到井冈山与毛泽东领导的部队胜利会师的是 ()
A. 朱德、陈毅 B. 周恩来、叶挺
C. 周恩来、陈毅 D. 朱德、叶挺
- 一名军人是1928年底在井冈山入伍的, 当年他加入的军队名称是 ()
A. 国民革命军 B. 八路军
C. 中国人民解放军 D. 中国工农红军
- 中央革命根据地在 ()
A. 江西、福建 B. 湖北、湖南 C. 广西 D. 广东
- 红军第五次反“围剿”失利的主要原因是 ()
A. 敌人的力量强大 B. 武器落后, 敌众我寡
C. 远离基地, 缺少后援 D. 博古等人的错误指挥
- 长征途中, 红军跳出几十万敌军的围追堵截是在 ()
A. 爬雪山、过草地 B. 四渡赤水河、巧渡金沙江
C. 抢渡大渡河 D. 飞夺泸定桥
- 现在甘肃会宁县有个“会师门”, 它的命名所依据的重大事件是 ()
A. 毛泽东同朱德的部队会师 B. 中央红军和陕北红军会师
C. 红军三大主力会师 D. 红一和红四方面军会师
- 假如你班要进行一次“红色旅游”, 请选择一条与长征路线一致的旅游路线 ()
①大渡河 ②金沙江 ③遵义 ④吴起镇
A. ①②③④ B. ②①③④ C. ③②①④ D. ②③④①

- 毛泽东在四渡赤水河中使用的战术是 ()
A. 声东击西 B. 明修栈道, 暗度陈仓
C. 调虎离山 D. 迂回战术
- 二万五千里长征是中国工农红军进行的伟大战略转移。这里的“转移”是指 ()
A. 党的工作重心转移 B. 革命中心地区转移
C. 革命性质发生变化 D. 革命任务发生变化
- 将下列历史事件按发生的先后顺序排列, 正确的是 ()
①红军长征 ②南昌起义 ③五四运动 ④中国共产党的成立 ⑤井冈山革命根据地的建立
A. ①②③④⑤ B. ④③②①⑤
C. ③④②⑤① D. ③④⑤①②
- 为纪念红军长征胜利, 某电视台组织了“我的长征”活动, 重走了当年中央红军的长征路, 他们不可能经过的地方是 ()
A. 湘江 B. 昆明 C. 遵义 D. 泸定桥
- 中央红军进行长征的主要原因是 ()
A. 将革命形势推向全国 B. 第五次反“围剿”失利
C. 建立新的革命根据地 D. 北上抗日
- 下列各项中, 对红军长征取得胜利起的作用最大的是 ()
A. 抢渡大渡河 B. 四渡赤水河
C. 巧渡金沙江 D. 遵义会议的召开
- 遵义会议后, 毛泽东创作《忆秦娥·娄山关》, 写下了“雄关漫道真如铁, 而今迈步从头越”的豪迈诗句, 寓意遵义会议 ()
A. 使革命前途更渺茫 B. 开启了新的革命征程
C. 否定此前的革命斗争 D. 使革命从此一帆风顺
- 毛泽东选取井冈山作为革命根据地的原因不包括 ()
A. 地势险要, 易守难攻 B. 离大城市较远, 敌人力量薄弱
C. 群众基础好 D. 体验艰苦的革命生活
- 红军长征取得完全胜利的标志是 ()
A. 遵义会议召开 B. 吴起镇会师
C. 四渡赤水河 D. 会宁会师
- 2016年是红军长征胜利80周年。下列有关红军长征的意义表述不准确的是 ()
A. 打响了武装反抗国民党反动统治的第一枪
B. 粉碎了国民党反动派消灭红军的企图
C. 使中国革命转危为安
D. 为开创中国革命的新局面奠定了基础

二、判断题 (每小题2分, 共10分)

题号	21	22	23	24	25
正误					

- 国民党反动派叛变后, 中共中央决定在武昌举行武装起义, 反抗国民党的恐怖统治。 ()
- 中国工农红军第四军, 毛泽东任党代表, 陈毅任政治部主任。 ()
- 在蒋介石企图调兵一举消灭红军的紧要关头, 红军转入贵州, 强渡乌江, 攻占遵义城。 ()
- 遵义会议后不久, 中央政治局常委分工, 决定由王稼祥代替博古负总责。 ()
- 遵义会议改组了中央领导机构, 增选陈独秀为政治局常委。 ()