



阶梯数学 思维训练

斯塔熊文化 著 野作插画 绘

360个全彩场景，360道趣味题目，阶梯式提升数学能力

4~6岁

1

 河北美術出版社



阶梯数学

思维训练

斯塔熊文化 著 野作插画 绘

4~6岁

1



河北美術出版社

版权所有 盗版必究

图书在版编目 (CIP) 数据

阶梯数学思维训练. 4-6岁 : 全5册 / 斯塔熊文化著 ;
野作插画绘. -- 石家庄 : 河北美术出版社, 2018.12
ISBN 978-7-5310-9570-5

I. ①阶… II. ①斯… ②野… III. ①数学课—学前教育—教学参考资料 IV. ①G613.4

中国版本图书馆 CIP 数据核字 (2018) 第 279504 号

策 划 : 袋鼠妈妈童书
责任编辑 : 单海运
责任校对 : 李 宏
装帧设计 : 卫 瑶


出 版 : 河北美术出版社
发 行 : 河北美术出版社
地 址 : 石家庄市和平西路新文里 8 号
邮 编 : 050071
电 话 : 0311-87060677
网 址 : www.hebms.com
制 版 : 北京成业恒信印刷有限公司
印 刷 : 北京成业恒信印刷有限公司
开 本 : 787 毫米 × 1092 毫米 1/16
印 张 : 12.5
印 数 : 1 ~ 5000
版 次 : 2018 年 12 月第 1 版
印 次 : 2018 年 12 月第 1 次印刷

定 价 : 84.00 元 (全 5 册)

质量服务承诺 : 如发现缺页、倒装等印刷质量问题, 可直接向本社调换。
服务电话 : 0311-87060677


目录

谁最快·····	2
游泳比赛·····	3
11 是多少·····	4
收胡萝卜·····	5
12 是多少·····	6
数生肖·····	7
13 是多少·····	8
数蜜蜂·····	9
14 是多少·····	10
收白菜·····	11
15 是多少·····	12
停车场·····	13
数小鸡·····	14
数小鸟·····	15
收网球·····	16
画一画·····	17
数一数·····	18
好邻居·····	19






我会写·····	20
数数 10·····	21
4 的组成·····	22
看图写数（一）·····	23
5 的组成·····	24
看图写数（二）·····	25
6 的组成·····	26
看图写数（三）·····	27
7 的组成·····	28
补圆圈·····	29
加一加·····	30
看图计算·····	31
看图编题·····	32
小狗吃骨头·····	33
小猫吃鱼·····	34
比一比·····	35
家有钟表·····	36
几点了·····	37



谁最快

感知快慢

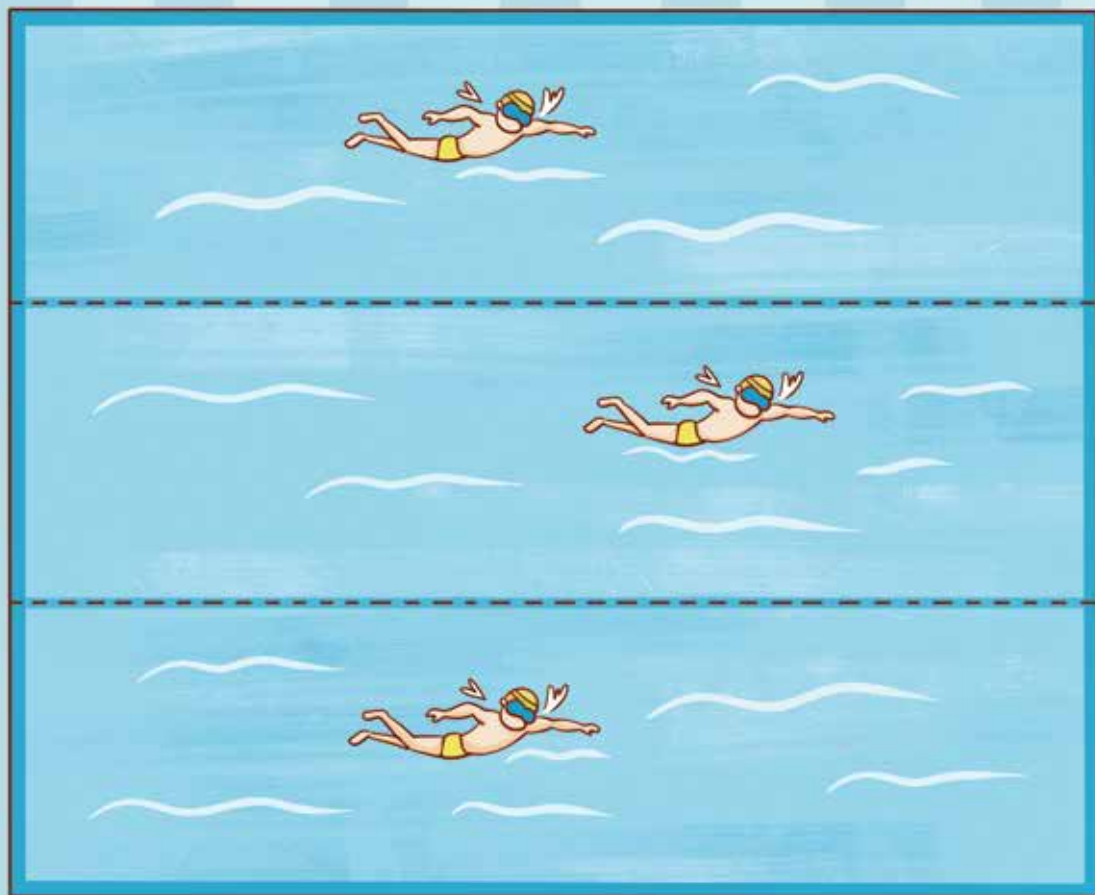
比较一下，下面三个人的交通方式中，谁的速度最快？请把他圈起来吧！



游泳比赛

比较快慢


三个小朋友在举行游泳比赛，谁游得最快？请把他圈起来。




11 是多少

认识 11

我们来认识一下 11 吧!



数一数，下面框里有多少个圆？再画几个，让它的总数变为 11 个。



收胡萝卜

练习 11

小兔子收了两袋胡萝卜，一袋 5 根，一袋 6 根。请数一数，它一共收了多少根胡萝卜？把数字写在下面的方框里吧！



12 是多少

认识 12

我们来认识一下 12 吧!



12



数一数，下面框里有多少个三角形？再画几个，让它的总数变为 12 个。



数生肖

练习 12

小朋友，你知道生肖吗？你属什么呢？请数一数，一共有多少个生肖动物？然后把数字写在下面的方框里吧！



13 是多少

认识 13


我们来认识一下 13 吧!



13




数一数，下面框里有多少个正方形？再画几个，让它的总数变为 13 个。



数蜜蜂

练习 13

请数一数，花园里一共有多少只小蜜蜂？把数字写在下面的方框里吧！



14 是多少

认识 14

我们来认识一下 14 吧!



14



数一数，小丑的手里有多少个气球？再画几个，让它的总数变为 14 个。



收白菜

练习 14

小羊到地里收白菜。请数一数，一共有多少棵白菜？把数字写在下面的方框里吧！



15 是多少

认识 15


我们来认识一下 15 吧!



15



数一数，下面有多少只海豚？再画几只，让它的总数变为 15 只。



停车场

练习 15

请数一数，停车场里停了多少辆汽车？把数字写在下面的方框里吧！

