

学考仿真冲刺卷

●●● 权威 科学 实用 高效 ●●●

- 权威性 名师精心组卷 
- 科学性 科学仿真练测 
- 实用性 提高应试技巧 
- 高效性 向时间要效率 



金星教育 金星国际教育集团
高考研究所

滚动复习
GUNDONG FUXI

与《学考冲A专题突破》配套使用

学考仿真冲刺卷

XUEKAO FANGZHEN CHONGCIJUAN
依据《浙江省普通高中学业水平考试暨高考选考科目考试标准(2014版)历史》编写

总主编 薛金星

高中 | 历史

浙江专用



浙江教育出版社
全国百佳图书出版单位



CONTENTS

目录

学考冲A专题突破

浙江省普通高中学业水平考试 仿真冲刺卷(一)	1
浙江省普通高中学业水平考试 仿真冲刺卷(二)	3
浙江省普通高中学业水平考试 仿真冲刺卷(三)	5
浙江省普通高中学业水平考试 仿真冲刺卷(四)	7
浙江省普通高中学业水平考试 仿真冲刺卷(五)	9
浙江省普通高中学业水平考试 仿真冲刺卷 参考答案	11

浙江省普通高中学业水平考试

仿真冲刺卷(一)

时间: 60分钟 分值: 70分 得分: _____

一、选择题(本大题共 25 小题,每小题 2 分,共 50 分。每小题列出的四个备选项中只有一个是符合题目要求的,不选、多选、错选均不得分)

1. (2015·浙江杭州模拟)观察下表,按照西周宗法制的规定,最有资格继承王位的是()

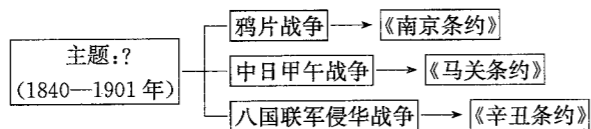
妻妾	各子详细信息
妻(正室)	老二(22岁,老成持重)、老三(20岁,天性顽劣)
妾一(侧室)	老大(25岁,天资聪颖)
妾二(侧室)	老四(18岁,智勇双全)

A. 老三 B. 老四 C. 老大 D. 老二

2. 1935年,林语堂曾痛心疾首地评论道:“1911年的革命不过在种族革命上获得了胜利,它不过是粉碎了一个皇统,而剩留下一堆毁垣碎瓦和呛人的尘灰。”此评论()

A. 全面否定辛亥革命的历史作用 B. 认为辛亥革命基本实现了三民主义
C. 为辛亥革命的不彻底而深感惋惜 D. 强调革命未根本改变中国社会的性质

3. 历史事件纷繁复杂,学习时要及时梳理。下图所示知识结构的主题是()



(第3题图)

A. 列强入侵与民族危机 B. 中国人民的探索抗争
C. 中国近代化步履艰难 D. 旧民主主义革命悲歌

4. 在第一届全国人民代表大会上,毛泽东说:这次会议是标志着我国人民从1949年新中国成立以来新胜利和新发展的里程碑。这次会议被称为“里程碑”的理由是()

A. 制定了《中华人民共和国宪法》 B. 公布了发展我国国民经济的第一个五年计划
C. 通过了《中国人民政治协商会议共同纲领》 D. 完成了生产资料私有制到社会主义公有制的转变

5. 中国人的政治智慧是无与伦比和无限美妙的。周恩来教会人类怎么为人处世,邓小平教会人类怎么解决恩怨情仇。符合该材料主题的理论或政策分别是()

A. “求同存异”、四项基本原则 B. 和平共处五项原则、“一国两制”
C. 和平共处五项原则、科学技术是第一生产力 D. “求同存异”、社会主义市场经济理论

6. (2015·浙江鄞州中学检测)通过改革,为雅典民主政治奠定基础的执政官是()

A. 梭伦 B. 克利斯提尼 C. 伯里克利 D. 查士丁尼

7. 法国政治思想家托克维尔在《论美国的民主》中说:“美国的联邦宪法,好像能工巧匠创造的一件只能使发明人成名发财,而落到他人之手就变成一无用处的美丽艺术品。”这句话着重强调美国联邦宪法()

A. 创造了新的宪法体制 B. 不具有普适性
C. 促进了资本主义发展 D. 具有借鉴意义

8. (2015·浙江丽水调研)“至今一切社会的历史都是阶级斗争的历史。自由民和奴隶、贵族和平民、领主和农奴、行会师傅和帮工,一句话,压迫者和被压迫者,始终处于相互对立的地位,进行不断的、有时隐蔽有时公开的斗争,而每一次斗争的结局都是整个社会受到革命改造或者斗争的各阶级同归于尽。”《共产党宣言》这段材料()

A. 揭示了人类社会的发展规律 B. 阐明了无产阶级的历史使命

C. 指出了阶级斗争的作用


D. 号召全世界无产者联合起来

9. (2015·浙江台州调研)某课题的中心词是“杜鲁门主义”“欧洲一体化”“日本崛起”“中国振兴”“苏联解体”。由此推断,该课题的中心内容最有可能是()

A. 从美苏争霸到美国霸主地位的动摇 B. 从区域经济集团化到全球经济一体化
C. 从两极格局到世界多极化格局的形成 D. 从两极格局的形成到两极格局的瓦解

10. (2015·浙江嘉善第一中学月考)右图为浙江绍兴坡塘出土的青铜器,风格虽迥异于中原,但其工艺可媲美中原青铜器最鼎盛的()

A. 夏商时期 B. 商周时期
C. 周秦时期 D. 秦汉时期



(第10题图)

11. (2015·浙江绍兴鲁迅中学月考)著名诗人黄遵宪在《今别离》一诗中写道:“别肠转如轮,一刻既万周;眼见双轮驰,益增中心忧……送者未及返,君在天尽头。”诗中反映的近代新的社会景象是()

A. 社会剧变导致人口的大量迁徙 B. 近代交通工具改变人们的生活
C. 马车及木船是人们出行的工具 D. 近代以来出国留学热潮的兴起

12. 下表为19世纪四五十年代中国丝、茶出口概况统计简表。由于丝、茶等农产品的大量出口,一些地区的农民放弃农业生产转而种桑养茶。这一现象反映了()

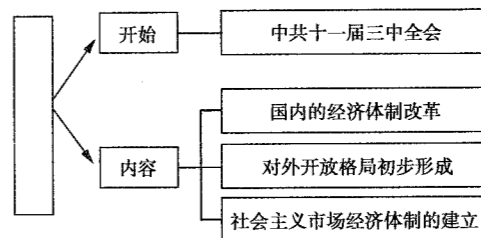
品名	1843年(数量)	1855年(数量)
茶	650多万千克	4200多万千克
丝	1000多包	5600多包

A. 农业结构发生了根本性变化 B. 中国出口贸易占优势地位
C. 农产品商品化程度日益加深 D. 中国的自然经济已经解体

13. (2015·浙江台州期末质量评估)中国近代史上首次打破列强垄断局面的交通行业是()

A. 航空运输 B. 铁路运输 C. 公路运输 D. 轮船运输

14. (2014·浙江学业水平考试)下图是某个同学的一份历史课堂笔记。图中空白框内应填入的内容是()



(第14题图)

A. 近代民族工业的曲折发展 B. 新中国民主政治建设的起步
C. 家庭联产承包责任制的推广 D. 建设中国特色社会主义的新道路

15. 中国女性的传统服饰崇尚红色而忌讳白色,但是清末民初以后“通都大邑之女子,无不穿一套缟素(白色)衣裳矣”。这种变化的主要原因是受()

A. 经济水平的影 响 B. 民族危亡的影响 C. 民族工业的影响 D. 西洋风尚的影响

16. 据《中国近代报刊史》载,《时务报》初创时,每期只销4000份左右,半年后增至7000份,一年后达到13000份,最多时销达17000份,创造了当时国内报纸发行量的最高纪录。这一现象说明()

A. 通俗性报刊广受普通民众欢迎 B. 《时务报》开创了国人办报的先例
C. 维新派有效利用新式媒介开启民智 D. 国人所办的报纸市场需求极大

17. 根据右侧漫画“福利国家”分析,下列选项中对西方国家福利政策解读不正确的是()

A. 缓和了社会矛盾 B. 减少了国家财政赤字
C. 扩大了社会消费 D. 降低了人们工作的积极性



(第17题图)

18. 下列关于明代思想家李贽思想与文艺复兴时期人文主义思想的表述,不正确的是()
- A. 都具有思想启蒙意义
B. 都是商品经济发展的产物
C. 都体现了新兴资产阶级的愿望
D. 都宣扬了个性自由和解放
19. 宋代史书记载:“舟师识地理,夜则观星,昼则观日,阴晦则观指南针。”对此材料理解最准确的是()
- A. 宋代的航海完全依靠指南针来辨别方向
B. 我国劳动人民最早知道了磁针指南的作用
C. 指南针在宋代用于航海事业,但只起辅助作用
D. 指南针是我国古代水手最早发明的
20. 《红楼梦》中,贾宝玉的父亲让仆人转告贾府私塾老师说:“什么《诗经》、古文,一概不用虚应故事,只是先把‘四书’一气讲明背熟,是最要紧的。”据此推出符合史实的结论是()
- A. 理学居于统治地位,“四书”更受重视
B. 孔子权威地位动摇,《诗经》遭到轻视
C. 科举制度弊端暴露,富家子弟弃儒从商
D. 《红楼梦》取材于现实,反映宋代生活
21. 1925年,《纽约时报》特派记者警告说:“激进党”(指国民党)决心废除“所有外国特殊地位、特权和治外法权”。据此可知当时“激进党”的表现是()
- A. 重新解释民族主义
B. 推翻北洋军阀统治
C. 彻底实现民生主义
D. 极力破坏国共合作
22. 2013年6月,“神舟十号”航天员王亚平在“天宫一号”进行了中国首次太空授课活动。下列能证明中国空间技术发展跻身世界前列的最早事件是()
- A. 1964年原子弹爆炸成功
B. 1970年“东方红一号”发射成功
C. 2003年“神舟五号”升空
D. 2007年“嫦娥一号”飞临月球
23. 房龙在《人类的故事》一书中写道:“此时人们仍是教会母亲的顺从儿子……但是,人们的人生观已经改变,他们开始穿与以前不同的服装,不再把全部思想与精力集中于在天堂等待幸福的永生,他们试图在今生、在地球上建立他们的天堂。”这样的改变始于()
- A. 古希腊
B. 文艺复兴
C. 宗教改革
D. 启蒙运动
24. “难道农民的儿子生来颈上带着圈,而贵族的儿子生来在腿上带着踢马刺吗……一切享有各种天然能力的人,显然是平等的……除了法律之外,不依赖任何别的东西,这就是自由人。”材料表达的主要思想是()
- A. 自由平等,天赋人权
B. 三权分立,相互制约
C. 法律范围内的自由权利
D. 农民、贵族共同守法
25. 历史学习中,常常需要对历史事件的因果关系进行分析,下列史实没有因果关系的是()
- A. 辛亥革命—剪发辫,改称呼
B. 抗日战争—近代民族工业产生
C. 资本主义发展—近代西方代议制建立
D. 新文化运动—中国共产党诞生

二、非选择题(本大题共2小题,第26小题10分,第27小题10分,共20分)

26. 甲午之役,民族之殇。对此,史学家陈旭麓说:“深重的灾难同时又是一种精神上的强击。”阅读下列材料:

材料一 旅顺陷后,海军提督丁汝昌褫职,仍统海军驻威海,兵舰既弱,坐守而已。日舰集大连湾,将袭威海,先攻登州,陷荣城。日舰二十五艘环威海口外。海军方新败,并匿不出。汝昌恐北炮台不能守,命卸巨炮机件以归,免资敌,戴宗霁持不可。无何北台陷,宗霁奔刘公岛。日军踞炮台,以台之巨炮俯击澳内兵舰……海军水手并登岸,噪出,鸣枪过市,声言向提督乞生路,刘公岛中大扰。诸洋员请姑许乞降,以安众心,汝昌不可。军士露刃挟汝昌,汝昌仰药死。诸将推洋员托汝昌之名,作降书。日军受降。

材料二 当中国盛时,日本不敢与抗。咸丰庚申中英之战,败衅,英、法、俄、美并为有约之国,日本不得与……是役(甲午战争)后,日人资中国赔款以兴百政,培力既厚。俄、法、德以仗义归辽,责报殊奢,而中国复垂于应付,于是俄据旅顺、大连湾,英据威海卫,德据胶州,法据广州湾,以互为铃制。中国乃不国矣。

——以上材料摘编自杨松《中国近代史资料选编》

请回答:

(1)据材料一,概括指出威海之战战场态势的特点,归纳北洋舰队失败的主观原因。(3分)

(2)据材料二,概括指出甲午战争中国战败所造成的危害。(3分)

(3)结合19世纪末20世纪初相关史实,对“深重的灾难同时又是一种精神上的强击”这一论断加以说明。(4分)

27. 进步思想在人类历史的发展进程中发挥过重大作用。

(1)结合所学知识,在下列表格空白处填写相关内容。(每空1分,4分)

思想理论	代表人物	历史贡献
A	孟德斯鸠	美国人建立了资产阶级共和国
人民主权、社会契约	B	指导了法国大革命
三民主义	孙中山	C
民主、科学	D	指导新文化运动,动摇了封建思想的统治地位

(2)张岂之在其主编的《中国历史十五讲》中说道:“1919年五四运动以前80年的历史表明,中国走西方国家老路的尝试没有成功。此后,中国人把马克思主义理论与中国革命的具体实践相结合,前赴后继,浴血奋斗,实现了国家和民族的独立……新中国成立后,中国人民在中国共产党领导下,为中华民族的伟大复兴,进行了不懈的努力和艰苦的探索。”结合所学,指出马克思主义中国化在中国新民主主义革命时期、社会主义建设新时期形成的理论名称和取得的实践成就。(4分)

(3)祭孔大典是中华民族为了尊崇与怀念孔子举行的隆重祭典,以下为曲阜祭孔大典祭文节选:“……复礼兴乐,欲挽狂澜。己立立人,孝弟唯先。修齐治平,悦途来远。游说列国,不惧厄难。杏坛论学,大同是盼……”结合上述材料,说明提倡和宣传孔子思想的现实意义。(2分)

浙江省普通高中学业水平考试 仿真冲刺卷(二)

时间: 60分钟 分值: 70分 得分: _____

一、选择题(本大题共 25 小题,每小题 2 分,共 50 分。每小题列出的四个备选项中只有一个是符合题目要求的,不选、多选、错选均不得分)

1. 宁波天一阁是我国现存最古老的私人藏书楼。1984 年离乡多年的“世界船王”包玉刚回到宁波访问,在天一阁看到了馆藏的《包氏家谱》,意外发现自己是包拯的第 29 代嫡孙。这段材料反映的是中国古代的()

- A. 禅让制 B. 分封制 C. 宗法制 D. 郡县制

2. “在濯濯的北方山岭,在桑麻茂密的长江原野,在华南的稻田和多雨的山岭中,整个民族武装起来,已有着统一的指挥了。”它描绘的是()

- A. 工农兵联合,打倒列强除军阀 B. 打土豪分田地,井冈星火成燎原之势
C. 中华民族团结御侮,抗日卫国 D. 各解放区连成一片,全国解放指日可待

3. 中国共产党民主革命纲领与中共一大纲领相比最大的变化在于()

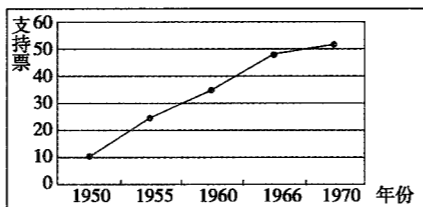
- A. 体现了压制资本主义未来发展的目标 B. 以俄国十月革命夺权方式为革命道路
C. 为建立革命统一战线奠定了理论基础 D. 承认了中国革命不可超越的历史阶段

4. 十八届四中全会提出公务员要持宪法宣誓就职,这是中国法治建设历程中的又一举措。下列关于中国法治建设历程叙述错误的是()

- A. 1954 年宪法是中国第一部社会主义类型宪法 B. 1982 年宪法成为新时期治国安邦的总章程
C. 1995 年中共十五大把依法治国写入宪法 D. 目前已经基本形成以宪法为核心的法律体系框架

5. 某同学的学习卡片中有一幅图(如图),对此图解读最为合理的是()

- A. 反映新时期我国外交政策的调整
B. 表明美国已放弃“两个中国”的政策
C. 体现发展中国家对新中国的支持
D. 说明中国成为多极格局中的重要力量



恢复中华人民共和国在联合国合法席位获得支持票数增长示意图
(第 5 题图)

6. 罗马法中具有超越时间、民族、地域的永恒价值的法律观念是()

- A. 人人平等 B. 共同富裕 C. 绝对平均 D. 个人至上

7. 历史学者程汉大认为英国革命的最大成果,也是它在现代民主政治创制试验方面的最大成就,就是创造了一种全新政体。这一全新政体是()

- A. 联邦制 B. 民主共和制
C. 直接民主制 D. 君主立宪制

8. 1929 年,葛兰西强烈批判当时的人们只是希望改变政府的放任自由主义政策,而不改变国家的经济基础。他认为只有在政治上采取相应的行动(如诉诸武力),才能将经济从传统政策的死压下解放出来。由此判断葛兰西可能是()

- A. 垄断资本主义的拥护者 B. 空想社会主义的实践者
C. 凯恩斯主义的支持者 D. 马克思主义的信仰者

9. 清政府曾规定:“一户所领之织机不得逾百张,以抑兼并,过则有罚。”从中得出的结论较为合理的是()

- ①清政府实行抑商政策 ②私营丝织业受到限制 ③土地兼并问题严重 ④民族工业发展较艰难

- A. ② B. ①② C. ③④ D. ①②④

10. 1890 年前后,一名居住在浙江余姚蒋村的小地主,从蒋村坐木船到宁波要花三天两夜,从宁波乘轮船到上海,路虽然远十倍,但一夜之间就到了。受此刺激,他后来要自己的儿子离开私塾到教会学校读书,学习西方制造。材料主要反映出()

- A. 近代中国人的物质生活水平明显提高 B. 上海与浙江等周边地区的交通非常发达
C. 西方工业品的输入影响到民众生活习惯 D. 交通工具的进步推动人思想观念的转变

11. 新加坡《联合早报》刊登的《世界改变中国,中国改变世界》一文指出:“中国经济发展经历了三个阶段。第一个阶段是对外开放,让世界进入中国……”“让世界进入中国”开始于()

- A. 中美正式建立外交关系 B. 香港回归祖国
C. 中国加入亚太经合组织 D. 深圳等经济特区的建立

12. 社会主义制度在我国基本建立的标志是()

- A. 新中国的建立 B. 全国土地改革的完成
C. 三大改造的完成 D. 新中国第一部宪法的颁布

13. (2015·浙江嘉兴检测)2013 年 8 月,国务院正式批准设立中国(上海)自由贸易试验区,上海进入又一个开放的新阶段。下列关于上海主动对外开放的历程说法正确的是()

- A. 1842 年上海开辟成为通商口岸 B. 1980 年上海成为经济特区
C. 1984 年上海成为沿海开放城市 D. 2001 年浦东实现开发开放

14. 新航路开辟以后,自 16 世纪 30 年代至 16 世纪末,西班牙的物价上涨 4 倍多,英、法等国上涨 2 倍至 2.5 倍。造成这种现象的原因是()

- A. 世界各地的商品大量流入欧洲 B. 欧洲地中海商业中心衰落
C. 大量的黄金白银涌入欧洲市场 D. 欧洲封建势力逐渐衰落

15. (2015·浙江湖州调研)第二次世界大战后,英国实行混合市场经济,法国实行计划指导型市场经济,联邦德国实行社会主义市场经济,日本实行政府主导型市场经济;20 世纪末,中、俄开始实行市场经济。这一现象主要表明()

- A. 西方资本主义国家建立了计划经济体制 B. 社会主义国家采用了西方的市场经济体制
C. 国情差异决定各国必须采取市场经济体制 D. 市场经济体制是战后世界发展的主要潮流

16. (2015·浙江诸暨中学月考)亚太经济合作组织、欧洲联盟、北美自由贸易区的相继建立主要表明()

- A. 世界经济全球化势头暂时受挫 B. 世界经济区域集团化取得重大进展
C. 新的国际经济秩序已经建立 D. 发展中国家成为全球化的受害者

17. 儒家思想有利于构建和谐的社会人际关系,缓和阶级矛盾,下列观念与之相关的有()

- ①仁者,爱人 ②严刑峻法 ③民为贵,社稷次之,君为轻 ④兼爱、非攻
A. ①③ B. ②④ C. ①④ D. ②③

18. (2015·浙江台州质量评估)黄宗羲政治观的闪光点主要体现在能够把中国传统政治文化理念付诸实践,构筑了传统民本政治通往近现代民主政治的桥梁。这是因为黄宗羲的思想()

- A. 受欧洲启蒙思想的影响 B. 否定了传统儒家思想
C. 成为中国近代民主思想的来源之一 D. 体现了新兴资产阶级的愿望

19. 陈独秀在《敬告青年》中说:“人身遵新陈代谢之道则健康,陈腐朽败之细胞充塞人身则人身死;社会遵新陈代谢之道则隆盛,陈腐朽败之分子充塞社会则社会亡。”这类观点最早在中国得到系统介绍主要是()

- A. 严复的《天演论》 B. 康有为的《孔子改制考》
C. 梁启超的《变法通议》 D. 谭嗣同的《大同书》

20. 孙中山先生早年考察欧美,发现欧美社会虽然强大,但两极分化极其严重,劳动人民终年当牛作马,生活朝不保夕。基于这种认识,孙中山主张()
- A. 建立中华民国 B. 实业救国 C. 推翻清政府统治 D. 平均地权
21. 美国学者巴来伯格评价中国某科学家说:“他增产的粮食实质上使人口增长率下降了。他在农业科学上的成就击败了饥饿的威胁……领导着人们走向丰衣足食的世界。”这段话反映了()
- A. 改革开放以来中国农业现代化取得跨越式发展
B. 中国粮食产量提高,解决了世界范围内的食物短缺问题
C. 袁隆平在农业领域为世界做出重大贡献
D. 西方国家的粮食生产逐渐落后于中国
22. 恩格斯说:“意大利人是现代欧洲各个民族中间的长子,是西方现代文化转型中最先觉醒的民族。”这是因为()
- A. 最早产生资本主义萌芽 B. 率先开辟了新航路
C. 首先倡导复兴人文主义 D. 最先开展启蒙运动
23. “它站起来反对 18 世纪的古典主义、启蒙思想、理性思想以及这些领域内的秩序”,强调“对自然之爱、上帝精神存在和感情力量之间的联系”。最符合上述创作倾向的作品是()
- A. 《巴黎圣母院》 B. 《人间喜剧》 C. 《母亲》 D. 《老人与海》
24. 1939 年春,美国国会讨论修改《中立法》时发生激烈辩论,最终众议院以 200 票对 188 票通过对交战国维持军火禁运的议案。这说明当时的美国()
- A. “孤立主义”仍占优势 B. 国会明确支持法西斯侵略
C. 已经放弃“中立”政策 D. 与法西斯国家的矛盾缓和
25. 1970 年的一个冬日,联邦德国总理勃兰特在华沙犹太人隔离区起义纪念碑前神色凝重地下跪致歉。这一举动的内涵表明德国()
- A. 曾经占领波兰 B. 深刻反省历史 C. 实行非军事化 D. 奉行和平外交

二、非选择题(本大题共 2 小题,第 26 小题 10 分,第 27 小题 10 分,共 20 分)

26. 君主专制中央集权制度是我国古代统一多民族国家形成和发展的制度基础,是古代中华文明的重要组成部分。阅读下列材料,回答问题:

材料一

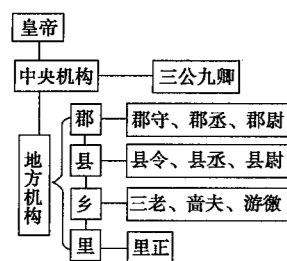


图 1

材料二

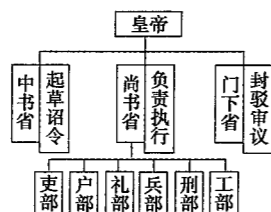


图 2

材料三 “今我朝罢丞相,设五府、六部、都察院、通政司、大理寺等衙门,分理天下庶务,彼此颉颃,不敢相压。事皆朝廷总之,所以稳当。以后子孙做皇帝时,并不许立丞相。”

——《皇明祖训》

材料四



图 3

图 4

军机处内外

(1) 依据材料一并结合所学知识,指出秦朝的地方行政管理体制,并说明这种地方管理制度的历史进步性。(4分)

(2) 依据材料二回答,图 2 中三省在运行中表现出的相互关系是怎样的?(2分)

(3) 材料三解决的是君主专制中央集权制度的哪一矛盾? 运用所学知识说明材料四这一机构的影响。(4分)

27. 阅读下列材料:

材料一 在 1500 年前后,世界历史……开始了资本主义在欧洲的发展及其从欧洲向外界的传播……当然,自 16 世纪起,尤其是由于欧洲人兼并了美洲以及由此导致欧洲对非洲—欧亚事务和世界贸易的参与程度越来越高,地区间关系发生了某种急剧的变化。

——[德]贡德·弗兰克《白银资本:重视经济全球化中的东方》

材料二 1780 年,英国的铁产量还比不上法国,而在 1848 年已超过世界上所有国家的总和。它的煤占世界总产量的 2/3,棉布占 1/2 以上……英国迅速成为世界上最富有的国家,它一个国家的生产能力比世界上其他国家的生产总和还要多得多……它庞大的远洋船队把数不尽的工业品运往世界各地,再把原材料运回国,加工成工业品,然后再运出去。

——钱乘旦《英国通史》

材料三 (二战后)人们还必须把全球性的专门组织网,特别是“国际”金融机构,看作是美体系的一部分……而且它们的构成成分可以解释为世界性。但实际上它们在很大程度上受美国的左右,而且它们本来就是在美国的倡议下产生的……

——布热津斯基《大棋局——美国的首要地位及其地缘战略》

请回答问题:

(1) “1500 年前后”推动资本主义从欧洲向外界传播的重大事件是什么? 据材料一指出该事件影响下世界市场的主要特征。(4分)

(2) 据材料二指出 19 世纪 40 年代英国在世界工业和贸易中的地位,试分析形成这一地位的经济根源。(2分)

(3) 材料三中美用“左右”资本主义世界经济的“国际”金融机构有哪些? 美国能够控制上述金融机构的根本原因是什么?(4分)

浙江省普通高中学业水平考试 仿真冲刺卷(三)

时间: 60分钟 分值: 70分 得分: _____

一、选择题(本大题共 25 小题,每小题 2 分,共 50 分。每小题列出的四个备选项中只有一个是符合题目要求的,不选、多选、错选均不得分)

- 春秋时期,齐桓公召集诸侯会盟,并订立盟约:“诛不孝,无易树子,无以妾为妻。”(树子指古代诸侯立为世子的嫡长子——引者注)这说明齐桓公()
A. 挟天子以令诸侯 B. 极力维护宗法制 C. 主张废除分封制 D. 推崇法家思想
- 有人说:“英国挑起鸦片战争的主要目的是要扫除中国设在贸易往来道路上的主要障碍。”以下各项最能说明这一观点的是()
①赔款 2 100 万银元 ②开放通商口岸 ③协定关税 ④允许开设工厂
A. ②③ B. ①② C. ②④ D. ①④
- 历史学者程汉大认为英国革命的最大成果,也是它在现代民主政治创制试验方面的最大成就,就是创造了一种全新政体。这一全新政体是()
A. 联邦制 B. 民主共和制 C. 直接民主制 D. 君主立宪制
- 我国先后在某些地区设立了民族自治区、经济特区、特别行政区。以下结论正确的是()
A. 三者都是根据国情制定的正确决策 B. 三者都享有高度的自治权
C. 三者都实行相同的社会制度 D. 三者都有一定的外交自主权
- 归纳主题是学习历史的一种重要方法,为下组图片归纳一个学习主题,恰当的是()



图1 毛泽东访苏期间和斯大林在一起



图2 周恩来访问印度



图3 乔冠华在联合国大会上开怀大笑




图4 上海 APEC 会议领导人合影

(第 5 题图)

- 消除分歧,维护稳定 B. 和平外交,大国风采
C. 独立自主,步入世界 D. 超越制度,和平共处
- “即使在鼎盛时期,古代雅典的民主政治也建立在一种非常不民主的基础之上。”得出这一结论的依据是()
A. 繁琐的辩论延长了决策的时间 B. 法庭审判员经抽签产生
C. 公民仅占总人口的少数 D. 功勋卓越的公民被流放
 - (2015·浙江嘉兴检测)美国的政治制度赋予了各州教育行政自主权,美国长期以来没有统一的高等学校招生考试。造成美国高校考试制度相对灵活的重要原因是()
A. 联邦体制 B. 三权分立原则 C. 邦联体制 D. 民主共和政体
 - (2015·浙江嘉兴检测)《共产党宣言》说:“圣西门、傅立叶、欧文等人的体系……看到了阶级的对立,以及占统治地位的社会本身中的瓦解因素的作用。但是,他们看不到无产阶级方面的任何历史主动性,看不到它所特有的任何政治活动。”这段话反映了()
A. 社会主义从理论到实践的必要性 B. 社会主义从空想到科学的必要性
C. 资本主义从发展到灭亡的必然性 D. 工人运动从自发到自觉的必然性
 - (2015·浙江嘉兴检测)1956 年,印度、埃及和南斯拉夫三国领导人发表《联合声明》,反对把“世界分成强有

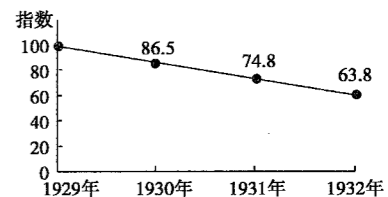
力的国家集团”,为此他们倡导了()

- 社会主义运动 B. 和平与发展 C. 不结盟运动 D. 世界多极化
- 20 世纪末,欧洲发生了极富象征性的两个事件:一边的联盟正在筹备建立,而另一边的联盟却悄然解散。这两个联盟是()
①北约 ②欧盟 ③苏联 ④上海合作组织
A. ①② B. ②③ C. ①③ D. ②④
 - 明朝有人描述在广东大庾岭所见:“盖北货过南者,悉皆金帛轻细之物;南货过北者,悉皆盐铁粗重之类。过南者月无百驮,过北者日有数千。”这表明当时()
A. 岭南经济发展程度高于北方 B. 岭南是商人活动的主要地区
C. 以物易物是商贸的主要方式 D. 区域差异造成长途贸易兴盛
 - 斯塔夫里阿诺斯的《全球通史》在“宋朝的黄金时代”的标题下写道:“除了文化上的成就外,宋朝时期值得注意的是,发生了一场名副其实的商业革命,对整个欧亚大陆有重大意义。”下列属于这场“商业革命”史实的是()
A. 流通铜贝 B. “市”突破空间和时间上的限制
C. 大量的商业市镇兴起 D. 生产领域出现工场手工业
 - 1915 年 10 月 25 日,孙中山和宋庆龄结婚,签订了婚姻誓约书。观察右图“孙中山和宋庆龄合影”,这反映了当时的中国()
A. 追求平等成为社会主流 B. 清除了男尊女卑的意识
C. 受到了西方文明的影响 D. 婚姻自主已被普遍接受
 - (2015·浙江永嘉中学检测)小明同学喜欢收集火柴盒,最近收集到一部分新中国建立前的火柴盒,下列图片是他收集到的火柴盒,根据火柴盒上的文字和图像,你可以获得的正确历史信息是()



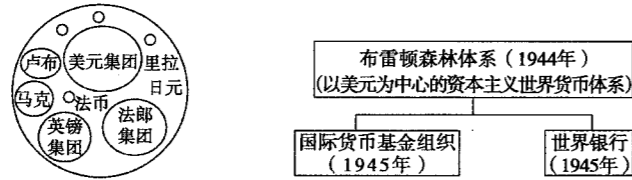
(第 14 题图)

- 中国的火柴工业产生于五四运动中 B. 民族资产阶级具有实业救国的精神
C. 当时中国火柴工业技术水平世界领先 D. 清政府鼓励民族工业的发展
- “大跃进”和人民公社化运动共同的惨重教训是()
A. 必须坚持实事求是的思想路线 B. 不能“以阶级斗争为纲”
C. 必须要遵循经济发展的客观规律 D. 生产关系的变革,必须适应生产力的发展水平
 - 下列对右图所示现象的理解,正确的是()
A. 资本主义制度处于崩溃边缘 B. 资本主义国家工人大量失业
C. 世界性经济大危机破坏严重 D. 世界各国工业生产持续下降
 - 中共十一届三中全会后,中国农村率先进行了改革。随后在农村中盛行一些民谣:“全家一齐干,不到天黑不吃饭。”“交够国家的,留足集体的,剩下都是自己的。”“农业实行大包干,粮食年年都翻番。”下列选项中,对以上民谣解读有误的是()
A. 农民获得土地所有权后的高兴心情 B. 农民获得了自主分配农产品的权利
C. 兼顾了国家、集体、个人三者的利益 D. 家庭联产承包责任制推动了农业生产的发展



世界工业生产指数(不包括苏联在内)
(第 16 题图)

18. 罗斯福新政和 20 世纪 70 年代末开始的中国改革开放的相同之处是()
- ①全面发展国有经济 ②政府采取各种措施减少耕地面积和农产品产量 ③运用国家政权的力量干预经济 ④将市场与计划相结合
- A. ①② B. ①③ C. ③④ D. ②④
19. 下面是第二次世界大战前后国际金融体系示意图。下列说法中,错误的是()



(第 19 题图)

- A. 国际货币体系转向以美元为中心 B. 美元偶然地充当了世界货币
C. 国际货币关系实现了从无序到有序的转变 D. 体现了世界经济格局的新特点
20. 韩非在批评某家学说时说:“举先王,言仁义者盈廷,而政不免于乱。”他批评的是()
- A. 法家学说 B. 道家学说 C. 儒家学说 D. 墨家学说
21. 据《与公肃甥书》记载:“忆昔时邸报,至(明)崇祯十一年(1638 年)方有活板(版),自此以前,并是写本。”对“活版”理解正确的是()
- A. 活版技术从明代开始使用 B. 活版之前信息传递均为手抄
C. 活版最早使用的是木活字 D. 活版在四大发明中出现最晚
22. 清政府兵部左侍郎王茂荫进呈咸丰皇帝一书:“其书版在京,如蒙皇上许有可采,请飭重为刊印,使亲王大臣家置一编,并令宗室八旗以是教,以是学,以知夷难御而非竟无法可御。”此书很快进入清朝最高决策层的视野,所提出的主张在洋务运动中付诸实践。该书及作者最有可能是()
- A. 《四洲志》、林则徐 B. 《海国图志》、魏源
C. 《天演论》、严复 D. 《孔子改制考》、康有为
23. 中国空间技术发展的第一个里程碑应该是()
- A. 第一颗原子弹爆炸成功 B. 第一颗人造地球卫星“东方红一号”发射成功
C. 第一颗试验通信卫星发射成功 D. “神舟五号”载人宇宙飞船发射成功
24. 在欧洲历史上,“首次出现了一种几乎是纯粹的世俗观念,主要的思想家们看来,人生已不再是为寻求来世归宿的一个短暂的准备阶段”。这应归功于()
- A. 文艺复兴 B. 宗教改革 C. 英国革命 D. 启蒙运动
25. 马文·佩里在《西方文明史》中提出:“此时的宇宙被描述成运动中的物质,受到充满宇宙的无形的力的控制,无论是地面还是天空,这些力可用数学方式表现出来。中世纪那幅封闭的、仅限于地面并以地球为中心的宇宙图景被淘汰了,代之而起的是无限的、受普遍法则制约的新宇宙,地球现在被看作其中的一颗行星。”材料中的“普遍法则”指的是()
- A. 牛顿的万有引力定律 B. 达尔文的进化论
C. 爱因斯坦的相对论 D. 普朗克的量子论

二、非选择题(本大题共 2 小题,第 26 小题 10 分,第 27 小题 10 分,共 20 分)

26. 2015 年,中国人民迎来了抗日战争胜利 70 周年。这是中华民族一个特别重大的纪念日,是反思历史,赞美人类正义、道德和文明,痛斥侵略者的残暴兽行的关键时间点。阅读下列材料,回答问题:

材料一 (侵华日军南京大屠杀遇难同胞纪念馆)选在江东门这样一个不靠山、不傍水的地方……(当年)侵华日军曾在这里囚禁了一万多名中国的被俘士兵和平民百姓。12 月 16 日晚,日军把他们驱赶到方圆一华里范围内的小山坡用机枪扫射……1985 年挖开这个万人坑时,发现层层叠叠的尸骨共有 5 层,可见当时掩埋的被害者之多。

——朱成山《把血写的历史铭刻在这片土地上》

材料二 中共中央总书记、国家主席、中央军委主席习近平出席南京大屠杀死难者国家公祭仪式并发表重要讲话。他强调,历史不会因时代变迁而改变,事实也不会因巧舌抵赖而消失。南京大屠杀惨案铁证如山、不容篡改……忘记历史就意味着背叛,否认罪责就意味着重犯……今天的中国,已经成为一个具有保卫人民和平生活坚强能力的伟大国家,中华民族任人宰割、饱受欺凌的时代已经一去不复返了……中华民族的发展前景无比光明。

材料三 下表是新中国成立以来为纪念抗日战争胜利所发行的邮票(部分)。

纪念周年	枚数和内容
20 周年	4 枚:毛主席在著作、八路军东渡黄河、人民战争胜利、光荣参军
50 周年	8 枚:七七战火、台儿庄大捷、百团大战、敌后游击战、芒友会师、华侨捐献、台湾光复、伟大胜利
60 周年	4 枚:全民抗战、中流砥柱、诺曼底登陆、攻克柏林 1 枚小型张:和平与正义

- (1)根据材料一,指出侵华日军南京大屠杀遇难同胞纪念馆为何建在江东门?南京大屠杀发生于哪一年?(4 分)
- (2)根据材料二,概述举办南京大屠杀死难者国家公祭仪式的意义。(2 分)
- (3)根据材料三,指出抗日战争胜利 20 周年纪念邮票突出的主题。与 20 周年纪念邮票相比,50 周年纪念邮票的内容有何变化?60 周年的纪念邮票与之前相比,其主题最主要的变化是什么?(4 分)

27. 法制是人类文明积淀的精华,是一个国家政治生活是否健康的关键所在。阅读下列材料,回答问题:

材料一 正义只有一个:它对所有的人类社会都有约束力,并且它是基于一个大写的法,这个法是运用于指令和禁令的正确的理性。无论谁,不了解这个大写的法——无论这个法律是否以文字形式记录在什么地方——就是没有正义。

——西塞罗《国家篇·法律篇》

材料二 司法权如果不与立法权和行政权分置,自由也就不复存在。司法权如果与立法权合并,公民的生命和自由就将由专断的权力处置,因为法官就是立法者。司法权如果与行政权合并,法官就将拥有压迫者的力量。

——孟德斯鸠《论法的精神》

材料三 为了保障人民民主,必须加强法制。……现在的问题是法律很不完备,很多法律还没有制定出来。往往把领导人说的话当做“法”,不赞成领导人说的话就叫做“违法”,领导人的话改变了,“法”也就跟着改变。

——邓小平《解放思想,实事求是,团结一致向前看》

- (1)结合所学知识,指出材料一中“大写的法”在罗马法学体系中的地位。(2 分)
- (2)概括材料二的主要观点。结合所学知识,概述美国 1787 年宪法对司法权的具体规定。(4 分)
- (3)根据材料三和所学知识,分析邓小平认为“必须加强法制”的原因,并指出我国 1982 年宪法颁布的意义。(4 分)

浙江省普通高中学业水平考试

仿真冲刺卷(四)

时间: 60分钟 分值: 70分 得分: _____

一、选择题(本大题共25小题,每小题2分,共50分。每小题列出的四个备选项中只有一个是符合题目要求的,不选、多选、错选均不得分)

1. 阅读右图,判断下列有关该图反映的制度说法正确的是()

- A. 创立于三国两晋南北朝时期
- B. 体现三权分立原则
- C. 相权一定程度上制约了君权
- D. 加强了中央集权

2. 1942年1月2日,蒋介石接受美国总统罗斯福的建议,出任中国战区(包括泰国、越南等)陆空军最高统帅。22日,罗斯福又任命史迪威出任中国战区参谋长兼中缅印战区美军司令官。这表明()

- A. 罗斯福时任世界反法西斯盟军最高总司令
- B. 美国对中国内政的干涉
- C. 中国抗战成为世界反法西斯战争的重要组成部分
- D. 中美两国在抗战时期一直合作抗日

3. 右侧漫画创作于20世纪前期中国社会急剧动荡的环境中。从当时的社会背景看,这幅作品反映了作者的政治立场是()

- A. 对五四运动爆发的漠然
- B. 对袁世凯就任临时大总统的不满
- C. 对新文化运动的支持
- D. 对巴黎和会上中国外交失败的愤慨

4. 中国人民政治协商会议第一届全体会议召开前,周恩来等中共领导人要求接送在港民主人士,进入解放区,参加筹备新政协。据统计,从1948年8月到1949年8月,共安排秘密北上的民主人士20批,其中有119人参加了政协会议。中共的这一举动主要是为了()

- A. 团结民主人士共同筹建新中国
- B. 恢复民主党派的各级组织
- C. 贯彻“长期共存,互相监督”方针
- D. 协商制订第一个五年计划

5. 围绕下面历史场景出现的原因,学习小组得出四个结论,指导教师应予以纠正的是()



第26届联合国大会投票通过了恢复中华人民共和国在联合国的合法席位,一些非洲国家的代表在会场上兴奋起舞,振臂欢呼

(第5题图)

①中国国际地位逐步提高 ②所有亚、非、拉国家的支持 ③美国政府孤立新中国政策逐渐破产 ④中美关系开始走向正常化

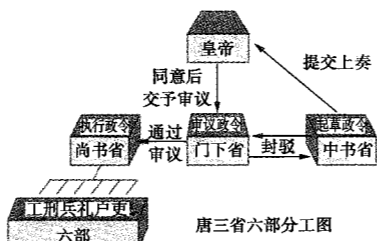
- A. ①②
- B. ②④
- C. ①④
- D. ①②③

6. 2010年5月,年仅44岁的保守党领袖卡梅伦当选为英国第53任首相,这是英国自1812年以来最年轻的首相。他上台执政经过的顺序应该是()

①女王授权 ②党内竞选 ③议会选举 ④出任首相

- A. ①②③④
- B. ②①④③
- C. ②③①④
- D. ②③④①

7. “在更公正的社会组织到来之前,在机器转归工人自己所有之前,机器不可能给工人带来真正的好处。”材



(第1题图)



(第3题图)

料中“更公正的社会组织”指的是()


- A. 资产阶级理性王国
- B. 社会主义
- C. 社会福利国家
- D. 知识经济时代

8. 1948年,苏联针对美、英等国分裂德国的措施,切断西柏林与其他美英法占领区的水陆交通,美、英则向西柏林大规模空运物资。这一局面持续近一年之久。这次危机反映出“冷战”的基本特征是()

- A. 苏联在对峙中处于攻势地位
- B. 美国交替采用对抗与缓和政策
- C. 两德为美苏争夺的前哨阵地
- D. 双方既对抗又避免直接军事冲突

9. 以下关于“市”的材料中,最符合右图场景的是()

- A. “……立九市,其六市在道西,三市在道东。”
- B. “凡江淮草市,尽近水际。”
- C. “千竹夜市喧”;“蛮声喧夜市。”
- D. “大街两边民户铺席……约十余里。”



《清明上河图》(局部)

(第9题图)

10. 1840年以来,中国棉花、大豆、蚕桑、烟草、花生、蓝靛、桐油等农产品原料的种植面积都逐年增加。出现上述现象的主要原因是()

- A. 近代工业的发展
- B. 西方列强的侵略
- C. 商品经济的发展
- D. 小农经济的发展

11. 梅州市蕉岭县邱逢甲故居外墙上写有一条标语:“让烟花开遍蕉岭,让铁水全县奔流。”这条标语最早可能书写于()

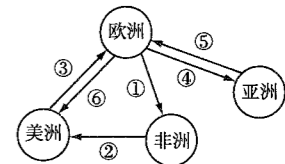
- A. 1953年
- B. 1956年
- C. 1958年
- D. 1979年

12. 民国初年……各地离婚率上升,《夏津县志》云:“近数年来,结婚、离婚颇尚自由,通都大邑时有所闻。”对上述材料现象的分析,正确的是()

- A. 婚姻自由蔚然成风
- B. 民主共和观念深入人心
- C. 社会环境相对宽松
- D. 西式婚礼成为时尚

13. 16—18世纪,世界各地的经济贸易日益密切。右面示意图中的箭头表示人员和物品流动的方向,①②③④⑤⑥表示人员或物品。其中,③所代表的主要物品是()

- A. 金银、玉米、烟草等
- B. 枪支、玻璃等
- C. 黑人奴隶
- D. 茶叶、丝绸、瓷器等



(第13题图)

14. 右图形象地刻画了1936年美国电影《摩登时代》的主题。该电影()

- A. 肯定了工业革命带来的巨大进步
- B. 揭示了工人被机器所异化的命运
- C. 宣传了《全国工业复兴法》的成效
- D. 以悲剧手法描绘了工人的生活状况



(第14题图)

15. 事实上,从关贸总协定和世贸组织的发展来看,尚无一个成员方因为加入该组织后而引起该国经济的衰退,反而是加快了其经济的发展。由此,可得出的结论是()

- A. 顺应全球化对各国经济发展有益无害
- B. 世贸组织成为当今最大的区域经济组织
- C. 加入国际经济组织必然有利于经济发展
- D. 闭关保守整体上不利于一国经济的发展

16. 在历史发展进程中,人类社会逐步告别“小国寡民”时代,世界从分散走向整体。下列选项中,与“小国寡民”相关的是()

- ①老子向往的理想社会 ②孟子提倡的民本思想 ③雅典民主的重要条件 ④罗马法公正至上观念
- A. ①②
- B. ②③
- C. ①③
- D. ③④

17. 荀子说:“君人者,隆礼尊贤而王,重法爱民而霸。”这表明其治国思想是()

- A. 恢复周礼
- B. 严刑峻法
- C. 礼法并用
- D. 君臣有别

18. 我国古代某一时期,国家统一、民族融合,青瓷与白瓷闻名世界,火药用于军事,其京都为当时东西文明的

交汇中心。这一时期应是()

- A. 汉朝
- B. 唐朝
- C. 宋朝
- D. 明朝

19. 2002年,欧元正式启用。仔细观察欧元纸币(如图)的正面,有窗户和走廊的图案。这一设计表明()

- A. 欧盟向所有国家开放
- B. 欧盟成员国间开放、团结与协作
- C. 欧盟政治一体化完全实现
- D. 欧盟重视宣传历史上的著名建筑



(第19题图)

20. 第二次世界大战后,调整世界经济贸易和金融的三大支柱是()

- ①联合国
- ②世界银行
- ③国际货币基金组织
- ④关贸总协定

- A. ①②③
- B. ②③④
- C. ①②④
- D. ①③④

21. (2015·浙江舟山中学月考)民主与科学是新文化运动前期的指导思想。与这场运动相符合的一组人物是()

- A. 蔡元培、陈独秀、李大钊
- B. 蔡廷锴、李大钊、胡适
- C. 胡适、康有为、蔡廷锴
- D. 蔡元培、康有为、陈独秀

22. 1992年,邓小平在南方视察时发表了一系列重要讲话。其讲话内容围绕的根本问题是()

- A. 如何正确处理人民内部矛盾
- B. 如何冲破“两个凡是”的思想束缚
- C. 建设什么样的党、怎样建设党
- D. 什么是社会主义、怎样建设社会主义

23. (2015·浙江义乌中学检测)小说《巨人传》中描写道:“1533年时人们都相信,存在了一千年的精神黑暗,相继而来的将不会是新生,而是真理的重新恢复。”一千年前古希腊罗马文化的精神实质是()

- A. 专制主义
- B. 自由主义
- C. 理性主义
- D. 人文主义

24. 孟德斯鸠和卢梭是18世纪法国启蒙运动的代表人物,他们共同的政治主张是()

- A. 君主立宪
- B. 民主自由
- C. 信仰得救
- D. 三权分立

25. (2015·浙江镇海中学月考)20世纪最后一期《时代》周刊,评选出一位“世纪人物”,称他为“天才、政治难民、人道主义者、原子和宇宙谜的开启者”,“以其最伟大的思想和无与伦比的形象独占鳌头”。据你推断,这位“世纪人物”应是()

- A. 牛顿
- B. 达尔文
- C. 爱迪生
- D. 爱因斯坦

二、非选择题(本大题共2小题,第26小题10分,第27小题10分,共20分)

26. 阅读下列材料:

材料一 美苏冷战虽已离我们远去,但我们无法否认它在国际关系史中的重要地位。美苏冷战是在对抗与缓和的交替中进行的,在欧洲是真正意义上的冷战,而在亚洲则充满了火药味。

——《冷战风云》

材料二



图1 欧洲共同体总部大厦



图2 欧盟旗帜

材料三 20世纪80年代末90年代初,伴随苏联的解体,两极格局结束,世界多极化进程加快。这一重大变化,使得世界出现许多新情况:大国关系重新调整,出现了缓和的趋势;一些过去被两极格局掩盖下的矛盾,如地区冲突、民族和宗教问题等开始暴露出来。

请回答问题:

(1)材料一中“在欧洲是真正意义上的冷战,而在亚洲则充满了火药味”,运用所学知识各举一例论证该观点。(2分)

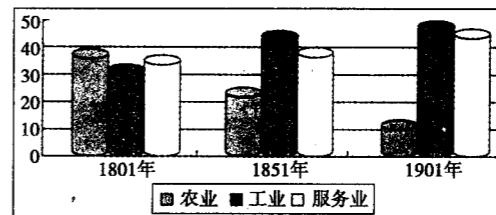
(2)材料二中图1形成的原因有哪些?结合材料二中的两幅图片,指出第二次世界大战后西欧发展的特点。(4分)

(3)根据材料三指出冷战结束的标志,简要概括冷战结束后国际形势的基本状况。(2分)

(4)结合材料二、材料三,分析材料三中“世界多极化进程加快”的原因。(2分)

27. 工业革命虽然没有刀光剑影,却对人类社会的各个方面都产生了深刻影响,大大改变了世界面貌。阅读下列材料,回答问题:

材料一 英国各行业就业人数占总就业人数的比例(%)



——摘编自[英]迪恩和科尔《1688—1959年英国的经济增长》

材料二 18世纪中叶起,英国从私人圈地进入国会圈地时期……1760年开始的乔治三世在位时期,国会颁布圈地法令达3000个以上,从1760年到1815年共圈占农民土地600多万英亩。

——刘宗绪主编《世界近代史》

材料三 世界强国工业生产能力变化表(1860—1900年)

年份	位次			
1860年	英国	法国	美国	德国
1870年	英国	美国	法国	德国
1890年	美国	英国	德国	法国
1900年	美国	德国	英国	法国

——摘编自[美]斯塔夫里阿诺斯《全球通史》

材料四 没有什么在表达工业时代的恶果时比这幅照片(《断掌工业》罗伯特·杜瓦斯诺摄于1956年)更令人震惊的了。早期的工业社会已变成疯狂的食人机器,浓烟蔽日的工厂和血淋淋的断指,是对19世纪兴起的所谓“人类的进步”最为直接的控诉。



(1)根据材料一,指出1801—1901年英国各行业就业人数的变化趋势。根据材料二并结合所学知识,简要说明产生上述变化的主要原因。(4分)

(2)根据材料三并结合所学知识,指出1860—1900年世界强国工业生产能力的变化趋势及其主要原因。(2分)


(3)根据材料四并结合所学知识,全面简要地评价两次工业革命的共同历史影响。(4分)

浙江省普通高中学业水平考试 仿真冲刺卷(五)

时间: 60分钟 分值: 70分 得分: _____

一、选择题(本大题共 25 小题,每小题 2 分,共 50 分。每小题列出的四个备选项中只有一个是符合题目要求的,不选、多选、错选均不得分)

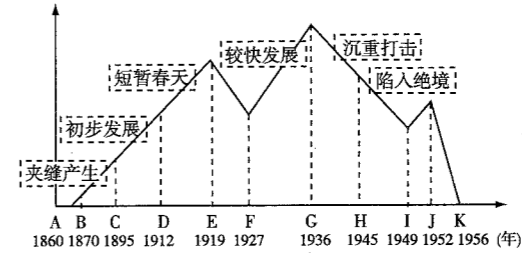
- 下列选项中,与西周分封制没有直接联系的是()
 - “(周公)兼制天下,立七十一国”
 - 山东素称“齐鲁大地”
 - “裂都会而为之郡邑”
 - “诸侯朝于天子,曰述职”
- 中国近代史上,国门洞开。福州、厦门被迫开放为通商口岸是在()
 - 鸦片战争时期
 - 第二次鸦片战争时期
 - 中日甲午战争时期
 - 八国联军侵华战争时期
- 近代以来,中国第一次取得完全胜利的反侵略战争是()
 - 鸦片战争
 - 第二次鸦片战争
 - 中日甲午战争
 - 抗日战争
- 近代中国第一个统一的资产阶级革命政党是()
 - 兴中会
 - 华兴会
 - 光复会
 - 中国同盟会
- 下列五四运动时期的四副对联中,反映五四运动取得了一定胜利的是()
 - “学生含冤,定卜三年不雨;同胞受辱,可兆六月风雪”
 - “民众雪耻心坚,全市罢工;本店金钱主义,独自开张”
 - “学生一日不释,本店一日不开”
 - “共争青岛归还,同看国贼罢黜;欢呼学生复课,庆贺商店开门”
- 右图是一枚纪念币,下列选项中,与纪念币主题相符的是()
 - 中国人民从此站起来了,成为国家的主人
 - 实现了民族平等,保证了祖国统一
 - 体现了人民民主和社会主义两大原则
 - 党和国家的工作重心转移到社会主义现代化建设上来



(第 6 题图)

- (2015·浙江台州调研)“已有不少人将周恩来喻为日内瓦会议的挽救者,他已赢得了外交舞台第一流人物的地位”。这样的评价基于他在日内瓦会议上提出的建设性意见,推动了会议的进展。其建议的宗旨是()
 - 号召亚非国家采取不结盟政策
 - 亚非各国坚持反帝反霸的方针
 - 恢复印度支那和平问题
 - 解决亚非尤其是朝鲜的和平问题
- 公元前 480 年,波斯入侵雅典。最终雅典人决定放弃雅典城,全体公民上船与波斯人决战的应该是()
 - 公民大会
 - 五百人会议
 - 执政官
 - 陪审法庭
- “除经议会同意外,国王平时在本国内征募或维持常备军,皆属违法”。该材料()
 - 标志着英国资产阶级革命完成
 - 平衡议会和国王的权力
 - 说明君主立宪制在英国开始形成
 - 说明责任内阁制在英国确立
- 唐代坊市制度严格,《唐律疏议》规定:“凡官私斗、秤、度尺,每年八月诣寺校印署,无或差谬,然后听用之。”这说明唐代()
 - 坊市制度影响社会经济的发展
 - 法律仅有维护封建统治的作用
 - 坊市管理有利于商业的发展
 - 实行较为严格的重农抑商政策

11. 下图展示了近代以来中国民族资本主义产生、发展的历程,对此解释错误的是()



(第 11 题图)

- 图中 B—C 出现与自然经济逐渐解体、外商企业利润的刺激和洋务运动诱导有关
 - 图中 C—D 出现的主要原因是无产阶级开始登上历史舞台
 - 图中 D—E 出现的外因是欧洲列强忙于第一次世界大战,暂时放松对华经济侵略
 - 图中 H—I 出现的内因是四大家族官僚资本垄断了国家的经济命脉
12. 以下是四幅新中国不同时期的宣传画。按画中主题体现的时间先后顺序,排列正确的是()



豪情满怀迎跃进

①



女民兵与样板戏

②



第一部宪法颁布

③



欢庆香港回归

④


(第 12 题图)

- ①②③④
 - ②③①④
 - ③①②④
 - ④②③①
13. 20 世纪 30 年代,某报纸评论道:“上海近日以乘汽车为豪。每至礼拜日,必有许多少少年男女同乘一车,疾驰于南京路、静安寺路、福州路。”这说明()
- 汽车已成为人们的主要出行工具
 - 近代上海的交通日益便利发达
 - 近代上海的奢侈风气最为盛行
 - 新式交通工具冲击着传统观念
14. 下列是欧洲某项贸易的大略资料,最有可能是()

年代	1500—1600	1601—1700	1701—1810	1810—1900
数量	275 000	1 341 000	6 000 000	600 000

- 黑奴
 - 棉花
 - 香料
 - 钢铁
15. 家庭联产承包责任制的确切含义是()
- 农民拥有自己的土地、农具,自主经营
 - 在坚持土地集体所有制的前提下,农民自主经营,自负盈亏
 - 农民个体经营和乡村联合经营相结合
 - 在乡镇企业中建立严格的责任制
16. 民国时期,在社交礼仪上逐渐用西方的握手、鞠躬取代跪拜仪式,称呼上用“先生”“同志”取代“老爷”“大人”,这一变化本质上体现了()
- 男人社会地位下降
 - 西式称谓取代传统称呼
 - 对西方文化的盲目崇拜
 - 民主、平等观念对国人的影响
17. 有人说新航路的开辟引起了“商业革命”。其含义是指()
- 生产力迅速发展,商业空前繁荣
 - 欧洲与世界各地区、各民族之间的贸易联系加强,世界市场开始形成
 - 商业的繁荣促成了新生产关系的产生
 - 贵金属大量流入欧洲,金银持续贬值,商品价格狂涨

18. 右侧是 20 世纪 30 年代美国某一重大改革中的图片。它反映了政府()
- A. 直接大规模救济 B. 确保企业的公平竞争
C. 减耕减产补贴农业 D. 兴办基础公共工程



(第 18 题图)

19. 新文化运动是中国近代思想变革的高潮之一。与以往的近代化思潮相比, 它的超越之处表现在()

- ①提出国家主权属于人民, 反对专制 ②要求发展实业, 以强国富民 ③全面批判以儒家思想为核心的旧伦理道德 ④倡导文学革命, 改用白话文

- A. ①② B. ③④ C. ①③ D. ②④
20. 中国大地从南到北、从珠江三角洲到长江三角洲, 处处燃烧着革命的火焰, 使“孙中山先生致力国民革命凡四十年还未能完成的革命事业, 在仅仅两三年之内, 获得了巨大的成就”。这一“革命的火焰”()

- A. 促进了国共两党进一步合作 B. 完成了民主革命任务
C. 实现了孙中山的革命目标 D. 动摇了帝国主义统治中国的根基

21. 新中国成立后, 科技事业取得突飞猛进的发展。1964 年, 中国第一颗原子弹爆炸成功; 三年后的 1967 年, 第一颗氢弹成功爆炸; 1970 年, 我国第一颗人造地球卫星“东方红一号”成功发射。究其原因是()

- A. “科教兴国”战略的推动 B. 苏联长期的技术支持
C. 主观努力拼搏的结果 D. 雄厚物质基础的保障

22. 文艺复兴和启蒙运动是人类史上两次伟大的思想解放运动, 对人类的发展有着深刻的影响, 也不可避免地存在时代的局限性。下列说法不正确的是()


- A. 文艺复兴肯定人的价值而否定理性 B. 文艺复兴并不反对宗教和上帝本身
C. 启蒙思想家批判封建专制制度 D. 启蒙运动为未来社会描述了美好的蓝图

23. 达尔文《物种起源》一出版, 英国社会学家斯宾塞马上将达尔文的学说运用到社会历史领域, 创立了社会达尔文主义。他认为, 人类社会也像自然界一样, 存在着生存竞争。在竞争中, 强者生存了下来, 而弱者则被淘汰。只有这样, 人类社会才能进步。这种观点()

- A. 正确。社会科学可以借鉴自然科学理论 B. 错误。社会科学不可以借鉴自然科学理论
C. 正确。自然科学理论可以移植到社会科学领域 D. 错误。自然科学理论不可以移植到社会科学领域

24. 这是一张 1941 年名为《美国 睁开你的眼睛》的美国海报, 画面中只有一个人的头部特写, 他的眼睛被蒙住了, 上面写着“一切照旧”, 而画面背景中象征着法西斯的乌云已笼罩在了他的头上。这张海报意在()

- A. 说明德意日法西斯侵略与美国无关
B. 说明美国还没有卷入与法西斯的战争
C. 警醒对法西斯侵略视而不见的美国人
D. 讽刺美国等西方大国推行的绥靖政策



(第 24 题图)

25. 1998 年, 日本向联合国和世界银行等机构的捐款和出资占其政府开发援助(ODA) 总额的比例高达 19.8%。2001 年, 日本首相向联合国秘书长表示: 日本担负了联合国会费的两成, 但日本所希望的安理会改革却迟迟不能实现, 对此, 在国民中间有不满情绪。材料表明, 日本()

- A. 实现了经济的持续增长 B. 获得了安理会常任理事国席位
C. 企图谋求政治大国地位 D. 成为当时世界上最大的债权国

二、非选择题(本大题共 2 小题, 第 26 小题 12 分, 第 27 小题 8 分, 共 20 分)

26. 阅读下列材料:

材料一 明清时期, 形成了一个积累大量财富的商人团体——淮扬盐商。康乾年间, “奢靡风习创于盐商, 而操他业以致富者群慕效之”, 扬州地区物质繁荣、名流荟萃, 周边乃至全国都追慕扬州, 以至“作事轩昂, 向日‘扬气’——尽事奢华也”。

——摘编自孙燕京《晚清社会风尚研究》

材料二 天津通商后不出十年, 租界里中国人的时髦打扮已变成“短衫窄裤、头戴小草帽, 口衔烟卷, 时辰表链, 特挂胸前”。甲午战争前, 即便是内地甚至某些乡村, 日用洋货也有所流行。洋货成为某些人生活的必需品, 原先的“扬气”“今则竟曰‘洋气’了”。

——摘编自孙燕京《晚清社会风尚研究》

材料三 20 世纪末, 中国百姓生活中, 电话从“摇着打”到“走着打”, 汽车从奢侈品到代步工具。世界名牌服饰逐渐走进寻常百姓家, 可供选择的服饰多了。将服饰产品打造成国内甚至国际品牌, 成了众多服饰厂家的经营诉求。世界服装艺术中的中国元素也得到更多体现。

——摘编自严昌洪《20 世纪中国社会生活变迁史》等

请回答问题:

(1) 阅读材料一, 回答何谓“扬气”。它的出现对思想观念有何影响?(2 分)

(2) 材料二中的“洋气”是指什么? 结合所学知识, 分析从“扬气”变为“洋气”的原因。(4 分)

(3) 对比材料二与材料三, 分析中国人在对外态度上有何进步。(4 分)

(4) 综合上述材料, 你认为影响社会生活风尚的因素有哪些?(2 分)

27. 阅读下列材料:

材料一 特区是个窗口, 是技术的窗口, 管理的窗口, 知识的窗口, 也是对外政策的窗口。从特区可以引进技术, 获得知识, 学到管理, 管理也是知识。特区成为开放的基地, 不仅在经济方面、培养人才方面使我们得到好处, 而且会扩大我国的对外影响。

——邓小平《办好经济特区, 增加对外开放城市》(1984 年 2 月 24 日)

材料二 一九七九年, 那是一个春天, 有一位老人在中国的南海边画了一个圈, 神话般地崛起座座城, 奇迹般聚起座座金山……一九九二年, 又是一个春天, 有一位老人在中国的南海边写下诗篇, 天地间荡起滚滚春潮, 征途上扬起浩浩风帆。

——歌曲《春天的故事》

材料三 “革命是解放生产力, 改革也是解放生产力。”“改革开放胆子要大一些, 敢于试验。姓‘资’还是姓‘社’的问题, 判断标准主要看是否有利于发展社会主义生产力, 是否有利于增强社会主义国家的综合国力, 是否有利于提高人民的生活水平。”

“计划多一点还是市场多一点, 不是社会主义与资本主义的本质区别……计划和市场都是经济手段。”

——邓小平“南方谈话”

请回答问题:

(1) 据材料一概括经济特区的设立对发展社会主义经济所起的积极作用。(2 分)

(2) 材料二中的“春天”的内涵是什么?(2 分)

(3) 根据材料二、材料三, 指出 1992 年“南方谈话”的重大影响。(4 分)

浙江省普通高中学业水平考试 仿真冲刺卷 参考答案

浙江省普通高中学业水平考试

仿真冲刺卷(一)

- D 解析:宗法制度的核心是嫡长子继承制,即王位和财产由嫡长子继承,嫡长子是妻(正室)所生的长子。从表格中的信息可知,老三是妻(正室)所生的次子,故 A 项排除。老四是妾二(侧室)所生,故 B 项排除。老大是妾一(侧室)所生,故 C 项排除。老二是妻(正室)所生的长子,故 D 项正确。
- C 解析:依据题干材料可知,该评论肯定了辛亥革命在推翻清朝统治、废除君主专制方面的贡献,故排除 A 项;“剩留下了一堆毁灭碎瓦和呛人的尘灰”反映了辛亥革命的不彻底,C 项正确。B、D 两项在材料中无法体现。
- A 解析:通过材料可知,从 1840—1901 年,资本主义列强发动了一系列侵华战争,都迫使清政府签订了不平等条约,加深了中国的民族危机,故 A 项正确。
- A 解析:根据材料内容可知这次会议召开于 1954 年,故 A 项正确。
- B 解析:依据周恩来与邓小平二人政治智慧的特点及功绩可知 B 项正确。
- A 解析:公元前 6 世纪初,执政官梭伦推行改革,改革动摇了旧氏族贵族世袭特权,保障了公民的民主权利,为雅典民主政治奠定了基础。
- B 解析:托克维尔认为 1787 年宪法“只能使发明人成名发财”,说明它只适合美国特殊的国情,不具有普适性,故 B 项正确。
- C 解析:依据材料信息“至今一切社会的历史都是阶级斗争的历史”,可知题干材料指出了阶级斗争的作用。
- D 解析:“杜鲁门主义”反映的是两极格局。“欧洲一体化”“日本崛起”“中国振兴”反映的是两极格局下多极化趋势的发展。“苏联解体”反映的是两极格局的瓦解。
- B 解析:商周时期青铜铸造进入鼎盛时期。
- B 解析:由“别肠转如轮,一刻既万周;眼见双轮驰”可知材料主要反映了近代交通工具改变了人们的生活。其他选项与材料不相符。
- C 解析:从材料和表格内容都可得出农产品大

量出口,故 C 项正确。

- D 解析:中国近代史上,在航空运输、铁路运输和公路运输上列强一直处于垄断地位,故 A、B、C 三项错误;1872 年李鸿章创办上海轮船招商局,对打破列强垄断中国航运有重要作用,故 D 项正确。
- D 解析:党的十一届三中全会开辟了建设中国特色社会主义的新道路。随后经济体制改革从农村起步,向城市推进,对外开放的格局逐步形成,社会主义市场经济体制初步建立,故该同学的历史课堂笔记的主题是建设中国特色社会主义的新道路。
- D 解析:西方人视白色为纯洁高贵,中国传统文化中视白色为不祥。由“清末民初”“大邑”(大城市)的中国女子开始穿白色服饰可知,她们受西方文明影响,传统观念有所转变。
- C 解析:1873 年,在汉口出版的《昭文新报》,开创了国人办报的先例,排除 B 项。在维新变法运动中,国人办报形成高潮,其中影响较大的有《中外纪闻》《强学报》《时务报》,主要是开启民智、传播维新思想,故 C 项正确。《时务报》不属于通俗性报纸,排除 A 项。D 项没有准确解释出《时务报》发行量由少到多的原因。
- B 解析:西方国家的福利政策增加了国家财政支出,故 B 项符合题意。
- C 解析:解答本题应注意运用比较的观点分析问题,李贽的思想与文艺复兴时期的人文主义思想都具有思想启蒙的意义,从背景上看都是商品经济发展的产物,从内容上看都宣扬了个性自由和解放,因此 A、B、D 三项表述均正确。李贽的思想虽然带有民主性的色彩,但它批判的是程朱理学,不能体现资产阶级的意愿,而文艺复兴时期的人文主义思想则体现了新兴资产阶级的愿望,故 C 项表述错误,符合题意。
- C 解析:由材料可知,宋代指南针在航海中只起辅助作用。
- A 解析:解答本题的关键是明确材料的内容和明清科举取士的内容。《红楼梦》是清朝小说,当时理学占统治地位,科举取士的命题范围在四书五经内,材料中贾父强调四书的重要性符合当时

的实际情况,故 A 项正确。

- A 解析:联系 1925 年这个时间点和材料中“决心废除‘所有外国特殊地位、特权和治外法权’”,判断是国民党重新解释三民主义中的民族主义,明确提出反对帝国主义的要求。
- B 解析:1970 年,“东方红一号”人造地球卫星发射成功,使中国的空间技术发展水平跻身世界前列。
- B 解析:材料反映了人文主义者追求个人现世的幸福与享受,这种变化始于文艺复兴。
- A 解析:从材料中看出作者要表达的意思就是:农民的儿子、贵族的儿子都是享有各种天然权利的人,都是自由平等的。
- B 解析:中国近代民族工业产生于 19 世纪 70 年代。
- (1)特点:敌攻我守(被动挨打);海陆交织(局处海隅)。原因:北洋舰队避战不出;将士贪生怕死;洋员鼓动投降;主帅指挥不力。
(2)危害:引发了列强瓜分中国的狂潮;大大加深了中国社会的半殖民地化(民族危机的加深);刺激了日本军国主义的扩张野心。
(3)说明:中日甲午战争客观上唤醒了国人的民族意识;推动了救亡图存运动;激发了政治变革思潮;加快了中国的近代化(现代化)进程。
- (1)

思想理论	代表人物	历史贡献
三权分立		
	卢梭	
		指导了辛亥革命
	陈独秀	

(2)新民主主义革命时期:形成毛泽东思想;带领各族人民建立独立民主的新中国。社会主义建设新时期:形成邓小平理论;实行改革开放,建设中国特色社会主义国家。

(3)现实意义:提倡礼,遵纪守法;提倡孝,倡导良好的社会风尚;提倡仁,有助于社会的和谐;提倡教育,有利于科技的进步。(言之成理即可)

浙江省普通高中学业水平考试

仿真冲刺卷(二)

- C 解析:家谱是记载以血缘关系为主体的宗族世系繁衍的载体,根据材料中“家谱”“嫡孙”等信息,可知材料反映的是中国古代的宗法制。
- C 解析:依据材料中“北方山岭”“长江原野”“在华南的稻田和多雨的山岭中”“整个民族武装起来,已有着统一的指挥了”等信息说明是全民族抗战,故 C 项正确;A、B、D 三项分别符合国民革命时期、国共十年对峙时期和解放战争时期的特征,都与材料信息不符。
- D 解析:中共二大最大的贡献就是制定了民主革命纲领,承认了民主革命是中国革命不可逾越的历史阶段。
- C 解析:中共十五大提出依法治国、建设社会主义法治国家的历史任务;而把依法治国写入宪法的是全国人大九届二次会议,故 C 叙述错误,符合题意。
- C 解析:中国恢复在联合国合法席位的直接原因是第三世界国家的支持,因此该图体现的是发展中国家对新中国的支持,故 C 项正确;新时期是指 1978 年党的十一届三中全会以后,与图示的时间不符,故 A 项错误;中国恢复在联合国的合法席位是在 1971 年,当时美国提出“双重代表权”方案,故 B 项错误;当时世界仍处于两极格局下,D 项中“多极格局”表述不正确。
- A 解析:罗马法中所蕴含的人人平等、公正至上的法律观念,具有超越时间、民族、地域的永恒价值。故选 A。
- D 解析:1689 年,英国议会颁布了限制王权的《权利法案》,确立了资产阶级君主立宪制政体,为英国资本主义的发展奠定了稳固的政治基础,故 D 项符合题意。
- D 解析:根据题干信息可知,葛兰西要通过政治运动来改变资本主义经济基础,属于马克思主义的信仰者,故 D 项正确。
- B 解析:据材料“以抑兼并,过则有罚”可知政府实行抑商政策;“一户所领之织机不得逾百张”可知私营丝织业受到限制;材料主要涉及丝织业问

- 题,并未涉及土地兼并问题,据材料“清政府曾规定”可知尚未出现民族工业,排除③④。故B项符合题意。
10. D 解析:材料中这名小地主感受到轮船的快速,转变观念要求儿子不再考科举,而是到教会学校学习西方制造,故D项正确。
11. D 解析:中国对外开放的第一步是创办经济特区,故选D项。中美正式建立外交关系是在1979年。香港回归是在1997年。中国加入亚太经合组织是在1991年。
12. C 解析:1956年底,国家基本上完成了对农业、手工业和资本主义工商业的社会主义改造,实现了把生产资料私有制转变为社会主义公有制的任务。我国初步建立起社会主义的基本制度。
13. C 解析:1842年上海开辟成为通商口岸是被动开放,不是主动开放,故A项错误。上海不是经济特区,故B项错误。1984年上海成为沿海开放城市,故C项正确。浦东实现开发开放是在20世纪90年代,故D项错误。
14. C 解析:新航路开辟后,西班牙、葡萄牙等国踏上了殖民扩张的道路,它们从殖民地掠夺大量的黄金、白银运回欧洲,使得欧洲市场上流通的金属货币倍增,引起所谓的“价格革命”,欧洲各国的物价普遍上涨。
15. D 解析:材料所示国家都采取了不同形式的市场经济体制,故D项正确。
16. B 解析:亚太经济合作组织、欧洲联盟和北美自由贸易区都是区域性经济组织,它们相继建立表明世界经济区域集团化取得重大进展。
17. A 解析:孔子提出的“仁者,爱人”和孟子提出的“民贵君轻”,要求统治者推行仁政,有利于构建和谐的社会人际关系,缓和阶级矛盾,①③正确。②严刑峻法是法家的主张。④兼爱、非攻是墨家的主张。
18. C 解析:黄宗羲的思想并未受欧洲启蒙运动的影响,故A项错误。黄宗羲的思想没有跳出儒家的修身、齐家、治国、平天下的理念,仍属于儒家思想范畴,故B项错误。黄宗羲批判封建君主专制,为中国近代的民主思想家们提供了有力的思想武器,成为中国近代民主思想的来源之一,故C项正确。新兴资产阶级出现在近代,与题意无关,故D项错误。
19. A 解析:材料反映的是进化论的观点,故A项正确。

20. D 解析:孙中山的三民主义中的民生主义主要是吸取欧美社会存在的两极分化的教训而提出的。
21. C 解析:袁隆平培育的籼型杂交水稻,使中国粮食产量大增,有助于解决世界性饥饿问题。
22. C 解析:材料中提到了文化转型,只有C项符合题意。
23. A 解析:解答本题的关键是全面把握19世纪以来世界的文学艺术及其特点。依据材料信息“反对18世纪的古典主义、启蒙思想、理性思想……秩序”“强调‘……感情力量……’”,联系所学知识可知这反映了浪漫主义文学兴起的背景和特点,A项正确;《人间喜剧》属现实主义文学,B项不符合题意;《母亲》属无产阶级革命文学,C项不符合题意;《老人与海》属现代主义文学,排除D项。
24. A 解析:根据材料时间,国会最终依然维持军火禁运议案,可见当时美国“孤立主义”依然占优势。
25. B 解析:材料“下跪致歉”表达了德国深刻反省侵略历史。
26. (1)制度:郡县制。历史进步性:中央垂直管理地方,是中央集权制度形成过程中的重要环节,也是官僚政治取代贵族政治的重要标志。
(2)关系:中书省起草诏令,门下省封驳审议,尚书省负责执行;相互牵制和监督。
(3)矛盾:皇权和相权的矛盾(帝相矛盾或君相矛盾等也可)。影响:君主专制中央集权制度发展到顶峰(中央集权制度强化等其他意思相近也可)。
27. (1)事件:新航路开辟。主要特征:以欧洲为中心;雏形开始出现。
(2)地位:世界工厂;世界贸易中心。经济根源:工业革命的完成。
(3)机构:国际货币基金组织;世界银行。根本原因:第二次世界大战后美国实力空前膨胀(或第二次世界大战后美国成为头号资本主义强国)。

浙江省普通高中学业水平考试 仿真冲刺卷(三)

1. B 解析:根据材料“无易树子,无以妾为妻”,可知齐桓公的目的在于维护正妻和嫡长子的地位,极力维护宗法制,故B项正确。
2. A 解析:英国政府认为开放通商口岸、协定关税

- 是扫除清政府设在贸易往来道路上的主要障碍,故②③正确。
3. D 解析:古代雅典实行的是直接民主制,美国确立了联邦制和民主共和制,英国确立了君主立宪制。
4. A 解析:A项符合题干要求,B、C、D三项说法都与史实不符合。
5. C 解析:图1是新中国成立初期实行“一边倒”的外交方针,没有体现“消除分歧”和“超越制度”,排除A、D两项;图3重返联合国是我国外交关系的重大成就,是我国步入世界舞台的重要表现,与“大国风采”及“和平外交”无关,排除B项;图1、图2、图3、图4都反映了新中国实行独立自主的和平外交政策,逐步步入世界舞台,故C项正确。
6. C 解析:材料反映了古希腊的民主是建立在奴隶制基础之上的少数人的民主,C项符合题意。
7. A 解析:美国1787年宪法确立了联邦体制,中央权力加强的同时,各州还保持一定程度的自治地位,拥有一些自治权,故A项正确。三权分立原则是政府权力构建中的相互制约与平衡,与材料信息不符,故B项错误。邦联体制是独立之初美国实行的体制,故C项错误。民主共和政体主要体现为总统通过选举产生、有任期限制,故D项错误。
8. B 解析:解答本题的关键是明确《共产党宣言》与“圣西门、傅立叶、欧文等人的体系(空想社会主义)”之间的联系。结合所学知识可知,材料反映了社会主义从空想到科学的必要性。A、C、D三项在材料中无法体现,故B项正确。
9. C 解析:社会主义运动是马克思、恩格斯倡导的,故A项错误。和平与发展是人类社会长期追求的主题,故B项错误。20世纪50年代中期以来,赢得民族独立的亚非拉国家不愿介入美苏之间的斗争,而希望在两极格局中保持和平中立,采取不结盟政策,印度、埃及和南斯拉夫三国领导人是倡导者,故C项正确。世界多极化源于力量中心的变化,故D项错误。
10. B 解析:北约至今未解散,排除①。上海合作组织是“结伴而不结盟”,不是联盟组织,排除④。B项正确。
11. D 解析:解答本题的关键是要理解材料的主旨,同时应理解“大庾岭”这一地理概念,分清岭南、岭北为不同的地理区域。大庾岭为五岭之一,明朝时期由于大庾岭以南和大庾岭以北物产的差

- 异,使得长途贩运贸易兴盛。A、C两项在材料中都没有体现,B项结论片面,故选D项。
12. B 解析:流通铜贝出现于先秦时期,大量商业市镇和工场手工业出现是在明清时期。
13. C 解析:依据题干信息“签订了婚姻誓约书”和图片中两人的服饰,可知国人受西方文明的影响,逐渐接受西方的婚姻习俗。A、B、D三项说法过于绝对。
14. B 解析:题干图片中出现“中国兴”“还我河山”等标语,反映了当时人们渴望民族独立、国家富强的愿望。从“振兴国货”“挽回利权”等信息,可知民族资产阶级具有实业救国的精神。
15. A 解析:“大跃进”急于求成,人民公社化运动使生产关系改造超越当时生产力水平,都没有坚持实事求是的思想路线。
16. C 解析:注意图示中的时间“1929—1932年”和图示名称“世界工业生产指数”,1929—1932年工业生产指数由100下降到63.8,反映了世界性经济大危机的破坏性,故C项符合题意。A、B两项材料无体现,D项材料明确指出不包括苏联。
17. A 解析:材料中的民谣盛传于农村家庭联产承包责任制实行之后。家庭联产承包责任制,使农民获得了自主分配农产品的权利,“交够国家的,留足集体的,剩下都是自己的”体现兼顾了国家、集体、个人三者的利益,“粮食年年都翻番”表明农业生产的发展,故B、C、D三项解读正确;通过改革,农民获得了土地的经营、使用权,却并未获得所有权,故A项解读错误,符合题意。
18. C 解析:罗斯福新政的特点是大力加强政府对经济的干预,但并没有改变资本主义生产资料私有制的本质。中国的经济体制改革是在坚持社会主义公有制的前提下,改变生产关系中不适应生产力发展的一系列环节。二者都改变了单一的所有制形式,但不是全面发展国有经济,①排除。②是罗斯福新政的措施,排除。二者都体现了政府的宏观调控与市场自我调节的结合,③④正确。故选C项。
19. B 解析:美元成为世界货币是建立在美国强大的经济、黄金储备等基础之上的,有一定的必然性。
20. C 解析:材料的意思是经常把自己崇尚的先王尧舜禹和仁义道德挂在口上,不利于统治,由此判断韩非批评的是儒家学说,故选C。
21. D 解析:活版技术从北宋开始使用,排除A项;

浙江省普通高中学业水平考试 仿真冲刺卷(四)

- 活版之前传递信息并不是均用手抄,如雕版,排除B项;活版最早使用的是泥活字,排除C项。东汉蔡伦改进造纸术,指南仪器最早出现于战国时期,隋唐时期火药出现,活版技术出现在北宋(最晚),故选D。
22. B 解析:据材料信息可知书中提供了抵御外侮的方法,而且这一方法在洋务运动中付诸实践,即师夷长技以制夷,由此可知这部著作应该是魏源的《海国图志》。林则徐的《四洲志》中没有提出师夷长技以制夷的思想;严复的《天演论》主要是系统介绍进化论,论证维新变法的合理性。
23. B 解析:根据所学,1970年,随着我国第一颗人造地球卫星“东方红一号”的发射成功,中国成为世界上第五个能独立发射人造地球卫星的国家,中国开始进入航天时代。
24. A 解析:据材料信息“纯粹的世俗观念”,反对为“来世归宿”做准备,表明其关注现实生活,与人文主义的思想一致,且在欧洲历史上为“首次出现”,故选A。
25. A 解析:材料中“物质,受到……力的控制”“用数学方式表现”“中世纪那幅封闭的、仅限于地面并以地球为中心的宇宙图景被淘汰了……地球现在被看作其中的一颗行星”,充分表明“普遍法则”是指牛顿的万有引力定律。故选A。
26. (1)原因:此处是侵华日军集体屠杀中国人的遗址。年份:1937年。
(2)牢记历史,不让历史悲剧重演;培养爱国主义情怀,增强民族凝聚力。
(3)20周年:突出中国共产党在抗战中的地位。50周年:肯定国民党正面战场的作用和国际援助。60周年:强调中国抗战是世界反法西斯战争的重要组成部分。
27. (1)地位:自然法是罗马法的思想基础和具体法规的指导原则,它高于一切人定的法;标志着罗马法学的高度成熟。
(2)观点:司法权独立。规定:司法权属于各级法院;最高法院大法官终身任职,拥有最高司法权。
(3)原因:“文化大革命”破坏了民主和法制;保障人民民主,改变当时法律很不完备的状况。
意义:1982年宪法是中国社会主义建设时期一部比较完善的宪法,是中国特色社会主义法律体系的核心;成为中国在新时期治国安邦的总章程。
1. C 解析:隋唐时期,中央实行三省六部制,故A项错误;三省之间工作流程的分工,有利于相互牵制与监督,减少君主独断的失误,并没有体现三权分立原则,故B项错误;三省长官均是宰相,尤其是门下省有审议、封驳政令的权力,体现了对皇权的制约,故C项正确;三省六部制是中央官制的变化,主要是强化君权,而不是加强了中央集权,故D项错误。
2. C 解析:本题考查中国抗日战争和世界反法西斯战争的联系。蒋介石出任中国战区陆空军最高统帅、美国人史迪威出任中国战区参谋长等反映了中国的抗战是世界反法西斯战争的重要组成部分。A、B、D三项与题意不符。
3. D 解析:依据图片内容日本把山东“玩弄于股掌之上”可知是巴黎和会上把德国在山东的权益转让给日本,而中国要求收回山东权益的合理要求遭到了拒绝。
4. A 解析:1956年,中国共产党提出与各民主党派实行“长期共存,互相监督”的方针,1953年,国家开始实施第一个五年计划,不符合题干中的时间“1948年8月到1949年8月”,故排除C、D两项;B项在材料中没有体现,排除。中国人民政治协商会议第一届全体会议召开前,周恩来等中共领导人要求接送在港民主人士,进入解放区,参加筹备新政协,是为了团结民主人士共同筹建新中国。答案为A项。
5. B 解析:②表述不正确,应是“广大亚、非、拉发展中国家取得独立并日益成为国际事务中一支举足轻重的力量”,不是“所有亚、非、拉国家”都支持中华人民共和国在联合国合法席位的恢复;第26届联大召开于1971年,中美关系开始走向正常化的标志是1972年《中美联合公报》的发表,④不是其原因。
6. C 解析:英国首相由议会中的多数党领袖担任,因此首先要在党内竞选胜出,成为党首,然后代表所在党参加议会选举,成为议会中多数党领袖,最后还要由英王授权,才能出任首相,故C项正确。
7. B 解析:根据题干“机器不可能给工人带来真正的好处”,可判断材料出自《共产党宣言》,社会主义正是共产主义者要努力建立的理想社会,故B项正确。
8. D 解析:材料强调苏联针对美、英等国的分裂措施,而采取的应对措施,排除A项;材料没有体现美国交替采用对抗与缓和政策,排除B项;选项C虽然正确,但不是“冷战”的基本特征,排除;1948年“冷战”已经开始,美苏展开全面对抗,但都避免爆发直接的军事冲突,故选D项。
9. D 解析:本题从画面提供的场景入手,解题关键是熟知宋代城市商业的特点。A项在规定区域设置市,市和坊分开,与图片中打破市坊的界限不符,故排除。B项草市和C项夜市都与图片中白天城市商业的繁荣没有关联,故排除。“大街两边民户铺席”说明了宋代商业的特点——市、坊混在一起,也与图片场景相吻合,故选D项。
10. B 解析:鸦片战争之后,中国卷入资本主义世界市场,开始沦为列强的商品市场和原料产地,农产品作为原料大量出口体现了列强的经济侵略,故B项正确。
11. C 解析:根据材料中的“让钢花……”和“让铁水……”,应该是“大跃进”时期的大炼钢铁,时间最早为1958年,故C项正确。
12. C 解析:材料主要论述的是婚姻观念的变化,与民主共和思想没有太大关系;材料中“近数年来,结婚、离婚颇尚自由”说明社会对婚姻限制相对宽松,故C项正确。
13. A 解析:③代表的是从美洲运到欧洲的物品。新航路开辟以后,殖民者把美洲的金银、玉米、烟草等运回欧洲。故答案为A项。
14. B 解析:解答本题的关键是准确解读图片信息。图片描述的是人和机器的冲突。背景是当时的美国工业因为采用机器生产而大量解雇工人所造成的失业浪潮,而主角夏尔洛是这个时代悲剧的代表人物,他的经历反映了机器时代所带来的恐惧与打击。故选B项。工业革命发生在18世纪60年代到19世纪上半期,而题干时间是“1936年”,排除A项。影片以喜剧的手法描绘了机器时代工人的生活状况,排除D项。C项与图片信息无关。
15. D 解析:据材料“尚无一个成员方因为加入该组织而引起该国经济的衰退,反而是加快了其经济的发展”并联系所学知识可知,闭关保守整体上不利于一国经济的发展,故D项正确。
16. C 解析:老子向往的理想社会是“小国寡民”的状态;孟子的民本思想与“小国寡民”无关;雅典民主制形成的条件与雅典城邦“小国寡民”的状态有关;罗马后来发展为帝国,并不是“小国寡民”。C项符合题意。
17. C 解析:从题干可知荀子的思想既重礼又重法,故C项正确。
18. B 解析:唐朝出现“南青北白”的制瓷局面,火药开始用于军事,都城长安是世界文明都市,故B项正确。
19. B 解析:欧盟是欧洲国家间的政治经济联合,不会向所有国家开放,故排除A项;欧盟政治一体化还没有完全实现,故排除C项;欧元上图案的设计旨在表明欧盟成员国间开放、团结与协作,并不是为了宣传历史上的著名建筑,故B项正确,排除D项。
20. B 解析:世界银行、国际货币基金组织、关贸总协定是第二次世界大战后建立的调整世界经贸和金融的三大支柱。
21. A 解析:蔡廷锴是爱国将领、抗日民族英雄,康有为是资产阶级维新派的代表,以上两人都不是新文化运动的代表人物。
22. D 解析:邓小平“南方谈话”抓住“什么是社会主义、怎样建设社会主义”这个根本问题,深刻揭示了社会主义的本质,把对社会主义的认识提高到新的科学水平。
23. D 解析:古希腊罗马文化中主张注重人性,提倡怀疑态度,强调人的价值、人的决定作用,而文艺复兴的核心正是人文主义。
24. B 解析:伏尔泰主张君主立宪,卢梭主张民主共和,故A项错误。信仰得救是宗教改革时期的主张,故C项错误。三权分立是孟德斯鸠的主张,不符合卢梭,故D项错误。民主自由是二者的共同主张,故选B项。
25. D 解析:爱因斯坦的相对论开启了原子和宇宙之谜;第二次世界大战前,爱因斯坦的进步活动,以及他的犹太人身份,使他成为德国纳粹分子的迫害对象,爱因斯坦不得不移居美国;爱因斯坦还是一位坚定的和平捍卫者,所以有“天才、政治难民、人道主义者、原子和宇宙谜的开启者”之称。
26. (1)欧洲“冷战”:柏林墙的修建;亚洲“热战”:朝鲜战争。
(2)原因:西欧国家经济发展的需要;抗衡美苏,提升国际地位的需要;法德和解是关键;马歇尔计划的客观作用。特点:逐渐走向联合;逐渐由经济联合走向经济政治联合。
(3)苏联解体。总体趋势走向缓和,但缓和与紧张、和平与动荡并存。

(4)经济格局多极化趋势的影响;苏联解体。

27. (1)变化趋势:英国农业就业人数逐步下降并大大低于工业、服务业就业人数。主要原因:工业革命的推动;圈地运动的影响。

(2)变化趋势:世界强国工业生产能力由英国世界领先逐步变为美国世界领先。主要原因:英国世界领先是受第一次工业革命的影响;美国世界领先是受第二次工业革命的影响。

(3)促进了资本主义世界市场的形成,推动了人类文明的进步;但也带来环境破坏、工人权益受损等社会问题。

浙江省普通高中学业水平考试

仿真冲刺卷(五)

1. C 解析:A项“立七十一国”反映的是分封制,故A项不符合题意。结合史实可知,西周时在今山东地区分封的是齐国和鲁国,B项反映的是分封制,故不符合题意。从“为之郡邑”可知反映的是郡县制,故C项符合题意。结合史实可知,分封制下诸侯有朝觐述职的义务,反映的是分封制,故D项不符合题意。
2. A 解析:第一次鸦片战争中签订的《南京条约》规定开放广州、厦门、福州、宁波、上海五处为通商口岸。
3. D 解析:鸦片战争、第二次鸦片战争、中日甲午战争都以中国的失败而告终,抗日战争是中国人民一百多年来第一次取得反对外来侵略的完全胜利。
4. D 解析:1905年,兴中会、华兴会等资产阶级革命团体的主要成员与部分留日学生在日本东京成立了中国近代第一个统一的资产阶级革命政党——中国同盟会。
5. D 解析:依据题干材料中信息“共争青岛归还”“国贼罢黜”“学生复课”可知,在全国人民的压力下,北洋政府被迫罢免了曹汝霖、章宗祥、陆宗舆的职务,释放了被捕的学生,参加巴黎和会的中国代表团也拒绝在和约上签字,五四运动取得了初步胜利。
6. C 解析:图片反映的是人民代表大会成立五十周年。

年。新中国成立标志着中国人民从此站起来了,成为国家的主人,故A项错误。实现了民族平等,保证了祖国统一的是民族区域自治制度,故B项错误。1954年宪法确立的人民代表大会制度是我国的根本政治制度,1954年宪法体现了人民民主和社会主义两大原则,故C项正确。党的十一届三中全会决定把党和国家的工作重心转移到社会主义现代化建设上来,故D项错误。

7. C 解析:题干信息“将周恩来喻为日内瓦会议的拯救者”反映了周恩来在日内瓦会议上的积极作用。1954年,苏、美、英、法、中五国外长在瑞士日内瓦举行会议,会议主要讨论如何和平解决朝鲜问题和恢复印度支那和平问题。当会议陷入僵局时,周恩来就印度支那停止敌对行动提出六点建设性意见,推动了会议的进展,并最终达成了《关于恢复印度支那和平的日内瓦协议》,进一步缓和了亚洲和世界的紧张局势。
8. A 解析:公民大会是雅典城邦的最高权力机关,有权决定国家大事,故A项正确。五百人会议是公民大会的附属机构,负责为大会准备提案并主持大会,没有决定国家大事的权力,故B项错误。执政官是由公民大会选出的主持国家日常事务的领导者,国家大事最终还是由公民大会决定,故C项错误。陪审法庭主要负责对违法犯罪的行为进行审判,故D项错误。
9. C 解析:材料出自1689年通过的《权利法案》,这是对王权的限制,标志着君主立宪制在英国开始形成,故C项正确。“光荣革命”标志着英国资产阶级革命的完成,故A项错误。材料内容不是平衡议会和国王的权力,故B项错误。责任内阁制在英国确立是18世纪中期,故D项错误。
10. C 解析:材料的意思是说加强质量管理和禁止非法牟利,有助于维护市场和交易秩序。
11. B 解析:依据所学知识分析,C—D出现的主要原因是清政府放宽了对民间设厂的限制,且这一时期民族资产阶级登上历史舞台,B项说法错误,符合题意。
12. C 解析:①据“跃进”可以判断发生在“大跃进”

时期(1958年开始),②“样板戏”是“文化大革命”的产物,时间是1966—1976年,③新中国第一部宪法是1954年颁布的《中华人民共和国宪法》,④香港回归是在1997年。故按时间先后排列顺序为③①②④。

13. D 解析:从材料信息可以看出汽车的出现给社会消费观念和社会风气带来的变化。
14. A 解析:通过时间与数量的变化可知选A项。
15. B 解析:家庭联产承包责任制是农村生产关系调整的表现,B项从所有制结构、经营方式和分配方式方面归纳出了内涵。
16. D 解析:从称谓上的区别看出了人的地位的变化,民主观念的增强,体现了民主、平等精神。
17. B 解析:本题考查对“商业革命”的理解。这里“商业革命”的含义是指欧洲与世界各地、各民族贸易联系加强,世界市场雏形开始形成。所以选B项。
18. D 解析:图片中的英文“WORK”意思是工作,联系新政措施可知其指代推行“以工代赈”。“以工代赈”不属于直接救济,故A项错误。材料并未体现企业公平竞争方面的内容,故B项错误。减耕减产补贴农业是农业方面的措施,与材料信息不符,故C项错误。此图片反映的是美国罗斯福新政时期“以工代赈”的内容,通过兴办一些公共工程,给予人们工作的机会,代替直接的救济,故D项正确。
19. B 解析:新文化运动主张新道德批判旧道德,开展文学革命,故③④正确,B项符合题意。
20. D 解析:由“从南到北、从珠江三角洲到长江三角洲”“革命事业,在仅仅两三年之内,获得了巨大的成就”可知,该事件为1924—1927年的国民革命,由于蒋介石等国民党右派叛变革命,导致国共两党第一次合作破裂,故A项说法错误。国民革命失败,也就没有完成民主革命任务,也没有实现孙中山的革命目标,故B、C两项说法错误。国民革命基本上推翻了北洋军阀的统治,动摇了帝国主义统治中国的根基,故答案为D项。
21. C 解析:1964年至1970年,中国与美苏两国关

系恶化,面对美苏的威胁,尽管当时中国国民经济发展情况不好,但仍在积极发展国防科技,体现了主观努力拼搏,故C项正确。

22. A 解析:文艺复兴以人为中心,同时也肯定理性,故A项错误,符合题意。
23. D 解析:达尔文的学说,是经过大量的观察和实验而形成的自然科学理论,而斯宾塞并没有进行论证、没有经过实践的检验,只是简单地将达尔文的学说复制、移植到社会历史领域,这样是不科学的。因此该观点是错误的。对于自然科学理论,社会科学可以借鉴但不可简单地移植。故选D项。
24. C 解析:这张海报的真实目的在于警醒对法西斯战争乌云视而不见的美国人,让他们赶快睁开眼睛,认清形势,加入到反法西斯战争的行列中来。
25. C 解析:解答本题的关键是理解材料含义,即日本随着经济的崛起,企图谋求政治大国地位,故A项错误,C项正确。日本不是安理会常任理事国,B项本身错误;日本捐款和出资援助联合国和世界银行等机构,不能说明其成为世界上最大的债权国,D项错误。
26. (1)始创于扬州盐商的一种奢靡生活风气。冲击了儒家的正统思想;传统的俭朴观念发生变化。
(2)西方式生活时尚。西方列强的入侵,西方商品的输入,西方文化的影响。
(3)19世纪后期,中国人被动接受西方文化和简单模仿西方生活方式;改革开放之后,中国人积极主动地学习并融入世界。
(4)时代特征;经济发展;社会进步;外来影响。
27. (1)引进外国先进技术和管理经验;发展外向型经济,使特区成为我国对外开放的窗口和基地。(若答培养人才,获得知识;扩大对外影响酌情给分)
(2)内涵:改革开放。
(3)进一步破除了阻碍改革开放的思想束缚,解放了思想,有力地推动了改革的发展,开创了改革开放的新局面。



非 选 择 题

27 题

请在各题目的答题区域内作答，超出黑色矩形边框限定区域的答案无效