



阶梯数学 思维训练

斯塔熊文化 著 野作插画 绘

360个全彩场景，360道趣味题目，阶梯式提升数学能力

4~6岁 5


河北美术出版社



阶梯数学 思维训练

斯塔熊文化 著 野作插画 绘

4~6岁 ⑤

 河北美術出版社

版权所有 盗版必究

图书在版编目 (CIP) 数据

阶梯数学思维训练. 4-6岁 : 全5册 / 斯塔熊文化著 ;
野作插画绘. -- 石家庄 : 河北美术出版社, 2018.12
ISBN 978-7-5310-9570-5

I. ①阶… II. ①斯… ②野… III. ①数学课—学前
教育—教学参考资料 IV. ①G613.4

中国版本图书馆 CIP 数据核字 (2018) 第 279504 号

策 划 : 袋鼠妈妈童书
责任编辑 : 单海运
责任校对 : 李 宏
装帧设计 : 卫 瑶


出 版 : 河北美术出版社
发 行 : 河北美术出版社
地 址 : 石家庄市和平西路新文里 8 号
邮 编 : 050071
电 话 : 0311-87060677
网 址 : www.hebms.com
制 版 : 北京成业恒信印刷有限公司
印 刷 : 北京成业恒信印刷有限公司
开 本 : 787 毫米 × 1092 毫米 1/16
印 张 : 12.5
印 数 : 1 ~ 5000
版 次 : 2018 年 12 月第 1 版
印 次 : 2018 年 12 月第 1 次印刷

定 价 : 84.00 元 (全 5 册)

质量服务承诺 : 如发现缺页、倒装等印刷质量问题, 可直接向本社调换。
服务电话 : 0311-87060677

目录

小猫分鱼·····	2
神奇的魔方·····	3
数一数·····	4
普通的砖块·····	5
找顶部·····	6
考眼力·····	7
图形连连看·····	8
1秒是多久·····	9
读秒·····	10
我会认·····	11
画钟表·····	12
乐乐跑步·····	13
看电影·····	14
妈妈的生日·····	15
一个星期·····	16
分香蕉·····	17
分梨·····	18
分蛋糕·····	19





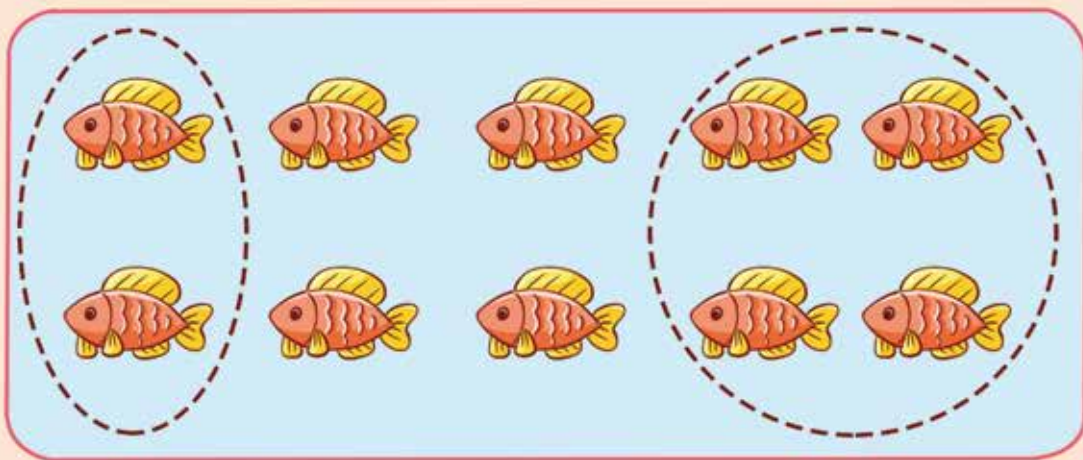
找错误·····	20
画对称轴·····	21
谁画得多·····	22
看脸谱·····	23
买水杯·····	24
怎么付钱·····	25
买棒棒糖·····	26
买手套·····	27
买拖鞋·····	28
买糖果·····	29
考考你·····	30
称重量·····	31
价值相等·····	32
我会统计·····	33
搭积木·····	34
巧妙填数·····	35
涂一涂·····	36
摆一摆，算一算·····	37



小猫分鱼

10 以内
的连减

鱼缸里有 10 条鱼，一只小猫分走 2 条，另一只小猫分走 4 条，请问鱼缸里还剩几条鱼？

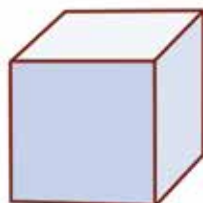



$$\boxed{10} - \boxed{2} - \boxed{4} = \boxed{\quad}$$

神奇的魔方

认识 正方体

小朋友，你玩儿过魔方吗？魔方就是一个正方体。



正方体



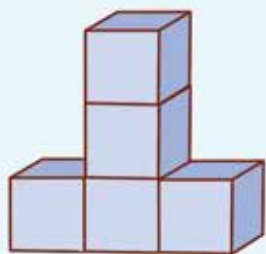
下面哪些物品是正方体？用笔圈出来吧！



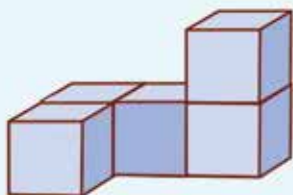
数一数

认识
正方体

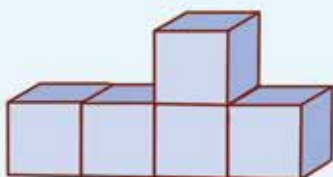
看下面的图，数一数图中有几个正方体？



个正方体。



个正方体。



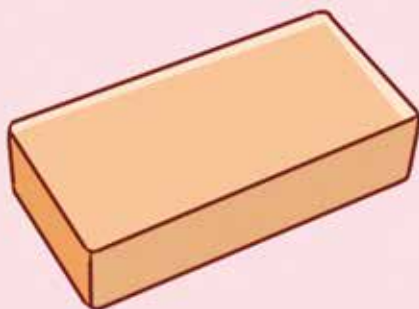
个正方体。



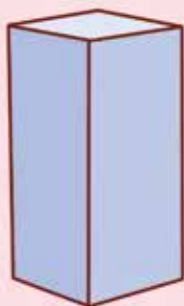
普通的砖块

认识 长方体

小朋友，你认识砖块吗？像这样的物体叫作长方体。



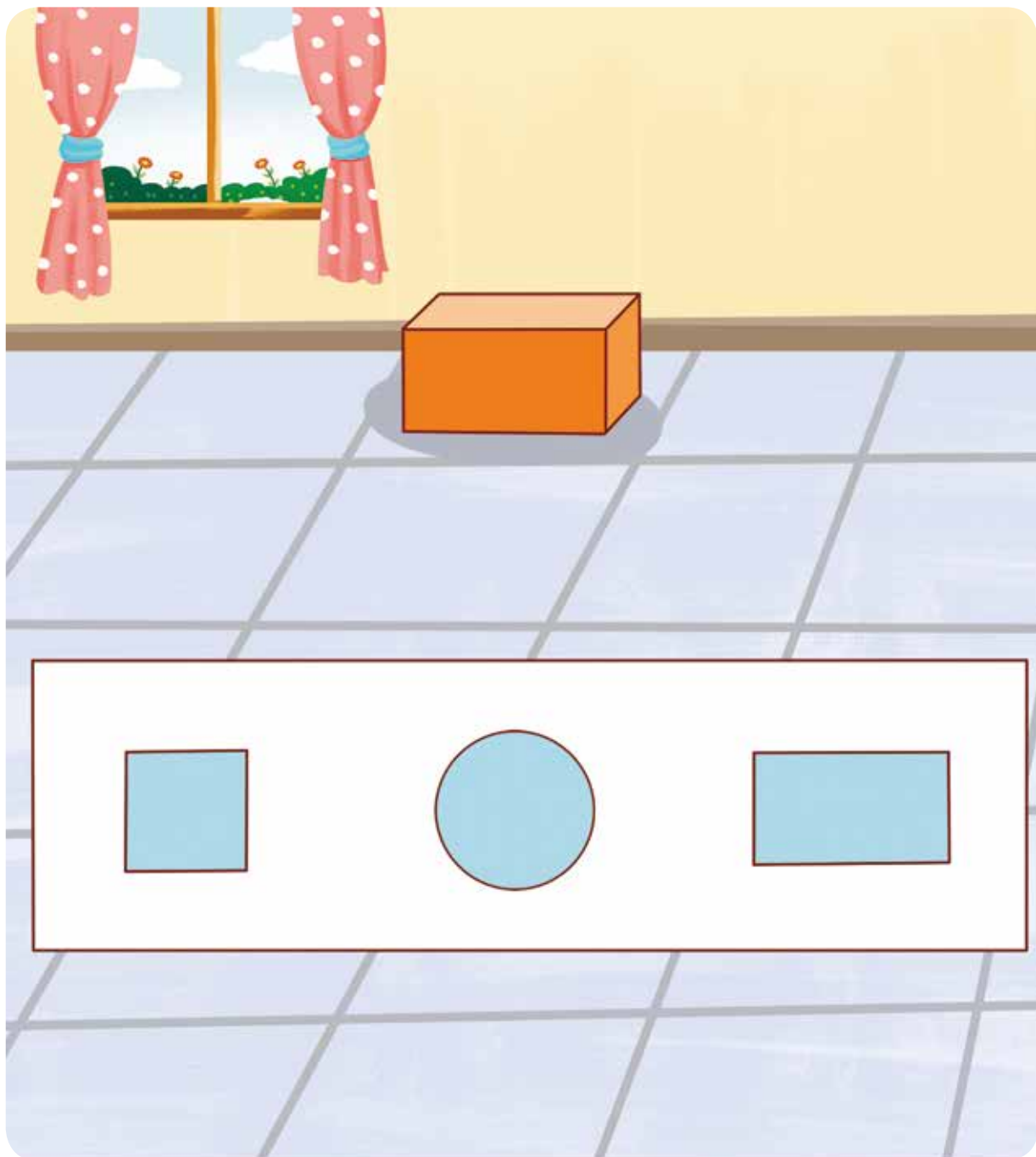
下面这些都是长方体，数一数，一共有多少个？



找顶部

认识
长方体


小朋友，你知道下图的长方体的顶部是什么样子的吗？请把它圈起来吧！

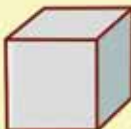


考眼力

图形 分类统计


数一数下面各种图形分别有多少个，请填在括号里。



() 个 

() 个 

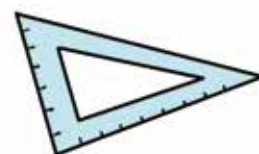

() 个 

() 个 

图形连连看

对应训练

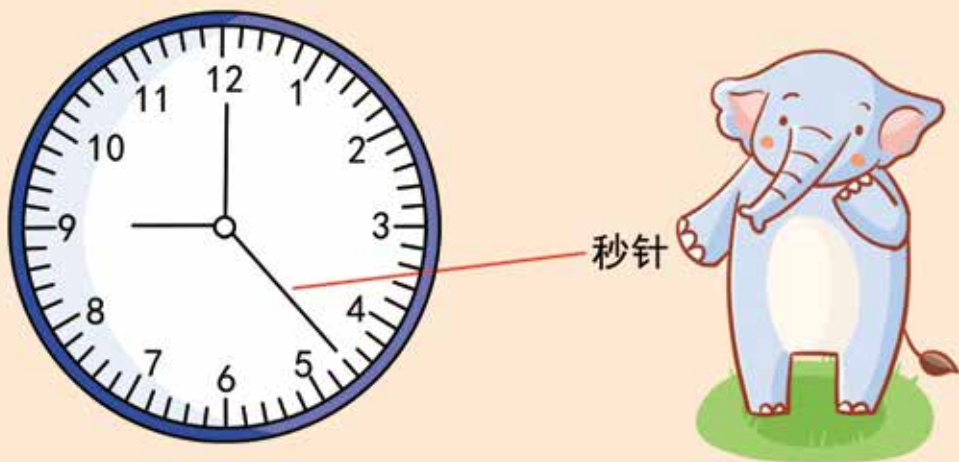
请把下图相似的图形用线连起来吧!



1 秒是多久

认识秒针

小朋友，你认识秒针吗？它就是时钟上最长、走得最快的那根针。秒针走一小格，就是1秒钟。



说一说，1秒钟你能做下面哪些事？请把正确的圈起来吧！



拍一次手



跳一下



洗一次澡

读秒

认识秒针

请数一数，下面的秒针分别走了几秒？



走了 秒



走了 秒



走了 秒

我会认

看时钟

小朋友，你会认时间了吗？说一说，下面的几个钟表分别是几点钟了？



点



点



点

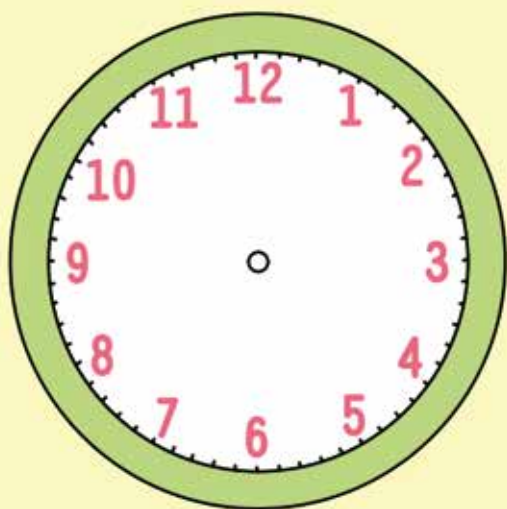


画钟表

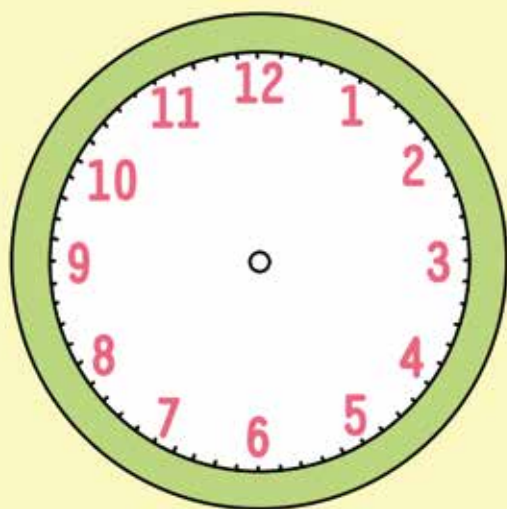
看时钟

小朋友，你能根据下面的时间，画出时针和分针吗？

05:30



07:00



乐乐跑步

计算时间

看下图，你知道乐乐一共跑了多久吗？



乐乐一共跑了（ ）分钟。