



• 根据教育部颁发的《幼儿园教育指导纲要（试行）》编写 •

幼儿 学前

数学

1

5以内的加减法

宋添舰 编著

- 数学入门
- 巩固基础
- 分类统计
- 编排科学



河北美术出版社

图书在版编目 (CIP) 数据

幼儿学前数学 . 1, 5 以内的加减法 / 宋添舰编著
— 石家庄 : 河北美术出版社 , 2018.9
ISBN 978-7-5310-9435-7

I . ① 幼… II . ① 宋… III . ① 数学课—学前教育—习题集 IV . ① G613.4

中国版本图书馆 CIP 数据核字 (2018) 第 220030 号



幼儿学前数学 . 1



河北美术出版社
各地新华书店经销

服务电话 : 0311-87060677

质量服务承诺 : 如发现缺页、倒装等印制质量问题, 可直接向本社调换。



目录

比一比	2
1~5 的认识	4
5 以内的分解	6
5 以内的组成	8
5 以内的加法（一）	10
5 以内的加法（二）	12
5 以内的减法（一）	14
5 以内的减法（二）	16
5 以内的加减法	18
复习（一）	20
复习（二）	22
复习（三）	24
综合练习（一）	26
综合练习（二）	29
综合练习（三）	32
综合练习（四）	35
参考答案	38



太好了



还不棒



加油哦

比一比


一、比一比，请在每组图中大图的下面画“√”，小图的下面画“×”。




二、小动物们要到房顶修烟囱，请帮它们选出合适的梯子，连一连。



三、比一比，谁的脖子更长呢？在脖子长的旁边的□里画“√”。




四、比一比，在重的物品下面的○里画“√”。



五、请在最长的小火车旁边画“√”。



六、下面哪只小动物最重？哪只小动物最轻？请按照由轻到重的顺序排一排。





太好了



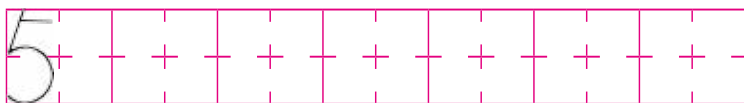
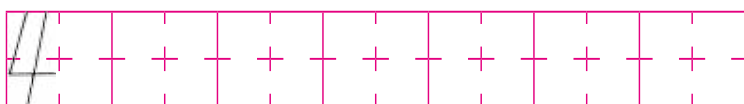
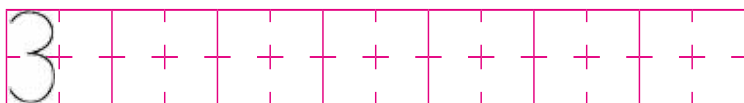
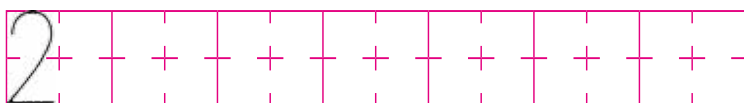
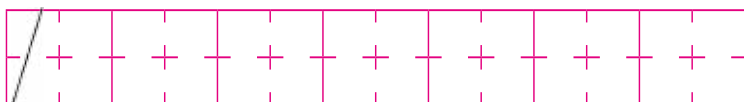
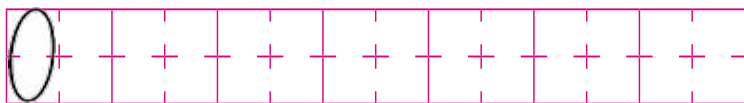
还不棒





加油哦

1~5 的认识

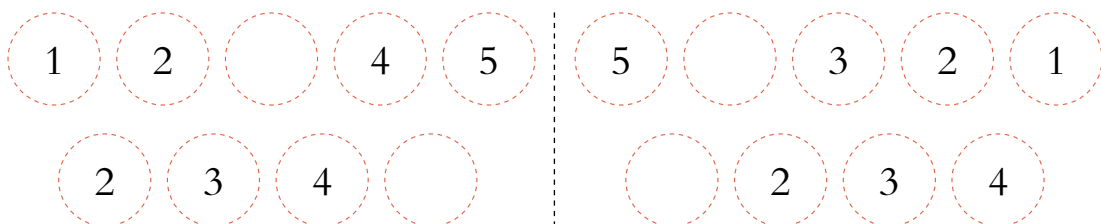
一、写一写。




二、看图写数字。




三、请按规律填数字。




四、请连线找朋友。



3



2





5




4

五、请根据数字补画图形。



5 

2 

4 

六、仔细看图，回答下列问题。



小火车共有 _____ 节车厢。 在第 _____ 节车厢里。
 在第 _____ 节车厢里。



太好了



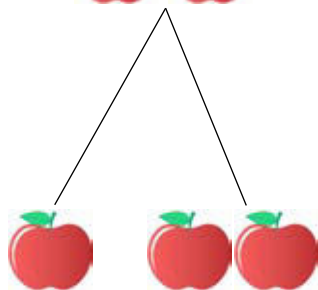
还不棒



加油哦

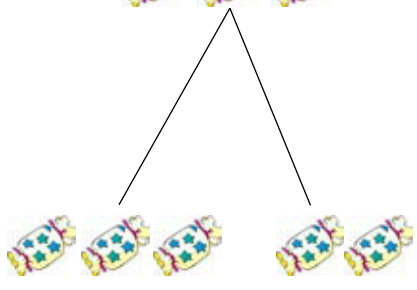
5 以内的分解

一、数一数，填一填。



1


()




2

2


()



二、把 3 条鱼分给两只小猫，可以怎么分？参照图示在□里填上正确的数字。

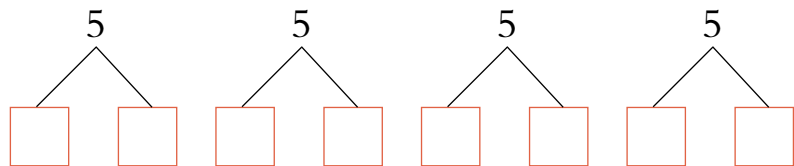



三、请在□里填上相应数量的图案。

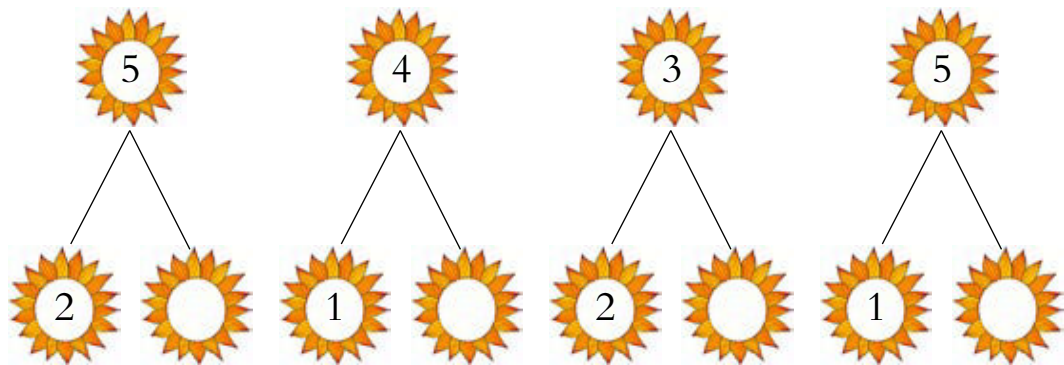




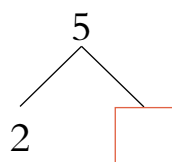
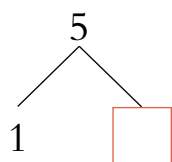


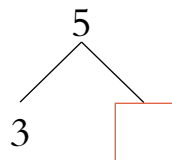
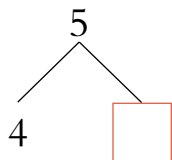



四、把 5 个梨分成两份，有几种分法？请写在□里。



五、看谁填得又快又好。



六、看图，写出合适的数。





太棒了




还不棒




加油哦

5 以内的组成

一、数一数，填一填。



二、数一数，并在 里画出相应数量的图形。



三、请将上下两行中相加等于 5 的两个数字连线。





四、把两个气球的数字加一加，再与相应的得数连一连。




5

4

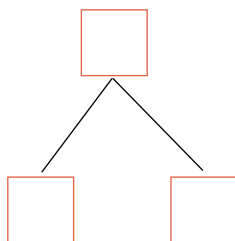
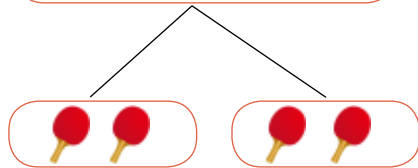
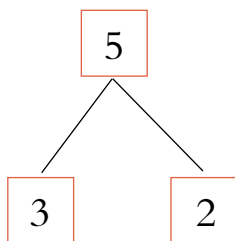
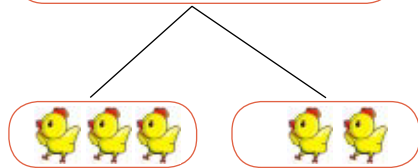
3

2

五、把4条小鱼分给两个小猫，每个小猫都要分到，有几种分法？



六、参考例子，在□里填上正确的数字。





太棒了



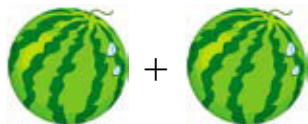
还不错



加油哦

5 以内的加法（一）

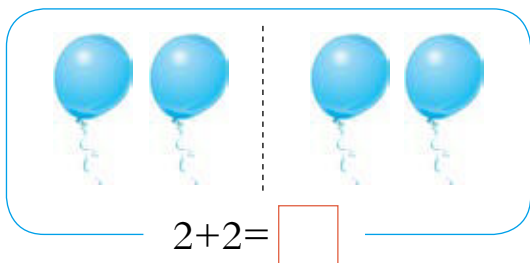
一、看图列算式。



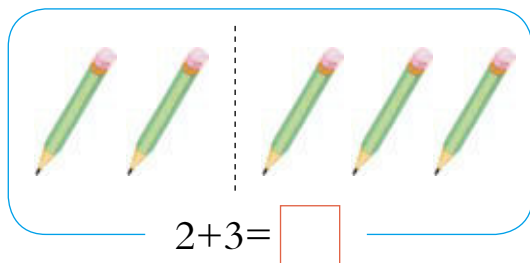
$$\square + \square = \square$$

$$\square + \square = \square$$

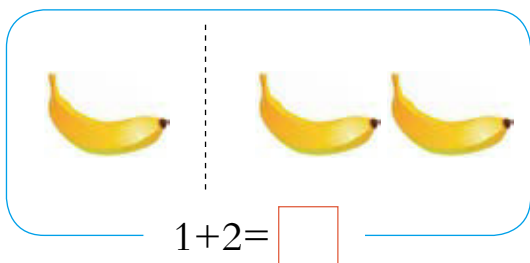
二、看图计算，把得数写在□里。




$$2+2=\square$$



$$2+3=\square$$







$$1+2=\square$$



$$3+2=\square$$

三、请把得数是 5 的水果涂上颜色。





太好了



还不棒



加油哦

5 以内的加法（二）

一、算一算，在□里填上正确的数字。

$2+2=\square$

$2+3=\square$

$2+1=\square$

$1+3=\square$

二、算一算，将正确的数字涂上颜色。



$2+3=\text{apple}(4)$

$1+2=\text{apple}(2)$

$2+2=\text{apple}(4)$



三、读一读，列式计算。

1 加上 3 等于多少？

$\square + \square = \square$

2 加上 3 等于多少？

$\square + \square = \square$

4 加上 1 等于多少？

$\square + \square = \square$

1 加上 2 等于多少？

$\square + \square = \square$

四、比大小，在○里填上“>”“<”或“=”。

$3+1 \bigcirc 2+1$

$4+1 \bigcirc 3+2$

$2+2 \bigcirc 3+2$

$4+1 \bigcirc 2+2$


$2+1 \bigcirc 1+2$

$2+3 \bigcirc 1+4$

五、算一算，请根据得数把相应数量的图形圈起来。



$2+1$



$2+3$



$2+2$



六、算一算，请将写有正确得数的🍀涂上颜色。



$2+3=3$

$1+3=1$

$2+2=4$





太棒了



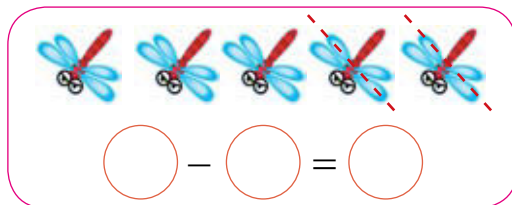
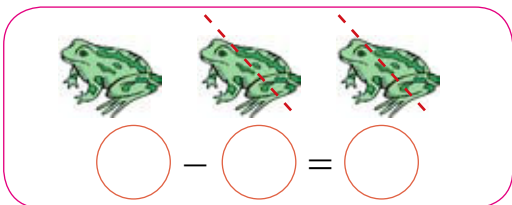

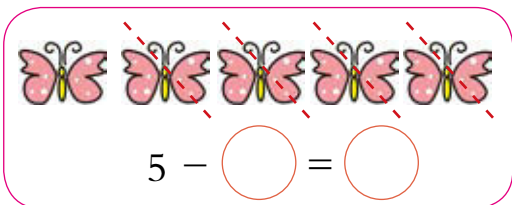
还不棒



加油哦

5 以内的减法（一）

一、看图列算式。

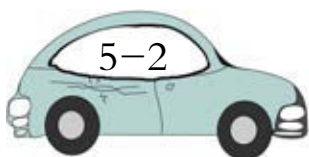
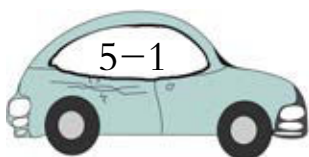


二、算一算，连一连。

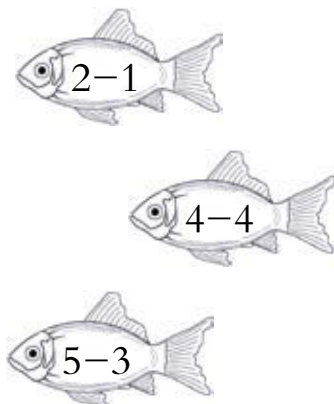
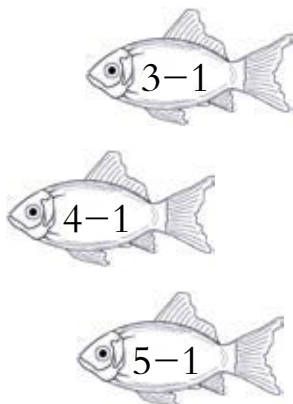
1

4

3



三、算一算，看看哪两条鱼是小猫的，再连一连。



四、算一算，请选择正确的得数写在空白处。



$5-0=$

3 4 5



$4-2=$

1 2 3



$3-2=$

0 1 2



$5-1=$

2 3 4

五、数一数，填一填。




图中有 _____ 只 ，有 _____ 只 ， 比  多 _____ 只， 比  少 _____ 只。

六、列算式，解应用题。

盘子里一共有 5 个 ，贝贝吃了 2 个 ，盘子里还剩几个 ？



$$\square \bigcirc \square = \square \quad (\text{个})$$

答：盘子里还剩 _____ 个 。