

目 录

第一单元测试卷·····	1	月考测评卷二·····	37
第二单元测试卷·····	5	第七单元测试卷·····	41
月考测评卷一·····	9	第八单元测试卷·····	45
第三单元测试卷·····	13	专项训练一 人类文明的开端亚洲和欧洲的封建社会 ···	49
第四单元测试卷·····	17	专项训练二 步入近代·····	53
期中模拟测评卷 A 卷 ·····	21	专项训练三 无产阶级的斗争与资产阶级统治的加强 ···	57
期中模拟测评卷 B 卷 ·····	25	期末模拟测评卷 A 卷 ·····	61
第五单元测试卷·····	29	期末模拟测评卷 B 卷 ·····	65
第六单元测试卷·····	33	参考答案·····	69

图书在版编目 (CIP) 数据

湘教考苑·单元测试卷·历史九年级·上册: 人教版 / 《湘教考苑》编写组编. —长沙: 湖南教育出版社, 2016.7

ISBN 978-7-5539-3770-0

I. ①湘… II. ①湘… III. ①中学历史课—初中—习题集

IV. ① G634

中国版本图书馆 CIP 数据核字 (2016) 第 012756 号

湘教考苑·单元测试卷·历史·九年级上册 (人教版)

本书编写组 编

责任编辑: 李海棠

出版发行: 湖南教育出版社 (长沙市韶山北路 443 号)

网 址: <http://www.hnepu.com>

电子邮箱: hjyeds@sina.com

微信服务号: 多点学习

客 服: 电话 0731-85486979

经 销: 湖南省新华书店

印刷装订: 湖南长福彩色印务有限公司

开 本: 787×1092 16 开

印 张: 5

字 数: 155000

版 次: 2016 年 7 月第 1 版第 1 次印刷

书 号: ISBN 978-7-5539-3770-0

定 价: 11.00 元

本书如有印刷、装订错误, 可向承印厂调换

ISBN 978-7-5539-3770-0



9 787553 937700 >

湘教考苑

单元测试卷

D A N Y U A N C E S H I J U A N

本书编写组 编



历史

九年级上册
(人教版)

湖南教育出版社

①考生要写清校名、姓名和班级(或准考证号)

②不读题、不审题、监考人不解答问题

③用钢笔或签字笔答题,字迹要清楚,卷面要整洁

注意事项

县(区) 乡 年级 班级

姓名 学校

第一单元测试卷

历史 九年级上册(人教版)

时间:60分钟 满分:100分

题号	一	二	总分
得分			

一、选择题(每小题3分,共45分)

- 目前,大多数人类学家认为现代人类起源于 ()
A.非洲南方古猿 B.非洲早期猿人 C.中国南方古猿 D.中国元谋人
- 英国科学家赫胥黎首次提出人和猿有共同祖先的观点。人类形成的大致时间是 ()
A.距今约三四万年前 B.距今约三四十万年前
C.距今约三四百万年前 D.距今约170万年前
- 在种族歧视的岁月里,黑人领袖马丁·路德·金大声疾呼:“我梦想有一天,我的孩子生活在一个不以人种,而是以其品格优劣来评价他们的国度里。”现代人种划分的标准是 ()
A.人种的起源 B.地域 C.外貌特征 D.语言
- 古代希腊著名的大地女神该亚的传说,反映了人类社会发展到哪一阶段的情况 ()
A.晚期智人 B.母系氏族 C.父系氏族 D.奴隶社会
- 母系氏族社会后期,男子在经济中开始占主导地位的主要原因是 ()
A.自然环境的改变 B.女性放弃了在氏族社会中的权力
C.农业、畜牧业的发展以及手工业的进步 D.剩余产品的出现
- 在古老的传说中,人类的起源有很多种说法,现在一般认为是 ()
A.上帝用自己的肋骨创造了男人亚当 B.女娲用泥巴捏造出“人”
C.人是从外星球来的 D.人是由古代的类人猿进化而来的
- (2015·湖南常德)古希腊历史学家希罗多德说过:“埃及是尼罗河的馈赠。”对此理解最准确的是 ()
A.埃及奴隶制国家建在尼罗河边 B.埃及人是喝尼罗河的水长大的
C.尼罗河的自然环境孕育了古埃及文明 D.尼罗河是世界上最长的河流
- 一个考古队从非洲出发,从西向东去考察四大文明古国的发源地,其考察的顺序是 ()
①尼罗河流域 ②印度河流域 ③黄河流域 ④两河流域
A.①④②③ B.①③④② C.①②④③ D.③②①④

- 下列各项中,与其他三项文明不属于同一类型的是 ()
A.古埃及文明 B.古巴比伦文明 C.古印度文明 D.古希腊文明
- (2015·四川自贡)亚非文明是人类文明的摇篮。下列哪一幅图片与古巴比伦王国有关 ()



A.汉谟拉比法典



B.金字塔



C.圆形剧场



D.长城

- (2015·湖南永州)读下图,该图所反映的制度是 ()



- A.宗法制度 B.郡县制度 C.种姓制度 D.分封制度
- ①在公元前44年的罗马牧神节上,执政官安东尼两次把王冠戴在凯撒的头上,都遭到了人群的抗议。②于是,凯撒取下王冠,把它存放在朱庇特神庙。③在那一天,他没有获得皇帝称号。④事实上,自公元前45年起,凯撒已成为罗马的最高统治者,共和制名存实亡。上述文字中,属于历史解释的是 ()
A.① B.② C.③ D.④
- (2015·湖南衡阳)英国近代诗人雪莱曾说:“我们都是希腊人。”他之所以这样说,是因为 ()
A.英国人都是希腊人的后裔 B.英国人和希腊人的生活习惯一样
C.希腊是西方文明之源 D.希腊人曾统治过欧洲
- (2015·湖北宜昌)古希腊是西方文明之源。在古希腊各城邦中,通过伯利克里改革,将奴隶主民主政治发展到古代世界的高峰的是 ()
A.雅典 B.古埃及 C.古罗马 D.斯巴达
- 下图中这座奇特的雕像,蕴涵着一个国家早期历史的传说。这个诞生于台伯河畔,全盛时地跨亚、欧、非三大洲,疆域辽阔的国家是 ()



- A.古埃及 B.古罗马 C.古希腊 D.古印度

二、材料解析题(共 55 分)

16. 阅读下列材料, 回答问题。(16 分)

材料一 随着生产力的发展, 人类逐渐定居下来, 形成了氏族。两个或几个氏族又组成部落。当时的婚姻情况使人们只知道自己的母亲, 而不知道自己的父亲。同时, 妇女在食物采集和家务劳动中发挥着重要作用。

材料二 适合男子的犁耕农业和畜牧业不断发展, 使男子在经济中占据主导地位。同时, 婚姻制度的进步使人们“既知其母, 又知其父”。

(1) 材料一所述的社会形态是什么社会? 妇女的社会地位怎样? 为什么? (8 分)

(2) 材料二所述的社会形态是什么社会? 妇女的社会地位发生了怎样的变化? 为什么? (8 分)

17. 阅读下列材料, 回答问题。(25 分)

材料一 约公元前 3000 年, 初步统一的古代埃及国家建立起来。国王自称是神的化身, 他们的陵墓金字塔是权力的象征。

材料二 在引言部分, 汉谟拉比宣扬君权神授, 颂扬其功绩, 说他制定法典是为了在全国发扬正义与公道……法典明确规定: 凡拐骗、藏匿他人或宫廷奴隶者处死刑; 理发师未经奴隶主人许可而剃掉奴隶发式标记, 应处砍手之刑……奴隶打自由人的嘴巴或不承认自己的主人, 将遭受割耳之刑。

材料三 由于雅利安人具有强烈的种族优越感, 他们极力阻止与受他们鄙视的臣民混合, 因而发展起四大世袭种姓的制度。前三个种姓是由雅利安人自己享有的职业等级, 第四种姓则留给达塞人(当地的土著人)。达塞人不得参加宗教仪式, 也没有其征服者所享有的种种社会权利。

(1) 材料一中的“国王”与金字塔有什么关系? (4 分)

(2) 材料二中的“法典”出自哪个文明古国? 材料中汉谟拉比宣称自己制定法典的目的是什么? 他制定法典的真实目的(实质)又是什么? (6 分)

(3) 材料三中的现象出现在古代哪个国家? 材料中的“前三个种姓”依次指哪三个?“第四种姓”又是指什么? 如何评价这一制度? (10 分)

(4) 上述材料中三个文明的发源地有什么特点? 为什么? (5 分)

18. 阅读下列材料, 回答问题。(14 分)

伯利克里在演讲中这样说: “我们的制度之所以被称为民主政治, 是因为政权在全体公民手中, 而不是在少数人手中。在解决私人争执的时候, 每个人在法律上都是平等的……任何人, 只要他能够对国家有所贡献, 绝对不会因为贫穷而在政治上湮没无闻。”

——修昔底德《伯罗奔尼撒战争史》

(1) 材料中的“政权在全体公民手中”是真的吗? 这里所说的“全体公民”充其量是指什么人? 由此可以看出, 这种民主政治的实质是什么? (10 分)

(2) 这种民主政治对古代人类文明有何贡献? (4 分)

①考生要写清校名、姓名和班级(或准考证号)
②不读题、不答题、监考人不解答问题
③用钢笔或签字笔答题,字迹要清楚,卷面要整洁

注意事项

县(区) 乡 年级 班级 姓名 学校

第二单元测试卷


历史 九年级上册(人教版)

时间:60分钟 满分:100分

题号	一	二	三	总分
得分				

一、选择题(每小题3分,共45分)

- 根据史料探究历史的真谛是学习历史的目标之一。对右图(9世纪日本人的书法作品)的分析,不正确的是 ()
A.中国的书法艺术受到日本人的喜爱
B.日本人没有自己的文字
C.中日文化交流较为密切
D.作者可能是遣唐使之一
- 日本孝德天皇颁布法令,废除世袭贵族统治制度,在中央设二官八省,地方设国、郡、里,由中央派人管理。这些措施实施的目的是 ()
A.加强中央集权 B.促进佛教传播 C.减轻农民负担 D.加强中日交往
- 伊斯兰教的创始人穆罕默德经历的重大活动按时间先后顺序排列,正确的是 ()
①基本统一阿拉伯半岛 ②创立伊斯兰教 ③在麦地那建立政教合一的国家 ④定麦加为伊斯兰教的圣地
A.①②③④ B.①③②④ C.②①③④ D.②③④①
- (2014·广西玉林)伊斯兰教把622年定为伊斯兰教教历元年,是因为这一年 ()
A.穆罕默德诞生 B.建立了政教合一的国家
C.伊斯兰教形成 D.阿拉伯半岛实现了统一
- 《阿拉伯通史》中写道:千余年来朝觐圣地的制度,对于团结全世界的穆斯林起了重大的作用。这种制度几乎使每个有能力的穆斯林平生都做一次长途旅行。根据所学知识判断,他们“旅行”的目的地是 ()
A.印度 B.巴勒斯坦 C.罗马 D.麦加
- 它在伊斯兰教的旗帜下,于8世纪中叶建立起地跨欧、亚、非三洲的大帝国,把东方和西方连接起来。该帝国是 ()
A.阿拉伯帝国 B.雅典 C.罗马帝国 D.奥斯曼土耳其
- 公元7世纪,某国家整个朝野掀起了“中国化运动”,全盘照搬中国的制度和文,把处于蒙昧状态的民族,凭空向前推进了几个世纪。这个善于学习的国家是 ()
A.阿拉伯帝国 B.日本 C.罗马帝国 D.雅典



- (2015·江苏南京)7世纪中期,通过改革向封建社会过渡的亚洲国家是 ()
A.罗马共和国 B.亚历山大帝国 C.法兰克王国 D.日本
- (2014·山东临沂)645年,孝德天皇在日本历史上第一次使用年号“大化”。第二年,他发布了《改新之诏》,在各个领域进行了制度改革。其内容之一是 ()
A.实行贵族世袭制 B.把部民转化为国家公民
C.分封贵族为诸侯 D.没收农民所拥有的耕地
- 从对国家的影响来看,下列历史事件中,与中国的商鞅变法相似的是 ()
①查理·马特改革 ②大化改新 ③伊斯兰教创立 ④拜占廷帝国灭亡
A.①②④ B.②③④ C.①② D.②③
- 下列有关西欧封建社会的表述,错误的是 ()
A.封建主与附庸之间的关系以血缘为纽带
B.罗马教廷有至高无上的权力
C.教皇和教会是西欧最大的土地所有者
D.在精神和文化领域,神权凌驾一切
- “一个拥有几个封臣的封君本人也许就是更高一级封君的封臣,而更高一级封君又是一个更大关系网络中的封君手下的一名封臣。”与该现象在西欧出现有关的历史事件是 ()
A.大化改新 B.查理·马特改革
C.伯利克里改革 D.琅城市民起义
- 西欧封建社会时期,加紧对人民进行精神统治,残酷压制“异端”思想的是 ()
A.教皇与教会 B.富裕商人 C.天皇 D.银行家
- (2015·广东)中古西欧城市的兴起,不仅表现为经济上的繁荣,更重要的还在于政治权利的获得,富庶城镇的居民要求当地的领主允许他们自己管理城市的事务。这里的“政治权利”是指 ()
A.城市自治权 B.人身自由权 C.特许经营权 D.男女平等权
- (2014·山东东营)依据下边的知识卡片所列的内容判断,该国家是 ()

都城:君士坦丁堡
建筑:圣索菲亚大教堂
灭亡:被奥斯曼土耳其所灭

- A.希腊 B.马其顿 C.波斯 D.拜占廷帝国

二、材料解析题(共37分)

16.阅读下列材料,回答问题。(14分)

材料一 六七世纪时,日本的社会矛盾十分尖锐,大贵族奴隶主势力强大,政局混乱……

材料二 6世纪末7世纪初,(阿拉伯半岛)内部矛盾丛生、商路不畅,引起商业衰落、生产停滞和外部势力入侵……

- (1)面对材料一和材料二反映的这种时局,在日本和阿拉伯半岛分别涌现出哪两位力挽狂澜的人物,解决了危机?(4分)

(2)日本的这位历史人物解决矛盾的主要途径是什么?有何影响?(5分)

(3)阿拉伯半岛的这位历史人物解决矛盾的主要途径是什么?有何影响?(5分)

17.阅读下列图片和材料,回答问题。(11分)

材料一



图1 鉴真像



图2 日本奈良唐招提寺

材料二

凡田,六年一班,神田、寺田不在此限。若以身死,应退田者,每至班年,即从收授。

——《田令》

(1)材料一图中所示的鉴真和尚在中日交往中曾作出过怎样的贡献?他与图2所示的日本建筑之间有何关系?(4分)

(2)材料二是日本历史上哪次改革的内容?这次改革的主要内容有哪些?(4分)

(3)结合历史,联系现实,你认为应当如何发展中日关系?(3分)

18.阅读下列材料,回答问题。(12分)

材料一 宋代把自行聚散、私相贸易的定期集市,称为草市。在人烟稠密的乡村聚落和交通要道上,草市星罗棋布,构成地方市场的基础。不少颇具规模的草市后来发展成固定的商业居民点,上升为镇或县。

材料二 北宋时,商业的繁荣促进了货币的变化……(出现了)一种既轻便而又容易得到原料的纸币——交子,这是世界上最早的纸币。南宋时,通行“会子”“关子”等纸币。

材料三 宋朝的海外贸易超过前代,广州、泉州是闻名世界的大商港。中国商船的踪迹,近至朝鲜、日本,远达阿拉伯半岛和非洲东海岸。

材料四 中古西欧城市是作为经济中心出现的,它们是自然地一些位于交通路口的集市、废旧的古代城堡上兴起的。……城市所集中的手工业和商业所构成的商品经济从一开始就对封建制度起着瓦解作用。……城市里的市民阶级不断发展壮大,成为近代资产阶级的前身。

(1)材料一、二、三从哪些方面反映了宋代经济的发展?说明了什么?(5分)

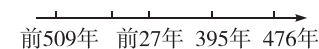
(2)中古西欧的城市有着怎样的地位?中古西欧城市的兴起有什么历史意义?(4分)

(3)宋代城市和中古西欧城市在形成时,有哪些相同点?(3分)

三、探究题(18分)

19.命运注定它只是保存,而不是创新。它诞生在一个古老的国度,生活在过去的势力与荣誉的阴影之中,这种势力和荣誉正是它所试图维持和恢复的,他们很少有人具有创造力。根据罗马的衰亡史,完成下列问题。

(1)下面的数轴反映的是古罗马从公元前509年到公元476年的发展历史,提取时间信息,写出相应的历史大事或者历史发展线索(写出四例即可)。(8分)



(2)当号称千年帝国的拜占廷最终灭亡时,以希腊、罗马为代表的西方文明也就走到了尽头。你认为是什么原因使曾经辉煌的帝国最后走向衰落的?(4分)

(3)拜占廷帝国的历史命运告诉我们什么?根据拜占廷帝国的命运思考,你认为我国今天应当怎样做才能繁荣昌盛?(6分)

月考测评卷一

历史 九年级上册(人教版)

时间:60分钟 满分:100分

题号	一	二	总分
得分			

一、选择题(每小题3分,共45分)

- 1.(2015·湖南郴州)汉谟拉比法典是世界历史上已知的第一部比较完备的成文法典。它出自 ()
- A.古代巴比伦 B.古代埃及 C.古代印度 D.古代希腊
- 2.(2015·福建厦门)右图所示的建筑物是世界八大奇迹之一,它反映的是 ()
- A.古巴比伦文明 B.古埃及文明
C.古印度文明 D.古代中国文明
- 3.我国云南省丽江地区的摩梭人所生子女皆属女方,血缘按母系计算,财产按母系继承,男子只负责抚养自己姐妹的孩子。在每个家庭中,由一个最能干、最公正而且有威望的妇女安排生产、生活,保管财产。这种现象相当于古代的 ()
- A.母系氏族 B.父系氏族 C.种姓制度 D.君主专制
- 4.公元前509年,罗马建立了共和国。这一时间也可表述为 ()
- A.公元前5世纪初 B.公元前5世纪末
C.公元前6世纪初 D.公元前6世纪末
- 5.原始社会是人类社会的第一个阶段。下列对这个社会的表述,有错误的一项是 ()
- A.研究世界人类发源地的主要依据是欧洲南方古猿化石的发现
B.人种的差异是由不同的自然地理环境等多种因素长期综合作用的结果
C.根据人的体貌特征,人种可分为黄种人、白种人和黑种人
D.大约三四百万年前,人类形成
- 6.某班级以话剧的形式再现古印度的历史,涉及“种姓制度”时,有一句台词是不正确的。它是 ()
- A.“本国王把持军政大权,国家唯我独尊”
B.“别看我只是一个武士,但我和国王同属刹帝利”
C.“我是一个拥有万贯家财的大商人,却屈居第三等级”
D.“我很苦恼,我爱上了一个上一等级的姑娘,但我们不能步入婚姻的殿堂”



- 7.古代四大文明古国兴起的共同原因之一是 ()
- A.交通便利,适宜发展商业 B.长于军事远征
C.地处大河流域,土壤肥沃 D.这些国家兴起时间较早
- 8.(2015·湖南娄底)大河流域以其独特的地理环境孕育了人类璀璨的文明。在两河流域孕育的古代人类文明是 ()
- A.古巴比伦文明 B.古印度文明 C.古希腊文明 D.古埃及文明
- 9.(2015·广西桂林)从“元老院掌握国家实权”“布匿战争”“称霸地中海地区”“奴隶大量逃亡和起义”这些关键词中提炼出的学习主题是 ()
- A.希腊文明的繁荣 B.罗马共和国的兴衰
C.两河流域古老文明的兴起 D.雅典奴隶制民主政治
- 10.大化改新中“废除贵族世袭制,以才选官”的做法与商鞅变法中的哪一条措施相似 ()
- A.实行土地私有制 B.重农抑商,奖励耕织
C.奖励军功,按军功授爵 D.建立县制
- 11.(2014·山东烟台)至今仍屹立在土耳其第一大城市伊斯坦布尔(原名君士坦丁堡)城内的圣索菲亚大教堂,冷眼旁观过政治兴迭、宗教斗争与历史的沧桑。它曾见证了下列哪一个国家的兴衰 ()
- A.雅典 B.亚历山大帝国 C.罗马帝国 D.拜占廷帝国
- 12.(2015·福建厦门)“如今有一个趋势,人们怀念她的民主制度,并将其视为所有现代民主制度的源头。”“她”指的是 ()
- A.雅典 B.罗马 C.波斯 D.马其顿
- 13.中古亚欧文明时期,也是欧洲历史上最黑暗的时期。这一时期,在欧洲占统治地位的社会制度是 ()
- A.氏族社会 B.奴隶社会 C.封建社会 D.资本主义社会
- 14.(2014·广东珠海)意大利科学家布鲁诺因反对教会、批判神学而被捕入狱,最后被烧死在罗马鲜花广场的火刑柱上。在西欧封建时代,经常会有人因思想或学术上的创新而被视为“异端”,受到宗教裁判所的审判。这种现象说明了 ()
- A.教会成为欧洲最大的土地所有者 B.在精神和文化领域,神权凌驾一切
C.西欧封建国家内部管理权力分散 D.西欧封建制度等级森严
- 15.(2014·湖北孝感)11世纪,中国宋代商业发展,城市繁荣。同一时期,西欧城市兴起。究其影响,反映在 ()
- A.对瓦解西欧封建等级制度和孕育近现代文明起着重要作用
B.一般是工商业活动的中心,规模较小
C.是在封建主或教会的领地上兴起的,促进了佛教的发展
D.所有的城市发动争取自治权的斗争,成为独立的城市共和国

二、材料解析题(共55分)

16.阅读下列材料,回答问题。(17分)

材料一 任何一个民族、一个国家都需要学习别的民族、别的国家的长处,学习人家的先进科学技术。

——邓小平

①考生要写清校名、姓名和班级(或准考证号)
②不读题、不审题、监考人不解答问题
③用钢笔或签字笔答题,字迹要清楚,卷面要整洁

注意事项

县(区) 乡 年级 班级 姓名 学校

材料二 拜占廷帝国则陶醉于已有的辉煌成就。在以后的时日里,它无视西欧城市重新兴起后悄然出现的文明因素,更不屑于学习和吸纳其他文明的优点和长处。

(1)请在你所学过的世界历史知识中举一例说明材料一的观点。(4分)

(2)拜占廷帝国最终的结局如何?结合材料二,谈一谈它出现这种结局的根源。请在你所学过的知识中再举一则类似的事例。(8分)

(3)两则材料对你有什么启发?(5分)

17.阅读下列材料,回答问题。(22分)

材料一 国王应极力使吠舍与首陀罗执行自己的劳动,因为他们逃避自己的义务时,会使整个世界动摇。

材料二 两个自由民打架,一个人被打瞎了一只眼睛,对方就要同样被打瞎一只眼睛。……如果奴隶主弄瞎了奴隶的眼睛,只要付一定数量的钱就可以了事。

材料三 公民大会每10天左右召开一次。会议一开始,传令官便宣读五百人会议审核过的提案。接着,赞成者和反对者便轮流登台发言,会场群情起伏。待双方发言完毕,便开始表决。

(1)材料一是什么地方的法律条文?该条文反映了什么制度?说明了什么问题?国王在这一制度下属于哪个等级?(8分)

(2)材料二出自哪一部法典?它有着怎样的历史地位?统治者制定这部法典的主要目的是什么?(8分)

(3)材料三反映了古希腊哪个城邦的什么制度?这个制度在谁统治时期达到全盛?(6分)

18.阅读下列材料,回答问题。(16分)

材料一 我的附庸的附庸,不是我的附庸。

材料二 法兰克王国的宫相丕平把他夺取的意大利中部的一部分土地,包括罗马周围的地区,送给了罗马教皇,史称“丕平献土”;教皇以上帝的名义为丕平加冕,为他的权力增添了一层神圣的光环。

(1)材料一反映了西欧封建社会的什么制度?这种制度是哪一次改革后逐渐形成的?此时中国正处于什么朝代?(6分)

(2)材料二中,由“丕平献土”可以看出,教皇获得土地的方式是什么?从材料二中可以看出,当时教会和国王的关系怎样?基督教在西欧封建社会中的地位怎样?(10分)

①考生要写清校名、姓名和班级(或准考证号)
②不读题、不答题、监考人不解答问题
③用钢笔或签字笔答题,字迹要清楚,卷面要整洁

注意事 项

县(区) 乡 年级 班级 姓名 学校

第三单元测试卷

历史 九年级上册(人教版)

时间:60分钟 满分:100分

题号	一	二	总分
得分			

一、选择题(每小题3分,共45分)

- 现代人类文明是在过去各个民族、各个区域文明冲撞和交融的基础上形成的。下列四项中,明显区别于其他三项的是 ()
A.希波战争 B.亚历山大大帝东征
C.罗马征服地中海世界 D.马可·波罗来华
- 亚历山大的东征开启了东西方文化大规模交融的新时代,这说明 ()
A.暴力冲突在一定程度上促进了文明的传播与发展
B.和平往来促进了文明的交融
C.地区冲突导致了文明的衰落
D.人类文明发展的动力来自于战争
- 下列有关希波战争的叙述,与史实不相符的是 ()
A.希腊人入侵波斯,挑起战争
B.为纪念其间的马拉松之战,至今保留着马拉松长跑项目
C.希腊以弱胜强,打败了波斯
D.战争从公元前5世纪早期开始,延续了近半个世纪
- (2015·山西中考)世界古代历史上曾经存在过这样一个帝国:地中海一度成为其内湖,与中国汉朝处于同一时期。这个帝国是 ()
A.亚历山大帝国 B.罗马帝国 C.阿拉伯帝国 D.拜占廷帝国
- (2015·山东盐城)“亚历山大在所征服的地区兴建了许多城堡,有些逐渐发展为经济文化中心,使希腊文化传播到东方,一种混合着希腊和东方因素的文明诞生。”以上材料说明亚历山大帝国的征服 ()
A.促进了东西方文化交流 B.促使希腊文明走向衰落
C.促使东方文明走向衰落 D.促使东西方文化被毁灭
- 小凌同学代表小组发言时说:“这是一个独特的民族,它……用战车把宗教传播到西亚、北非等地,穆斯林的足迹从此遍及四方;它又是文明的使者,用嘴巴将东西方文化传承、传播,某种数字因此冠上它的大名。”这个“独特的民族”指的是 ()
A.古代埃及人 B.古代希腊人 C.古代罗马人 D.古代阿拉伯人

- 一位意大利旅行家沿着古老的“丝绸之路”来到中国,在中国元朝生活了17年,游遍大江南北,其游记向西方社会展现了瑰丽迷人的东方文明,促进了东西方文化交流。这位旅行家是 ()
A.亚历山大 B.马可·波罗 C.张骞 D.徐霞客
- (2015·湖南怀化)我们在数学运算中经常使用的“0、1、2、3、4、5……”这10个阿拉伯数字的发明者是 ()
A.古印度人 B.古阿拉伯人 C.古埃及人 D.古希腊人
- (2015·山东东营)友好交流与相互融合始终是世界文明交响乐曲的主旋律。下列史实中,能够说明这一点的是 ()
①希波战争 ②亚历山大大帝东征 ③阿拉伯数字的传播 ④马可·波罗东游
A.①② B.②③ C.①④ D.③④
- 中央电视台的《中国汉字听写大会》节目引发了中国人学汉字、写汉字的热潮,汉字是中华古老文化延续和发展的载体。你知道古代两河流域通用的文字是 ()
A.甲骨文 B.象形文字 C.楔形文字 D.拉丁文
- (2014·天津)在圣诞节前夜,传说会有“圣诞老人”专门为好孩子送上礼物。与该节日相关的宗教创始于 ()
A.公元前6世纪 B.公元前3世纪 C.公元1世纪 D.公元7世纪
- (2014·贵州安顺)与“千手观音”“普度众生”有关的宗教是 ()
A.伊斯兰教 B.基督教 C.佛教 D.道教
- (2015·湖南长沙)佛教、基督教和伊斯兰教并称为世界三大宗教。其中,伊斯兰教诞生于 ()
A.中国 B.巴勒斯坦地区 C.阿拉伯半岛 D.古印度
- 下面两幅图片均为法国著名的旅游景点——巴黎圣母院。其建筑风格属于 ()



- 哥特式建筑艺术 B.罗马式建筑艺术
C.中国古典建筑艺术 D.伊斯兰建筑艺术
- (2015·湖南株洲)小军和小勇准备编辑主题为“西方文明的发源地——古希腊”历史手抄报,他俩可以在下列哪一文献中查找材料 ()
A.《天方夜谭》 B.《荷马史诗》 C.《神曲》 D.汉谟拉比法典

二、材料解析题(共55分)

16.阅读下列材料,回答问题。(18分)

材料一 亚历山大的东征,罗马帝国的扩张,阿拉伯帝国的征服……无疑是古代史上突破相互孤立隔绝的重大事件。但横贯亚欧大陆丝绸古道上的商队来往,联系太平洋西海岸、印度洋、地中海……诸海航路的船只航行,对传播生产技术、文化知识于古代世界各地也许是更为重要的。

——吴于廑、齐世荣《世界史·古代史编》总序

材料二 这是自由的理想反对专制政治的胜利。这一胜利,使得希腊城邦,尤其是雅典,能够为其自身及其后代捍卫这一理想。

材料三 拜占廷的作用是绝对保守的。命运注定它只是保存,而不是创新。它诞生在一个古老的国度,生活在过去的势力和荣誉的阴影之中,这种势力和荣誉正是它试图维持和恢复的。他们很少有人具有创造力。

(1)材料一对古代的征服和扩张战争是怎样评价的? 古代世界各地文化的交流方式除了暴力冲突之外,更主要的是依靠什么方式进行的?(6分)

(2)材料二评述的是古代哪场战争? 从文明的冲突与融合的角度看,这场战争有何历史地位?(6分)

(3)依据材料三并结合所学知识,分析拜占廷帝国灭亡的原因。(提示:从国内和国际两个方面分析)(6分)

17.阅读下列材料,回答问题。(22分)

材料一




图1



图2

(1)图1是9世纪时日本人的书法作品。这幅书法作品反映了日本文化曾受到某国文化的影响。请问,在公元7世纪时,日本受该国的影响,进行了什么改革?(2分)

(2)图2所示的符号是什么? 它是由什么人发明的?(4分)

(3)图1和图2反映了古代文明传播的什么方式? 除此之外,还有什么主要传播方式?(4分)

材料二 君主有一大宫,其顶皆用精金为之……宫廷房室地铺金砖,以代石板……

(4)材料二出自什么书? 这部书的主要内容是什么? 它起到了什么作用?(6分)

(5)你认为材料二中记述的场景是真实的吗? 为什么?(6分)

18.阅读下列材料,回答问题。(15分)

材料一



图1




图2

材料二 我的生命是不能贱卖的,我宁可战斗而死去,不要走上不光荣的结局,让显赫的功勋传到来世。

(1)图1所示的人物是生活在什么地区的哪一位著名科学家?(4分)

(2)图2反映了这位科学家的哪一项科技成就? 除此之外,他还有哪些重要的成就?(4分)

(3)材料二出自哪部作品? 作者是谁? 该作品的历史地位是怎样的?(7分)

第四单元测试卷

历史 九年级上册(人教版)

时间:60分钟 满分:100分

题号	一	二	总分
得分			

一、选择题(每小题3分,共45分)

- (2015·湖南娄底)14世纪前后,西欧新兴的资产阶级高举复兴希腊、罗马古典文化的旗帜,掀起了文艺复兴运动。这场运动 ()
A.冲击了教会的陈腐说教 B.废除了君主专制制度
C.确立了资产阶级的统治 D.引发了殖民扩张的狂潮
- “人的高贵超过了天使的高贵”是一句西方名言,与这句名言有相同价值取向的是 ()
A.“认识自己,方能认识人生” B.“人为善,人恒敬之,天道佑之,福禄随之”
C.“人的命运主要由他自己创造” D.“没有目标而生活,恰如没有罗盘而航行”
- (2015·河南)长期以来,欧洲人对奇异而神秘的东方感到好奇。有的书籍中写道:生活在恒河源头地区的人们吃蛇,而且能活到400岁;另一些人生下来只有一条腿,但是十分灵巧……从根本上开始改变欧洲人这一认识的事件是 ()
A.亚历山大东征 B.新航路的开辟
C.文艺复兴 D.启蒙运动
- (2015·湖南株洲)他的作品表现的是英国的现实生活,对欧洲乃至世界文学的发展具有深远影响,直至今今天还显示出较高的情感价值和艺术借鉴价值。他是 ()
A.列夫·托尔斯泰 B.梵高
C.贝多芬 D.莎士比亚
- (2015·湖南衡阳)法国史学家米西勒认为,14世纪到16世纪,欧洲封建社会末期是“人”和“世界”被发现的时代。这两个“发现”对世界历史产生的共同影响是 ()
A.传播了人文主义 B.发现了美洲大陆
C.把世界开始连为一体 D.促进了早期资本主义的发展
- (2015·甘肃兰州)打破以往世界各地相互孤立和隔绝的局面,使世界开始连成一个整体的历史事件是 ()
A.新航路的开辟 B.文艺复兴
C.英国资产阶级革命 D.启蒙运动

- 1688年,英国发生了“女婿接替岳父王位”的历史事件。这一事件标志着 ()
A.封建王朝复辟 B.英国步入共和时代
C.英国资产阶级革命结束 D.反封建的斗争开始
- (2015·湖南长沙)汤恩比说:“顺利地在新瓶子里装进新酒,还不至于引起旧瓶爆炸。”“可以说是一种宪法方面的胜利,这种胜利应该当作一种惊人的技艺。”他评价的是 ()
A.英国资产阶级革命后确立了君主立宪制 B.美国独立战争后建立了联邦制国家
C.拿破仑建立法兰西第一帝国 D.辛亥革命后成立了中华民国
- (2015·福建泉州)下列国家的法律文献中,在世界近代史上最早实现“把权力关进制度的笼子里”的是 ()
A.英国的《权利法案》 B.美国的《独立宣言》
C.法国的《人权宣言》 D.法国的《民法典》
- (2015·广西玉林)美国1787年宪法规定总统享有行政权,国会和最高法院分别掌握国家的立法和司法大权,三权相互制约与平衡。这表明美国 ()
A.决心废除黑人奴隶制度 B.建立了较民主的政治体制
C.正式确立了君主立宪制 D.综合国力已跃居世界第一位
- (2014·黑龙江绥化)美国的自由女神像右手高擎火炬,左手紧握一块铜板,上面用罗马数字刻着日期:1776年7月4日。这一时间发生的重要历史事件是 ()
A.来克星顿的枪声 B.《独立宣言》的发表 C.萨拉托加大捷 D.英国承认美国独立
- (2015·河南)“华盛顿的行动很感人……为了国家的事业,他抛弃了养尊处优的生活,离开了家人和朋友,牺牲了自己的舒适环境,把一切都拿来孤注一掷。”材料中的“国家的事业”是指 ()
A.起草《人权宣言》 B.赢得民族独立
C.实现种族平等 D.消除南北差异
- (2015·广西桂林)《人权宣言》指出:“人生来是自由的,在权利上是平等的,自由是指有权从事一切无害于他人的行为。法律是公共意志的表现,法律面前人人平等。”此宣言的核心内容应是 ()
A.人权与法治 B.实行君主立宪制
C.主张无条件的自由 D.反对殖民统治
- (2014·四川成都)“火车教会人们守时,准时准点成了现代生活的准则,人们开始要随身带上一块表,时间概念是一个全新的概念。”这种情况最早应开始于 ()
A.17世纪 B.18世纪 C.19世纪 D.20世纪
- (2015·江苏常州)水力是工业革命初期的主要动力,受水力的限制,最初的工厂大多建在河边。自从一种新的动力工具使用后,工厂就集中在城市进行生产,这种动力工具因此被称为“工业城市之母”。这种动力工具是 ()
A.珍妮机 B.瓦特改良蒸汽机
C.发电机 D.内燃机

二、材料解析题(共 55 分)

16.(2014·天津)在意大利中部的阿诺河畔,有一座风景优美、气候宜人的“鲜花之城”佛罗伦萨。14 世纪,这里发展成为欧洲最发达的毛纺织业和银行业中心。当时,这里的豪商巨贾,竞相招引吸纳来自各地的诗人、学者和艺术家。经过长期发展,这个城市哺育了众多的文艺复兴巨匠,涌现出一大批文学艺术的杰作,为后人留下了丰富的文化遗产。结合所学知识,回答问题。(18 分)



(1)上面的图片所示的作品,其创作者分别是谁?这一时期涌现出的文学艺术作品集中体现了什么精神?(6 分)

(2)文艺复兴之所以能够首先在意大利出现,其原因有哪些?(6 分)

(3)随着时间的推移,文艺复兴逐步扩展到欧洲其他地方。这一史实出现在什么时间?对欧洲产生了什么影响?(6 分)

17.阅读下列材料,回答问题。(20 分)

材料一 人民为自由而战,寻求真正的解放。女王的荣光,查理的断首,都镌刻着“王在议会,法为习惯”的字样。

材料二 独立和自由根植于美利坚灵魂深处,为此它不惜与母邦兵戎相见。

材料三 拿破仑把有史以来最大的荣耀带给了法国。在 37 岁生日的那天,他亲自为凯旋门奠下第一块基石。沉浸在胜利中的拿破仑不会料到:他本人并没有机会从凯旋门下凯旋。

——《大国崛起》解说词

材料四 1640 年革命和 1789 年革命,并不是英国革命和法国革命,这是欧洲范围内的革命。它不仅是社会中某一阶级对旧政治制度的胜利,它们产生了欧洲社会的新的政治制度。

——《马克思恩格斯选集》第一卷

(1)材料一中“查理的断首”发生在哪个国家的哪一历史事件中?“王在议会,法为习惯”说明该国确立了怎样的资产阶级统治体制?(6 分)

(2)材料二中涉及的“母邦”指的是哪个国家?“兵戎相见”指的是哪一历史事件?该历史事件的性质是什么?(8 分)

(3)结合所学知识回答,材料三中为什么说“拿破仑把有史以来最大的荣耀带给了法国”? (4 分)

(4)材料四中所说的“新的政治制度”是什么?(2 分)

18.阅读下列材料,回答问题。(17 分)

材料一 资产阶级在它不到 100 年的阶级统治中所创造的生产力,比过去一切时代所创造的全部生产力还要多……

材料二 在我们的印象里,革命往往伴随着刀光剑影和血雨腥风,可是两百多年前,英国却发生了一场完全不同的变革,它彻底改变了人们的生产和生活方式……它影响和改变了世界的面貌。

(1)材料一和材料二都是对什么事件的评述?(2 分)

(2)根据材料二,列举英国发生这场革命期间,其他国家和地区爆发的“伴随着刀光剑影和血雨腥风”的两次资产阶级革命。(4 分)

(3)材料二中说这场革命彻底改变了人们的生活方式,请举一例证明。(2 分)

(4)你是如何理解材料二中“它影响和改变了世界的面貌”这句话的?(6 分)

(5)你能从上述材料中得到哪些启示?(3 分)

①考生要写清校名、姓名和班级(或准考证号)
②不读题、不审题、监考人不解答问题
③用钢笔或签字笔答题,字迹要清楚,卷面要整洁

县(区) 乡 年级 班级 姓名 学校

期中模拟测评卷 A 卷

历史 九年级上册(人教版)

时间:60分钟 满分:100分

题号	一	二	三	四	总分
得分					

一、选择题(每小题3分,共36分)

- 原始社会早期的人类往往过着群居生活,根本原因是 ()
A.还没有完全进化为人类 B.生产力水平极其低下
C.妇女在社会中占主导地位 D.还不会使用天然火
- (2015·江苏南京)下列古代文明成果中,较为全面地保存了两河流域社会发展状况的是 ()
A.金字塔 B.汉谟拉比法典
C.种姓制度 D.奴隶主民主政治
- (2015·福建泉州)古希腊是“整个欧洲人的精神家园”。这里的“精神家园”是指 ()
A.种姓制度 B.宗教统治 C.民主政治 D.商品经济
- 下列人物中,在亚欧封建国家的确立和统一过程中作出过重大贡献的有 ()
①汉谟拉比 ②孝德天皇 ③伯利克里 ④穆罕默德 ⑤查理·马特
A.①②④ B.②③④ C.①②③ D.②④⑤
- 小华对欧洲的历史非常感兴趣,他通过阅读右边这部作品可以了解到 ()
①古埃及文明发源于尼罗河流域 ②欧洲文明起源于古代希腊 ③日耳曼人建立法兰克王国 ④教会统治严重阻碍了西欧社会的进步
A.①②③ B.②③④ C.①②④ D.①③④
- 我们生活中使用的许多工具,如钳子、剪刀等都是根据杠杆原理制造的。发现此原理的科学家来自 ()
A.古埃及 B.古印度 C.古希腊 D.古罗马
- 有人说过:“上帝一次性给出了木头、石头、泥土和茅草,其他的一切都是人的劳作……这就是建筑。建筑是凝固的音乐、建筑是一部石头史书。”下列建筑中,被称为“石头的交响乐”的是 ()
A.印度的佛塔 B.巴黎圣母院 C.北京故宫 D.麦加大清真寺
- (2015·湖北恩施)下列关于古代宗教方面的知识,叙述错误的是 ()
A.佛教的创始人是释迦牟尼,经典是“三藏”
B.基督教兴起于公元1世纪左右,宣扬真主安拉是世界万物的创造者和主宰者



- 伊斯兰教对维系阿拉伯民族的团结和促进阿拉伯国家的发展起了重要作用
- 宗教是对社会现实虚幻的反映,也是一种信仰和文化

- (2015·贵州铜仁)右图是文艺复兴时期的文艺巨匠达·芬奇的代表作《蒙娜丽莎》,它反映了“人物内心世界的平静、自信,突出了人的主体地位”。它体现了文艺复兴时期的哪一思想 ()
A.蒙昧主义
B.人文主义
C.浪漫主义
D.现实主义



- (2015·浙江宁波)17—18世纪,英、美、法先后进行了资产阶级革命。与英、法相比,美国资产阶级革命的独特性在于 ()
A.推翻了封建专制统治 B.摆脱了殖民统治,获得国家独立
C.建立了资本主义民主制度 D.颁布了具有法律性质的重要文件
- 以下关于英国、法国、美国资产阶级革命发生的共同原因的表述中,准确的是 ()
A.殖民压迫和民族独立愿望的增强 B.封建专制统治腐朽的结果
C.国王同议会矛盾的结果 D.资本主义经济进一步发展的需要
- (2015·江苏盐城)“当18世纪来临的时候……英国正在孕育人类历史上一种崭新的生产方式……”这种“崭新的生产方式”是 ()
A.家庭手工业 B.工场手工业
C.大机器生产 D.信息自动化

二、判断题(正确的在题后括号内打√,错误的打×。每小题2分,共10分)

- 人类形成的时间大约在三四百万年前。 ()
- 大化改新、查理·马特改革都是封建性质的改革。 ()
- 公元前27年,屋大维建立元首制,罗马从共和时代进入帝国时代。 ()
- 新航路开辟以后,世界开始连成一个整体,资本主义世界市场开始形成。 ()
- 通过《权利法案》,法国建立了君主立宪制的资产阶级统治。 ()

三、材料解析题(39分)

- 阅读下列材料,回答问题。(15分)

材料一 ……残破的石窟,千年的羞辱,遮蔽了日出,浮云万里横渡,尘世的路,我用菩萨说法图为你演出,今生始终无缘的共舞……

——摘自刀郎歌曲《大敦煌》

材料二 麦加初期的启示中包含着一个伟大的宗教中最崇高的教义和一个大伟人心中最纯洁的德性。

——雷因

材料三 ……主耶稣你保佑,洗净我一切的罪孽,为我死,为我而流泪,赐给我无尽的恩典……

——摘自歌曲《仰望恩典》

- (1)刀郎歌曲唱出的意境与哪一宗教有关?该宗教诞生的地点在哪里?(4分)

(2) 圣地麦加诞生的“一个伟大的宗教”和“一个大伟人”分别指的是什么？(4分)

(3) 材料三与哪一宗教有关？请举一例该宗教的重大节日。(4分)

(4) 结合所学知识，归纳三大宗教教义的共同点。(3分)

19. (2015·海南) 著名学者富格逊在《文明世界》中认为西方繁荣富强的首要条件是“竞争”：两三百年来，西方经历了文艺复兴、政治改革(君主立宪)、法国和美洲革命、工业革命等一连串创新，令西方政治百花齐放，各阶层自由竞争，各有所成。结合所学知识，回答下列问题。(24分)

(1) 根据题干和所学知识，完成下列表格的分类。(6分)

领域	标志性历史事件
思想	
政治	英国资产阶级革命、_____、北美独立战争
科技	

(2) 文艺复兴时期被誉为“人被发现”的时代，其核心思想是什么？(2分)

(3) 写出英、法、美资产阶级革命中颁布的重要文献。这些文献对西方社会的发展有什么共同影响？(8分)

(4) 简述工业革命在西方繁荣富强的进程中的作用。(4分)

(5) 综上所述，概括富格逊所说的“竞争”促进繁荣的几个要素。(4分)

四、探究题(15分)

20. (2015·山东枣庄) 1804年12月的一天，巴黎圣母院的大教堂里，正举行一场隆重的皇帝加冕典礼。皇帝虽然身材不高，但显得十分英武……他就是一代枭雄拿破仑。阅读材料，结合所学知识，回答问题。(15分)

材料一 15岁时，拿破仑转到法国声望最高的军校巴黎军事学院，主修炮兵学。16岁时毕业，被授予少尉军衔，派往炮兵团服役。军校对拿破仑的鉴定：“拿破仑·波拿巴，为人勤奋、谨慎，兴趣广泛，博览群书，酷爱自然科学，擅长数学、地理；沉默寡言，喜欢独处；任性、高傲、自私、善辩；自尊心强，雄心勃勃，求知欲强，有培养前途。”

——摘自岳麓版普通高中课程标准实验教科书《中外历史人物评说》

(1) 材料反映出青年时代的拿破仑具有哪些较好的品质？(从材料中提取)(3分)

材料二 “拿破仑走到哪里，哪里的徭役劳动、代役租、对老爷的贡赋等一大堆陈腐废物，连同老爷本身就像魔杖点了一下似的立即消失。”“农民从此成了自己土地的主人。”

——恩格斯

(2) 试概述拿破仑对外战争的影响。(4分)

材料三 我真正的光荣并非打了40次胜仗，滑铁卢一战抹去了关于这一切的记忆。但是有一样东西是不会被人忘记的，它将永垂不朽——那就是我的《民法典》。

——拿破仑



(3) 你是怎样评价拿破仑的？(4分)

材料四 1812年，拿破仑率领军队远征俄罗斯失利，大伤元气。1814年，拿破仑被欧洲反法联军赶下台，法国的封建王朝在外国军队的保护下复辟。……

——摘自人民教育出版社《世界历史》九年级上册

(4) 从拿破仑的一生中你获得了怎样的启发？(4分)

期中模拟测评卷 B 卷

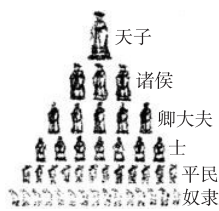
历史 九年级上册(人教版)

时间:60分钟 满分:100分

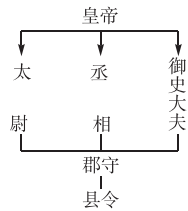
题号	一	二	三	四	总分
得分					

一、选择题(每小题3分,共36分)

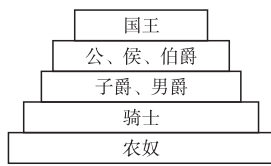
1. 下列关于原始社会的叙述,有错误的是 ()
- A. 原始社会共同劳动,人人平等,财产公有,平均分配
B. 原始社会没有剥削,没有压迫,是人类的“黄金时代”
C. 原始社会集体劳动,平均分配成果,是由生产力水平低下决定的
D. 父系氏族社会后期,出现私有财产
2. (2015·湖南郴州)不同地区文明的交往方式主要分为两种:暴力冲突与和平交往。下列属于通过征战建立起地跨欧、亚、非三洲的大帝国的是 ()
- ①亚历山大帝国 ②罗马帝国 ③古代埃及 ④古代希腊
- A. ①③ B. ②④ C. ①② D. ①④
3. 古代亚非文明有古代中国文明、古代印度文明、古代埃及文明、古代巴比伦文明,孕育这四大文明的相同地理因素是 ()
- A. 海洋 B. 沙漠 C. 高山 D. 河流
4. 下列示意图中,能够反映古代印度种姓制度的是 ()



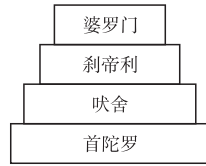
A



B



C



D

5. (2015·湖南娄底)一位意大利旅行家,曾在元朝生活十几年,后来回到欧洲。他的经历和见闻,激起了欧洲人对东方的向往。他是 ()
- A. 亚历山大 B. 马可·波罗 C. 麦哲伦 D. 利玛窦
6. (2015·四川自贡)14—16世纪,西欧发生的重大事件:文艺复兴、新航路开辟。事件发生的相同原因是 ()
- A. 世界从分散走向整体 B. 启蒙思想的广泛传播
C. 资本主义的产生和发展 D. 世界市场的初步形成

7. 世界古代史上发生过许多值得探究的重大历史事件。下列历史事件按发生的时间先后顺序排列,正确的是 ()

- ①亚历山大东征 ②罗马共和国建立 ③日本大化改新 ④查理·马特改革
- A. ①②③④ B. ②①③④ C. ③②④① D. ④②①③

8. (2014·湖南长沙)美国史学家斯塔夫里阿诺斯在《全球通史》一书中说:“现在,人们对希腊这一黑暗时代(指古代希腊遭受蛮族入侵)的了解要比印度遭受蛮族入侵时期的了解详尽得多,这主要应归功于希腊人自己留下的宝贵遗产。”他在这里所说的“宝贵遗产”主要是指 ()

- A. 《荷马史诗》 B. 《天方夜谭》 C. 《马可·波罗行纪》 D. 《神曲》

9. (2015·江西)它“以人文主义思想为指导,提倡以人为本,肯定人性,肯定现世生活”,它“猛烈冲击了封建神学”,被认为是冲破黑暗世纪的一道“曙光”。“它”是指 ()

- A. 大化改新 B. 文艺复兴
C. 新航路开辟 D. 《共产党宣言》的发表

10. 某历史研究小组的同学收集了“文艺复兴与新航路的开辟”“法国大革命”“美国的独立”“英国的新生”等相关资料,你认为他要研究的课题最有可能是 ()

- A. 欧美国家的剧变 B. 蒸汽时代 C. 城市化进程 D. 社会生活的变迁

11. (2015·湖南怀化)每年的7月4日,美国人民都会载歌载舞,欢度国庆。下列文件中,与美国的国庆日有直接关系的是 ()

- A. 《人权宣言》 B. 《独立宣言》 C. 《权利法案》 D. 1787年宪法

12. (2015·广东)拿破仑和华盛顿是同处一个大时代的政治家。他们在历史贡献方面的相同之处是 ()

- A. 赢得了民族独立 B. 维护了国家的统一
C. 打击了欧洲的封建势力 D. 推动了资产阶级民主政治的进程

二、判断题(正确的在题后括号内打√,错误的打×。每小题2分,共10分)

13. 在伯利克里时代,雅典的最高权力机构是公民大会。 ()
14. 马拉松赛跑来源于希波战争。 ()
15. 阿基米德是古罗马著名的科学家,主要成就是发现了杠杆定律和浮力定律。 ()
16. 文艺复兴运动开始于意大利,它为欧洲资本主义的产生和发展奠定了思想文化基础。 ()
17. 英、美、法资产阶级革命的共同原因是封建统治阻碍了资本主义的发展。 ()

三、材料解析题(共32分)

18. 阅读材料,回答下列问题。(12分)



公元前1世纪,古罗马出现了许多著名政治人物的青铜雕像。其中有一座全身人像,高大魁梧,身着华丽的盔甲,左手执权杖,右手向上举起,食指指向前方,好像在指挥千军万马奋勇向前。整体形象强劲有力,形神兼备,栩栩如生。它就是军事独裁者凯撒的外甥孙及养子屋大维(注:屋大维的母亲是凯撒的侄女,屋大维于公元前44年被凯撒收为养子)的雕像。

(1)公元前1世纪前期,古罗马处于什么时期?(2分)

(2)屋大维成为“军事独裁者”是在哪一年?从此古罗马进入什么历史时期?当时,我国正处于哪一个朝代?当时,中国称古罗马为什么?(8分)

(3)当时,中国与古罗马进行友好交往的一条重要的商贸通道是什么?(2分)

19.(2015·河南)阅读下列材料,回答问题。(20分)

材料一 13世纪初,英国大贵族联合起来,迫使英王签署《大宪章》,英国逐渐确立起一种有限君主制的政治体制。国王虽然享有很大的权力,但在国家所有重要事务上,包括征税,必须征求贵族的意见并且得到他们的同意。

材料二 1689年,英国议会通过的《权利法案》明确规定:未经议会同意,国王无权废除法律或停止法律的执行;未经议会同意,国王不能征税;未经议会同意,国王不能在平时时期招募或维持常备军;议会必须定期召开;议员的选举不受国王的干涉等。

材料三 早在1624年,英国议会就制定了专利法。它规定,第一发明人对其新发明拥有正当的财产权利……到18世纪中期,许多行业兴起了技术革新的热潮,开始用机器生产替代手工生产。工业革命的时代到来了。

(1)材料二和材料一在内容上有什么联系?材料二的法律文件对英国的历史发展有什么重要意义?(8分)

(2)根据材料二、三思考,英国工业革命时代的到来得益于什么?概括指出英国在推动近代社会转型的过程中采用的共同方式。(6分)

(3)综上所述,你能从英国近代社会的发展中汲取什么智慧?(6分)

四、探究题(22分)

20.“音乐是流动的建筑,建筑是凝固的音乐。”下面让我们一起来完成有关建筑、城市与社会发展的探究活动。(22分)

【探究一】 寻找“凝固的音乐”

以下是同学们搜集到的一些图片。



图 A 金字塔



图 B 巴黎圣母院




图 C 麦加大清真寺



图 D 中古意大利城市



图 E 英国人在北美建立的第一个殖民据点——詹姆斯敦

【探究二】 整理资料

(1)上面图片所示的建筑中,属于古代尼罗河流域文明的是();属于欧洲的是();属于宗教圣地的是()。(填字母)(3分)

【探究三】 探寻建筑中的“社会关系”

(2)图 A 所示的建筑当时是做什么用的?它体现了奴隶主阶级与奴隶阶级是什么关系?(6分)

(3)恩格斯说:“城市是中世纪的花朵。”从中可以看出,恩格斯对图 D 所示的这类中古城市的重新兴起持什么态度?在中世纪,这类城市的重新兴起对资本主义的产生有什么重要的作用?(6分)

(4)请你为图 E 所示的建筑另拟一个标题,并说明是从哪个角度拟定的。(5分)

(5)(2分)人们在图 B、图 C 所示的建筑里举行活动、参加活动主要是为了满足 ()
A.物质需要 B.精神需要

第五单元测试卷

历史 九年级上册(人教版)

时间:60分钟 满分:100分

题号	一	二	总分
得分			

一、选择题(每小题3分,共45分)

- 1.一位美国史学家描述道:“……乘船在悲惨的‘中段航程’中横渡大西洋。这些黑色‘货物’上了镣铐,被锁在甲板上,没有卫生设备,他们忍受着可怕的待遇……”这里所说的“黑色‘货物’”主要运往 ()
- A.欧洲 B.非洲 C.亚洲 D.美洲
- 2.(2015·云南)“船舱难以忍受的拥挤,令人窒息的闷热,生病的奴隶被抛进海里淹死……”材料反映的是 ()
- A.“三角贸易” B. 攻占巴士底狱 C. 新航路的开辟 D. 俄国农奴制改革
- 3.(2015·广西桂林)“论从史出”是学习历史的重要方法之一。“英国从奴隶贸易中所得到的资金甚至超过了国内的积累。英国重要的商业和船运业中心利物浦,本是一个荒僻的小村落,在奴隶贸易中发展成英国的第二大港口。”从这段史料中可得出的结论是 ()
- A.奴隶贸易促进了英国的资本主义发展 B.奴隶贸易给英国带来大量的黑人劳动力
C.奴隶贸易促成了新航路的开辟 D.奴隶贸易是英国资本原始积累的唯一途径
- 4.从15世纪到19世纪,戈雷岛一直是非洲最大的奴隶贸易中心,葡萄牙人、荷兰人、英国人和法国人先后占领过这里。他们当中从事奴隶贸易后来居上的是 ()
- A.葡萄牙人 B.荷兰人 C.英国人 D.法国人
- 5.英国殖民头子克莱武恬不知耻地说:“我出入于只为我敞开的金库,两手抓满了黄金和珠宝……此刻,我对我自己那时的节制大为惊奇。”由此看来,近代英国发展成为发达资本主义国家的重要因素之一是 ()
- A.掠夺殖民地的财富 B.大机器生产取代了工场手工业
C.优越的地理位置 D.较早地确立了资本主义制度
- 6.(2015·江苏盐城)在研究历史的过程中,由于立场不同,对历史事件的解释往往也会产生差异。如果站在美洲土著人的立场上对哥伦布和发现美洲新大陆进行评价,其观点最有可能是 ()
- A.英雄,传播欧洲文明 B.强盗,带来深重灾难
C.强盗,促进了资本主义发展 D.英雄,促进了文明的融合

7.右图为某国的国旗——米字旗,它曾飘扬在世界各地。其鼎盛时期,号称“日不落帝国”,其海外殖民地面积是其本土的112倍。这个国家是 ()



- A.美国 B.法国
C.英国 D.日本
- 8.(2015·湖南怀化)热爱足球的同学都知道“南美解放者杯”,它是南美洲足球俱乐部间的重要赛事。这项赛事如此冠名,是为了纪念下列哪位历史人物 ()
- A.玻利瓦尔 B.圣马丁 C.章西女王 D.伊达尔哥
- 9.(2014·新疆建设兵团)新航路开辟后,致使非洲丧失了近亿精壮劳动力,而殖民者却从中大发横财的史实是 ()
- A.希波战争 B.亚历山大东征
C.英国对印度的殖民侵略 D.“三角贸易”
- 10.(2015·广西来宾)罪恶的“三角贸易”是欧洲资本原始积累的重要方式之一,其贸易路线是 ()
- A.美洲—欧洲—非洲—美洲 B.欧洲—美洲—非洲—欧洲
C.欧洲—非洲—美洲—欧洲 D.美洲—非洲—欧洲—美洲
- 11.玻利瓦尔和章西女王的共同点是 ()
- A.都使很多国家摆脱殖民统治 B.都领导人民反抗殖民统治
C.都是封建王公 D.都英勇作战,壮烈牺牲
- 12.(2015·云南)她是印度人民的英雄,她英勇抗击英国殖民者,她的英名万古流芳。这里的“她”是 ()
- A.玻利瓦尔 B.章西女王 C.哥伦布 D.克莱武
- 13.(2015·山西)19世纪以来,随着各国民族意识的觉醒,亚非拉人民掀起了争取民族解放和捍卫国家主权的斗争。下列史实中,发生在亚洲的是 ()
- A.纳米比亚摆脱殖民统治,赢得独立
B.玻利瓦尔领导的反抗西班牙殖民统治的斗争
C.章西女王领导的印度人民大起义
D.巴拿马人民从美国手中收回了运河区主权
- 14.(2014·四川南充)下列人物中,为了实现民族解放而进行了英勇斗争的是 ()
- ①华盛顿 ②章西女王 ③玻利瓦尔 ④罗伯斯庇尔
- A.①②④ B.①③④ C.①②③ D.②③④
- 15.“棉织工人的白骨使印度平原都白成一片了。”这句话反映了 ()
- A.印度棉纺织业发达 B.印度发生严重的自然灾害
C.英国的殖民压迫和饥荒使工人大批死亡 D.印度的纺织业遭到排挤

二、材料解析题(共55分)

16.(2015·江苏南京)阅读下列材料,回答问题。(28分)

材料一 1500年左右,它(大西洋)一变而成为一座桥梁、一个启程之地,其巨大的影响波及各方。一般看来,这一变化对欧洲人是有利的,但对其他地方(美洲、非洲等)的人则意味着灾难。

——《现代世界史》

材料二 (两次工业革命)给工业化各国带来了空前的经济繁荣。……在(两次)工业革命的推动下,西方列强将世界上大片地区强行纳入资本主义的统治之下。……19世纪末,帝国主义列强重新瓜分殖民地和势力范围的争斗便尖锐起来。

——《世界近现代史》

材料三 原始积累的方法绝不是田园式的东西。……资本来到世间,从头到脚,每个毛孔都滴着血和肮脏的东西。

——马克思《所谓原始积累》

(1)结合材料一和所学知识思考,当时的哪些航海家为大西洋变为“桥梁”作出了贡献?在随之而来的殖民扩张中,走在前列的首先是哪两个国家?这一变化“有利”于欧洲人的主要表现是什么?(12分)

(2)结合材料二和所学知识思考,在第一次工业革命中,给“工业化各国带来了空前的经济繁荣”的新生产方式和新能源技术各是什么?(6分)

(3)归纳材料一、材料二的相关内容,佐证材料三中马克思的观点。(6分)

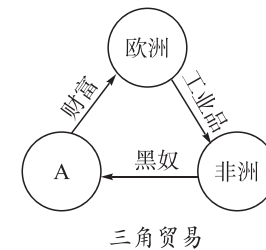
(4)综合上述材料,概括欧洲资本主义发展进程的主要特征。(4分)

17.(2014·贵州遵义)阅读下列材料,回答问题。(10分)

材料一 他认为,从欧洲出发,一直向西航行,就能到达东方各国。于是,1492年5月3日,他从西班牙出发,横渡大西洋,开始了探险航行,先后到达了巴哈马群岛、古巴、海地等地。每到一个地方,他就宣布那里是西班牙王室的领地。

——摘自九年级《历史》上册

材料二



(1)材料一中“他”是指谁?(3分)

(2)材料二中的“A”处应该是哪里?(3分)

(3)结合材料一、二分析,新航路的开辟为欧洲殖民者开辟了什麼道路?(4分)

18.(17分)2014年9月18日,国家主席习近平在印度进行访问,印度总理莫迪全程陪同。习近平主席表示,中印互为重要邻国,都是文明古国……中印两国人民在反对殖民主义、争取民族独立的斗争中相互同情,相互支持,结下深厚友情。根据所学知识,回答下列问题。

(1)题干材料中提到中国和印度都是“文明古国”。在古代印度,形成了一种严格的等级制度。这一等级制度的名称是什么?(3分)

(2)在这一等级制度之下,古代印度社会矛盾尖锐,诞生了佛教。其创始人是谁?(3分)

(3)材料中,习近平主席指出,近代以来,中印两国有着相似的被侵略的历史。17世纪,英国哪一机构负责对印度进行殖民侵略?(3分)

(4)19世纪中期,在印度民族解放运动中诞生了哪一位杰出的民族女英雄?对她及印度人民的英勇斗争应如何评价?(8分)