



• 根据教育部颁发的《幼儿园教育指导纲要（试行）》编写 •

幼儿 学前 数学

2

10以内的加减法

宋添舰 编著

- 数学入门
- 巩固基础
- 分类统计
- 编排科学



河北美术出版社

图书在版编目 (CIP) 数据

幼儿学前数学 . 2, 10 以内的加减法 / 宋添舰编著
— 石家庄 : 河北美术出版社, 2018.9
ISBN 978-7-5310-9435-7

I . ① 幼… II . ① 宋… III . ① 数学课—学前教育—习题集 IV . ① G613.4

中国版本图书馆 CIP 数据核字 (2018) 第 220013 号



幼儿学前数学 . 2



河北美术出版社
各地新华书店经销

服务电话: 0311-87060677

质量服务承诺: 如发现缺页、倒装等印制质量问题, 可直接向本社调换。



目录

认识物体和图形	2
分类	4
复习（一）	6
10 以内的认识	8
10 以内的分解	10
10 以内的组成	12
10 以内的加法（一）	14
10 以内的加法（二）	16
10 以内的减法（一）	18
10 以内的减法（二）	20
复习（二）	22
复习（三）	24
综合练习（一）	26
综合练习（二）	29
综合练习（三）	32
综合练习（四）	35
参考答案	38



太好了



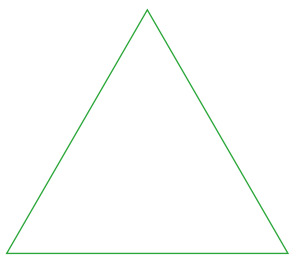
还不棒



加油哦

认识物体和图形


一、在正方形下面画“√”，长方形下面画“○”，三角形下面画“☆”。



()

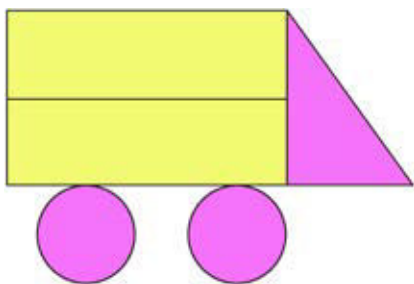


()



()

二、下面的图画分别由多少个图形组成？请数一数。


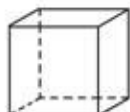
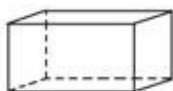
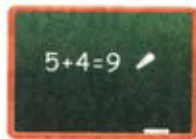
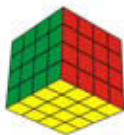


△ 有 () 个

○ 有 () 个

□ 有 () 个


三、把物品与相对应的图形连起来。




四、请你按照左侧图画出与它对称的另一半图。




五、把下面二等分的图形找出来，并在下面的()里画“√”。



()



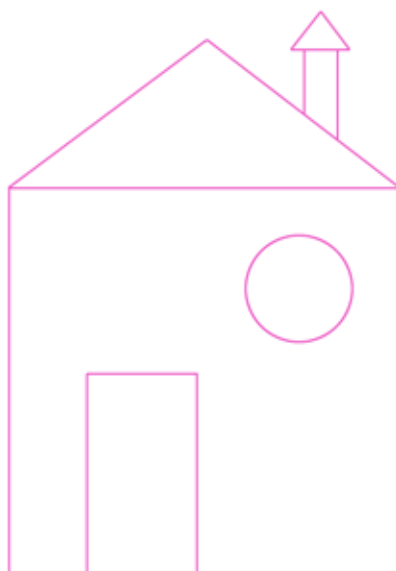


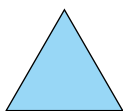

()



()

六、根据例图中图形的颜色为右面的图形涂色。

例图





太好了



还不棒



加油哦

分类


一、请圈出每组图中和其他不同类的一个事物。



二、请把上下两排有关联的物体连起来。



三、把能在天上飞的动物圈出来。






四、请为空白处选出同类的事物，在正确的选项旁画“√”。



五、请你把图形宝宝送回它自己的家吧！



六、下面有一个物品是厨房用具，请在它的旁边画“√”。





太好了



还不排



加油哦


复习 (一)

一、将同类的两个物品连起来。




二、圈出和例图形状相同的物品。


例图



三、数一数，填空。



 有 _____ 个

 有 _____ 个

 有 _____ 个

 有 _____ 个



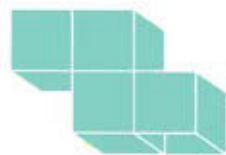
四、数一数，下列图形中各有多少个正方体？



() 个



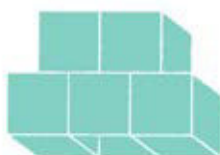
() 个



() 个



() 个

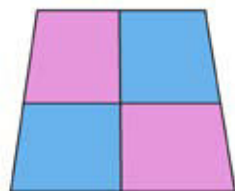

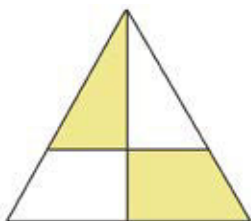


() 个



() 个

五、把下面四等分的图形圈出来。



六、按照分类，把物品放回原来的位置，连一连吧。





太好了



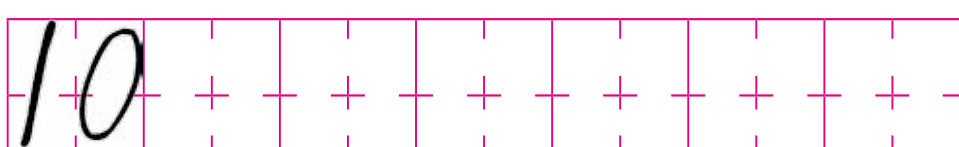
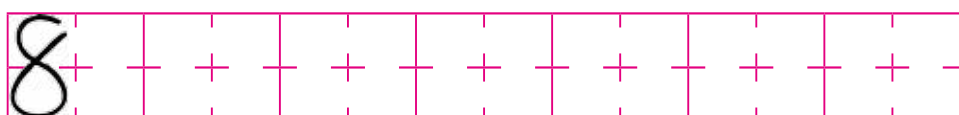
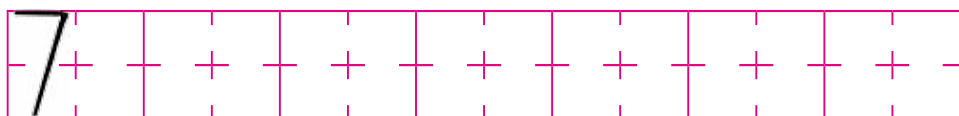
还不带



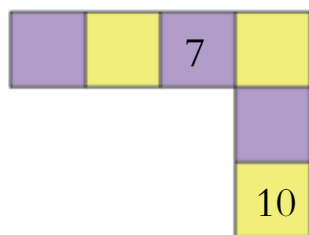
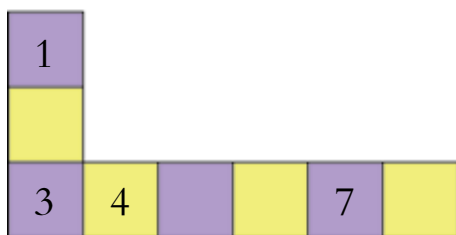
加油哦

10 以内的认识

一、写一写。



二、按顺序填数字。



三、根据数字补画图形。



四、数一数，连一连。



7




8



9

五、数一数，连一连。



7



10



8

六、仿照例子，写出下列数字的相邻数。

例

6	7	8
---	---	---

	5	
--	---	--

	9	
--	---	--

	8	
--	---	--



太好了



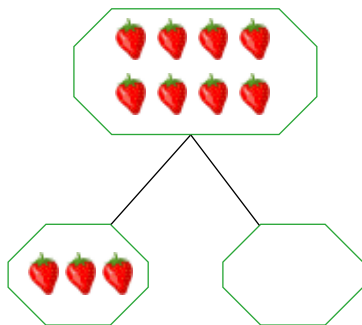
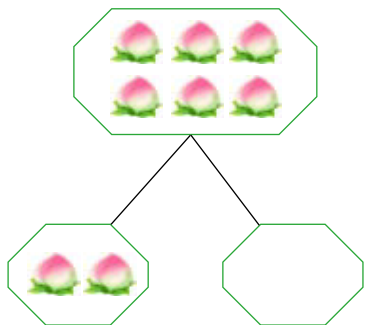
还不错



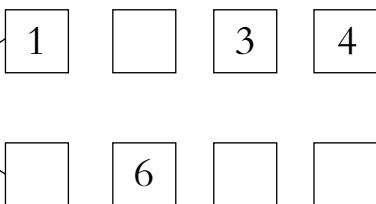
加油哦

10 以内的分解

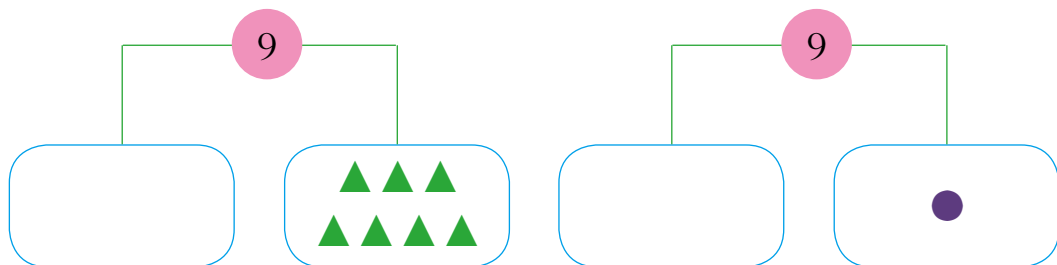
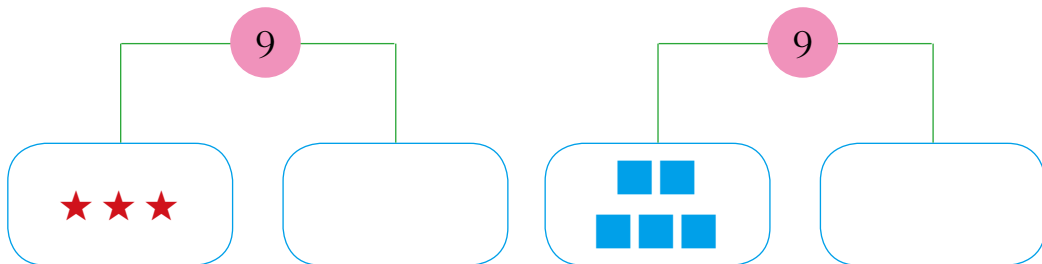
一、数一数，根据图片填数字。



二、8 穗玉米分给两只小熊，可以怎么分？在□里填一填。



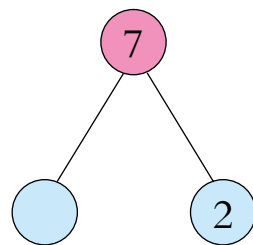
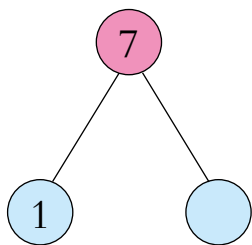
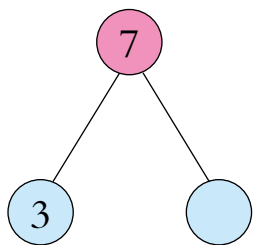
三、根据分合式，在方框里画上相应数量的图案。



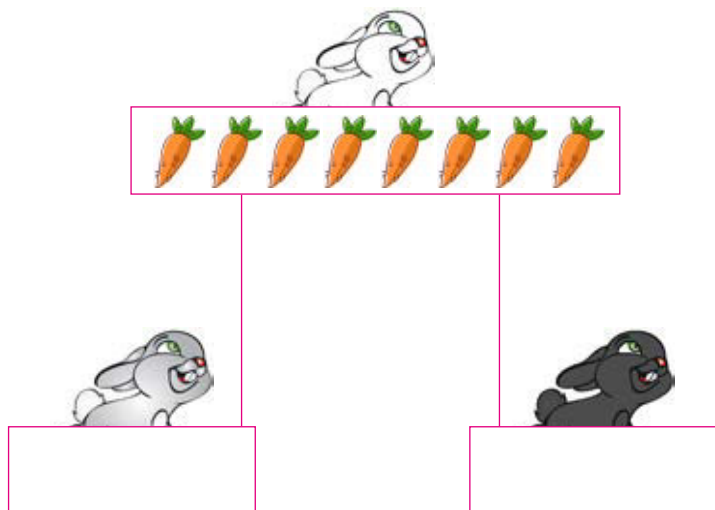
四、将可以组成 10 的兔子和胡萝卜连起来。



五、在○里填上正确的数字。



六、小白兔有 8 根胡萝卜，想把它们平均分给小灰兔和小黑兔，应该怎么分？





太好了



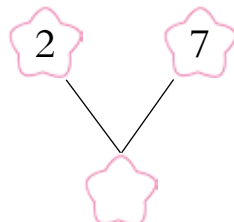
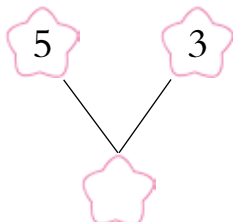
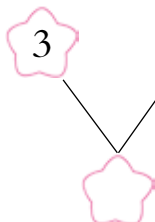
还不棒










加油哦

10 以内的组成

一、在 里填上正确的数字。



二、根据图片在 里填数字。



三、把可以组成 8 的两个数字分别写在 里。

和

和

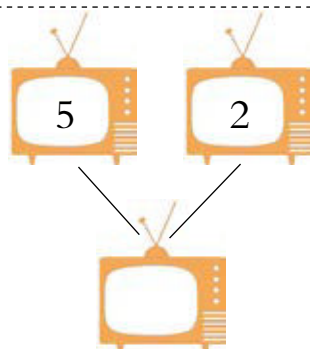
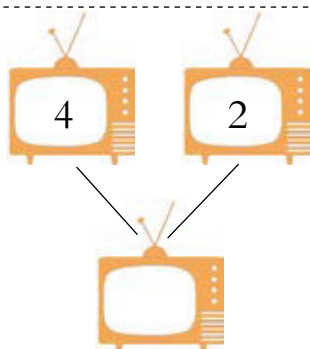
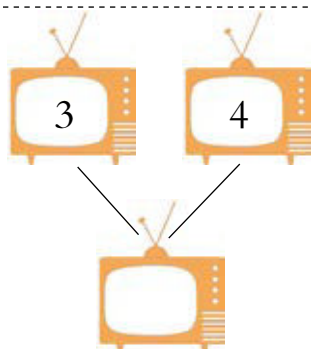
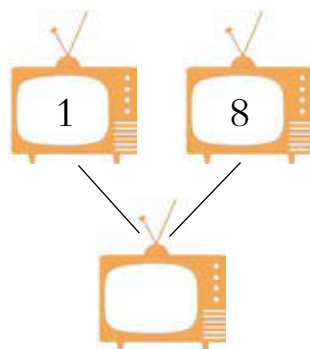
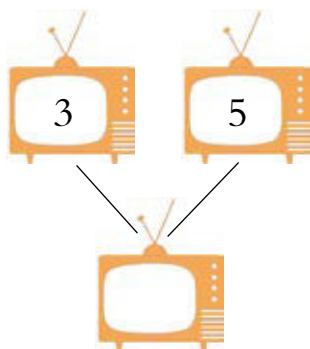
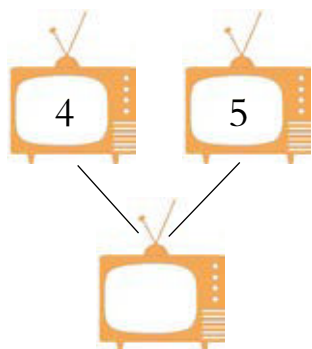
和



四、哪两个气球相加等于7？请涂上红色。



五、在□里填上正确的数字。



六、在□里填上正确的数字。





太好了




还不棒




加油哦

10 以内的加法（一）

一、看图列算式。



$$\bigcirc + \bigcirc = \bigcirc$$



$$\bigcirc + \bigcirc = \bigcirc$$




$$\bigcirc + \bigcirc = \bigcirc$$



$$\bigcirc + \bigcirc = \bigcirc$$



二、请你数一数，再回答问题。



图中  有 _____ 个，

 _____ 个。



 和  共有 _____ 个。

三、池塘里有 3 只小蝌蚪，后来又游来了 4 只，现在池塘里共有几只小蝌蚪？



$$\square + \square = \square$$



四、连一连。



$3+7$



$4+2$



$5+3$



$6+1$



8



7



6



10

五、算一算，把正确的得数圈出来。



$2+6=$

7

8

9



$2+5=$

9

10

7



$3+3=$

4

5

6



$1+7=$

7

8

9

六、请你数一数再回答问题。



图中有鸡（ ）只，图中有蛋（ ）个，鸡和蛋共有（ ）。