

目 录

第一章测试卷 A 卷	1	第四章测试卷 A 卷	41
第一章测试卷 B 卷	5	第四章测试卷 B 卷	45
月考测评卷一	9	专项训练一 中国的疆域与人口	49
第二章测试卷 A 卷	13	专项训练二 中国的自然环境	53
第二章测试卷 B 卷	17	专项训练三 中国的自然资源	57
期中基础测评卷	21	专项训练四 中国的主要产业	61
期中综合测评卷	25	期末基础测评卷	65
第三章测试卷 A 卷	29	期末综合测评卷	69
第三章测试卷 B 卷	33	参考答案	73
月考测评卷二	37		

图书在版编目 (CIP) 数据

湘教考苑·单元测试卷·地理八年级·上册:湘教版 /《湘教考苑》编写组编. —长沙:湖南教育出版社, 2016.6

ISBN 978-7-5539-3775-5

I. ①湘… II. ①湘… III. ①中学地理课—初中—习题集

IV. ① G634

中国版本图书馆 CIP 数据核字 (2016) 第 012708 号

湘教考苑·单元测试卷·地理·八年级上册 (湘教版)

本书编写组 编

责任编辑:徐夏楠

出版发行:湖南教育出版社 (长沙市韶山北路 443 号)

网 址: <http://www.hnepb.com>

电子邮箱: hnjybs@sina.com

微信服务号:多点学习

客 服:电话 0731-85486979

经 销:湖南省新华书店

印刷装订:湖南天闻新华印务邵阳有限公司

开 本:787×1092 16 开

印 张:5

字 数:142000

版 次:2016 年 6 月第 1 版第 1 次印刷

书 号:ISBN 978-7-5539-3775-5

定 价:11.00 元

本书如有印刷、装订错误,可向承印厂调换

ISBN 978-7-5539-3775-5



9 787553 937755 >

湘教考苑

单元测试卷

D A N Y U A N C E S H I J U A N

本书编写组 编



地理

八年级上册

(湘教版)

湖南教育出版社

①考生要写清校名、姓名和班级(或准考证号)
②不读题、不讲题、监考人不解答问题
③用钢笔或签字笔答题,字迹要清楚,卷面要整洁

县(区) 乡 年级 班级
姓名
学校

第一章测试卷 A 卷

地理 八年级上册(湘教版)

时间:60分钟 满分:100分

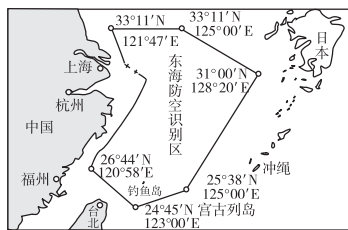
题号	一	二	总分
得分			

一、选择题(每小题2分,共40分)

- 1.(2016·广西玉林校级模拟)我国幅员辽阔,陆地面积约为 ()
 A.960千米² B.690万千米²
 C.960万千米² D.890万千米²

(2015·湖南邵阳三模)阅读材料和右图,回答2~5题。

材料:中国政府于2013年11月23日发表声明,宣布划设东海防空识别区,并发布航空器识别规则公告和识别区示意图。



- 2.我国濒临的海洋中,属于我国的内海的是 ()
 A.东海 B.渤海
 C.南海 D.黄海
- 3.东海防空识别区主要位于我国与_____之间 ()
 A.日本 B.韩国 C.朝鲜 D.菲律宾
- 4.距离该识别区最近的我国直辖市的简称是 ()
 A.渝 B.沪 C.浙 D.京
- 5.该识别区的范围包括 ()
 A.钓鱼岛 B.台湾岛 C.海南岛 D.澎湖列岛
- 6.(2015·山东夏津县一模)下面对我国地理概况的叙述,不正确的是 ()
 A.地跨热带、北温带、北寒带
 B.领土最南端在海南省,最北端在黑龙江省
 C.位于亚洲的东部、太平洋西岸,海陆兼备
 D.南与越南、老挝、缅甸山水相连

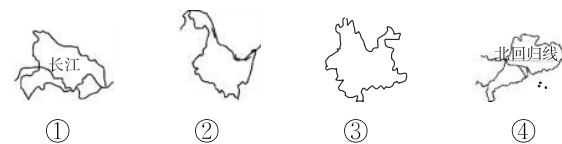
- 7.(2016·贵州黔东南州模拟)下列有关我国地理位置说法正确的是()
 ①位于东半球、南半球 ②北回归线经过我国南部 ③位于亚欧大陆的东部 ④东部面临大西洋 ⑤大部分位于北温带
 A.①②③ B.①③④
 C.②③⑤ D.③④⑤

- 8.(2015·湖北黄石)读下列省(区)轮廓图,“陇”和“蜀”分别是哪两个省(区)的简称? ()



- A.①② B.②③ C.①③ D.②④

- 9.(2015·重庆云阳)下列省区中适宜种植热带作物和生产海产品最多的是()



- A.① B.② C.③ D.④

- 10.(2015·广东梅州)我国跨经度最广的省区是 ()

- A.新疆维吾尔自治区 B.内蒙古自治区 C.青海省 D.西藏自治区

- 11.(2015·广东梅州)我国现阶段人口政策的基本内容是 ()

- A.严格控制城市人口增长 B.实行计划生育
 C.控制人口数量,提高人口素质 D.人口越少越好

- 12.自20世纪70年代以来,我国人口自然增长率明显下降,原因是 ()

- A.自然灾害频繁,死亡率明显上升 B.战争频繁,死亡率明显上升
 C.政策宽松,出生率上升 D.实行计划生育,出生率明显下降

- 13.我国人口分布的基本特点是 ()

- A.南方人口多,北方人口少 B.北方人口多,南方人口少
 C.西部人口多,东部人口少 D.东部人口多,西部人口少

(2016·海南海口校级模拟)我国启动实施一方是独生子女的夫妇可生育两个孩子的政策。据此回答14~15题。

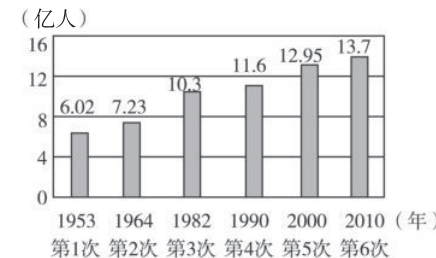
- 14.我国人口的突出特点是 ()

- A.人口数量多,素质高 B.人口基数大,增长快
 C.人口基数大,增长已十分缓慢 D.人口地区分布均匀

- 15.我国开放“全面二孩”政策的原因,与实际不符的是 ()

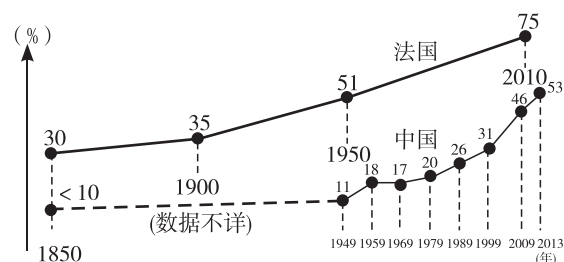
- A.独生子女家庭养老问题日益严峻 B.人口老龄化速度加快
 C.劳动年龄人口供给减少 D.人口总数不断减少

- 16.右图为新中国成立后六次人口普查总人口数量变化图。根据图判断,第五次人口普查之后的10年人口数量与前几次相比,其变化趋势是 ()



- A.人口总量仍在增加,但增长速度有所减缓
 B.人口总量仍保持高速的增长态势
 C.人口总量增加的速度越来越快
 D.人口总量已经停止增长

17. (2015·安徽阜阳) 下列关于我国民族特征的说法, 错误的是 ()
- A. 共有 56 个民族
 B. 各民族不论大小, 一律平等
 C. 各地都实行民族区域自治制度
 D. 民族分布呈现“大散居, 小聚居, 交错杂居”的特点
18. (2015·湖南株洲) 小明在班上做了一次民族成分的调查, 他发现班上有五名同学属于不同的少数民族。这个调查印证了我国民族分布的特点是 ()
- A. 各少数民族和汉族分区独立居住
 B. 少数民族主要分布在东部地区
 C. 大散居, 小聚居, 交错杂居
 D. 汉族主要分布在西南、西北等边疆地区
19. (2015·新疆) 下列风俗习惯或文化传统中, 体现蒙古族人文特色的是 ()
- A. 长鼓舞
 B. 泼水节
 C. 摔跤
 D. 雪顿节
20. (2015·湖南株洲) 下图为中法两国城镇人口比重变化图, 对图中内容表述正确的是 ()



- A. 中国城镇人口比重一直高于法国
 B. 近 50 年, 中国城镇人口比重增加的速度快于法国
 C. 中国城镇人口比重增加的速度一直很慢
 D. 法国城镇人口比重增加的速度一直比中国快

二、综合题(共 60 分)

21. 读中国政区图, 完成下列问题。(24 分)



- (1) 位于我国最大的岛屿上的省区名称是_____。(2 分)
- (2) 位于我国最西部的省区的行政中心是_____。(2 分)
- (3) 成语“秦晋之好”“得陇望蜀”“黔驴技穷”中, “秦”是_____省, “晋”是_____省, “陇”是_____省, “蜀”是_____省, “黔”是_____省。请在图上相应位置涂上阴影。(20 分)

22. 阅读下列材料, 回答问题。(24 分)

材料一: 我国是目前世界上人口最多的国家。现在, 我国平均每隔 2 秒就会有 1 个婴儿出生, 每年增加的人口比欧洲的比利时、葡萄牙等国一个国家的人口还多。

材料二: 我国每年新增人口消耗当年增加肉类的 45.6%, 占用当年粮食增收的 48.5%, 占用当年新建城镇住房的 30.7%。

材料三: 我国部分自然资源在世界上的位次。

项目	耕地面积	森林面积	水资源总量
总量	4	6	6
人均量	67	121	110

- (1) 据材料一分析可知, 我国人口突出的特点是_____。(4 分)
- (2) 结合材料, 谈谈我国把计划生育作为一项基本国策的原因。(8 分)
- (3) 计划生育政策的基本内容是_____。(4 分)
- (4) 有的人认为: “一个国家人口总数越少, 人口自然增长率越低, 就越有利于经济的发展。”你对这种观点是如何评价的?(8 分)

23. 阅读下列材料, 回答问题。(12 分)

材料一: 当今世界, 民族关系错综复杂, 民族问题对国家的政治、经济、文化的影响越来越大。冷战结束后, 以苏联为首的东欧社会主义国家纷纷解体或分裂, 并引发了一系列民族冲突和纠纷, 如南斯拉夫的“科索沃战争”、波黑战争等。反观我国, 社会安定, 民族团结, 主要原因就是新中国成立至今我们一直贯彻并执行着正确的民族政策。

材料二: 我国宪法规定: 各民族都有保持或改革自己的风俗习惯的自由; 中华人民共和国公民有宗教信仰的自由; 国家保护正常的宗教活动。

- (1) 我国是一个多民族的统一和谐的中华民族大家庭, 各民族不论人口_____, 社会发展程度高低等, 都具有_____的地位。(4 分)
- (2) (2 分) 泼水节是我国哪个少数民族特有的风俗节日? 该民族主要分布在哪个省 ()
- ①傣族 ②苗族 ③土家族 ④云南 ⑤贵州 ⑥四川
- A. ①⑤ B. ②④ C. ①④ D. ③⑥ E. ③④
- (3) 写出你所熟知的我国少数民族的风俗习惯、文化艺术或传统体育活动(至少写出三种)。(6 分)

第一章测试卷 B 卷

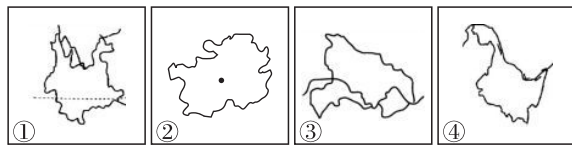
地理 八年级上册(湘教版)

时间:60分钟 满分:100分

题号	一	二	总分
得分			

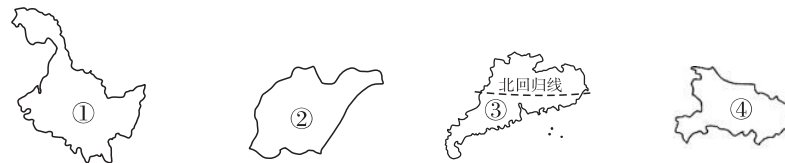
一、选择题(每小题2分,共40分)

- 1.(2015·安徽模拟)我国领土的最北端和最东端所在的省区是 ()
A.黑龙江、黑龙江 B.黑龙江、内蒙古 C.黑龙江、辽宁 D.新疆、黑龙江
- 2.与我国隔海相望的国家是 ()
A.俄罗斯、韩国 B.日本、菲律宾 C.印度、文莱 D.马来西亚、缅甸
- 3.下列有关我国疆域的叙述,正确的是 ()
A.我国位于亚洲东部、太平洋东岸
B.我国濒临的海洋从北到南依次是渤海、东海、黄海、南海
C.与我国陆上相邻的国家有12个
D.陆地总面积约960万千米²,居世界第3位
- 4.中国与美国相比,地理位置的相似点是 ()
A.东西两侧均临海 B.大西洋是两国共同濒临的海洋
C.领土的主体大部分位于北温带 D.都位于东半球
- 5.(2015·黑龙江哈尔滨)春节期间,哈尔滨冰天雪地,海南省的三亚鲜花盛开。影响两地气候的主要因素是 ()
A.纬度因素 B.海陆因素 C.地形因素 D.人类活动
- 6.(2015·湖南株洲)家住黑龙江的小丽暑假去新疆旅游,发现新疆在北京时间晚上8时太阳还没落山。造成这种时间差异的原因是 ()
A.南北纬度的差异 B.东西经度的差异 C.地形地势的差异 D.海陆位置的差异
- 7.下列我国四个省区及其简称连线错误的是 ()
A.江西—赣 B.湖南—湘 C.广西—桂 D.广东—越
- 8.(2015·山东德州)贴春联是我国的传统民俗。春联“苗寨黔山黄果树,酒乡赤水”和“沃野龙江稻谷香,林海雪原”反映的省区分别是 ()



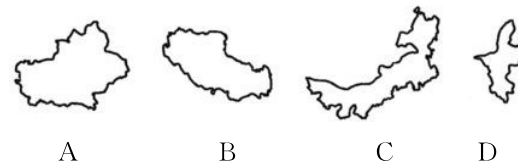
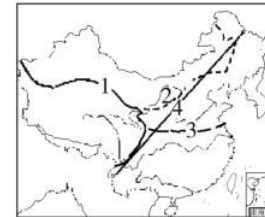
- A.①② B.②④ C.③④ D.①④

- 9.2014年5月至10月,世界园艺博览会在山东青岛举办。如图所示,下列省区轮廓图中代表山东省的是 ()



- A.① B.② C.③ D.④

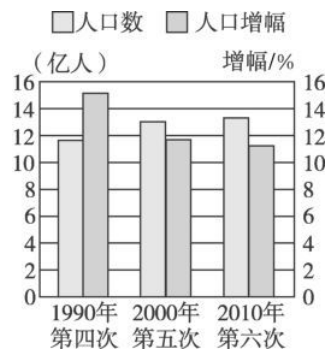
- 10.李明同学夸自己家乡时说:凡有我们老家简称的词都特别美,如“琼楼玉宇”“琼枝玉叶”“琼浆玉液”等。请你判断,李明的家乡在 ()
A.广东省 B.海南省 C.浙江省 D.云南省
- 11.新中国成立后,我国人口增长迅速的主要原因是 ()
A.商业贸易日益频繁 B.人们居住地的自然条件有很大的改变
C.社会劳动力需求大幅度增加 D.生活水平提高,医疗卫生条件明显改善
- 12.读地图,知地理信息。右图中,哪一个数字序号是代表我国人口分布的地理分界线 ()
A.1 B.2 C.3 D.4
- 13.(2015·广东梅州)下列关于我国人口的说法,正确的是 ()
A.人口增长速度回升快
B.人口开始减少
C.人口基数大,每年净增长人口在减少
D.人口基数大,每年净增长人口仍然很多
- 14.(2015·湖南邵阳)2014年,李克强总理在政府工作报告中特别指出:“坚持计划生育基本国策不动摇,落实一方是独生子女的夫妇可生育两个孩子政策。”关于单独两孩政策带来的积极影响,下列说法中不对的是 ()
A.改善家庭人口结构,促进家庭幸福与社会和谐 B.促进人口长期均衡发展,延缓人口老龄化速度
C.有利于保持合理的劳动力规模 D.改变了我国人口的基本国策
- 15.(2015·山东济南模拟)对我国人口和民族的描述,正确的是 ()
A.2010年,人口总数约为13.70亿 B.人口分布特点是西密东疏
C.回族是人口最多的少数民族 D.少数民族主要分布在东北、西北、东南
- 16.我国自治区的五个主要少数民族是 ()
A.蒙古族、回族、藏族、维吾尔族、苗族 B.蒙古族、回族、藏族、维吾尔族、壮族
C.回族、藏族、布依族、满族、朝鲜族 D.回族、白族、蒙古族、壮族、土家族
- 17.(2016·山东济南校级模拟)蒙古族聚居的省级行政区域单位是 ()



- A B C D

18. (2016·云南模拟) 读全国人口普查有关数据统计图, 完成: 从1990年到2010年, 我国人口增幅 ()

- A. 快速上升
- B. 逐渐上升
- C. 逐渐下降
- D. 基本持平



19. (2015·山东威海) 2014年我国各地陆续实施“单独二胎”政策 (夫妻双方有一方是独生子女的可生育两胎), 该项生育政策实施后, 对我国人口发展带来的好处是 ()

- ① 减缓人口老龄化的进程
 - ② 提高人口素质
 - ③ 保持合理的劳动力数量
 - ④ 改变我国人口负增长现状
- A. ①② B. ①③ C. ②③ D. ②④

20. (2015·福建福州) 右图所展示的民族舞蹈流传于 ()

- A. 藏族
- B. 回族
- C. 朝鲜族
- D. 蒙古族



二、综合题 (共 60 分)

21. 读图, 回答下列问题。 (每空 1 分, 共 20 分)

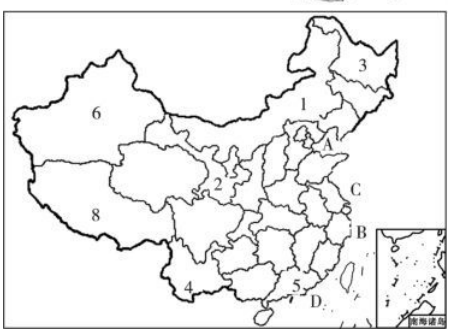
(1) 我国的行政区划基本上分为 _____、_____、_____ 三级。

(2) 写出图中数码所代表的省级行政区域单位名称。我国跨经度最广的省区 1 是 _____; 纬度位置最高的省份是 _____ (填写图中数字序号), 名称是 _____; 2 是 _____ 省, 2014 年 10 月, 该省某县遭到冰雹袭击, 造成 2 万多人受灾。

(3) 写出图中数字所代表的省级行政区域单位的简称。4 _____, 5 _____, 6 _____, 7 _____, 8 _____。

(4) 写出图中字母所代表的海域名称。A _____, B _____, C _____, D _____。

(5) 北回归线自西向东穿过的省区是 _____、_____、_____、_____。 (写简称)

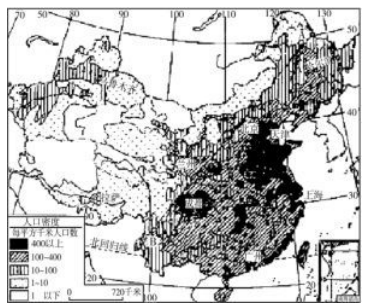


22. 读中国人口密度图, 回答下列问题。 (每空 2 分, 共 12 分)

(1) 图中 A、B 代表的人口地理分界线的起止点分别是: A _____, B _____。 (4 分)

(2) 由图中可以看出, A 与 B 连线以东地区, 人口密度 _____; 以西地区, 人口密度 _____。 (4 分)

(3) AB 线以东面积占全国的 _____, 人口占全国的 _____; AB 线以西面积占全国的 _____, 人口仅占全国的 _____。 (4 分)



23. 读图, 完成下列问题。 (14 分)

(1) 图中①为 _____, 所在省级行政区域单位的简称是 _____; ②为 _____, 所在省级行政区域单位的行政中心是 _____; ①~②线以东人口占 _____%, 以西面积占 _____%, 人口密度较大的是 _____ (东部、西部)。 (7 分)

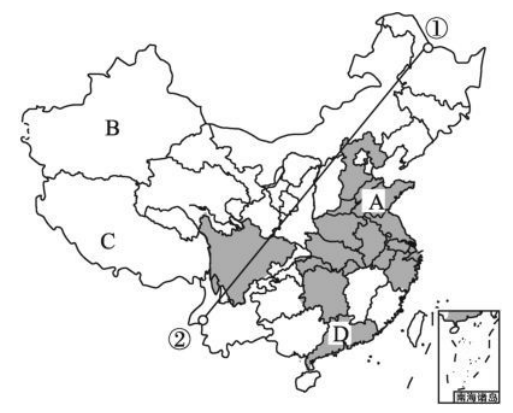
(2) 图中阴影部分表示我国第六次全国人口普查中人口超过 5 000 万的省级行政区域, 从中可以看出我国人口分布特点是 _____。 (1 分)

(3) A 地区比 B 地区人口多的自然原因是什么? (2 分)

(4) C 地区在我国人口密度最 _____ (大、小), 原因是 _____。 (3 分)

(5) (1 分) 第六次全国人口普查数据显示, D 省成为我国人口第一大省。导致该省取代河南省成为人口第一大省的主要原因有 ()

- ① 人口自然增长率高
 - ② 外来人口数量增多
 - ③ 工业发达, 城镇密集
 - ④ 人口素质高, 处于高水平生育阶段
- A. ①③ B. ②③ C. ①④ D. ②④



24. 读中国民族分布图, 回答下列问题。 (14 分)

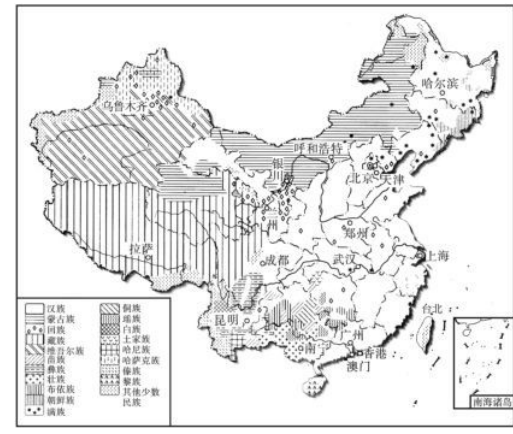
(1) 我国人口最多的民族是 _____ 族。各少数民族主要分布在 _____、_____ 和 _____ 等地区。 (4 分)

(2) 各民族分布特点是“大 _____, 小 _____, _____”。 (3 分)

(3) 从图上可以看出, 壮族主要分布在 _____, 蒙古族主要分布在 _____。 (2 分)

(4) 将下列省区简称与其分布的主要少数民族用直线连接起来。 (5 分)

- | | |
|--------|--------|
| A. 内蒙古 | ① 壮族 |
| B. 桂 | ② 藏族 |
| C. 藏 | ③ 回族 |
| D. 宁 | ④ 维吾尔族 |
| E. 新 | ⑤ 蒙古族 |



月考测评卷一

地理 八年级上册(湘教版)

时间:60分钟 满分:100分

题号	一	二	总分
得分			

一、选择题(每小题2分,共40分)

- 下列海域中,属于我国内海的是 ()
A. 黄海和台湾海峡 B. 渤海和琼州海峡 C. 黄海和东海 D. 南海和琼州海峡
- 小强学习了中国地理后,在日记中这样描述中国的地理位置,你认为正确的是 ()
A. 从东西半球看,我国位于西半球 B. 从南北半球看,我国位于南半球
C. 大部分位于北温带和北寒带,没有热带 D. 位于亚洲的东部、太平洋西岸,海陆兼备
- (2015·辽宁沈阳)5月31日凌晨,在2015年国际田联钻石联赛尤金站男子百米“飞人大战”中,来自广东的苏炳添以9秒99的成绩摘得铜牌,成为首位跑进10秒的中国选手。苏炳添的家乡广东省的简称是 ()
A. 辽 B. 粤 C. 鲁 D. 黑
- 下列四幅人口增长曲线图中,与我国最相符的是 ()
- 玲玲的妈妈买了一支“鲁能”股票,股票所在的企业属于下列哪个省级行政区域单位 ()
A. 江西省 B. 山东省 C. 山西省 D. 河南省
- 既濒临海洋,又与陆上邻国相连的省区是 ()
A. 内蒙古自治区 B. 云南省 C. 广西壮族自治区 D. 吉林省
- “两湖两广两河山”所指的八个省级行政区域单位中,互不相邻的一组是 ()
A. 湖南、湖北 B. 广东、广西 C. 河南、河北 D. 山东、山西
- 关于右图中四个省的叙述,正确的是 ()
A. ①省是我国西南的边疆省,它同四个国家接壤
B. ②省是我国位置最偏南的省,我国最南端的

曾母暗沙位于该省

C. ③省是我国的湖北省,简称鄂,人民政府驻地在武汉

D. ④省是我国的黑龙江省,它同俄罗斯和蒙古两国相邻

9. 我国是一个多民族的国家。下列四幅图片中,反映朝鲜族民族服饰的是 ()

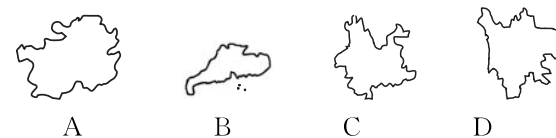


A B C D

10. 下列关于我国人口、民族的描述,错误的是 ()

- A. 我国是世界上人口最多的国家 B. 我国东南部人口稠密,西北部人口稀疏
C. 少数民族主要分布在西南、东南、东北地区 D. 各民族的分布特点是“大散居,小聚居,交错杂居”

11. (原创题)2015年12月29日0时04分,我国在西昌卫星发射中心用长征三号乙运载火箭成功发射高分四号卫星。下列省级行政区域单位表示四川省的是 ()

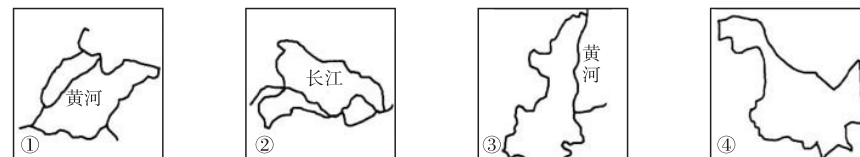


A B C D

12. “蜀犬吠日”发生在 ()

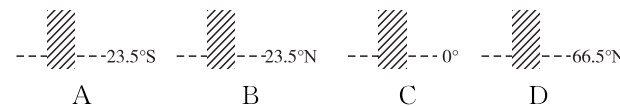
- A. 四川盆地 B. 珠江三角洲 C. 长江中下游平原 D. 黄土高原

13. 读我国四个省区轮廓图,以下说法正确的是 ()



- A. ①省区濒临东海 B. ②省区北回归线穿过
C. ③省区简称陕,省会是太原 D. 我国领土最北端位于④省区

14. 下图中阴影部分能正确体现我国纬度位置的是 ()



A B C D

15. 我国有五个少数民族自治区,与其相对应的五个主要少数民族是 ()

- A. 回族、藏族、布依族、满族、朝鲜族 B. 蒙古族、回族、藏族、维吾尔族、壮族
C. 蒙古族、回族、藏族、维吾尔族、苗族 D. 回族、白族、蒙古族、壮族、土家族

16. 印度、文莱、日本、菲律宾、蒙古五国中,与我国隔海相望的国家共有 ()

- A. 2个 B. 3个 C. 4个 D. 5个

17. (2015·黑龙江大庆)八年级学生巴特尔生活在草原上,他的家乡男女老少都善于骑马,饮食以牛羊肉的食品为主,有举办“那达慕大会”的传统。巴特尔最有可能是 ()

- A. 蒙古族 B. 藏族 C. 达斡尔族 D. 景颇族

①考生要写清校名、姓名和班级(或准考证号)
②不读题、不讲题、监考人不解答问题
③用钢笔或签字笔答题,字迹要清楚,卷面要整洁

注意事项

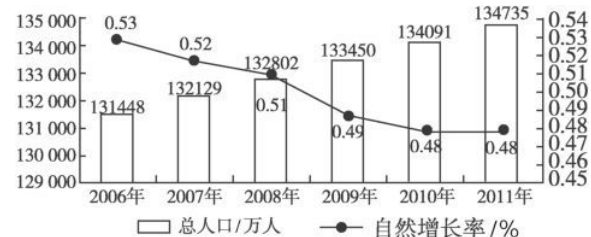
县(区) 乡 年级 班级 姓名 学校

18. 方寸邮票也能体现一个国家、地区或民族的经济、历史、文化、风土人情、自然风光等特色。下面是我国发行过的几枚有关少数民族的邮票。下列说法正确的是 ()



- A. 图①的少数民族传统节日是那达慕大会
- B. 图②的少数民族是我国人口最多的少数民族
- C. 图③的少数民族主要分布在我国西南地区
- D. 图④的少数民族聚居地海拔高, 光照强, 地热资源丰富

(2015·四川宜宾) 读“2006~2011年中国(除港澳台外)人口数量及自然增长率变化情况图”。完成19~20题。



19. 据图可知, 2006年到2011年, 我国人口变化的趋势是 ()
- A. 人口总量已经停止增长
 - B. 人口总量呈逐渐下降的趋势
 - C. 人口增长速度越来越快
 - D. 人口总量增加, 但增长速度下降
20. 有关我国人口增长问题的叙述, 正确的是 ()
- A. 人口基数庞大, 出现负增长最好
 - B. 人口增长越慢越好, 最好停止增长
 - C. 地大物博, 人口增长再快也无妨
 - D. 人口增长必须与社会、经济的发展相适应

二、综合题(共60分)


21. 读右图, 完成下列问题。(每空1分, 共13分)

- (1) 与我国陆上接壤的国家有 _____ 个, 其中面积最大的邻国是 _____。
- (2) 韩国“天安”号警戒舰 2010年3月26日晚在西部海域值勤时发生爆炸沉没, 舰上104名官兵中只有58人生还。图中序号 _____ 是韩国, “天安”号警戒舰沉没的海域属于 _____ 海。
- (3) 写出我国主要邻国或隔海相望的国家的名称。
① _____, ② _____, ③ _____, ④ _____。
- (4) 我国四大临海中, 属于内海的是 _____。另一个内海是 _____。
- (5) 我国陆地领土面积约 _____ 万千米², 仅次于 _____ 和 _____, 居世界第三位。



中国疆域示意图

22. 读图, 完成下列问题。(每空2分, 共18分)



- (1) 我国各少数民族都有自己的风俗习惯、丰富多彩的文化艺术和传统的体育活动。写出上面四幅图中的少数民族及主要分布地区。
A 是 _____ 族, 主要分布在 _____; B 是 _____ 族, 主要分布在 _____;
C 是 _____ 族, 主要分布在 _____; D 是 _____ 族, 主要分布在 _____。
- (2) “天苍苍, 野茫茫, 风吹草低见牛羊”是对 _____ 图中少数民族聚居区的草原景观的描述。

23. 读我国部分地区图, 完成下列问题。(每空1分, 共13分)



- (1) 写出图中数字所代表的省区名称、简称或行政中心。
① _____ (名称), ② _____ (名称),
③ _____ (简称), ④ _____ (简称),
⑤ _____ (行政中心), ⑥ _____ (行政中心)。
- (2) 分布在图中④⑤两地的少数民族分别是 _____ 族和 _____ 族。
- (3) 喜爱弹奏冬不拉的少数民族主要分布在图中的 _____; 喜爱拉马头琴的少数民族主要分布在图中的 _____; 每年七八月, 举行那达慕大会的少数民族主要分布在图中的 _____。(填省区数字标号)
- (4) 图中②处主要的民族是 _____, ⑥处主要的民族是 _____。

24. (2015·山东莱芜改编) 阅读材料, 回答问题。(16分)

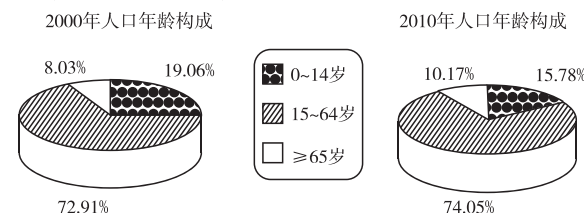
材料一: 2016年1月1日我国正式开始实施“全面二孩”政策。

材料二: 人口自然增长是由人口出生和死亡造成的人口数量变化, 出生率大于死亡率, 则人口增加, 反之, 人口减少。人口机械增长, 是由人口迁入和迁出造成的人口数量变化, 迁入人口大于迁出人口则人口增长, 反之, 则人口减少。一个地区人口总量的变化取决于人口自然增长和人口机械增长。

材料三: 1982~2013年莱芜市总人口和自然增长率变化。(数据来自莱芜市统计年鉴)

年份	1982	1990	2000	2010	2013
总人口/万人	107.38	117.78	123.19	126.69	126.52
自然增长率/%	1.07	1.31	0.55	0.06	0.14

材料四: 2000年和2010年莱芜市人口年龄结构。(数据来自莱芜市统计年鉴)



- (1) 结合材料, 简述2000~2013年莱芜市人口增长特点, 并分析原因。(7分)
- (2) 与2000年相比, 简述2010年莱芜市人口年龄结构的变化。(4分)
- (3) “全面二孩”政策的实施, 对莱芜市人口数量和人口年龄结构有何影响?(5分)

①考生要写清校名、姓名和班级(或准考证号)
②不读题、不答题、监考人不解答问题
③用钢笔或签字笔答题,字迹要清楚,卷面要整洁

县(区) 乡 年级 班级
姓名 学校

第二章测试卷 A 卷

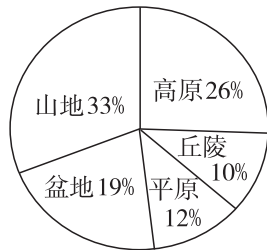
地理 八年级上册(湘教版)

时间:60分钟 满分:100分

题号	一	二	总分
得分			

一、选择题(每小题2分,共40分)

1.(2016·山东菏泽校级模拟)读我国五种地形类型占全国陆地面积的比重图(见右图)可知,我国 ()



- A.地形以平原、丘陵为主
B.山区面积最多,占陆地面积的43%
C.地形复杂多样,山区面积广大
D.地势西高东低,呈三级阶梯状分布

2.(2015·山东泰安模拟)关于我国地形、地势的叙述,正确的是 ()

- A.地势西高东低,不利于中西部地区形成降水
B.我国山区面积广大,各种资源丰富,为种植业的发展提供了有利条件
C.地势阶梯分界附近,河流水位落差大,水能资源丰富
D.我国地形复杂多样,类型齐全,以平原为主

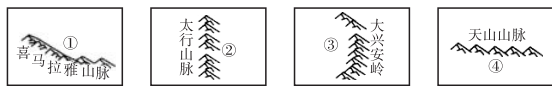
3.我国秦岭山脉的大致走向是 ()

- A.东西走向 B.南北走向 C.东北—西南走向 D.西北—东南走向

4.高大山脉往往是地形区的分界线,如太行山脉东西两侧就分别是 ()

- A.华北平原和黄土高原 B.东北平原和内蒙古高原
C.塔里木盆地与准噶尔盆地 D.华北平原与长江中下游平原

5.(2016·四川南充校级期中)图中代号对应的地形区正确的是 ()



- A.①为青藏高原 B.②为东北平原 C.③为黄土高原 D.④为准噶尔盆地

6.(2015·安徽模拟)既是我国第一、二级阶梯的分界线,又是东西走向的山脉是 ()

- A.祁连山 B.秦岭 C.昆仑山 D.横断山

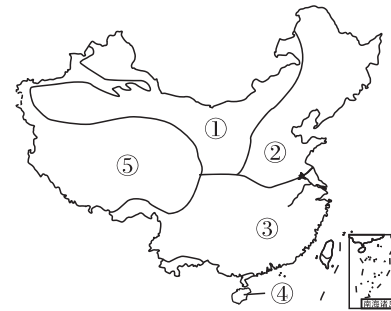
7.(2015·安徽模拟)下列有关我国冬、夏季气温的说法,正确的是 ()

- A.漠河县是我国冬、夏季气温最低的地方
B.冬季气温最高的地方是吐鲁番

C.影响我国冬季气温分布的主要因素是地形

D.夏季气温最低的地方是青藏高原

(2015·重庆垫江)下图为我国主要气候类型分布,读图回答8~9题。



8.图示气候区,雨水、热量条件配合好,气候条件相对较好的是 ()

- A.① B.② C.③ D.⑤

9.图示气候区属温带季风气候的是 ()

- A.① B.② C.③ D.④

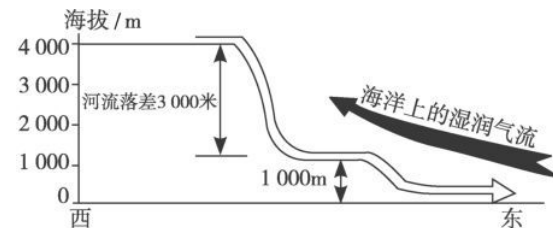
10.(2016·云南模拟)“春城”昆明所属的气候类型是 ()

- A.热带季风气候 B.亚热带季风气候 C.温带季风气候 D.温带大陆性气候

11.我国气候复杂多样,主要原因是 ()

- ①地域辽阔,跨多种温度带和干湿地区 ②河流、湖泊众多 ③地形复杂多样,地势高低悬殊 ④各类土地资源齐全
A.①② B.②③ C.③④ D.①③

12.(2015·山东滨州)读“中国地形剖面”图,下列说法不正确的是 ()



中国地形剖面图

A.利于海上湿润气流深入内陆,带来充沛降水

B.使许多大江大河滚滚东流,沟通了东西交通

C.西高东低的地势特点有利于发展内河航运

D.河流在阶梯交界处蕴藏了巨大的水能资源

13.我国的河流大部分流入太平洋,其主要原因是 ()

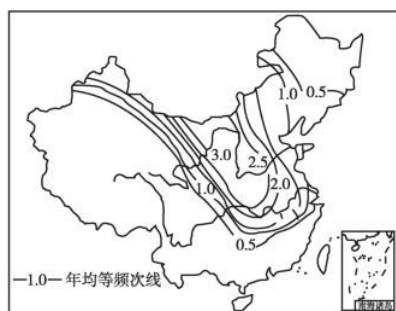
- A.受山脉分布的影响 B.历史原因的影响
C.季风气候的影响 D.受地势西高东低的影响

14.(2015·黑龙江虎林校级二模)关于河流水文特征的叙述,正确的是 ()

- A.黄河是我国结冰期最长的河流 B.黑龙江是我国含沙量最大的河流
C.长江是我国汛期最长、水量最大的河流 D.塔里木河是我国最大的内流河

15. 暑假,小周从兰州坐火车到拉萨。途中,他看见一个湖泊的四周高山环抱,水色青绿,湖畔绿茵如毡,野花竞开,羊群如云。他看到的湖泊是 ()
 A. 青海湖 B. 鄱阳湖 C. 洞庭湖 D. 太湖
16. (2015·湖南模拟)黄河水“一碗水,半碗泥”。一位外国友人说:“黄河流走的不是泥沙,而是中华民族的血液。不是微血管出血,而是主动脉破裂。”黄河泥沙含量高的根本原因是 ()
 A. 上游地区气候干旱 B. 中游水土流失严重
 C. 下游是“地上河”,河床地势高 D. 水利工程建设的设计不当
17. 下列现象中,不属于自然灾害的是 ()
 A. 干旱 B. 泥石流 C. 工厂废水污染水源 D. 地震
18. 我国东部沿海地区发生的旱涝灾害,多与_____的进退规律反常有关。 ()
 A. 东北风 B. 西北风 C. 夏季风 D. 冬季风


(2015·山东青岛)读“我国某气象灾害平均每年出现次数的分布图”,完成19~20题。



19. 图中反映的自然灾害是 ()
 A. 干旱 B. 台风 C. 洪涝 D. 寒潮
20. 该气象灾害在下列地区平均每年出现次数最多的是 ()
 A. 云贵高原 B. 四川盆地 C. 内蒙古高原 D. 东北平原

二、综合题(共60分)

21. 读我国沿北纬32°地形剖面图,完成下列问题。(每空1分,共18分)



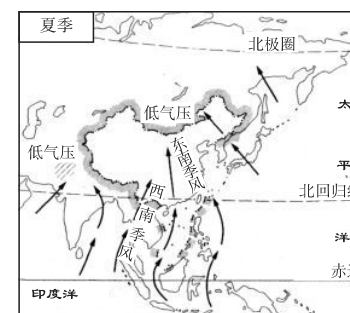
- (1) 写出字母表示的地形区名称:A. _____ 高原;B. _____ 盆地;C. _____ 平原。
- (2) 图中A属于我国地势的第_____级阶梯,平均海拔_____米以上,主要地形区是_____ ;B属于第二级阶梯,平均海拔_____米,主要地形类型是_____ 和_____ ;C属于第_____级阶梯,平均海拔在_____米以下,主要地形类型是_____ 和_____ 。
- (3) 该图反映了我国地势的特点是_____。
- (4) 写出该地势特点对气候和河流的影响。

对气候:有利于海洋上的湿润气流深入内陆,形成_____。

对河流:使许多大河滚滚东流,沟通了_____水路交通,方便了沿海和_____的经济联系;河流流经阶梯交界处时,落差大,多急流瀑布,_____丰富。

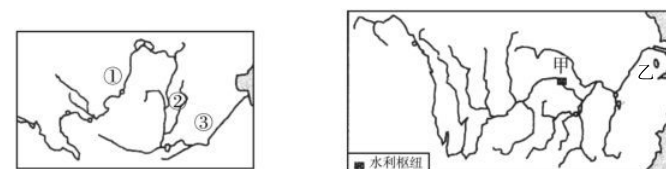
22. 读图,回答问题。(每空2分,共16分)

- (1) 夏季,我国盛行的偏_____ (南或北)风,主要来自东面的_____ 洋和南面的_____ 洋,气流特点是_____ (寒冷干燥或温暖湿润)。
- (2) 受季风的影响,我国降水的时空分布不均匀。我国东部地区的降水主要集中在_____ 季;年降水量空间分布的总趋势是_____。夏季风活动不稳定,容易导致_____ 灾害。
- (3) 季风气候对我国农业的有利影响是_____。



我国夏季风示意图

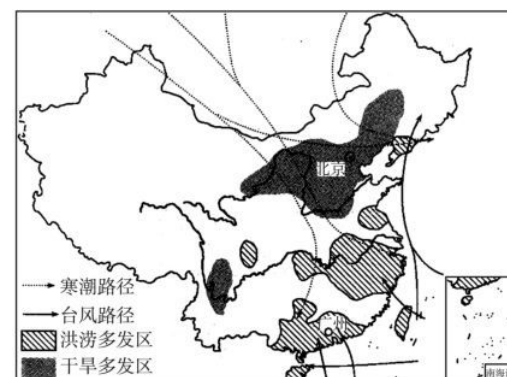
23. 读我国两大河流示意图,回答下列问题。(14分)



黄河 长江

- (1) 黄河和长江都发源于_____高原,两河的水能资源丰富,主要集中在_____ (填“上”“中”或“下”)游河段。甲是世界上最大的水利枢纽工程——_____。(6分)
- (2) 黄河①②③河段中,“地上河”景观出现在_____ (填代码)河段,主要原因是中游流经_____ (地形区),水土流失现象严重。(4分)
- (3) 长江三角洲区域的核心城市乙是_____ (城市),简称_____。(2分)
- (4) 目前正在兴建的_____工程,是把长江流域富余的水调入缺水的华北、西北地区。(2分)

24. 读图,回答问题。(每空2分,共12分)



- (1) 我国常见的气象灾害主要有_____ (洪涝或地震)、干旱、台风和寒潮等。
- (2) 我国的干旱灾害主要分布在_____ (华北或西北)地区。
- (3) 我国的洪涝灾害主要分布在秦岭—淮河一线以_____ (南或北)的地区。
- (4) 我国的台风灾害主要分布在_____ (西北内陆或东南沿海)地区。
- (5) 影响我国的寒潮主要来自_____ (北方大陆或南部海洋)与冰雪洋面。
- (6) 当地震发生时,如果条件允许,应及时、有序地撤到安全的空旷地带;如果不能及时撤离,可以暂时躲在_____ (小开间或大开间)的墙角。

第二章测试卷 B 卷

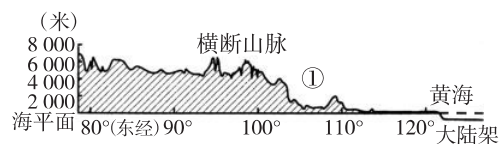
地理 八年级上册(湘教版)

时间:60分钟 满分:100分

题号	一	二	总分
得分			

一、选择题(每小题2分,共40分)

(2015·湖南永州)读“沿32°N纬线中国地形剖面图”,完成1~2题。



- 1.我国地势的特征是 ()
 A.东高西低,呈阶梯状分布
 B.西高东低,呈阶梯状分布
 C.中部高,四周低
 D.东、西高,中部低
- 2.①代表的地形区是 ()
 A.青藏高原
 B.四川盆地
 C.长江中下游平原
 D.黄土高原
- 3.下图中,能正确表示我国地形分布的是 ()
- A

B

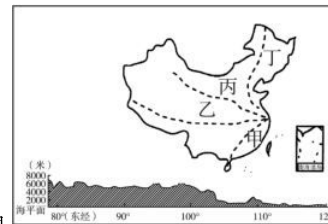
C

D
- 4.天山山脉的走向是 ()
 A.东西走向
 B.南北走向
 C.东北—西南走向
 D.西北—东南走向
- 5.(2015·上海)下列高原中,地表形态可以用“千沟万壑”来描述的是 ()
 A.青藏高原
 B.云贵高原
 C.黄土高原
 D.内蒙古高原
- 6.塔里木河是我国最长的内流河,其河水补给来源和汛期出现的季节分别是 ()
 A.雨水 夏季
 B.雨水 冬季
 C.冰雪融水 夏季
 D.冰雪融水 冬季
- 7.(2015·山东烟台龙口校级模拟)我国在同一时期,引进了世界上的热带、亚热带、温带、亚寒带的多种动植物。你认为在下列哪一地区可以找到它们都适合生长的地方 ()
 A.天山地区
 B.大兴安岭地区
 C.横断山地区
 D.武夷山地区

- 8.我国地形、地势总的特点是 ()
 ①地势西高东低 ②河流、湖泊众多 ③呈阶梯状分布 ④森林覆盖面积大 ⑤地形类型多样 ⑥山区面积广大

A.①③⑤⑥ B.①②③④ C.②③④⑥ D.①②④⑤

- 9.家住南京的王小小利用暑期游览祖国的大好河山,他设计了甲、乙、丙、丁四条游览路线(见右图)。四条游览路线中,与图中的地形剖面图相符的是 ()

A.甲 B.乙
C.丙 D.丁

- 10.(2015·福建模拟)下列叙述中,能正确反映我国的气候特征的是 ()

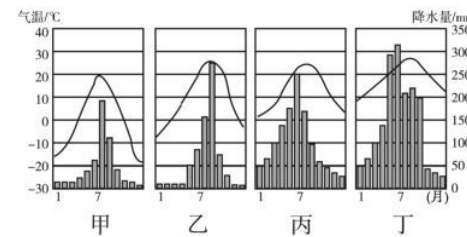
A.气候复杂多样,海洋性气候显著
B.气候复杂多样,季风气候显著
C.气候复杂多样,多气象灾害
D.气候复杂多样,干旱面积广大

- 11.(2015·福建泉州)元宵节期间,哈尔滨冰天雪地,与泉州气温差异很大,主要影响因素是 ()

A.纬度因素 B.海陆因素
C.地形因素 D.人为因素

根据我国东部四个城市的气温变化曲线和降水柱

状图,完成12~13题。



- 12.下列哪句话是描述四个城市共同气候特征的 ()

A.降水的季节变化小 B.终年高温多雨
C.雨热同期 D.气温年较差小

- 13.图中四个城市的纬度从高到低依次是 ()

A.甲、乙、丙、丁 B.乙、甲、丙、丁
C.丙、甲、乙、丁 D.丁、丙、乙、甲

- 14.(2015·福建泉州)我国许多大河滚滚东流,既沟通了东西交通,又产生巨大的水能,其原因是 ()

A.地形复杂多样 B.地势西高东低,呈阶梯状分布
C.山区面积广大 D.山脉纵横交错,大致呈网状分布

- 15.(2015·山东枣庄峰城模拟)我国的内流河大多分布在 ()

A.东南部地区 B.西北部地区
C.东北部地区 D.西南部地区

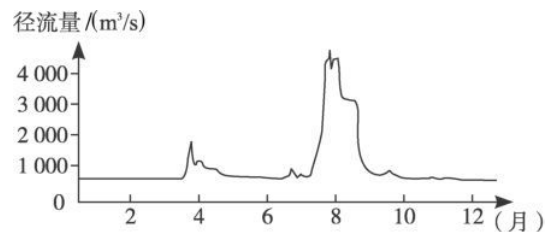
- 16.(2015·甘肃武威)我国气候类型复杂多样。下列气候类型中,在我国没有分布的是 ()

A.温带海洋性气候 B.热带季风气候
C.温带大陆性气候 D.亚热带季风气候

(2015·四川乐山)春季,河流流量显著增大的现象称为春汛,河流出现春汛的原因是多样的。读“哈尔滨气候资料表”(此数据亦可代表我国东北地区整体气候特征)和“松花江哈尔滨水文站流量年变化曲线图”,回答17~19题。

哈尔滨气候资料表:

月份	1	2	3	4	5	6	7	8	9	10	11	12
气温/°C	-17	-11.6	-2	5.9	14	17.7	20.2	20.5	15.5	6.6	-5.4	-14.5
降水/mm	3.8	5.5	7.4	29	49.6	84.4	104.3	134.4	56.7	22.7	13.8	5.7

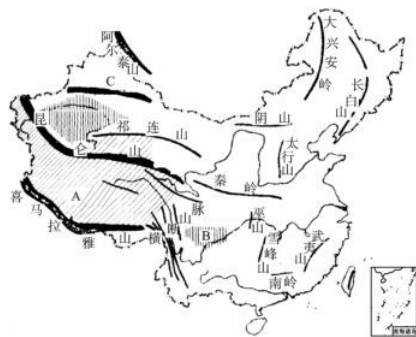


松花江哈尔滨水文站径流量年变化曲线图

17. 哈尔滨气温的最低月份和降水最多的月份分别是()
 A. 1月、7月 B. 1月、8月 C. 8月、1月 D. 2月、8月
18. 根据图中信息, 下列关于哈尔滨附近的松花江水文特征的分析, 正确的是()
 A. 流量最大的季节与区域多雨期基本一致 B. 冬季无结冰现象
 C. 流量的季节变化不明显 D. 冬季出现了断流现象
19. 图中显示松花江出现了明显的春汛, 其原因最可能是()
 A. 人工水库将冬季充沛的降水进行拦蓄, 在5月初开闸放水
 B. 春耕未开始, 农业用水量少
 C. 3月末雨季到来, 大量降水补给河流
 D. 冬季及初春固态降水(雪)因气温低于0°C而长期累积, 在3月末4月初融化
20. (2015·广东梅州) 有关长江中下游平原自然环境特征的叙述, 不正确的是()
 A. 为亚热带季风气候, 夏季炎热多雨, 冬季寒冷干燥
 B. 为湿润区, 年降水量在800 mm以上
 C. 江阔水深, 河网密布, 内河航运发达
 D. 湖泊众多, 淡水渔业发达

二、综合题(共60分)

21. 读中国主要山脉分布示意图, 回答下列问题。(每空2分, 共14分)

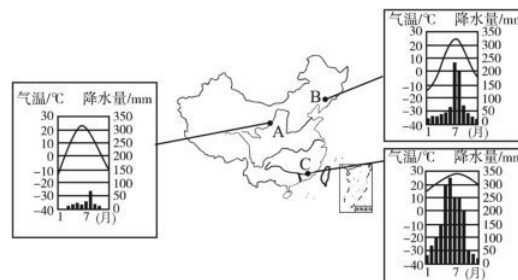


- (1) 写出图中字母所代表的地理事物名称。
 A是_____高原, B是_____盆地,
 C是_____山脉。
- (2) 我国“大兴安岭—太行山—巫山—雪峰山”一线以东地区, 地形基本上以低山丘陵和_____为主。
- (3) “_____山—祁连山—_____山脉”一线是我国

地势第一级阶梯与第二级阶梯的分界线。

(4) 我国长江、黄河等大江大河大多自西向东流, 这主要是由我国地势_____的特征所决定的。

22. 根据我国部分省级行政中心城市的位置及其气候资料, 探究下列问题。(20分)



- (1) 图中三个省级行政中心城市中, A是_____市, B是_____市, C是_____市。(6分)
- (2) 在我国各干湿区中, A市地处_____区, C市地处_____区; 在我国各温度带中, B市地处_____带。(6分)
- (3) 以上三个城市的降水状况, 反映了我国各地区年降水量的多少差异很大, 总体分布规律是_____。(4分)
- (4) 从气候条件考虑, A、B、C三市所在的地区中, 最适宜种植水稻的是_____市所在地区, 请说明理由。(4分)

23. 读图和有关材料, 回答下列问题。(每空2分, 共26分)



7月份以来, 我国南方大部分地区高温少雨, 湖南、江西、浙江、安徽等地出现不同程度的秋旱。秋旱导致上述地区的江河、水库、湖泊蓄水比常年同期明显偏少, 影响了水上航运、水力发电、生活用水及农业生产。

- (1) 受灾地区主要位于秦岭—B_____河一线以南地区, 主要属于_____ (温度带) 和 _____ (干湿区)。
- (2) C、D、E、F为此次受旱灾较严重的省区, 其中C是_____省, D是_____省, E省的行政中心是_____, F省的简称是_____。
- (3) E省地处_____平原, 该平原成为“鱼米之乡”, 主要是受惠于_____气候 (气候类型) 的影响。该气候的主要特征是夏季_____, 冬季_____。
- (4) 干旱给当地人们的生产、生活带来的严重影响有: _____、_____。(举2例即可)

期中基础测评卷

地理 八年级上册(湘教版)

时间:60分钟 满分:100分

题号	一	二	总分
得分			

一、选择题(每小题2分,共40分)

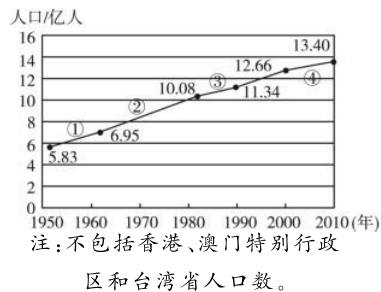
- 1.(2015·湖南常德)《乔家大院》是一部反映晋商闯天下的电视剧,乔家大院的故事发生在下图中的___省。()



- A.① B.② C.③ D.④

右图为我国六次人口普查统计图。读图,完成2~3题。

- 2.图中反映出我国人口增长速度最快的时段是 ()
 A.①段 B.②段
 C.③段 D.④段
- 3.图中反映出目前我国的人口现状是 ()
 A.人口增长速度过快 B.老年人口比重大
 C.人口数量多 D.劳动力素质较低



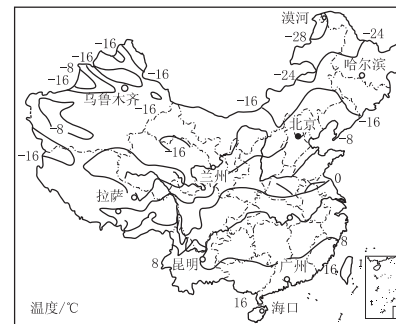
- 4.十八届三中全会后,全国各地陆续开放实施“单独二胎”政策(即夫妻双方一人为独生子女,第一胎非多胞胎,可生二胎)。在我国当前的人口现状下,提出并实施这一政策,不是因为 ()
 A.人口分布不均衡 B.人口老龄化现象严重
 C.社会养老负担重 D.青壮年劳动力不足
- 5.我国的少数民族主要分布在 ()
 A.东部和西部 B.东部和中部 C.西南、西北和东北 D.中部和西南
- 6.我国幅员辽阔,地域差异大,是一个团结统一的多民族大家庭。根据所学知识判断,下列叙述正确的是 ()
 ①我国陆地面积为960万千米² ②陆上邻国15个,隔海相望的国家有6个 ③领土的最东端在黑龙江与乌苏里江主航道中心线的交汇处 ④海岸线长18 000多千米,陆界线长22 000

多千米 ⑤我国有56个民族,人口最多的是汉族 ⑥我国南北跨近50个纬度,大部分在北温带,小部分在热带

- A.①②⑤⑥ B.②④⑤⑥ C.①③⑤⑥ D.②③④⑤
- 7.(2015·湖北黄石)山脉是地形的骨架,也是重要的地理分界线。横断山脉东、西两侧的地形区分别是 ()
 A.华北平原、黄土高原 B.长江中下游平原、四川盆地
 C.云贵高原、青藏高原 D.东北平原、内蒙古高原
- 8.我国地势的特征是 ()
 A.东高西低 B.西高东低 C.中部高,四周低 D.南高北低
- 古代描写我国河流的诗句很多,其中苏轼的《念奴娇·赤壁怀古》中的“大江东去,浪淘尽,千古风流人物”,就是描写长江的。据此回答9~10题。
- 9.导致长江这种流向的原因是 ()
 A.气候类型多样,降水总量丰富 B.地形多种多样,山区面积小
 C.地势西高东低,呈阶梯状分布 D.地势南高北低,呈阶梯状分布
- 10.关于我国河流的叙述,不正确的是 ()
 A.我国外流河的水文特征深受季风气候的影响
 B.内流河大部分属于季节性河流
 C.黄河是我国第二大河
 D.长江是我国长度最长、水量最大、流域面积最广的河流

(2015·山东临沂)读“中国1月平均气温分布”图,完成11~12题。

- 11.我国1月份平均气温的分布特点是 ()
 A.普遍高温 B.普遍低温
 C.西高东低,气温差异大 D.南高北低,气温差异大
- 12.影响我1月份气温分布的主要因素是 ()
 A.纬度位置 B.海陆位置
 C.地形 D.人类活动

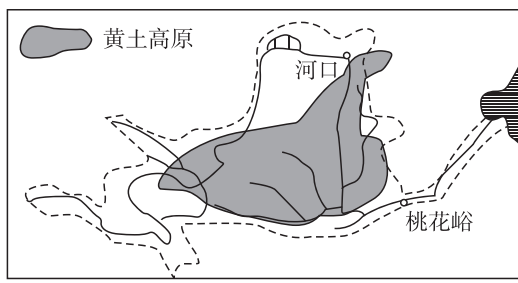


- 13.(2015·湖南株洲)我国内流区域面积广大,内流河年径流总量不足全国的5%。关于我国内流河的叙述,错误的是 ()
 A.汛期出现在冬季 B.多为季节性河流
 C.水源主要来自高山冰雪融水 D.通常情况下,水量随夏季气温增高而增加
- 14.(2015·山东聊城)我国黄河、海河、淮河流域用水十分紧张,其主要原因是 ()
 A.不重视修建水库蓄水 B.流域面积小,河流稀少
 C.耕地面积较大,且人口稠密,工业发达,需水量大,但水资源不足
 D.水资源浪费严重,人们的节水意识淡薄

- 15.关于长江各河段地理特征的叙述,正确的是 ()
- A.上游河道弯曲,号称“九曲回肠” B.中游水能丰富,被誉为“水能宝库”
- C.中下游河湖密布,是著名的“鱼米之乡” D.各河段江阔水深,被称为“黄金水道”

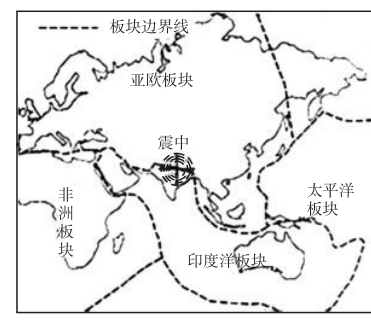
(2015·福建福州)读下图,回答16~18题。

- 16.黄河自西向东注入 ()
- A.渤海 B.黄海
- C.东海 D.南海
- 17.黄河的大量泥沙主要来自 ()
- A.源头 B.上游
- C.中游 D.下游
- 18.近年来,黄河含沙量减少的主要原因是 ()
- ①修渠灌溉 ②植树种草 ③加固堤坝 ④小浪底等水利工程调控作用
- A.①② B.③④ C.①③ D.②④



(2015·山东临沂)2015年4月25日14时,位于喜马拉雅山区的尼泊尔(28.2°N,84.7°E)发生8.1级地震,强震使交通受阻,珠峰登山队员出现伤亡,并被迫撤离。结合下图,完成19~20题。

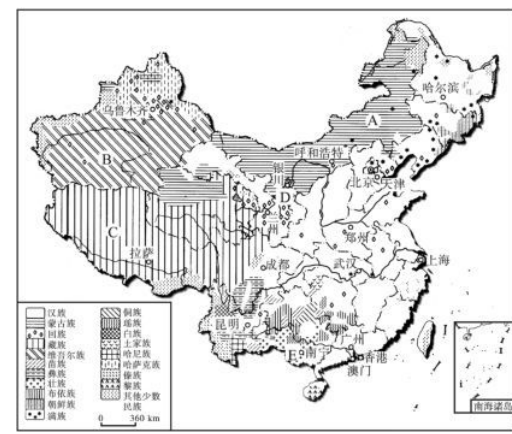
- 19.关于此次地震,下列说法正确的是 ()
- A.地震发生在亚欧板块内部
- B.地震发生在印度洋板块与亚欧板块交界处
- C.地震发生在印度洋板块内部
- D.地震发生在印度洋板块与非洲板块交界处
- 20.地震能诱发许多次生灾害,本次地震诱发的次生灾害主要有 ()
- ①雪崩 ②滑坡 ③暴雨 ④台风
- A.①② B.③④ C.①③ D.②④



二、综合题(共60分)

21.读中国民族分布图,回答下列问题。(20分)

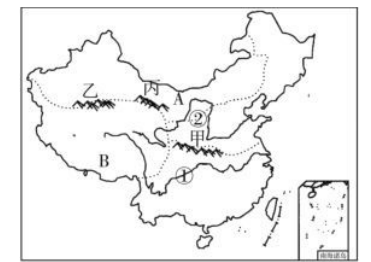
- (1)写出图中我国五个少数民族自治区的名称。(10分)
- A _____, B _____,
- C _____, D _____,
- E _____。
- (2)通过读图及完成第(1)题,你能说出我国五个自治区名称的来历吗?(1分)



- (3)满族主要分布在东北的 _____ 省、_____ 省、_____ 省;布依族主要分布在 _____ 省;朝鲜族主要分布在 _____ 省;哈萨克族主要分布在 _____ 自治区北部,该自治区人口最多的少数民族是 _____。(7分)
- (4)你能通过读上图总结一下我国民族分布的特点吗?(2分)

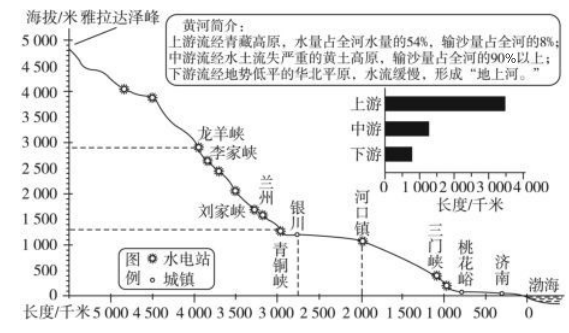
22.读图,回答问题。(每空2分,共14分)

海口市某中学地理兴趣小组的同学在进行中国地理差异的课题研究,这是他们在研究中提出的一些问题,你也来参与他们的研究吧。



- 贝贝:山脉构成中国地形的骨架,许多山脉是重要的地理分界线。甲山脉是 _____ 的分界线,乙、丙山脉是 _____ 的分界线。
- 玲玲:①河和②河均发源于 _____ 高原;被誉为“水能宝库”的是 _____ 河(填序号);有“地上河”之称的是 _____ 河(填序号),其泥沙主要来自 _____ 高原,治理“地上河”的关键是 _____ 河段的水土保持。

23.读黄河干流沿河纵剖面及各河段干流长度示意图,完成下列各题。(每空2分,共26分)



黄河干流沿河纵剖面及各河段干流长度示意图

- (1)黄河发源于 _____ 峰,注入 _____ 海。
- (2)据图判断:上游与中游的分界地点位于 _____,中游与下游的分界地点位于 _____。
- (3)黄河干流总落差约 _____ 米,其中龙羊峡至青铜峡河段的落差约 _____ 米。
- (4)黄河上游水力资源丰富,主要原因是① _____;② _____。
- (5)黄河是世界上含沙量最大的河流,其泥沙主要来源于 _____ (上游、中游或下游)河段。
- (6)黄河下游有“地上河”之称,其形成的主要原因是① _____;② _____。
- (7)“地上河”河床底部高出两岸地面数米,汛期来临时容易发生 _____ 灾害。治理黄河的关键是治理中游 _____ 严重的问题。

期中综合测评卷

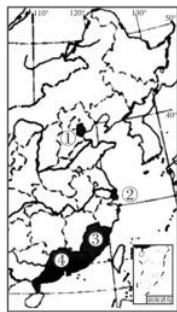
地理 八年级上册(湘教版)

时间:60分钟 满分:100分

题号	一	二	总分
得分			

一、选择题(每小题2分,共40分)

(2015·福建三明)继上海自贸区成立后,2015年4月21日,福建、广东、天津自贸区同时挂牌成立。图示为我国四大自贸区所在省级行政区域分布图。据此回答1~2题。



1. 福建自贸区位于图中的 ()
A. ① B. ② C. ③ D. ④
2. 位于④的自贸区,其地理位置的优势是 ()
A. 邻近台湾 B. 毗邻港澳 C. 靠近韩国 D. 位于长江入海口
3. 全国少数民族运动会,于2015年8月在内蒙古自治区鄂尔多斯市举行。若按民族人口数分配参赛名额,你认为参赛运动员人数最多的民族是 ()
A. 壮族 B. 汉族 C. 维吾尔族 D. 回族

4. 暑假期间,小明要去位于天山的吐鲁番盆地,看火焰山神奇的地貌,而小丽却想了解多姿多彩的少数民族风情。请帮助他们选择要去的省级行政区 ()
-
- A. ①③ B. ①② C. ②④ D. ③④

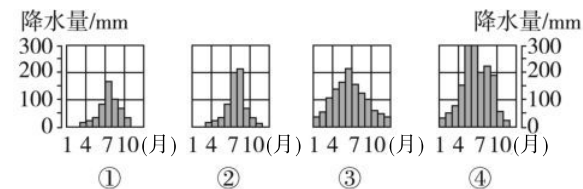
5. 下列所示的地形结构示意图中,黑色部分表示山区的比例,最符合我国的实际的是 ()
-
- A. B. C. D.

6. 分布在我国地势第二级阶梯的盆地有 ()
①塔里木盆地 ②准噶尔盆地 ③柴达木盆地 ④四川盆地
A. ①②③ B. ②③④ C. ①②④ D. ①②③④

7. (2015·甘肃武威校级模拟)下列关于我国人口与民族的叙述,错误的是 ()
A. 广东省是我国人口最多的省份
B. 少数民族主要分布在西南、西北、东北等边疆地区
C. 人口分布均匀,黑龙江的黑河至云南的腾冲是我国重要的人口分界线
D. 人口基数大,人口增长快

8. 有关我国温度带的叙述,说法正确的是 ()
A. 秦岭—淮河线以南全部是热带地区
B. 秦岭—淮河线以北全部是暖温带地区
C. 暖温带和寒温带之间,是中温带地区
D. 青藏高原地区属于寒温带

9. 若图中①②③④表示的城市是广州、武汉、北京和哈尔滨,则④是 ()
A. 武汉 B. 广州
C. 哈尔滨 D. 北京



10. (2015·山东滕州校级模拟)我国的地形特点是 ()
A. 地形多种多样,山区面积狭小
B. 地形多种多样,山区面积广大
C. 地形简单且单一,平原面积广大
D. 地形简单且单一,高原面积狭小

11. (2015·福建)我国气候的主要特征是 ()
①气候复杂多样 ②以热带气候为主 ③温带海洋性气候广布 ④季风气候显著
A. ①② B. ①③ C. ③④ D. ①④

12. 下列关于我国气候的叙述,不正确的是 ()
A. 我国季风气候最突出的优势是雨热同期
B. 夏季风进退规律失常容易发生水旱灾害
C. 我国的气候具有海洋性特征
D. 复杂多样的气候使动植物资源非常丰富

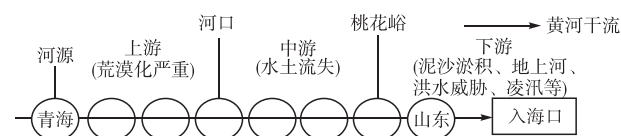
13. “山下百花山上雪,一月居然四季全”,形成这种地理现象的主要因素是 ()
A. 纬度因素 B. 地形因素
C. 人为因素 D. 海陆因素

14. (2015·山东泰安)诗歌和谚语往往蕴含着丰富的地理知识,对下列诗歌和谚语的解读不正确的是 ()

- A. “早穿皮袄午穿纱,围着火炉吃西瓜”反映了温带大陆性气候气温年较差大
B. “人间四月芳菲尽,山寺桃花始盛开”反映了山地气候的垂直变化
C. “夜来风雨声,花落知多少”描述的是天气的特征
D. “黄梅时节家家雨,青草池塘处处蛙”反映了长江中下游地区的梅雨天气

15. (2015·云南昆明)今年5月中下旬,我国南方连续遭遇强降雨天气,形成“南涝北旱”的现象。影响我国水旱灾害频繁的主要原因是 ()
A. 我国南北跨纬度广
B. 南方地形复杂多样
C. 夏季风强弱不稳定
D. 冬季风的势力强大

16. 下图是黄河干流各河段主要的生态和环境问题示意图, 据图判断, 下列叙述错误的是 ()

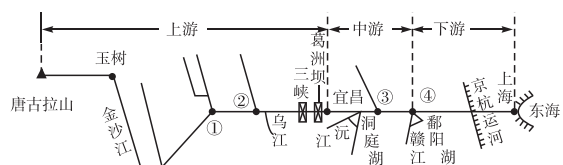


- A. 过度开发加剧了上游河段的荒漠化
- B. 中游应采取生物措施和工程措施相结合的综合治理方法
- C. 上、中游的生态问题是下游形成“地上河”的主要原因
- D. 泥沙淤积造成了黄河的凌汛

17. (2015·湖南株洲) 我国内流区域面积广大, 内流河年径流总量不足全国的 5%, 关于我国内流河的叙述错误的是 ()

- A. 汛期出现在冬季
- B. 多为季节性河流
- C. 水源主要来自高山冰雪融水
- D. 通常水量随夏季气温增高而增加

长江是我国最大的河流, 也是我国东西部交通的大动脉, 长江干支流蕴藏着丰富的水能资源。读长江干支流示意图, 回答 18~19 题。



18. 图中长江沿岸的港口城市 and 交汇支流, 对应正确的是 ()

- A. ①—宜宾—雅砻江
- B. ②—重庆—岷江
- C. ③—武汉—汉江
- D. ④—南京—湘江

19. 关于长江水文特征的叙述, 正确的是 ()

- A. 金沙江河段河谷平坦, 流速缓慢
- B. 宜昌以下流速锐减, 河道蜿蜒
- C. 长江流量稳定, 没有明显的季节变化
- D. 下游水量大, 水能资源蕴藏极为丰富

20. 下列有关黄河与长江共同特征的说法, 正确的是 ()

- ①均发源于青藏高原
 - ②均流入东海
 - ③都流经我国地势的三级阶梯
 - ④下游都出现“地上河”
 - ⑤水能都主要集中在上游地区
- A. ①②③
 - B. ②③⑤
 - C. ③④⑤
 - D. ①③⑤

二、综合题 (共 60 分)

21. 读图, 回答下列问题。 (每空 2 分, 共 20 分)

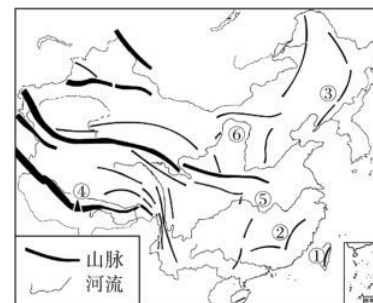
(1) 图中四个省区中, 位于我国地势第一级阶梯上的是 _____, 位于地势第二级阶梯上的是 _____, 位于地势第三级阶梯上的是 _____。 (填字母)



(2) 写出图中①②③代表的山脉名称: ① _____, ② _____, ③ _____。属于我国地势第一级与第二级阶梯分界线的是 _____ (填数码序号), 属于地势第二级与第三级阶梯分界线的是 _____ (填数码序号)。

(3) 图中四个省区中, 地形以高原为主的是 _____, 以平原和丘陵低山为主的是 _____。 (填字母)

22. 读我国主要山脉、河流分布图, 完成下列各题。 (每空 2 分, 共 18 分)

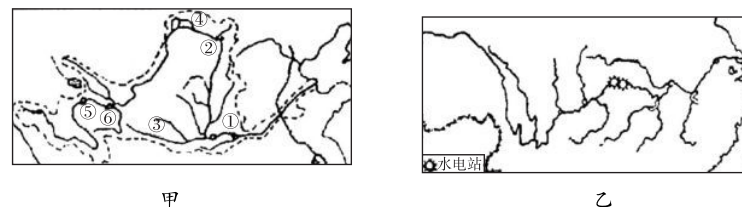


- (1) 图中①~③是我国主要的山脉, 请写出它们的名称: ① _____ 山脉; ② _____ 山脉; ③ _____ 山脉。
- (2) 图中④是世界最高峰—— _____ 峰, 它位于我国与 _____ (填国家名称) 的交界处。
- (3) 图中⑤⑥是我国的主要河流, 其中: ⑤是 _____, 它属于 _____ (内流或外流) 河; ⑥是 _____, 是世界上 _____ 最大的河流。

23. 阅读材料及黄河、长江流域图, 回答问题。 (22 分)

材料一: 长江发源于“世界屋脊”——青藏高原的唐古拉山脉各拉丹冬峰西南侧, 全长 6 300 余千米, 流域总面积 180 万千米², 约占全国总面积的 18.75%。流域水资源总量 9 616 亿立方米, 占全国总水量的 36%, 为黄河的 20 倍。

材料二: 黄河、长江流域图。



- (1) 写出甲图中地理事物的名称。 (6 分)
上、中、下游的分界点: ① _____, ② _____。
支流: ③ _____。
农业区: ④ _____ 平原。
水电站: ⑤ _____, ⑥ _____。

(2) 根据材料一, 用数据说明长江是中国第一大河。 (5 分)

(3) 两条河流在源头的分水岭是 _____。长江和黄河上游水能资源丰富, 主要是因为 _____。长江中游多支流, 河道弯曲, 存在的主要问题是 _____ 严重。黄河中游支流多, 落差大, 水能丰富, 中游地区存在的主要问题是 _____。 (5 分)

(4) 长江流域的耕地以 _____ 为主, 黄河流域的耕地以 _____ 为主。 (2 分)

- (5) (4 分) 长江下游江阔水深, 航运价值高, 长江有“ _____ ”之称。黄河下游泥沙淤积, 形成“ _____ 河”, 该河段的治理措施是 _____。此处河段治理的根本措施是 ()
- A. 加固黄河大堤
 - B. 在此处进行梯级开发
 - C. 在中游地区植树造林
 - D. 挖开河堤, 将其附近淹没

第三章测试卷 A 卷

地理 八年级上册(湘教版)

时间:60分钟 满分:100分

题号	一	二	总分
得分			

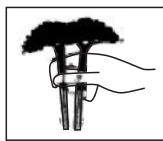
一、选择题(每小题2分,共40分)

- 1.(2015·湖南株洲)下列自然资源中,属于非可再生资源的是 ()
 A.森林资源 B.生物资源 C.矿产资源 D.水资源
- 2.下列自然资源中,属于能源矿产的是 ()
 ①石油 ②煤炭 ③水能 ④太阳能 ⑤铁矿
 A.①② B.③④ C.①②⑤ D.③④⑤
- 3.我国自然资源的基本特征是 ()
 A.总量小,人均占有量小 B.总量小,人均占有量大
 C.总量大,人均占有量大 D.总量大,人均占有量小


分析我国部分自然资源在世界上的位次表,完成4~5题。

项目	耕地面积	矿产资源	森林面积	水资源总量
总量在世界上的位次	第4位	第3位	第6位	第6位
人均量在世界上的位次	第67位	第80位	第121位	第88位

- 4.我国部分自然资源总量和人均量在世界上的位次有显著的差别,产生这种差别的原因主要是 ()
 A.我国的自然资源十分贫乏 B.我国的人口众多
 C.我国的自然资源十分丰富 D.我国人口的总量与自然资源的总量十分吻合
- 5.为了缩小这种位次差异,应采取的积极措施是 ()
 A.大量进口这些资源,以提高人均量
 B.加大对这些资源开采的力度,大幅度提高资源开采的总量
 C.实行计划生育,控制人口数量,提高人口素质
 D.顺其自然,这种差距会自然缩小
- 6.(2015·江苏模拟)漫画《手下留情》:“筷子一次性,树木难安宁。劝君手留情,护绿记心中。”这告诉我们的道理是 ()
 A.十分珍惜和合理利用每一寸土地 B.控制人口数量,提高人口素质
 C.我国自然资源总量丰富,人均不足 D.保护森林资源,爱护人类家园

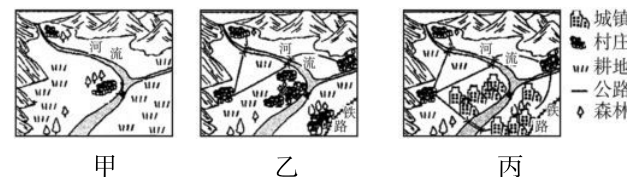


- 7.(2015·四川南充)图示漫画《自毁家园》,告诉我们的道理是 ()



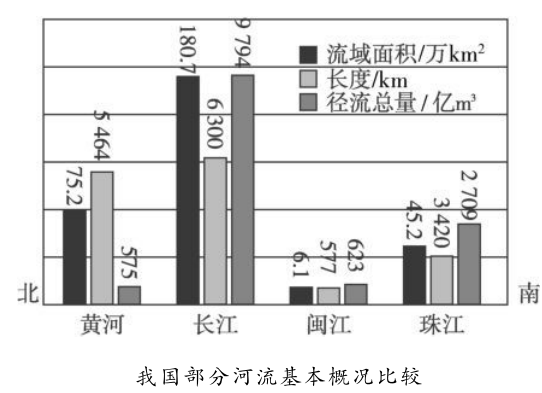
- A.靠山吃山 B.合理利用水资源
 C.砍树开荒,扩大耕地面积 D.保护森林资源,爱护人类家园
- 8.(2015·湖南株洲)我国各地区土地资源性质差别很大,因地制宜对土地进行多样化的开发利用是我们的基本原则。据此判断,下列地区主要土地利用类型搭配合理的是 ()
 A.内蒙古高原——林地 B.长江中下游平原——水田
 C.大兴安岭——草地 D.四川盆地——旱地
- 9.(2016·山东滨州模拟)下列关于我国土地资源的叙述不正确的是 ()
 A.后备土地资源不足,人均耕地矛盾突出 B.人均土地资源占有量少
 C.土地资源总量丰富,土地利用类型单一 D.各类土地所占比例不尽合理
- 10.对我国自然资源特征的叙述,正确的是 ()
 A.我国北方耕地多,且以旱地为主 B.我国可开垦为耕地的荒地很多
 C.人多地多是我国的基本国情 D.西北地区的土地类型以耕地为主
- 11.我国各地区中森林分布最少的是 ()
 A.东北地区 B.西南地区
 C.东南地区 D.西北地区

读下图,回答12~13题。



- 12.由甲到丙反映的该地区耕地逐渐减少的原因是 ()
 A.城镇建设挤占 B.水土流失严重
 C.风沙危害加剧 D.污染严重
- 13.解决该问题的措施合理的是 ()
 A.平整山地,增加建设用地
 B.控制人口增长,保护耕地
 C.毁林开荒,增加耕地面积
 D.迁出该地的人口,恢复耕地
- 14.“我的家乡是一望无际的平原,这里地势平坦,土地肥沃,是著名的粮仓”。这里描述的是何种土地类型 ()
 A.建设用地 B.耕地 C.林地 D.草地

(2015·福建泉州)读图,回答15~16题。



- 15.径流总量最小的是 ()
 A.珠江 B.闽江 C.长江 D.黄河
- 16.我国水资源分布状况是 ()
 A.分布均匀 B.北多南少 C.南多北少 D.西多东少
- 17.以下工程中,属于解决我国水资源地区分布不均的是 ()
 A.南水北调 B.西气东输 C.青藏铁路 D.西电东送

为了实现可持续发展,我国对水土资源进行了初步调查,得出下表中的资料。读表,回答18~19题。

占全国的百分比	南方地区	北方地区
水资源	80%	14.7%
人口	53.5%	44.4%
耕地	35.2%	59.2%

- 18.我国水资源和耕地分布的特点是 ()
 A.南方地多水少 B.南方地少水多 C.北方地多水多 D.北方地少水少
- 19.针对水土资源的配置情况,经过多年研究、论证、规划,我国正在实施的巨大工程是 ()
 A.长江三峡工程 B.淮河治理工程 C.南水北调工程 D.西气东输工程
- 20.(2015·广西贵港港南区模拟)我国有辽阔的海岸线,具有丰富的海洋资源。海洋资源的保护很重要。下列情况中,不会造成海洋污染的是 ()
 A.垃圾填海 B.油轮泄漏 C.生活污水排放 D.海水晒盐

二、综合题(共60分)
 21.读下表,回答下列问题。(28分)

项目	中国	世界	中国在世界位次
人均耕地	0.1公顷	0.36公顷	67位
人均林地	0.12公顷	0.9公顷	80位
人均草地	0.23公顷	0.76公顷	121位
人均河流径流量	2 600立方米	11 000立方米	88位

- (1)我国自然资源方面的基本特点是什么?(6分)
- (2)怎样对待我国人均资源不足的问题?(6分)
- (3)我们在报刊上经常读到有关我国自然资源存在危机的文章,这与我国被称为“资源大国”似乎有矛盾。你对此有何认识?(8分)
- (4)你在现实生活中是如何保护和节约各种资源的?(8分)

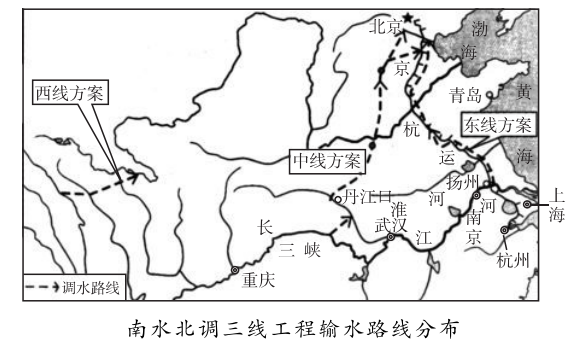
22.西部开发是我国实施的一项规模宏大的系统工程。读下面的图表,回答问题。(8分)



草地	38.23%
林地	17.7%
耕地	7.1%
其他	36.97%

- (1)(4分)西部地区各土地类型中,占比重最大的是_____。该土地类型有利于发展 ()
 A.畜牧业 B.林业 C.渔业 D.种植业
- (2)西部地区的年降水量自西向东逐渐_____。(2分)
- (3)西部地区一些地方生态环境十分脆弱,在开发利用中应注意_____的保护。(2分)

23.(2015·上海)南水北调工程是世界上规模最大的调水工程。读图,回答下列问题。(24分)



- 南水北调三线工程输水路线分布
- (1)(6分)南水北调中线和东线都到达_____平原。与我国南方地区相比,该地区缺水的气候原因是()
 A.降水集中在冬季,季节变化大 B.降水集中在夏季,年际变化小
 C.降水总量较小,年际变化大 D.降水总量较大,季节变化小
- (2)中线输水路线的水源地是_____,经过湖北省、_____省和_____省,最终抵达北京和天津;东线自南向北沟通了长江、淮河、_____和_____四大水系。(15分)
- (3)在我国地势的第_____级阶梯上正在规划修建西线工程,以补充黄河水资源不足,缓解我国西北地区干旱缺水问题。(3分)