



《新编单元练测卷》编写组 编

新编 单元 练测卷

有练 | 有测 | 实用 | 好用



历史

岳麓版
九年级上册



湖南教育出版社

图书在版编目(CIP)数据

新编单元练测卷. 历史九年级. 上册: 岳麓版/《新编单元练测卷》编写组编. —长沙: 湖南教育出版社, 2016. 8
ISBN 978-7-5539-4303-9

I. ①新… II. ①新… III. ①中学历史课—初中—习题集
IV. ①G634

中国版本图书馆 CIP 数据核字(2016)第 195061 号

XINBIAN DANYUAN LIANCEJUAN

新编单元练测卷

历史

九年级上册 岳麓版

《新编单元练测卷》编写组 编

责任编辑: 周 霞

封面设计: 游 麒

出版发行: 湖南教育出版社(长沙市韶山北路 443 号)

网 址: <http://www.hneph.com>

电子邮箱: hnjycbs@sina.com

微信服务号: 多点学习

客 服: 电话 0731-85486979

总 经 销: 湖南省新华书店

印刷装订: 怀化市百草园印务有限公司

开 本: 880 mm×1230 mm 1/8

字 数: 155 千字

印 张: 5

版 次: 2016 年 8 月第 1 版 2016 年 8 月第 1 版第 1 次印刷

书 号: ISBN 978-7-5539-4303-9

定 价: 12.00 元

(本书若有印刷、装订错误, 可向承印厂调换)



第一单元练习卷 (第1~3课)

(时间: 90分钟 满分: 100分)

一、选择题 (每小题2分, 共40分)

题号	1	2	3	4	5	6	7	8	9	10
选项										
题号	11	12	13	14	15	16	17	18	19	20
选项										

- 下列关于南方古猿的叙述, 不正确的是 ()
 - 大约生活在300多万年前
 - 是一种早期人类
 - 能够直立行走
 - 能制造和使用工具
- 从猿到人过渡阶段结束的标志是 ()
 - 使用工具
 - 人工制造工具的出现
 - 直立行走
 - 使用天然火
- 目前世界上的主要人种不包括 ()
 - 黄种人
 - 黑种人
 - 白种人
 - 棕色人
- 亚洲居住最多的人种是 ()
 - 黄种人
 - 黑种人
 - 白种人
 - 棕色人
- 人种划分的主要标准是 ()
 - 人种起源
 - 所在地域
 - 外貌特征
 - 身高体重
- 原始社会的一个小孩, 有时跟着母亲去采野果子, 有时在父亲面前撒娇。这种情形最有可能出现在下列哪一个时期? ()
 - 南方古猿生活的时期
 - 元谋人生活的时期
 - 母系氏族社会时期
 - 父系氏族社会时期
- 促使原始社会由母系氏族社会向父系氏族社会过渡的根本原因是 ()
 - 妇女在氏族中地位的变化
 - 生产力水平的提高
 - 婚姻关系的变化
 - 男子在氏族中地位的提高
- 大河流域以其独特的地理环境孕育了人类璀璨的文明。在尼罗河流域孕育的古代人类文明是 ()
 - 古印度文明
 - 古巴比伦文明
 - 古希腊文明
 - 古埃及文明
- 两河流域的“两河”是指 ()
 - ①印度河 ②底格里斯河 ③恒河 ④幼发拉底河
 - ①②
 - ③④
 - ②④
 - ①③
- 下列亚非四大文明古国中, 不属于亚洲的是 ()
 - 古代埃及
 - 古巴比伦
 - 古代印度
 - 古代中国

- 古巴比伦王国灭亡于 ()
 - 公元前18世纪
 - 公元前17世纪
 - 公元前16世纪
 - 公元前15世纪
- 古代印度有一户人家, 有自己的住房, 在城市开了一家店, 同时销售自己手工制作的衣服。你认为这户人家所属的等级是 ()
 - 婆罗门
 - 刹帝利
 - 吠舍
 - 首陀罗
- 文明古国古代埃及、古巴比伦、古代印度和中国兴起的共同原因之一是 ()
 - 交通便利, 适宜发展商业
 - 地处大河流域, 土地肥沃
 - 城市国家兴起较早
 - 长期军事远征
- 爱琴文明的两个中心是 ()
 - 迈锡尼、雅典
 - 迈锡尼、斯巴达
 - 雅典、克里特岛
 - 克里特岛、迈锡尼
- “如今有个趋势, 人们怀念她的民主制度, 并将其视为所有现代民主制度的源头。”这里的“她”应该是指 ()
 - 古代埃及
 - 古代印度
 - 古代雅典
 - 古代罗马
- 公元前5世纪后半期, 雅典的民主政治发展到奴隶制民主政治的最高峰。此时的执政者是 ()
 - 屋大维
 - 伯利克里
 - 亚历山大
 - 亚里士多德
- 《剑桥古代史》对古代雅典这样描述: “(雅典公民) 不仅可以享受阿提卡的橄榄油和葡萄酒, 而且可以食用黑海的谷物和干鱼……穿波斯的拖鞋, 睡爱尔兰的床铺……”这表明雅典 ()
 - 工商业发达
 - 物产丰富
 - 海上交通便利
 - 称霸地中海
- “常比较、多鉴别, 掌握历史更快捷。”如果将古代埃及文明和古希腊雅典文明做比较, 你会发现这两种文明有许多不同。下列对其不同点的归纳错误的是 ()
 - 地理环境不同, 埃及处于大河流域, 雅典地处海岛
 - 社会经济结构不同, 埃及以农业和畜牧业为主, 雅典以工商业和海外贸易为主
 - 政治体制不同, 埃及实行专制统治, 雅典实行奴隶制民主政治
 - 社会性质不同, 埃及处于奴隶社会, 雅典处于封建社会
- 为争夺地中海霸权, 曾与迦太基人进行三次布匿战争的是 ()
 - 古代罗马
 - 古代希腊
 - 古代埃及
 - 古代印度
- 罗马奴隶制共和国时期, 掌握实权的是 ()
 - 执政官
 - 元老院
 - 公民大会
 - 陪审法庭

二、判断题 (每小题2分, 共10分)

题号	21	22	23	24	25
正误					

- 历史上已知的第一部比较完备的成文法典产生于西亚两河流域。 ()
- 古埃及国王称为法老, 掌握国家的一切大权。 ()
- 希腊文明的中心是雅典, 雅典位于希腊东南沿海克里特岛上。 ()
- 古代埃及、古巴比伦、古代印度、中国被称为亚非四大文明古国的主要原因是这里是人类最早居住的地区。 ()
- 公元前3世纪中叶, 罗马称霸地中海地区。 ()

三、填空题 (每小题 2 分, 共 10 分)

26. 希腊神话中_____的故事, 是男子在社会生活中处于主导地位地反映。
 27. 约在公元前_____年, 埃及形成了统一的奴隶制国家, 都城在_____。
 28. 公元前 18 世纪, 古巴比伦国王_____建立了统一的奴隶制国家。
 29. 欧洲文明源于_____, _____文明则是它的早期文明。
 30. 公元前_____年, _____建立元首制, 独揽各项大权, 罗马从共和时代进入帝国时代。

四、识图题 (共 10 分)

31. 识读下图, 回答问题。



图一



图二

(1) 上面两图是什么国家的什么建筑? (4 分)

(2) 图二的用途是什么? (2 分) 该建筑的出现说明了什么? (4 分)

五、综合题 (共 30 分)

32. 以下是古代的一些法律条文:

倘彼交出奴或女奴以为债权, 则塔木卡 (商人) 可以继续将 [他或她] 转让, 可以将 [他或她] 出卖。

倘奴隶告其主人云“你非吾之主人”, 则此主人应证实其为自己的奴隶, 而后其主人得割其耳。

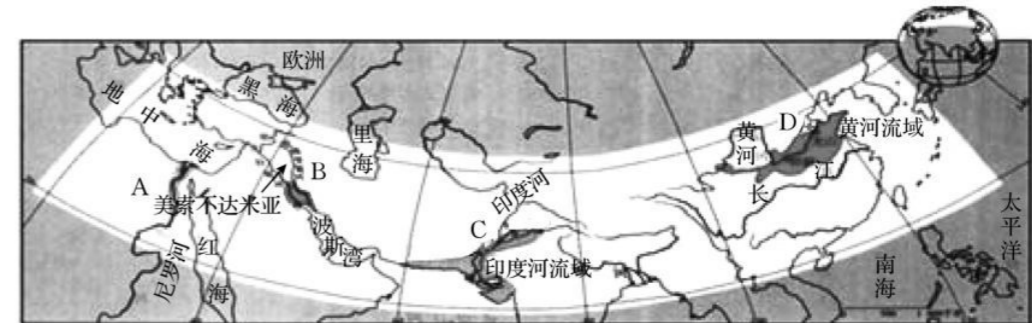
请回答:

(1) 这些条文出自哪个国家的哪部法典? (3 分) 这部法典是由谁制定的? (2 分)

(2) 他制定这部法典的目的是什么? (4 分) 这部法典的制定有什么历史意义? (3 分)

33. 阅读下列材料, 探究相关问题。

材料一 观察下图。



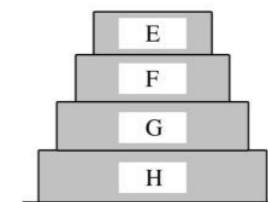
(1) 从左至右分别填出四大文明古国的名称。(4 分)

A: _____。 B: _____。 C: _____。 D: _____。

(2) 在图中 A、B、C 三个国家或地区分别有一项残酷压榨奴隶或维护奴隶主阶级利益的内容。想一想, 分别是什么? (3 分)

A: _____。 B: _____。 C: _____。

材料二



(3) 说说材料二中 E、F、G、H 分别属于种姓制度的哪个等级。(4 分)

(4) 由材料二可以看出, 种姓制度实际上是一种社会等级制度。相对于印度社会的不平等, 在古代世界你认为提倡民主与平等的国家是哪一个? (2 分)



第一单元练习卷 (第4~7课)



(时间: 90分钟 满分: 100分)

一、选择题 (每小题2分, 共40分)

题号	1	2	3	4	5	6	7	8	9	10
选项										
题号	11	12	13	14	15	16	17	18	19	20
选项										

- “大化改新”标志着日本 ()
A. 幕府统治的建立 B. 资本主义制度的建立
C. 由奴隶社会过渡到封建社会 D. 天皇制度的建立
 - 查理·马特建立采邑制是在 ()
A. 公元476年 B. 公元6世纪
C. 公元8世纪 D. 公元11世纪
 - 下列事件中与“丕平献土”无关的是 ()
A. 751年, 宫相“矮子”丕平为篡位, 与罗马教皇勾结
B. 丕平篡夺王位成功后, 为表感恩之情, 将大片土地赠送给教皇
C. 教皇以上帝的名义为丕平加冕
D. 教会完全垄断了对基督教经典《圣经》的解释权
 - 中古时期, 西欧城市的兴起不仅表现在经济上的繁荣, 更重要的还在于人民政治权利的获得, 富庶城市的居民要求当地领主允许他们自己管理本城市的事务。这里的“政治权利”是指 ()
A. 城市自治权 B. 人身自由权
C. 特许经营权 D. 男女平等权
 - 依据右边知识卡片所列内容, 判断该国家是 ()
A. 希腊 B. 马其顿
C. 波斯 D. 东罗马帝国
- 都城: 君士坦丁堡
建筑: 圣索菲亚大教堂
灭亡: 被奥斯曼土耳其所灭
- 16世纪中叶, 成为地跨亚、非、欧三洲的封建帝国的是 ()
A. 东罗马帝国 B. 西罗马帝国
C. 奥斯曼土耳其 D. 日本
 - 英国人富勒在《西洋世界军事史》中说: “随着这一战, 我们也就站在了西方世界的门槛上面, 在这个世界之内, 希腊人的智慧为后来的诸国, 奠定了立国的基础。”文中“这一战”发生在公元前5世纪早期, 它是东西两大古文明的碰撞, 在世界古代史上产生了重要的影响。请你判断, “这一战”是 ()
A. 希波战争 B. 布匿战争
C. 罗马内战 D. 十字军东征

- 古罗马人使用拉丁语。随着罗马的征服和扩张, 拉丁语不断向外传播, 逐渐成为罗马帝国境内被征服地区使用的官方语言。这说明了 ()
A. 罗马帝国的强大 B. 拉丁语产生的原因
C. 罗马扩张有利于文化的传播 D. 人们喜欢拉丁语, 因此积极学习
- 在古代有一个人, 他不出国就能游览整个地中海沿岸各地的风光。你认为他应该是生活在下列哪一个国家中? ()
A. 日本 B. 罗马帝国 C. 雅典 D. 古巴比伦
- 中世纪时, 对加强亚、非、欧三洲经济联系和文化交流起了巨大作用的是 ()
A. 各国政府使节 B. 阿拉伯人
C. 伊斯兰教传教者 D. 基督教会
- 世界文明是在不断冲撞和融合中向前发展的。把包括零在内的10个数字符号从东方传入西方的是 ()
A. 古代印度人 B. 古代阿拉伯人
C. 古代罗马人 D. 古代日本人
- 人类文明的发展是从分散隔绝走向整体融合的。以下属于人类文明的主要交往方式的有 ()
①专制集权 ②和平交往 ③暴力冲突 ④民主政治
A. ①② B. ②③ C. ①④ D. ③④
- 下列宗教中不属于世界三大宗教的是 ()
A. 基督教 B. 伊斯兰教 C. 佛教 D. 犹太教
- 下列有关佛教的叙述, 正确的是 ()
①创始人是释迦牟尼 ②主张众生平等 ③认为痛苦的根源在于人有欲望 ④在唐朝时传入中国
A. ①② B. ③④ C. ①②③ D. ①②③④
- 世界三大宗教中, 对中国影响最大, 其宗教建筑在中国最多的是 ()
A. 道教 B. 佛教 C. 基督教 D. 伊斯兰教
- 下列有关世界三大宗教的材料, 符合基督教教义的是 ()
A. 众生平等, 反对种姓制度 B. 上帝面前人人平等
C. 宇宙间唯一的神是“安拉” D. 世间万物的发展都有因果缘由
- 穆罕默德说: “他是真主, 是独一的主。”这句话应该出自 ()
A. 《荷马史诗》 B. 《圣经》 C. 《古兰经》 D. 《神曲》
- 下列关于楔形文字的叙述, 正确的是 ()
A. 由两河流域的苏美尔人创造 B. 通常被刻在庙墙、宗教纪念物和草纸上
C. 对以后的字母文字产生了重要影响 D. 由古代埃及人最早创造和使用
- 提出勾股定理的是 ()
A. 亚里士多德 B. 阿基米德 C. 荷马 D. 毕达哥拉斯
- 下列著名建筑中, 其建筑风格是哥特式的是 ()
A. 中国故宫 B. 麦加清真寺
C. 罗马圆形大剧场 D. 巴黎圣母院

二、判断题 (每小题2分, 共10分)

题号	21	22	23	24	25
正误					

- 欧洲封建等级制度形成的基础是采邑制。 ()
- 小军说: “阿拉伯数字的发明当然要归功于阿拉伯人了。” ()

得分: _____ 弥
学号: _____ 封
姓名: _____ 线
班级: _____


23. “丕平献土”奠定了罗马教皇国的基础。 ()
24. 公元前5世纪早期,以伊朗高原为中心的**马其顿帝国**为控制爱琴海地区出征罗马,挑起了布匿战争。 ()
25. 清真寺建筑是伊斯兰文化的代表。 ()

三、填空题 (每小题2分,共10分)

26. 希波战争后,希腊的雅典确立了在_____的霸权。
27. 公元前334年,马其顿王国国王_____开始了东征,一直打到_____,建立起地跨欧、亚、非三洲的大帝国,首都是_____。
28. 马可·波罗给人们留下了《_____》一书,丰富了人们对东方世界的想象,是_____开辟的原因之一。
29. 佛教教人忍耐顺从以求进入“_____”。
30. 要了解阿拉伯国家丰富的社会生活,可查阅根据阿拉伯民间故事汇集整理而成的故事集《_____》。

四、识图题 (共15分)

31. 识读下图,回答问题。



(1) 上面两图分别是哪个文明古国或地区的什么文字? (7分)

(2) 你能说出这两种文字有什么区别吗? (8分)

五、综合题 (共25分)

32. 日本在7世纪进行了一次改革,此次改革意义深远。请回答:
(1) 这次改革叫什么? (2分) 当时的天皇是谁? (2分)

(2) 这次改革对日本有什么影响? (4分) 对我国社会主义建设有什么启示? (2分)

33. 阅读下列材料,回答问题。

材料 基督教最早出现在罗马统治下的犹太下层群众中,它是受罗马统治的人民特别是犹太人民反抗罗马的群众运动的产物。早期基督教反对统治阶级的压迫剥削,吸引了大批下层群众,很快传遍罗马全境。罗马皇帝曾对基督教徒大肆镇压。后来,教会成员复杂化,逐渐被富人所控制;基督教宣扬的让人忍受苦难的教义也有利于皇帝的统治。基督教逐渐被统治阶级接受。

(1) 基督教最早出现于何地? (4分)

(2) 据材料分析基督教产生的主要原因。(4分)

(3) 早期的基督教与后来的基督教有什么区别? (7分)



第一单元测试卷

(时间: 90 分钟 满分: 100 分)

一、选择题 (每小题 2 分, 共 30 分)

题号	1	2	3	4	5	6	7	8
选项								
题号	9	10	11	12	13	14	15	
选项								

- 目前, 大多数人类学家认为, 人类是由古猿进化而来。大约 300 多万年前, 早期人类——南方古猿生活在 ()
A. 亚洲 B. 非洲 C. 美洲 D. 欧洲
- 根据人的外貌特征, 世界上的人类主要分为三大人种。形成人种差异的主要因素是 ()
A. 不同的自然地理环境 B. 不同的饮食习惯
C. 不同的心理素质 D. 不同的劳动方式
- 希腊神话中该亚的故事, 反映的是哪一时期的历史现象? ()
A. 母系氏族公社 B. 父系氏族公社
C. 奴隶社会 D. 封建社会
- 古埃及人称最高统治者为 ()
A. 天子 B. 皇帝
C. 国王 D. 法老
- 伊拉克战争造成了伊拉克古文明极大的破坏。这里的“古文明”主要是指 ()
A. 古埃及文明 B. 希伯来文明
C. 古巴比伦文明 D. 腓尼基文明
- 下列关于亚非四大文明古国的叙述, 不正确的是 ()
A. 埃及是“尼罗河的馈赠”
B. 历史上已知的第一部比较完备的成文法典诞生于古巴比伦王国
C. 印度的国王属于种姓制度中的第一等级
D. 距今约 170 万年的元谋人是我国境内已知最早人类
- 世界上任何一种文明都有它的渊源。西方文明之源是 ()
A. 古代希腊 B. 古代印度
C. 古巴比伦 D. 古代埃及
- 雅典的繁荣主要体现在 ()
①商业兴旺 ②手工业发达 ③文化繁荣 ④海上交通便利 ⑤称霸希腊 ⑥全体公民都能参加政治活动
A. ①②③④⑤⑥ B. ①②③④⑤
C. ①②③④⑥ D. ①②③④

- 他攫取了罗马国家的最高权力, 使罗马进入帝国时代, 并开始了长达约 200 年的“罗马和平”。他是 ()
A. 屋大维 B. 恺撒 C. 伯利克里 D. 亚历山大
- 公元 7 世纪中期, 在社会动荡的局面下, 日本统治阶级进行的改革是 ()
A. 查理·马特改革 B. 伯利克里改革
C. 改革开放 D. 大化改新
- 下列有关希波战争的表述, 不正确的是 ()
A. 开始于公元前 5 世纪
B. 波斯帝国取得了最终的胜利
C. 是由波斯帝国进行军事扩张引起的
D. 波斯帝国企图控制爱琴海地区
- 右图所示文化成就的发明者是古代 ()
A. 中国人 B. 印度人
C. 波斯人 D. 阿拉伯人
- 在圣诞节前夜, 传说会有圣诞老人专门为好孩子送上礼物。与该节日相关的宗教创始于 ()
A. 公元前 6 世纪 B. 公元前 3 世纪
C. 公元 1 世纪左右 D. 公元 7 世纪末
- 《古兰经》是哪一宗教的经典? ()
A. 佛教 B. 道教 C. 伊斯兰教 D. 犹太教
- 某校九年级开展“西方文明之源”主题探究活动。下列与此主题无关的是 ()
A. 《天方夜谭》 B. 比重原理和杠杆原理
C. 《俄狄浦斯王》 D. 雅典奴隶制民主政治



二、判断题 (每小题 2 分, 共 10 分)

题号	16	17	18	19	20
正误					

- 《马可·波罗游记》向西方展示了迷人的东方文明, 激起了欧洲人对东方世界的向往。 ()
- 622 年, 伊斯兰教的创始人穆罕默德在麦加建立了政教合一的神权国家。 ()
- 古代埃及、古代印度、古巴比伦和中国被称为亚非四大文明古国。 ()
- 公元前 3 世纪中期, 罗马经过 100 多年的战争, 打败了迦太基, 完全控制了地中海地区。 ()
- 16 世纪中叶, 奥斯曼土耳其成为地跨欧、亚、非三洲的奴隶制军事帝国。 ()

三、填空题 (每小题 2 分, 共 10 分)

- 随着生产的发展, 男子逐渐取代了妇女在生活中的主导地位, 形成了以_____为纽带的固定集团。
- 布匿战争的交战双方是罗马和_____。
- 雅典位于希腊东南沿海的_____上。公元前_____世纪末, 雅典成为著名的奴隶制城邦。
- 《_____》汇集了古希腊民间流传的一些寓言故事。
- 著名的_____和大马士革的_____集中表现了阿拉伯建筑艺术的特色。

得分: _____ 弥
学号: _____ 封
姓名: _____ 线
班级: _____

四、识图题 (共 15 分)

26. 识读下图, 回答问题。



图一



图二

注：图二是一根石柱的一部分，上面用楔形文字刻着一部法典。以下是法典中的一部分内容：
如果奴隶胆敢对主人说“你不是我的主人”，耳朵就要被割掉；如果理发师不经奴隶主许可，就把奴隶头上的奴隶标记剃掉，理发师的手就要被砍掉。

(1) 图一中的建筑是什么？它位于哪一流域？它是古代哪个文明古国的文明象征？(6分)

(2) 根据图二回答：

①这部法典出自哪个国家？它的名称是什么？它是由谁制定的？(5分)

②从这段文字中可以看出这部法典维护的是谁的利益？(2分)

③这部法典在世界法制史上有何地位？(2分)

五、综合题 (共 35 分)

27. 阅读下列材料, 回答问题。

材料 古代有一种人：①法律规定杀死或伤害不算犯罪。②他们在这个国家被当作“会说话的工具”。③一匹马加一束丝可买五个这种人。

(1) “这种人”是古代的什么人？(3分) 材料中对“这种人”的三种说法分别产生于古代哪个国家？(3分)

(2) “这种人”的共同处境怎样？(4分)

28. 阅读下列材料, 回答问题。

材料一 我爱我师，我更爱真理。

材料二 “知之为知之，不知为不知。”“三人行，必有我师焉。”

(1) 材料一是何时何人所言？他的主要成就是什么？(4分) 材料二是何时何人所言？他的突出贡献是什么？(4分)

(2) 这两位历史人物的思想给了我们怎样的启示？(2分)

29. 材料 亚历山大的东征，罗马帝国的扩张，阿拉伯帝国的征服……无疑是古代史上突破相互孤立隔绝的重大事件。但横贯亚欧大陆丝绸古道上的商队来往，联系太平洋西海岸、印度洋、地中海……诸海航路的船只航行，对传播生产技术、文化知识于古代世界各地也许是更为重要的。

——吴于廑、齐世荣《世界史·古代史编》总序

请根据材料, 结合所学知识回答：

(1) 材料中对古代的征战是如何评价的？你同意这个看法吗？为什么？(7分)

(2) 据所学分析，古代世界各地文化交流方式除了暴力冲突外，更主要的是依靠什么方式进行的？试举例说明。(4分)

(3) “以史为鉴，面向未来。”请根据你对古代文明交流方式的了解，说说现代文明交流中我们应持何种态度。(4分)



第二单元练习卷 (第8~9课)

(时间: 90分钟 满分: 100分)

一、选择题 (每小题2分, 共40分)

题号	1	2	3	4	5	6	7	8	9	10
选项										
题号	11	12	13	14	15	16	17	18	19	20
选项										

- 文艺复兴运动不仅体现了当时人们对人性回归的渴望, 还代表了哪个阶级反对封建统治、要求自由的愿望? ()
A. 奴隶主阶级 B. 封建统治阶级
C. 教会 D. 资产阶级
- 下列有关文艺复兴运动的评价, 不正确的是 ()
A. 是一场伟大的思想解放运动 B. 创造了灿烂的文化
C. 促进了资本主义的发展 D. 使一种混合着希腊和东方因素的文明诞生
- 文艺复兴伊始, 有一部文学作品谴责了教皇的专横跋扈, 揭露了教会的贪婪腐化, 歌颂了自由理想和求知的精神。这部作品是 ()
A. 《荷马史诗》 B. 《罗密欧与朱丽叶》
C. 《神曲》 D. 《哈姆雷特》
- 某校开展了一次文艺复兴艺术作品鉴赏活动。在活动现场, 同学们针对这些作品纷纷发表自己的观点, 你认为其中正确的是 ()
A. 甲说, “以神为本”是这些作品的特点 B. 乙说, 反映了奴隶制度的崩溃
C. 丙说, 体现了人文主义思潮 D. 丁说, 感受到了社会主义的曙光
- 右图是世界名画《蒙娜丽莎》(部分), 画中人物的神态恬静端庄, 她“神秘的微笑”给人以无限的遐想。该作品所体现的思想潮流是 ()
A. 理想主义 B. 自由主义
C. 人文主义 D. 社会主义
- 14—16世纪, 文艺复兴运动开启了资产阶级思想解放的闸门, 出现了许多体现人文主义精神的文艺作品。下列作品与作者搭配正确的是 ()
A. 《最后的晚餐》—莎士比亚 B. 《哈姆雷特》—达·芬奇
C. 《蒙娜丽莎》—伏尔泰 D. 《神曲》—但丁
- 文艺复兴和新航路开辟对近代社会所起的共同作用是 ()
A. 促进了近代自然科学的发展 B. 揭露和批判了教会的黑暗
C. 复兴了古典文化 D. 促进了欧洲资本主义的发展
- 欧洲人开辟新航路的主要原因是 ()
A. 印证地圆学说 B. 渴求黄金
C. 宣扬本国国威 D. 追求海上冒险



- 在研究历史的过程中, 由于立场不同, 对历史事件的解释往往也会产生差异。如果站在美洲土著人立场上对哥伦布及其发现美洲新大陆进行评价, 其观点最有可能是 ()
A. 英雄, 传播欧洲文明 B. 强盗, 带来深重灾难
C. 强盗, 促进了资本主义的发展 D. 英雄, 促进了文明的融合
- 在新航路开辟的过程中, 曾经横渡大西洋的航海家有 ()
①哥伦布 ②麦哲伦 ③达·伽马 ④迪亚士
A. ①② B. ①③ C. ②③ D. ③④
- “对于人类来说, 这是一个关系到世界历史重大转折的时刻。从此, 新旧大陆的隔绝状态被打破了。”这句话主要是针对哥伦布发现新大陆而言的。这里的“新旧大陆”分别指的是 ()
A. 亚洲、非洲 B. 欧洲、美洲
C. 美洲、欧洲 D. 欧洲、非洲
- 在新航路开辟的过程中, 成功开辟通往印度的航路的是 ()
A. 迪亚士 B. 达·伽马 C. 哥伦布 D. 麦哲伦
- 首先成功地开通了东西方之间最短海上线路的航海家是 ()
A. 迪亚士 B. 达·伽马 C. 哥伦布 D. 麦哲伦
- “许多其他沉重捐税仍继续违法征收, 有些甚至不合理到这种程度, 纳税的总数竟超过货物的价值。”可见英国资产阶级革命爆发的根本原因是 ()
A. 新航路开辟后, 欧洲商贸中心转移
B. 封建专制统治严重阻碍资本主义的发展
C. 1640年议会的重新召开
D. 苏格兰人民起义
- 英国资产阶级革命的导火线是 ()
A. 苏格兰人民起义 B. 新议会的召开
C. 查理一世宣布“讨伐”议会 D. 克伦威尔解散议会
- 1649年1月30日, 天气格外阴冷, 伦敦白金汉宫外广场, 凌晨就聚集了众多市民, 他们等待着一场断头的刑罚。受刑的就是被议会宣判为“暴君、杀人犯和国家公敌”的国王 ()
A. 查理一世 B. 詹姆士一世
C. 查理二世 D. 詹姆士二世
- 英国内战爆发后, 领导议会军打败国王军队的人物是 ()
A. 詹姆士一世 B. 查理一世
C. 查理二世 D. 克伦威尔
- 17世纪发生的英国资产阶级革命反映了世界历史发展的趋势。这一“趋势”主要指 ()
A. 资本主义社会取代封建社会
B. 君主立宪制取代君主专制
C. 无产阶级革命取代资产阶级革命
D. 社会主义社会取代资本主义社会
- 钱乘旦教授在论述英国资产阶级革命时说: “一个人的绝对权力阻碍了国家的发展, 不限制这种权力, 国家便无法进步。”该国限制“一个人的绝对权力”是通过颁布 ()
A. 《人权宣言》 B. 《独立宣言》
C. 《权利法案》 D. 1787年宪法
- 马克思认为英国资产阶级革命“宣告了欧洲新社会的政治制度”, “而且在更大得多的程度上反映了当时整个世界的要求”。下列有关这次革命的叙述错误的是 ()
A. 苏格兰人民起义是开始的标志 B. 克伦威尔领导了这次革命
C. 革命中成立了共和国 D. 确立了君主立宪制度

得分:

学号:

姓名:

班级:

二、判断题 (每小题 2 分, 共 10 分)

题号	21	22	23	24	25
正误					

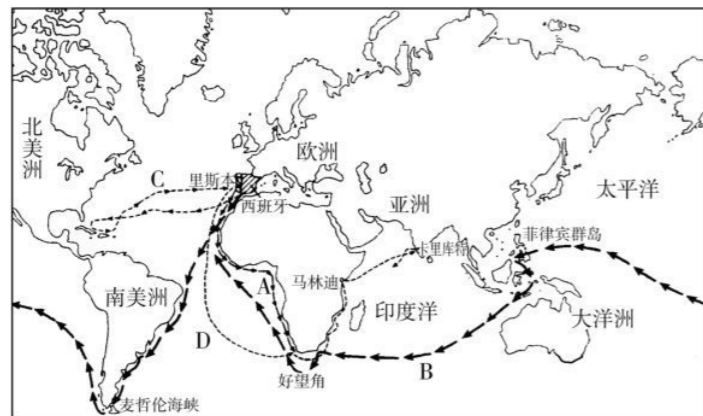
21. 14—15 世纪, 资本主义生产方式首先在英国萌生。 ()
22. 由于东西方之间的交通要道被奥斯曼土耳其帝国控制, 贸易受阻, 西欧人开始探寻通往东方的新航路。 ()
23. 资产阶级和新贵族是英国资产阶级革命的领导力量。 ()
24. 英国资产阶级革命废除了君主制度。 ()
25. 英国资产阶级革命对欧洲和北美产生了重要影响, 开辟了世界资产阶级革命的时代。 ()

三、填空题 (每小题 2 分, 共 10 分)

26. 诗人_____是文艺复兴的先驱。
27. _____提出的“太阳中心说”, 奠定了近代天文学的基础。
28. 新航路开辟后, 美洲特产的_____, _____、可可等迅速传到亚、非、欧。
29. _____运动为英国资本主义发展提供了原料和_____。
30. “_____”标志着英国资产阶级革命的完成。

四、识图题 (共 15 分)

31. 读图, 回答下列问题。



- (1) 图中 A、B、C、D 是指新航路开辟过程中四位航海家的航行路线, 请将 A、B、C、D 填在下面的横线上。(12 分)
- 哥伦布的航行路线是_____; 麦哲伦的航行路线是_____;
- 达·伽马的航行路线是_____; 迪亚士的航行路线是_____。
- (2) 新航路的开辟是人类航海史上的壮举, 在此之前的另一人类航海史上的壮举是什么? (3 分)

五、综合题 (共 25 分)

32. 阅读下列材料, 回答问题。

材料一 (1) 凡未经议会同意, 以国王权威停止法律或停止法律实施之僭越权力, 为非法权力。……

(4) 凡未经议会准许, 借口国王特权, 为国王而征收, 或供国王使用而征收金钱, 超出议会准许之时限或方式者, 皆为非法。

……

(6) 除经议会同意外, 平时在本王国内征募或维持常备军, 皆属违法。

……

——《权利法案》

材料二 康熙皇帝说: “今天下大小事务, 皆朕一身亲理, 无可旁贷。若将要务分任于他人, 则断不可行。所以无论巨细, 朕必躬自断制。”

(1) 材料一表明谁掌握国家的权力? 材料二表明谁掌握国家的权力? (4 分)

(2) 两则材料反映的几乎是同一时期中英两国的情况, 这一时期中英两国的政治制度分别是什么? (6 分)

33. 以人为本, 关注学生的学习与需求是当前基础教育课程改革的重要理念之一。早在文艺复兴时期, 人们就开始倡导个性, 崇尚人性。请回答:

(1) 文艺复兴的本质是什么? 请举出两例文艺复兴时期的代表作品。(6 分)

(2) 请你谈谈文艺复兴时期的代表作品是如何体现人文主义内涵的。(4 分)

(3) 你认为现在提倡人文主义有什么意义? (5 分)



第二单元练习卷 (第10~12课)



(时间: 90分钟 满分: 100分)


一、选择题 (每小题2分, 共40分)

题号	1	2	3	4	5	6	7	8	9	10
选项										
题号	11	12	13	14	15	16	17	18	19	20
选项										

- 从17世纪初起, 开始在北美大西洋沿岸建立殖民地的是 ()
A. 西班牙人 B. 法国人 C. 荷兰人 D. 英国人
- 美利坚民族开始形成是在 ()
A. 17世纪中期 B. 18世纪中期 C. 18世纪后期 D. 19世纪初
- 在美国的某小镇有一块独立战争纪念碑, 碑文中有这样一句话: “……如果敌人硬要把战争强加在我们头上, 那么, 就让战争从这儿开始吧!” 这个小镇是 ()
A. 波士顿 B. 来克星顿 C. 萨拉托加 D. 约克镇
- 被马克思称为“第一个人权宣言”的是 ()
A. 《拿破仑法典》 B. 《独立宣言》 C. 《人权宣言》 D. 《权利法案》
- 美国独立战争的领导阶级是 ()
A. 资产阶级和种植园主 B. 资产阶级和新贵族
C. 资产阶级 D. 种植园主和新贵族
- 美国独立战争爆发后, 决定组建大陆军是在 ()
A. 第一届大陆会议上 B. 第二届大陆会议上
C. 《独立宣言》发表后 D. 来克星顿枪声打响后
- 一位史学家认为, 美国独立战争原本不是一场民主运动, 但它在结果上却是一场民主运动。这里的“结果”主要是指 ()
A. 确立了资产阶级政体 B. 推翻了封建君主专制
C. 废除了黑人奴隶制度 D. 走上了军国主义道路
- 下列对右图的解读不正确的是 ()
A. 法国农民深受压迫 B. 法国存在等级制度, 农民生活在最底层
C. 农民没有政治权利 D. 这是法国大革命产生的影响
- “这一事件本身并没有什么实际作用。不过, 它摧毁了平民心目中压迫的象征, 掀开了轰轰烈烈的法国大革命的序幕。”材料中的“这一事件”是指 ()
A. 查理一世召开议会 B. 攻占巴士底狱
C. 建立法兰西第一帝国 D. 苏格兰人民起义



- 法国巴黎革命胜利后, 成为国家立法机关和实际上的革命领导机构的是 ()
A. 新议会 B. 总统府 C. 督政府 D. 制宪会议
- 《人权宣言》的内容不包括 ()
A. 三权分立 B. 自由、平等
C. 人权与法治 D. 私有财产神圣不可侵犯
- 法兰西第一共和国成立于 ()
A. 巴黎人民第一次起义后 B. 巴黎人民第二次起义后
C. 巴黎人民第三次起义后 D. 拿破仑统治初期
- 学习法国大革命的历史后, 某校九年级(1)班的同学对拿破仑展开了激烈争论。下列说法中正确的有 ()
①拿破仑建立了资产阶级军事独裁的法兰西帝国 ②拿破仑的对外战争具有侵略性 ③拿破仑具有卓越的军事才能, 从未打过败仗 ④《拿破仑法典》维护了资产阶级的利益
A. ①②③ B. ①②④ C. ①③④ D. ②③④
- 英国工业革命发生的直接原因是 ()
A. 生产技术的积累 B. 资本主义制度的完善
C. 拥有丰富的资源和原料 D. 海外市场需求的增加
- 英国工业革命首先发生在 ()
A. 毛纺织业 B. 棉纺织业 C. 造船业 D. 机器制造业
- 京九铁路、青藏铁路等大动脉的建成, 大大加快了我国经济建设步伐。人类社会最早的火车是 ()
A. 蒸汽火车 B. 内燃机车 C. 轮轨列车 D. 磁悬浮列车
- 使人类进入“蒸汽时代”最重要的发明是 ()
A. 珍妮机 B. 改良的蒸汽机
C. 飞梭 D. 水力纺纱机
- 下图所示交通工具的发明者是 ()



- 下列对工业革命的表述不正确的是 ()
A. 只在英国开展 B. 是机器大生产代替手工劳动的飞跃
C. 使生产力获得惊人发展 D. 是从发明和使用机器开始的
- 19世纪中期, 一个美国人可以通过下列哪种方式更快地到达欧洲? ()
A. 坐飞机 B. 坐汽船 C. 开汽车 D. 乘马车

二、判断题 (每小题2分, 共10分)

题号	21	22	23	24	25
正误					

- 1787年, 美国制宪会议制定联邦宪法的目的是加强中央权力、巩固政权和发展经济。 ()

得分: _____
学号: _____
姓名: _____
班级: _____

22. 封建时代，法国社会分为三个等级：第一等级为教士，第二等级为贵族，第三等级包括资产阶级、农民、手工业者等。 ()
23. 法国大革命沉重打击了欧洲封建势力，有力地推动了欧洲资产阶级革命及拉丁美洲民族解放运动。 ()
24. 钟表匠阿克莱特发明了水力织布机，并建立了第一个水力织布厂。 ()
25. 工业革命为资本主义制度战胜封建制度，进一步扩大以西方资本主义国家为核心的世界市场奠定了物质基础，同时也加重了这些国家对不发达地区的掠夺和剥削。 ()


三、填空题 (每小题 2 分，共 10 分)

26. 1775 年 5 月，北美殖民地的代表在_____召开_____大陆会议。
27. 《人权宣言》的核心内容是_____与_____。
28. 1765 年，纺织工人_____发明了手摇纺纱机，以他女儿的名字命名为“_____”，大大提高了纺纱的效率。
29. 1785 年，英国建成了第一个以_____为动力的纺纱厂。
30. 19 世纪 40 年代前后，英国完成工业革命。60—80 年代，_____、_____、_____、_____等国也先后完成了工业革命。大机器工厂基本取代了手工工场。

四、识图题 (共 15 分)

31. 识读材料一、二中的图片，回答问题。

材料一



工业革命前的家庭式作坊



工业革命后一家纺织厂的生产场景

材料二



注：这是 1855 年的一幅石板画，画上是英国设菲尔德拥挤的房子和高耸的工厂烟囱。那时设菲尔德的人口增长了 500%，达到了 135 000 人。

- (1) 材料一从哪些方面反映了工业革命给社会生产带来的变化？(写出两个方面即可) (8 分)

- (2) 材料二反映出工业革命给人类生活带来了怎样的变化？(写出三点即可) (7 分)

五、综合题 (共 25 分)

32. 有人说拿破仑是法国大革命时期杰出的资产阶级政治家和军事家，他的统治推动了资本主义的发展；又有人说拿破仑是一个反动的军事独裁者，他的对外战争侵犯了欧洲许多国家的独立。你同意上述哪一种观点？请说明理由。如果你不同意上述观点，你认为应该怎样正确评价拿破仑？(10 分)

33. **材料一** (美国独立战争爆发后) 大陆会议发表《独立宣言》。宣言痛斥了英国国王对殖民地的暴政，宣布一切人生而平等，人们有生存、自由和追求幸福等不可转让的权利。宣言同时宣告北美 13 个殖民地脱离英国而独立。

材料二 革命形势飞速发展，资产阶级掌握了政权，不久又颁布《人权宣言》，宣称人们生来自由，权利平等，私有财产神圣不可侵犯。

- (1) 材料一中提到的《独立宣言》发表于哪一年？美国独立战争的领导人是谁？材料二中提到的《人权宣言》的颁布发生在哪一重大历史事件期间？(6 分)

- (2) 根据上述材料，指出《独立宣言》与《人权宣言》在内容上的相同点。(4 分)

- (3) 材料一、二所涉及的历史事件的发生反映出当时世界历史发展的趋势如何？(5 分)



第二单元测试卷



(时间: 90 分钟 满分: 100 分)

一、选择题 (每小题 2 分, 共 30 分)

题号	1	2	3	4	5	6	7	8
选项								
题号	9	10	11	12	13	14	15	
选项								

- 某历史网站的论坛以“文艺复兴是复古还是创新”为题, 号召网友们展开热烈辩论。下面四种观点, 你认为精辟地说明了文艺复兴运动实质的是哪一种? ()
A. 文艺复兴是创新, 因为在这次运动中出现了许多新的文艺形式和新的艺术大师
B. 文艺复兴是复古, 运动名称中的“复”字说明了这一点
C. 文艺复兴是复古, 当时的人们特别爱读古希腊、古罗马人的作品
D. 文艺复兴是创新, 它是新兴资产阶级借助古希腊、古罗马文化宣扬新思想、新文化的运动
- 在新航路开辟过程中, 有一支船队在太平洋上 3 个多月没有补充给养。这支船队应该是 ()
A. 哥伦布船队 B. 迪亚士船队
C. 麦哲伦船队 D. 达·伽马船队
- 新航路开辟后, 欧洲的航运和贸易中心发生了转移。这种转移是 ()
A. 由欧洲西部转移到阿拉伯半岛 B. 由地中海转移到大西洋沿岸
C. 由大西洋沿岸转移到地中海沿岸 D. 由阿拉伯半岛转移到地中海沿岸
- “此前处于相对隔绝状态的各个地区也在这一时期走出闭塞, 开始建立直接的联系, 人类迈出了从分散发展到整体进步最为关键的一步。”材料中的“最为关键的一步”是指 ()
A. 新航路的开辟 B. 文艺复兴
C. 工业革命 D. 十月革命
- 历史学家汤因比曾这样评价英国资产阶级革命的成果: “顺利地 在旧瓶里装进了新酒, 还不至于引起旧瓶爆炸。”这里的“新酒”是指 ()
A. 议会逐渐成为国家权力中心 B. 国王仍然掌握国家权力
C. 革命过程中没有发生战争 D. 建立起资产阶级共和国
- 下列关于美国独立战争的史实表述正确的是 ()
①波士顿倾茶事件打响了抗英斗争的第一枪 ②华盛顿被任命为大陆军总司令 ③《独立宣言》的发表宣告北美 13 个殖民地独立 ④1783 年英国正式承认美国独立
A. ①②③ B. ②③④
C. ①②③④ D. ①②④
- 美国独立战争与英国资产阶级革命相比, 最大的特点在于 ()
A. 革命前资本主义经济发展受到阻碍 B. 革命主要是反殖民主义统治
C. 革命没有出现反复 D. 革命后资本主义得到顺利发展

- 小李找来《权利法案》, 他是为研究哪个主题准备的? ()
A. 英国的君主立宪制 B. 法兰西第一共和国的成立
C. 美国独立战争的胜利 D. 法兰西第一帝国的成立
- 历史上第一次以国家的名义宣布人民的权利是神圣不可侵犯的文献是 ()
A. 《权利法案》 B. 《人权宣言》
C. 《拿破仑法典》 D. 《独立宣言》
- 拿破仑在逝世前说了一段话: “我是一位新普罗米修斯……我曾从天上窃取了火种, 作为一份礼物, 奉献给法兰西。”拿破仑献给法兰西的“火种”是 ()
A. 处死国王路易十六 B. 建立法兰西第一帝国
C. 颁布了法典 D. 扩大了法国的疆域
- “归纳”是历史学习和研究的一种重要方法。17—18 世纪, 英国、美国、法国资产阶级革命爆发的共同原因是 ()
A. 封建专制制度的阻碍 B. 殖民统治激起人民的反抗
C. “君权神授”学说同议会矛盾的激化 D. 资本主义的发展受到严重阻碍
- 英国工业革命是 ()
A. 资本主义制度代替封建制度的重大变革 B. 商品经济代替自然经济的重大变革
C. 机器生产代替手工劳动的重大变革 D. 雇佣关系代替依附关系的重大变革
- 200 多年前发生在西欧的一场革命, 通过和平方式彻底改变了人们的生产和生活方式。这场革命应该是指 ()
A. 英国资产阶级革命 B. 法国大革命
C. 英国工业革命 D. 美国独立战争
- 第一次工业革命使人类进入了“蒸汽时代”, 改良蒸汽机的是 ()
A. 富尔敦 B. 史蒂芬孙 C. 瓦特 D. 哈格里夫斯
- 工业革命的影响包括 ()
①使生产力得到迅速发展 ②促进资本主义世界市场的形成 ③加快了城市化进程 ④加剧无产阶级和资产阶级的矛盾
A. ①②③④ B. ①②③ C. ①③④ D. ①②

二、判断题 (每小题 2 分, 共 10 分)

题号	16	17	18	19	20
正误					

- 欧洲的资本主义生产方式首先在法国萌生。 ()
- 证明地球是圆形的结论正确的是迪亚士到达好望角。 ()
- 美国曾通过宪法修正案, 确定总统连任不得超过两届。创立这一传统的著名人物是华盛顿。 ()
- 1781 年, 华盛顿率军将英军围困在约克镇, 迫使英军投降。这一战役的胜利标志着美国独立战争胜利结束。 ()
- 第一次工业革命首先在英国毛纺织业中展开。 ()

三、填空题 (每小题 2 分, 共 10 分)

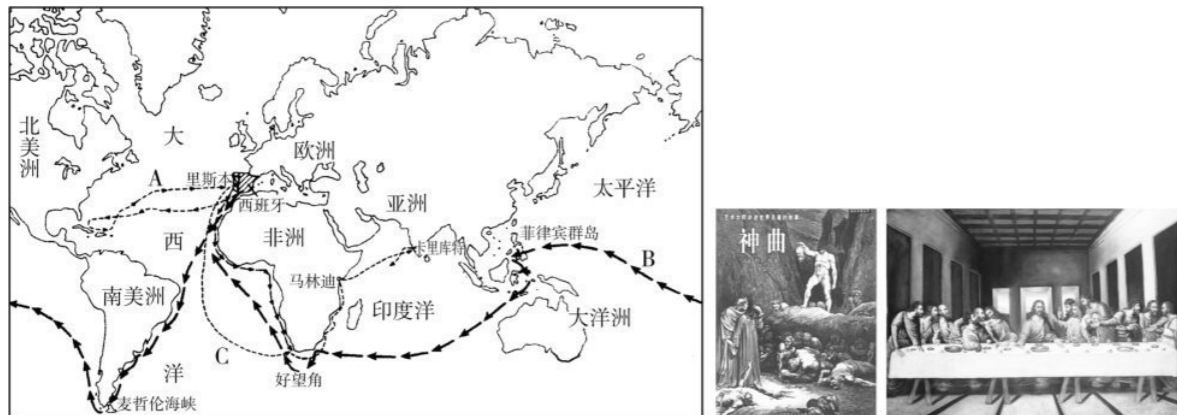
- 文艺复兴的“巨人”_____多才多艺, 其代表作有名画《_____》和《_____》。
- 1688 年, 英国资产阶级、新贵族和一部分封建贵族联合发动宫廷政变, 邀请詹姆士二世的女婿、荷兰执政_____到英国继承王位。
- 英国资产阶级革命的成功使_____制在英国建立。

得分: _____ 学号: _____ 姓名: _____ 班级: _____

24. 1787年美国宪法的三权分立指的是_____、_____、_____三权分立。
 25. 《人权宣言》是法国大革命的_____性文件，它否定了_____和封建等级制度。

四、识图题（共15分）

26. 识读下列图片，回答问题。



图一 图二 图三

- (1) 图一反映了哪一重大历史事件？（1分）
- (2) 图二、图三分别是谁的代表作品？两幅作品共同反映了什么历史事件？表达了当时人们的什么精神追求？（6分）
- (3) 请写出图一中开辟A、B、C三条航路的人物的名字以及他们的成就。B航路的开辟证明了人类的哪些猜想是正确的？（5分）
- (4) 上述图片所示内容对社会发展的共同作用是什么？（3分）

五、综合题（共35分）

27. 阅读下列材料，回答问题。

材料一 1689年，英国议会通过的《权利法案》规定：未经议会同意，国王无权废除法律或停止法律的执行；未经议会准许，国王不能征税；国王不能在平时招募军队或维持常备军；议会必须定期召开；议会议员的选举不受国王干涉。

材料二 美国1787年宪法规定，“全部立法权，均属于由参议院和众议院组成的合众国国会”，“行政权属于美利坚合众国总统……合众国的司法权属于最高法院以及由国会随时下令设立的低级法院”，“众议院独立拥有弹劾（抨击、揭发）权，参议院独立拥有审理一切弹劾案的权力”，“总统对众议院和参议院通过的每件法案，有否决权，但国会如果有三分之二的议员再次通过，

法案即成为法律”，“最高法院具有监督立法、解释一切法律的权力；法官由总统任命，但必须得到参议院的同意，其任职是终身的”。

(1) 从材料一中你能归纳出什么？该文献促使英国形成了什么制度？（4分）

(2) 从材料二中你能归纳出什么？它表明美国的政治体制与英国有何不同？（6分）

28. 阅读下列材料，回答问题。

材料一 （拿破仑征服失败后）国内群众……厌倦征服。……在国外，各族人民辗转呻吟于军事枷锁之下，屈辱顺从的王朝企图奋起反抗，人人心怀不满。

材料二 拿破仑的霸权完全是以武力为基础的。当战争把他所有的军队在西班牙、俄国（1812年）、德国（1813年）先后吞噬之后……拿破仑的帝国崩溃了。

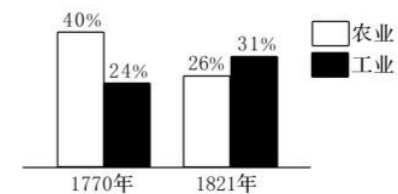
——以上材料均摘自米涅《法国革命史》

(1) 以上材料从哪些方面指出了拿破仑失败的原因？（6分）

(2) 你如何看待拿破仑的对外战争？（4分）

29. 阅读下列材料，回答问题。

材料一 1770年和1821年英国农业和工业在国民总收入中的比重示意图。



材料二 煤的大规模开采和使用，在提供动力以推动工厂的开办和蒸汽机的运转，并方便人们的日常生活时，也必然会释放大量的烟尘、二氧化硫、二氧化碳、一氧化碳和其他有害的污染物。18世纪末期，伦敦上空多次出现烟雾现象，造成植物枯死，晾晒的衣服变黑，即使白天也需要人工照明，甚至还造成许多居民患病或死亡。

(1) 材料一表明英国的经济结构发生了什么变化？（6分）推动这一变化的主要动力是什么？（3分）

(2) 材料二表明英国在经济发展过程中出现了什么问题？（2分）

(3) 综合材料，你认为我们应从中吸取什么经验教训？（4分）



第三单元测试卷

(时间: 90 分钟 满分: 100 分)

一、选择题 (每小题 2 分, 共 30 分)

题号	1	2	3	4	5	6	7	8
选项								
题号	9	10	11	12	13	14	15	
选项								

- 罪恶的“三角贸易”的出发地是 ()
A. 亚洲 B. 非洲 C. 美洲 D. 欧洲
- “估计在 1850 年, 这些地区大约 2500 万的人口, 如果没有奴隶贸易, 这个数字可能会翻一番。”材料中的“这些地区”主要是指 ()
A. 亚洲 B. 美洲 C. 欧洲 D. 非洲
- 在“三角贸易”中, 欧洲的奴隶贩子最终得到的是 ()
A. 黑人奴隶 B. 廉价商品
C. 北美的土地 D. 金银和原料
- “论从史出”是学习历史的重要方法之一。“英国从奴隶贸易中所得到的资金甚至超过了国内的积累。现在英国重要的商业和船运业中心利物浦, 本是一个荒僻的小村落, 在奴隶贸易中发展成英国的第二大港口。”从这段史料中得出的结论是 ()
A. 奴隶贸易促进了英国资本主义的发展 B. 奴隶贸易给英国带来大量黑人劳动力
C. 奴隶贸易促成了新航路的开辟 D. 奴隶贸易是英国资本原始积累的唯一途径
- 在印度, 英国殖民头子克莱武先在此地区抢走价值 20 多万英镑的金银珠宝, 后又在此地区担任总督。这里的“此地区”是指 ()
A. 孟买 B. 孟加拉 C. 德里 D. 马德拉斯
- 有人比喻英国“像海绵一样从恒河边上吸取了财富, 又挤出来倒在泰晤士河中”。这句话说明了英国对哪个国家的掠夺? ()
A. 中国 B. 印度 C. 北美 D. 塞内加尔
- 17 世纪中期, 英国夺取北美殖民地是在 ()
A. 打败西班牙的“无敌舰队”后 B. 三次英荷战争打败荷兰后
C. 东印度公司成立后 D. 经过长期战争打败法国后
- 马克思抨击欧洲资产阶级“丢了最后一点耻辱心和良心”的罪恶是指 ()
A. 赤裸裸的暴力抢劫 B. 贩卖黑人奴隶
C. 推行种族灭绝政策 D. 进行不等价交换
- 拉丁美洲独立运动兴起的外部原因主要有 ()
①美国独立战争的影响 ②拉美人民民族民主意识增强 ③法国大革命的影响 ④西班牙资产阶级革命的影响
A. ①② B. ①③ C. ②④ D. ①④

- 拉丁美洲独立运动兴起的根本原因是 ()
A. 印第安人在拉丁美洲创造了灿烂的文化
B. 拉丁美洲盛产黄金、白银
C. 欧洲殖民者在拉丁美洲的疯狂掠夺和残酷剥削
D. 英国殖民者在拉丁美洲实行土地占有制
- 揭开拉丁美洲独立运动序幕的事件是 ()
A. 美国独立 B. 海地独立 C. 哥伦比亚独立 D. 委内瑞拉独立
- 下列领导人中, 反对殖民统治、争取民族独立的是 ()
①克伦威尔 ②华盛顿 ③罗伯斯庇尔 ④玻利瓦尔
A. ②④ B. ①③ C. ③④ D. ①②
- 被誉为“南美的解放者”、委内瑞拉的“祖国之父”的是 ()
A. 伊达尔哥 B. 圣马丁 C. 华盛顿 D. 玻利瓦尔
- 有一部著名的印度电影, 影片中年轻美丽的女王拿起武器, 同英国殖民军队展开斗争, 最后英勇牺牲。她是 ()
A. 圣女贞德 B. 章西女王 C. 伊丽莎白女王 D. 维多利亚女王
- 岁月磨灭不了的是英雄灼灼发光的名字。玻利瓦尔与章西女王都是 ()
A. 拉美独立战争的领袖 B. 反抗殖民统治的英雄
C. 推翻封建统治的战士 D. 实现国家统一的功臣

二、判断题 (每小题 2 分, 共 10 分)

题号	16	17	18	19	20
正误					

- “三角贸易”能够盛行的客观便利条件是欧洲殖民国家造船业发达。 ()
- 新航路开辟后, 随着殖民主义者的到来, 古老的印第安文明遭到毁灭。 ()
- 18 世纪后半期, 英国对印度的侵略和榨取给印度人民带来了深重的灾难。 ()
- 1857 年, 印度民族大起义的主力是农民。 ()
- 18 世纪中期, 英国最终打败西班牙, 成为世界头号殖民帝国。 ()

三、填空题 (每小题 2 分, 共 10 分)

- 新航路开辟后, _____ 和 _____ 最早走上殖民扩张的道路。
- 17 世纪初, 英国通过 _____ 开始侵略亚洲, 重点是 _____。
- 拉美独立运动彻底粉碎了 _____、_____ 长达 3 个世纪的殖民统治。
- 印度民族大起义充分体现了印度人民维护民族尊严、争取 _____ 的坚强意志, 沉重打击了 _____ 在印度的殖民统治。
- 印度民族大起义期间, 中国爆发的农民运动是 _____。

四、识图题 (共 10 分)

- 识读右图, 回答下面的问题。
(1) 图中人物是谁? (2 分)





期中测试卷 (A)



(时间: 90 分钟 满分: 100 分)

一、选择题 (每小题 2 分, 共 30 分)

题号	1	2	3	4	5	6	7	8
选项								
题号	9	10	11	12	13	14	15	
选项								

- 下列与其他三项文明不属于同一类型的是 ()
A. 古埃及文明 B. 古巴比伦文明
C. 古印度文明 D. 古希腊文明
- 欧洲文明的发源地古代希腊的地域范围包括 ()
①希腊半岛 ②爱琴海诸岛 ③中亚细亚 ④小亚细亚西岸
A. ①②④ B. ①②③ C. ①③④ D. ②③④
- 从“元老院掌握国家实权”“布匿战争”“奴隶大量逃亡和起义”这些关键词句中提炼出的学习主题是 ()
A. 希腊文明的繁荣 B. 罗马共和国的兴衰
C. 两河流域古老文明的兴起 D. 雅典奴隶制民主政治
- 日本被称为“日出之处”。下列关于日本大化改新的表述, 不正确的是 ()
A. 7 世纪中期实行的改革 B. 改革仿效中国隋唐制度
C. 力主改革的人物是孝仁天皇 D. 改变了日本的社会性质
- 一位意大利旅行家, 在中国元朝生活十几年后回到欧洲。他的经历和见闻激起了欧洲人对东方的向往。他是 ()
A. 麦哲伦 B. 马可·波罗
C. 亚历山大 D. 利玛窦
- 《阿拉伯通史》中写道: 千余年来, 朝觐圣地的制度, 对于团结全世界的穆斯林, 起了重大的作用……这种制度几乎使每个有能力的穆斯林, 平生都做一次长途旅行。据所学知识判断, 他们“旅行”的目的地是 ()
A. 印度 B. 巴勒斯坦 C. 罗马 D. 麦加
- 下面是一位同学自编剧本中的一段: 一名商人慕名来到了①文艺复兴的发源地英国, 拜会了②文艺复兴的先驱莎士比亚, 探讨了③但丁的悲剧《哈姆雷特》, 还欣赏了④达·芬奇的《蒙娜丽莎》。你认为剧本中应该修改的地方有 ()
A. ①②③ B. ②③④ C. ①②④ D. ①③④
- 1492 年, 意大利航海家哥伦布的船队横渡大西洋, 到达美洲。“1492 年”采用世纪纪年法, 应是 ()
A. 13 世纪末 B. 14 世纪 90 年代
C. 15 世纪初 D. 15 世纪 90 年代

- “英国几乎有半个世纪没有平静下来, 直到 1688 年的所谓‘光荣革命’时为止, 那几十年中的一系列激动人心的事件构成了英国革命。”英国资产阶级革命中通过了 ()
A. 《权利法案》 B. 《独立宣言》
C. 《人权宣言》 D. 《拿破仑法典》
- “战争中的第一人, 和平中的第一人, 他的同胞心中的第一人”是美国独立战争时期一位老兵的话。话中的“第一人”带领美国人民打破了英国的殖民枷锁, 他是 ()
A. 林肯 B. 罗斯福 C. 杜鲁门 D. 华盛顿
- 学习世界史时, 刘新同学发现 1804—1814 年欧洲国界发生了巨大变化。导致这种变化出现的主要原因是 ()
A. 英国资产阶级革命 B. 新航路的开辟
C. 美国独立战争 D. 拿破仑战争
- 近代交通工具的发展首先突破于 ()
A. 英国 B. 法国 C. 美国 D. 德国
- 下列选项中能正确反映罪恶的“三角贸易”航程的是 ()
A. 欧洲→美洲→非洲→欧洲 B. 非洲→美洲→欧洲→非洲
C. 美洲→欧洲→非洲→美洲 D. 欧洲→非洲→美洲→欧洲
- 下列关于黑奴贸易的说法错误的是 ()
A. 黑奴贸易促进了欧洲经济的发展
B. 新航路的开辟加剧了殖民者贩卖黑奴的罪恶活动
C. 黑奴贸易给非洲带来了灾难
D. “三角贸易”最后的主要经营者是英国
- 学习历史, 必须分清哪些是史实, 哪些是观点。下列属于“观点”的是 ()
A. 克伦威尔担任“护国主”
B. 章西女王是印度的民族英雄
C. 玻利瓦尔领导拉美独立战争
D. 查理一世被送上断头台

二、判断题 (每小题 2 分, 共 10 分)

题号	16	17	18	19	20
正误					

- 古代埃及人最早使用的文字是楔形文字。 ()
- 古巴比伦的《汉谟拉比法典》是历史上已知的第一部比较完备的成文法典。 ()
- 达·芬奇是文艺复兴时期英国的大戏剧家。 ()
- 伊斯兰教在罗马帝国后期成为占统治地位的宗教。 ()
- 英国的殖民掠夺加速了英国的资本原始积累。 ()

三、填空题 (每小题 2 分, 共 10 分)

- 从采集天然食物、猎取动物发展到原始的_____和_____, 人类的生活有了一定的保障。妇女在生活中占据着主导地位, 形成了以_____为纽带的稳固的集团。
- 官相_____改革, 建立了采邑制。在此基础上封建等级制度逐渐形成。
- 15 世纪后期, 文艺复兴运动从意大利扩展到_____其他国家, _____世纪达到高潮。
- _____年, 英国人_____发明了用蒸汽机推动的火车。
- 1857 年, 印度_____的士兵因受英国殖民者的侮辱, 奋起反抗, 发动了_____。