



培优教育经典品牌连续10年畅销

培优

金卷

JINJUAN YIHAO



龙图教育研究院 主编

全国小学名校 培优新课标研究中心 联合推荐



梳理+测评，复习考试好轻松！

数学二年级 上



电子科技大学出版社

家校联系卡

 老师评语: _____

 家长评语: _____

错题卡

考点梳理

单元考点	培优锦囊
认识厘米	量比较短的物体,可以用“厘米”作单位。厘米可以用“cm”表示
认识米	量比较长的物体,通常用“米”作单位。米可以用“m”表示 1米=100厘米
认识线段	线段是直的,可以量出长度

考点测评试卷

一、填空。(17分)

- 测量橡皮的长度用()作单位合适;测量床的长度用()作单位合适。
- 黑板边、桌子边、书边都可以看成是()。
- 在括号里填上“米”或“厘米”。
 (1)一棵大树高8()。 (2)数学书长约26()。
 (3)乐乐的身高是150()。 (4)一栋楼房高98()。
- (贵州·兴义)长方形由()条线段组成。
- 在○里填上“>”“<”或“=”。

5米○50厘米

79厘米○97厘米

100厘米○10米

99厘米○1米

30厘米+30厘米○60米

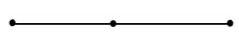
16米-4米○12米

10厘米-3厘米○3厘米

50厘米+50厘米○1米

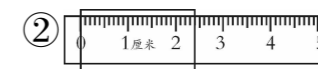
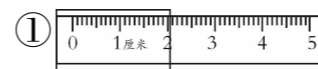
6. 文文身高是80厘米,再长()厘米就有1米高了。

二、判断。(正确的打“√”,错误的打“×”)(10分)

- 1米长的铁丝比100厘米长的绳子短。()
- (重庆·开县)线段是可以量出长度的。()
- 线段只有一个端点。()
- 数学书封面的4条边都可以看成线段。()
- 右图中有4条线段。  ()

三、选择。(把正确答案的序号填在括号里)(10分)

- 用尺子量一条线段时,从()开始量。
 ①0刻度 ②1刻度 ③尺子的顶端
- 下面物体中,厚度最接近1厘米的是()。
 ①书包装上东西后 ②新华字典 ③数学书
- 下面的物体中,()的高度最接近1米。
 ①台灯 ②教室的门 ③写字台
- 下面量法正确的是()。


 5.  这支铅笔的长度是()。

- ①9厘米 ②12厘米 ③4厘米

四、下图中哪些是线段? 在下面的括号里画“√”。(5分)



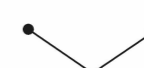
()



()



()



()



()

五、比一比,排一排。(12分)

1. 按从大到小的顺序排列。

7 厘米 10 厘米 1 米 50 厘米
 () > () > () > ()

2. 按从小到大的顺序排列。

6 米 6 米 60 厘米 60 厘米 6 厘米
 () < () < () < ()

六、按要求做题。(22分)

1. 下列图形中各有几条线段?(6分)



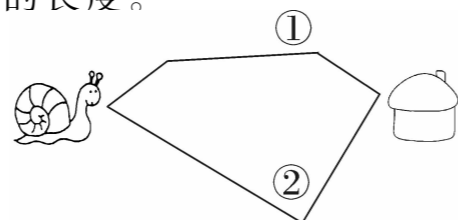
2. 蜗牛回家。(4分)

(1) 分别量出下面线路示意图中每条路的长度。

①号路全长()厘米。

②号路全长()厘米。



(2) 蜗牛走()号路近些。



3. (湖北·汉川)画一条4厘米长的线段。(4分)

4. 画一条比10厘米短3厘米的线段。(4分)


5. 量一量,画一画。(4分)

在  的左边3厘米处画一颗☆;在  的右边4厘米处画一个○。



七、解决问题。(24分)

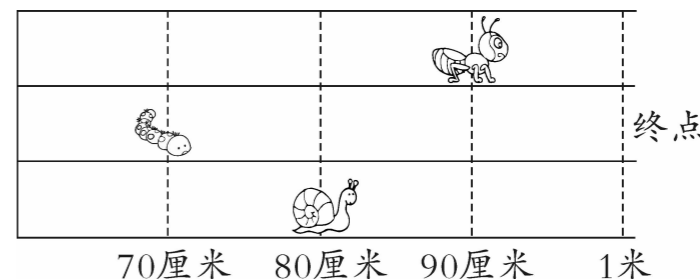
1. 你知道谁的个子高吗?比另一个高多少厘米?(6分)



2. 一支铅笔用去6厘米,还剩12厘米。这支铅笔原来有多长?

(6分)

3. 小动物赛跑。(12分)

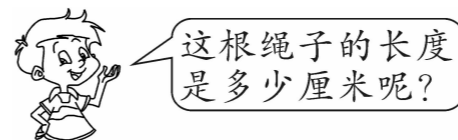


(1) 蜗牛离终点还有多少厘米?

(2) 蚂蚁比小虫子多爬多少厘米?

大题加练

亮亮用一把10厘米长的尺子量一根绳子,4次正好量完。



家校联系卡

老师评语: _____

家长评语: _____

错题卡

考点梳理

单元考点	培优锦囊	典例分析
不进位加	相同数位对齐,从个位加起	<p>【例题】车上原来有学生25人,又上来13人。原来的学生比又上来的学生多多少人?现在车上一共有多少人?</p> <p>【分析】由题意可知,求原来的学生比又上来的学生多多少人。用减法计算。求现在车上一共有多少人,也就是车上原有的人数加上又上来的人数,用加法计算。</p> <p>【答案】 $25 - 13 = 12$(人) $25 + 13 = 38$(人) 答:原来的学生比又上来的学生多12人。现在车上一共有38人。</p>
进位加	相同数位对齐,从个位加起,个位相加满十向前一位进1	
不退位减	相同数位对齐,从个位减起	
退位减	相同数位对齐,从个位减起,如果个位不够减,就从十位退1,在个位上加10再减	

过关检测 不进位加

一、直接写得数。

$15 + 2 =$ $23 + 3 =$ $12 + 5 =$ $52 + 3 =$
 $32 + 10 =$ $23 + 20 =$ $42 + 20 =$ $15 + 30 =$

二、把下列竖式补充完整。

$\begin{array}{r} 46 \\ +21 \\ \hline \square\square \end{array}$	$\begin{array}{r} 31 \\ +22 \\ \hline \square\square \end{array}$	$\begin{array}{r} 53 \\ +16 \\ \hline \square\square \end{array}$	$\begin{array}{r} 72 \\ +27 \\ \hline \square\square \end{array}$
---	---	---	---

三、列竖式计算。

$22 + 36 =$ $50 + 25 =$ $32 + 23 =$
 $41 + 15 =$ $61 + 12 =$ $20 + 36 =$


过关检测 进位加







一、(山东·临沂)把下列竖式补充完整。

$\begin{array}{r} 36 \\ +25 \\ \hline \square\square \end{array}$	$\begin{array}{r} 45 \\ +35 \\ \hline \square\square \end{array}$	$\begin{array}{r} 67 \\ +24 \\ \hline \square\square \end{array}$	$\begin{array}{r} 26 \\ +47 \\ \hline \square\square \end{array}$
---	---	---	---

二、用竖式计算。

$55 + 28 =$ $38 + 29 =$ $15 + 35 =$ $18 + 57 =$

三、在  里填上“>”“<”或“=”。

$26 + 16$  36 $32 + 28$  60 $34 + 18$  53
 $56 + 15$  $57 + 15$ $63 + 17$  $73 + 16$ $48 + 27$  $56 + 27$

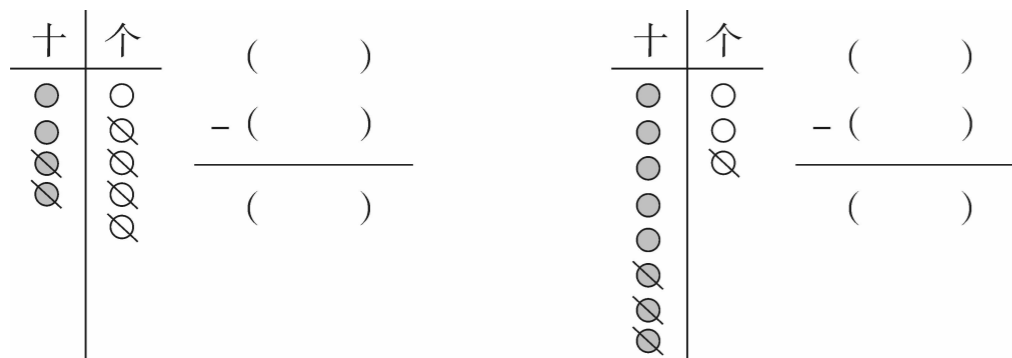
四、欢欢有 39 枚邮票，乐乐有 11 枚邮票，她们一共有多少枚邮票？

过关检测 不退位减

一、直接写得数。

$25 - 3 =$ $38 - 12 =$ $48 - 20 =$ $59 - 10 =$
 $44 - 3 =$ $45 - 24 =$ $54 - 20 =$ $78 - 20 =$

二、(安徽·芜湖) 看图列式计算。



三、用竖式计算。

$75 - 23 =$ $88 - 22 =$ $86 - 15 =$

$64 - 23 =$ $49 - 36 =$ $96 - 72 =$

过关检测 退位减

一、把下列竖式补充完整。

$\begin{array}{r} 61 \\ -25 \\ \hline \square\square \end{array}$	$\begin{array}{r} 52 \\ -25 \\ \hline \square\square \end{array}$	$\begin{array}{r} 74 \\ -28 \\ \hline \square\square \end{array}$	$\begin{array}{r} 93 \\ -28 \\ \hline \square\square \end{array}$
---	---	---	---


二、用竖式计算。

$85 - 58 =$ $92 - 37 =$ $61 - 29 =$

$72 - 55 =$ $65 - 28 =$ $53 - 15 =$


过关检测 易错题

一、青蛙医生。(正确的打“√”，错误的打“×”并改正)



85
-38
58
()

改正:



53
+39
82
()

改正:

二、(山西·吕梁) 乐乐今年 13 岁，妈妈今年 40 岁，再过 3 年，妈妈比乐乐大多少岁？

家校联系卡

老师评语: _____

家长评语: _____

错题卡

考点梳理

单元考点	培优锦囊	典例分析
连加	可以写成两个竖式,也可以写成一个竖式	<p>【例题】李大爷养了25只鸡,养的鸭比鸡多19只。鸡和鸭一共有多少只?</p> <p>【分析】可以先求出养鸭多少只。就是求比一个数多几的数是多少,用加法计算。利用求出的鸭的只数加上鸡的只数就可以求出鸡和鸭的总只数。</p> <p>【答案】 $5 + 19 + 25 = 69$(只) 答:鸡和鸭一共有69只。</p>
连减	一般从左往右算,也可以把要减的两个数先加起来,再从被减数中减去两个数的和	
加减混合	一般从左到右算,有括号的要先算括号里面的	

过关检测 连 加

一、把下列竖式补充完整。

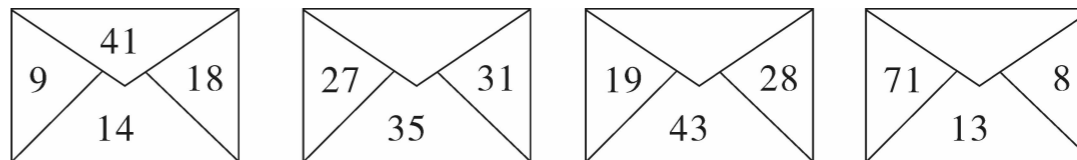
$\begin{array}{r} 16 \\ + 25 \\ \hline \square \square \\ + 44 \\ \hline \square \square \end{array}$	$\begin{array}{r} 47 \\ + 16 \\ \hline \square \square \\ + 22 \\ \hline \square \square \end{array}$	$\begin{array}{r} 17 \\ + 35 \\ \hline \square \square \\ + 43 \\ \hline \square \square \end{array}$	$\begin{array}{r} 35 \\ + 28 \\ \hline \square \square \\ + 27 \\ \hline \square \square \end{array}$
---	---	---	---

二、用竖式计算。

$37 + 28 + 16 =$ $26 + 16 + 48 =$ $25 + 33 + 18 =$

$18 + 19 + 20 =$ $44 + 22 + 33 =$ $25 + 36 + 17 =$

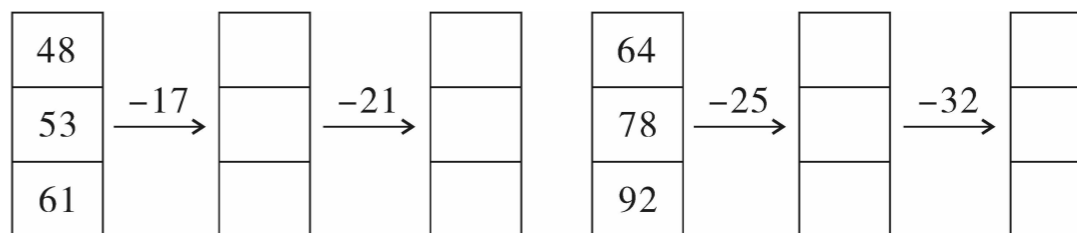
三、找规律填数。



四、乐乐有一些彩色卡纸,其中红色卡纸有25张,绿色卡纸有18张,蓝色卡纸有22张。三种卡纸一共有多少张?

过关检测 连 减

一、算一算,填一填。



二、用竖式计算。

$90 - 27 - 45 =$

$84 - 59 - 11 =$

$67 - 32 - 28 =$

$80 - 27 - 16 =$

$57 - 12 - 28 =$

$98 - 19 - 23 =$

三、卡卡文具店有 80 支铅笔,上午卖了 24 支,下午卖了 26 支。还剩多少支?

过关检测

加减混合

一、用竖式计算。

$58 - 9 + 24 =$

$36 + 57 - 29 =$

$14 + 41 - 34 =$

二、列式计算。

1. 35 加上 46,再减去 21,得多少?

2. 36 比 63 与 38 的差多多少?

三、车模小组原来有赛车模型 65 辆,送给二年级小朋友 16 辆,后来又做了 27 辆。车模小组现在一共有多少辆赛车模型?

过关检测

易错题

一、(山东·临沂)找规律填数。

1. 14, 21, 28, (), 42, (), 56。

2. 93, 86, 79, (), 65, (), 51, ()。

二、找出下面各题的错误原因,把序号填在括号里。

$1. 19 + 36 - 27 = 18$

$$\begin{array}{r} 19 \\ + 36 \\ \hline 45 \\ - 27 \\ \hline 18 \end{array}$$

()

$2. 80 - 46 + 18 = 16$

$$\begin{array}{r} 46 \quad 80 \\ + 18 \quad - 64 \\ \hline 64 \quad 16 \end{array}$$

()

$3. 18 + 5 + 31 = 99$

$$\begin{array}{r} 18 \\ + 5 \\ \hline 68 \\ + 31 \\ \hline 99 \end{array}$$

()

$4. 92 - 46 - 18 = 48$

$$\begin{array}{r} 92 \\ - 46 \\ \hline 56 \\ - 18 \\ \hline 48 \end{array}$$

()

①相同数位没有对齐。

②相加满十没有向前一位进 1。

③退位后仍然按原数计算。

④没有按正确的运算顺序计算。

 家校联系卡

老师评语: _____

家长评语: _____

 错题卡

一、填空。(27分)

1. 用竖式计算 $72 - 46$ 时, () 数位对齐, 从 () 位减起, 个位不够减从十位退 1 后, 个位要算 () - ()。

2. 比 54 多 13 的数是 (), () 比 68 少 26。

3. 一个数是 59, 另一个数是 24, 这两个数的和是 (), 差是 ()。

4. 最大的两位数减去最小的两位数, 差是 ()。

5. 在括号里填上合适的数。

$57 + () = 90 \quad 64 - () = 28 \quad () - 25 = 40$

$() + 37 = 72 \quad () - 9 = 64 \quad () + 26 = 80$

$72 - () = 57 \quad 65 - () = 36 \quad 98 - () = 27$

6. (四川·绵阳) 找规律填数。

(1) 94, 88, 82, (), ()。

(2) 46, 42, 38, (), ()。

(3) 12, 21, 30, (), ()

7. 二(1)班同学做了 82 朵小红花, 送给二(2)班 22 朵, 又送给二(3)班 38 朵, 一共送出 () 朵小红花, 还剩 () 朵小红花。

8. 幸福超市运来 52 箱牛奶, 运来的酸奶比牛奶少 24 箱, 运来酸奶 () 箱。

二、选择。(把正确答案的序号填在括号里)(10分)

1. 下面 () 的结果与 $95 - 29$ 的结果相等。

① $80 - 14$

② $29 + 38$

③ $90 - 34$

2. 两个加数的和是 65, 其中一个加数是 25, 另一个加数是 ()。

① 80

② 40

③ 90

3. 计算 $58 - (14 + 20)$ 时, 应先算 () 法, 再算 ()。

① 加法

② 减法

4. 国庆节促销, 一本《国学新编》原价 80 元, 促销期间购买, 优惠 16 元, 要付 () 元。

① 64

② 80

③ 96

5. (四川·达州) 动物园有 4 只大熊猫, 24 只梅花鹿, 27 只猴子。梅花鹿的数量比猴子和大熊猫的数量的和少多少只? 列式正确的是 ()。

① $27 - 4 + 24$

② $27 + 4 - 24$

③ $27 - 4 - 24$

三、计算。(33分)

1. 直接写得数。(6分)

$47 - 20 =$

$15 + 40 =$

$76 + 5 =$

$83 - 9 =$

$23 - 12 =$

$46 - 7 =$

$47 - 15 =$

$10 + 28 =$

$32 - 7 =$

$73 - 8 =$

$54 + 6 =$

$60 + 34 =$

2. 用竖式计算。(18分)

$45 + 26 =$

$74 - 19 =$

$60 - 17 =$

$35 + 26 - 24 =$

$72 - 18 - 25 =$

$85 - 37 + 26 =$

家校联系卡

老师评语: _____

家长评语: _____


错题卡

考点梳理

单元考点	培优锦囊
认识角	角的大小与两条边的长短无关,与两条边张开的大小有关
认识直角	直角的大小都是一定的,都与三角尺上的直角大小相同
认识锐角、钝角	锐角比直角小,钝角比直角大

考点测评试卷

一、填空。(每小题 3 分,共 21 分)

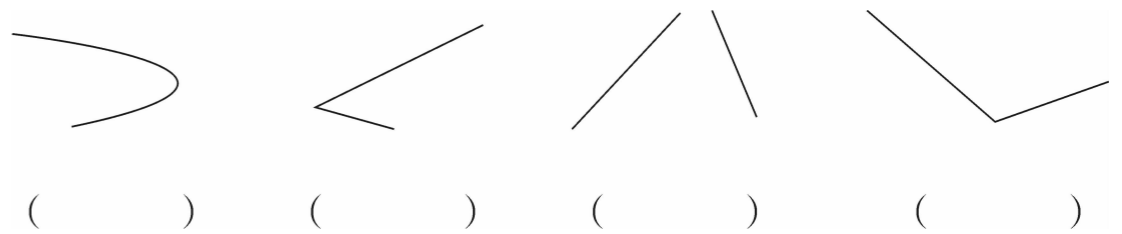
1. 一个角有()个顶点,有()条边。
2. 一个三角尺上,有()个角,其中有()个直角。
3. 2 时整,时针和分针形成的角是()角。
4. 正方体的每个面上都有()个直角,这个正方体上一共有()个直角。
5. 把一副三角尺上的一个直角和一个锐角拼起来,得到的角一定是()角。
6. 红领巾上有()个角,其中最大的那个角是()角。
7. 一张纸剪去一个角后,如图 , 还剩()个角,()个钝角。剪去的图形有()个角,其中()个是直角。

二、判断。(正确的打“√”,错误的打“×”)(12 分)

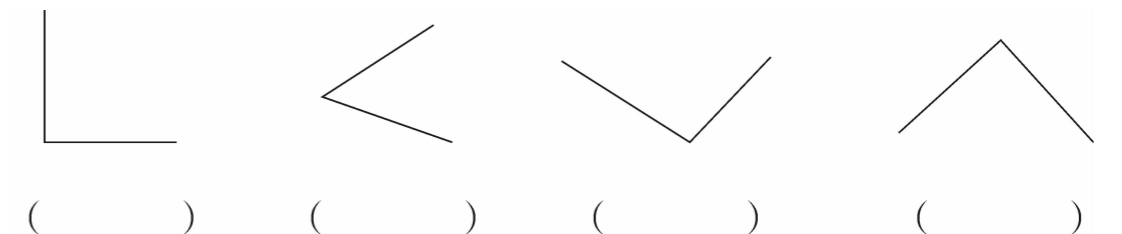
1. 任何一个角都有一个顶点和两条边。()
2. 把一个角的边长延长 4 厘米,这个角就变大了。()
3. 三角尺上的两个锐角拼成的一定是钝角。()
4. 判断一个角是锐角还是钝角,可以用三角尺上的直角比一比。()
5. 把一个三角形剪下 1 个角,还剩 2 个角。()
6. 数学书上的直角比三角尺上的直角大。()

三、慧眼识角。(16 分)

1. 下面哪些图形是角?(用“√”表示)



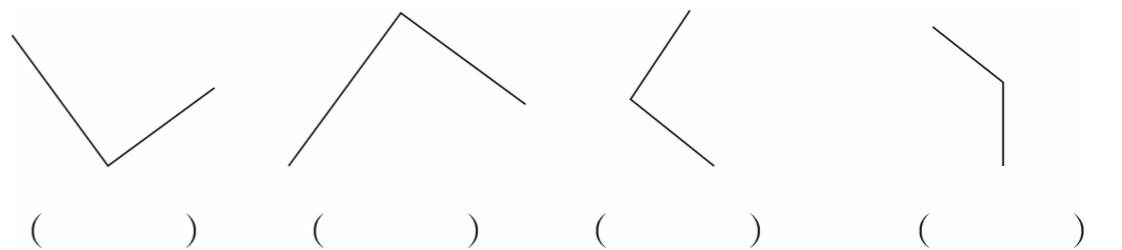
2. 下面哪些图形是直角?(用“√”表示)



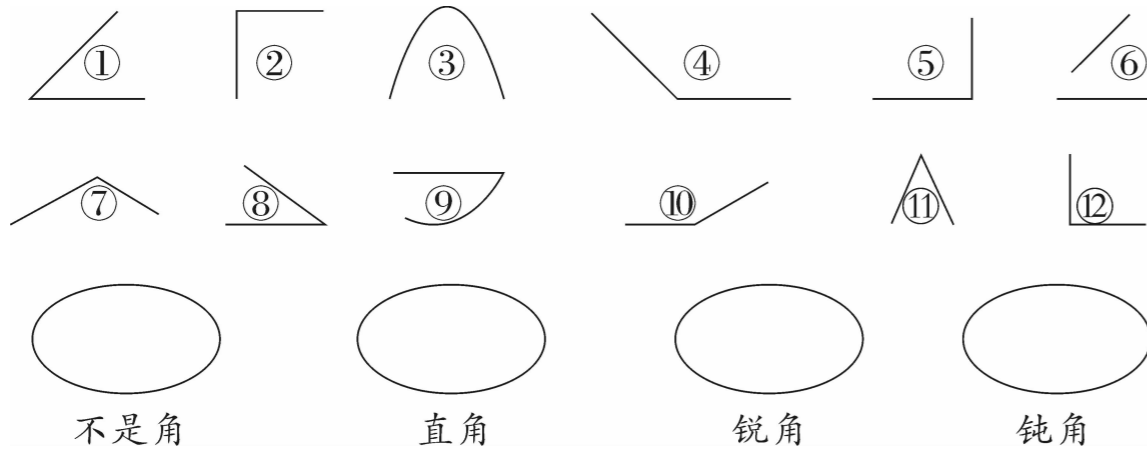
3. 下面哪些图形是锐角?(用“√”表示)



4. 下面哪些图形是钝角?(用“√”表示)



四、分一分,把序号填在相应的圈里。(12分)

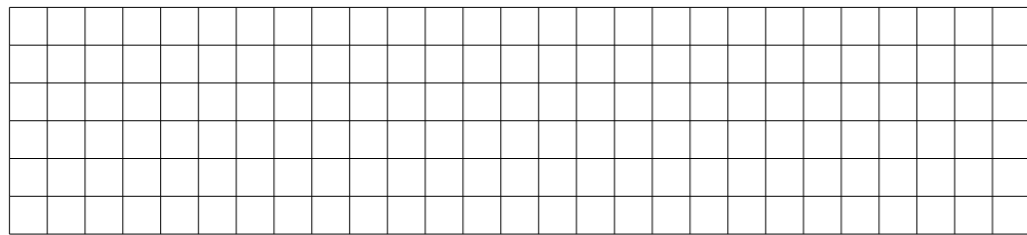


五、操作题。(16分)

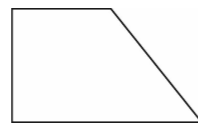
1. 以下面的点为顶点画一个直角,并写出各部分的名称。



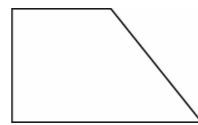
2. 在下面的方格中分别画一个锐角和一个钝角。



3. 在下面的图形里加一条线段,使它增加4个直角。



4. 在下面的图形里加一条线段,使它增加2个直角。




六、用三角尺上的角比比看。(9分)

1. 哪个角大,哪个角小?(在○里填上“>”“<”或“=”)(2分)

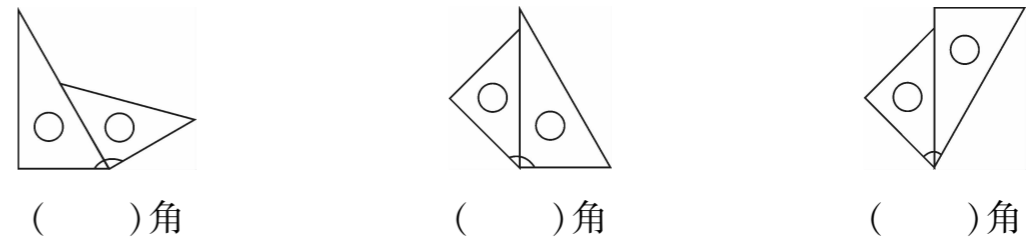


2. 比较角的大小,按从大到小的顺序排一排。(4分)

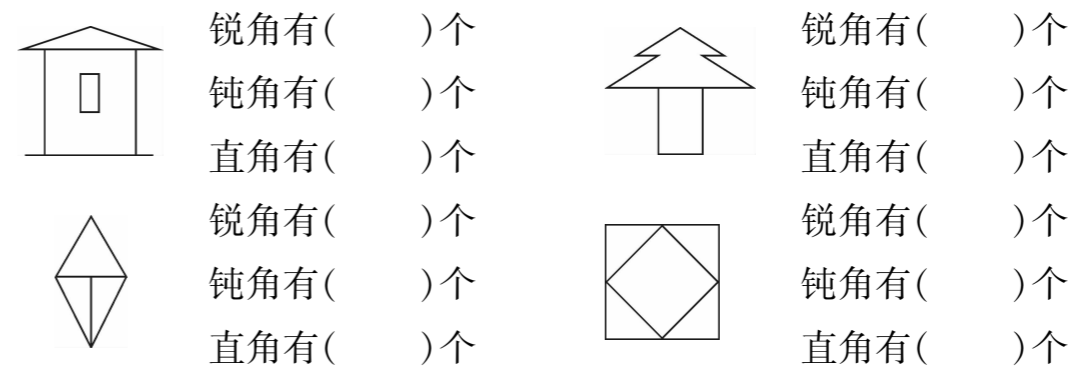


() > () > () > ()


3. 用三角尺拼出的分别是什么角?(3分)




七、数一数,填一填。(6分)




八、按要求在长方形上剪一刀。(画线表示)(8分)




剩下1个直角



剩下3个直角



剩下2个直角



剩下4个直角

家校联系卡

老师评语: _____

家长评语: _____

错题卡

单元考点	培优锦囊	典例分析
乘法的初步认识	加法算式中的几个加数必须相同,才可以用乘法计算	【例题】 一个作业本5角钱,4个作业本多少钱? 【分析】 由题意可知,求4个作业本多少钱,就是求4个5的和,用4的乘法口诀进行计算。 【答案】 $4 \times 5 = 20$ (角) 答:4个作业本20角钱。
5的乘法口诀	5的乘法口诀有5句,每相邻两句的积相差5 一五得五 二五得十 三五得十五 四五得二十 五五得二十五	
2,3,4的乘法口诀	2的乘法口诀有2句,每相邻两句的积相差2 一二得二 二二得四 3的乘法口诀有3句,每相邻两句的积相差3 一三得三 二三得六 三三得九 4的乘法口诀有4句,每相邻两句的积相差4 一四得四 二四得八 三四得十二 四四得十六	

过关检测

乘法的初步认识

一、填空。

- 求几个()加数的和用()计算比较简便。
- (福建·泉州)4个6相加用乘法算式表示是()或()。
- $3 \times 4 = 12$,读作(),其中3和4是(),12是()。

4.(湖北·汉川)把加法算式改写成乘法算式。


$7 + 7 = \square \times \square$

$2 + 2 + 2 + 2 + 2 = \square \times \square$

$5 + 5 + 5 = \square \times \square$

$4 + 4 + 4 + 4 = \square \times \square$


二、看图写出加法算式和乘法算式。



()个()

加法算式: _____

乘法算式: _____ 或 _____



()个()

加法算式: _____

乘法算式: _____ 或 _____

三、按要求画△,再写算式。


1. 每组画3个,画4组。



加法算式: _____

乘法算式: _____ 或 _____

2. 每组画2个,画5组。



加法算式: _____

乘法算式: _____ 或 _____

一、直接写出得数。

$1 \times 5 =$ $2 \times 5 =$ $3 \times 5 =$ $5 \times 5 =$
 $5 + 5 =$ $5 \times 4 =$ $20 + 5 =$ $5 \times 3 =$


二、看口诀,写出两道乘法算式。

四五二十 二五一十 三五十五 一五得五

三、在○里填上“>”“<”或“=”。

$5 \times 3 \bigcirc 17$ $5 \times 4 \bigcirc 23$ $5 + 4 \bigcirc 5 \times 4$
 $15 + 10 \bigcirc 5 \times 5$ $2 \times 5 \bigcirc 16 - 6$ $3 \times 5 \bigcirc 2 \times 5$


四、看图写出算式和口诀。

1. 

$\square \times \square = \square$

$\square \times \square = \square$

口诀: _____

2. 

$\square \times \square = \square$

$\square \times \square = \square$

口诀: _____

一、把下列口诀补充完整。

$1 \times 2 =$ $1 \times 5 =$ $2 \times 2 =$ $2 \times 5 =$
 $1 \times 3 =$ $2 \times 3 =$ $3 \times 3 =$ $3 \times 5 =$
 $5 \times 4 =$ $5 \times 2 =$ $4 \times 3 =$ $2 \times 4 =$

二、选择。(把正确答案的序号填在括号里)

1. 1 乘 3 得()。
- ①1 ②2 ③3


2. 3 个 3 相加的和是()。

- ①0 ②3 ③9

3. 一个小朋友吃 2 颗糖,3 个小朋友吃多少颗糖? 下面列式正确的是()。


- ① $2 + 3$ ② 2×3 ③ $3 + 3 + 3$

三、看图写出算式和口诀。

1. 

$(\quad) \times (\quad) = (\quad)$

口诀: _____

2. 

$(\quad) \times (\quad) = (\quad)$

口诀: _____

一、列式计算。

1. 3 个 4 相加是多少? 2. 3 和 4 相加是多少?

二、判断。(正确的打“√”,错误的打“×”)

1. $3 \times 4 = 4 \times 4 \times 4$ ()
2. 因为 $2 + 2 = 2 \times 2$, 所以 $3 + 3 = 3 \times 3$ 。 ()
3. (安徽·芜湖)4 个 5 相加就是 4×5 。 ()
4. 两个数相乘,积一定比这两个数的和大。 ()

家校联系卡

老师评语: _____

家长评语: _____

错题卡

考点梳理

单元考点	培优锦囊	典例分析
乘加 乘减	对于不全是相同加数而求和的问题,可以列成乘加算式或乘减算式进行计算,这样的算式先算乘法,后算加减法	【例题】 欢欢和乐乐折纸鹤和幸运星,每人折了3个纸鹤和3个幸运星。两人一共折了多少个纸鹤和幸运星? 【分析】 可以从两人共折了多少个纸鹤和幸运星的角度去思考,也可以先求出每个人折的总数,再求和。
6的乘法口诀	6的乘法口诀有6句,每相邻两句的积相差6 一六得六 二六十二 三六十八 四六二十四 五六三十 六六三十六	【答案】 $3+3=6$ (个) $6\times 2=12$ (个) 答:两人一共折了12个纸鹤和幸运星。

过关检测

乘加 乘减

一、直接写得数。

$2\times 3+3=$

$3\times 3-2=$

$3\times 4+5=$

$2\times 2-4=$

$4\times 2+12=$

$4\times 1-2=$

$4\times 4+2=$

$3\times 5-5=$

$4\times 4+4=$

二、填空。

1. 5个2相加的和是(),再加上3的结果是()。

2. 4和3相乘的积是(),再减去8的结果是()。

3. (浙江·杭州)一个乘数是4,另一个乘数是5,积是(),再加上16的结果是()。

4. 在计算“ $4\times 4-10$ ”时,先算()法,再算()法。

5. 在○里填上“>”“<”或“=”。

$3\times 2+2$ ○ 9

$3+3+3+7$ ○ 20

$4\times 4-3$ ○ 15

$4\times 4+1$ ○ 4×5

$1\times 4+4$ ○ 2×4

$3\times 5+3$ ○ 3×4

三、列式计算。

1. 比2个4的和少5的数是多少? 2. 3乘5再加上16的结果是多少?

四、解决问题。

1. 3名小朋友一共折了多少只纸鹤?



我折了3只纸鹤。

我们2人每人折了4只纸鹤。



2. (山东·临沂)兔爸爸每天要吃6个萝卜,兔妈妈每天要吃5个萝卜。

(1) 3只小兔和兔妈妈每天一共要吃多少个萝卜?

我们3个每天要吃4个萝卜。



(2) 3只兔子每天吃的萝卜合起来比兔爸爸吃的多几个?

一、在括号里填上合适的数。

$(\quad) \times 3 = 18$ $4 + 6 = (\quad)$ $1 + (\quad) = 6$
 $3 + (\quad) = 9$ $6 + 5 = (\quad)$ $6 \times 6 = (\quad)$

二、补全下列口诀,并写出两道乘法算式。

三六()	四六()	五六()
_____	_____	_____
_____	_____	_____
二六()	四五()	三四()
_____	_____	_____
_____	_____	_____


三、连一连。

5×6 $6 + 6$ 4×6 $6 + 6 + 6$


6×3 2×6 6×5 6×4

6和4相乘 3×6 6和5相乘 6×2

四、看图列式计算。

1. 

$(\quad) \times (\quad) = (\quad)$
 $(\quad) \times (\quad) = (\quad)$

2. 

$(\quad) \times (\quad) = (\quad)$
 $(\quad) \times (\quad) = (\quad)$

五、(河南·周口)亮亮看一本故事书,每天看6页,看了4天,还有18页没有看。这本故事书一共有多少页?

一、括号里最大能填几?

$(\quad) \times 5 < 21$ $2 \times (\quad) < 8$ $3 \times (\quad) < 10$
 $(\quad) \times 6 < 25$ $3 \times (\quad) < 20$ $6 \times (\quad) < 15$
 $(\quad) \times 2 < 13$ $5 \times (\quad) < 16$ $4 \times (\quad) < 10$

二、在○里填上“+”“-”或“×”。

$6 \bigcirc 5 = 11$ $3 \bigcirc 6 = 9$ $3 \bigcirc 6 = 18$
 $4 \bigcirc 6 = 10$ $5 \bigcirc 5 = 25$ $5 \bigcirc 4 = 20$
 $2 \bigcirc 5 \bigcirc 3 = 13$ $4 \bigcirc 3 \bigcirc 2 = 10$

三、小兔灰灰种了2行萝卜,一行4个,一行5个;小兔花花种了4行萝卜,每行5个。

1. 小兔灰灰一共种了多少个萝卜?

2. 小兔花花一共种了多少个萝卜?

家校联系卡

老师评语: _____

家长评语: _____

错题卡

一、直接写得数。(8分)

$6 \times 1 =$	$5 \times 5 =$	$3 \times 5 =$	$2 \times 4 =$
$2 \times 2 =$	$6 \times 4 =$	$4 \times 4 =$	$3 \times 3 =$
$5 \times 2 =$	$6 \times 5 =$	$5 \times 4 =$	$6 \times 6 =$
$1 \times 6 + 5 =$	$3 \times 5 + 12 =$	$6 \times 5 - 7 =$	$5 \times 3 - 3 =$

二、填空。(35分)

1. 把下面的口诀补充完整。

二三() 四四() 三六()

二五() 三五() 六六()

2. 3个5相加,写成乘法算式是()或(),其中()和()是乘数。

3. (湖南·长沙)一个乘数是2,另一个乘数是6,积是();两个乘数都是4,积是()。

4. 写出积是12的乘法算式: _____、_____、_____。

5. 一只小鹿有4条腿,3只小鹿有()条腿,5只小鹿有()条腿。

6. 在○里填上“>”“<”或“=”。

$6 \times 4 \bigcirc 25$	$4 \times 4 \bigcirc 16$	$5 \times 2 \bigcirc 2 \times 3 + 4$
$3 \times 3 \bigcirc 6$	$6 \times 2 \bigcirc 10$	$4 \times 4 \bigcirc 4 + 4 + 4$
$4 \times 3 \bigcirc 7$	$2 \times 2 \bigcirc 4$	$3 \times 5 \bigcirc 2 \times 6$


7. (河南·郑州)在○里填上“+”“-”或“×”。

$3 \bigcirc 3 = 9$	$4 \bigcirc 2 = 8$	$6 \bigcirc 5 = 1$	$4 \bigcirc 2 = 6$
$6 \bigcirc 3 = 18$	$5 \bigcirc 5 = 10$	$4 \bigcirc 6 = 24$	$6 \bigcirc 4 = 2$


三、判断。(正确的打“√”,错误的打“×”)(5分)

- 在乘法里,乘得的结果叫积。 ()
- 5个6相加,列算式是 $5 + 6 = 11$ 。 ()
- 两个乘数都是4,列算式是 $2 \times 4 = 8$ 。 ()
- 计算 4×5 和 5×4 时都可以用“四五二十”这句口诀。 ()
- $5 + 5 + 5 = 5 \times 5 - 5$ ()

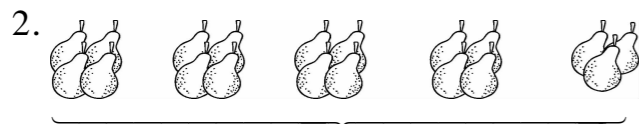
四、选择。(把正确答案的序号填在括号里)(12分)

- 求“4个5相加的和是多少”,列式正确的是()。
① $4 + 5$ ② 4×5 ③ $4 + 4 + 4 + 4 + 4$
- $3 + 3 + 3 + 3 + 3 + 5$ 可以改写成()。
① 3×6 ② $3 \times 6 - 1$ ③ $3 \times 5 + 5$
- 下面算式中,得数最大的是()。
① $6 - 2$ ② $6 + 2$ ③ 6×2
- 1个6加上3个6是()。
① 2个6 ② 3个6 ③ 4个6
- 1支钢笔5元,1支铅笔3元,买2支钢笔和1支铅笔一共需要()元。
① 8 ② 15 ③ 13
- 根据左图,列式正确的是()。
① 5×3 ② $5 \times 2 + 3$ ③ $5 \times 2 - 3$

五、列式计算。(6分)




$\square \times \square = \square$ (只)



$\square \times \square + \square = \square$ (个)

六、按要求画一画,再写算式。(10分)


1. 画4排△,每排5个。



一共有多少个△?

列式为: _____

2. 画3排○,第1排6个,第2排6个,第3排4个。



一共有多少个○?

列式为: _____

七、解决问题。(24分)

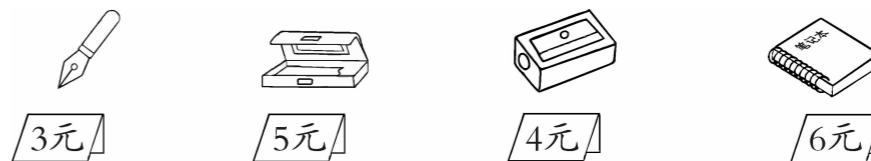
1. 做一件衣服需要2米布,做6件同样的衣服需要多少米布?(4分)

2. (甘肃·兰州)6头大象运木头,每头运3根,还有2根木头没有运走。原来一共有多少根木头?(4分)

3. 军军写了3行大字,每行5个;亮亮写了2行大字,一行3个,一行5个。军军一共写了多少个大字?亮亮一共写了多少个大字?

(6分)

4. 买文具。(10分)



(1) 买1支钢笔和1个文具盒一共需要多少钱?(5分)

(2) 买2个笔记本和1个铅笔刀一共需要多少钱?(5分)

 大题加练

6杯水可以装满1壶,4壶水可以装满1桶。1桶水可以装满几杯?