

教育部人文社会科学项目“中小学全效学习方案研究与实验”研究成果

全效学习

QUANXIAO XUEXI ZHONGKAO XUE LIAN CE

中考学练测



历史 (YL版)

《全效学习》编写组 编

CES 湖南教育出版社
PUBLISHING & MEDIA

图书在版编目 (CIP) 数据

全效学习·中考学练测·历史: YL 版/
《全效学习》编写组编. —长沙: 湖南教育出版社, 2016. 11
ISBN 978-7-5539-4574-3

I. ①全… II. ①全… III. ①中学历史课—初中—升学参考资料 IV. ①G634

中国版本图书馆 CIP 数据核字 (2016) 第 293111 号

全效学习·中考学练测·历史 (YL 版)

《全效学习》编写组 编

责任编辑: 李海棠

封面设计: 田园

出版发行: 湖南教育出版社

地 址: 长沙市韶山北路 443 号

网 址: <http://www.hnepb.com>

电子邮箱: hnjycbs@sina.com

微信服务号: 多点学习

客 服: 电话 0731-85486979

经 销: 湖南省新华书店

印 刷: 湖南凌宇纸品有限公司

开 本: 880mm×1230mm 1/16

印 张: 14

字 数: 493 千

版 次: 2016 年 12 月第 1 版第 1 次印刷

书 号: ISBN 978-7-5539-4574-3

定 价: 40.00 元

本书如有印刷、装订错误, 可向承印厂调换

版权所有 侵权必究

目 录

◎ 一轮考点复习

第一板块 中国古代史

第 1 课时	中华文明的起源和奴隶制文明	1
第 2 课时	统一国家的建立	4
第 3 课时	政权分立和民族融合	7
第 4 课时	繁荣与开放的社会	9
第 5 课时	经济重心的南移和民族关系的发展	11
第 6 课时	统一的多民族国家的巩固和社会的危机	13

第二板块 中国近代史

第 7 课时	列强的侵略与中国人民的抗争	16
第 8 课时	近代化的起步	19
第 9 课时	新民主主义革命的兴起	22
第 10 课时	中华民族的抗日战争	26
第 11 课时	人民解放战争的胜利	29
第 12 课时	近代经济、社会生活和文化	31

第三板块 中国现代史

第 13 课时	中华人民共和国的成立和巩固	33
第 14 课时	社会主义道路的探索	35
第 15 课时	建设有中国特色社会主义	37
第 16 课时	祖国统一、外交、国防与科技成就	39

第四板块 世界古代、近代史

第 17 课时	世界古代史	41
第 18 课时	欧美主要国家的社会巨变	43
第 19 课时	殖民地人民的抗争、资产阶级统治的巩固扩大和国际工人运动	46
第 20 课时	第二次工业革命和第一次世界大战	49

第五板块 世界现代史

第 21 课时	苏联社会主义道路的探索	51
第 22 课时	凡尔赛—华盛顿体系下的东西方世界	53
第 23 课时	第二次世界大战和战后资本主义各国的发展	55
第 24 课时	战后社会主义国家与亚非拉国家	58
第 25 课时	战后世界格局的演变	60
第 26 课时	世界近现代科技和文化	62

第六板块 湖南地方文化常识

第 27 课时	湖南古代史	64
第 28 课时	湖南近现代史	66

◎二轮专题提升

专题一	民族团结与祖国统一	70
专题二	中华民族的伟大复兴	73
专题三	制度创新与改革开放	77
专题四	大国的崛起——美国、日本、英国、法国、俄国	79
专题五	科技与经济全球化	83
专题六	两次世界大战与国际格局的演变	86
专题七	思想解放与传统文化	88
专题八	资产阶级革命	92
专题九	海防建设	95
<hr/>		
阶段检测卷(一)		183
阶段检测卷(二)		187
阶段检测卷(三)		191
阶段检测卷(四)		195
阶段检测卷(五)		199
<hr/>		
参考答案		203



一轮考点复习

第一板块 中国古代史

第 1 课时 中华文明的起源和奴隶制文明



时间概述



考点梳理

1. 中国境内的远古人类

北京人

时间: 距今约 70 万—20 万年间。

地点: _____。

2. 原始的农耕生活

原始居民	生活地点	使用工具	农作物	意义	房屋
河姆渡人	浙江余姚河姆渡	_____	水稻	我国是世界上最早种植水稻、粟和蔬菜的国家	_____式
半坡人	陕西西安半坡村	_____	_____、蔬菜		_____式

3. 神奇的远古传说

炎黄的传说

时间: 传说 4000 多年以前。

地点: _____。

历史地位: ①传说 _____ 是农业生产的创始人。

② _____ 是中华文明的创始者, 被尊称为“人文初祖”。

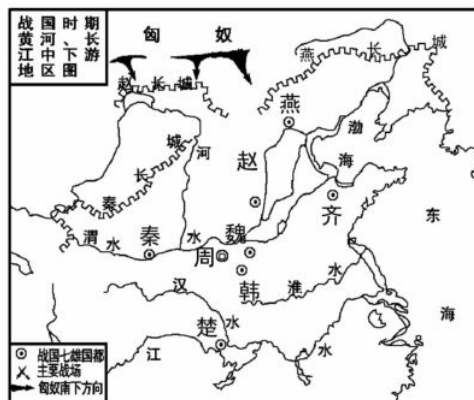
③后人尊奉炎帝、黄帝为 _____ (汉族的前身) 的祖先。

4. 夏、商、西周的更替

朝代	建立时间	都城	建立者	暴君
夏	_____	阳城	_____	桀
商	约公元前 1600 年	后定都殷	汤	纣
西周	公元前 1046 年	镐京	_____	周幽王

5. 春秋五霸和战国七雄

朝代	时间	性质	代表
东	春秋(公元前 770—公元前 476 年)	奴隶社会瓦解时期	春秋五霸: _____、晋文公、楚庄王、吴王阖闾和 _____
周	战国(公元前 475—公元前 221 年)	封建社会形成时期	战国七雄: 齐、楚、秦、燕、赵、魏、韩(巧记:“齐楚秦燕赵魏韩, 东南西北到中间”)



战国形势图



6. 商鞅变法

内容		作用
(1)承认_____,准许自由买卖		确立了封建土地所有制
(2)奖励	奖励生产(努力种田织布的,可以免除徭役)	提高了劳动者的积极性,促进了经济发展
	奖励军功(按军功大小授予爵位和田宅,废除没有军功的贵族的特权,触犯了奴隶主贵族的根本利益)	打击了奴隶主的势力,增强了军队的战斗力
(3)推行_____	全国设 31 县,由国君直接派官吏治理	建立了中央集权制度,对后世影响深远

意义:商鞅变法废除了旧制度,促进了农业生产,提高了军队战斗力,使秦国成为战国后期最富强的诸侯国,为以后兼并六国、统一中国,打下了坚实基础。

7. 先秦文化

(1)文字

甲骨文:殷墟出土的刻在龟甲和兽骨上的文字,今天的汉字与它有着一脉相承的关系。我国有文字可考的历史从_____开始。

金文:商、周时期,一些_____上铸刻有文字,由于古人称铜为金,所以这种文字叫做金文(又叫做钟鼎文)。

(2)青铜工艺:右图是殷墟出土的_____,它是目前我国已发现的最大的青铜器。



(3)水利工程

都江堰:战国时期,由_____主持修建,是一项综合性的_____工程。

(4)绘画

长沙出土的_____和_____,是我国最古老的帛画。

(5)思想文化

思想学派	代表人物	主要思想主张		备注
儒家	孔子	政治思想	核心是“_____”	创始人
		教育贡献	创办私学,因材施教,温故知新等	
		文化成就	整理《诗经》,编纂《春秋》等,《论语》由其弟子整理而成	
	历史地位	孔子的学说后来成为封建文化的正统思想,在中国和世界思想史上占有重要地位		
	孟子	认为“_____”,“_____”;主张实行“仁政”;反对连年不断的兼并战争		
道家	老子	认为事物有对立面而且能相互转化,政治上主张“_____”		创始人
	庄子	主张顺其自然,“乐天安命”		
墨家	墨子	主张“兼爱”“非攻”“尚贤”		创始人
法家	韩非	主张改革;提倡法治;提出建立君主专制中央集权的封建国家		是秦国中央集权政治的理论基础
兵家	孙武	《孙子兵法》		《孙子兵法》是世界上第一部兵书
	孙臧	《孙臧兵法》		

(孔子、老子和孙武是春秋时期各思想学派的代表人物,其余为战国时期各思想学派的代表人物)



考点提升

1. 河姆渡遗址距今 6000 多年,出土了稻谷和稻壳。而湖南境内发现的远古遗存中也发现了稻谷。所以,河姆渡人不是世界上最早种植水稻的古人类。在答题时,一定要注意有没有其他限制条件。在没有出现湖南的几处远古遗址的情况下,较早种植水稻的人,可以说是河姆渡人。2016 年岳阳中考选择题就有此类型题目,失分较多。


2. 启是我国世袭制下产生的第一个国王,但不是夏朝第一个国王,夏朝的建立者是禹。



归类探究

类型之一 掌握原始农耕文化的特征

例 1 [2016·苏州]在下列图片中,反映出我国长江流域河姆渡原始居民文化特征的是 ()



①陶器上的稻穗纹



②鱼纹彩陶盆



③干栏式房屋



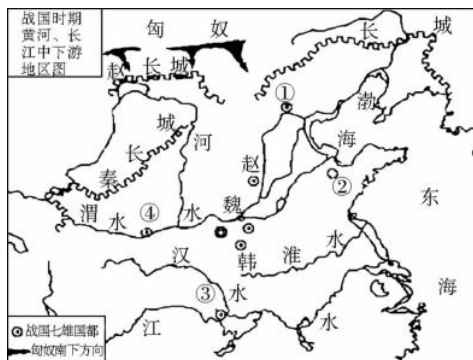
④半地穴式房屋

- A. ①② B. ①③ C. ②③ D. ②④

【点悟】该类型题目主要从原始居民的生产生活状况进行命题,尤其是河姆渡、半坡等原始居民种植的农作物、居住房屋等的差异,要注意不同农耕文化的地域性差异。

类型之二 识记春秋战国时期的争霸及各国的地理位置

例 2 [2016·郴州]下图是《战国七雄形势图》,其中①②③④所示位置分别是 ()

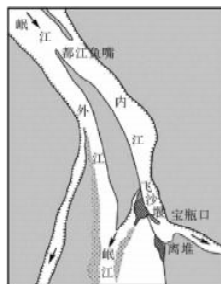


- A. 秦、楚、齐、燕 B. 齐、楚、秦、燕
C. 燕、齐、秦、楚 D. 燕、齐、楚、秦

【点悟】此题以战国时期各国的地理位置为切入点,考查战国七雄的相关知识。解题的关键是认真阅读历史地图,识记战国七雄的地理位置。

类型之三 完整准确地认识都江堰

例 3 [2016·福州]下图所示的工程至今仍发挥着防洪灌溉的作用,该工程是 ()



- A. 都江堰 B. 灵渠
C. 大运河 D. 通惠河

【点悟】此题以地图的形式,考查都江堰的相关知识。所以平时我们应注意识别重要的地图。

类型之四 掌握商鞅变法

例 4 [2015·郴州]战国时期,各诸侯国相继变法,其中秦国商鞅变法最为彻底。下列属于商鞅变法内容的是 ()

- A. 实行官吏俸禄制,严惩贪污
B. 颁布均田令
C. 宣布农奴获得人身自由
D. 奖励耕战

【点悟】商鞅变法是春秋战国时期具有重大影响的变法活动,是考查的重点,一般会从变法的背景、内容、影响等角度进行命题,在学习中要注意全面掌握。



课时作业

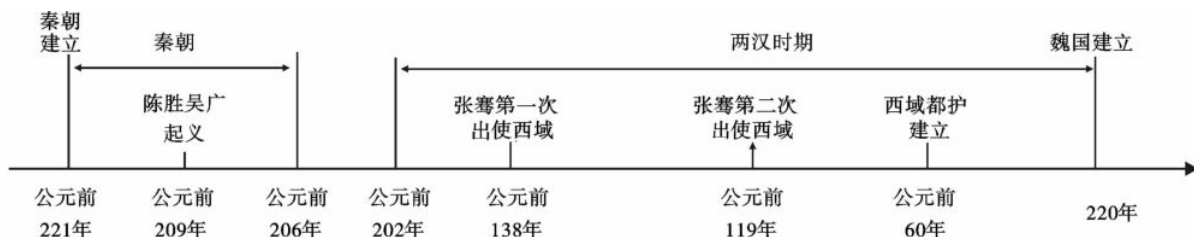
(见配套《课时作业本》P97)



第2课时 统一国家的建立



时间概述



考点梳理

1. 秦朝的统一

(1) 时间和人物

如右图：公元前_____年，秦王_____灭掉六国，建立秦朝，定都咸阳。

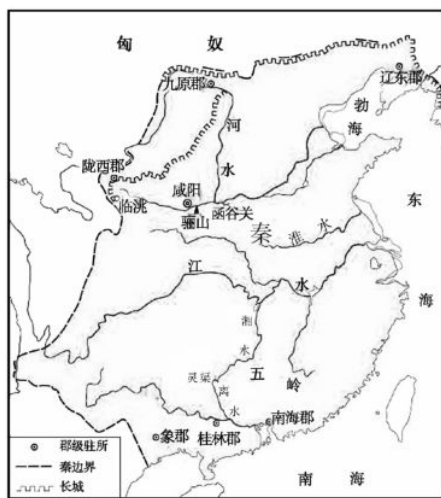


(2) 秦朝加强中央集权的主要措施

领域	措施	影响
政治	秦创立了一套君主专制的中央集权制度，_____是国家的最高统治者，中央设“三公”：_____（掌管行政）、太尉（掌管军事）、御史大夫（负责监察百官），在地方推行_____	开创了我国中央集权政治的先河，对中国历史产生了深远影响
经济	统一货币（_____）和度量衡	对于促进各地的经济文化交流和维护国家统一具有极其重大的意义
思想文化	统一文字，使用_____，推广隶书 “焚书坑儒”（除朝廷外，民间只许收藏秦史、医药、占卜、种树的书）	
军事	北击匈奴，夺取河套地区；修筑长城（西起临洮，东到辽东）；统一南越地区，开凿灵渠等	秦朝疆域广大，成为我国历史上第一个统一的多民族封建国家

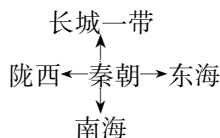
(3) 秦朝的疆域

东到_____，西到陇西，南到_____，北到长城一带，是当时世界上最强大的国家之一。



秦朝疆域图

为方便记忆，也可采用示意图的形式，标示如下：



2. 评价秦始皇

我们要辩证地、全面地评价秦始皇。

他的“功”：①政治上：统一中国，开创了中国历史上首次大一统的局面，建立起一整套君主专制中央集权的国家制度；②经济上：统一货币、度量衡和车轨，大修驰道；③文化上：统一文字；④军事上：北击匈奴，修筑万里长城。

他的“过”：①秦始皇实行残暴的统治，刑法苛严，赋税沉重，兵役、徭役繁多，人民苦不堪言；②秦始皇为了加强思想控制，“焚书坑儒”，给我国古代思想文化造成了重大损失。

总之，秦始皇功大于过。

3. 陈胜、吴广起义

时间、地点：公元前 209 年，陈胜、吴广在_____发动起义。

意义：它是我国历史上第一次大规模的农民起义。



4. 汉武帝的“大一统”

领域	措施	影响
政治上	颁布“_____”	解除了王国对中央的威胁
思想上	采纳董仲舒的“_____”的建议	儒家思想在古代中国的统治地位从此确立
军事上	派卫青、霍去病大败匈奴	基本解除了匈奴对北部边郡的威胁
民族关系上	两次派_____出使西域	建立了西汉与西域各国的友好关系

5. 张骞通西域

汉武帝时,张骞两次出使西域,建立了西汉与西域各国的友好关系,加强了经济文化交流,促进了西域的开发。张骞通西域为后来西域都护的设置和丝绸之路的开通,打下了基础。公元前 60 年,西汉设立_____,这是今新疆地区归属中央政权的开始。

6. 丝绸之路

路线:从_____出发,经_____,今新疆地区,到达中亚、南亚和西亚,再转运到大秦,形成了著名的丝绸之路。

意义:开辟了中国与西方的联系,促进了东西方之间的经济文化交流;丰富了汉朝的经济文化内容,在一定程度上促进了汉武帝“大一统”局面的形成。

7. 秦汉的科技和文化

(1)造纸术

_____时,我国人民已经能够用麻和丝絮造纸。东汉时,宦官_____改进造纸术。造纸术发明后,对人类文化的传播和发展起了不可估量的作用。

(2)张仲景和华佗及其主要医学成就

东汉时期的医学家_____,写成医学著作_____,他被后人尊称为“医圣”。东汉时期,名医华佗创制了全身麻醉药剂“_____”。他是世界上最早用全身麻醉方法做手术的医生,被后世尊为外科鼻祖。他还编成“五禽戏”锻炼身体。

(3)佛教的传入和道教的兴起

佛教起源于古代_____,_____末年传入我国。东汉时期,_____兴起于我国民间。

(4)《史记》

西汉著名史学家_____所著的《史记》,是我国第一部_____。

(5)秦汉时期的雕塑、绘画成就

_____是秦汉时期雕塑作品的杰出代表,也是迄今为止世界上出土的最大艺术宝库。_____出土的帛画,是汉代帛画中的稀有珍品,也是我国古代艺术的珍品。

(6)秦长城的起止点

秦长城西起_____,东到辽东。



考点提升

1. 比较秦始皇、汉武帝巩固统治所采取的措施

领域	秦始皇	汉武帝
政治	秦王嬴政称皇帝;在中央,设丞相、太尉、御史大夫;在地方,推行郡县制,建立起中央集权制度	颁布“推恩令”,削弱诸侯国势力,加强中央集权
经济	统一文字、货币、度量衡、车轨	
思想	“焚书坑儒”,加强思想控制	“罢黜百家,独尊儒术”
军事	①命蒙恬反击匈奴,夺取河套地区,修筑万里长城;②派兵统一南越地区,开凿灵渠	派卫青、霍去病大败匈奴,巩固了统治

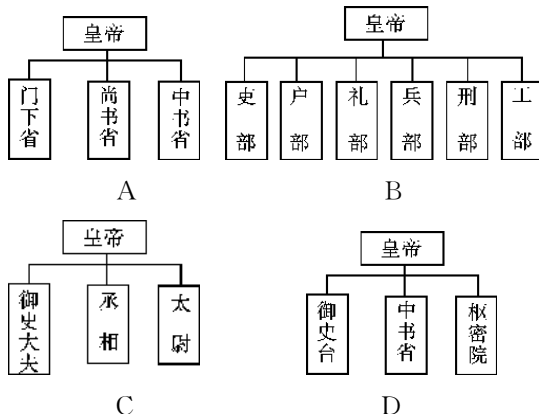
2. 随着国家“一带一路”战略的提出与实施,丝绸之路的知识成为了各地中考命题的热点。一定要准确、完整、深刻理解丝绸之路开辟的背景、路线、历史意义与现实意义,并体会走在丝绸之路上的商人们克服困难的艰辛,进而学习他们可贵的精神品质。



归类探究

类型之一 掌握秦始皇加强中央集权的史实

例 1 [2015·菏泽]下列中国古代四个历史时期中央行政系统的简表中,属于秦朝的是 ()



【点悟】此类型题目考查秦始皇加强中央集权的主要措施,解题的关键是在平时的学习中注意归纳总结。



类型之二 理解汉武帝“大一统”的主要史实

例2 [2016·娄底]据史书记载：“公元前127年，汉皇帝下了一道命令，规定嫡长子只可继承封地的一半，余下的封地分给其他子弟。于是，封地不断缩小，其重要性也不断下降。”这段材料主要体现了汉武帝的哪一项措施 ()

- A. 颁布“推恩令”
- B. 实行分封制
- C. 派张骞出使西域
- D. “罢黜百家，独尊儒术”

【点悟】此类型题目主要从汉武帝巩固“大一统”的各项措施来命题，复习时要准确把握汉武帝在政治、经济、思想文化、军事等方面的措施，并注意与历史上其他皇帝的相关措施的区别，尤其是与秦始皇的区别。

类型之三 认识丝绸之路在中外交流中的作用

例3 [2016·常德]习近平总书记提出共建“丝绸之路经济带”和“21世纪海上丝绸之路”的战略构想，旨在借“丝绸之路”这一历史符号，沟通历史与未来，连接中国与世界。中国古代“丝绸之路”的开通 ()

- A. 使世界连成了一个整体
- B. 加速了殖民扩张和殖民掠夺
- C. 促进了区域文明的交流
- D. 促进了亚非与拉美地区的贸易往来

【点悟】此题以丝绸之路为切入点，考查其相关知识。解题的关键是理解丝绸之路的作用，并培养用历史知识来观察、理解当今形势的能力。

类型之四 掌握中国古代的医学成就

例4 [2016·襄阳]下列属于我国古代杰出的医学家及其成就是 ()

- A. 祖冲之和圆周率
- B. 贾思勰和《齐民要术》
- C. 郦道元和《水经注》
- D. 张仲景和《伤寒杂病论》

【点悟】要准确了解中国古代不同时期著名的医学家及其成就。



课时作业

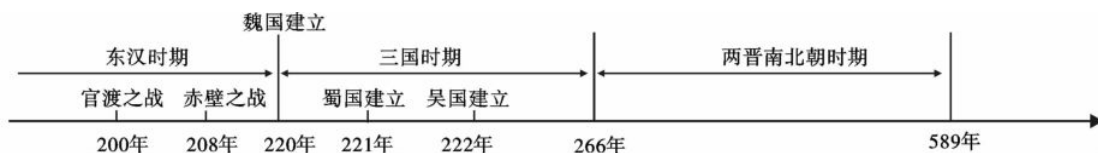
(见配套《课时作业本》P100)



第3课时 政权分立和民族融合



时间概述



考点梳理

1. 三国鼎立局面的形成

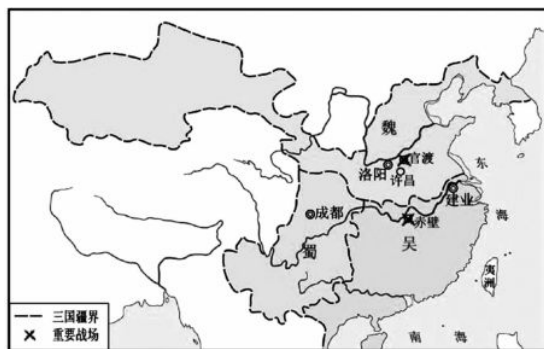
背景:东汉末年,军阀割据混战。

官渡之战:200年,_____以少胜多,打败袁绍,为统一北方奠定了基础。

赤壁之战:208年,_____以少胜多,打败曹操,为_____局面的形成奠定了基础。

三分天下:

国号	建立时间	建立者	都城	备注
魏	220年	曹丕	洛阳	东汉结束
蜀	221年	刘备	成都	
吴	222年	孙权	建业	三国鼎立局面形成



三国鼎立形势图

2. 江南地区的开发

原因	(1)东汉末年以来,北方人口大量南迁,带来了劳动力、生产工具、先进技术以及农作物品种。 (2)江南地区相对安定,统治者实行休养生息政策。 (3)江南地区自然条件相对优越
影响	江南经济的开发,为我国_____的逐渐南移奠定了基础,南方经济逐渐赶上北方

3. 北魏孝文帝改革

背景	439年,北魏统一黄河流域后,各族人民和睦相处,互相影响,民族融合的趋势增强
目的	为了革除落后习俗,吸收汉族的先进文化,巩固_____的统治,孝文帝拓跋宏进行了改革
内容	(1)实行_____,严惩贪污; (2)颁布_____; (3)迁都_____; (4)革除鲜卑旧俗,接受汉族先进文化
意义	有利于北方经济的恢复和发展,促进了北方各族社会的进步,加快了_____的进程

4. 三国两晋南北朝时期的科学和艺术

祖冲之和圆周率:南朝_____是我国古代著名的数学家和天文学家。他在世界上第一次把圆周率的数值精确到小数点后_____位数,比欧洲早1100年。

《齐民要术》:北魏_____著的《齐民要术》是我国现存第一部内容完整的农书,也是世界农学史上的名著。

书法、绘画、雕塑的主要成就:

(1)东晋大书法家_____集书法之大成,被后人尊为“书圣”,代表作有_____。

(2)魏晋南北朝时期,绘画艺术有较大发展,著名画家有_____。他擅长人物画,代表作有_____和《洛神赋图》。

(3)佛教的传入给中国古代的石窟雕塑艺术增添了光彩。北朝时期的著名石窟有山西大同的_____和河南洛阳的_____。



考点提升

1. 两晋南北朝时期,江南地区经济虽然得到开发,但总体上还是落后于北方地区。要从江南地区开发的史实中学会思考当今西部大开发和扶贫攻坚中的启示。

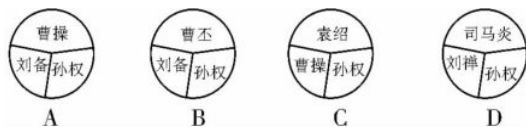
2. 北魏孝文帝改革的核心措施是“汉化”,即接受汉族先进文化。



归类探究

类型之一 了解三国鼎立形成的史实

例 1 [2016·德州]东汉末年群雄并起,最终形成三国鼎立的格局。下列示意图符合公元 222 年三国局势的是 ()



【点悟】 此类型题目旨在考查学生读图识图的能力,这要求我们在平时学习时注意运用地图和示意图,树立正确的历史空间观念。

类型之二 探究魏晋南北朝时期江南经济发展的原因

例 2 促成南朝时期江南经济开始赶上北方的最重要的原因是 ()

- A. 南朝的社会环境相对稳定
- B. 北方先进生产工具和生产技术传入南方
- C. 北方劳动人民大量南迁
- D. 南朝统治者注意调整统治政策

【点悟】 关键要注意题目中问的是“最重要的原因”。

类型之三 掌握北魏孝文帝改革的意义

例 3 “胡人汉服”“汉人胡食”反映了汉族和少数民族之间相互影响、相互融合。下列哪一项改革凸显了这一现象 ()

- A. 商鞅变法
- B. 张骞出使西域
- C. 北魏孝文帝改革
- D. 文成公主入藏

【点悟】 要准确掌握孝文帝改革的意义,并注意与其他历史事件的意义相区别。

类型之四 了解魏晋南北朝时期的文化

例 4 周杰伦创作的“中国风”歌曲:“兰亭临帖,行书如行云流水。……忙不迭,千年碑易拓却难拓你的美……”你唱到他的这首歌时会想到以下哪位书法家 ()

- A. 张旭
- B. 王羲之
- C. 柳公权
- D. 颜真卿

【点悟】 抓住题干材料中的关键词,是解答此类型试题的关键。



课时作业

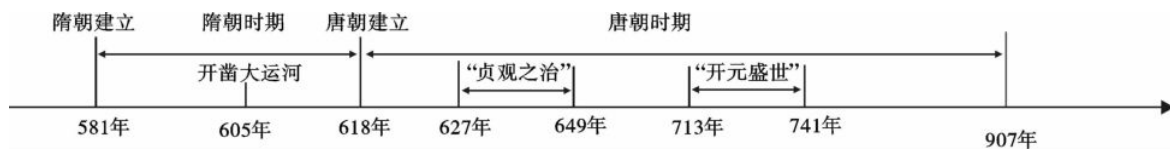
(见配套《课时作业本》P102)



第4课时 繁荣与开放的社会



时间概述



考点梳理

1. 隋唐科举制度

创立	科举制度诞生于隋朝，_____开始采用分科考试的方法来选拔官员。_____时设进士科，我国科举制度_____
完善	唐朝科举制度逐渐完善，常设科目是_____和进士科。前者主要考试儒家经典；后者主要考试_____和政论。唐太宗大大扩充了国学规模。_____时设殿试、创武举。唐玄宗时，诗赋成为进士科考试的主要内容
影响	科举制度打破了门第的限制，给一般的知识分子提供了做官参政的机会；拓宽了选才道路，提高了官员素质；促进了文化教育事业的发展，有利于社会的进步
衰退及废除	明朝采用八股取士的制度，钳制了人们的思想。1905年废除科举制度

2. “贞观之治”

(1) 含义

_____在位期间，政治较为清明，经济得到发展，民族关系和睦，对外交流频繁，科技文化繁荣，国力逐渐强盛，史称“贞观之治”。

(2) 主要内容

政治方面：①知人善任，重视纳谏。如重用房玄龄、杜如晦、_____、李靖、李勣等。②加强中央集权，沿用隋朝的_____；合并州县，精简机构。

经济方面：轻徭薄赋，提倡节俭。

教育方面：完善科举制度，大兴学校。

民族关系：实行开明的民族政策，被尊称为“_____”。

对外关系：实行开放的对外政策，加强了中外交流。

(3) 评价：唐太宗是一位很有作为的封建皇帝。

3. 女皇武则天

_____是我国历史上唯一的女皇帝，也是一位有作为的皇帝。她在位期间，重用有才能的人，首创殿试和武举，重视发展农业生产，社会经济继续发展，为唐朝走向全盛奠定了基础，史称她的统治有“_____”。

4. 开元盛世

唐玄宗统治_____的年号为开元。他选拔德才兼备的姚崇、宋璟、张九龄等为相，大力发展生产。他还整顿吏治，严格执法。这一时期社会稳定，经济空前繁荣，国力强盛，唐朝进入全盛时期，史称“_____”。

5. 唐与吐蕃交往的史实

(1) 唐太宗时，松赞干布和_____成亲，他们为促进汉藏两族的友好关系做出了重大贡献。

(2) 8世纪初期，金城公主入藏，与吐蕃首领尺带珠丹成亲。尺带珠丹上书唐朝皇帝说，吐蕃同唐朝已经“和同为一家”了。

(3) 821年，吐蕃与唐朝会盟。唐蕃会盟碑至今仍屹立在拉萨大昭寺前，成为汉藏两族团结友好的象征。

6. 唐代的中外交往

国家	形式	概况	影响
日本	遣唐使	_____开始，来华遣唐使十多批	推动了日本的社会改革，促进了日本经济文化的发展
	东渡	_____时，_____东渡日本，至第六次才成功	传播了唐朝文化和佛教；设计唐招提寺
天竺	玄奘西游	_____，玄奘西游天竺(今_____)，取经	他的《_____》成为研究古代印度和中亚地区历史、佛教的典籍

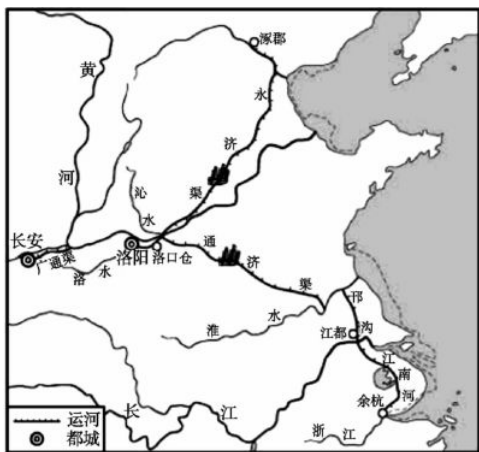


7. 隋唐的科技文化

赵州桥:隋朝工匠_____设计和主持修建的赵州桥是世界上现存最古老的石拱桥。



大运河:_____年,_____下令开凿大运河。大运河以_____为中心,北通涿郡,南达_____,全长2 000多千米,是南北交通的大动脉。



隋朝大运河

雕版印刷术:隋唐时期,我国已发明_____。晚唐印制的_____是世界上现存的最早标有年代的雕版印刷品。印刷术的发明,有利于人类文明的传播和发展。

诗歌:

诗人	生活时代	代表作品	备注
李白	盛唐	《蜀道难》《望庐山瀑布》《行路难》	“诗仙”
杜甫	唐朝由盛转衰	“三吏”“三别”	“诗圣”
白居易	晚唐	《长恨歌》《琵琶行》	

书法:唐朝书法艺术高度繁荣,著名书法家_____、柳公权的楷书,张旭(“草圣”)、_____的草书,各成一体。

绘画:唐初画家_____以人物故事画著名。盛唐画家吴道子,人物画和山水画的造诣很高,被后人尊为“_____”。

雕塑:隋唐时期开凿的_____ (又称千佛洞)是我国最大的石窟艺术群,也是世界艺术的瑰宝。



考点提升

1. “贞观之治”与“开元盛世”出现的共同原因

(1)隋朝政治制度的创新与经济的繁荣为唐朝加强中央集权 and 经济发展创造了条件。(2)统治者吸取隋朝

灭亡的教训,勤于政事,廉洁奉公,政治清明。(3)帝王励精图治,发展生产。(4)人民安居乐业,辛勤劳动,创造了大量的物质财富等。

2. 西汉、唐朝前期出现盛世局面的共同原因

(1)吸取前代暴政而亡的教训,实行相对比较宽松的政策,缓和阶级矛盾。(2)统治者贤明,重用贤臣,勤于政事。(3)实行开明的民族政策和开放的对外政策。(4)广大劳动人民的辛勤劳动等。



归类探究

类型之一 准确识记科举制的主要内容

例1 [2016·怀化]“朝为田舍郎,暮登天子堂。将相本无种,男儿当自强。少小须勤学,文章可立身。满朝朱紫贵,尽是读书人。”这首诗反映的是我国古代哪种选官制度 ()

- A. 禅让制 B. 世袭制
C. 推举制 D. 科举制

【点悟】 本题考查科举制的相关史实。解题的关键是准确理解科举制的主要内容。

类型之二 正确理解唐朝的盛世局面

例2 [2016·山西]文学创作来源于社会生活。唐诗作为一个时代的主要文学表达形式,能从不同侧面反映出唐朝的社会风尚。下列诗句中,反映唐朝盛世经济繁荣的是 ()

- A. 稻米流脂粟米白,公私仓廩俱丰实。(杜甫)
B. 春风得意马蹄疾,一日看尽长安花。(孟郊)
C. 小头鞋履窄衣裳,青黛点眉眉细长。(白居易)
D. 历览前贤国与家,成由勤俭败由奢。(李商隐)

【点悟】 本题考查唐朝的繁荣局面。解题的关键是记住一些基本历史知识。

类型之三 全面、准确地认识唐朝的对外关系

例3 下列古迹中,能体现鉴真向日本传播佛教文化做出重大贡献的是 ()

- A. 那烂陀寺 B. 唐招提寺
C. 敦煌莫高窟 D. 帕特农神庙

【点悟】 本题以历史遗迹为切入点,考查唐朝开放的对外关系的相关史实。解题的关键是要准确理解鉴真东渡的贡献。

类型之四 了解隋唐时期的建筑艺术

例4 “百尺长虹横水面,一弯新月出云霄”,这是人们对世界上现存最古老的石拱桥的赞美。它的设计者是 ()

- A. 鲁班 B. 李春
C. 李时珍 D. 宋应星

【点悟】 要了解中国古代的建筑成就。



课时作业

(见配套《课时作业本》P105)



第5课时 经济重心的南移和民族关系的发展



时间概述



考点梳理

1. 辽、宋、西夏、金等政权的并立

政权名称	民族	建立时间	建立者	都城	备注
辽	契丹族	916年	耶律阿保机	上京	澶渊之盟
北宋	汉族	960年	赵匡胤	东京	
西夏	党项族	1038年	元昊	兴庆	
金	女真族	1115年	完颜阿骨打	会宁	
南宋	汉族	1127年	赵构	临安	

2. 我国古代经济重心的南移

原因	①魏晋南北朝时期,南方得到开发,南北经济差距缩小。 ②唐末、五代以来,北方多战乱,南方相对安定。 ③北方人口大量南迁,不仅带来了劳动力,而且还带来了先进的生产工具和技术。 ④南方丰富的自然资源和优越的自然环境
完成时间	两宋时期
表现	①南方人口数量增多。 ②南方财税收入比重增大。 ③宋朝时发明了新农具“_____”,出现了牛转翻车。原产越南的_____推广到江淮一带。南方粮食产量增多,有“苏湖熟,天下足”的谚语。 ④江西_____成为著名瓷都。 ⑤南方商业发达,北宋时期四川地区出现了世界上最早的纸币“_____”

3. 成吉思汗统一蒙古和忽必烈建立元朝

13世纪初铁木真统一蒙古后,于_____年被推举为大汗,尊称_____,建立了以和林为都城的蒙古汗国。1271年,_____改国号为大元,次年定都_____,忽必烈就是元世祖。

4. 元朝民族关系的发展

原因	①元朝的统一给各族人民相互交往和学习提供了有利环境。 ②元朝建立行省,设宣政院(管辖西藏)和澎湖巡检司(管辖澎湖和琉球),加强了对全国的统治
表现	①蒙古族等各族人民成批迁往内地,汉族人也大量来到边疆,各族人民杂居相处,互通婚姻,逐渐融合。 ②许多信仰伊斯兰教的阿拉伯人、波斯人迁入中国,同维吾尔、蒙、汉等民族逐步融合,形成一个新的民族——_____。 ③在元朝统一的疆域内,各民族互相学习、交往,促进了各民族经济文化的发展,丰富了各族人民的物质和文化生活,从而也促进了我国统一的多民族国家的巩固和发展

5. 四大发明

(1)西汉时期,我国人民已能用麻和丝絮造纸。东汉时,_____改进造纸术,制成优质廉价的植物纤维纸,人们把他的发明叫“蔡侯纸”。造纸术发明后,逐渐传到世界各地,对人类文化的传播和发展起了不可估量的作用。

(2)战国时,人们利用天然磁石制成“_____”,这是最早的定向工具。_____朝时,制成了指南针,用于海上交通。指南针的发明促进了航海事业的发展。

(3)_____代已有火药配方的记载,唐末开始用火药制造武器。_____时期,火药在军事上广泛使用,出现了火箭、突火枪、火炮和火铳等火药武器。同时,人们用火药制成各种焰火和鞭炮。

(4)隋朝时发明了雕版印刷术。11世纪中期,北平民_____发明了活字印刷术。活字印刷术比雕版印刷术灵活、经济、省时,很快便得到推广。

四大发明经由_____传入西方,对欧洲及世界文明的发展起到了重要作用。



6. 宋代的文学和艺术

宋词:

词人	生活时代	风格	代表作
苏轼	北宋	气势豪迈,雄健奔放	《念奴娇·赤壁怀古》
李清照	两宋之交	风格委婉,感情真挚,清新淡雅,明白如话	《如梦令·昨夜雨疏风骤》
辛弃疾	南宋	继承并发扬苏轼的词风	《破阵子·醉里挑灯看剑》

绘画:两宋时期,风俗画增多,代表作有北宋大画家张择端的_____等。元朝的赵孟頫是当时的画坛领袖,名作有_____。



考点提升

我国古代经济重心的南移是一个漫长的历史过程

(1)三国以前,我国的政治、经济中心都在北方,江南地区还非常落后。

(2)魏晋南北朝时期,北方人口大量南迁,带来了先进的生产技术和生产工具,江南地区得以开发,经济得到迅速发展——修建了许多水利工程,大片荒地被开垦为良田,这就为以后经济重心南移奠定了基础。

(3)两宋时期,南方经济在我国经济中的地位已经超过了北方。北宋时期,经济重心已经转移到了太湖流域;南宋时期政府的财政收入主要来自南方,特别是来自东南地区,因此到南宋时,我国形成了南方经济领先北方的格局,江浙地区成为我国经济的重心。

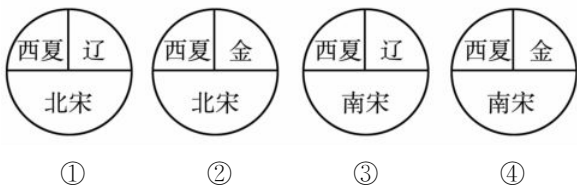
(4)元代南方经济继续发展,为便利南粮北运,元代开通漕运和海运,进一步表明了北方对南方的倚重。



归类探究

类型之一 了解辽、两宋、西夏、金、元政权并立的情况

例1 [2015·郴州]两宋时期民族政权并立,宋、辽、西夏、金有战有和。下列示意图正确的是 ()



A. ①②③

B. ①③④

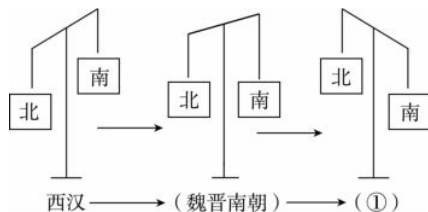
C. ①②④

D. ②③④

【点悟】此类型题目考查各少数民族政权并立的情况,复习时应结合地图进行区分,要注意各政权的位置,同时并存的是哪些,各政权分别是哪些民族建立的以及建立者和时间等。

类型之二 了解中国古代经济重心南移的史实

例2 [2015·苏州]下面示意图显示了我国古代经济重心的南移经历了一个漫长的过程,与图中①相对应的时期应该是 ()



A. 南朝

B. 唐朝

C. 宋朝

D. 元朝

【点悟】从三国两晋开始江南经济逐步得到发展,唐安史之乱后经济重心开始南移,至两宋时期南移过程完成。复习时要重点关注各个时期南方经济发展的原因和表现。

类型之三 了解成吉思汗的历史功绩

例3 [2016·内江]毛泽东《沁园春·雪》中说:“唐宗宋祖,稍逊风骚。一代天骄,成吉思汗,只识弯弓射大雕。”其中“宋祖”和“一代天骄”分别是 ()

A. 赵匡胤和铁木真

B. 赵匡胤和忽必烈

C. 赵构和铁木真

D. 赵构和忽必烈

【点悟】重要历史人物的历史活动要掌握,可通过对比或列表格的方式加强记忆。

类型之四 认识四大发明对世界文明发展的贡献

例4 我国古代四大发明中,促进了航海事业发展的是 ()

A. 火药

B. 造纸术

C. 印刷术

D. 指南针

【点悟】要准确理解和掌握我国古代四大发明。



课时作业

(见配套《课时作业本》P107)



第6课时 统一的多民族国家的巩固和社会的危机



时间概述



考点梳理

1. 明朝加强专制统治的主要措施

人物	措施
明太祖	在地方,废行省,设直属中央的三司,三司归中央管辖
	在中央,撤中书省,废_____,权分_____,六部直接听命于皇帝
	设特务机构_____,监视官吏、镇压人民
	实行_____,加强思想控制
明成祖	设置特务机构东厂

2. 郑和下西洋

条件: (1)明朝前期,经济发展,国力强盛。

(2)宋元以来,海上交通发达,造船、航海技术提高,指南针广泛使用。

(3)郑和本人的航海经验、组织才能。

目的: 为了扩大明朝的政治影响,加强与海外的联系。

时间早: 1405—1433年,比欧洲早_____。

次数多: 先后进行了7次之多。

范围广: 到过亚非30多个国家和地区,最远到达非洲东海岸和_____。

意义大: 促进了我国与亚非各国的经济文化交流和友好往来,是世界航海史上的空前壮举。

3. 戚继光抗倭

原因	明朝初年以来,倭寇骚扰我国东南沿海,严重威胁沿海人民的生命财产安全
经过	戚继光率领“戚家军”荡平了浙江倭寇,接着又在福建、广东和另一抗倭名将俞大猷共同作战,取得了抗倭斗争的最后胜利
意义	保卫了我国东南沿海人民的生命财产安全,维护了中华民族的利益,抗倭功绩永载史册;戚继光是我国的民族英雄

4. 清朝前期加强专制统治的主要措施

措施	影响
_____ 设立 _____	标志着我国封建君主集权的进一步强化
清朝前期大兴_____	加强了思想控制,阻碍了我国学术文化的发展

5. 保卫边疆

东南	收复台湾	背景	明朝后期,_____ 殖民者侵占台湾
		过程	1662年,_____ 收复台湾
		意义	维护了祖国领土主权的完整,显示了中国人民反抗侵略的英雄气概,郑成功是我国的民族英雄
	管理台湾	措施	①1683年,清军进入台湾 ②1684年,清朝设置台湾府,隶属福建省
		意义	有利于国家统一和海防的巩固
东北	雅克萨之战	过程	康熙帝派清军两次围攻_____,打败沙俄
		结果	1689年签订《_____》。它从法律上肯定了黑龙江和乌苏里江流域包括_____在内的广大地区都是中国领土