


2016年常德市初中毕业学业考试模拟试卷

地理

本书编写组 编



湖南教育出版社



2016年常德市初中毕业学业考试模拟试卷(一)

地 理

准考证号

--	--	--	--	--	--	--	--	--	--	--	--	--	--	--	--	--	--	--	--

姓名 _____

- 考生注意：**
1. 答题前，考生务必将自己的姓名、准考证号写在答题卡和该试题卷的封面上，并认真填涂和核对答题卡上的姓名、准考证号和科目；
 2. 选择题部分请按题号用 2B 铅笔填涂方框，修改时用橡皮擦干净，不留痕迹；
 3. 非选择题部分请按题号用 0.5 毫米黑色签字笔书写，否则作答无效；
 4. 在草稿纸、试题卷上答题无效；
 5. 请勿折叠答题卡，保持字体工整、笔迹清晰、卡面清洁；
 6. 答题完成后，请将试卷、答题卡放在桌上，由监考老师统一收回。

一、选择题(本大题共 25 个小题，每小题只有一个正确答案，每小题 2 分，共 50 分)

阅读下图，完成 1~2 题。



1. 仔细判读，关于图中四地的叙述，正确的是
A. ①地位于东半球，南半球
B. ②地位于加拿大
C. ③地位于北半球，西半球
D. ④位于东半球，中纬度
2. 关于四地地理事物和特征判断，正确的是
A. ①地附近有世界最大的河流
B. ②地居住着黄种人
C. ③地传统民居为吊脚楼
D. ④地石油资源丰富
3. 常德市面积约 1.8 万平方千米，人口约 620 万，我市的人口密度约为
A. 250 人/平方千米
B. 25 人/平方千米
C. 350 人/平方千米
D. 35 人/平方千米

据新华社电泰国交通部长阿空·丁披他耶拜实 2015 年 11 月 20 日宣布，泰中铁路合作项目定于 12 月 19 日举行奠基仪式，标志着这一合作项目启动。据此完成 4~5 题。

4. 泰国属于以下哪个区域
A. 东亚
B. 南亚
C. 中亚
D. 东南亚
5. 泰国向中国输出的农产品可能是
A. 大米、天然橡胶
B. 服装、电子产品
C. 黄麻、茶叶
D. 棉花、玉米

6. 常德的气候类型、1月、7月的平均气温分别是

- A. 地中海气候 15℃, 28℃
- B. 亚热带季风气候 -5℃, 29℃
- C. 亚热带季风气候 5℃, 28℃
- D. 温带季风气候 -10℃, 22℃

习近平总书记和李克强总理都强调指出,要把长江全流域打造成黄金水道,依托黄金水道建设长江经济带,长江黄金水道建设和长江经济带开放开发,都是事关全局的国家战略。据此并结合所学知识完成7~9题。

7. 下列山区,长江干流没有流经的是

- A. 横断山山区
- B. 巫山山区
- C. 唐古拉山山区
- D. 太行山山区

8. 不利于长江航运的是

- A. 长江流域人口多
- B. 冬季结冰期长
- C. 长江流域降水季节变化大
- D. 长江流域面积广

9. 关于长江干流的水文特征,叙述正确的是

- A. 上游流经青藏高原,横断山区,落差小
- B. 中游江面窄,利于建设跨江大桥
- C. 下流水流平缓,利于航运
- D. 中游河道弯曲,流速快,一泻千里

2015年9月22日至25日习近平主席首次访问美国,随团访问的还有联想集团总裁等15位中国著名企业家。据此完成10~11题。

10. 材料中提及的联想集团属于以下哪一产业部门

- A. 传统工业
- B. 高新技术产业
- C. 普通工业
- D. 服务业

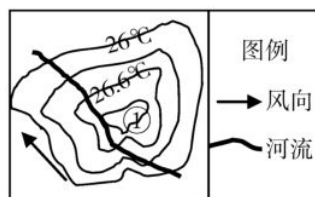
11. 以下哪一项不属于该产业的特点

- A. 科研人员比重大
- B. 知识含量高
- C. 更新换代快
- D. 产品价格便宜

12. 某中学学校分布在长1000米,宽800米的长方形区域,如果要把该学校的平面图绘制在长、宽均为50厘米的纸上,适宜采用的比例尺是

- A. 1:10000
- B. 1:20000
- C. 1:1000
- D. 1:2500

读我国某城市及其郊区七月某日平均气温分布图,完成13~15题。



13. 造成图示地区日平均气温如此分布的原因可能是
- A. 地形因素
B. 太阳辐射的影响
C. 人类活动的影响
D. 洋流的影响
14. 图中①处等温线的气温可能为
- A. 26.6 °C
B. 26.9 °C
C. 26.3 °C
D. 25.6 °C
15. 图中的风向及其影响正确的是
- A. 西风，带来寒冷
B. 东南风，将市城区的大气污染物带到西北郊区
C. 东南风，吹动河水流向西北
D. 东南风，将市城区的大气污染物带到东南郊区

阅读俄罗斯轮廓简图，完成 16~17 题。



16. 关于图中 A 区域(虚线范围)的描述，正确的是
- A. 铁路运输为主，且大多南北走向
B. 大河众多，水运发达
C. 动植物资源种类丰富
D. 人口稀疏，亚寒带针叶林广布
17. 图中阴影区域为俄罗斯的主要农业区，不属于该地区发展农业生产的优势自然条件有
- A. 纬度相对较低，热量丰富
B. 河流流经，灌溉水源充足
C. 人口密集，劳动力资源丰富
D. 地形平坦，土壤肥沃

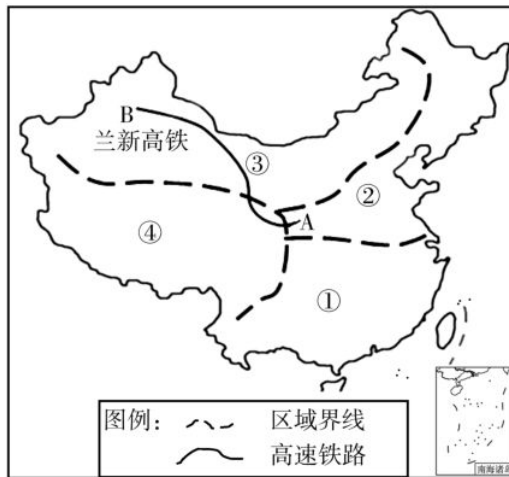
读我国某省区轮廓略图，完成 18~19 题。



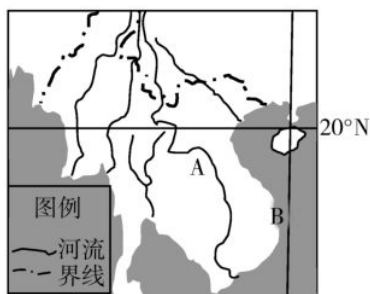
18. 图示省级行政单位位于我国的
- A. 南方地区
B. 北方地区
C. 西北地区
D. 青藏地区

二、综合题(4个小题,共50分)

26. 兰新高速铁路与古代丝绸之路在西北的线路基本平行,这条铁路的开通也为西北地区文化产业发展带来新机遇。甘肃旅游部门预计,兰新高铁开通以后,甘肃酒泉及下辖敦煌、嘉峪关、张掖等重要旅游景点的游客将会出现井喷式增长。结合材料与地图完成以下题目。(14分)



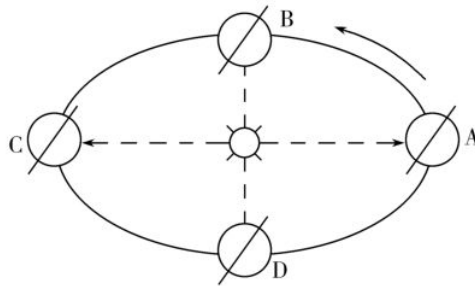
- (1) 图中①为我国四大地理区域中的南方地区,③为_____。常德所在的地理区域为:_____ (填数字)。
- (2) 区域①和②是以_____一线划分的,它与_____ mm 年等降水量线一致。
- (3) 区域③的地形是以高原和_____为主。
- (4) 兰新高铁南起 A 甘肃兰州,北至 B 新疆的_____ (填城市名称),经过了甘肃省、_____和新疆维吾尔自治区。
27. 读下面东南亚地区局部图,完成下列题目。(14分)。



- (1) 图中 A 河流因流经国家多,被誉为东方的多瑙河,该河在中国境内名称是_____,在东南亚被称为_____。
- (2) 图中 B 经线的度数可能为 ()
- A. 100°E B. 105°E
- C. 110°E D. 120°E

- (3)与图示东南亚地区隔海相望的我国省级行政单位有_____、_____。
- (4)根据图中河流的流向，判断图示地区的地势特征是_____。
- (5)图示地区最著名的矿产资源是_____。

28. 读“地球公转示意图”，回答问题。(12分)



- (1)在图中标出地球自转的方向。(2分)
- (2)图中对应的节气分别是：
A. _____ B. _____
- (3)一天正午，站在北回归线标志公园的人们发现不见自己的影子，这一天应该是_____ (节气)。
- (4)五一前后地球所处的位置在_____之间。
- (5)图中圆上的斜线表示_____。

29. 读“湖南省局部地区略图”，完成下列问题。(10分)



湖南省局部地区略图

- (1)填出图中字母代表的地理事物名称
城市 A _____ 矿产地 C _____
- (2)根据图中信息分析，湖南城市主要沿_____和_____分布。
- (3)常德交通便捷，经石长铁路，可以西达焦柳线、东达_____线(填南北向铁路名称)。

2016年常德市初中毕业学业考试模拟试卷(二)

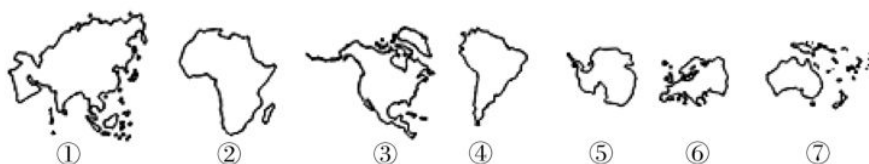
地 理

准考证号

姓名 _____

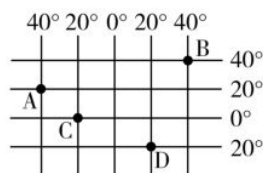
- 考生注意：**
1. 答题前，考生务必将自己的姓名、准考证号写在答题卡和该试题卷的封面上，并认真填涂和核对答题卡上的姓名、准考证号和科目；
 2. 选择题部分请按题号用 2B 铅笔填涂方框，修改时用橡皮擦干净，不留痕迹；
 3. 非选择题部分请按题号用 0.5 毫米黑色签字笔书写，否则作答无效；
 4. 在草稿纸、试题卷上答题无效；
 5. 请勿折叠答题卡，保持字体工整、笔迹清晰、卡面清洁；
 6. 答题完成后，请将试卷、答题卡放在桌上，由监考老师统一收回。

一、**选择题**(本大题共 25 个小题，每小题只有一个正确答案，每小题 2 分，共 50 分)
阅读世界七大洲轮廓图，完成 1~2 题。



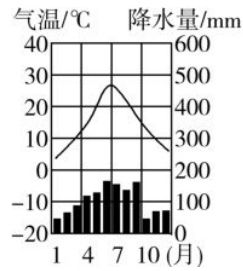
1. 下列不属于①⑥两个大洲分界线的是
A. 乌拉尔山脉
B. 大高加索山脉
C. 土耳其海峡
D. 苏伊士运河
2. 下列说法正确的是
A. ②③大洲隔太平洋相望
B. ③⑦两个大洲都临太平洋
C. ①大洲在⑥大洲的西边
D. ③④大洲以马六甲海峡为界

读经纬网简图，完成 3~4 题。



3. 图中各点位于中纬度、东半球、北温带的是
A. A 点
B. B 点
C. C 点
D. D 点
4. 图中 D 点位于 C 点的什么方向
A. 东北
B. 西南
C. 东南
D. 西北

阅读下面气温曲线与降水量柱状图，完成5~6题。



5. 关于图示气候类型的特征，叙述正确的是
- A. 夏季高温多雨，冬季寒冷干燥 B. 气温年较差达 30 °C 以上
- C. 全年降水均匀 D. 该气候下的河流不存在结冰现象
6. 下列城市可能为该气候类型的是
- A. 上海 B. 开罗
- C. 罗马 D. 圣保罗
7. 某班级关于世界的居民、语言、宗教与聚落展开了讨论，下列同学的发言，错误的有
- ①玲玲说，热带和寒带人口分布较少，温带人口分布多。②贝贝说，亚洲人种均为黄种人。③阳阳说，俄语不是联合国工作语言。④晶晶说，泰国佛教盛行。⑤果果说，新疆和北非一样，民居以平顶屋为主。
- A. 2 个 B. 3 个 C. 4 个 D. 5 个
8. 下列气候特征与主要影响因素对应正确的是
- A. 珠穆朗玛峰峰顶终年白雪皑皑——海陆因素
- B. 海南岛四季鲜果不断——地形因素
- C. 日本气候降水全年较东亚大陆上均匀——海陆因素
- D. 我国冬季平均气温最低在漠河——地形因素

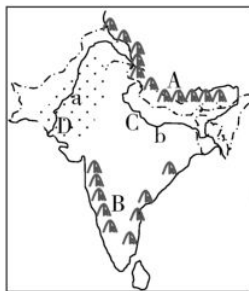
读下面北美洲示意图，完成9~11题。



9. 关于图中①处山脉的说法，正确的是
- A. 该山脉为安第斯山脉
- B. 由美洲板块与太平洋板块挤压形成
- C. 该山脉北段西坡降水比东坡少
- D. 图中山脉只分布在美国和加拿大

10. 关于②③④三处地理事物的说法，正确的是
- A. ②处近年来冰川覆盖面积越来越大
 - B. ③处五个大湖全部为美国和加拿大分界
 - C. ③处五大湖沟通了太平洋和大西洋
 - D. ④处河流内河航运发达
11. 关于⑤⑥两处地理事物的叙述，正确的是
- A. ⑤处有洲界线，国界线和日期变更线三线经过
 - B. ⑤处海峡沟通了太平洋和大西洋
 - C. ⑥处沿海地区钢铁、汽车等工业发达
 - D. ⑥处沿海地区煤炭资源丰富

阅读下面南亚地区略图，完成 12~14 题。



12. 关于图中 ab 两条河流的叙述，正确的是
- A. a 河主要流经热带季风气候区
 - B. b 河下游水稻、棉花产量大
 - C. b 河流域人民信奉伊斯兰教
 - D. a 河为印度河
13. 关于图中 ABCD 四处说法，错误的是
- A. A 处山脉中有古代海洋生物化石
 - B. B 处为高原地形
 - C. C 处为恒河平原
 - D. D 处为山地地形
14. 关于图中国家的叙述，正确的是
- A. B 所在国家软件制作业发达
 - B. D 所在国家与中国不接壤
 - C. B 所在国家为发达国家，D 所在国家为发展中国家
 - D. 图中南部岛屿属于 B 国
15. 下列诗句中，描述气候的是
- A. 东边日出西边雨，道是无晴却有晴
 - B. 夜来风雨声，花落知多少
 - C. 忽如一夜春风来，千树万树梨花开
 - D. 人间四月芳菲尽，山寺桃花始盛开
16. 关于日本的叙述，错误的是
- A. 海岸线曲折，多优良港湾
 - B. 拥有先进的技术
 - C. 拥有丰富的矿产资源
 - D. 是多火山、地震的国家

17. 巴西森林资源丰富，对全球气候影响较大，全世界都希望巴西重点保护的自然环境因素是

- A. 野生动物
- B. 热带草原
- C. 热带雨林
- D. 亚马孙河

阅读下面我国部分省区示意图，完成 18~19 题。



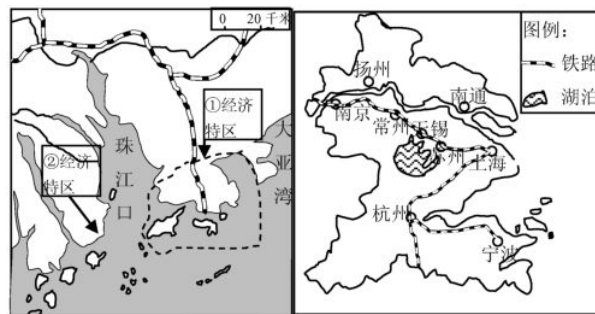
18. 关于①②两条河流的叙述，正确的是

- A. ①河是暖温带和中温带的分界线
- B. ②是我国最大河流，被称为“黄金水道”
- C. 洪泽湖泥沙沉积，湖底抬升，利于①河防洪
- D. ②干流流经我国地势的两级阶梯

19. 图中 A 省的简称和省会城市是

- A. 皖，合肥
- B. 豫，郑州
- C. 苏，南京
- D. 赣，南昌

阅读我国长江三角洲和珠江三角洲对比示意图，完成 20~22 题。



20. 左图中①②两经济特区和相邻的特别行政区分别对应正确的是

- A. ①—深圳—澳门 ②—珠海—香港
- B. ①—深圳—香港 ②—珠海—澳门
- C. ①—汕头—香港 ②—珠海—澳门
- D. ①—厦门—台湾 ②—深圳—香港

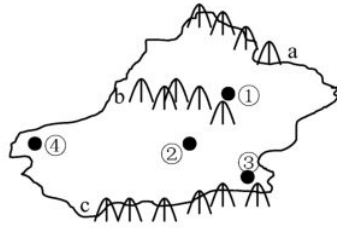
21. 珠江的干流是

- A. 东江
- B. 北江
- C. 西江
- D. 南江

22. 关于长江三角洲的经济下列说法正确的是

- A. 综合实力在全国居第二位
- B. 有“鱼米之乡”和“瓜果之乡”的美称
- C. 上海是长江三角洲区域的核心
- D. 制约长江三角洲发展的是交通不便问题

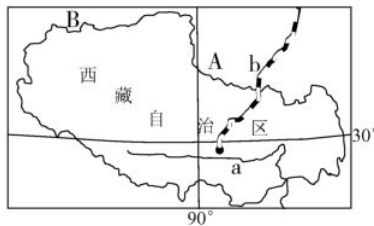
阅读下面我国某省区示意图，完成 23~24 题。



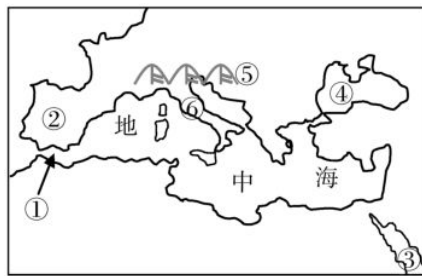
23. 图中 abc 三条山脉的名称依次是
- A. 天山、昆仑山、阿尔泰山 B. 阿尔泰山、天山、昆仑山
- C. 昆仑山、阿尔泰山、天山 D. 天山、阿尔泰山、祁连山
24. 图示省区的首府的位置在
- A. ① B. ② C. ③ D. ④
25. 下列关于黄土高原的叙述，正确的是
- A. 塬和梁普遍分布，峁分布较少
- B. 窑洞是当地传统民居
- C. 黄土高原水土流失在六月最严重
- D. 山西饮用水酸性较重，多食醋有利于酸碱中和

二、综合题(50分)

26. 2015年9月8日，西藏自治区成立50周年庆祝活动在拉萨布达拉宫广场举行，中央代表团向西藏赠送多项礼品。阅读下图并结合材料回答下列题目。(14分)



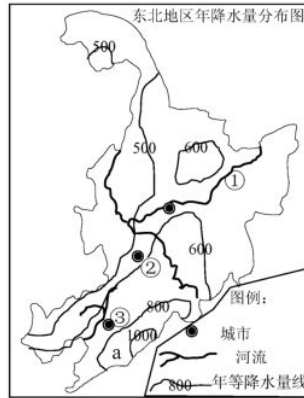
- (1) 图中 b 铁路被称为神奇的天路，名称是_____，连接西藏的首府拉萨和青海的省会_____ (填名称)。
- (2) B 省区的地形特点是_____。
- (3) a 河流的名称是_____，喜马拉雅山脉位于该河_____ (填南或北) 面。
- (4) 简述 a 河谷地区发展农业生产的优势条件 (至少回答 2 点)。(4分)
27. 阅读地中海及周边地区轮廓图，完成下列题目。(14分)



- (1) 图中①处海峡的名称是_____，它沟通了地中海与_____。

- (2) ②处半岛的名称是_____，该半岛上主要有两个国家，即西班牙和_____。
- (3) ③海域是世界盐度最高的海区，沟通它与地中海的运河名称是_____。
- (4) ⑤处山脉最高峰为勃朗峰，海拔 4810 米，根据板块构造理论，该处山脉由_____板块和_____板块挤压形成。

28. 读东北地区年降水量分布图，完成下列问题。(12 分)



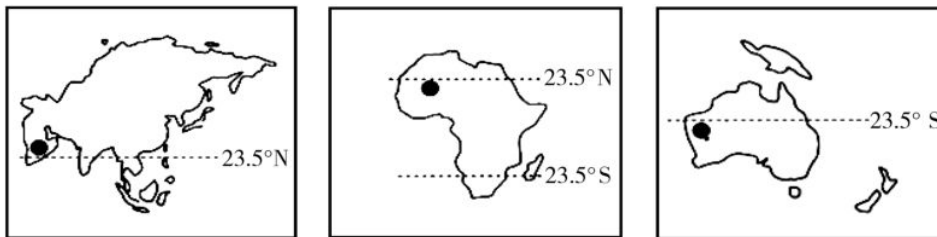
- (1) 图中①河段河流的流向是_____。
- (2) 图中②处城市年降水量的范围是_____。
- (3) 图中③处城市的名称是_____，该城市属于我国_____工业区。
- (4) 从干湿划分来看，图中 a 属于_____地区。
- (5) 从地图要素分析，该图缺乏_____。

29. 读“湖南省行政区划图”结合所学知识，回答下列问题。(10 分)



- (1) 湖南省山脉众多，位于湖南省南部与广东省交界处的山脉名称是_____。
- (2) 洞庭湖平原被誉为“鱼米之乡”，我省临洞庭湖的地级市有常德市、岳阳市和_____。
- (3) 根据图中信息判断，我省南北热量差异最大的地级市为_____。
- (4) 湘西自治州是我省唯一一个少数民族自治的地级行政单位，其中心城市为吉首，该州主要少数民族是_____族和_____族。

4. 上述材料中，涉及天气的有
 A. ②④⑤ B. ①③⑤ C. ③⑤ D. ①④⑤
5. 上述材料中，涉及气候的有
 A. ③④ B. ①④⑤ C. ④⑥ D. ③④⑥
6. ③和④两种现象形成的原因分别是
 A. 地形和地形 B. 纬度和地形
 C. 冷空气入侵和地形 D. 地球运动和纬度
- 读“亚洲、非洲和大洋洲轮廓图”，完成7~9题。

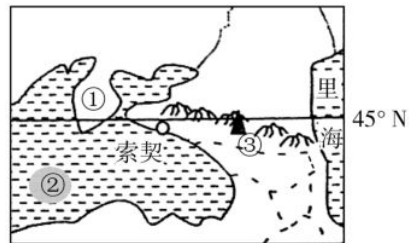


7. 三个大洲的轮廓图中加点地区的气候类型均为
 A. 热带沙漠气候 B. 热带雨林气候
 C. 亚热带季风气候 D. 地中海气候
8. 在三幅图中的岛屿中，可以找到相同的气候类型是
 A. 热带草原气候 B. 热带雨林气候
 C. 温带海洋气候 D. 地中海气候
9. 贝贝非常喜欢动物，在学习上述三个大洲时收集整理了许多动物的图片和资料，下列图片中的动物没有生活在以上三大洲的是



读下图，并结合所学知识，完成10~12题。

10. 图中①半岛战略地位重要，③山脉是大洲的分界线，①③的名称分别是
 A. 巴尔干半岛和乌拉尔山脉
 B. 伊比利亚半岛和阿尔卑斯山脉
 C. 克里米亚半岛和大高加索山
 D. 克里米亚半岛和斯堪的纳维亚山脉



11. 图中②海洋可以通过地中海联系大西洋，由②海进入地中海必须经过
 A. 波斯湾 B. 马六甲海峡
 C. 巴拿马运河 D. 土耳其海峡

12. 索契成为俄罗斯最大的冬季疗养地的原因是

- ①俄罗斯大部分地区位于高纬地区，冬季漫长而严寒，索契纬度低，冬天温暖
 ②索契有迷人的海滩和雪山，风光秀丽，环境优美 ③位于亚欧大陆的分界线附近，地理位置重要 ④工业发达，经济繁荣

- A. ①② B. ②③ C. ③④ D. ①④

2015年11月20日上午，正在亚丁湾西部海域集结点等候的我海军护航编队收到“振华13”轮主机故障，航速较慢，且周边海域有可疑海盗船只活动的通报。编队随即派出柳州舰为“振华13”轮实施特殊护航。读图完成下列13~15题。

13. 索马里这个国家所在的大洲是

- A. 欧洲 B. 非洲
 C. 亚洲 D. 大洋洲

14. 图①②③④中，表示亚丁湾海域的是

- A. ① B. ②
 C. ③ D. ④



15. 图中 A 半岛的自然地理特征是

- A. 多高原、山地和盆地 B. 多数大河滚滚北流
 C. 地势西高东低 D. 山河相间，纵列分布

16. 玲玲想通过邮局给远在外省某乡镇中学的表哥写信，为使书信顺利到达，按中国行政区划的等级，玲玲应在信封上方依次写清他表哥所在地的

- A. 省、县、乡、学校 B. 省、县、村、学校
 C. 乡、县、省、学校 D. 村、县、省、学校

读甲、乙、丙、丁四幅轮廓图，完成17~19题。



17. 上述四省中，跨越我国南方地区、北方地区、青藏地区和西北地区四大地理区域的是

- A. 甲 B. 乙 C. 丙 D. 丁

18. 图中四个省级行政中心均位于我国四大地理区域的哪个区域

- A. 北方地区 B. 南方地区 C. 西北地区 D. 青藏地区

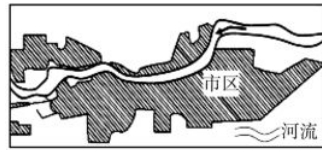
19. 图中山脉不是我国地势阶梯分界线的是

- A. 甲 B. 乙 C. 丙 D. 丁

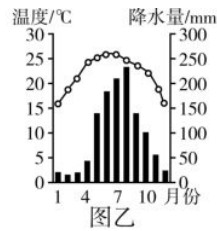
20. 我国冬季南北温差大，其根本原因是

- A. 纬度位置不同 B. 地势高低不同
 C. 海陆位置不同 D. 昼夜长短不同

图甲为台湾省某流域城镇分布示意图，图乙为该地气候类型图。读图回答 21~22 题。



图甲

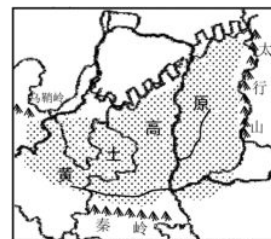


图乙


21. 影响该地城市呈带状分布的主要因素是
 A. 河流 B. 人口 C. 气候 D. 植被
22. 根据图乙，可以判断该河流
 A. 汛期短 B. 水量丰富 C. 含沙量大 D. 结冰期长

读黄土高原分布示意图，回答 23~24 题。

23. 黄土高原主要位于
 A. 宁、陕、豫、皖
 B. 甘、川、宁、豫
 C. 甘、宁、陕、晋
 D. 陕、晋、豫、皖

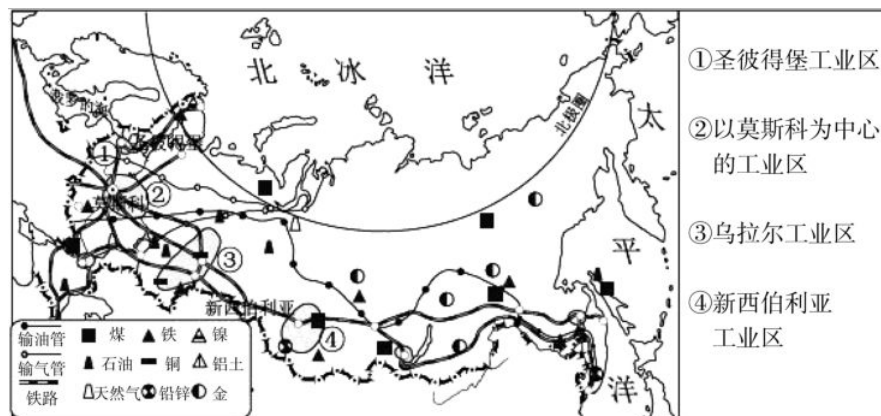


黄土高原分布示意图

24. 黄土高原水土流失的主要原因是
 ①土壤质地疏松 ②降水稀少 ③夏季多暴雨，降水季节变化大 ④过度开发
 ⑤修建梯田
- A. ①③④ B. ①②③ C. ②③④ D. ③④⑤
25. 图中符号  表示
 A. 山脉 B. 鞍部 C. 古长城 D. 分水岭

二、综合题(共 4 个小题，50 分)

26. 读“俄罗斯的矿产资源、工业和交通的分布示意图”，完成下列问题。(16 分)



- (1) 俄罗斯矿产资源丰富，写出其中两种：_____、_____。
- (2) 圣彼得堡工业区位于_____ (海洋) 沿岸，四大工业区中，位于亚洲的有_____ 个。