



《新编单元练测卷》编写组 编

# 新编 单元 练测卷

有练 | 有测 | 实用 | 好用



## 地理

湘教版

八年级上册



湖南教育出版社

### 图书在版编目(CIP)数据

新编单元练测卷. 地理八年级. 上册: 湘教版/《新编单元练测卷》编写组编. —长沙: 湖南教育出版社, 2016. 8  
ISBN 978-7-5539-4299-5

I. ①新… II. ①新… III. ①中学地理课—初中—习题集  
IV. ①G634

中国版本图书馆 CIP 数据核字(2016)第 195281 号

XINBIAN DANYUAN LIANCEJUAN

新编单元练测卷

地 理

八年级上册 湘教版

《新编单元练测卷》编写组 编

---

责任编辑: 程 鸷

封面设计: 游 麒

出版发行: 湖南教育出版社(长沙市韶山北路 443 号)

网 址: <http://www.hnepb.com>

电子邮箱: [hnjycbs@sina.com](mailto:hnjycbs@sina.com)

微信服务号: 多点学习

客 服: 电话 0731-85486979

总 经 销: 湖南省新华书店

印刷装订: 怀化市百草园印务有限公司

开 本: 880 mm×1230 mm 1/8

字 数: 155 千字

印 张: 5

版 次: 2016 年 8 月第 1 版 2016 年 8 月第 1 版第 1 次印刷

书 号: ISBN 978-7-5539-4299-5

定 价: 12.00 元

(本书若有印刷、装订错误, 可向承印厂调换)



# 第一章第一、二节练习卷

(时间: 90 分钟 满分: 100 分)

## 一、填空题 (共 38 分)

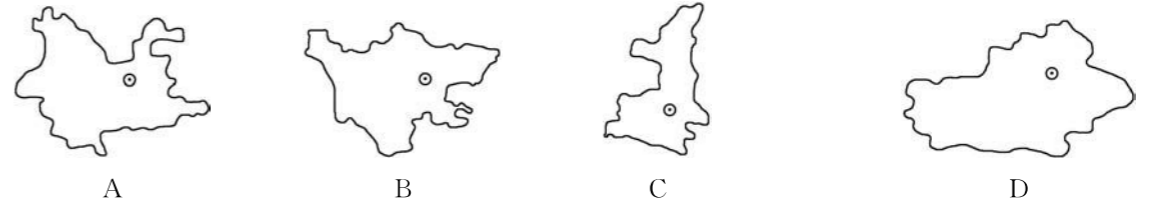
- 我国的地理位置: 从东西半球来看, 中国位于\_\_\_\_半球; 从南北半球看, 中国位于\_\_\_\_半球; 从世界大洲和大洋的位置看, 中国位于\_\_\_\_洲东部、\_\_\_\_洋西岸。
- 我国地理位置的优越性。
  - 从纬度位置看, 跨纬度广, 大部分位于\_\_\_\_带, 少部分位于\_\_\_\_带, 没有\_\_\_\_带, 有利于发展多种\_\_\_\_生产。
  - 从海陆位置看, 背靠世界最大大陆——\_\_\_\_, 面临世界最大洋——\_\_\_\_, 有利于对外交往和合作, 发展海洋事业, 是一个\_\_\_\_兼备的国家。
- 国土辽阔: 我国陆地面积约\_\_\_\_万千米<sup>2</sup>, 在世界各国中, 仅次于\_\_\_\_、\_\_\_\_, 居世界第 3 位。
  - 我国陆地国界线漫长, 达\_\_\_\_多千米, 陆上邻国共有\_\_\_\_个 (顺口溜: 东朝鲜、北蒙古, 东北、西北俄罗斯, 西部哈、吉、塔、阿、巴, 西南印度、尼和不, 南部缅、老、越)。
  - 我国是世界上重要的海洋大国, 大陆海岸线长达\_\_\_\_多千米, 我国海域分布有面积在 500 米<sup>2</sup> 以上的岛屿 6 500 多个。主要岛屿有\_\_\_\_、\_\_\_\_、\_\_\_\_群岛和南海诸岛, 有\_\_\_\_个海上邻国 (自北向南分别是韩国、日本、菲律宾、马来西亚、文莱、印度尼西亚)。我国领海的宽度为 12 海里。我国管辖的海域面积约\_\_\_\_千米<sup>2</sup>。濒临的海洋 (从北到南) 依次为: \_\_\_\_、\_\_\_\_、\_\_\_\_、\_\_\_\_。
  - 我国领土四至点: 最北是\_\_\_\_, 最南是\_\_\_\_, 最东是\_\_\_\_, 最西是\_\_\_\_。
- 现行行政区划: 我国现行的行政区划大致上分为\_\_\_\_ (自治区、直辖市)、\_\_\_\_ (自治县、县级市)、\_\_\_\_ (乡) 三级。我国共有\_\_\_\_个省级行政区域单位, 包括\_\_\_\_个省、\_\_\_\_个自治区、\_\_\_\_个直辖市和香港、澳门 2 个特别行政区。我国的首都是\_\_\_\_。

## 二、单项选择题 (每小题 1 分, 共 20 分)

题号	1	2	3	4	5	6	7	8	9	10
选项										
题号	11	12	13	14	15	16	17	18	19	20
选项										

- 下列关于我国疆域的叙述, 正确的是 ( )
  - 我国是一个内陆国家
  - 世界第四大的国家
  - 陆地面积约 96 万千米<sup>2</sup>
  - 陆地面积仅次于俄罗斯和加拿大

- 一天中最早看到日出的我国省级行政区域单位是 ( )
  - 黑龙江省
  - 新疆维吾尔自治区
  - 广东省
  - 内蒙古自治区
- 有一货轮自天津港航行至厦门港, 沿途经过的海域和海峡依次是 ( )
  - 渤海、渤海海峡、黄海、东海、台湾海峡
  - 黄海、渤海、渤海海峡、东海、台湾海峡
  - 东海、渤海、渤海海峡、黄海、台湾海峡
  - 台湾海峡、东海、黄海、渤海海峡、渤海
- 川菜、鲁菜、粤菜都是我国著名的菜系, 其正宗来源地分别是 ( )
  - 四川省、山东省、广东省
  - 四川省、广东省、山东省
  - 广东省、河北省、湖南省
  - 广东省、山东省、湖北省
- 北回归线自东向西穿过的我国省级行政区域单位依次是 ( )
  - 闽、粤、云、藏
  - 台、琼、云、藏
  - 台、粤、桂、云
  - 台、闽、赣、桂
- 下列有关中国地理位置的说法, 正确的是 ( )
  - 地处南半球、东半球
  - 地处北半球、东半球
  - 地处北半球、西半球
  - 地处南半球、西半球
- 下列省级行政区域单位轮廓图中, 表示四川省的是 ( )



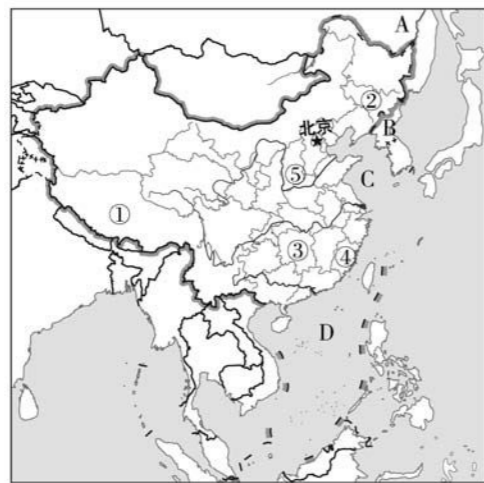
- 我国陆地面积居世界 ( )
  - 第一位
  - 第二位
  - 第三位
  - 第四位
- 停车场停放着一辆牌号为“粤 A·G6096”的汽车, 该车所属的省级行政区域单位是 ( )
  - 广东省
  - 黑龙江省
  - 上海市
  - 山东省
- 下列有关中国地理位置的叙述, 错误的是 ( )
  - 中国位于亚洲东部, 太平洋西岸
  - 中国领土大部分处在北温带, 小部分在热带和寒带
  - 从东西半球来看, 中国位于东半球
  - 从南北半球来看, 中国位于北半球
- “蜀道之难, 难于上青天!” 蜀道中的“蜀”是指 ( )
  - 北京
  - 西藏
  - 四川
  - 广东
- 2011 年 4 月“金砖国家”领导人在中国最南省份的三亚市进行会晤, 该省是 ( )
  - 广东省
  - 四川省
  - 云南省
  - 海南省
- 我国面积最大、人口最多的直辖市是 ( )
  - 北京市
  - 上海市
  - 重庆市
  - 天津市
- 我国第二大岛是 ( )
  - 台湾岛
  - 海南岛
  - 崇明岛
  - 东海岛

15. 与中国陆界相邻的东南亚国家是 ( )
- A. 老挝、缅甸、越南  
B. 马来西亚、老挝、越南  
C. 马来西亚、老挝、缅甸  
D. 泰国、老挝、缅甸
16. 下列省级行政区域单位中，有两个简称的是 ( )
- A. 云南  
B. 湖北  
C. 山东  
D. 广西
17. 与我国有两段不连续疆界的陆上邻国是 ( )
- A. 朝鲜、哈萨克斯坦  
B. 俄罗斯、印度  
C. 巴基斯坦、老挝  
D. 蒙古、阿富汗
18. 下列省级行政区域单位与其简称、行政中心的搭配，正确的是 ( )
- A. 广西—桂—桂林  
B. 宁夏—夏—兰州  
C. 四川—渝—成都  
D. 山西—晋—太原
19. 下列叙述不正确的是 ( )
- A. 天津市位于北京市的东南方，是首都的门户  
B. 河北省中南部地处华北平原，是我国冬小麦的重要产区  
C. 海南省是我国最南边的省级行政区域单位  
D. 福建省以平原为主，耕地面积广阔
20. 右图中，同在冬季，两位同学的衣着不同，造成这种现象的主要因素是 ( )
- A. 海陆位置  
B. 纬度差异  
C. 经度差异  
D. 地形地势



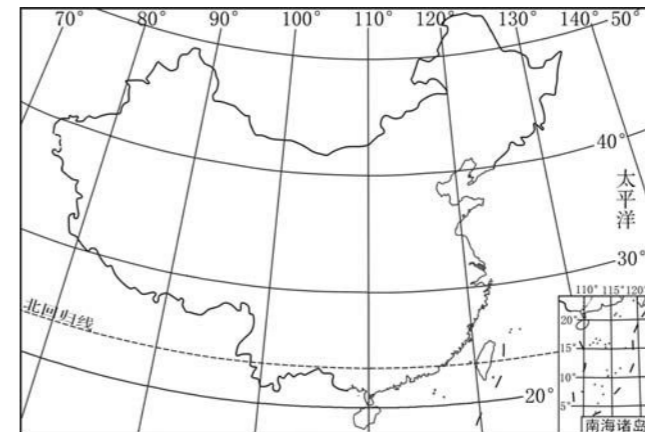
### 三、综合题 (共 42 分)

1. 读下面中国的疆域和行政区划示意图，回答下列问题。(9 分)



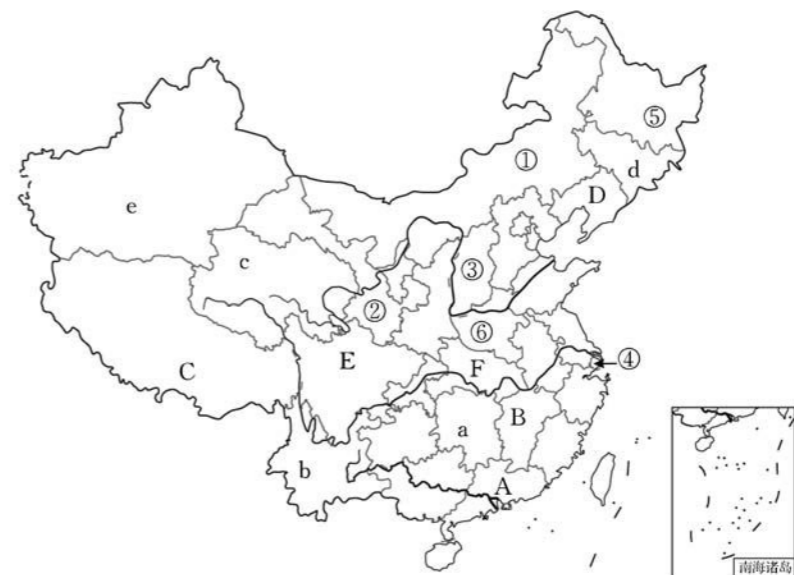
- (1) 写出图中字母所代表的与我国陆地相邻的国家的名称。  
A \_\_\_\_\_, B \_\_\_\_\_。
- (2) 写出图中字母所代表的海洋的名称。  
C \_\_\_\_\_, D \_\_\_\_\_。
- (3) 写出图中数码所表示的省级行政区域单位的名称。  
① \_\_\_\_\_, ② \_\_\_\_\_, ③ \_\_\_\_\_, ④ \_\_\_\_\_, ⑤ \_\_\_\_\_。

2. 读下图，回答下列问题。(16 分)



- (1) 中国位于 \_\_\_\_\_ 半球和 \_\_\_\_\_ 半球。
- (2) \_\_\_\_\_ 线穿过中国南部。中国大部分在 \_\_\_\_\_ 带，小部分在 \_\_\_\_\_ 带，没有寒带。
- (3) 我国位于世界上最大的大陆—— \_\_\_\_\_ 大陆的东部，濒临世界上最大的大洋—— \_\_\_\_\_ 洋，是一个海陆兼备的国家。

3. 读下面中国行政区划图，完成下列问题。(17 分)



- (1) 写出图中数码所表示的省级行政区域单位的名称。  
① \_\_\_\_\_, ② \_\_\_\_\_, ③ \_\_\_\_\_,  
④ \_\_\_\_\_, ⑤ \_\_\_\_\_, ⑥ \_\_\_\_\_。
- (2) 写出图中大写字母所表示的省级行政区域单位的简称。  
A \_\_\_\_\_, B \_\_\_\_\_, C \_\_\_\_\_,  
D \_\_\_\_\_, E \_\_\_\_\_, F \_\_\_\_\_。
- (3) 写出图中小写字母所表示的省级行政区域单位的行政中心。  
a \_\_\_\_\_, b \_\_\_\_\_, c \_\_\_\_\_, d \_\_\_\_\_, e \_\_\_\_\_。



# 第一章第三、四节练习卷

(时间: 90 分钟 满分: 100 分)

## 一、填空题 (共 40 分)

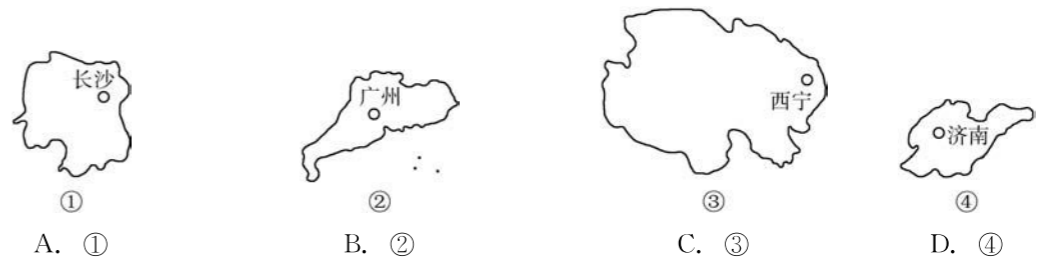
- 2010 年全国第六次人口普查结果, 中国人口总数约为\_\_\_\_\_亿。中国人口增长速度较\_\_\_\_\_, 数量居世界第\_\_\_\_\_位。
- 中国的人口分界线是黑龙江省\_\_\_\_\_到云南省\_\_\_\_\_, 人口分布疏密不均。\_\_\_\_\_多、\_\_\_\_\_少。一般来说: 东部地区人口\_\_\_\_\_, 沿海、沿河、沿湖地区人口\_\_\_\_\_, 平原、盆地人口\_\_\_\_\_, 经济和交通运输发达地区人口\_\_\_\_\_, 城镇密集、工业发达的地区人口\_\_\_\_\_, 汉族地区人口\_\_\_\_\_; 西部地区人口\_\_\_\_\_, 干旱荒漠地区人口\_\_\_\_\_, 山地、高原人口\_\_\_\_\_, 经济落后、交通闭塞的地区人口少, 偏僻的农业、牧业地区人口\_\_\_\_\_, 大部分少数民族地区人口\_\_\_\_\_。
- 我国人口的突出特点是\_\_\_\_\_。
- 我国人口政策: 为了使人口的增长同\_\_\_\_\_, \_\_\_\_\_相协调, 与\_\_\_\_\_相适应, 我国政府把\_\_\_\_\_, \_\_\_\_\_, \_\_\_\_\_, 作为一项长期的基本国策。
- 中国是一个团结统一的多民族大家庭, 有汉、壮、蒙古、回、藏、维吾尔、苗等\_\_\_\_\_个民族。\_\_\_\_\_族人数最多, 约占全国人口总数的 91.5%; 其他民族人口总数约占 8.5%, 统称为少数民族。我国的少数民族中人口最多的是\_\_\_\_\_族。
- 中国各民族分布的特点: \_\_\_\_\_。汉族分布最广, 主要集中在\_\_\_\_\_部和\_\_\_\_\_部地区。少数民族则主要分布在\_\_\_\_\_, \_\_\_\_\_和\_\_\_\_\_部地区。汉族地区有\_\_\_\_\_聚居, 少数民族地区也有\_\_\_\_\_族居住。
- 我国民族风情: \_\_\_\_\_族的那达慕大会, \_\_\_\_\_族的泼水节, \_\_\_\_\_族的独特建筑风雨桥。

## 二、单项选择题 (每小题 2 分, 共 40 分)

题号	1	2	3	4	5	6	7	8	9	10
选项										
题号	11	12	13	14	15	16	17	18	19	20
选项										

- 我国已实行了计划生育政策, 但目前人口增长数量仍然很大, 这是因为 ( )
  - 我国人口增长过快
  - 我国人民生活水平很高
  - 我国计划生育措施不力
  - 我国人口基数大
- 我国人口约占世界人口总数的 ( )
  - 1/4
  - 1/5
  - 1/6
  - 1/7

- 我国人口分布疏密不均, 其疏密的分界线大致是 ( )
  - 内蒙古的黑河到云南的腾冲一线
  - 内蒙古的黑河到海南的腾冲一线
  - 黑龙江的黑河到云南的腾冲一线
  - 黑龙江的黑河到海南的腾冲一线
- 下面关于我国人口和民族的叙述, 正确的是 ( )
  - 我国人口政策的基本内容是实行计划生育
  - 我国有 55 个少数民族
  - 泼水节是蒙古族的传统节日
  - 2010 年我国人口总数是 11.95 亿
- 下列各组省级行政区域单位中, 人口密度最大的是 ( )
  - 青海、西藏
  - 甘肃、宁夏
  - 内蒙古、新疆
  - 山东、广东
- 我国人口最多的省级行政区域单位是 ( )
  - 河南省
  - 河北省
  - 广东省
  - 上海市
- 我国黑河—腾冲线东南的地区面积占全国的 43%, 人口占 ( )
  - 6%
  - 90%
  - 94%
  - 91.5%
- 下列我国四个省级行政区域单位中, 具有地广人稀特点的是 ( )

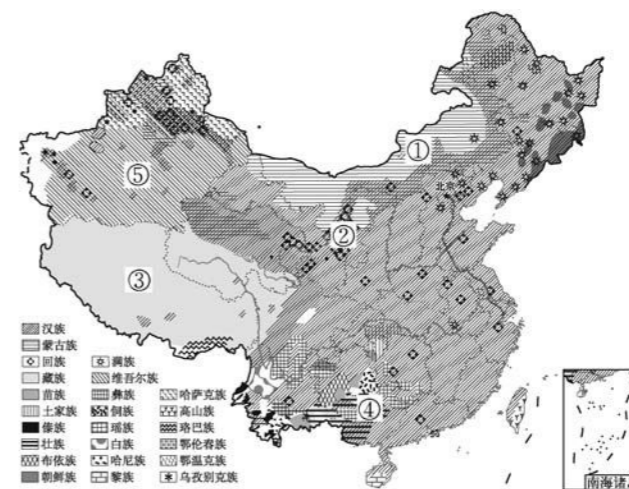


- 下列不属于人口过多造成的问题是 ( )
  - 失业人口增多
  - 住房条件差
  - 交通堵塞
  - 劳动力短缺
- 下列有关人口密度的说法, 正确的是 ( )
  - 人口密度是指每平方千米土地上的人口数
  - 人口密度是指平均每人所占有的土地面积
  - 人口密度的单位是“人”
  - 人口密度的单位是“千米<sup>2</sup>/人”
- 中国人口问题的主要矛盾是 ( )
  - 人口老龄化带来的社会问题
  - 人口基数大, 资源、环境压力大
  - 人口过多带来的城市化问题
  - 人口地区分布不平衡
- 我国人口最多的民族是 ( )
  - 汉族
  - 蒙古族
  - 回族
  - 满族
- 我国少数民族约占全国人口总数的 ( )
  - 8.5%
  - 91.5%
  - 7.5%
  - 10.5%

14. 下面关于我国人口与民族的叙述, 不正确的是 ( )
- A. 我国人口东部多, 西部少  
B. 我国共有 56 个少数民族, 其中壮族人口最多  
C. 我国少数民族主要集中在西南、西北、东北部地区  
D. 我国各民族分布特点是大散居, 小聚居, 交错杂居
15. 喜欢弹奏冬不拉的少数民族是 ( )
- A. 壮族                      B. 藏族                      C. 哈萨克族                      D. 蒙古族
16. 如果你想了解维吾尔族、塔吉克族的民俗风情, 最好选择去 ( )
- A. 云南                      B. 新疆                      C. 内蒙古                      D. 四川
17. 下列关于我国人口、民族的描述, 正确的是 ( )
- A. 我国人口最多的民族是壮族, 主要分布在广西壮族自治区  
B. 由于实行了计划生育政策, 我国人口数量不再增长  
C. 少数民族主要分布在我国东北、西北、西南地区  
D. 我国人口分布不均, 漠河—腾冲线西北人口稀疏
18. 中华人民共和国成立后, 我国人口迅速增长的原因有 ( )
- ①人民生活水平的提高    ②医疗卫生条件的改善    ③耕地面积扩大    ④交通运输业的发展
- A. ①③                      B. ②④                      C. ①②                      D. ①④
19. 下列选项中, 叙述不正确的是 ( )
- A. 我国在少数民族聚居区实行民族区域自治政策  
B. 我国共有 55 个民族  
C. 我国尊重各少数民族的语言、文字、宗教信仰和风俗  
D. 我国各民族一律平等
20. 下列省级行政区域单位中, 人口由多到少排序, 正确的是 ( )
- A. 四川省、广东省、山东省  
B. 山东省、河南省、四川省  
C. 江苏省、河北省、河南省  
D. 四川省、山东省、江苏省

项目	从黑龙江省的 _____ 到云南省的 _____ 画一条线	
	此线东南部地区	此线西北部地区
占全国面积的百分比		
占全国人口的百分比		
原因	地形平坦, 交通 _____, 气候温和湿润, 经济 _____, 所以人口稠密	地形以 _____ 为主, 交通不便, 气候 _____, 自然条件恶劣, 经济落后, 所以人口稀疏

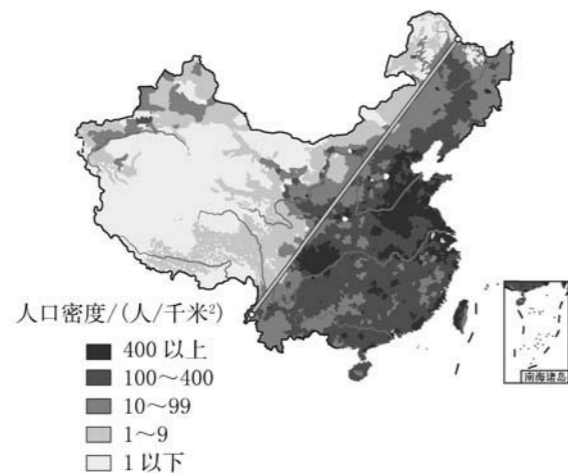
2. 读下面我国部分民族分布图, 完成下列问题。(10分)



- (1) 我国少数民族自治的省级行政区域单位有: ① \_\_\_\_\_ 自治区, ② \_\_\_\_\_ 自治区, ③ \_\_\_\_\_ 自治区, ④ \_\_\_\_\_ 自治区, ⑤ \_\_\_\_\_ 自治区。
- (2) 我国少数民族主要分布在 \_\_\_\_\_、\_\_\_\_\_ 和 \_\_\_\_\_ 部地区。
- (3) 我国共有 \_\_\_\_\_ 个少数民族, 其中人口最多的是 \_\_\_\_\_ 族。

### 三、综合题 (共 20 分)

1. 读下面我国人口密度图, 填写下列表格。(10分)





# 第一章测试卷

(时间: 90 分钟 满分: 100 分)

## 一、单项选择题 (每小题 2 分, 共 40 分)

题号	1	2	3	4	5	6	7	8	9	10
选项										
题号	11	12	13	14	15	16	17	18	19	20
选项										

- 下列有关我国人口的叙述, 不正确的是 ( )
  - 我国的人口特点是人口基数大, 人口总量持续增长
  - 我国平均人口密度大于世界平均人口密度
  - 我国人口分布地理界线是云南省的黑河到黑龙江的腾冲一线
  - 我国人口地区分布不均, 呈东多西少的特点
- 下列四幅人口增长曲线图, 与我国实际情况相符的是 ( )
 

A

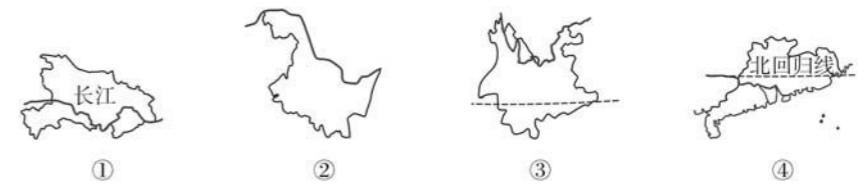
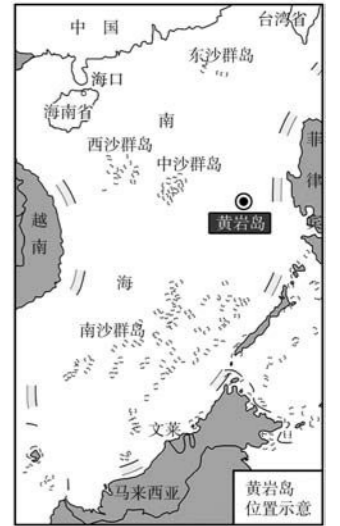
B

C

D
- 我国“13 亿人口日”的到来比预计的时间推迟了整整 4 年, 其主要原因是 ( )
  - 人口死亡率高, 人口负增长
  - 我国实施了人才强国的战略决策
  - 我国实行计划生育的基本国策
  - 改革开放后, 大量人口迁移到国外
- 下列关于我国人口的叙述, 正确的是 ( )
  - 中国是世界上人口最多的国家, 约占世界人口的 1/3
  - 由于实行了计划生育, 我国人口已经达到零增长
  - 只有实行计划生育政策, 才能提高人口质量
  - 实行计划生育, 控制人口数量, 提高人口质量, 是我国一项长期的基本国策
- 下面四个民族的小朋友的说法中, 与实际不符的是 ( )
  - 汉族小朋友说: “我们人口最多。”
  - 蒙古族小朋友说: “我们居住在高脚屋。”
  - 傣族小朋友说: “我们爱过泼水节。”
  - 朝鲜族小朋友说: “我们能歌善舞。”


黄岩岛, 中国中沙群岛中唯一露出水面的岛礁, 位于北纬  $15^{\circ}07'$ , 东经  $117^{\circ}51'$ , 距中沙环礁约 160 海里。黄岩岛是中国的固有领土。据此完成 6~8 题。

- 黄岩岛位于海口的 ( )
  - 南方
  - 西南方向
  - 东南方向
  - 东北方向
- 黄岩岛一年有 \_\_\_\_\_ 次太阳直射。 ( )
  - 1
  - 2
  - 3
  - 4
- 南海海域每年设一个休渔期。下列说法错误的是 ( )
  - 过度捕捞会导致渔业资源枯竭
  - 为了让海洋中的鱼类有充足的繁殖和生长时间
  - 鱼类是可再生资源, 不应设休渔期
  - 对鱼类的生长起到了很好的保护作用
- 下列省级行政区域单位轮廓与其名称、简称、行政中心的搭配, 正确的一组是 ( )



- ①—黑龙江—龙—哈尔滨
  - ②—湖北—鄂—武汉
  - ③—云南—滇—西宁
  - ④—广东—粤—广州
- 我国的内海包括 ( )
    - 渤海和台湾海峡
    - 渤海和琼州海峡
    - 黄海和琼州海峡
    - 黄海和台湾海峡
  - 那达慕大会的项目有 ( )
    - 马球
    - 赛龙舟
    - 摔跤
    - 射箭
    - 骑自行车
    - ①③⑤
    - ①③④
    - ②③④
    - ③④⑤
  - 下列关于我国陆地面积、疆界和邻国的叙述, 正确的是 ( )
    - 我国陆上邻国有 16 个
    - 我国陆地总面积约 960 万千米<sup>2</sup>
    - 我国濒临的海洋, 从北到南依次是渤海、东海、黄海和南海
    - 我国陆地国界线长达 1.8 万多千米
  - 下列关于我国地理位置的叙述, 正确的是 ( )
    - 我国位于北半球、亚洲东部, 西临太平洋
    - 我国领土大部分位于地球“五带”中的热带
    - 从经度看, 我国全属东经度; 从纬度看, 我国全属低纬度
    - 我国领土的最北端和最东端都位于黑龙江省境内
  - 我国跨经度最广和跨纬度最广的省级行政区域单位的简称分别是 ( )
    - 内蒙古和琼
    - 新和琼
    - 内蒙古和云
    - 新和粤

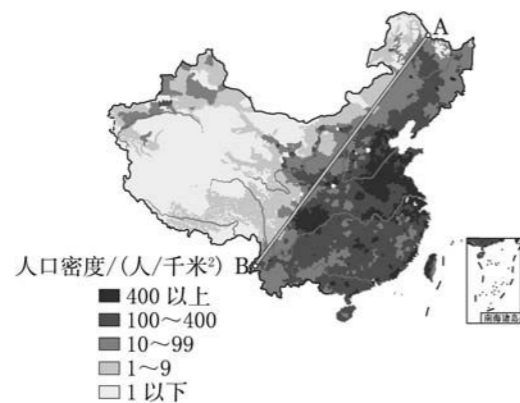
15. 下列关于我国民族分布特点的叙述, 正确的是 ( )
- A. 各民族大散居, 小聚居, 交错杂居  
B. 各民族大聚居, 小杂居, 相互交错居住  
C. 各民族居住地相互独立, 地区分布不均  
D. 各民族居住地相互交错, 均匀分布
16. 小明的中国政区塑料拼图掉了一块, 空缺位置的右边是江西, 左边是贵州, 上面是湖北, 下面有广东和广西, 缺失的这个省级行政区域单位是 ( )
- A. 湖南 B. 四川 C. 重庆 D. 安徽
17. 下图为我国乌苏里江和帕米尔高原同一时刻不同的景象, 分析此现象形成的原因 ( )



- A. 跨纬度范围广 B. 跨经度范围广  
C. 南北差异大 D. 地球公转的结果
18. 既濒临黄海又濒临渤海的省级行政区域单位是 ( )
- A. 辽宁、黑龙江 B. 山东、浙江 C. 内蒙古、黑龙江 D. 辽宁、山东
19. 下图中正方形代表亚欧大陆, 图中圆圈能正确反映中国地理位置的是 ( )
- 
- 甲 乙 丙 丁
- A. 甲 B. 乙 C. 丙 D. 丁
20. 与我国海岸相邻的两个国家是 ( )
- A. 韩国、菲律宾 B. 朝鲜、越南 C. 俄罗斯、越南 D. 日本、韩国

## 二、综合题 (共 60 分)

1. 将下面各民族传统节日、舞蹈和体育运动项目与所列民族对应起来。(15 分)
- ①朝鲜族 ②傣族 ③蒙古族 ④维吾尔族 ⑤汉族
- A. 端午节 B. 那达慕大会 C. 开斋节 D. 长鼓舞 E. 泼水节
- ①—\_\_\_\_\_, ②—\_\_\_\_\_, ③—\_\_\_\_\_, ④—\_\_\_\_\_, ⑤—\_\_\_\_\_。
2. 读下面的我国人口密度分布图, 回答下列问题。(13 分)



- (1) 图中 AB 直线为我国的人口界线\_\_\_\_\_, 此线东南部人口\_\_\_\_\_ (填“稠密”或“稀疏”), 此线西北部人口\_\_\_\_\_ (填“稠密”或“稀疏”).
- (2) 据第六次全国人口普查数据, 已知江苏省人口为 7 866 万人, 该省面积约 10 万千米<sup>2</sup>, 则该省的人口密度约为\_\_\_\_\_。
- (3) 位于人口界线上的 B 地是我国少数民族最\_\_\_\_\_的省区, 该地区的傣族每年都举行泼水节, 在节日里跳孔雀舞, 放孔明灯。
3. 读下边的中国行政区划图, 回答下列问题。(18 分)



- (1) 将以下省级行政区域单位的字母填在图中恰当的位置。
- A. 内蒙古自治区 B. 黑龙江省 C. 青海省  
D. 四川省 E. 云南省 F. 湖南省
- (2) 根据图中数码所在位置, 填写地理名称。
- ①\_\_\_\_\_ (省级行政区域单位简称), ②\_\_\_\_\_ (省级行政区域单位简称), ③\_\_\_\_\_ (省级行政中心), ④\_\_\_\_\_ (省级行政中心)。
- (3) ③省与\_\_\_\_\_ (国家) 接壤, ④省临\_\_\_\_\_海。
4. 读下面四幅图片, 回答问题。(14 分)



- (1) 填出图中字母分别代表的少数民族。
- A \_\_\_\_\_ 族, B \_\_\_\_\_ 族, C \_\_\_\_\_ 族, D \_\_\_\_\_ 族。
- (2) “天苍苍, 野茫茫, 风吹草低见牛羊”是对\_\_\_\_\_图所表示的\_\_\_\_\_族聚居环境的描述。
- (3) D 图所表示民族的舞蹈是\_\_\_\_\_。



## 第二章第一节练习卷

(时间: 90 分钟 满分: 100 分)

### 一、填空题 (共 60 分)

#### (一) 我国的地形。

##### 1. 我国的主要山脉。

东西走向: \_\_\_\_\_, \_\_\_\_\_, \_\_\_\_\_, \_\_\_\_\_。

南北走向: \_\_\_\_\_, \_\_\_\_\_。

东北—西南走向: \_\_\_\_\_, \_\_\_\_\_, \_\_\_\_\_, \_\_\_\_\_, \_\_\_\_\_。

西北—东南走向: \_\_\_\_\_。

弧形山脉: \_\_\_\_\_ 山脉, 其主峰 \_\_\_\_\_ 海拔 8 844.43 米, 为世界最高山峰, 位于中国与尼泊尔交界处。我国陆地最低的地方是吐鲁番盆地中的 \_\_\_\_\_。

##### 2. 中华五岳: 东岳 \_\_\_\_\_、西岳 \_\_\_\_\_、南岳 \_\_\_\_\_、北岳 \_\_\_\_\_、中岳 \_\_\_\_\_。

##### 3. 山脉作为省区的分界线: \_\_\_\_\_ (河北、山西)、\_\_\_\_\_ (福建、江西)、\_\_\_\_\_ (重庆、湖北)、\_\_\_\_\_ (甘肃、青海)、\_\_\_\_\_ (新疆、西藏)、\_\_\_\_\_ (湖南、广东)。

##### 4. 山脉作为地形区的分界线: \_\_\_\_\_ (华北平原、黄土高原)、\_\_\_\_\_ (四川盆地、长江中下游平原)、\_\_\_\_\_ (塔里木盆地、准噶尔盆地)、\_\_\_\_\_ (塔里木盆地、青藏高原)、\_\_\_\_\_ (东北平原、内蒙古高原)。

##### 5. 四大高原: 青藏高原——世界上最高的高原, 被称为“世界屋脊”, 高山终年积雪, \_\_\_\_\_; 内蒙古高原——高原地势 \_\_\_\_\_, 西北部沙漠、戈壁广布, 东部和中部多肥美 \_\_\_\_\_; 黄土高原——世界上黄土分布面积最广的区域, 具有 \_\_\_\_\_ 的地表形态; 云贵高原——高原大部分地区地形 \_\_\_\_\_, \_\_\_\_\_ 分布广泛。

##### 6. 四大盆地: 塔里木盆地——我国最大的内陆盆地, 盆地内有我国最大的沙漠——\_\_\_\_\_ 沙漠; 准噶尔盆地——我国第二大盆地, \_\_\_\_\_ 和垦区农业具有相当规模; 柴达木盆地——被誉为“\_\_\_\_\_”; 四川盆地——有“\_\_\_\_\_”或“紫色盆地”之称, 著名的成都平原位于盆地西部, 农业发达, 物产丰富, 有“天府之国”的美称。

##### 7. 三大平原: 东北平原——\_\_\_\_\_ 面积广大, 由松嫩平原、辽河平原、三江平原组成; 华北平原——主要由黄河、淮河、海河冲积而成, 也称黄淮海平原, 地势 \_\_\_\_\_, 地面坡度很小; 长江中下游平原——地势低平, 有“\_\_\_\_\_”之称。

##### 8. 三大丘陵 (自北而南): \_\_\_\_\_、\_\_\_\_\_、\_\_\_\_\_。

#### (二) 我国的地势。

##### 1. 我国地势的基本特征: 地势西高东低并呈三级阶梯状分布。第一级阶梯和第二级阶梯界线:

\_\_\_\_\_、祁连山脉和 \_\_\_\_\_; 第二级阶梯和第三级阶梯界线: \_\_\_\_\_、太行山脉、巫山、\_\_\_\_\_。在阶梯交界处 \_\_\_\_\_ 丰富。

##### 2. 构成各级阶梯的主要地形: 第一级阶梯的地形以 \_\_\_\_\_ 为主, 主要地形区有青藏高原; 第二级阶梯的地形以 \_\_\_\_\_ 和盆地为主, 主要地形区包括塔里木盆地、准噶尔盆地、内蒙古高原、黄土高原、四川盆地和云贵高原等; 第三级阶梯的地形以 \_\_\_\_\_ 和丘陵为主, 主要地形区包括东北平原、华北平原和长江中下游平原及辽东丘陵、山东丘陵、东南丘陵等。

### 二、单项选择题 (每小题 1 分, 共 20 分)

题号	1	2	3	4	5	6	7	8	9	10
选项										
题号	11	12	13	14	15	16	17	18	19	20
选项										

- \_\_\_\_\_ 构成了我国地形的基本骨架。 ( )  
A. 丘陵                      B. 平原                      C. 山脉                      D. 高原
- 我国东北—西南走向的山脉主要有三列, 最西边的一列是 ( )  
A. 祁连山—横断山脉                      B. 大兴安岭—太行山—巫山—雪峰山  
C. 天山—阴山—燕山                      D. 贺兰山—六盘山—横断山脉
- 下列地形区与其别称的组合, 错误的是 ( )  
A. 四川盆地—“紫色盆地”                      B. 东北平原—“黄土地”  
C. 柴达木盆地—“聚宝盆”                      D. 长江中下游平原—“鱼米之乡”
- 位于长城以南, 秦岭以北, 祁连山乌鞘岭以东, 太行山以西的高原是 ( )  
A. 青藏高原                      B. 内蒙古高原                      C. 黄土高原                      D. 云贵高原
- 下列现象中, 与我国地势的特点无关的是 ( )  
A. 我国许多大河都是自西向东流  
B. 我国东部面向海洋, 由于地势西高东低, 利于湿润气流深入内陆  
C. 我国南方地区河流的径流量比较大  
D. 我国许多水电站都分布在阶梯的交界处
- “山环水绕, 沃野千里”指的是我国 ( )  
A. 东北平原                      B. 华北平原  
C. 成都平原                      D. 长江中下游平原
- 青藏高原夏季气温低的主要原因是 ( )  
A. 海陆位置影响                      B. 纬度位置影响  
C. 洋流影响                      D. 地形影响
- 既是我国地势第一、二级阶梯的分界线, 又是东西走向山脉的是 ( )  
A. 祁连山                      B. 秦岭                      C. 昆仑山                      D. 横断山
- 我国西部地区地形复杂, 主要的地形类型是 ( )  
A. 山地、高原和盆地                      B. 山地、高原和平原  
C. 高原、平原和丘陵                      D. 平原、丘陵和盆地

得分: \_\_\_\_\_  
学号: \_\_\_\_\_  
姓名: \_\_\_\_\_  
班级: \_\_\_\_\_

10. 读右图, 可以看出我国的地形特征是 ( )

- A. 地形类型齐全, 比例合理
- B. 地形复杂多样, 高原、山地面积广大
- C. 地形多样, 以平原为主
- D. 山地占比例最大, 平原占比例最小



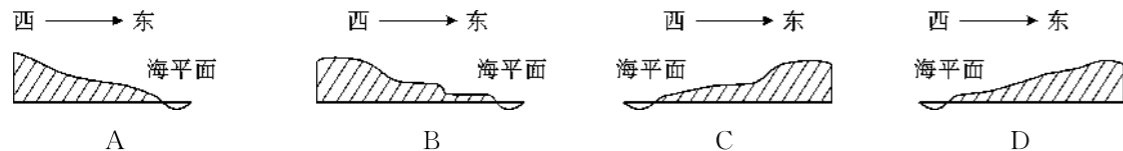
11. “一江春水向东流”反映了 ( )

- A. 我国地势西低东高
- B. 我国地势呈三级阶梯状分布
- C. 我国地势西高东低
- D. 我国东部以平原、丘陵为主

12. “天苍苍, 野茫茫, 风吹草低见牛羊”所描述的是以下哪个地形区的景观? ( )

- A. 东北平原
- B. 内蒙古高原
- C. 青藏高原
- D. 华北平原

13. 下列地势变化示意图中, 最符合我国地势状况的是 ( )



14. 位于我国地势第二级阶梯, 内有丘陵分布, 并且没有绿洲的盆地是 ( )

- A. 塔里木盆地
- B. 柴达木盆地
- C. 四川盆地
- D. 准噶尔盆地

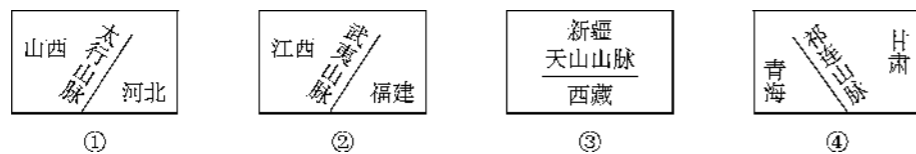
15. 一般说来, 山区地面崎岖, 交通不便, 不利于发展 ( )

- A. 林业
- B. 种植业
- C. 畜牧业
- D. 旅游业

16. 小明说: “我们家住的是窑洞。”小芳说: “我们那里有很多溶洞, 洞内有很多奇形怪状的钟乳石。”小明和小芳的家乡所属的地形区分别是 ( )

- A. 内蒙古高原、云贵高原
- B. 云贵高原、青藏高原
- C. 黄土高原、内蒙古高原
- D. 黄土高原、云贵高原

17. 山脉往往成为我国省级行政区域单位的天然界线, 下列示意图中, 错误的是 ( )



- A. ①
- B. ②
- C. ③
- D. ④

18. 地处我国地势第三级阶梯, 位于燕山以南, 大别山以北, 太行山以东, 濒临渤海和黄海的地形区是 ( )

- A. 四川盆地
- B. 华北平原
- C. 长江中下游平原
- D. 黄土高原

19. 下列既是我国地势第二级阶梯与第三级阶梯的分界线, 又是省级行政区域单位分界线的山脉是 ( )

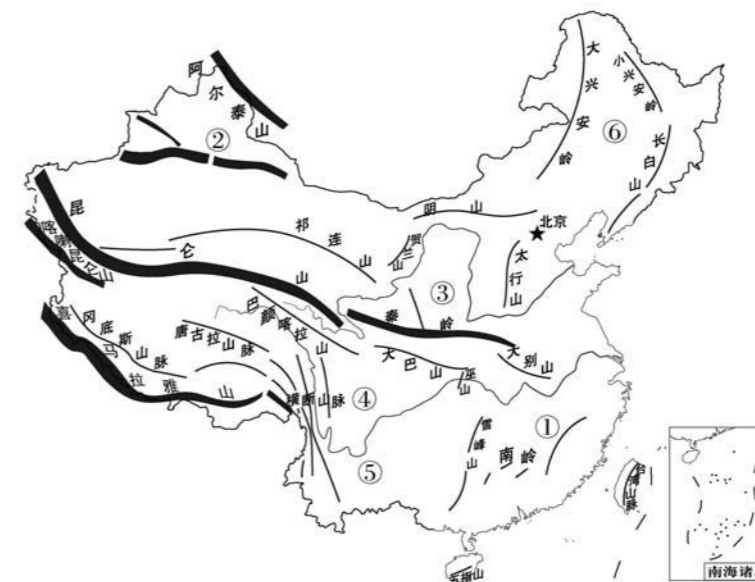
- A. 大兴安岭
- B. 阴山
- C. 太行山脉
- D. 昆仑山脉

20. 我国 2/3 以上的贫困县分布在中、西部山区, 其主要的的原因是 ( )

- A. 西部多高原, 草原广布
- B. 地面崎岖、交通不便
- C. 中、西部矿产贫乏
- D. 位于沿海地区, 经常受台风袭击

### 三、综合题 (共 20 分)

1. 读下面我国主要山脉分布图, 回答下列问题。(10 分)

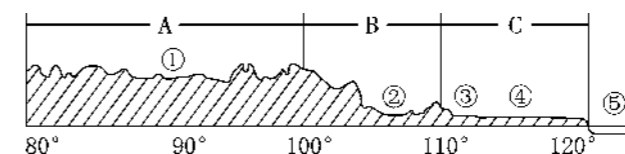


(1) 写出图中数码所代表的地形名称。

① \_\_\_\_\_ 山脉, ② \_\_\_\_\_ 山脉, ④ \_\_\_\_\_ 盆地, ⑤ \_\_\_\_\_ 高原, ⑥ \_\_\_\_\_ 平原。

(2) \_\_\_\_\_ — \_\_\_\_\_ 山—巫山—\_\_\_\_\_ 山是我国地势第二、三级阶梯的分界线。

2. 读下面沿 32°N 线中国地形剖面图, 回答下列问题。(10 分)



(1) 图中 A 段代表我国地势第 \_\_\_\_\_ 级阶梯, B 代表第 \_\_\_\_\_ 级阶梯, C 代表第 \_\_\_\_\_ 级阶梯。

(2) 填写图中数码代表的地形区名称。

① \_\_\_\_\_ 高原, ② \_\_\_\_\_ 盆地, ③ \_\_\_\_\_ 山, ④ \_\_\_\_\_ 平原, ⑤ \_\_\_\_\_ 海。

(3) 我国长江、黄河等大江、大河大多自西向东流, 这主要是由我国 \_\_\_\_\_ 的地势特点决定的。从 A 流入 B 地段时, 河流的落差大, 水流速度快, 形成了丰富的 \_\_\_\_\_ 资源。

(4) 我国这种地势特点对气候产生的影响是 \_\_\_\_\_。



## 第二章第二节练习卷

(时间: 90 分钟 满分: 100 分)

### 一、填空题 (共 56 分)

- 我国气温的特点。冬季\_\_\_\_\_，主要原因是\_\_\_\_\_差异，此外南北受\_\_\_\_\_影响程度不同也是原因之一。1月0℃等温线大致经过\_\_\_\_\_一线。冬季最冷的地方是黑龙江的\_\_\_\_\_。夏季\_\_\_\_\_，原因：太阳直射北半球，\_\_\_\_\_方白昼时间较长，接受的太阳光热不比南方少多少。夏季最热的地方是新疆的\_\_\_\_\_，最冷的地方是青藏高原。
- 我国温度带的划分。活动积温是划分温度带的主要指标。我国从北到南可以划分为五个温度带：寒温带、中温带、暖温带、亚热带和热带。另外，青藏高原为高山高原气候区。不同温度带对我国生产和生活影响很大。农作物熟制，\_\_\_\_\_和\_\_\_\_\_都是一年一熟，\_\_\_\_\_是一年一熟或两年三熟，\_\_\_\_\_是一年两熟到一年三熟，\_\_\_\_\_是一年三熟。亚热带和暖温带的分界线是：\_\_\_\_\_一线。
- 我国降水的分布规律。

基本特点 (规律)		原因	影响
名称	内容		
空间分布规律	从_____逐渐减少	影响我国降水的因素是夏季风。我国东部广大地区受东南季风和西南季风的影响明显，降水多；西北内陆地区受夏季风影响不明显，降水_____	东南沿海地区湿润，越向西北内陆越干旱
时间变化	季节变化	降水季节分配不均，大部分地区的降水集中在5—9月的_____季节	使我国旱涝灾害频繁，雨带推进迟缓，久久徘徊在南方，导致“_____”；推进迅速，在北方滞留时间长，出现“_____”
	年际变化	各地降水年际变化大，南方较小，北方较_____	
降水的南北差异	北方：降水少，雨季_____； 南方：降水多，雨季长	由夏季风形成的_____雨带进退决定的	形成北方的_____旱、夏涝，江淮地区的梅雨和伏旱

- 根据气候的干湿程度，把我国划分为四类干湿地区：干旱地区、\_\_\_\_\_地区、半湿润地区、\_\_\_\_\_地区。
- 我国气候的主要特征之一：气候复杂多样。原因：我国既有多种多样的\_\_\_\_\_带，又有多种多样的\_\_\_\_\_地区，加上我国地势高低悬殊，地形多样，更加剧了气候的复杂多样性。
- 我国主要的气候类型：东部地区主要是\_\_\_\_\_季风气候、\_\_\_\_\_季风气候和\_\_\_\_\_季风气候，西北地区主要是\_\_\_\_\_气候，青藏高原地区形成了独特的\_\_\_\_\_气候。
- 季风气候显著，是我国气候的主要特征之二。\_\_\_\_\_是指一年内盛行风向随着季节变换而显著变化的风。季风气候则是指一年内因盛行不同风向的季风而形成的气候类型。在我国季风区内，

\_\_\_\_\_季风有规律地更替着。夏季盛行来自海洋的\_\_\_\_\_，冬季劲吹来自亚洲大陆内部的\_\_\_\_\_。季风的形成原因：我国位于亚欧大陆东部，太平洋西岸，\_\_\_\_\_差异显著。季风气候特点：冬季风\_\_\_\_\_，夏季风\_\_\_\_\_。\_\_\_\_\_，水热条件配合得当，使农作物和林木在旺盛的生长期，能够得到充足的热量和水分，因此中国喜温作物的种植界线，比世界其他地区的纬度要\_\_\_\_\_得多。季风区和非季风区的划分是以夏季风能够影响的地区为标准划分的，其界线为：\_\_\_\_\_—阴山山脉—\_\_\_\_\_—巴颜喀拉山脉—\_\_\_\_\_以东一线。

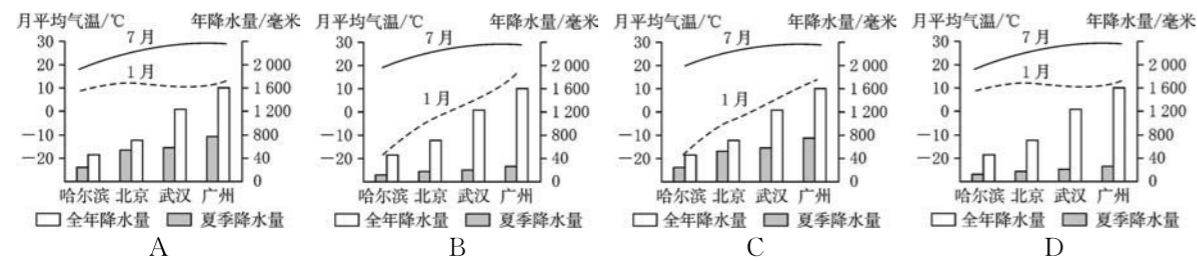
- 夏季风对我国降水季节分布的影响：\_\_\_\_\_的进退决定着我国雨带的推移。4月份，夏季风开始在南部沿海登陆，我国南部沿海进入\_\_\_\_\_季。6月中旬，夏季风进一步北跃，雨带随之移到长江中下游地区，这时正值梅子黄熟季节，所以称为“梅雨”。7、8月份，雨带随夏季风北移到\_\_\_\_\_和\_\_\_\_\_地区。9月份，\_\_\_\_\_南下，\_\_\_\_\_开始南撤，雨带也随之迅速南移，10月份退出我国大陆。
- 我国多气象灾害，主要气象灾害有洪涝、干旱、\_\_\_\_\_、梅雨、台风、\_\_\_\_\_等。\_\_\_\_\_是我国发生最频繁的自然灾害。\_\_\_\_\_是对我国农业生产影响最大、最常见且分布范围最广的一种自然灾害。

### 二、单项选择题 (每小题 1 分, 共 20 分)

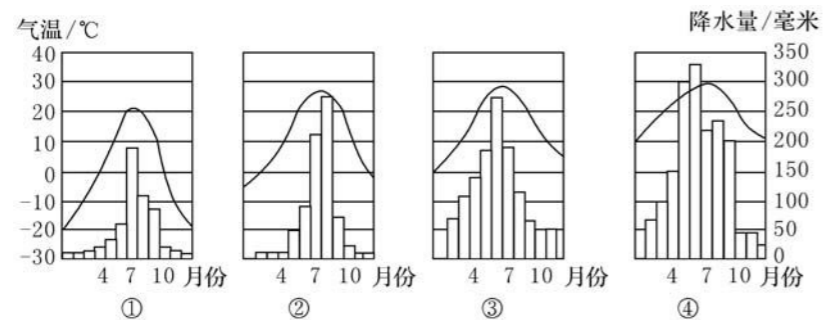
题号	1	2	3	4	5	6	7	8	9	10
选项										
题号	11	12	13	14	15	16	17	18	19	20
选项										

- 每年夏季在长江中下游地区常出现的天气现象有 ( )
  - 梅雨和伏旱
  - 寒潮和台风
  - 沙尘暴和寒潮
  - 沙尘暴和大雾
- 水稻在我国北方地区也能生长，这是因为我国气候具有\_\_\_\_\_的特点。 ( )
  - 全年温和湿润
  - 雨热同期
  - 夏季炎热干燥，冬季温和多雨
  - 复杂多样
- 下面有关我国天气或气候的叙述，正确的是 ( )
  - 我国大部分地区夏秋季降水多，冬春季降水少
  - 沙尘暴是对我国影响最大的气象灾害
  - 台风只影响我国广东、台湾、海南、福建等沿海省份
  - 我国冬、夏季节南北温差大
- 我国动植物资源丰富，农、林、牧、副、渔各业综合发展，其主要原因是 ( )
  - 季风气候显著
  - 大陆性气候显著
  - 气候复杂多样
  - 多特殊天气
- 下列与我国秦岭—淮河一线大致一致的是 ( )
  - 1月份10℃等温线
  - 800毫米年等降水量线
  - 热带与亚热带的分界线
  - 种植业区和畜牧业区的分界线
- 我国冬季南北温差大的主要原因是 ( )
  - 纬度差异
  - 地形的影响
  - 冬季风的影响
  - 洋流的影响
- 下列不是我国气候特点的是 ( )
  - 夏季炎热干燥，冬季温和湿润
  - 季风气候显著
  - 雨热同期
  - 气候复杂多样

8. 季风区和非季风区界线确定的主导因素是 ( )  
 A. 降水 B. 地形 C. 夏季风 D. 纬度
9. 我国年降水量的分布特点是 ( )  
 A. 南北差异小 B. 自东南沿海向西北内陆递减  
 C. 全国普遍多雨 D. 自西南向东北减少
10. 我国水旱灾害频繁的原因是 ( )  
 A. 地势高低差别大 B. 夏季风强弱变化大  
 C. 海陆位置影响 D. 冬季风强弱变化大
11. 下列关于我国气温差异的叙述, 正确的是 ( )  
 A. 冬季全国普遍寒冷, 夏季全国普遍高温, 南北气温相差都不大  
 B. 冬季和夏季南北气温相差都很大  
 C. 夏季全国普遍高温, 南北气温相差不大; 冬季南北气温相差很大  
 D. 冬季全国普遍寒冷, 南北气温相差不大; 夏季南北气温相差很大
12. 我国大多数地方降水集中在 ( )  
 A. 4—5月 B. 7—11月  
 C. 5—9月 D. 12月至次年2月
13. 夏季风的进退会影响我国大陆东部雨带的推移, 当夏季风弱时, 可能出现的现象是 ( )  
 A. 南北皆涝 B. 南旱北涝 C. 南北皆旱 D. 南涝北旱
14. 我国冬季风的主要风向为 ( )  
 A. 东北 B. 东南 C. 西北 D. 西南
15. 会给我国带来严寒、大风、霜冻等恶劣天气的是 ( )  
 A. 寒潮 B. 台风 C. 干旱 D. 洪涝
16. 我国受季风影响较小的地区是 ( )  
 A. 云贵高原 B. 青藏高原 C. 塔里木盆地 D. 长江中下游平原
17. 下面四幅图中, 能反映我国气候特点的是 ( )



18. “橘生淮南则为橘, 生于淮北则为枳”, 影响橘生长的因素主要是 ( )  
 A. 气候 B. 地形 C. 土壤 D. 人类活动
19. 下列四幅图表示广州、武汉、北京、哈尔滨四个城市气温变化曲线和逐月降水量, 它们的顺序排列正确的是 ( )

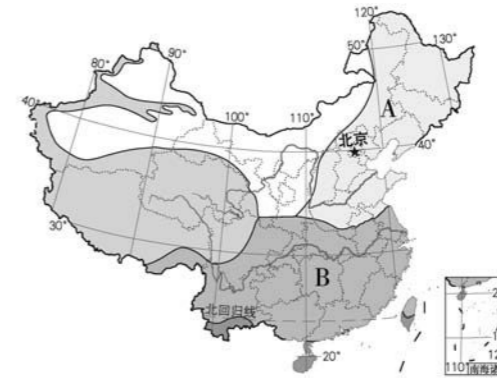


- A. ①②③④ B. ①③④② C. ④③②① D. ④②①③

20. 我国夏季气温最低值出现在青藏地区的原因是 ( )  
 A. 海陆位置影响 B. 地形因素影响  
 C. 气候因素影响 D. 纬度位置影响

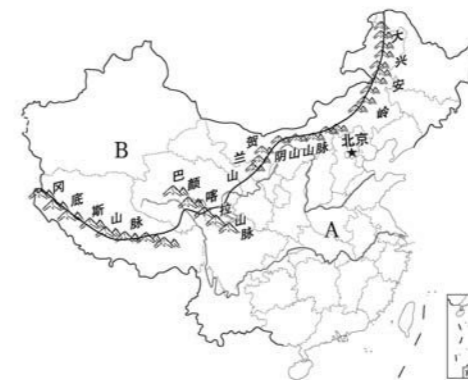
### 三、综合题 (共 24 分)

1. 读下图, 回答问题。(12 分)



- (1) A、B 两地区中, 1 月气温低于  $0^{\circ}\text{C}$  的是\_\_\_\_\_地区, 气温年较差较小的是\_\_\_\_\_地区。
- (2) A、B 两地区中, 年降水量较多的是\_\_\_\_\_地区。
- (3) A、B 两地降水量季节变化的共同点是 ( )  
 A. 各月降水都很多  
 B. 各月降水都很少  
 C. 降水主要集中在夏季  
 D. 降水主要集中在冬季
- (4) A 地区属于\_\_\_\_\_气候, B 地区属于\_\_\_\_\_气候。

2. 读下面中国季风区和非季风区图, 回答下列问题。(12 分)



- (1) 图中 A、B 所代表的区域, 表示季风区的是\_\_\_\_\_, 表示非季风区的是\_\_\_\_\_。
- (2) 我国季风区和非季风区的界线是\_\_\_\_\_—\_\_\_\_\_—贺兰山—巴颜喀拉山脉—冈底斯山脉以东一线。
- (3) 夏季风难以到达 B 区域的原因: 距离海洋较\_\_\_\_\_, 且受到\_\_\_\_\_ (地形) 的阻挡。
- (4) A、B 所代表的区域, 降水较多的是\_\_\_\_\_ (填字母), 当地降水主要集中于\_\_\_\_\_季。



## 第二章第三节练习卷

(时间: 90 分钟 满分: 100 分)

### 一、填空题 (共 57 分)

1. 外流区为主。流域是指河流或水系的集中区域。水系是指流域内所有大小河流以及湖泊、沼泽、地下暗河等组成的水流系统。最终流入海洋的河流, 叫作外流河。外流河所在的区域为\_\_\_\_\_。最终未流入海洋的河流, 即河水流入内陆湖泊或消失于荒漠之中的河流, 叫作内流河。内流河分布的区域, 叫作\_\_\_\_\_。我国最大的内流河是\_\_\_\_\_。

流域区域	分界线	占全国总面积	主要大河
外流区域	北段大致沿着_____—阴山—_____—祁连山(东端)一线; 南段沿巴颜喀拉山—_____—一线(与季风区、非季风区的界线大体相近)	_____	流入_____ : 长江、黄河、珠江、松花江、海河、辽河、澜沧江(境外称湄公河)等 流入_____ : 雅鲁藏布江(在印度境内称布拉马普特拉河)、怒江等 流入_____ : 额尔齐斯河
内流区域		_____	流入沙漠或内陆湖泊: 塔里木河

2. 我国外流河深受季风气候的影响。

夏季风盛行时	水文特征	水量	水位	结冰期
		水量大	水位上涨, 形成_____期	无结冰期
成因		降水量_____		
冬季风盛行时	水文特征	水量_____	水位下降, 形成枯水期	秦岭—淮河以北的河流有结冰期
		成因 降水量_____		

3. 与外流河相比, 我国内流河的水文特征明显不同。内流河的水源主要来自\_\_\_\_\_。\_\_\_\_\_季冰雪大量融化, 形成丰水期, 冬季有河流出现断流。所以内流河多为\_\_\_\_\_河流。
4. 世界上最长的人工运河是\_\_\_\_\_ , 全长 1 747 千米, 自北向南经过京、津二市和冀、鲁、\_\_\_\_\_、浙 4 个省级行政区域单位, 沟通海河、\_\_\_\_\_、淮河、\_\_\_\_\_、钱塘江五大水系, 目前, 江苏、浙江段仍是重要的水上运输线。在\_\_\_\_\_工程中, 京杭运河成为东线工程的主要输水通道。
5. 我国的湖泊分布范围广而又相对集中, 主要分布在青藏高原和东部平原, 其中\_\_\_\_\_是我国最大的湖泊和最大的咸水湖, \_\_\_\_\_是我国最大的淡水湖。洞庭湖 17 世纪中期号称“八百里洞庭”, 是中国第一大淡水湖, 以后因\_\_\_\_\_、\_\_\_\_\_, 湖泊迅速淤塞萎缩, 现退居为第二大淡水湖。
6. 长江源自唐古拉山, 干流先后流经青海、西藏等 11 个省级行政区域单位, 最终注入东海, 全长 6 300 千米, 是我国第\_\_\_\_\_长河, 世界第三长河。长江流经了四大地形区: \_\_\_\_\_、云贵高原、\_\_\_\_\_、长江中下游平原。上游, 源头—湖北\_\_\_\_\_ ; 中游, 湖北宜昌—江

西\_\_\_\_\_ ; 下游, 江西湖口—入海口。长江最长的支流是\_\_\_\_\_, 流域内面积最大的湖泊是鄱阳湖。长江自古以来就有“\_\_\_\_\_”的美誉。由于长江上游流经我国地势第一、二级阶梯, 因此长江水能资源也主要集中在\_\_\_\_\_河段。长江流域水能资源理论蕴藏量占全国的 40%, 可利用水能资源约占全国一半以上。新中国成立后, 在长江干流和支流上相继建起了许多著名的水电站, 如葛洲坝水利枢纽、长江\_\_\_\_\_水利枢纽。

7. 长江三峡由瞿塘峡、巫峡、西陵峡组成。三峡水利枢纽工程具有防洪、发电、航运、灌溉、水产养殖和旅游等综合效益, 其中, \_\_\_\_\_是该工程建设的首要目标。
8. 黄河是我国第\_\_\_\_\_长河, 也是世界著名的大河之一。它源自巴颜喀拉山, 注入渤海, 流经青海、四川等 9 个省级行政区域单位, 全长 5 464 千米, 黄河的形状像汉字的“几”。黄河流经的地形区: 青藏高原、\_\_\_\_\_、黄土高原和\_\_\_\_\_。上游, 源头—内蒙古自治区河口; 中游, 河口—河南\_\_\_\_\_ ; 下游, 河南\_\_\_\_\_—入海口。
9. 黄河流域的特征。(1) 中游\_\_\_\_\_大。黄土高原、\_\_\_\_\_, 降水集中且多\_\_\_\_\_, 地表缺乏\_\_\_\_\_是导致黄河中游含沙量大的主要原因。(2) “地上河”。形成的原因: 黄河出桃花峪后, 水流平稳, 大量泥沙淤积, 使河床逐年抬高, 形成“地上河”。“地上河”的危害: 河床高出地面, 河水只能靠人工筑堤约束, 一遇暴雨, 河水猛涨, 两岸河堤随时有决口的危险。(3) 易泛滥。(4) 凌汛。形成的原因: 水从低纬度流向高纬度, 由于较高纬度河段\_\_\_\_\_季节封冻早, \_\_\_\_\_季节解冻迟, 容易形成冰坝, 阻塞河道, 导致河水泛滥, 河堤决口。(5) 断流。形成的自然原因: \_\_\_\_\_。人为原因: \_\_\_\_\_。解决措施: 统一管理, \_\_\_\_\_。
10. 黄河的治理与开发: 黄河多灾的原因是下游形成“地上河”, 易泛滥成灾, 但其根本原因是来自中游的泥沙, 所以治黄的关键是\_\_\_\_\_。下游: \_\_\_\_\_。中游: ①保持水土, \_\_\_\_\_ ; ②打坝淤地, \_\_\_\_\_ ; ③修建水利枢纽工程。

### 二、单项选择题 (每小题 1 分, 共 20 分)

题号	1	2	3	4	5	6	7	8	9	10
选项										
题号	11	12	13	14	15	16	17	18	19	20
选项										

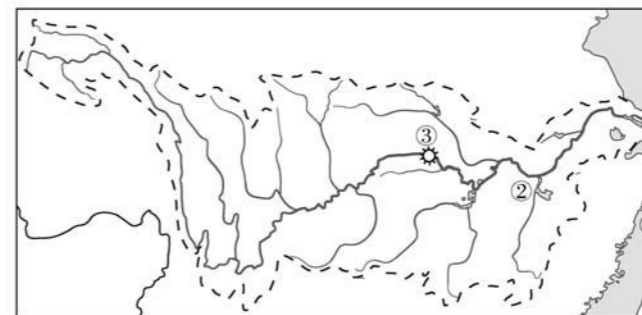
1. 有“水能宝库”和“黄金水道”美誉的河流是 ( )  
A. 长江 B. 黄河 C. 淮河 D. 黑龙江
2. “君不见黄河之水天上来, 奔流到海不复回。”这里的“天上”指的是 ( )  
A. 青藏高原上的巴颜喀拉山 B. 大气的对流层  
C. 青藏高原上的唐古拉山 D. 地球的大气圈
3. 下列河流中, 属于内流河的是 ( )  
A. 塔里木河 B. 黄河  
C. 长江 D. 雅鲁藏布江
4. 下列关于我国河流的叙述, 错误的是 ( )  
A. 塔里木河是我国最长的内流河  
B. 长江是我国最长、水量最大、流域面积最广的河流  
C. 我国外流河最终都注入太平洋  
D. 长江被誉为“水能宝库”“黄金水道”

5. 下列有关河流与湖泊的叙述, 正确的一组是 ( )  
 ①我国最大的淡水湖是青海湖 ②我国最大的内流河是塔里木河 ③流向国外的河流称为外流河  
 ④治理长江的首要任务是防洪 ⑤黄河的泥沙主要来自中游的黄土高原地区  
 A. ①②③ B. ②③④ C. ②④⑤ D. ①④⑤
6. 下列河流中, 汛期最长的是 ( )  
 A. 珠江 B. 长江 C. 黄河 D. 海河
7. 歌词“你用健美的臂膀, 挽起高山大海……”赞美的河流是 ( )  
 A. 黄河 B. 长江 C. 雅鲁藏布江 D. 黑龙江
8. 亚洲第一长河是 ( )  
 A. 闽江 B. 尼罗河 C. 密西西比河 D. 长江
9. 下列关于长江和黄河的叙述, 正确的是 ( )  
 A. 长江是我国第一长河, 水能资源丰富  
 B. 黄河是我国第二大河, 中游河段形成了举世闻名的“地上河”  
 C. 两河流均发源于唐古拉山  
 D. 两河流均自西向东注入东海
10. 下列省级行政区域单位中的河流, 容易发生凌汛的一组是 ( )  
 A. 宁夏回族自治区、山东省 B. 山东省、河北省  
 C. 青海省、陕西省 D. 陕西省、山西省
11. 下列关于塔里木河的叙述, 正确的是 ( )  
 A. 受夏季风的影响, 6、7月份流量最大 B. 发展的农业被称为“河谷农业”  
 C. 水源主要来自喜马拉雅山的冰雪融水 D. 水量随气温的升高而增大
12. 黑龙江和松花江水量丰富而含沙量小的主要原因是流域内 ( )  
 A. 气温低、降水多 B. 地形平坦、水流平稳  
 C. 气候湿润、森林茂密 D. 大陆性气候强
13. 我国外流区域和内流区域的河流, 丰水期都在夏季, 其主要原因是 ( )  
 A. 受气温影响, 夏季全国普遍高温  
 B. 受季风影响, 全国大部分地区雨热同期  
 C. 全国大多地区降水集中于夏季  
 D. 东部季风区受夏季风影响, 西部受夏季高温影响
14. 长江水能资源蕴藏量极其丰富, 大多集中在 ( )  
 A. 宜宾至宜昌 B. 源头至宜宾  
 C. 宜宾至湖口 D. 三峡地段
15. 长江上游最大的资源优势是 ( )  
 A. 水电 B. 水产养殖  
 C. 灌溉 D. 航运
16. 我国面积最大的淡水湖是 ( )  
 A. 青海湖 B. 鄱阳湖 C. 洞庭湖 D. 贝加尔湖
17. 我国内河航运最发达、货运量最大的河流是 ( )  
 A. 长江 B. 黄河 C. 珠江 D. 京杭运河
18. 下列关于黄河的叙述, 正确的是 ( )  
 A. 治理黄河的关键是治沙, 应保持中游水土  
 B. 上游流经地势阶梯交界处, 水能资源缺乏  
 C. 中游流经四川盆地, 水土流失严重  
 D. 下游“地上河”堤坝高, 不易造成洪水泛滥

19. 我国下列河流中, 唯一流入北冰洋的是 ( )  
 A. 雅鲁藏布江 B. 长江  
 C. 黄河 D. 额尔齐斯河
20. 俗话说“跳进黄河洗不清”, 说明黄河含沙量大。黄河的泥沙主要来自 ( )  
 A. 华北平原 B. 青藏高原  
 C. 内蒙古高原 D. 黄土高原

### 三、综合题 (共 23 分)

1. 读下面长江水系图, 回答下列问题。(11 分)



- (1) 长江发源于\_\_\_\_\_山脉, 注入①\_\_\_\_\_海, 图中②为\_\_\_\_\_湖。  
 (2) 兼跨长江中、下游的省级行政区域单位是\_\_\_\_\_。  
 (3) 图中③为\_\_\_\_\_水利枢纽, 长江水运发达, 有“\_\_\_\_\_”之称。  
 (4) 治理长江的首要任务是\_\_\_\_\_。  
 (5) 治理长江的措施有哪些?

2. 读下面黄河水系图, 回答下列问题。(12 分)



- (1) 图中①是\_\_\_\_\_河, ②是\_\_\_\_\_河, 它们都位于黄河的\_\_\_\_\_游。  
 (2) 从干湿地区看, 黄河下游流经\_\_\_\_\_地区。  
 (3) 黄河下游最大的水利枢纽工程是\_\_\_\_\_水利枢纽, 其主要作用是\_\_\_\_\_。  
 (4) 黄河下游除了“地上河”的忧患之外, 近些年尤为突出的问题是\_\_\_\_\_, 应立即采取的措施是\_\_\_\_\_。



# 第二章测试卷

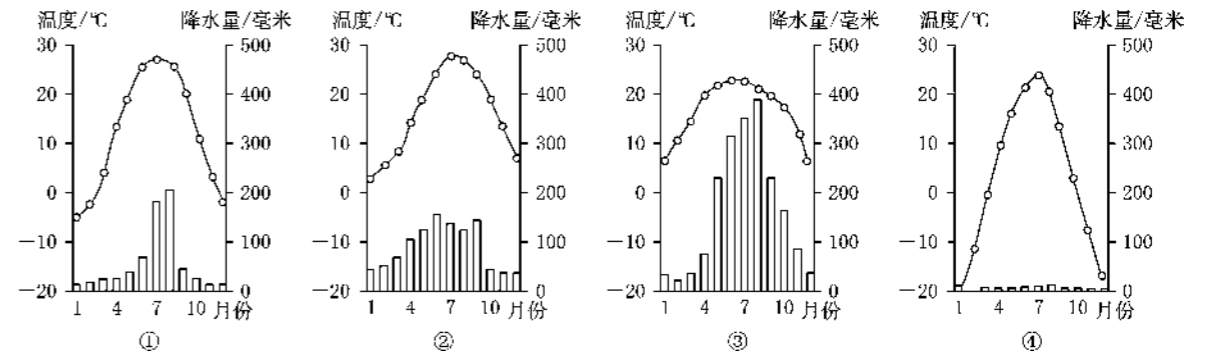
(时间: 90 分钟 满分: 100 分)

## 一、单项选择题 (每小题 2 分, 共 40 分)

题号	1	2	3	4	5	6	7	8	9	10
选项										
题号	11	12	13	14	15	16	17	18	19	20
选项										

- 下列山脉中, 走向与其他三列不同的是 ( )  
A. 天山                      B. 台湾山脉                      C. 大兴安岭                      D. 长白山
- 下列关于我国山区的叙述, 错误的是 ( )  
A. 山区基础设施建设难度小  
B. 我国是一个多山的国家, 山地面积约占陆地面积的 2/3  
C. 山区在发展旅游、采矿和农业等多种经营方面优势较大  
D. 在开发利用山区的时候, 要特别注意环境保护和生态建设, 预防和控制自然灾害的发生
- 下列不属于在山区经常发生的地质灾害的是 ( )  
A. 崩塌                      B. 滑坡                      C. 泥石流                      D. 台风
- 我国的“神舟十号”返回舱选择在内蒙古高原着陆, 其中的原因是 ( )  
A. 海拔最高, 着陆用时短                      B. 地形崎岖, 比较隐蔽  
C. 地势最低, 人口稠密                      D. 地面起伏小, 视野开阔
- 地面崎岖不平, 农田多为梯田的高原是 ( )  
A. 青藏高原                      B. 黄土高原                      C. 内蒙古高原                      D. 云贵高原
- 下列关于我国气温分布的叙述, 不正确的是 ( )  
A. 夏季大多数地方普遍高温                      B. 夏季最热的地方是吐鲁番盆地  
C. 冬季南北气温差别很大                      D. 夏季最冷的地方是漠河镇
- “羌笛何须怨杨柳, 春风不度玉门关”中的“春风”是指 ( )  
A. 偏北风                      B. 偏西风                      C. 冬季风                      D. 夏季风
- 长江和黄河干流都流经的省级行政区域单位的简称是 ( )  
A. 青、藏                      B. 青、川                      C. 川、藏                      D. 云、甘
- 长江和黄河上游共同的水文特点是 ( )  
A. 含沙量大                      B. 流量小                      C. 水能丰富                      D. 落差小
- “万里长江, 险在荆江”的主要原因是 ( )  
A. 支流多                      B. 流域广                      C. 无湖泊调节洪水                      D. 河段特别弯曲

- 塔里木盆地年降水量少于 ( )  
A. 400 毫米                      B. 200 毫米                      C. 800 毫米                      D. 50 毫米
- 下面四幅气温变化曲线和逐月降水量图与其对应城市的排列, 正确的是 ( )



- A. 北京—①、上海—②、吐鲁番—③、西双版纳—④  
B. 上海—①、西双版纳—②、吐鲁番—③、北京—④  
C. 西双版纳—①、上海—②、北京—③、吐鲁番—④  
D. 北京—①、上海—②、西双版纳—③、吐鲁番—④
- 某中学八年级(1)班转来了一位新同学, 他说他们那里的寒假长达 40 天, 滑雪是他最喜爱的运动, 他可能来自 ( )  
A. 杭州                      B. 深圳                      C. 哈尔滨                      D. 珠海
- 我国的气候复杂多样, 这对我们的生产和生活产生影响。下列叙述正确的是 ( )  
A. 不同的气候条件下人们的饮食习惯都是相同的  
B. 气候多样, 使我国农作物品种不多  
C. 气候复杂多样使我国的自然灾害较少  
D. 气候复杂多样可以形成不同的旅游资源
- 阿拉伯半岛和长江中下游地区处在大体相同的纬度位置上, 后者降水比前者多, 下列原因叙述正确的是 ( )  
A. 阿拉伯半岛位于欧洲, 长江中下游地区位于亚洲  
B. 阿拉伯半岛位于内陆地区, 离海洋太远  
C. 长江中下游地区受季风影响, 降水量多  
D. 长江中下游地区为温带海洋性气候, 阿拉伯半岛属热带沙漠气候
- 黄河的危害体现在 ( )  
①下游决口成灾    ②中游水土流失严重    ③上游荒漠化严重    ④下游土地盐碱化    ⑤上游和下游有凌汛现象    ⑥水污染严重  
A. ①②③⑤⑥                      B. ②③④⑤⑥  
C. ①②④⑤                      D. ①③④⑤⑥
- 黄河下游最近几年没有出现断流, 下列原因中, 正确的是 ( )  
A. 黄河上中游地区工农业的发展有所减缓  
B. 黄河流域降水量逐年增多  
C. 夏季风对黄河流域的影响逐年变大  
D. 国家对黄河用水实行统一管理和调配
- 长江流域受洪水危害最严重的地区是 ( )  
A. 上游峡谷地区                      B. 上、中游的水电站  
C. 四川盆地                      D. 中、下游平原地区

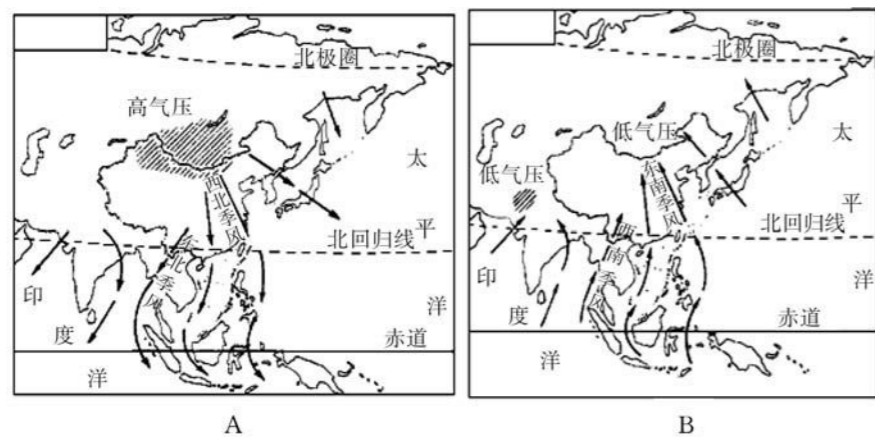
19. 黄河干流水电站最集中的河段是 ( )  
 A. 上游 B. 中游 C. 下游 D. 源头
20. 下列关于我国河流的叙述, 不正确的是 ( )  
 A. 长江是我国最长、流域面积最广、年径流量最大的河流  
 B. 黄河流程约 6 300 千米, 是我国第二大河  
 C. 珠江是我国汛期最长的河流  
 D. 淮河是我国冬季河流有无结冰期的界线

二、综合题 (共 60 分)

1. 读下边的中国地形示意图, 回答下列问题。(18 分)

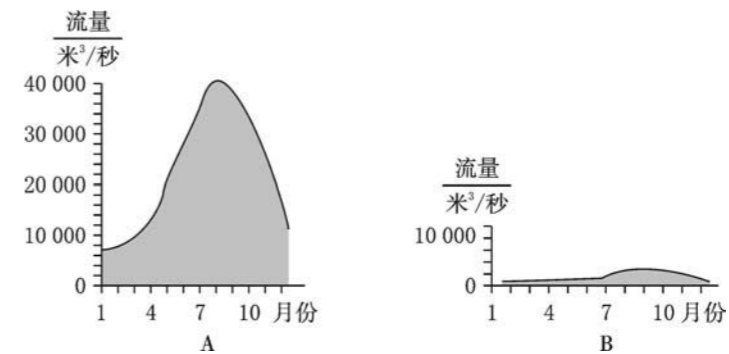


- (1) 图中 A 是 \_\_\_\_\_ 盆地, 位于 \_\_\_\_\_ (省级行政区域单位) 南部, 盆地中的 \_\_\_\_\_ 沙漠是我国最大的沙漠。
- (2) 图中 B 是 \_\_\_\_\_ 盆地, C 是 \_\_\_\_\_ 盆地, D 是 \_\_\_\_\_ 高原, 这三大地形区都位于我国地势第 \_\_\_\_\_ 级阶梯。
- (3) 图中 E 是 \_\_\_\_\_ (山脉), F 是 \_\_\_\_\_ 山脉, 这两列山脉都是 \_\_\_\_\_ 走向。
2. 读下面我国冬季风、夏季风示意图, 回答下列问题。(20 分)



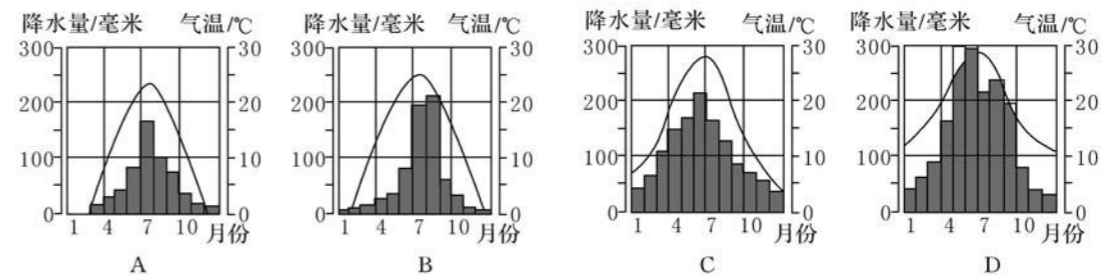
- (1) 表示冬季风的是 \_\_\_\_\_ (填“A”或“B”)图, 它来自 \_\_\_\_\_ 地区, 性质是 \_\_\_\_\_, 所以我国大部分地区冬季气候特点为 \_\_\_\_\_。
- (2) 给我国东部地区带来丰沛降水的是来自太平洋上的 \_\_\_\_\_ 季风和印度洋上的 \_\_\_\_\_ 季风, 降水主要集中在 \_\_\_\_\_ 季。
- (3) 怀化市冬季的主导风向是 \_\_\_\_\_ 风。
- (4) 受季风的影响, 我国年降水量空间分布的特点是 \_\_\_\_\_。夏季风活动不稳定, 容易造成 \_\_\_\_\_ 灾害。

3. 下图 A、B 分别表示长江和黄河的流量过程曲线图。读图, 回答问题。(12 分)



- (1) A 图表示的是 \_\_\_\_\_ 的流量过程曲线, B 图表示的是 \_\_\_\_\_ 的流量过程曲线。A 图中河流与 B 图中河流相比, 具有 \_\_\_\_\_、\_\_\_\_\_ 的特点, 原因是 \_\_\_\_\_。
- (2) B 图表示的河流的含沙量远远大于 A 图表示的河流的含沙量, 试从地形、气候、植被等方面分析其原因。
- (3) A 图表示的河流与 B 图表示的河流流域上游相同的能源资源是 \_\_\_\_\_。

4. 下图表示广州、武汉、北京、哈尔滨四地的气温变化曲线和逐月降水量。读图, 回答下列问题。(10 分)



- (1) 从气温和降水情况分析, 填写 A、B、C、D 分别代表的城市。  
 A \_\_\_\_\_, B \_\_\_\_\_, C \_\_\_\_\_, D \_\_\_\_\_。
- (2) 四城市均位于我国 \_\_\_\_\_ (填“季风区”或“非季风区”), 四城市的气温和降水在时间配合上的共同点是 \_\_\_\_\_。
- (3) 比较四城市的气温资料可以看出, 夏季南北温差 \_\_\_\_\_, 冬季南北温差 \_\_\_\_\_。(填“大”或“小”)
- (4) 四城市中, 1 月平均气温在  $0^{\circ}\text{C}$  以下的是 \_\_\_\_\_, 它们在秦岭—淮河一线 \_\_\_\_\_ (填“以北”或“以南”)。



# 第三章第一节练习卷

(时间: 90 分钟 满分: 100 分)

## 一、填空题 (共 30 分)

1. 自然资源是存在于\_\_\_\_\_、能为人类提供福利的\_\_\_\_\_与\_\_\_\_\_。
2. 自然资源的种类: 主要包括\_\_\_\_\_、\_\_\_\_\_、\_\_\_\_\_、\_\_\_\_\_、\_\_\_\_\_、\_\_\_\_\_等。
3. 自然资源的特征: 自然资源的\_\_\_\_\_不是一成不变的。如\_\_\_\_\_、风景等, 现在也被纳入自然资源的范围。在自然界, 自然资源的\_\_\_\_\_是巨大的, 但又是有限的。
4. 我国自然资源的基本特征: \_\_\_\_\_, \_\_\_\_\_。
5. 自然资源可分为\_\_\_\_\_和\_\_\_\_\_。对于再生速度受到自身繁殖能力和外界环境条件影响的可再生资源, 如\_\_\_\_\_、\_\_\_\_\_、\_\_\_\_\_等, 应有\_\_\_\_\_、有\_\_\_\_\_地加以\_\_\_\_\_利用。对于非可再生资源, 如\_\_\_\_\_ , 我们应该十分\_\_\_\_\_ , 尽可能\_\_\_\_\_利用, 注意\_\_\_\_\_ , 避免\_\_\_\_\_和\_\_\_\_\_。
6. 人口与资源的矛盾: ①我国人口\_\_\_\_\_ , 人口还会不断增长; ②人民生活水平和生产能力的提高, 自然资源的消耗也\_\_\_\_\_。

## 二、单项选择题 (每小题 2 分, 共 40 分)

题号	1	2	3	4	5	6	7	8	9	10
选项										
题号	11	12	13	14	15	16	17	18	19	20
选项										

1. 下列不属于自然资源的是 ( )  
A. 水泥                      B. 空气                      C. 阳光                      D. 森林
2. 下列开发和保护森林的措施中, 可采取的是 ( )  
A. 全部封山育林                      B. 有计划地边砍边种  
C. 增加砍伐量, 促进经济发展                      D. 自然调节
3. 我国目前最大的风力发电场位于 ( )  
A. 内蒙古                      B. 广东  
C. 甘肃                      D. 新疆
4. 下列属于自然资源的是 ( )  
A. 汽车、石油                      B. 森林、风  
C. 毒蛇、钢                      D. 课桌、汽油

5. 以前, 我国一直以“地大物博”而自豪, 而现在, 却有“地大物薄”之说。我国自然资源的特征是 ( )  
A. 总量不足, 种类多                      B. 总量大, 种类少  
C. 人均占有量充足, 用之不竭                      D. 总量丰富, 人均占有量少
6. 我国已在义务教育阶段推行课本循环使用, 某市一学期就少征订课本 32 万册。课本的循环使用直接有利于下列哪种资源的保护? ( )  
A. 煤炭资源                      B. 土地资源  
C. 森林资源                      D. 有色金属
7. 下列各组资源中, 均为可再生资源的是 ( )  
A. 耕地、森林、水资源                      B. 阳光、水能、石油  
C. 石油、煤、天然气                      D. 煤、荒漠、纸张
8. 对于可再生资源, 我们应采取怎样的态度? ( )  
A. 无论怎样用, 都不会枯竭  
B. 无论怎样用, 都不会被破坏  
C. 在利用过程中, 注意保护和培育, 以便能够实现永续利用  
D. 资源是社会的财富, 能不用就不用
9. 关于节约和保护自然资源, 下列做法不正确的是 ( )  
A. 注意垃圾的分类回收、利用                      B. 写作业时节约作业本的每一页  
C. 随意扔掉还可利用的铅笔                      D. 注意节约用水、用电
10. 我国对自然资源的利用, 应采取的态度有 ( )  
①要合理利用可再生资源    ②要提高各类资源的利用率    ③为了子孙后代的利益, 要可持续使用  
④我国自然资源人均占有量少, 应节约使用  
A. ①②③                      B. ①②④  
C. ②③④                      D. ①②③④
11. 南方地区比较丰富的矿产资源是 ( )  
A. 有色金属                      B. 煤炭  
C. 铁矿                      D. 石油
12. 与汽车制造有关的自然资源是 ( )  
A. 土地                      B. 草原                      C. 矿产                      D. 海水
13. 节约资源、保护资源与我们的日常生活密切相关, 以下做法错误的是 ( )  
A. 丢垃圾时, 把垃圾分类回收                      B. 尽量不使用一次性消费品  
C. 过节给朋友写好多贺卡                      D. 洗碗时尽量不使用洗涤剂
14. 世界上煤炭产量最多的国家是 ( )  
A. 美国                      B. 俄罗斯  
C. 中国                      D. 澳大利亚
15. 我国目前最大的石油工业基地是 ( )  
A. 胜利油田                      B. 大庆油田  
C. 华北油田                      D. 克拉玛依油田
16. 下列关于我国自然资源的叙述, 错误的是 ( )  
A. 我国的自然资源总量大、种类多                      B. 我国的自然资源取之不尽, 用之不竭  
C. 我国的自然资源人均不足, 相对短缺                      D. 人类的生产和生活与自然资源密切相关

弥 封 线  
得分: \_\_\_\_\_  
学号: \_\_\_\_\_  
姓名: \_\_\_\_\_  
班级: \_\_\_\_\_