




# 阶梯数学

## 思维训练

斯塔熊文化 著 野作插画 绘

2~4岁

1

 河北美术出版社

图书在版编目 (CIP) 数据

阶梯数学思维训练. 2-4岁: 全5册 / 斯塔熊文化著;  
野作插画绘. — 石家庄: 河北美术出版社, 2018.12  
ISBN 978-7-5310-9569-9

I. ①阶… II. ①斯… ②野… III. ①数学课—学前教育—教学参考资料 IV. ①G613.4

中国版本图书馆 CIP 数据核字 (2018) 第 279503 号

# 目录

直线是什么样的·····	2
曲线是什么样的·····	3
小火车来啦·····	4
踢足球（一）·····	5
画屋子·····	6
谁的西瓜大·····	7
吃苹果·····	8
谁的脚印·····	9
公交车·····	10
画鸡蛋·····	11
去游泳吧·····	12
猴子吃甘蔗·····	13
钓鱼啦·····	14
停车位·····	15
最近的家，最远的家·····	16
手电筒·····	17
踢足球（二）·····	18
圆圆的是什么·····	19





# 直线是什么样的

认识直线


画一画，把下面这些图中的直线画出来。



# 曲线是什么样的

认识曲线


小动物们在开心地滑旱冰，请画出它们的路线吧！



# 踢足球（一）

画曲线

明明和丽丽一起踢足球，皮球沿着曲线滚动，请画出它的路线。



# 画屋子

画直线  
曲线


乐乐家里是这样的，把没有画完的线都画出来吧！



# 谁的西瓜大

认识大小

小兔子和小猫各自买回了一个西瓜。请问谁的西瓜大？



# 吃苹果

比较大小

妈妈买回了两个苹果，乐乐把大苹果给妈妈吃，自己吃小苹果。请用笔连一连，他们分别吃了哪一个？



# 公交车

认识多少

路上驶来两辆公交车，看，哪辆车上的人多？哪辆车上的人少？



# 画鸡蛋

比较多少

两个小朋友比赛画鸡蛋，他们谁画得多？谁画得少？你能不能画得比他们都多？



# 去游泳吧

比较多少

夏天到了，小伙伴们都去游泳了！看，这里有两个游泳池，哪边人多？哪边人少？



# 钓鱼啦

画长短

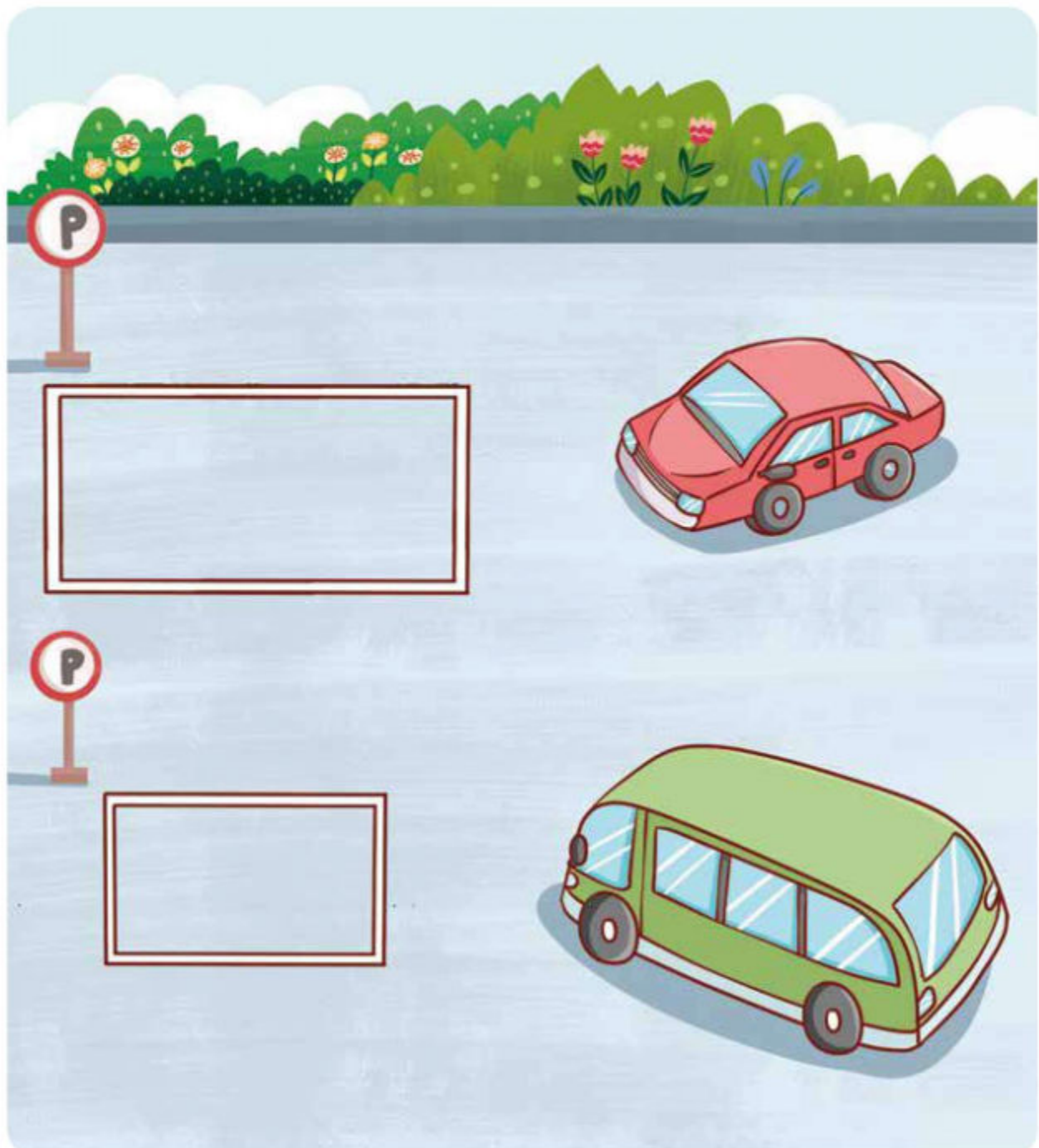
两个小朋友在池塘边钓鱼。请问谁的渔竿长，谁的渔竿短呢？快画一画吧。



# 停车位

连连看

停车场里，有两辆车不知道停在哪个车位，你能帮帮忙吗？



# 最近的家，最远的家

认识远近

小伙伴们在森林中玩耍，看看它们谁离家最近，谁离家最远呢？



# 手电筒

画远近

两个小朋友在玩儿手电筒，谁的手电筒照得远？谁的照得近？画出来比较一下吧！

