

目 录

第一单元复习卷·····	1	第四单元复习卷·····	33
第一单元测试卷·····	5	第四单元测试卷·····	37
第二单元复习卷·····	9	专题一 政治制度与社会变革·····	41
第二单元测试卷·····	13	专题二 经济发展与民族关系·····	45
期中基础测试卷(第1~10课)·····	17	专题三 思想与科技文化·····	49
期中综合测试卷(第1~10课)·····	21	期末基础测试卷·····	53
第三单元复习卷·····	25	期末综合测试卷·····	57
第三单元测试卷·····	29	参考答案与解析·····	61

图书在版编目(CIP)数据

湘教考苑·单元测试卷·历史七年级·上册:人教版/《湘教考苑》编写组编.—长沙:湖南教育出版社,2016.7

ISBN 978-7-5539-3768-7

I. ①湘… II. ①湘… III. ①中学历史课—初中—习题集

IV. ①G634

中国版本图书馆CIP数据核字(2016)第012748号

湘教考苑·单元测试卷·历史·七年级上册(人教版)

本书编写组 编

责任编辑:李海棠

出版发行:湖南教育出版社(长沙市韶山北路443号)

网 址: <http://www.hnepu.com>

电子邮箱: hnjybs@sina.com

微信服务号:多点学习

客 服:电话 0731-85486979

经 销:湖南省新华书店

印刷装订:湖南天闻新华印务邵阳有限公司

开 本:787×1092 16开

印 张:5

字 数:155000

版 次:2016年7月第1版第1次印刷

书 号:ISBN 978-7-5539-3768-7

定 价:11.00元

本书如有印刷、装订错误,可向承印厂调换

ISBN 978-7-5539-3768-7



9 787553 937687 >

湘教考苑

单元测试卷

D A N Y U A N C E S H I J U A N

本书编写组 编



历史

七年级上册
(人教版)

湖南教育出版社

第一单元复习卷

历史 七年级上册(人教版)

【易错集训】

易错点 1:北京人的生产生活及地位

- (2016·淮安中考)“1929年,我国青年考古工作者裴文中在周口店的山洞里,发掘出一个完整的远古人类头盖骨化石。他兴奋地断定,这是远古人类的遗骨。”材料中的“远古人类”是 ()
A.元谋人 B.北京人
C.半坡原始居民 D.河姆渡原始居民
- (2016·齐齐哈尔模拟)截至目前,我国已有48处世界遗产,居世界第二位。北京人遗址是第一批被列入《世界遗产名录》的。下列能展现北京人生产、生活面貌的史实是 ()
A.使用天然火 B.住干栏式房屋 C.挖掘水井 D.烧制彩陶
- (2016·灵璧模拟)北京人遗址是世界上出土古人类遗骨和遗迹最丰富的遗址。对“北京人”的生产、生活状况表述不正确的是 ()
A.过着群居生活 B.已经会使用火和保存火种
C.进入原始农耕文明阶段 D.能够制造和使用工具

易错点 2:半坡人和河姆渡人的异同

- (2016·昆明中考)我国原始居民将狗尾巴草驯化,培育出粟(俗称谷子,去壳后称小米)。考古学家在黄河流域发现了粟的遗存。下列人类遗址中,与之相关的是 ()
A.元谋人遗址 B.北京人遗址
C.河姆渡氏族村落遗址 D.半坡氏族村落遗址
- (2016·苏州学业考试)在下列图片中,反映出我国长江流域河姆渡原始居民文化特征的是 ()



①陶器上的稻穗纹



②鱼纹彩陶盆



③半地穴式房屋



④干栏式房屋

- 半坡人和河姆渡人过上定居生活的最主要原因是 ()
A.农业生产的发展 B.火的使用
C.能建造房屋 D.使用陶瓷

易错点 3:炎黄联盟及炎帝和黄帝的发明创造

- 某电视台准备做一期“访华夏始祖之源,寻民族龙脉之根”的节目,以探求历史。形成后来华夏族主体的部落是 ()
A.黄帝、蚩尤部落 B.炎帝、蚩尤部落
C.黄帝、炎帝部落 D.黄帝、炎帝和蚩尤部落
- 古书记载,(神农氏)日中为市,致天下之民,聚天下之货,交易而退,各得其所。这段材料描述的社会现象是 ()
A.制作生产工具 B.种植五谷和蔬菜
C.通商交换 D.建造房屋
- 2016年4月4日,清明公祭轩辕黄帝典礼在陕西省黄陵县隆重举行。下列有关黄帝的叙述,不正确的是 ()
A.建造宫室,制作衣裳,挖掘水井 B.发明弓箭和指南车
C.教民开垦耕种,制作陶器 D.妻子嫫祖擅长纺织、缫丝

【综合训练】

- 有了人类,就有了人类社会。我国境内的人类活动至少出现在 ()
A.三四百万年前 B.170万年前
C.70万~20万年前 D.公元前21世纪
- (2016·东台双语学校模拟)某同学在他的旅游日记中写道:“他们使用的天然火不是人工取得的,而是打雷正好击中干燥的木头点燃的火,又或是火山爆发和森林火灾的火。他们晚上轮流看火,用灰来保存火种。”以下史实中,与日记中的“他们”相符的是 ()
A.他们居住在半地穴式的房屋里 B.天然火的使用使他们能吃到香喷喷的米饭
C.他们过着群居的生活 D.他们把文字刻写在龟甲和兽骨上
- (2016·广东学业考试)2015年度“全国十大考古新发现”之海南新石器时代的遗存,距今约6000年。同一时期,生活在我国黄河流域的原始居民是 ()
A.元谋人 B.北京人 C.半坡居民 D.河姆渡居民
- 半坡居民的生活,生动地展现了我国原始农耕的图景。下列关于半坡居民的说法,不正确的一项是 ()
A.会使用天然漆 B.主要种植粟
C.会制作彩陶 D.会从事简单的纺织、制衣
- 从穴居生活到定居生活是人类的一大进步。导致下图所示两种房屋结构不同的主要原因是 ()



- 生活习惯不同
- 生产工具不同
- 自然环境不同
- 生产力水平不同

①考生要写清校名、姓名和班级(或准考证号)
②不读题、不讲题、监考人不解答问题
③用钢笔或签字笔答题,字迹要清楚,卷面要整洁

注意事项

县(区) 乡 年级 班级 姓名 学校

第一单元测试卷


历史 七年级上册(人教版)

时间:60分钟 满分:100分

题号	一	二	总分
得分			

一、选择题(本大题共18小题,每小题3分,共54分)

1.关于人类起源有很多说法,下图表明人类是由古猿进化而来,得出这一结论最有力的证据是 ()



- A.传说、遗址 B.化石、遗址 C.遗物、记载 D.传说、记载
- 2.(2016·怀化学业考试)“我来自元谋,你来自周口,牵起你毛茸茸的手,爱让我们直立行走。”这是网络上颇为流传的诗句。如果要考察“来自元谋”且能“直立行走”的远古人类,应该去 ()
- A.陕西省 B.云南省 C.浙江省 D.北京市

3.右图是我国著名史前考古学家、古生物学家裴文中。以下属于裴文中的贡献是 ()



- A.最先发现北京人遗址
B.依据在遗址中发现的三枚牙齿为北京人命名
C.发现第一个北京猿人头盖骨
D.发掘出三个北京猿人头盖骨
- 4.在“周口店遗址文化节”的活动现场,阿龙很想体验北京人的原始生活。当主办者发给他一块兽肉让他切割时,他选择的工具应该是 ()
- A.打制石器 B.铁制工具 C.磨制石器 D.硬质土块
- 5.距今约70万~20万年,生活在北京周口店的原始人类北京人生活的地方丛林茂密,野兽经常出没,所以北京人 ()
- A.必须凭借个人的力量顽强地生存
B.必须成千上万人生活在一起,过着集体的生活
C.建造房屋,种植庄稼,饲养动物,努力改善生活条件
D.常常几十个人在一起,共同劳动并分享劳动成果,过着群居的生活

- 6.此处遗址是迄今所知世界上内涵最丰富、材料最齐全的直立人遗址。此处遗址是 ()
- A.云南元谋人遗址 B.周口店北京人遗址
C.周口店山顶洞人遗址 D.陕西半坡人遗址

春节假期,王非凡同学和家人一起去参观半坡遗址。根据所学知识,回答7~9题。

- 7.王非凡同学和家人应该购买去哪里的车票 ()
- A.北京周口店 B.山西大同
C.陕西西安 D.云南元谋
- 8.王非凡一家人首先去参观了历史博物馆。在半坡文物展厅里,他不可能看到的是 ()
- A.粟的朽粒 B.石制纺轮
C.彩陶 D.骨耜
- 9.晚上,他们一家人要体验半坡人的居住情况。他们可能居住在 ()
- A.洞穴里 B.半地穴式房屋里
C.干栏式房屋里 D.木头搭建的房屋里

10.(2016·邵阳中考)暑假期间,邵胜同学参观了浙江省一处著名的原始人类遗址,如图是他用手机拍摄的干栏式房屋复原图。据此推断,该遗址是 ()

A.元谋人遗址 B.北京人遗址
C.半坡遗址 D.河姆渡遗址



- 11.新石器时代的出现,对人类社会历史发展来说是一次质的飞跃,有人把这种飞跃称作是一场“新石器革命”。下列原始居民中,生活在新石器时代的有 ()
- ①山顶洞人 ②半坡居民 ③河姆渡居民 ④北京人
- A.②④ B.①④ C.②③ D.①②
- 12.(2016·陕西师范大学附中期中)图片和文字一样承载着历史,一图胜千言。关于下列图片反映的历史信息较为准确的是 ()



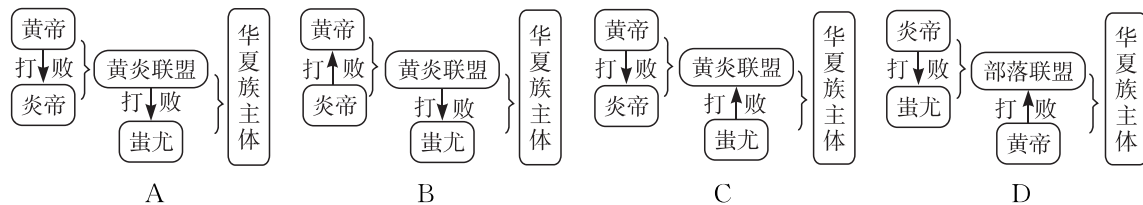
石斧



骨耜

- A.聚族而居 B.原始农业 C.贫富分化 D.采集与狩猎
- 13.(2016·聊城学业考试)原始人类经历了从群居到聚族而居、从采集到种植、从狩猎到饲养家畜的演进过程。推动上述演进的主要因素是 ()
- A.建筑技术的进步 B.人工取火的发明
C.饲养水平的提高 D.生产工具的改进
- 14.俗话说:“民以食为天;农业稳,天下稳。”农业是国之根本。我国原始农业兴起和发展的标志有 ()
- ①农作物种植 ②家畜饲养 ③磨制工具 ④聚落 ⑤城市的出现
- A.①②③④ B.①②④⑤ C.①②③⑤ D.①③④⑤

15. (2016·徐州铜山区期中)下面是炎帝、黄帝与蚩尤三个部落的发展演变历程,正确的一项是 ()



16. (2016·常德学业考试)一代伟人孙中山的诗句“中华开国五千年,神州轩辕自古传”反映了我们经常讲的“上下五千年”的历史是从下列哪个人物开始的 ()
- A. 黄帝 B. 炎帝 C. 禹 D. 舜
17. 课堂上,汪老师展现出以下历史文物图片,并得出结论:传说时代,人们已经会制作陶器,已经使用船做交通工具,出现了原始音乐。据此可知 ()



陕西宝鸡出土的船形彩陶壶



新石器时代陶器上的刻画符号



河南舞阳贾湖出土的骨笛

- A. 考古发现是了解史前社会历史的重要证据 B. 传说有时也能证明历史
- C. 这是炎帝和黄帝发明的 D. 考古发现是获取历史知识的唯一途径
18. 苏辙的《涂山》说:“娶妇山中不肯留,会朝山下万诸侯。古人辛苦今谁信,只见清淮入海流。”这首诗称赞的是三过家门而不入的治水英雄,他是 ()
- A. 盘古 B. 炎帝 C. 大禹 D. 舜

二、非选择题(共 46 分)

19. 阅读下列材料,回答问题。(28 分)

材料一 北京人遗址是一个很大的洞穴堆积,最早是在 1921 年被发现的,正式发掘从 1927 年开始,1929 年的发掘工作由我国青年考古工作者裴文中独立主持,并于当年发现了第一个完整的北京人头盖骨化石。以后陆续出土了 200 多块属于 40 多个北京人的骨化石、近 10 万件石器,以及大量的灰烬和烧石、烧骨等。北京人的发现,在世界考古界有着重大意义。1987 年,北京人遗址被联合国教科文组织列入世界文化遗产名录。

材料二 我国是早期人类化石和文化遗址发现的重要地区之一。……我国旧石器时代初期的文化遗址有二十余处,北起辽宁,南至云南,西至陕西,东到安徽。其中,沿黄河、长江两大河流域分布较为密集。

——《中国原始社会史》

- (1) 北京人生活的年代,根据科学测定,距今约 70 万~20 万年。这说明了什么历史问题? (4 分) 在北京人遗址中发现大量的灰烬和烧石、烧骨等,说明了什么? (8 分)

(2) 北京人遗址为什么会被列入世界文化遗产名录? (8 分)

(3) 结合材料和所学知识思考,我国早期人类的分布有哪些特点? (8 分)

20. 阅读下列材料,回答问题。(18 分)

材料一 农业生产

(一) 在晋东南一带,民间流传着这样一句谚语:“金珠子,金珠王,金珠不换沁州黄。”晋东南地区的沁县古为沁州,沁州黄是这一带出产的一种小米,颗粒小,金黄色,被当地人称为“金珠子”。

(二) 水稻作为全球主要的农作物,在世界上 120 个国家和地区广泛栽培种植。目前,全世界有一半以上的人口以稻米为主食。

材料二 房屋建筑。



图 1



图 2

(1) 根据材料一,你知道粟、水稻这两种农作物分别是哪个原始居民种植的吗? (6 分)

(2) 材料二中图 1 和图 2 所示建筑样式的名称是什么? (4 分) 它们分别是哪一地区的建筑样式? (4 分)

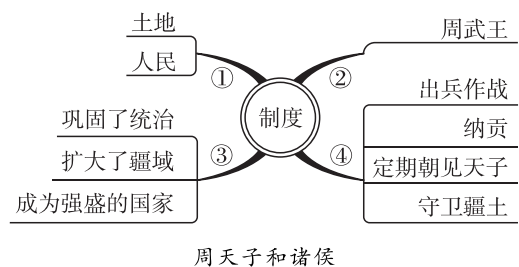
(3) 农业生产和房屋建筑的发展对人类文明的发展有何影响? (4 分)

【综合训练】

1.(2016·龙东学业考试)他因治水造福于民而名扬天下,又以创建中国历史上第一个奴隶制王朝而名垂青史。“他”是 ()

- A.黄帝 B.禹 C.舜 D.启

2.(2016·高密模拟)下图是某同学用思维导图的形式记的课堂笔记,图中的④说明 ()



- A.分封制的作用 B.诸侯的义务
C.诸侯的权力 D.周天子的责任

3.(2016·安岳期末)春秋战国时期,土地利用率和农作物产量显著提高。这种变化直接得益于 ()

- ①磨制石器取代打制石器 ②青铜工具的发明与应用 ③铁制农具的出现 ④牛耕技术的运用及推广
A.①② B.③④ C.①④ D.②③

4.春秋时期,社会风云激荡,烽烟四起,战火连天,诸侯争霸串联起了整个春秋时期的历史。春秋末年,长江下游地区北上争霸的两个诸侯国是 ()

- A.晋国 楚国 B.吴国 越国
C.齐国 晋国 D.楚国 秦国

5.商鞅变法是战国时期影响最大的一次改革。有人评价这样这次变法:“以前是贵族任战士,现在是战士为贵族。”与之相关的变法措施是 ()

- A.严明法度 B.奖励耕织
C.推行县制 D.奖励军功

6.(2016·赤峰宁城期末)《淮南子·人间训》中有“塞翁失马,焉知非福”这样一则寓言,指坏事在一定条件下可变为好事。最早提出类似观点的思想家是 ()

- A.孔子 B.老子
C.孟子 D.韩非

7.(2016·东营学业考试)历史学家费正清说:“在证明了法家思想有效用的同时,秦王朝也(从反面)体现了孟子的一个正确思想——政府最终还是要依靠被统治者的默认。”这一评论中的“孟子的一个正确思想”应该是 ()

- A.“兼爱”“非攻” B.以“仁政”治国
C.提倡法治 D.“无为而治”

8.春秋战国是我国历史上一个社会大变革的时期。阅读下列材料,回答问题。

材料一 进入春秋时期,周王室衰微,诸侯势力逐渐强大起来……与此同时,铁器和牛耕的使用提高了生产力,私田越来越多……

材料二 商鞅是首屈一指的利国富民的伟大政治家,是一个具有宗教徒般笃诚和热情的理想主义者。商鞅之法……此诚我国从来未有之大政策。

——毛泽东

(1)“春秋时期,周王室衰微,诸侯势力逐渐强大起来”造成了春秋时期怎样的局面? 经过春秋时期 200 多年的纷争,战国初期形成了怎样的政治局面?

(2)根据材料一,结合所学知识思考,春秋时期“经济上的变革”最重要的表现是什么?

(3)材料二中的“商鞅之法”开始于哪一年? 请写出这次变法的主要内容(写出两点即可)。这次变法给秦国带来了哪些影响?

第二单元测试卷

历史 七年级上册(人教版)

时间:60分钟 满分:100分

题号	一	二	总分
得分			

一、选择题(本大题共20小题,每小题3分,共60分)

1.(2016·齐齐哈尔中考)中国是世界四大文明古国之一,有着悠久的历史。中国历史上第一个奴隶制王朝是 ()

- A.夏朝 B.商朝 C.西周 D.东周

2.右图所示是夏王朝的都城二里头遗址,如果将都城进行复原,请你想象一下,都城中会有哪些国家机器 ()

- ①刑法 ②监狱 ③宫殿 ④军队

- A.①②④ B.①②③④
C.②③④ D.①③④

3.连环画俗称“小人书”,是一种以连续的图画叙述故事、刻画人物的通俗读物。右图所示画面所描绘的事件的结果是 ()

- A.夏朝灭亡 B.商朝建立
C.武王伐纣 D.商朝灭亡

4.(2016·赤峰中考)西周末代君主幽王昏庸无道,为博褒姒王妃一笑,烽火戏诸侯,最终导致西周灭亡。其中的“诸侯”来源于 ()

- A.奴隶制 B.世袭制 C.禅让制 D.分封制

5.(2016·兴化顾庄三校模拟)下列从公元前21世纪到东周我国王朝更替的顺序,正确的是 ()

- A.夏→商→西周→东周 B.夏→商→东周→西周
C.商→夏→东周→西周 D.商→夏→西周→东周

6.(2016·莆田中考)下面是我国1964年发行的4枚邮票。据此判断,邮票中的器物属于 ()



A.陶器




B.瓷器



C.青铜器



D.铁器



7.清代的金石学家王懿荣第一个发现“龙骨”上刻有明显的“符号”,并断定时间为商代,使蒙尘3000多年的“符号”免于湮没。这种“符号”应是 ()

- A.刻画符号 B.甲骨文 C.金文 D.小篆

8.(2016·临沂学业考试)孔子曾经编了一部记载当时鲁国历史的史书,名叫《春秋》;而这部史书中记载的时间跨度与东周的前期大体相当,所以后人就将东周的前期称为春秋时期。该时期开始于 ()

- A.国人暴动 B.周平王东迁洛邑
C.齐桓公成为霸主 D.韩、赵、魏三家分晋

9.生产工具的进步是生产力发展的主要标志。从木、石、骨、蚌农具到铁制农具的发明和使用是生产工具上的革命。铁制工具开始应用于农业生产是在 ()

- A.商朝 B.西周 C.春秋时期 D.战国时期

10.(2016·青岛学业考试)《史记》记载:“平王立,东迁于洛邑,辟(避)戎寇。平王之时,周室衰微,诸侯强并弱,齐、楚、秦、晋始大,政由方伯(霸主)。”该材料说明东周时期 ()

- ①周天子的威望下降 ②诸侯不再听从周天子的命令 ③诸侯之间经常进行争霸战争 ④最终由秦国完成国家统一

- A.①③④ B.①②③ C.①②④ D.②③

11.习近平总书记曾引用管仲的“治大国若烹小鲜”来谈治国方略。管仲被誉为“春秋第一相”,他最杰出的政治篇章是辅佐下列哪位诸侯成为春秋时期的首霸 ()


- A.秦孝公 B.晋文公 C.楚庄王 D.齐桓公

12.“春秋无义战”是孟子对争霸战争的评价。下列对春秋战国时期各国的争霸与兼并战争,评价正确的有 ()

- ①争霸战争给人民带来了深重灾难 ②小的诸侯国被消灭,出现了一些大国,有利于国家走向统一 ③在争霸战争的过程中许多诸侯国以改革加强了自身的力量 ④争霸进一步削弱了周王室的统治地位

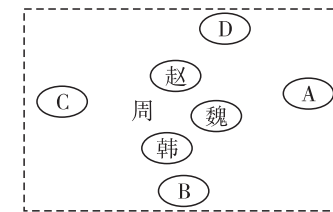
- A.①②③④ B.②③④ C.①②③ D.①④

13.(2016·泰州中考)阅读小明同学绘制的中国历史朝代(时期)更替示意图(局部),其中的空白处应该是 ()



- A.夏朝 B.商朝 C.战国 D.东汉

14.下图是学习战国七雄的历史时,小明同学制作的各国位置示意图,其中秦国的位置应是 ()



15.(2016·黄石学业考试)《史记·商君列传》载:“集小(都)乡邑聚为县,置令、丞,凡(共)三十一县。”材料反映了当时 ()

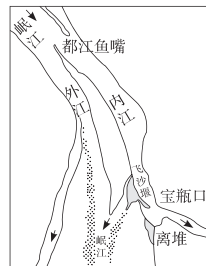
- A.实行分封制 B.建立县制 C.确立行省制 D.推行郡国并行制

16.“良禽择木而栖，贤臣择主而事。”如果你生活在战国后期，要到当时最强大的封建国家去谋求职位，你应该去的国家是 ()

- A.齐国
- B.秦国
- C.燕国
- D.赵国

17.(2016·曲靖民族中学期末)右图所示的工程修筑于战国时期，至今仍碧水长流。如果想一睹这一古代工程的风采，应该去 ()

- A.浙江绍兴
- B.湖北随州
- C.四川成都
- D.河南



18.(2016·苏州学业考试)胡适说：“孔子是了不得的教育家，他提出的教育哲学可以说是民主、自由的教育哲学，将人看作是平等的。”下列主张中，能突出体现孔子“将人看作是平等的”是 ()

- A.仁者爱人
- B.因材施教
- C.有教无类
- D.为政以德

19.(2016·江门模拟)为响应党中央厉行节约的号召，许多单位加入到反对“舌尖上的浪费”的“光盘行动”之中。早在战国时期，提出“兼爱”“非攻”“俭节则昌，淫逸则亡”主张的思想家是 ()

- A.老子
- B.墨子
- C.庄子
- D.韩非

20.(2016·宜宾中考)《史记》载：“(孝公)有囊括四海之意……商君佐之，内立法度，务耕织，修守战之备。”由此可知，“商君”属于 ()

- A.儒家
- B.道家
- C.法家
- D.墨家

二、非选择题(共40分)

21.识读下列图片，回答问题。(20分)

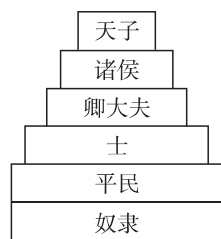


图1 西周等级示意图

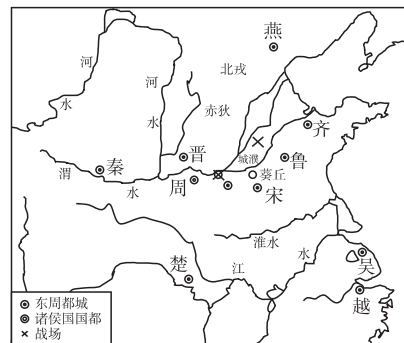


图2 春秋形势图

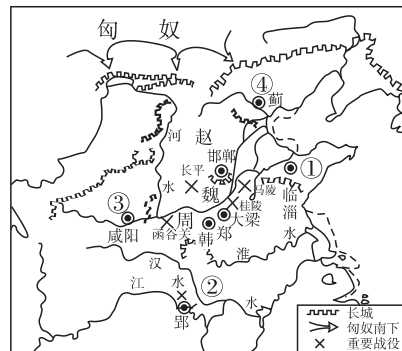


图3 战国形势图

(1)图1中的“诸侯”是通过什么制度产生的?(3分)西周为什么要实行这种制度?(3分)

(2)图2反映了春秋时期诸侯争霸的基本情况,这一时期的主要霸主有哪些?(4分)

(3)图3中与“周天子”并立的七个诸侯国在历史上被称为什么?(3分)到战国后期,实力最强的诸侯国是哪个国家?(3分)

(4)从图1到图3,诸侯对天子的态度有什么变化?(4分)

22.(2016·荣阳期中)阅读下列材料,回答问题。(20分)

【社会动荡】

材料一 春秋战国是社会大动荡、大变革和大发展的时期,生产力发展引起生产关系的变革,经济基础变动引起了上层建筑的变动。频繁战争成为改革的直接推动力,而思想文化的繁荣又为改革提供了理论支持。……秦孝公抓住机遇,直面挑战。商鞅借助历史的大舞台进行变法,改变了秦国的命运,也影响了中国历史的进程。

(1)依据材料一并结合所学知识,指出商鞅变法的时代背景。(8分)

【破旧立新】

材料二 商鞅变法是战国时期一次重要的政治和经济社会改革。通过这次变法,旧制度废除了,新制度建立了,秦国发生了根本性变化。

(2)改革必然触动某些利益集团的“奶酪”。结合所学知识回答,商鞅变法中最直接触动旧贵族“奶酪”的措施是什么?(3分)最有利于富国强兵的措施有哪些?(3分)

【影响深远】

材料三 (商鞅变法)行之十年,秦民大说(悦),道不拾遗,山无盗贼,家给人足。民勇于公战,怯于私斗,乡邑大治。

——《史记·商君列传》

(3)商鞅变法践行了诸子百家中哪一家的思想?(2分)依据材料三,分析商鞅变法的历史作用。(4分)

①考生要写清校名、姓名和班级(或准考证号)
②不读题、不审题、监考人不解答问题
③用钢笔或签字笔答题,字迹要清楚,卷面要整洁

县(区) 乡 年级 班级 姓名 学校

期中基础测试卷(第1~10课)

历史 七年级上册(人教版)

时间:60分钟 满分:100分

题号	一	二	总分
得分			

一、选择题(本大题共20小题,每小题3分,共60分)

- 1.(2016·靖江期末)考古发掘的遗址和实物是研究历史的第一手资料。我国境内已确认的最早的古人类遗址是 ()
A.北京周口店遗址 B.云南省元谋人遗址 C.浙江省河姆渡遗址 D.陕西省半坡遗址

- 2.(2016·湘西学业考试)生活在距今约70万~20万年之间的我国远古人类是 ()
A.元谋人 B.北京人 C.半坡人 D.河姆渡人

- 3.(2016·娄底学业考试)过上农耕生活的原始居民已经会建造房屋。如图所示,居住在该样式房屋中的原始居民是 ()



- A.元谋人 B.北京人
C.河姆渡人 D.半坡人

- 4.“用骨耜在双眸中,开垦出一片水田……可能装满亿万年后 的仓廩。”诗歌《问津河姆渡》中“可能装满亿万年后 的仓廩”的农作物是 ()

- A.粟 B.玉米 C.水稻 D.南瓜

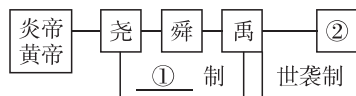
- 5.中华民族是一个具有强大凝聚力的民族,下列被尊奉为中华民族人文始祖的是 ()

- ①炎帝 ②黄帝 ③尧 ④舜
A.①② B.②③ C.③④ D.①④

- 6.“禅让”是传说中部落联盟民主推选首领的方法。“禅让”的依据是 ()

- A.财产 B.武力 C.才能 D.出身

- 7.(2016·泰兴新兴中学期末)观察下面的图示,请你判断,①处和②处应填写的内容是 ()



- A.分封制、桀 B.民主制、纣 C.推选制、启 D.禅让制、启

- 8.春节起源于殷商时期年头岁尾的祭神祭祖活动,是中国最盛大、最热闹、最重要的一个古老传统节日。商朝又称殷朝,历史上将都城迁到殷的商王是 ()

- A.启 B.桀 C.伊尹 D.盘庚

- 9.杜甫的《望岳》千古流传,“岱宗夫如何,齐鲁青未了”是诗的首联。诗中用“齐鲁”代表山东,应追溯到古代的什么制度 ()

- A.禅让制 B.分封制 C.世袭制 D.郡县制

- 10.牛耕是我国农业发展史上的一次革命。右图所示的耕作方式得到进一步推广是在哪个历史时期 ()



- A.商朝 B.西周
C.春秋时期 D.战国时期

- 11.“周辙东,王纲堕。逞干戈,尚游说。始春秋,终战国。五霸强,七雄出。”下列不属于春秋时期的霸主的是 ()

- A.晋文公 B.齐桓公 C.楚庄王 D.秦孝公

- 12.(2016·安徽模拟)连环画题材广泛,内容多样,是老少皆宜的一种通俗读物。下列连环画反映的史实中,不属于发生在战国时期的是 ()



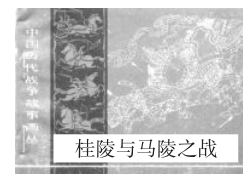
A



B



C



D

- 13.(2016·青岛学业考试)《史记·商君列传》记载:“商君相秦十年,宗室贵戚多怨望者。……后五月而秦孝公卒,太子立……遂灭商君之家。”这段材料说明 ()

- A.商鞅变法失败的原因是触犯了奴隶主贵族的利益
B.社会改革必须顺应历史潮流
C.太子即位后顺应民心,处死商鞅
D.改革可能遇到重重阻力,会付出沉重的代价

- 14.(2016·泉州中考)“己所不欲,勿施于人”思想主张的提出者是 ()

- A.孔子 B.老子 C.孟子 D.韩非

- 15.春秋战国时期,社会急剧变化,各学派纷纷著书立说,发表意见,形成了“百家争鸣”的学术局面。下列选项中,体现了孟子思想的是 ()

- A.“兼爱”“非攻” B.要求统治者用“仁政”治国,轻徭薄赋
C.“无为而治” D.主张改革,反对空谈仁义,提倡法治

- 16.(2016·孝感中考)战国时期,社会发生了急剧变化。关于如何治理国家,法家主张 ()

- A.实行“仁政” B.“无为而治”
C.以法治国 D.选举贤能的人治理国家

- 17.(2016·郴州学业考试)秦朝是我国历史上第一个统一的多民族的中央集权国家,它建立于 ()

- A.公元前221年 B.公元221年 C.公元前202年 D.公元202年

- 18.(2016·苏州景范中学期中)电视剧《秦始皇》以其恢弘的场面和精良的制作成为我国历史剧中的佳作。在剧中,中央设置的官职不可能有 ()

- A.丞相 B.太尉 C.御史大夫 D.县令

①考生要写清校名、姓名和班级(或准考证号)
②不读题、不答题、监考人不要回答问题
③用钢笔或圆珠笔答题,字迹要清楚,卷面要整洁

注意事项

县(区) 乡 年级 班级 姓名 学校

期中综合测试卷(第1~10课)

历史 七年级上册(人教版)

时间:60分钟 满分:100分

题号	一	二	总分
得分			

一、选择题(本大题共20小题,每小题3分,共60分)

- (2016·泰兴新兴中学期末)1965年,我国考古学家在云南省某县发现了两颗门齿化石和一些粗糙的石器,中国地质科学院用古地磁方法测定它们距今约170万年。出土的化石和粗糙的石器能证明哪一远古人类的存在 ()
A.元谋人 B.北京人 C.山顶洞人 D.半坡人
- (2016·郴州学业考试)“五一”期间,小明在北京周口店参观了一处距今大约70万~20万年之间的早期人类遗址。由此可以推断出,他参观的这处早期人类遗址是 ()
A.元谋人遗址 B.北京人遗址 C.半坡人遗址 D.河姆渡人遗址
- 在发掘处于原始农耕时期的某遗址时,考古人员发现了一个存储粟和芥菜籽的罐子。这个罐子可能是 ()
A.彩陶 B.白陶 C.黑陶 D.青铜器皿
- (2016·山西中考)考古发现是了解史前社会的主要证据。下面一组邮票反映的是河姆渡遗址发掘出的文物,它见证了我国河姆渡原始居民的生产生活状况。据此可以得出的结论有 ()



- ①他们种植的农作物是水稻 ②他们主要使用青铜农具 ③他们居住的是干栏式房屋 ④他们已学会了制作船只
- A.①②③ B.②③④ C.①②④ D.①③④
- (2016·咸宁中考)2016年4月4日,丙申年清明公祭轩辕黄帝典礼在陕西省黄陵县轩辕广场隆重举行,来自海内外的万余名中华儿女参加了公祭典礼。下列有关黄帝的叙述,正确的是 ()
①建造宫室,制作衣裳,教人们挖井,发明指南车,为后世的衣食住行奠定了基础 ②被后人尊称为人文始祖 ③是传说时代的治水英雄 ④发明了文字,制作音律
A.①② B.②③ C.①③ D.②④

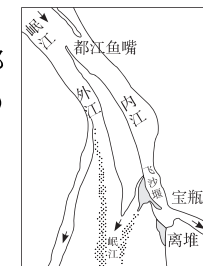
- (2016·临沂学业考试)右图所示的历史人物为中华民族的发展作出了巨大贡献。他治理洪水,发展生产,使人民安居乐业;结束了中国原始社会的部落联盟状态,创造了奴隶制国家;还划定中国的版图为九州。这里的“他”是指 ()
A.黄帝 B.舜 C.禹 D.启



- (2016·黔东南中考)张亮同学在学习公元纪年法时,对年代尺非常感兴趣。他要计算我国历史上第一个王朝(夏朝)的建立距今(2016年)已有多少年,他计算的结果应该是 ()
A.4084 B.4085 C.4086 D.4087
- 在七年级(1)班开展的“我学历史”的故事会上,小明讲述了这样一段历史:周武王联合800多个部落击败商朝军队,纣王自焚,商朝灭亡。据此你可判断出,他所描述的历史事件是 ()
A.牧野之战 B.商汤灭夏 C.涿鹿之战 D.“国人暴动”
- (2016·海南学业考试)商朝是我国青铜文化的灿烂时期。下列能够代表这一时期的青铜工艺成就是 ()



- A.司母戊鼎 B.鱼纹彩陶盆 C.甲骨文 D.冰裂纹瓷器
- (2016·徐州运河中学期末)现代考古在战国时期魏国故地出土了许多用生铁铸造的农具。1950—1951年,河南辉县发掘了5座大型魏墓,1号墓出土铁器65件,其中农具占58件,包括镢、锄、铲、镰、犁铧等一整套铁农具。材料说明战国时期 ()
A.生铁铸造由魏国独断经营 B.铁农具广泛用于农业耕作
C.铁器只用于农业生产 D.铁制农具最早出现于河南辉县
 - 小明在一篇历史小论文中写道:“齐桓公任用伊尹为相,改革内政和军制,发展生产,以‘尊王攘夷’为口号,扩充疆界。通过改革,齐国国富兵强,终于成为战国时期第一个霸主。”其中出现了几处史实错误 ()
A.1处 B.2处 C.3处 D.4处
 - 据史料记载,商鞅被诬告谋反,逃到一家客店准备住宿时,店主拒绝了没有凭证的商鞅入住。不得已,商鞅只得回到自己的封地,被捕后惨遭车裂而死。有人认为,商鞅死于自己的规定。请问,这一规定是下列哪一项 ()
A.改革户籍制度,加强对人民的管理 B.奖励军功
C.推行县制 D.承认土地私有
 - 成都平原成为“千里沃野,鱼米之乡”,得益于战国时期修建的水利工程都江堰。下列关于都江堰的说法,不正确的一项是 ()
A.战国时期,秦国蜀郡太守李冰父子主持修建
B.东边的内江用于灌溉,西边的外江用于排洪
C.内江之水通过“飞沙堰”引入支流,灌溉农田
D.20世纪末,被联合国教科文组织列为世界文化遗产



14. 历史学家钱穆认为中国学术思想最灿烂的时期是秦以前。那时,曾有一位思想家说:“大直若屈,大巧若拙,大辩若讷。静胜躁,寒胜热,清静为天下正。”这位思想家最有可能是()
 A.孔子 B.孟子 C.韩非 D.老子
15. (2016·襄阳中考)世界上有 500 多所传播中国传统文化的“孔子学院”。通过“孔子学院”主要可以了解哪家的学说 ()
 A.道家 B.儒家 C.墨家 D.法家
16. 在“百家争鸣”的时代,社会影响最大的是儒、墨两家,故有“非儒即墨”之说。然而,秦朝统治者践行的却是法家思想,其原因在于法家 ()
 A.主张兼爱,反对战争 B.主张顺其自然,无为而治
 C.提倡法治,建立专制集权 D.提倡仁者爱人,为政以德
17. (2016·青岛学业考试)它是中国第一帝都。两千多年前,秦人从这里挥师东进,横扫六合,成就了华夏一统的泱泱帝国,并由此奠定了中国统一的历史发展趋势。材料中的“中国第一帝都”是 ()
 A.洛阳 B.咸阳 C.长安 D.北京
18. (2016·绵阳中考)秦朝时,蜀郡(现今四川地区一带)郡守产生的方式是 ()
 A.世袭继承 B.皇帝任免
 C.地方推荐 D.考试选拔
19. (2016·贺州中考)《史记·秦始皇本纪》记载:“因地形,用制险塞,起临洮,至辽东,延袤万余里。”《史记》记载的是秦朝修筑的 ()
 A.灵渠 B.阿房宫 C.骊山陵墓 D.万里长城
20. (2016·泰兴新兴中学期末)西汉政论家、文学家贾谊在《过秦论》中发问:“一人发动起义,就使得整个王朝都崩溃了,秦二世也死于他人之手,被天下人耻笑,这是什么原因呢?”正确的答案应该是 ()
 A.秦的统一不符合历史发展的趋势 B.秦的暴政导致了秦朝的迅速败亡
 C.废分封、立郡县不利于长治久安 D.修筑长城阻碍了秦朝的对外开放

二、非选择题(共 40 分)

21. (2016·弥城一中期中)阅读下列材料,回答问题。(19 分)

材料一 商朝前期曾几次迁都,一直到商王盘庚迁都到亳,统治才稳定下来。此后,商朝统治区域不断扩展,成为当时世界上的大国。

材料二 平王立,东迁……辟(避)戎寇。平王之时,周室衰微,诸侯强并弱,齐、楚、秦、晋始大,政由方伯。

材料三 齐国君王齐桓公,任用丞相叫管仲。“尊王攘夷”为口号,第一霸主逞威风。

- (1)材料一中有一处错误,请指出并改正。(4 分)

错误:_____ ; 改正:_____。

- (2)依据材料一思考,商王迁都对商朝的发展有什么影响?(3 分)迁都是一件大事,商王认为应当用文字记录下来,你认为商王当时用什么文字记录这件事?(2 分)

- (3)材料二中,平王把都城迁到了哪里?(2 分)找出材料二中反映平王东迁后政治局势的句子。(2 分)材料二中“诸侯强并弱”的目的是什么?(2 分)

- (4)依据材料三归纳分析,齐桓公能成为“第一霸主”的原因是什么?(2 分)春秋时期的哪个诸侯国在战国初期被瓜分?(2 分)

22. 秦始皇以其雄才大略,缔造了我国历史上第一个统一的多民族的封建国家,被称为“千古一帝”。秦朝虽然短暂,但对中国历史的发展影响深远。根据所学知识,结合材料,回答问题。(21 分)

材料一 秦王扫六合,虎视何雄哉!

材料二 嬴政二十六年,皇帝尽兼并天下诸侯,立号为皇帝,乃诏丞相,一法度衡石丈尺,车同轨,书同文,货币一统。

材料三 斩木为兵,揭竿为旗,天下云集响应,赢粮而景从。山东豪俊遂并起而亡秦矣。

- (1)你认为秦王为什么能“扫六合”,而其他国家却不能做到?(6 分)

- (2)秦朝大力推行加强中央集权的措施,在中央主要由哪些官员负责?(2 分)为巩固统一,在经济、文化方面,秦朝采取了什么措施?(4 分)

- (3)“斩木为兵,揭竿为旗”指的是秦末农民起义,领导这次农民起义的两位领袖分别是谁?(2 分)秦朝灭亡的根本原因是什么?(4 分)

- (4)你认为秦朝的兴与亡对以后历史的发展有什么影响?(3 分)

第三单元复习卷

历史 七年级上册(人教版)

①考生要写清校名、姓名和班级(或准考证号)
②不读题、不讲题、监考人不解答问题
③用钢笔或签字笔答题,字迹要清楚,卷面要整洁

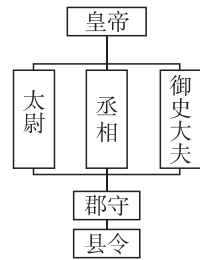
注意 事项

县(区) 乡 年级 班级
学校 姓名

【易错集训】

易错点 1:秦始皇与汉武帝的治国之策

1.某同学利用下边的行政系统简图进行研究性学习,他研究的主题应该是 ()



- A.夏朝实行王位世袭制
B.西周推行分封制
C.秦朝建立中央集权制度
D.西汉强化监察制度
- 2.(2016·海南学业考试)秦统一后,围绕着在地方采取何种统治方式的问题,君臣之间发生过激烈的争论。最终,秦始皇在地方推行 ()
- A.分封制
B.郡县制
C.科举制
D.行省制
- 3.(2016·青岛学业考试)《史记》记载:“偃说上曰:‘今诸侯子弟或十数,而嗣代立,余虽骨肉,无尺寸地封,则仁孝之道不宣。愿陛下令诸侯得推恩分子弟,以地侯之。彼人人喜得所愿,上以德施,实分其国,不削而稍弱矣。’于是,上从其计。”“上从其计”的根本目的是 ()
- A.加强中央集权
B.让更多的人得到封地
C.加强思想控制
D.让更多的人有机会进入政府做官
- 4.(2016·宿迁中考)“统一思想,归本儒家,让大家有共同的目标,致力于共同利益。”为此,汉武帝采取的措施是 ()
- A.“焚书坑儒”
B.实行郡县制
C.颁布“推恩令”
D.“罢黜百家,独尊儒术”

易错点 2:儒家思想的创立与发展

- 1.(2016·淄博学业考试)“儒家经典蕴含着丰富的仁爱、民本、诚信、正义、中和、大同等思想资源,是社会主义核心价值观的传统文化渊源。”儒家学派的创始人是 ()
- A.孔子
B.老子
C.孟子
D.韩非
- 2.孔子作为中华传统文化的象征,获得世界人民的敬重。下列哪一选项是孔子的主张 ()
- A.“兼爱”“非攻”
B.实行“法治”
C.“无为而治”
D.“仁”和“爱人”
- 3.(2016·济宁中考)下列对右边材料内容的理解,表述不正确的是 ()

孝武初立,卓然罢黜百家,表章《六经》……
——班固《汉书》

- A.当时在位的皇帝是汉高祖
B.当时在位的皇帝是汉武帝
C.标志着儒家学说被确立为专制王朝的正统思想
D.这是由董仲舒提出的

易错点 3:张骞出使西域与丝绸之路

- 1.(2016·潍坊学业考试)《新全球史》记载:在古典时代,一些个人也完成了长途旅行。张骞历尽艰险,从长安到达了遥远的西方。张骞“长途旅行”的主要目的是 ()
- A.打击匈奴
B.开拓疆域
C.管理西域
D.开通商路
- 2.(2016·恩施中考)“丝绸之路经济带”和“21世纪海上丝绸之路”的战略构想,旨在借用古代“丝绸之路”的符号,沟通历史与未来,连接中国与世界。以下关于古代丝绸之路的叙述,需要修改的是 ()
- A.张骞为“丝绸之路”的开辟作出了重大贡献
B.以长安为起点,经河西走廊和今新疆地区,翻越葱岭,通向西亚和欧洲
C.丝绸之路是联系中外的纽带、沟通东西方的桥梁
D.丝绸之路向内地输入的主要是丝绸
- 3.张骞通西域后,不少西域的物种传到中原地区,丰富了中原人民的生活。下列选项中,属于从西域传入中原地区的是 ()



①核桃



②水稻



③石榴

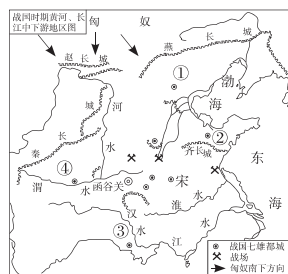


④葡萄

- A.①②③
B.①②④
C.①③④
D.②③④

【综合训练】

- 1.(2016·东营学业考试)右图是战国时期的形势图,图中①②③④分别代表了当时不同的诸侯国。其中,灭掉六国、完成统一的是()
- A.① B.② C.③ D.④
- 2.(2016·龙东学业考试)万里长城是中华民族精神的象征,秦长城的起止点是()
- A.临洮—辽东 B.临洮—咸阳 C.陇西—辽东 D.临洮—函谷关
- 3.(2015·烟台学业考试)“武帝施主父之策,下推恩之令,使诸侯王得分户邑,以封子弟。”文中的“推恩之令”在当时的最大作用是()
- A.削弱了王国的势力 B.促成了“文景之治” C.实现了思想上的大一统 D.促进了政治上的大一统
- 4.汉武帝为实现“大一统”,采取了许多措施,其中整顿财政的措施是()
- A.断绝研读儒家以外学说的人求取功名利禄之路
B.建立刺史制度
C.将地方的铸币权和盐铁经营权收归中央,统一铸造五铢钱
D.颁布“推恩令”
- 5.(2016·长沙学业考试)如果古代有微信,那么在汉武帝的微信朋友圈里,下列人物中,最有可能出现的是()
- A.项羽 B.张骞 C.蔡伦 D.华佗
- 6.西域都护的设立,打破了西域各地小国林立、互不往来的隔离状态,奠定了此后历代中央政权管理西域的基础。下列关于西域都护的说法,不正确的是()
- A.设立于60年,都护府在乌垒城
B.是管理西域的最高长官
C.对西域各国进行有效的管辖
D.说明今新疆地区是中国领土不可分割的一部分
- 7.(2016·呼和浩特中考)四大发明中,对信息的记录、储存和传播,影响最显著、最久远的是()
- A.火药 B.印刷术 C.指南针 D.造纸术
- 8.《史记》是我国历史上第一部纪传体通史,记述了从黄帝到汉武帝时期的史事。下列历史事件中,《史记》中不可能记载的是()
- A.大泽乡起义 B.张骞出使西域 C.大禹治水 D.王莽建立“新”朝



9.(2016·扬州宝应模拟)阅读下列材料,回答问题。

材料一 历史学家翦伯赞认为,在我看来,秦始皇是中国封建统治阶级中的一个杰出人物。我说秦始皇是中国封建统治阶级中的一个杰出人物,不是因为他是一个王朝的创立者,而是因为他不自觉地顺应了中国历史发展的方向,充当了中国新兴地主阶级开辟道路的先锋,在中国历史上,消灭了封建领主制,开创了一个中央集权的封建专制主义的新的历史时代。

材料二 秦为乱政虐刑以残贼天下,数十年矣。北有长城之役,南有五岭之戍,外内骚动,百姓罢敝……财匮力尽,民不聊生。

——司马迁《史记·张耳陈余列传》

材料三 以下是某学校七年级学生小明对秦始皇做的全面而简要的评价:秦始皇是中国历史上杰出的皇帝,他的功大于过。他统一了六国,结束了春秋战国以来长期混战的局面,有利于社会的稳定和发展;他还建立起一整套专制主义中央集权制度,被后世所沿用,影响深远。但是,他实行暴政,最终导致了秦朝的灭亡。

(1)从材料一看,翦伯赞是怎样评价秦始皇的?其主要依据是什么?

(2)依据材料二分析,司马迁是怎样看待秦始皇的?

(3)材料一、二只摘取了翦伯赞和司马迁对秦始皇某个方面的评价。与材料一、二相比,材料三在评价人物的方法上有何特点?

第三单元测试卷

历史 七年级上册(人教版)

时间:60分钟 满分:100分

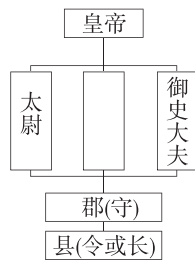
题号	一	二	总分
得分			

一、选择题(本大题共20小题,每小题3分,共60分)

1.秦灭六国,结束了春秋战国以来诸侯长期的分裂割据局面,实现首次大一统的根本原因是 ()

- A.商鞅变法比较彻底,秦国在七国中实力最强
B.秦在统一过程中采取了正确的策略
C.统一条件成熟,秦顺应了这一历史发展的潮流
D.秦王嬴政的雄才大略和将士的英勇善战

2.历史小组的同学以“中央集权制度”为主题进行研究性学习。右图是他们正在编制的《秦朝行政机构示意图》,请按照示意图给空白处选择正确的内容 ()



- A.诸侯
B.丞相
C.刺史
D.卿大夫

3.(2016·常德学业考试)从西周实行分封制到秦朝实行郡县制的变化,最主要的原因是 ()

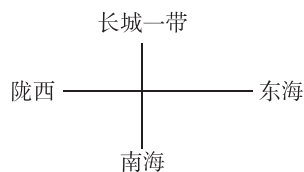
- A.疆域拓展的需要
B.经济发展的需要
C.加强中央集权的需要
D.奖励功臣的需要

4.战国时期,各国“车途异轨……文字异形”。秦兼并六国,实行巩固统一的措施后,下列不存在的情况是 ()

- A.“车同轨”,车辆通行无阻
B.商人交易时使用圆形方孔钱
C.各地官员均用小篆文字写告示
D.农民缴税用的“斗”容量不同

5.(2016·赤峰中考改编)图示法有助于我们对历史知识的记忆和理解。右边的“疆域四至”示意图是下列哪个朝代的 ()

- A.秦朝
B.西周
C.东汉
D.西汉



6.(2016·青岛学业考试)成语是我国文化遗产中一颗璀璨的明珠,许多成语来源于历史典故。其中,“破釜沉舟”与下列哪一场战役有关 ()

- A.城濮之战
B.马陵之战
C.长平之战
D.巨鹿之战

7.右下图所示人物是汉朝开国皇帝,汉民族和汉文化伟大的开拓者之一,中国历史上杰出的政治家、卓越的战略家和指挥家。他在历史上的功绩不包括 ()

- A.结束春秋战国以来的分裂局面
B.结束了秦王朝的残暴统治
C.统一了全国,建立了西汉
D.采取休养生息政策,初步改变汉初的贫困局面



8.(2016·聊城学业考试)贾谊在《治安策》中提出“欲天下之治安,莫若众建诸侯而少其力,力少则易使以义,国小则亡邪心”。汉武帝采取的下列措施中,体现了这一主张的是 ()

- A.派张骞出使西域
B.设置“十三州部”
C.颁布“推恩令”
D.全国统一调配物资

9.(2016·黄冈模拟)汉武帝建立刺史制度,将全国划分为13个州部,这样做的主要目的是 ()

- A.实行思想统一
B.为了解决王国对中央的威胁
C.为了监督皇族的不法行为
D.为了监督地方官吏、豪强及其子弟的不法行为

10.“太学”是中国古代的最高学府,也是屹立在世界东方的第一所国立中央大学,对后世产生了深远影响。“太学”的创办与下列哪个人物有关 ()



A.秦始皇



B.汉武帝



C.汉文帝



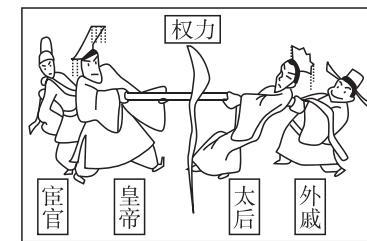
D.王莽

11.电视连续剧《汉武帝》讲述了汉武帝刘彻54年的统治历程。他的雄才大略使汉朝成为当时世界上最强大的国家。汉武帝最重要的功绩是 ()

- A.稳固大一统局面
B.结束割据,实现国家统一
C.创立中央集权制度
D.统治期间出现盛世局面

12.历史漫画能简明地反映一定的历史现象。右图所示的漫画反映的历史现象是 ()

- A.豪强势力膨胀
B.外戚和宦官交替专权
C.农民起义爆发
D.社会安定,经济繁荣



13.(2016·济南模拟)大一统的汉帝国扩展了汉民族文化圈,而汉武帝所具有的超越历史的雄才伟略,使其成为一位战略和外交设计的奇才。体现汉武帝“外交设计的奇才”的历史事件是 ()

- A.张骞通西域
B.颁布“推恩令”
C.设立西域都护
D.派刺史到各州部

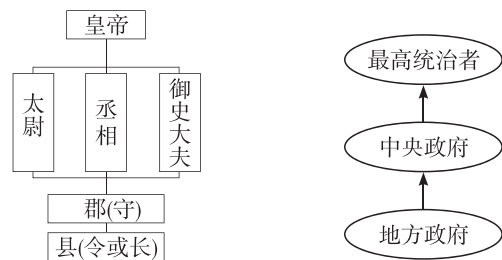
- 14.“建元元年(公元前 140 年),武帝欲联合大月氏共击匈奴,张骞应募任使者,于建元二年出陇西,经匈奴……抵达大月氏……”从材料中可以看出,张骞第一次出使西域的主要目的是 ()
- A.联合匈奴攻打大月氏 B.联合大月氏攻打匈奴
C.开辟丝绸之路 D.设立西域都护
- 15.西汉以来,一条横贯欧亚大陆的通道上,五彩的丝绸、精美的瓷器和名贵的香料络绎不绝。这条通道为古代东西方之间的经济、文化交流作出了重要贡献。它穿越了今天我国境内下列哪一地区 ()
- A.西藏 B.新疆 C.湖北 D.广西
- 16.西汉时期,不仅开通了陆上丝绸之路,商人们还开通了一条海上丝绸之路。通过这条海上丝绸之路,商人们最远到达的地区是 ()
- ①马来半岛 ②孟加拉湾 ③印度半岛南端 ④斯里兰卡
A.①③ B.②③ C.③④ D.①④
- 17.(2016·泰兴姜埭中学模拟)公元前 60 年,新疆正式归属中央政权的管辖,是由于西汉政府设立了 ()
- A.北庭都护府 B.新疆郡 C.安西都护府 D.西域都护
- 18.(2016·贺州中考)右图为 1973 年在长沙马王堆 3 号汉墓出土的绘有各种运动姿势的帛画导引图。据此可知,汉代医学已认识到 ()
- A.麻醉可减轻外科手术的痛苦 B.体育运动能强身健体
C.中医的理论和治病原则 D.收集民间药方的重要性
- 19.(2016·泰安学业考试)据《史记·太史公自序》记载,司马迁为了完成父亲的遗业,大量阅读朝廷史官的记载,还到各处实地探访考察,搜集遗闻,最终写成了不朽的名著《史记》。由此可知,司马迁 ()
- A.侧重史书记载 B.注重史料考证
C.注重史学的文学价值 D.秉承朝廷旨意著史
- 20.在一部电视剧里,描写了刘邦的夫人吕后为了逃避战乱,逃到了尼姑庵中。对于这一情节的设置,下列说法正确的是 ()
- A.这个故事是正确的,因为佛教于西汉初年传入中国
B.这个故事是错误的,因为佛教于西汉末年传入中国
C.这个故事是真实的,因为道教于战国时期在我国兴起
D.这个故事是虚构的,因为道教于东汉初年在我国兴起



二、非选择题(共 40 分)

- 21.(2016·泰兴济川中学期末)中国是一个统一的多民族国家,在历史上有过分裂,但维护祖国统一是中华儿女不变的追求。结合所学知识,回答下列问题。(24 分)

材料一



材料二 汉初在沿用秦朝地方管理制度外,分封了一些王公和战争中的功臣到各地做诸侯王。诸侯王的权力很大,在封地内可以任免官吏,收取租税,铸造钱币,还拥有兵权。

(1)根据材料一回答:

①我国历史上第一个统一的中央集权的封建国家是哪一个?(3 分)它统一于何时?(3 分)

②为建立统一的中央集权封建国家,秦始皇在地方上采取了什么措施?(3 分)这一政治制度体现了“诸子百家”中哪一家的思想主张?(3 分)

(2)根据材料二回答:

①汉初分封的诸侯王国后来的发展对中央集权造成极大的影响,汉武帝继位后采取什么措施消除了这一影响?(3 分)

②汉武帝为了强化监察制度,在地方设置了什么官职?(3 分)

③针对地方上“收取租税,铸造钱币”的问题,汉武帝采取的措施是什么?(6 分)

22.阅读下列图片,回答问题。(16 分)



图 1



华佗



图 3

(1)图 1 所示的场景与哪一技术有关?(2 分)这一技术的出现对社会的发展有何影响?(2 分)

(2)图 2 所示的人物有何成就?(2 分)与他同时期的“医圣”的代表作品是什么?(2 分)

(3)图 3 所示的人物的代表作品是什么?(2 分)该著作有何特点?(2 分)

(4)综合上面的三幅图片,请概述这一时期文化昌盛的原因。(4 分)