



• 根据教育部颁发的《幼儿园教育指导纲要（试行）》编写 •

幼儿 学前 数学

5

50以内不进位、不退位、进位、退位加减法

宋添舰 编著

- 数学入门
- 巩固基础
- 分类统计
- 编排科学



河北美术出版社

图书在版编目 (CIP) 数据

幼儿学前数学 . 5, 50 以内的不进位、不退位、进位、退位加减法 / 宋添舰编著 . -- 石家庄 : 河北美术出版社 , 2018.9

ISBN 978-7-5310-9435-7

I . ①幼… II . ①宋… III . ①数学课—学前教育—习题集 IV . ① G613.4

中国版本图书馆 CIP 数据核字 (2018) 第 219999 号



幼儿学前数学 . 5



河北美术出版社
各地新华书店经销

服务电话：0311-87060677

质量服务承诺：如发现缺页、倒装等印制质量问题，可直接向本社调换。



目 录

50 以内数的测试 (一)	2
50 以内数的测试 (二)	4
50 以内数的测试 (三)	6
50 以内数的测试 (四)	8
50 以内数的测试 (五)	10
50 以内数的测试 (六)	12
50 以内数的测试 (七)	14
50 以内数的测试 (八)	16
50 以内数的测试 (九)	18
50 以内数的测试 (十)	20
50 以内数的测试 (十一)	22
50 以内数的测试 (十二)	24
50 以内数的测试 (十三)	26
50 以内数的测试 (十四)	28
50 以内数的测试 (十五)	30
50 以内数的测试 (十六)	32
50 以内数的测试 (十七)	34
50 以内数的测试 (十八)	36
参考答案	38



太好了




还不棒




加油哦

50 以内数的测试 (一)

一、看图列算式。



$$\square + \square = \square$$






$$\square - \square = \square$$

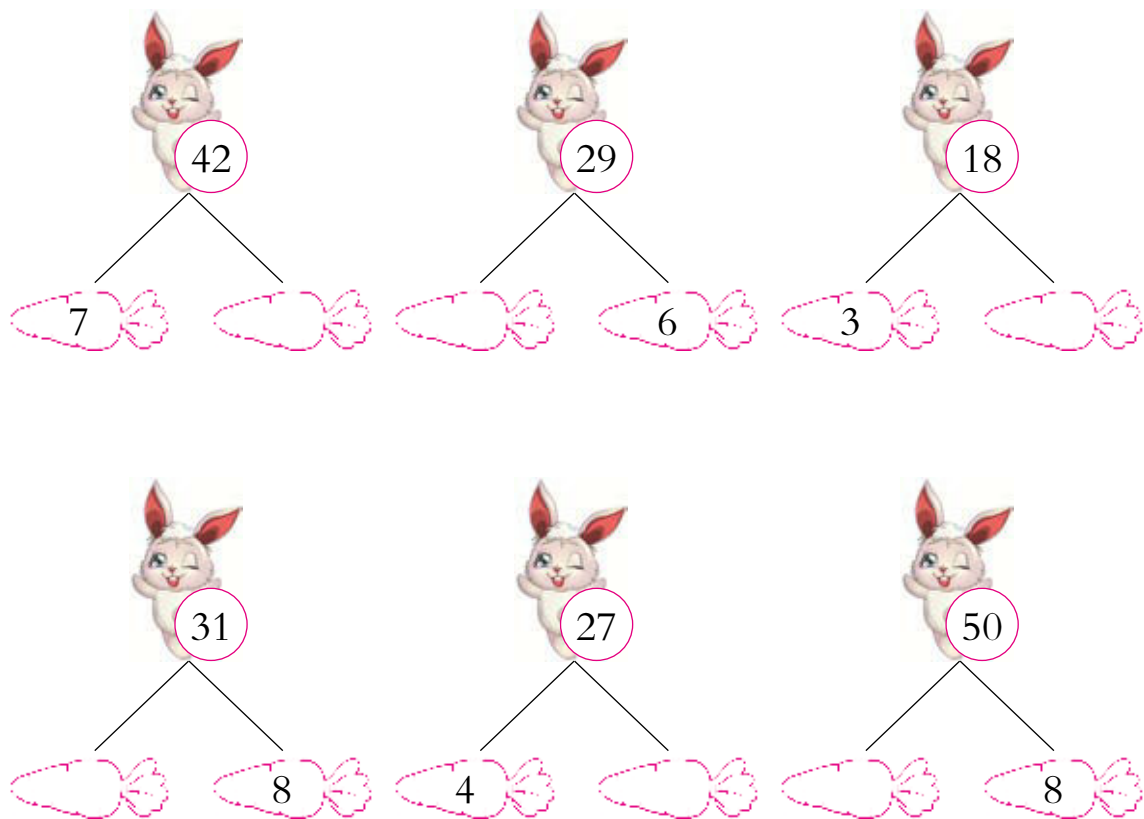
二、看谁算得又对又快。

1.  34 $\xrightarrow{+8}$  $\xrightarrow{-2}$  $\xrightarrow{+7}$  $\xrightarrow{-9}$ 

2.  26 $\xrightarrow{-7}$  $\xrightarrow{-2}$  $\xrightarrow{+8}$  $\xrightarrow{-5}$ 

3.  33 $\xrightarrow{-5}$  $\xrightarrow{+4}$  $\xrightarrow{-7}$  $\xrightarrow{+2}$ 

三、分解下列各数。



四、根据文字填空。

- 46 里面有 () 个 10 和 () 个 1。
- 一个加数是 26, 另一个加数是 7, 和是 ()。
- 被减数是 43, 减数是 9, 差是 ()。
- 与 29 相邻的两个数是 ()、()。
- 一个数是 39, 另一个数是 8, 两个数的和是 ()。
- 一个数是 38, 另一个数是 6, 两个数的差是 ()。



太好了



还不棒



加油哦

50 以内数的测试 (二)

一、按要求排列。

1. 按从大到小的顺序排列。



$$\square > \square > \square > \square > \square > \square$$

2. 按从小到大的顺序排列。



$$\square < \square < \square < \square < \square < \square$$

二、算一算，连一连。



$$45+5$$



$$42-3$$



$$41+7$$



$$41-2$$




$$39+9$$



$$41+9$$



三、在  里填上 “>” “<” 或 “=”。

$23+6$  30

$28+8$  43

$17+8$  25

$43-9$  33


$35-5$  30


$29+6$  35


$50-3$  44


$22+7$  28


$32+7$  44


四、在  里填上正确的得数。


$41-6=$ 


$26-9=$ 


$17+4=$ 


$38+3=$ 


$38+7=$ 


$39-6=$ 


$31+8=$ 

$45-9=$ 


$34-5=$ 

$26+5=$ 

$37-2=$ 

$44+6=$ 

五、看图列算式。



共几只 

$\square \bigcirc \square \bigcirc \square = \square$ (只)



太好了



还不棒





加油哦


50 以内数的测试 (三)


一、按规律填数字。




二、在  里填上适当的数。


$37+8=$ 


$43+5=$ 


$\text{} - 9 = 39$


$\text{} + 6 = 50$


$41 - \text{} = 5$


$47+3=$ 

$33-9=$ 

$\text{} + 8 = 30$

$29-6=$ 

$34+8=$ 

$38-7=$ 

$\text{} - 5 = 39$

三、算一算，将错误的答案划掉。

$42+7=$  47  49

$30-9=$  21  42

$45-8=$  31  37

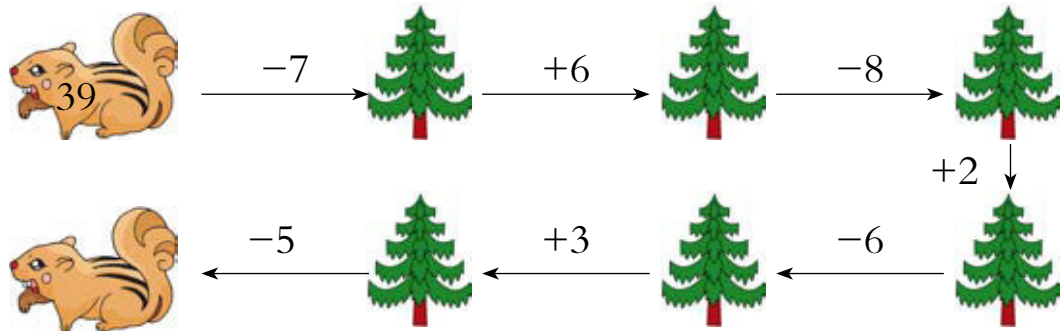
$30+4=$  34  35

$26+6=$  31  32

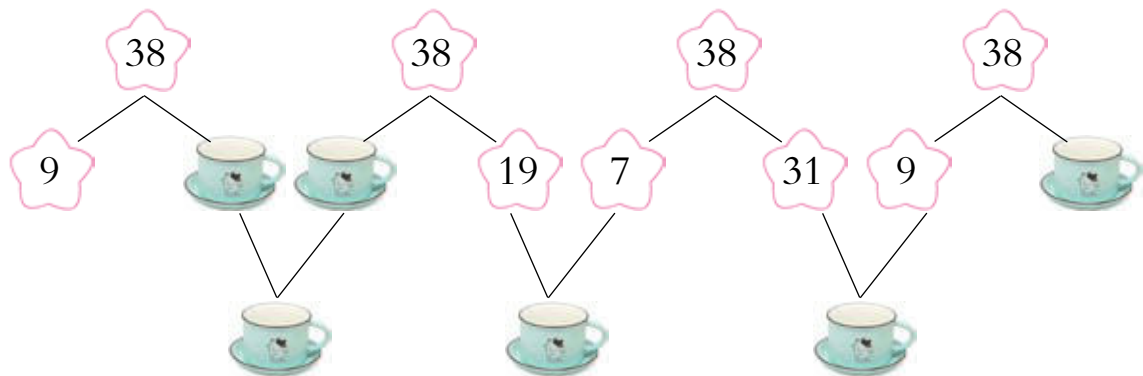
$35-2=$  33  34



四、按顺序算一算，填一填。



五、在 里填上正确的数。



六、应用题。

1. 鱼缸里有 34 条 ，被小朋友捞走了 9 条，鱼缸里还剩多少条 ？

$$\square \bigcirc \square = \square \text{ (条)}$$

答：鱼缸里还剩 条 。

2. 菜园里有两块白菜地，一块长了 43 棵 ，另一块只长了 7 棵，两块白菜地一共长了多少棵 ？

$$\square \bigcirc \square = \square \text{ (棵)}$$

答：两块白菜地一共长了 棵 。



太棒了



还不棒



加油哦

50 以内数的测试（四）

一、在 里填上 “>” 或 “<”。



$38+7$



$50-9$



$34-6$



$21+8$



$43+1$



$49-4$



二、看谁算得又快又准。



$+6$




-7



$+8$



-6



-3



$+8$



-6



$+4$



-9



-4



$+5$



-6



三、竖式计算。

$$\begin{array}{r} 2 \quad 2 \\ + \quad 9 \\ \hline \end{array}$$

$$\begin{array}{r} 2 \quad 2 \\ + \quad 9 \\ \hline \end{array}$$

$$\begin{array}{r} 4 \quad 3 \\ - \quad 5 \\ \hline \end{array}$$

$$\begin{array}{r} 4 \quad 3 \\ - \quad 5 \\ \hline \end{array}$$

$$\begin{array}{r} 4 \quad 9 \\ - \quad 8 \\ \hline \end{array}$$

$$\begin{array}{r} 4 \quad 9 \\ - \quad 8 \\ \hline \end{array}$$

$$\begin{array}{r} 5 \quad 0 \\ - \quad 3 \\ \hline \end{array}$$

$$\begin{array}{r} 5 \quad 0 \\ - \quad 3 \\ \hline \end{array}$$



四、连一连，看一看哪些水果可以放进篮子里。



$31+4$



$42-7$



$44-9$



35



$39-4$



$30+5$





$28+7$

五、算一算，填一填。


$$48 - \begin{array}{|c|} \hline 5 \\ \hline 4 \\ \hline 3 \\ \hline 2 \\ \hline 1 \\ \hline \end{array} = \begin{array}{|c|} \hline \star \\ \hline \star \\ \hline \star \\ \hline \star \\ \hline \star \\ \hline \end{array}$$




$$36 + \begin{array}{|c|} \hline 9 \\ \hline 8 \\ \hline 7 \\ \hline 6 \\ \hline 5 \\ \hline \end{array} = \begin{array}{|c|} \hline \star \\ \hline \star \\ \hline \star \\ \hline \star \\ \hline \star \\ \hline \end{array}$$

六、应用题。


1. 商店进了 32 个 ，卖了 8 个，商店还有多少个 ？

$$\square \bigcirc \square = \square \text{ (个)}$$

答：商店还有 个 .

2. 小飞去美术班学画画，第一天画了 8 张 ，第二天画了 27 张 ，小飞第二天比第一天多画了多少张 ？

$$\square \bigcirc \square = \square \text{ (张)}$$

答：小飞第二天比第一天多画了 张 .



太棒了




还不错



加油哦

50 以内数的测试 (五)

一、比一比，在  里填上 “>” “<” 或 “=”。

$38 \text{ } \langle \text{flower} \text{ } 41$

$23 \text{ } \langle \text{flower} \text{ } 29$

$36 \text{ } \langle \text{flower} \text{ } 33$

$50 - 7 \text{ } \langle \text{flower} \text{ } 43$

$33 + 4 \text{ } \langle \text{flower} \text{ } 40$

$39 + 5 \text{ } \langle \text{flower} \text{ } 35$

$42 - 7 \text{ } \langle \text{flower} \text{ } 35$

二、在  里填上正确的得数。

$38 - 4 = \langle \text{apple} \rangle$

$42 - 7 = \langle \text{apple} \rangle$

$43 + 6 = \langle \text{apple} \rangle$

$48 + 2 = \langle \text{apple} \rangle$

$41 + 5 = \langle \text{apple} \rangle$

$50 - 6 = \langle \text{apple} \rangle$

$32 + 7 = \langle \text{apple} \rangle$

$44 - 6 = \langle \text{apple} \rangle$

$49 - 9 = \langle \text{apple} \rangle$

$49 - 6 = \langle \text{apple} \rangle$

$39 - 9 = \langle \text{apple} \rangle$

$45 + 5 = \langle \text{apple} \rangle$

$39 + 4 = \langle \text{apple} \rangle$

$40 + 7 = \langle \text{apple} \rangle$

$44 - 6 = \langle \text{apple} \rangle$

三、用凑十法、破十法计算。

$$5 + 38 = \langle \text{peach} \rangle$$

Diagram illustrating the凑十法 (making ten method) for $5 + 38$. A peach icon is shown above the result. The number 38 is broken down into 33 and 5. A peach icon is shown above 33. A box around 33 and 5 shows $33 + 5 = 38$. A box around 38 and 5 shows $38 + 5 = 43$.

$$8 + 38 = \langle \text{peach} \rangle$$

Diagram illustrating the凑十法 (making ten method) for $8 + 38$. A peach icon is shown above the result. The number 38 is broken down into 36 and 2. A peach icon is shown above 36. A box around 36 and 2 shows $36 + 2 = 38$. A box around 38 and 2 shows $38 + 2 = 40$.



$$42 - 6 = \langle \text{peach} \rangle$$



Diagram illustrating the破十法 (breaking ten method) for $42 - 6$. A peach icon is shown above the result. The number 42 is broken down into 32 and 10. A peach icon is shown above 32. A box around 32 and 10 shows $32 + 10 = 42$. A box around 32 and 6 shows $32 - 6 = 26$. A box around 26 and 10 shows $26 + 10 = 36$.

$$33 - 7 = \langle \text{peach} \rangle$$

Diagram illustrating the破十法 (breaking ten method) for $33 - 7$. A peach icon is shown above the result. The number 33 is broken down into 23 and 10. A peach icon is shown above 23. A box around 23 and 10 shows $23 + 10 = 33$. A box around 23 and 7 shows $23 - 7 = 16$. A box around 16 and 10 shows $16 + 10 = 26$.

四、算一算，将错误的答案划掉。

20+3=  

50-4=  

31-7=  

32+7=  


39+5=  


39-9=  

五、根据文字填空。

1. 个位数是8，十位数是4的数是（ ）。
2. 被减数是50，减数是7，差是（ ）。
3. 比20大30的数是（ ）。
4. 44里面有（ ）个10和（ ）个1。
5. 把33、38、41、45、34、48按从小到大的顺序排列：
（ ）<（ ）<（ ）<（ ）<（ ）<（ ）


六、看图列算式。



共几个 

○ ○ = (个)



共50只 

○ ○ = (只)



太好了



还不棒



加油哦

50 以内数的测试（六）

一、算一算，比一比，在○里填上“>”“<”或“=”。



$25+8$



$39-7$



$50-8$



$42+5$



$49-5$



$39-5$









$41+7$




$29-4$

二、算一算，填一填，并列式算式。

	38 只
	6 只
 比  多 () 只	
<input type="text"/> ○ <input type="text"/> = <input type="text"/>	

	23 只
	9 只
一共有 () 只	
<input type="text"/> ○ <input type="text"/> = <input type="text"/>	

三、连一连，帮小动物找到自己的礼物。



$32+9$

48



45



$50-3$



$42+6$

41



46



$39+6$



$50-4$

46





47





$40+6$


四、看谁算得又快又准。


$43+5=$ 


$39+5=$ 


$50-7=$ 


$41+9=$ 


$45-7=$ 


$35+8=$ 


$46-5=$ 

$34+6=$ 

$40-7=$ 

$31+6=$ 

$44-5=$ 

$44-6=$ 

五、竖式计算。

$$\begin{array}{r} 25 \\ + 9 \\ \hline \square \square \end{array}$$

$$\begin{array}{r} 37 \\ + 9 \\ \hline \square \square \end{array}$$

$$\begin{array}{r} 46 \\ - 9 \\ \hline \square \square \end{array}$$

$$\begin{array}{r} 41 \\ - 2 \\ \hline \square \square \end{array}$$

$$\begin{array}{r} 41 \\ - 9 \\ \hline \square \square \end{array}$$

$$\begin{array}{r} 26 \\ - 7 \\ \hline \square \square \end{array}$$

$$\begin{array}{r} 38 \\ + 5 \\ \hline \square \square \end{array}$$





$$\begin{array}{r} 36 \\ - 6 \\ \hline \square \square \end{array}$$

六、应用题。

1.  36 辆  4 辆，一共有多少辆？

$$\square \bigcirc \square = \square \quad (\text{辆})$$

答：一共 _____ 辆。

2. 有  6 个， 34 个， 比  少多少个？

$$\square \bigcirc \square = \square \quad (\text{个})$$

答： 比  少 _____ 个。



太棒了



还不棒



加油哦

50 以内数的测试（七）

一、将下列算式的得数按从大到小的顺序编上序号。



$37-9=$



$41+2=$



$26-3=$



$43+7=$



$50-6=$



$22+7=$



二、看谁算得又快又准。

$35+2=$

$31+3=$

$40-7=$

$41+6=$

$38-9=$

$36+2=$

$33-8=$

$38+8=$

$40-8=$

$42+5=$

$47-9=$

$39-9=$

三、在○里填上“>”“<”或“=”。

$45 \bigcirc 43$

$38 \bigcirc 46$

$27 \bigcirc 29$

$43 \bigcirc 42$

$42+7 \bigcirc 50$

$37+5 \bigcirc 42$


$37-3 \bigcirc 25$

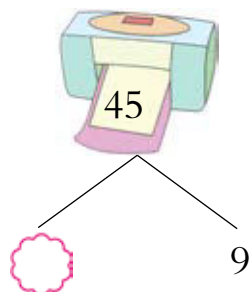

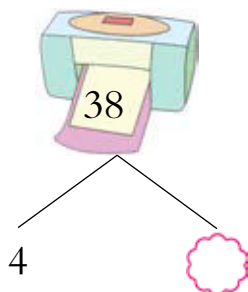
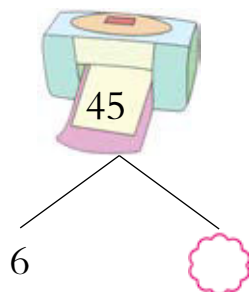

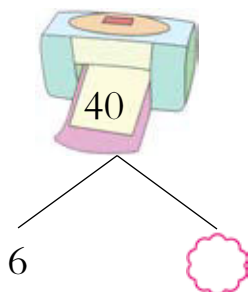
$41-5 \bigcirc 33$

$39+4 \bigcirc 30$

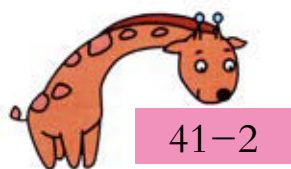
$25+7 \bigcirc 31$



四、在  里填上适当的数。



五、连一连，看一看哪只小动物能得到气球。




$41-2$



$27+9$



$32+6$




$46-7$

六、应用题。

陶艺小组上午捏了 38 个 ，下午捏了 9 个，一天一共捏了多少个 ？

$\square \bigcirc \square = \square \text{ (个)}$

答：一天一共捏了 _____ 个 .