

目 录

第一单元测试卷·····	1	第五单元测试卷·····	37
第二单元测试卷·····	5	月考测评卷二·····	41
月考测评卷一·····	9	第六单元测试卷·····	49
第三单元测试卷·····	17	第七单元测试卷·····	53
期中基础测评卷·····	21	期末基础测评卷·····	57
期中综合测评卷·····	25	期末综合测评卷·····	61
第四单元测试卷·····	33	参考答案·····	69

图书在版编目(CIP)数据

湘教考苑·单元测试卷·历史九年级·上册:岳麓版/《湘教考苑》编写组编.—长沙:湖南教育出版社,2016.7

ISBN 978-7-5539-3769-4

I. ①湘… II. ①湘… III. ①中学历史课—初中—习题集

IV. ①G634

中国版本图书馆CIP数据核字(2016)第012749号

湘教考苑·单元测试卷·历史·九年级上册(岳麓版)

本书编写组 编

责任编辑:李海棠

出版发行:湖南教育出版社(长沙市韶山北路443号)

网 址: <http://www.hnepu.com>

电子邮箱: hjychs@sina.com

微信服务号:多点学习

客 服:电话 0731-85486979

经 销:湖南省新华书店

印刷装订:湖南长福彩色印务有限公司

开 本:787×1092 16开

印 张:5

字 数:155000

版 次:2016年7月第1版第1次印刷

书 号:ISBN 978-7-5539-3769-4

定 价:11.00元

本书如有印刷、装订错误,可向承印厂调换

ISBN 978-7-5539-3769-4



9 787553 937694 >

湘教考苑

单元测试卷

D A N Y U A N C E S H I J U A N

本书编写组 编



历史

九年级上册
(岳麓版)

湖南教育出版社

①考生要写清校名、姓名和班级(或准考证号)

②不答题、不讲解、监考人不回答问题

③用钢笔或签字笔答题,字迹要清楚,卷面要整洁

注意事项

县(区) 乡 年级 班级

学校 姓名

第一单元测试卷

历史 九年级上册(岳麓版)

时间:90分钟 满分:100分

题号	一	二	总分
得分			

一、选择题(每小题四个选项中,只有一项最符合题意。本大题共20道小题,每小题2分,共40分)

- 目前世界上的主要人种不包括 ()
A.黄种人 B.黑种人 C.白种人 D.红种人
- 古代希腊著名的大地女神该亚的传说,反映了人类社会发展到哪一阶段的情况 ()
A.晚期智人 B.母系氏族 C.父系氏族 D.奴隶社会
- (2015·湖南株洲)文明古国大多发源于大河流域,其中发源于尼罗河流域的文明古国是 ()
A.古代印度 B.古代刚果 C.古代埃及 D.古巴比伦
- (2015·湖南邵阳模拟)世界上现存的古代第一部比较完备的成文法典——《汉谟拉比法典》,产生于 ()
A.古代埃及 B.古巴比伦 C.古代印度 D.古代希腊
- (2015·湖南益阳)光明学校历史兴趣学习小组把“亚非大河流域的文明古国”确定为小组研究的课题,下列选项中,不属于本课题研究的对象的是 ()
A.古代希腊 B.古代埃及 C.古代印度 D.古巴比伦王国
- “如今有一个趋势,人们怀念她的民主制度,并将其视为所有现代民主制度的源头。”(英国历史学家约翰·索利语)这里的“她”是指 ()
A.斯巴达 B.雅典 C.罗马帝国 D.西罗马帝国
- (2015·海南)他攫取了罗马国家的最高权力,使罗马进入帝国时代,并开始了长达百余年的“罗马和平”。他是 ()
A.屋大维 B.凯撒 C.伯利克里 D.亚历山大
- (2015·江苏南京)7世纪中期,通过改革向封建社会过渡的亚洲国家是 ()
A.罗马共和国 B.亚历山大帝国 C.法兰克王国 D.日本
- (2015·江苏盐城)亚历山大在所征服的地区兴建了许多城堡,有些逐渐发展为经济文化中心,使希腊文化传播到东方,一种混合着希腊和东方因素的文明诞生。以上材料说明亚历山大帝国的征服 ()
A.促进了东西方的文化交流 B.促使希腊文明走向衰落
C.促使东方文明走向衰落 D.促使东西方文化被毁灭

- 阿拉伯人被誉为“东西方文明交流的使者”,对世界文化的传播与交流作出过重大贡献。下列史实中,不能说明这一观点的是 ()
A.指南针经阿拉伯人传入欧洲
B.火药和火药武器经阿拉伯人传入欧洲
C.改造印度人创造的0~9十个数字的计数法并传入欧洲
D.佛教产生后经阿拉伯人向西传入欧洲
- 8世纪前期,法兰克王国宫相查理·马特改变了以前无条件赏赐贵族土地的做法,实行有条件的土地分封。这场改革给西欧带来的影响是 ()
A.日耳曼民族的大规模入侵 B.罗马教廷的权力至高无上
C.森严的封建等级制度形成 D.东罗马帝国被外族所灭
- 某历史活动课场景:同学们激烈讨论,畅所欲言,内容涉及采邑分封制、丕平献土、城市自治。这堂课正在探究的是 ()
A.上古亚非文明 B.上古欧洲文明 C.亚洲封建国家 D.欧洲封建国家
- 读右图:该图反映了中世纪西欧的社会现实。下列表述中,不正确的是 ()
A.教权高于王权
B.皇帝是由教皇任命的
C.神权凌驾一切
D.教皇和教会是西欧封建制度的精神支柱
- 现代人类文明是在过去各个民族、各个区域文明冲撞和交融的基础上形成的。下列四项中,明显区别于其他三项的是 ()
A.希波战争 B.亚历山大东征
C.罗马征服地中海世界 D.马可·波罗来华
- (2015·湖南长沙)佛教、基督教和伊斯兰教并称为世界三大宗教。其中,伊斯兰教诞生于 ()
A.中国 B.巴勒斯坦地区 C.阿拉伯半岛 D.古印度
- (2015·湖南娄底)一位意大利旅行家,曾在元朝生活十几年,后来回到欧洲。他的经历和见闻,激起了欧洲人对东方的向往。他是 ()
A.亚历山大 B.马可·波罗 C.麦哲伦 D.利玛窦
- (2015·湖南张家界)公元前6世纪,乔达摩·悉达多在印度创立的宗教是 ()
A.基督教 B.佛教 C.伊斯兰教 D.道教
- 《汉谟拉比法典》、印度的种姓制度和西欧的封建等级制度在本质上的共同点是 ()
A.维护封建贵族的利益 B.维护奴隶主贵族的利益
C.维护统治阶级的利益 D.维护广大人民群众的利益
- 下列人物中,不属于古希腊科学家的是 ()
①毕达哥拉斯 ②亚里士多德 ③阿基米德 ④荷马 ⑤埃斯库罗斯 ⑥索福克利斯
A.①②③ B.④⑤⑥ C.①③⑤ D.②④⑥
- 至今仍屹立在土耳其第一大城市伊斯坦布尔(原名君士坦丁堡)城内的圣索菲亚大教堂,冷眼旁观过政治兴衰、宗教斗争与历史的沧桑。它曾见证了下列哪一个国家的兴衰 ()
A.雅典 B.亚历山大帝国
C.罗马帝国 D.拜占廷帝国



①考生要写清校名、姓名和班级(或准考证号)

②不答题、不讲解、监考人不回答问题

③用钢笔或签字笔答题,字迹要清楚,卷面要整洁

注意事项

县(区) 乡 年级 班级

学校 姓名

第二单元测试卷

历史 九年级上册(岳麓版)

时间:90分钟 满分:100分

题号	一	二	总分
得分			

一、选择题(每小题四个选项中,只有一项最符合题意。本大题共20道小题,每小题2分,共40分)

- (2015·贵州黔东南州)文艺复兴是一次资产阶级思想文化运动。对此运动描述正确的是()
A.开始时间:18世纪 B.代表人物:伏尔泰
C.核心思想:人文主义 D.实质:古代希腊、罗马文化的复兴
- (2015·江苏扬州)恩格斯称下列哪一历史人物“是中世纪的最后一位诗人,同时又是新时代的最初一位诗人” ()
A.但丁 B.达·芬奇 C.莎士比亚 D.伏尔泰
- 把解剖、透视、明暗和构图等零碎的知识,整理成为系统的理论的绘画大师是 ()
A.但丁 B.达·芬奇 C.米开朗琪罗 D.拉斐尔
- (2015·湖南娄底)14世纪前后,西欧新兴的资产阶级高举复兴希腊、罗马古典文化的旗帜,掀起了文艺复兴运动。这场运动 ()
A.冲击了教会的陈腐说教 B.废除了君主专制制度
C.确立了资产阶级的统治 D.引发了殖民扩张的狂潮
- (2015·甘肃兰州)打破以往世界各地相互孤立和隔绝的局面,使世界开始连成一个整体的历史事件是 ()
A.新航路的开辟 B.文艺复兴
C.英国资产阶级革命 D.启蒙运动
- 100多年前,“泰坦尼克”号首航从欧洲出发,穿越大西洋,计划到达美洲。最早开辟从西欧到美洲航路的航海家是 ()
A.迪亚士 B.哥伦布 C.达·伽马 D.麦哲伦
- 有学者认为,“实际上,严格的全球意义上的世界历史直到哥伦布、达·伽马、麦哲伦进行远航探险时才开始”。下列对“远航探险”的正确理解是 ()
A.打破了人类长期以来相对隔绝的状态 B.此前从未出现大规模的远航活动
C.宣扬了罗马教廷的声威 D.巩固了西欧的封建制度
- (2015·湖南娄底)经过1640年开始的革命和之后的“光荣革命”,英国于1689年通过了一部重要法案,以法律的形式对国王的权力进行了明确的制约。该法案是 ()
A.《民法典》 B.《人权宣言》 C.《独立宣言》 D.《权利法案》

- (2015·湖南长沙)汤恩比说:“顺利地在新瓶子里装进新酒,还不至于引起旧瓶子爆炸。”“可以说是一种宪法方面的胜利,这种胜利应该当作一种惊人的技艺。”他评价的是 ()
A.英国资产阶级革命后确立了君主立宪制 B.美国独立战争后建立了联邦制国家
C.拿破仑建立法兰西第一帝国 D.辛亥革命后成立中华民国
- 17世纪发生的英国资产阶级革命反映了近代世界历史发展的趋势。这里说的“趋势”是指()
A.资本主义社会取代封建社会 B.封建社会取代资本主义社会
C.无产阶级革命取代资产阶级革命 D.社会主义社会取代资本主义社会
- (2015·广西玉林)美国1787年宪法规定总统享有行政权,国会和最高法院分别掌握国家的立法和司法大权,三权相互制约与平衡。这表明美国 ()
A.决心废除黑人奴隶制度 B.建立了较民主的政治体制
C.正式确立了君主立宪制 D.综合国力已跃居世界第一位
- 7月14日是法国的国庆日。每年的这一天,法国人民都要隆重纪念这个带给他们民主、自由的日子。这源于下列哪一事件 ()
A.攻占巴士底狱 B.发布《人权宣言》 C.成立巴黎公社 D.建立第一共和国
- 列宁说:“现代美国史,是由一次伟大的、真正解放的、真正革命的战争开始的。”它结束了英国的殖民统治,实现了国家独立,有利于美国资本主义的发展。这场战争就是 ()
A.独立战争 B.美西战争 C.南北战争 D.太平洋战争
- (2015·湖南邵阳模拟)我们时常听人说:“我经历了一次滑铁卢。”“这真是一次滑铁卢式的失败。”人们常把工作和生活中的失败比作滑铁卢。在世界历史上,与滑铁卢战役有关的历史人物是 ()
A.拿破仑 B.哥伦布 C.克伦威尔 D.华盛顿
- (2015·新疆乌鲁木齐)英国的《权利法案》、美国的《独立宣言》、法国的《人权宣言》既体现了时代的精神和资产阶级的要求,又开启了近现代法制的先河。下列对三部文献的评述,正确的是 ()
①都是为了推翻封建专制统治 ②都是早期资产阶级革命的成果 ③都确立了共和政体
④都对民主政治产生了重大影响
A.①②③④ B.①②③ C.①③ D.②④
- 某学校历史兴趣学习小组的同学们对拿破仑的“功”与“过”展开了讨论。他们对拿破仑的下列评价中,错误的是 ()
A.颁布法典,巩固资产阶级革命的成果 B.打败欧洲反法同盟,解除外来威胁
C.建立军事帝国,维护封建专制统治 D.发动侵略与掠夺战争,导致帝国崩溃
- (2015·四川自贡)蒸汽机的改进,使人类第一次完成了在生产劳动中以“热”力代替人的体力的革命性飞跃,开创了崭新的“蒸汽时代”。为改进蒸汽机做出突出贡献的是 ()
A.哈格里夫斯 B.瓦特 C.史蒂芬孙 D.富尔顿
- (2015·广东)18世纪后半期,在轰轰烈烈的法国大革命的同时,英国正进行着一场其意义毫不逊色甚至意义更大的革命。“意义更大的革命”指的是 ()
A.英国资产阶级革命 B.英国君主立宪制确立
C.英国工业革命 D.英属北美殖民地独立
- 工业革命的影响包括 ()
①使生产力得到迅速发展 ②促进资本主义世界市场的逐渐形成 ③开始城市化进程 ④加剧无产阶级和资产阶级的矛盾
A.①②③④ B.①②③ C.①③④ D.①②

20. 19 世纪初,蒸汽机在交通运输业中的运用给人类社会生活带来的重大意义是 ()
- A. 迅速扩大了人类的活动和交往范围
 - B. 促进了现代工厂的建立
 - C. 极大地提高了工人的生产积极性
 - D. 促进了工人运动的兴起

二、综合题(共 60 分)

21. (16 分)在意大利中部的阿诺河畔,有一座风景优美、气候宜人的“鲜花之城”佛罗伦萨。14 世纪,这里发展成为欧洲最发达的毛纺织业和银行业中心。当时,这里的豪商巨贾,竞相招引吸纳来自各地的诗人、学者和艺术家。经过长期发展,这个城市哺育了众多的文艺复兴巨匠,涌现出一大批文学艺术的杰作,为后人留下了丰富的文化遗产。结合所学知识,回答问题。

(1) 下面的图片所示的作品,其创作者分别是谁? 这一时期涌现出的文学艺术作品集中体现了什么精神? (6 分)



- (2) 文艺复兴之所以能够首先在意大利出现,其原因有哪些? (4 分)
- (3) 随着时间的推移,文艺复兴逐步扩展到欧洲的其他地方。这一史实出现在什么时候? 它对欧洲产生了什么影响? (6 分)

22. (12 分)(2015·河南)阅读下列材料,回答问题。

材料一 13 世纪初,英国大贵族联合起来,迫使英王签署《大宪章》,英国逐渐确立起一种有限君主制的政治体制。国王虽然享有很大的权力,但在国家所有重要事务上,包括征税,必须征求贵族的意见并且得到他们的同意。

材料二 1689 年,英国议会通过的《权利法案》明确规定:未经议会同意,国王无权废除法律或停止法律的执行;未经议会准许,国王不能征税;未经议会同意,国王不能在平时招募或维持常备军;议会必须定期召开;议会议员的选举不受国王的干涉等。

材料三 早在 1624 年,英国议会就制定了专利法。它规定,第一发明人对其新发明拥有正当的财产权利……到 18 世纪中期,许多行业兴起了技术革新的热潮,开始用机器生产替代手工生产。工业革命的时代到来了。

(1) 材料二和材料一在内容上有什么联系? 材料二的法律文件对英国历史的发展有什么重要意义? (4 分)

- (2) 根据材料二、三思考,英国工业革命时代的到来得益于什么? 概括指出英国在推动近代社会转型的过程中采用的共同方式。(6 分)
- (3) 综上所述,你能从英国近代社会的发展中汲取什么智慧? (2 分)

23. (16 分)华盛顿被尊称为美国的“国父”。阅读下面的材料,回答问题。

人物简介:华盛顿,1732 年出身于一个大种植园主家庭……他在担任总统的 8 年中,做了不少开创性的工作:建立了美国第一个合众国银行,统一了货币;成立了联邦最高法院;通过了以“人权法案”而闻名的宪法前十条修正案,使宪法趋于完善。“与其他国家保持中立关系”这一外交原则被称为是“华盛顿的伟大法规”。直至第一次世界大战爆发为止,这条法规一直是美国外交的主要原则。

华盛顿拒绝部下推举他做国王的请求,坚持将美国建成一个民主的联邦共和国。他不迷恋个人权力。独立战争胜利后,他就把总司令之职交还当时象征着人民权利的大陆会议,以实际行动捍卫美国的民主。

- (1) 在人物简介的“……”部分,你认为要补充哪些内容? (6 分)
- (2) 你认为评价人物的主要方法是什么? (4 分)
- (3) 请你运用上述方法,结合材料及相关知识,对华盛顿进行简要评价。(6 分)

24. (16 分)阅读下面的材料,回答问题。

宣言指出:人生来是自由的,在权利上是平等的,自由是指有权从事一切无害于他人的行为;法律是公共意志的表现,法律面前人人平等;凡权利无保障和分权未确立的社会,就没有宪法;私有财产神圣不可侵犯。

- (1) 上述材料的内容出自哪个国家哪一年颁布的什么宣言? (4 分)
- (2) 该宣言的核心内容是什么? 它的颁布有何重大意义? (6 分)
- (3) 请根据材料的观点判断,“自由就是我可以做我想做的任何事”的说法是否正确? 请说明理由。(6 分)

月考测评卷一

历史 九年级上册(岳麓版)

时间:90分钟 满分:100分

题号	一	二	总分
得分			

一、选择题(每小题四个选项中,只有一项最符合题意。本大题共20道小题,每小题2分,共40分)

- 1.假如你穿越时空隧道,来到340万年以前的埃塞俄比亚,在那里你所见到的被称为“露茜”的早期人类属于 ()
 A.南方古猿 B.欧洲古猿 C.元谋人 D.北京人
- 2.(2015·福建厦门)下图所示建筑物是世界八大奇迹之一,它反映的是 ()

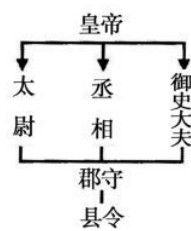


- A.古巴比伦文明 B.古埃及文明 C.古印度文明 D.古代中国文明

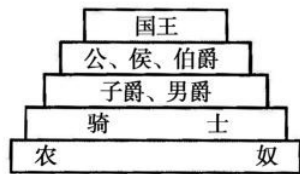
- 3.下列示意图中,能够反映古代印度种姓制度的是 ()



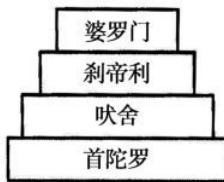
A



B

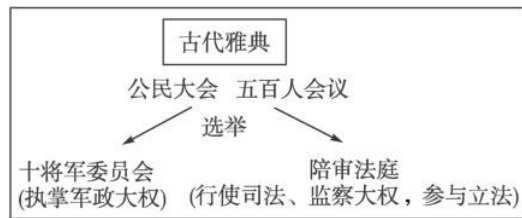


C



D

- 4.观察下图,下列解读不正确的是 ()



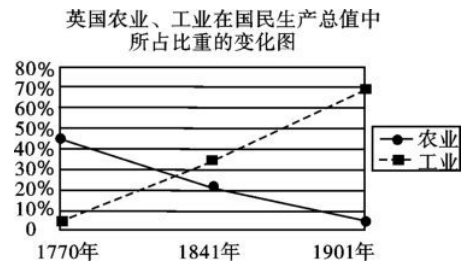
- A.雅典城邦所有居民享有选举权 B.公民大会是雅典的最高决策机构
 C.提供了公民参与政治的机会 D.古代雅典已具有分权政治的雏形
- 5.在西欧封建制度确立的过程中,起重要作用的改革是 ()
 A.伯利克里改革 B.商鞅变法
 C.大化改新 D.查理·马特改革
- 6.大化改新是日本从奴隶社会向封建社会过渡的标志。大化改新在政治上是要建立 ()
 A.贵族世袭制度 B.城市自治机构
 C.中央集权的国家 D.政教合一的国家
- 7.古代东西方交流,既有暴力冲撞,也有和平往来。元朝时,意大利人马可·波罗来华,返回后把在中国的见闻口述成《马可·波罗游记》一书。下列对该书影响的表述,不正确的是 ()
 A.是第一部向西方介绍中国的书 B.丰富了当时人们的地理知识
 C.对后来新航路的开辟有重大的影响 D.不利于东西方文明的交流
- 8.西欧封建社会时期,加紧对人民进行精神统治,残酷压制“异端”思想的是 ()
 A.教皇与教会 B.富裕商人 C.天皇 D.银行家
- 9.(2015·湖南益阳)下列关于文明的冲撞与融合的表述,正确的是 ()
 A.希波战争后,波斯帝国确立了在东地中海的霸权
 B.2世纪,罗马帝国地跨欧、亚、非三洲,地中海成为它的内海
 C.公元前334年,国王亚历山大开始东征,一直打到亚马孙河流域
 D.阿拉伯人吸收了日本人创造的10个数字的计数法,并把它传到欧洲,由此产生了“阿拉伯数字”
- 10.尼罗河流域是人类文明的摇篮之一。下列文明成果中,属于这一地区的是 ()
 A.象形文字和金字塔 B.种姓制度和佛教
 C.楔形文字和《汉谟拉比法典》 D.公元纪年和基督教
- 11.(2015·湖南株洲)小军和小勇准备编辑主题为“西方文明的发源地——古希腊”历史手抄报,他俩可以在下列哪一文献中查找素材 ()
 A.《天方夜谭》 B.《荷马史诗》 C.《神曲》 D.《汉谟拉比法典》
- 12.(2015·山东菏泽)“人们开始认识到,必须打破中世纪以来的封建统治和教会神学思想的束缚,强调和发挥人在这个世界上的作用。”这种局面最早开始于 ()
 A.意大利 B.英国
 C.法国 D.德国
- 13.(2014·湖北随州)“直到1500年以前,大西洋一直是一道栅栏、一个终点;但在1500年左右,它一变而成为一座桥梁、一个启程之地。”造成这一变化的原因是 ()
 A.文艺复兴的扩展 B.新航路的开辟
 C.英国资产阶级革命 D.工业革命的完成

①考生要写清校名、姓名和班级(或准考证号)
 ②不涂题、不讲题、监考人不得回答问题
 ③用钢笔或签字笔答题,字迹要清楚,卷面要整洁

注意事项

县(区) 乡 年级 班级 姓名 学校

14. 揭开英国资产阶级革命序幕的历史事件是 ()
 A. 议会的重新召开 B. 查理一世被处死
 C. 成立护国政府 D. 颁布《权利法案》
15. (2015·湖南怀化) 每年的7月4日, 美国人民都会载歌载舞, 欢度国庆。下列文件中, 与美国的国庆日有直接关系的是 ()
 A. 《人权宣言》 B. 《独立宣言》
 C. 《权利法案》 D. 1787年宪法
16. 英国的《权利法案》、法国的《人权宣言》、美国的《独立宣言》和美国1787年宪法代表着人类民主文明历程的重要成果, 但它们的内容各具特点。下面对四部文献特点的归纳, 正确的是 ()
 A. 《权利法案》——是三权分立原则的充分体现
 B. 《独立宣言》——以法律形式限制君主的权力
 C. 《人权宣言》——强调私有财产神圣不可侵犯
 D. 美国1787年宪法——宣告摆脱英国的殖民统治而独立
17. (2015·湖南张家界) 建立法兰西第一帝国, 颁布法典, 确立资产阶级立法典范的传奇历史人物是 ()
 A. 克伦威尔 B. 华盛顿 C. 林肯 D. 拿破仑
18. 17—18世纪, 欧美主要国家发生了社会巨变。这一巨变主要是指 ()
 A. 兴起了文艺复兴运动和开辟了新航路
 B. 开始了疯狂的殖民扩张活动
 C. 发生了资产阶级革命, 建立了资本主义制度
 D. 完成了第一次工业革命
19. (2015·湖南长沙) 有历史学家称它“对世界历史来说具有头等重要性, 因为它不但为20世纪的不发达世界提供了主要目标, 而且为19世纪欧洲的世界霸权提供了经济基础和军事基础。”材料所描述的历史事件是 ()
 A. 文艺复兴 B. 殖民地人民的抗争
 C. 工业革命 D. 马克思主义的诞生
20. (2015·江苏苏州) 下图所示现象的出现, 主要是由于 ()



- A. 文艺复兴的推动 B. 英国的殖民扩张
 C. 英国确立君主立宪制 D. 英国开展了工业革命

二、综合题(共60分)

21. (14分) 阅读下列材料, 回答问题。

材料一 改革扩大了公民的权利, 很多公民担任了政府公职, 全体成年男性公民可以参加最高权力机构——公民大会。

材料二 废除贵族世袭制, 以才选官……国家定期把土地分给农民耕种, 向他们征收赋税。

材料三 改变以前无条件赏赐土地的做法, 实行有条件的土地分封; 得到封地的人, 必须为封主服兵役。

(1) 上述三则材料分别反映了历史上哪次改革的内容? (6分)

(2) 材料二反映的改革对当时的社会产生了什么影响? (2分)

(3) 材料三反映的改革产生了怎样的影响? (2分)

(4) 材料二反映的改革给我国的社会主义建设带来了什么启示? (4分)

22.(12分)阅读下列材料,回答问题。

材料一 拜占廷的作用是绝对保守的。命运注定它只是保存,而不是创新。它诞生在一个古老的国度里,生活在过去的努力和荣誉的阴影之中,这种势力和荣誉正是它所试图维持和恢复的。他们很少有人具有创造力。

材料二 落后、保守的查士丁尼(527—565)一心想将恢复帝国的梦想变为现实。因此,他征服了北非、意大利及西班牙部分地区,还编纂了罗马帝国的法典。查士丁尼宣称,“我们将重建过去的一切,尽管其价值现已降低到最低限度……我们要重视罗马人的名誉,确保过去的一切以更大的规模重新回到我们的生活中来”。

材料三 查士丁尼在恢复帝国方面所做的努力是短暂且代价沉重的。他在地中海西部发动的战役使帝国的国库耗之殆尽,使巴尔干和亚洲各行省被忽略、易受攻击。他死后不到10年,一个新的蛮族部落伦巴第人,占领了意大利大部分地区。同时,在多瑙河边境,阿瓦尔人同斯拉夫和保加利亚臣民一起,进入巴尔干地区,取代拉丁化了的伊利里亚人,削弱了帝国的控制。在东部,查士丁尼统治时期,波斯人因受贿曾与拜占廷媾和;现在,他们在野心勃勃的大皇帝科斯罗埃斯二世的率领下,开始全面消灭东罗马帝国。到615年,他们已占领叙利亚、巴勒斯坦和埃及,并在君士坦丁堡对面的博斯普鲁斯海峡沿岸安营扎寨。

——以上三则材料均选自《全球通史》

(1)材料一中的“拜占廷帝国”是历史上的什么帝国?(2分)

(2)根据以上三则材料,概括拜占廷帝国衰亡的原因。(6分)

(3)拜占廷帝国的历史命运告诉我们什么?(4分)

23.(18分)(2015·扬州)17—18世纪,英国、美国和法国掀起了资产阶级革命浪潮,推动了欧美向近代社会转型,促进了资本主义的发展。阅读下列材料,回答问题。

材料一 凡未经议会同意,以国王权威停止法律或停止法律实施之僭越权力,为非法权力。凡未经议会准许……皆为非法。

——《世界通史资料选辑·近代部分》

材料二 在美洲大陆北部,有一个飘扬着星条旗的国家……这个国家的出现……演绎了大国崛起的罕见奇迹。

——摘自电视片《大国崛起》解说词

材料三 在权利方面,宣扬人们生来就是而且始终是自由平等的。……这些权利就是自由、财产、安全和反抗压迫。

——北师大版《历史》九年级上册

(1)材料一的内容出自英国的哪一部法律文件?此文件奠定了英国什么政治体制的基础?(4分)

(2)结合所学知识思考,材料二中“飘扬着星条旗的国家”是指哪个国家?这个大国的出现开始于哪一场摆脱英国殖民统治的战争?请写出宣告“这个国家的出现”的法律文件的名称。(6分)

(3)材料三的内容出自法国的什么文献?这部文献是由什么机构制定的?它所提出的政治主张与当时欧洲的哪一思想解放运动有关?(6分)

(1)材料一中“刀光剑影”的革命指的是什么革命?“和平变革”又是指什么革命?这场“和平变革”使人类进入了一个什么时代?(6分)

(2)根据材料二,指出英国发动鸦片战争的主要原因。(4分)

(4)依据材料并结合所学知识,请你指出英、美、法资产阶级革命的根本目的。(2分)

(3)根据材料一、二思考,英国为什么能迅速发展成为资本主义强国?(6分)

24.(16分)阅读下列材料,回答问题。

材料一 英国在17世纪40年代爆发了一场刀光剑影和血雨腥风的革命;从18世纪60年代开始,英国又发生了一场没有你死我活的拼杀,通过和平变革彻底改变了人们的生产生活方式的革命。

材料二 为了开辟国外市场,推销工业品,掠夺廉价的工业原料,19世纪上半期,英国发动了侵略中国的鸦片战争……英国通过殖民侵略,不仅用掠夺来的财富发展国内经济,也为其工业生产提供了巨大的海外市场。

①考生要写清校名、姓名和班级(或准考证号)

②不答题、不答题、监考人不解答题

③用钢笔或签字笔答题,字迹要清楚,卷面要整洁

注意事项

县(区) 乡 年级 班级

姓名 学校

第三单元测试卷

历史 九年级上册(岳麓版)

时间:90分钟 满分:100分

题号	一	二	总分
得分			

一、选择题(每小题四个选项中,只有一项最符合题意。本大题共20道小题,每小题2分,共40分)

- 新航路开辟后,最早走上殖民扩张道路的是 ()
A.英国 B.荷兰 C.英国、法国 D.西班牙、葡萄牙
- 西方殖民国家在早期争夺殖民地的过程中,矛盾不断激化。18世纪中期,最终打败其他殖民国家,成为世界头号殖民帝国的是 ()
A.英国 B.荷兰 C.西班牙 D.法国
- 在16世纪,下列地区中,不属于西班牙的殖民地的是 ()
A.菲律宾 B.巴西 C.哥伦比亚 D.阿根廷
- 16世纪晚期,英国打败了哪国的“无敌舰队”,取得海上霸权 ()
A.法国 B.葡萄牙 C.西班牙 D.荷兰
- 一位美国史学家描述道:“……乘船在悲惨的‘中段航程’中横渡大西洋,这些黑色‘货物’上了镣铐,被锁在甲板上,没有卫生设备,他们忍受着可怕的待遇……”这些“黑色‘货物’”主要被贩卖到 ()
A.欧洲 B.美洲 C.非洲 D.亚洲
- “在欧洲以外直接靠掠夺、奴役和杀人越货而夺得的财富源源流入宗主国,在这里转化为资本。”这是对以下哪种罪恶的揭露 ()
A.封建制度 B.奴隶制度 C.资本主义发展 D.殖民扩张
- (2014·湖南湘潭)“它加速了欧洲的资本原始积累,却使非洲丧失近亿的精壮劳动力。”“它”是指 ()
A.亚历山大东征 B.罗马帝国的扩张
C.罪恶的“三角贸易” D.疯狂迫害犹太人
- 长达300多年的“三角贸易”在历史上产生的影响是 ()
①给非洲带来了深重的灾难 ②殖民国家赚取了大量的血腥钱 ③加速了资本的原始积累,促进了欧洲资本主义的发展 ④增加了美洲的劳动力,有利于美洲的开发
A.①②④ B.①③④ C.①②③ D.①②③④
- (2015·云南)“船舱难以忍受的拥挤,令人窒息的闷热,生病的奴隶被抛进海里淹死……”材料反映的是 ()

- A.“三角贸易” B. 攻占巴士底狱
C.新航路的开辟 D.俄国农奴制改革
- 10.17—18世纪,英国成为发达资本主义国家的重要外部条件是 ()
A.开展对外贸易 B.圈占农民土地
C.掠夺殖民地国家 D.本国资源丰富
- 11.(2015·广西玉林)“估计在1850年,这些地区大约2500万人口,如果没有奴隶贸易,这个数字可能会翻一番。”材料中的“这些地区”主要是指 ()
A.亚洲 B.美洲 C.欧洲 D.非洲
- 12.促使拉丁美洲人民的民族、民主意识日益增强的外部因素包括 ()
①英国资产阶级革命 ②海地独立战争的胜利 ③美国独立战争 ④法国大革命
A.①②③ B.②③④ C.①② D.③④
- 13.拉丁美洲爆发大规模民族独立战争的根本原因是 ()
A.西班牙、葡萄牙残酷的殖民统治 B.美国独立战争胜利的鼓舞
C.法国大革命的影响 D.欧洲启蒙思想的传播
- 14.(2015·云南)她是印度人民的英雄,她英勇抗击英国殖民者,她的英名万古流芳。这里的“她”是 ()
A.玻利瓦尔 B.章西女王 C.哥伦布 D.克莱武
- 15.“印度虽然只有巴掌大的乌云,但它会变成淹没英国殖民地的滂沱大雨。”关于1857—1859年印度民族大起义的叙述,错误的是 ()
A.印度士兵是起义军的领导者
B.根源于英国对印度的殖民统治
C.出现了一位杰出的女英雄——章西女王
D.沉重地打击了英国殖民统治者
- 16.拉丁美洲摆脱西班牙殖民统治以后,成立了许多国家,其中有一个国家名叫玻利维亚,该国名是以一个人的名字命名的。这个人就是“南美的解放者” ()
A.章西女王 B.圣马丁 C.玻利瓦尔 D.哥伦布
- 17.(2015·湖南怀化)热爱足球的同学都知道“南美解放者杯”,它是南美洲足球俱乐部间的重要赛事。这项赛事如此冠名,是为了纪念下列哪位历史人物 ()
A.玻利瓦尔 B.圣马丁 C.章西女王 D.伊达尔哥
- 18.远道而来的欧洲殖民者在屠杀印第安人的同时,抢占了他们的家园,掠夺了他们的财产。这一残酷的历史现象对欧洲社会发展产生的重大影响是 ()
A.促使工人发动武装起义 B.给人民带来深重灾难
C.导致民族解放运动高涨 D.促进了资本主义发展
- 19.下列人物中,为了实现民族解放而进行了英勇斗争的是 ()
①华盛顿 ②章西女王 ③玻利瓦尔 ④罗伯斯庇尔
A.①②④ B.①③④ C.①②③ D.②③④
- 20.(2015·福建泉州)有人比喻英国“像海绵一样从恒河边上吸取财富,又挤出来倒在泰晤士河中”。这句话揭示了 ()
A.英国对北美的殖民统治 B.英国对印度的殖民掠夺
C.英国对中国的侵略与掠夺 D.英国开始进行工业革命

二、综合题(共 60 分)

21.(13 分)阅读下列材料,回答问题。



材料二 当英国殖民者占领孟加拉后,他们首先窃取了孟加拉的国库。仅此一项,就给英国东印度公司带来 3 700 万英镑……东印度公司使印度人民遭受了无穷的灾难,仅 1770 年的大饥荒就饿死 1000 万人。

- (1)材料一展示的最主要“贸易”是什么?请用一句话来形容这一“贸易”。(5 分)
- (2)根据以上材料思考,这些现象对西方和东方造成了什么主要影响?(8 分)

22.(14 分)阅读下面的材料,回答问题。

那些严谨的新教大师……新英格兰的清教徒,1703 年,在他们的立法会议上决定,每剥一张印第安人的头盖皮和每俘获一个红种人都给赏金 40 镑;1720 年,每张头盖皮的赏金提高到 100 镑……

美洲金银产地的发现,土著居民的被剿灭、被奴役和被埋葬于矿井,对东印度开始进行的征服和掠夺,非洲变成商业性地猎捕黑人的场所:这一切标志着资本主义生产时代的曙光。这些田园式的过程是原始积累的主要因素。接踵而来的是欧洲各国以地球为战场而进行的商业战争。这场战争从尼德兰脱离西班牙开始,在英国……的战争中具有巨大的规模,并且在对中国的鸦片战争中继续进行下去。……

大家知道,英国东印度公司除了在东印度拥有政治统治权外,还拥有茶叶贸易、同中国的贸易和对欧洲往来的货运的垄断权。而印度的沿海航运和各岛之间的航运以及印度内地的贸易,却为公司的高级职员所垄断。对盐、鸦片、槟榔和其他商品的垄断权成了……取之不尽的宝藏。这些职员自定价格,任意勒索不幸的印度人。总督也参与这种私人买卖……巨额财产像雨后春笋般地增长起来,原始积累在不预付一个先令的情况下进行。

——《马克思恩格斯选集》

- (1)根据材料分析并概括殖民扩张的根源,其主要目的是什么?(6 分)
- (2)你如何理解“原始积累在不预付一个先令的情况下进行”?(8 分)

23.(16 分)阅读材料,回答问题。

为了镇压印度民族大起义,英国立即从伊朗调兵,并召回派往中国的军队。

- (1)印度民族大起义的主要原因是什么?(4 分)
- (2)请写出印度这次反英民族大起义开始的时间。(2 分)
- (3)当时英国正在发动对中国的哪一次侵略战争?(2 分)
- (4)与印度民族大起义处于同一时期的中国人民反封建反侵略的运动是什么?(2 分)
- (5)印度民族大起义有何历史意义?(6 分)

24.(17 分)阅读下列材料,回答问题。

材料一 1500 年左右,它(大西洋)一变而成为一座桥梁、一个启程之地,其巨大的影响波及各方。一般看来,这一变化对欧洲人是有利的,但对其他地方(美洲、非洲等)的人则意味着灾难。

——《现代世界史》

材料二 (两次工业革命)给工业化各国带来了空前的经济繁荣。在(两次)工业革命的推动下,西方列强将世界上大片地区强行纳入资本主义的统治之下。19 世纪末,帝国主义列强重新瓜分殖民地和势力范围的争斗便尖锐起来。

——《世界近现代史》

材料三 原始积累的方法绝不是田园式的东西。资本来到世间,从头到脚,每个毛孔都滴着血和肮脏的东西。

——马克思《所谓原始积累》

- (1)结合材料一和所学知识思考,当时的哪些航海家为大西洋变为“桥梁”做出了贡献?这一变化“有利”于欧洲人的主要表现是什么?(5 分)
- (2)结合材料二和所学知识思考,在第一次工业革命中,给“工业化各国带来了空前的经济繁荣”的新生产方式和新能源技术有哪些?(4 分)
- (3)归纳材料一、二的相关内容,证明材料三中马克思的观点。(4 分)
- (4)综合上述材料,概括欧洲资本主义发展进程的主要特征。(4 分)

①考生要写清校名、姓名和班级(或准考证号)

②不答题、不讲解、监考人不回答问题

③用钢笔或签字笔答题,字迹要清楚,卷面要整洁

注意事项

县(区) 乡 年级 班级

姓名

学校

期中基础测评卷

历史 九年级上册(岳麓版)

时间:90分钟 满分:100分

题号	一	二	总分
得分			

一、选择题(每小题四个选项中,只有一项最符合题意。本大题共20道小题,每小题2分,共40分)

1.有人类学家提出“人类可能从水中走来:水猿——人类起源新理论”,但目前大多数人类学家认为人类的始祖是 ()

- A.元谋猿人 B.南方古猿 C.北京猿人 D.爪哇猿人

2.诺维茨基是德国籍美国NBA著名篮球运动员。运用学过的历史知识思考,你认为他属于 ()

- A.白色人种 B.黄色人种 C.黑色人种 D.棕色人种

3.(2015·湖南邵阳)2014年5月10日,按照1:1仿造的金字塔“狮身人面像”在河北省石家庄市洞沟村东落成。金字塔“狮身人面像”的原型属于古代 ()

- A.美洲文明 B.欧洲文明 C.亚洲文明 D.非洲文明

4.读下图,该图所反映的制度是 ()



- A.宗法制度 B.郡县制度 C.种姓制度 D.分封制度

5.古希腊是欧洲的文明之源,雅典的民主政治达到极盛时期的执政者是 ()

- A.梭伦 B.伯利克里 C.亚历山大 D.屋大维

6.在马拉松平原上,雅典人获胜后,菲迪皮茨返回雅典报捷。他一口气跑完漫长的路程,刚一进城就高呼:“我们胜利了!”说完倒地而死。这个故事出现在下列哪一战争中 ()

- A.希波战争 B.布匿战争 C.亚历山大大帝东征 D.罗马帝国的扩张

7.公元7世纪中期,日本参照中国的隋唐制度,实施一系列改革,为日本社会经济的进一步发展开辟了道路,是日本从奴隶社会向封建社会过渡的标志。这次改革史称 ()

- A.查理·马特改革 B.大化改新 C.商鞅变法 D.北魏孝文帝改革

8.西欧的封建制度是在什么基础上产生的 ()

- A.查理·马特改革 B.大化改新 C.西罗马帝国灭亡 D.明治维新

9.12世纪,曾用金钱赎买取得城市自治权,后又用武力捍卫城市自治权,在争取城市自治权的斗争中最为典型的是 ()

- A.伦敦 B.巴黎 C.琅城 D.热那亚

10.在“历史风云”节目中,有这样一道抢答题:伊斯兰教的创始人是谁。你应该选择 ()

- A.乔达摩·悉达多 B.穆罕默德 C.耶稣 D.上帝

11.我们在数学运算中经常使用的“0、1、2、3、4、5……”这10个阿拉伯数字的发明者是 ()

- A.古印度人 B.古阿拉伯人 C.古埃及人 D.古希腊人

12.(2014·湖南长沙)美国史学家斯塔夫里阿诺斯在《全球通史》一书中说:“现在,人们对希腊这一黑暗时代(指古代希腊遭受蛮族入侵)的了解要比印度遭受蛮族入侵时期的了解详尽得多,这主要应归功于希腊人自己留下的宝贵遗产。”他在这里说的“宝贵遗产”主要是指 ()

- A.《荷马史诗》 B.《天方夜谭》 C.《马可·波罗游记》 D.《神曲》

13.(2015·湖南邵阳模拟)下列叙述中,错误的是 ()

- A.哥伦布开辟了通往印度的新航路 B.但丁是意大利文艺复兴的先驱 C.文艺复兴冲破了封建教会的精神束缚,焕发了人民的创新精神 D.新航路的开辟有利于欧洲资本主义的发展

14.(2015·铜仁)右图是文艺复兴时期的文艺巨匠达·芬奇的代表作《蒙娜丽莎》,它反映了“人物内心世界的平静、自信,突出了人的主体地位”。这体现了文艺复兴时期的哪一思想 ()

- A.蒙昧主义 B.人文主义 C.浪漫主义 D.现实主义



15.(2014·湖南邵阳)打破下图所示孤立、分散的局面,并使世界开始走向整体发展的是 ()



- A.新航路开辟 B.殖民扩张 C.“三角贸易” D.英国资产阶级革命

16. (2015·河南)“华盛顿的行动很感人……为了国家的事业,他抛弃了养尊处优的生活,离开了家人和朋友,牺牲了自己的舒适环境,把这一切都拿来孤注一掷。”材料中的“国家的事业”是指 ()
- A.起草《人权宣言》 B.赢得民族独立
C.实现种族平等 D.消除南北差异
17. 下列行为中,最能够表明拿破仑属于资产阶级的皇帝的是 ()
- A.发动雾月政变,夺取政权 B.颁布法典
C.征服欧洲许多国家 D.建立法兰西第一帝国
18. (2015·江苏盐城)“当18世纪来临的时候……英国正在孕育人类历史上一种崭新的生产方式……”这种“崭新的生产方式”是指 ()
- A.家庭手工业 B.工场手工业
C.大机器生产 D.信息自动化
19. (2014·湖南邵阳)对历史事件进行比较和评价,是历史学科的能力要求之一。英国资产阶级革命、美国独立战争、法国大革命的共同点是 ()
- A.推动了拉丁美洲的民族解放运动 B.推翻了封建君主专制统治
C.打败了外国的武装干涉 D.促进了资本主义的发展
20. 右图是玻利维亚一个广场上的人物雕像。它是为了纪念被誉为“南美的解放者”、委内瑞拉“祖国之父”的拉丁美洲独立战争的领导人 ()
- A.伊达尔哥 B.卡斯特罗
C.玻利瓦尔 D.圣马丁



二、综合题(共60分)

21. (16分)扑克牌蕴含着丰富的历史,梅花K中的人物是最早征服世界的马其顿帝国的国王亚历山大,方块K中的人物是鼎鼎有名的罗马的恺撒。据此回答下列问题。



图1 图2

- (1)请你简要说明图1所示人物东征的路线及结果。(6分)
- (2)图2所示的人物生活在_____。(2分)
- A.罗马共和国时期 B.罗马帝国时期
C.雅典共和国时期 D.法兰克王国时期
- (3)罗马帝国的疆域在何时达到最大规模?(2分)
- (4)如何正确评价罗马帝国对外的征服与扩张战争?(6分)

22. (12分)阅读下列材料,回答问题。

材料一 宣扬众生平等;苦的根源在于人有欲望,因此只有消除欲望,忍耐顺从,刻苦修行,才能到达“极乐世界”。

材料二 传道者宣传“救世主”就是耶稣,他教人忍受苦难,死后可以升入天堂。

材料三 宇宙间唯一的神是“真主”安拉。

- (1)上述三则材料是关于世界三大宗教的,请写出它们的创始人和所信仰的神。(9分)
- (2)结合所学知识,归纳三大宗教的共同点。(3分)

23. (16分)阅读下列材料,回答问题。

材料一 未经议会同意,国王无权废除法律或停止法律的执行;不经议会准许,国王不能征税;未经议会同意,国王不能在平时招募军队或维持常备军;议会必须定期召开;议会议员的选举不受国王的干涉。

材料二 人生来是自由的,在权利上是平等的;自由、平等、安全和反抗压迫是天赋的权利;在法律面前人人平等;私有财产是神圣不可侵犯的。

- (1)材料一出自英国的什么文献?它限制了国王哪些方面的权力?(6分)
- (2)材料二出自法国的什么文献?为什么说它具有历史进步意义?(6分)
- (3)材料一、材料二在本质上有什么相同点?(4分)

24. (16分)在世界近代史上,英国和美国对世界的发展都有重要的影响。请回答:

- (1)举出18世纪英国、美国在世界上最有影响的大事各一件。(4分)
- (2)分别谈谈你举出的两件大事对世界历史发展的影响。(12分)

①考生要写清校名、姓名和班级(或准考证号)

②不涂题、不讲题、监考人不解答问题

③用钢笔或签字笔答题,字迹要清楚,卷面要整洁

注意事项

县(区) 乡 年级 班级

姓名 学校

期中综合测评卷

历史 九年级上册(岳麓版)

时间:90分钟 满分:100分

题号	一	二	总分
得分			

一、选择题(每小题四个选项中,只有一项最符合题意。本大题共20道小题,每小题2分,共40分)

- 古希腊历史学家希罗多德说过:“埃及是尼罗河的馈赠。”对此理解最准确的是 ()
A.埃及奴隶制国家建立在尼罗河边 B.埃及人是喝尼罗河的水长大的
C.尼罗河的自然环境孕育了古埃及文明 D.尼罗河是世界上最长的河流
- 根据《律奴法典》的记载,神创造了婆罗门、刹帝利、吠舍和首陀罗四个种姓。种姓之间等级分明,低等级的男子不能娶高于他们等级的女子;首陀罗不能享有财产权;等级越高,授予的墓冢越大。上述现象出现在 ()
A.古埃及 B.古巴比伦 C.古印度 D.古罗马
- (2015·湖南衡阳)英国近代诗人雪莱曾说:“我们都是希腊人。”他之所以这样说,是因为 ()
A.英国人都是希腊人的后裔 B.英国人和希腊人的生活习惯一样
C.希腊是西方文明之源 D.希腊人曾统治过欧洲
- 公元7世纪,某国家整个朝野掀起了“中国化运动”,全盘照搬中国的制度和文,把处于蒙昧状态的民族向前推进了几个世纪。这个国家是 ()
A.阿拉伯帝国 B.日本 C.罗马帝国 D.雅典
- (2014·湖南株洲)作为文明古国之一,印度文明有其独特的魅力。下列与印度文明有关且对其他地区的文明产生了重大影响的有 ()
①佛教 ②阿拉伯数字 ③种姓制度 ④《汉谟拉比法典》
A.①②③ B.②③④ C.①② D.①③
- 右图所反映的历史事件发生于 ()
A.古代美洲 B.古代亚洲
C.古代欧洲 D.古代非洲
- 下列关于楔形文字的叙述,正确的是 ()
A.由两河流域的苏美尔人创造
B.通常被刻在庙墙、宗教纪念物和纸草上



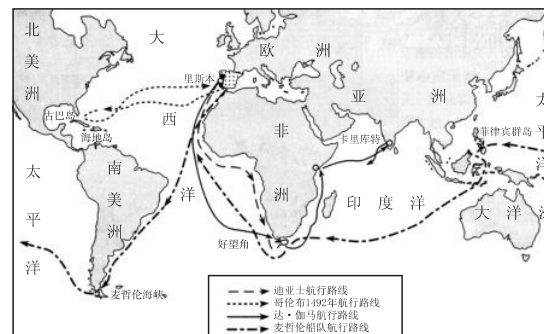
教皇为皇帝加冕

- C.对以后的字母文字产生了重要影响
- D.由古代埃及人最早创造和使用

8.下列关于文艺复兴的叙述,正确的是 ()

- ①开始于希腊 ②要求以人为中心,而不是以神为中心 ③但丁被誉为文艺复兴时期的最初一位诗人 ④推动了欧洲文化思想领域的繁荣,为欧洲资本主义社会的产生奠定了思想文化基础
- A.①②④ B.②③④
C.①②③ D.①③④

9.(2014·山东泰安)下面是两幅重要的交通路线图,它们开通的共同作用是 ()



- A.促进了资本主义经济的发展
- B.促进欧洲大西洋沿岸经济的繁荣
- C.促进了汉朝与西域的经济文化交流
- D.促进了不同地区和国家经济文化交流

10.“15世纪以后,欧洲的贸易集中地逐渐移向大西洋沿岸……经济力量的转移预示着新大国的兴起。”引文中的“新大国”爆发资产阶级革命的根本原因是 ()

- A.欧洲的商贸中心转移到大西洋沿岸
- B.封建制度严重阻碍资本主义的发展
- C.启蒙运动猛烈地抨击了封建专制统治
- D.殖民统治阻碍了资本主义的发展

11.下列是与美国独立战争有关的历史事件,按发生的时间先后顺序排列,正确的是 ()

- ①萨拉托加大捷 ②来克星顿枪声 ③《独立宣言》发表 ④英国承认美国独立
- A.②③①④ B.③①②④ C.①②③④ D.④①②③

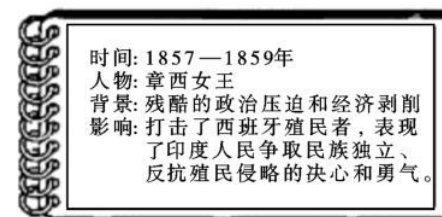
12. 下图所示的“宣言”颁布于 1789 年。200 多年来,该“宣言”的精神、原则和规范已融入社会生活的各个方面,对西方近现代的历史发展产生了深刻的影响。下列说法中,与该宣言的精神相违背的是 ()



法国《人权宣言》

- A. 人们生来自由、权利平等 B. 法律面前人人平等
C. 人们无权在本国境内自由迁徙 D. 私有财产神圣不可侵犯
13. 斯塔夫里阿诺斯在《全球通史》中说:“拿破仑在其所征服的地区都贯彻法国革命的一些基本原则,他废除封建制度和农奴制,承认所有公民的平等,实施其著名的法典。”这段材料反映了拿破仑 ()
- A. 打击了欧洲的封建势力 B. 把法国大革命推向高潮
C. 建立法兰西第一帝国 D. 损害了资产阶级的利益
14. (2015·广东)拿破仑和华盛顿是同处一个大时代的政治家。他们在历史贡献方面的相同之处是 ()
- A. 赢得了民族独立 B. 维护了国家的统一
C. 打击了欧洲的封建势力 D. 推动了资产阶级民主政治的进程
15. 英、法、美资产阶级革命的相同之处在于 ()
- ①封建专制统治阻碍资本主义的发展,导致革命爆发 ②资产阶级在革命中起了领导作用
③革命都以暴力斗争方式进行 ④革命后最终建立了资产阶级共和国
- A. ①④ B. ②③ C. ①②③ D. ①②③④
16. (2014·湖南娄底)英国的“工厂最初是沿着河岸增加的,以后……在人口稠密的内地城镇,工厂也增多了”。出现这一变化的直接原因是 ()
- A. 棉纺织业实现机械化生产 B. 工厂制度的诞生
C. 改良蒸汽机的普遍使用 D. 交通运输业的革命
17. (2014·四川成都)“火车教会人们守时,准时准点成了现代生活的准则,人们开始要随身带上一块表,时间概念是一个全新的概念。”这种情况最早应开始于 ()
- A. 17 世纪 B. 18 世纪
C. 19 世纪 D. 20 世纪
18. (2015·内蒙古呼和浩特)新航路开辟后,“三角贸易”发展起来,贸易中的商品有枪支、烟草、蔗糖、黑人奴隶等,其中最能揭示“罪恶贸易”的是 ()
- A. 枪支贸易 B. 烟草贸易
C. 蔗糖贸易 D. 黑奴贸易

19. 美国史学家帕尔默评价美国独立战争时说:“美国革命成为那些希望摆脱殖民地地位的民族所效法的榜样。”这句话说明美国独立战争 ()
- A. 推动了英国资产阶级革命
B. 导致了法国大革命
C. 影响了玻利瓦尔领导的拉美独立运动
D. 引发了印度的反英民族大起义
20. (2015·四川雅安)制作知识卡片是学习历史的一种重要方法。下图是某同学整理的印度民族大起义的知识卡片,其中有错误的是 ()



- A. 时间 B. 人物 C. 背景 D. 影响
- 二、综合题(共 60 分)

21. (12 分)14—16 世纪,被称为“人的发现”和“地理大发现”的时代。据此回答下列问题。
- (1)“人的发现”指的是文艺复兴运动,“地理大发现”指的是什么? 中国古代发明的哪一项技术为“地理大发现”提供了重要条件?(4 分)
- (2)文艺复兴运动为什么被称为“人的发现”? (4 分)
- (3)“地理大发现”有何重要影响?(4 分)

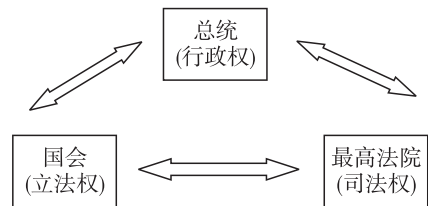
22.(20分)从专制到民主、从人治到法治是人类历史发展的必然趋势。阅读下列材料,回答问题。

材料一 我们的政治制度不是从我们邻人的制度中模仿而来的,我们的制度是别人的模范……我们的制度之所以被称为民主政治,是因为政权掌握在全体公民手中,而不是在少数人手中。在解决私人争执的时候,每个人在法律上都是平等的……

——伯利克里

材料二 凡未经议会同意,以国王权威停止法律或停止法律实施之僭越权力,为非法权力。……凡未经议会准许,借口国王特权,为国王而征收,或供国王使用而征收金钱,超出议会准许之时限或方式者,皆为非法。

材料三



美国政治权力结构示意图

(1)材料一中说的“我们的政治制度”开启了西方民主政治的先河。根据材料一,指出这一制度民主性的表现。(4分)

(2)材料二的内容出自哪部文献?其核心思想是什么?该文献的颁布使该国的政体发生了怎样的变化?(6分)

(3)材料三体现了美国三个机构之间怎样的关系?结合所学知识,指出美国确立这一政体的法律文件。(4分)

(4)西方的民主政治从产生起就存在局限性,请举两例说明。(6分)

23.(17分)(2015·枣庄)1804年12月的一天,巴黎圣母院的大教堂里,正举行一场隆重的皇帝加冕典礼。皇帝虽然身材不高,但显得十分英武……他就是一代枭雄拿破仑。阅读材料,结合所学知识,回答问题。

材料一 15岁时,拿破仑转到法国声望最高的军校巴黎军事学院,主修炮兵学。16岁时毕业,被授予少尉军衔,被派往炮兵团服役。军校对拿破仑的鉴定:“拿破仑·波拿巴,为人勤奋、谨慎,兴趣广泛,博览群书,酷爱自然科学,擅长数学、地理;沉默寡言,喜欢独处;任性、高傲、自私、善辩;自尊心强,雄心勃勃,求知欲强,有培养前途。”

——摘自岳麓版普通高中课程标准实验教科书《中外历史人物评说》

(1)材料反映出青年时代的拿破仑具有哪些优秀品质?(从材料中提取)(4分)

材料二 “拿破仑走到哪里,哪里的徭役劳动、代役租、对老爷的贡赋等一大堆陈腐废物,连同老爷本身就像魔杖点了一下似的立即消失。”“农民从此成了自己土地的主人。”

——恩格斯

(2)试概述拿破仑对外战争的影响。(4分)

材料三 我真正的光荣并非打了40次胜仗,滑铁卢一战抹去了关于这一切的记忆。但是,有一样东西是不会被人忘记的,它将永垂不朽——那就是我的《民法典》。

——拿破仑



(3)你是怎样评价拿破仑的?(4分)

材料四 1812年,拿破仑率领军队远征俄罗斯失败,元气大伤。1814年,拿破仑被欧洲反法联军赶下台,法国的封建王朝在外国军队的保护下复辟。

——摘自人民教育出版社《世界历史》九年级上册

(4)从拿破仑的一生中你获得了怎样的启发?(5分)

24.(11分)阅读下列材料,回答问题。

材料一 1851年,英国在伦敦举办了第一届世界博览会。维多利亚女王发出外交邀请信函,有10个国家接受了邀请。伦敦博览会(又名水晶宫博览会)被确认为是现代意义上的首届世博会。水晶宫博览会成为20世纪科学进步的巨大推动力。它的成功举办,使它成为全球规模的盛会。

材料二 下图中自由女神的右手高举着火炬,左手拿着一部文献《独立宣言》。



材料三 经过漫长的航行后,他和同伴于1492年10月12日突然发现远处有陆地,于是高兴地前往。到了近处一看,原来是一座海岛。这个岛就是现在美洲加勒比海上巴哈马群岛中的瓜纳哈尼岛。500多年前的这一伟大壮举打破了美洲大陆与世隔绝的状态,1992年是发现美洲大陆500周年。

(1)材料一中,在1851年的世博会上,英国可能展出哪些先进工业品?(列举两件即可,4分)

(2)材料二中自由女神像左手拿的《独立宣言》对美国有什么意义?(3分)

(3)材料三中提到“发现美洲大陆500周年”。请问,是谁“发现”了美洲大陆?(2分)

(4)第41届世界博览会在中国上海举行。上海能够走上迅速发展的快车道,成为繁荣的国际大都市,得益于中共十一届三中全会上作出的哪一项英明决策?(2分)