

阶梯数学

思维训练

斯塔熊文化 著 野作插画 绘

360个全彩场景，360道趣味题目，阶梯式提升数学能力


4~6岁 3



阶梯数学 思维训练

斯塔熊文化 著 野作插画 绘

4~6岁 3

 河北美術出版社

版权所有 盗版必究

图书在版编目 (CIP) 数据

阶梯数学思维训练. 4-6岁 : 全5册 / 斯塔熊文化著 ;
野作插画绘. -- 石家庄 : 河北美术出版社, 2018.12
ISBN 978-7-5310-9570-5

I. ①阶… II. ①斯… ②野… III. ①数学课—学前教育—教学参考资料 IV. ①G613.4

中国版本图书馆 CIP 数据核字 (2018) 第 279504 号

策 划 : 袋鼠妈妈童书
责任编辑 : 单海运
责任校对 : 李 宏
装帧设计 : 卫 瑶


出 版 : 河北美术出版社
发 行 : 河北美术出版社
地 址 : 石家庄市和平西路新文里 8 号
邮 编 : 050071
电 话 : 0311-87060677
网 址 : www.hebms.com
制 版 : 北京成业恒信印刷有限公司
印 刷 : 北京成业恒信印刷有限公司
开 本 : 787 毫米 × 1092 毫米 1/16
印 张 : 12.5
印 数 : 1 ~ 5000
版 次 : 2018 年 12 月第 1 版
印 次 : 2018 年 12 月第 1 次印刷

定 价 : 84.00 元 (全 5 册)

质量服务承诺 : 如发现缺页、倒装等印刷质量问题, 可直接向本社调换。
服务电话 : 0311-87060677


目录

看图计算·····	2
玩游戏·····	3
数鸭子·····	4
连线·····	5
看图写数·····	6
算一算·····	7
10 以内的数·····	8
小鸟飞来了·····	9
搬桃子·····	10
数蝴蝶·····	11
填符号·····	12
几点半了·····	13
我会认·····	14
今天是星期几·····	15
天气·····	16
梯形·····	17
涂颜色·····	18
螃蟹排队·····	19





画一画·····	20
30 是多少·····	21
比一比·····	22
40 是多少·····	23
数一数·····	24
50 是多少·····	25
数数连线·····	26
看图填数·····	27
看图列算式·····	28
找帽子·····	29
邻居是谁·····	30
捞金鱼·····	31
看图算数·····	32
谁的帽子·····	33
左右数一数·····	34
看图写组合·····	35
看图写分解·····	36
分解和组合·····	37



看图计算

5 以内的
减法

看下面的图，请算出正确的结果。



$$4-1=(\quad)$$




$$5-1=(\quad)$$

玩游戏

5 以内的
加法

两个小朋友在玩儿游戏，又来了一个小朋友，请问现在一共有几个小朋友？



$$2 + 1 = \square$$

数鸭子

5 以内的
加法

河里有 3 只小鸭子，又游来 2 只，请问一共有几只小鸭子？



连线

10 以内的
加法

请找一找，哪两个数合起来是 5？用线连起来吧！

①	③
②	④
④	②
③	①

看图写数

10 以内的
加法

看下面的图，请写出正确的数。



算一算

10 以内的
加法

看下面的图，请算出结果并填在框里。

$$3 \text{ 只 } \img alt="teddy bear" data-bbox="213 423 275 484"/> + 2 \text{ 只 } \img alt="teddy bear" data-bbox="438 423 500 484"/> = \boxed{} \text{ 只 } \img alt="teddy bear" data-bbox="778 423 840 484"/>$$


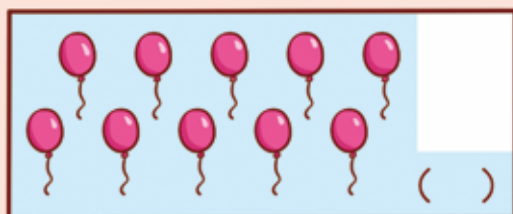


$$5 \text{ 支 } \img alt="ice cream" data-bbox="228 567 270 640"/> + 1 \text{ 支 } \img alt="ice cream" data-bbox="458 567 500 640"/> = \boxed{} \text{ 支 } \img alt="ice cream" data-bbox="793 567 835 640"/>$$

$$6 \text{ 只 } \img alt="bird" data-bbox="203 734 288 784"/> + 4 \text{ 只 } \img alt="bird" data-bbox="443 734 528 784"/> = \boxed{} \text{ 只 } \img alt="bird" data-bbox="778 734 863 784"/>$$

10 以内的数

复习 10 以内的数

点数：请你数一数每幅画中物体的数目，然后在白色方框中画上相应的点，并在括号里填上数字。



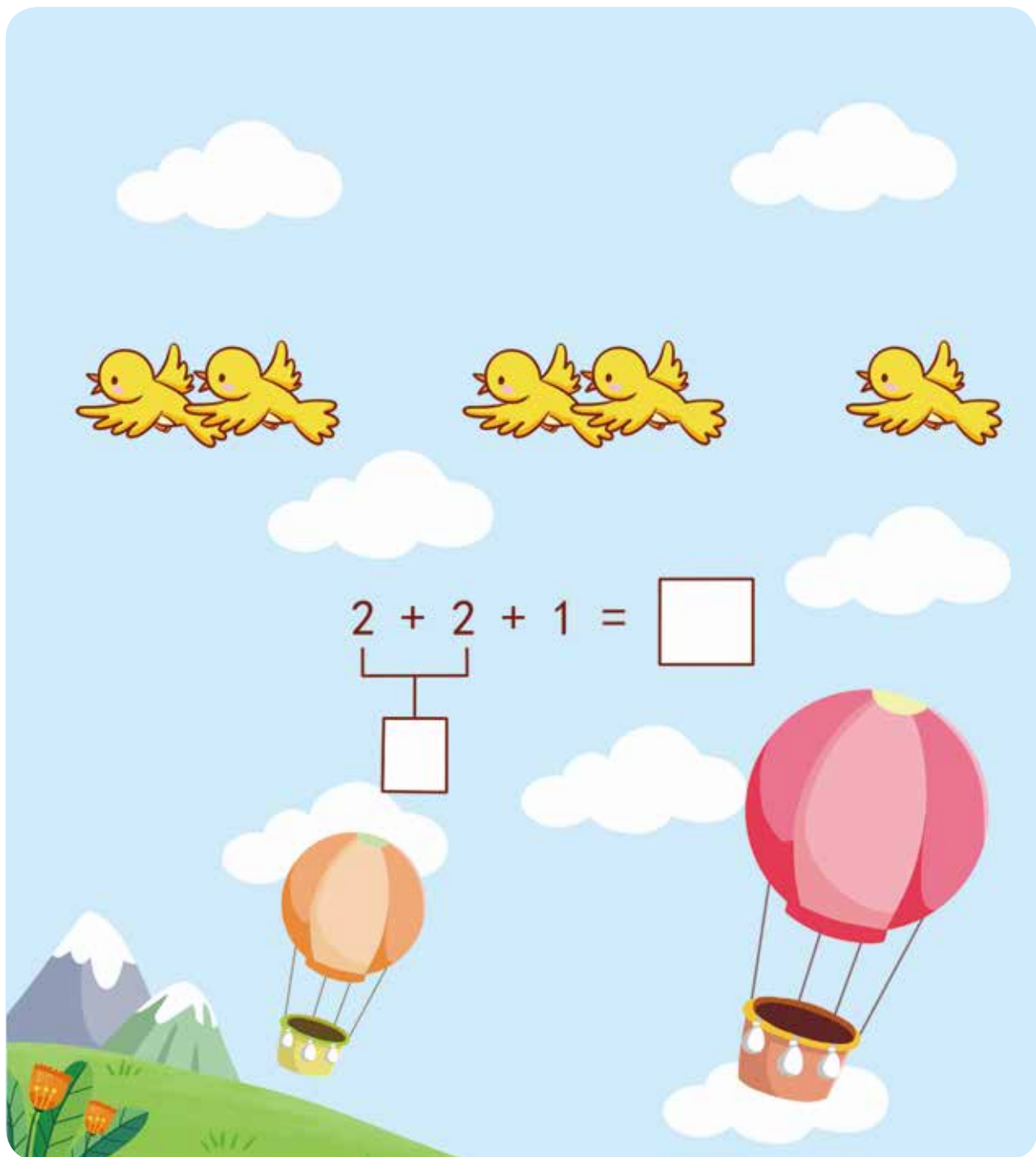
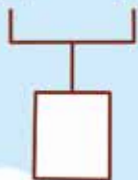
小鸟飞来了

10 以内的
连加

天空飞来了好多只小鸟, 看图算一算, 一共有多少只?




$$2 + 2 + 1 = \square$$



搬桃子

10 以内的
连加


看下面的图，请数一数，它们一共搬来多少个桃子？



数蝴蝶

10 以内的
连加

请数一数，下面的图中一共有多少只蝴蝶？



填符号

选加减号

请在下面的圆圈里填上“+”或“-”，使等式成立。

$1 \bigcirc 2 = 3$

$2 \bigcirc 1 = 1$

$4 \bigcirc 2 = 6$

$5 \bigcirc 1 = 4$

几点半了

认识半点

请看一看，下面的时间对不对呀？



分针指到 6，就表示过了整点的一半，是半小时。



请看下面的图，说一说各图是几点半了？你发现时针指在什么地方了吗？

