

目 录

第一单元测试卷·····	1	第五单元测试卷·····	45
第二单元测试卷·····	9	月考测评卷二·····	53
月考测评卷一·····	17	第六单元测试卷·····	57
第三单元测试卷·····	21	期末模拟测评卷·····	61
期中模拟测评卷·····	29	参考答案·····	69
第四单元测试卷·····	37		

图书在版编目(CIP)数据

湘教考苑·单元测试卷·历史八年级·上册:岳麓版/《湘教考苑》

编写组编.—长沙:湖南教育出版社,2016.7

ISBN 978-7-5539-3771-7

I. ①湘… II. ①湘… III. ①中学历史课—初中—教学参考资料

IV. ① G634

中国版本图书馆CIP数据核字(2016)第012720号

湘教考苑·单元测试卷·历史·八年级上册(岳麓版)

本书编写组 编

责任编辑:李海棠

出版发行:湖南教育出版社(长沙市韶山北路443号)

网 址: <http://www.hnepb.com>

电子邮箱: hjychs@sina.com

微信服务号:多点学习

客 服:电话 0731-85486979

经 销:湖南省新华书店

印刷装订:衡阳日报社印刷厂

开 本:787×1092 16开

印 张:5

字 数:155000

版 次:2016年7月第1版第1次印刷

书 号:ISBN 978-7-5539-3771-7

定 价:11.00元

本书如有印刷、装订错误,可向承印厂调换

ISBN 978-7-5539-3771-7



9 787553 937717 >

湘教考苑

单元测试卷

D A N Y U A N C E S H I J U A N

本书编写组 编



历史

八年级上册
(岳麓版)

湖南教育出版社

①考生要写清校名、姓名和班级(或准考证号)

②不读题、不讲题、监考人不解答问题

③用钢笔或签字笔答题,字迹要清楚,卷面要整洁

注意事项

县(区) 乡 年级 班级

姓名 学校

第一单元测试卷

历史 八年级上册(岳麓版)

时间:60分钟 满分:100分

题号	一	二	总分
得分			

一、选择题(每小题四个选项中,只有一项最符合题意。本大题共20道小题,每小题2分,共40分)

- 1.“竹枪一支,打得妻离子散,未闻枪声震地;铜灯半盏,烧尽田地房廊,不见烟火冲天。”这句打油诗深刻地揭露了 ()
- A.鸦片输入给中国人民带来的巨大灾难
B.中外反动势力勾结的官场腐败
C.列强入侵使中国无数家庭妻离子散的现状
D.《南京条约》签订后,个体农户纷纷破产的现实
- 2.(2015·贵州安顺)我国首部禁毒法于2008年6月1日起开始实施。历史上,国际联盟把虎门销烟开始的6月3日定为“国际禁烟日”。1987年,联合国又把虎门销烟完成的翌日6月26日定为“国际禁毒日”。它们的确定是为了纪念被誉为“全球禁毒第一人”的 ()
- A.关天培 B.林则徐
C.左宗棠 D.邓世昌
- 3.“列强的炮声惊醒了古老中华帝国的美梦,中华民族的屈辱史——中国近代史开始了。”这里的“列强的炮声”指的是 ()
- A.鸦片战争 B.第二次鸦片战争
C.甲午中日战争 D.八国联军侵华战争
- 4.(2014·湖南邵阳)史载,道光皇帝(1821—1850年在位)因丢失了老祖宗留下的土地而抱恨终身。曾被道光帝丢失的“土地”是 ()
- A.钓鱼岛 B.香港岛
C.台湾岛 D.辽东半岛
- 5.(2014·四川遂宁)我们把鸦片战争作为中国近代史的开端,最主要的依据是 ()
- A.中国开放了通商口岸 B.中国的社会性质发生了变化
C.签订了不平等条约 D.中国战败了

- 6.(2014·汕尾)八年级某班的同学在讨论“清政府为什么会在鸦片战争中失败”这一问题时各抒己见,最后归纳为以下四点。你认为最根本的原因是 ()
- A.武器落后 B.战备不足
C.政府妥协退让 D.封建制度腐朽
- 7.(2015·湖南衡阳)历史大戏《台湾·1895》曾在央视一套热播,剧中某演员饰演的李鸿章在1874年说出“八国联军刚刚火烧了圆明园”的台词,被笑指犯了低级的历史知识错误。这是因为 ()
- A.该演员与李鸿章在形象上差异很大
B.李鸿章没有经历过八国联军侵华战争
C.圆明园是在甲午中日战争后被日军烧毁的
D.1860年,英法联军火烧圆明园
- 8.马克思说:“俄国不花费一文钱,不出动一兵一卒,而能比任何一个参战国得到更多的好处。”俄国在第二次鸦片战争期间从中国 ()
- A.取得协定关税的特权 B.获得大量赔款
C.割占大片领土 D.掠夺圆明园的大量珍宝
- 9.(2015·湖南岳阳)与下图所示有关的战争是 ()



焚掠后的圆明园遗迹

- A.鸦片战争 B.第二次鸦片战争
C.甲午中日战争 D.八国联军侵华战争
- 10.下图所示战斗场景发生的时间和地点是 ()



- A.19世纪60年代;江苏、浙江、上海一带 B.19世纪60年代;北京、天津地区
C.18世纪60年代;江苏、浙江、上海一带 D.18世纪60年代;北京、天津地区
- 11.(2015·四川自贡)19世纪后期,某将领提出“重新疆者,所以保蒙古,保蒙古者,所以卫京师”。与材料相关的历史事件是 ()

- A.左宗棠大败阿古柏
B.关天培镇守虎门炮台
C.林则徐虎门销烟
D.邓世昌黄海撞日舰

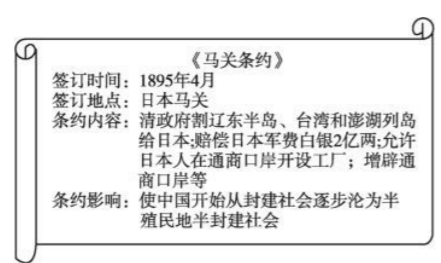
12.(2015·江苏盐城)海洋历来是各国争夺的对象。120多年前,为“开拓万里波涛”,日本联合舰队在黄海大东沟袭击清朝北洋舰队,双方发生激战。在此战役中,为国捐躯的清朝将领是 ()

- A.林则徐
B.左宗棠
C.邓世昌
D.李鸿章

13.(2014·湖南衡阳)某学校八年级(3)班的同学在模拟时事报道“甲午中日战争”的活动中有如下表述,其中表述与史实不符的是 ()

- A.林菊:战争爆发于1895年,结果签订《辛丑条约》
B.华敏:黄海大战中牺牲的邓世昌是当之无愧的民族英雄
C.王海:在战争中,北洋舰队全军覆没
D.李兵:战后签订的不平等条约使台湾人民遭受日本50年的殖民奴役

14.搜集和整理资料、制作知识卡片是学习历史的一种重要方法。下边是某同学整理的《马关条约》的资料卡片,卡片中表述错误的一项是 ()



- A.签订时间
B.签订地点
C.条约的内容
D.条约的影响

15.(2015·湖南株洲)《马关条约》签订后,帝国主义列强对中国的经济侵略转向以资本输出为主。下列各项中,不属于资本输出的是 ()

- A.设立银行
B.兴修铁路
C.开矿办厂
D.勒索赔款

16.孙中山认为,义和团运动是“对于欧美的新文化之反动”;“其勇锐之气,殊不可当,真是令人惊奇佩服。所以,经过那次血战之后,外国人才知道,中国还有民族精神,这种民族是不可消灭的”。以上材料说明孙中山对义和团运动的评价是 ()

- A.否定其排外主义
B.赞扬其反侵略的精神
C.既有赞扬又有否定
D.全面赞扬与肯定

17.(2015·广东)正当人们欢欣鼓舞地迎接20世纪到来之际,中国人却是“带着首都被敌人攻占的耻辱”收到了一份“西方人送来的令人不堪忍受的礼物”。这份“礼物”指的是 ()

- A.《南京条约》
B.《瑷珲条约》
C.《马关条约》
D.《辛丑条约》

18.(2015·湖南邵阳)2015年1月,中国海军访问英国。有英国网友感慨道:“三艘巨大的军舰……真遗憾,这是中国军舰,不是英国的。记得我们国家曾经侵略过中国。”近代史上,英国发动或参与对中国的侵略战争有 ()

- ①鸦片战争 ②第二次鸦片战争 ③甲午中日战争 ④八国联军侵华战争
A.①②③
B.①②④
C.①③④
D.②③④

19.下列《辛丑条约》的内容中,最能直接反映《扯线木偶》漫画寓意的是 ()



- A.清政府拆毁大沽炮台
B.清政府赔偿白银4.5亿两
C.清政府划定东交民巷为使馆界
D.清政府保证严禁人民参加反帝活动

20.(2015·四川资阳)下列情况中,不可能出现在1905年的是 ()

- A.香港岛为英国管辖
B.外国商人在重庆、苏州开设工厂
C.外国军队驻守北京到山海关铁路沿线
D.北京东交民巷有中国人居住

二、综合题(共60分)

21.(16分)阅读下列材料,回答问题。

材料一 由于中国人闭关自守、骄傲自满,19世纪的三次灾难性战争使他们受到巨大的刺激,在这些战争中所遭到的耻辱性失败,迫使中国人打开大门,结束他们对西方的屈尊态度,重新评价自己的传统文明。其结果是入侵和反入侵的连锁反应……
——《全球通史》

材料二 从前我国还只是被西方大国打败过,现在竟被东方的小国打败了,而且失败得那样惨,条约又订得那样苛刻。这是多么大的耻辱啊!
——吴玉章的回忆文章

材料三 1840年至1901年短短的几十年间,中国屡遭西方欺凌,被迫签订丧权辱国的不平等条约,清政府完全成为帝国主义统治中国的工具,中国逐步沦为半殖民地半封建社会。

(1)材料一中所说的“19世纪的三次灾难性战争”指的是哪三次战争?(6分)

(2)材料二中“订得那样苛刻”的条约指什么条约?这是在哪次战争后签订的?(4分)

(3)材料三中的“清政府完全成为帝国主义统治中国的工具”与《辛丑条约》中的哪一条规定有关?(2分)

(4)综上所述,你对中国近代史有何认识?(4分)

22.(12分)观察下面的图片,阅读材料,回答问题。



图1 大水法遗址



图2 燃烧的北京城

材料一 在地球的另一个角落有一个人间奇迹,它叫夏宫……人们的想象力所能创造的一切近乎神话性的东西都体现在这座宫殿中……有一天,两个强盗闯入了夏宫,一个动手抢劫,一个把它付之一炬。原来胜利就是进行一场掠夺。胜利者窃走了夏宫的全部财富……然后,他们双双拉着手荣归欧洲。

——[法]雨果

材料二 侵略军攻陷北京后,“曾特许军队公开抢劫三日,其后更继以私人抢劫。北京居民所受之物质损失甚大,但其详细数目,亦复不易调查”。“(皇宫)最大部分可以移动之贵重物件,皆被抢去。”

——瓦德西《拳乱笔记》

(1)材料一对应的是图_____,材料二对应的是图_____。(4分)

(2)材料一中被劫掠的地点是哪里?主凶分别是哪些国家的侵略军队?(4分)

(3)材料二反映的是在哪次侵略战争中被劫掠的情况?(2分)

(4)为什么这些侵略者能在中国犯下如此罪行?(2分)

23.(18分)阅读材料,回答问题。

在中国近代史上,为反抗外来侵略,英勇的中国人民进行了艰苦的斗争,涌现出无数可歌可泣的民族英雄。

【名言警句】“苟利国家生死以,岂因祸福避趋之。”“若鸦片一日未绝,本大臣一日不回,誓与此事相始终,断无中止之理。”

(1)上面的名言警句出自哪个历史人物?他领导了哪一斗争?(4分)

【图说历史】



图1



致远舰直冲敌舰

图2

(2)请概括图 1 所示人物在反侵略斗争中突出的英雄事迹。(2 分)

(3)在图 2 所示这次战役中牺牲的致远舰管带是谁? 我们应该学习他的什么精神?(4 分)

【民间歌谣】

歌谣一:洋人好比一只鹰,黄毛高鼻绿眼睛。鸱鹰凶恶怕弓打,洋人怕的红头军。

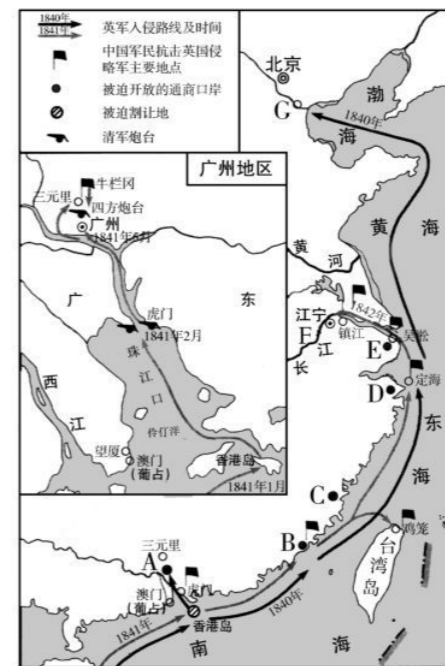
歌谣二:神助拳,义和团,只因鬼子闹中原。

(4)两则歌谣分别与哪一事件有关? 请分别列举一个抗击外来侵略的事例。(8 分)

24.(14 分)阅读下列材料,回答问题。

材料一 中国割让香港岛给英国;赔款 2100 万元;开放广州、厦门、福州、宁波、上海五处为通商口岸;英商在华进出口货物应缴纳的税款,中国须同英国商定。

材料二 见下面的《鸦片战争形势》图。



(1)材料一的内容出自什么条约? 签订的地点在材料二图中的何处?(用字母表示)(4 分)

(2)材料二中哪些字母代表的城市是中国被迫开放的通商口岸? 这些通商口岸在分布上有什么特点?(4 分)

(3)20 世纪 80 年代,我国沿海地区开放了一系列城市。这与第(2)问中开放的通商口岸有何本质区别?(6 分)

①考生要写清校名、姓名和班级(或准考证号)
 ②不读题、不讲题、监考人不解答问题
 ③用钢笔或签字笔答题,字迹要清楚,卷面要整洁

注意 事项

县(区) 乡 年级 班级
 学校 姓名

第二单元测试卷

历史 八年级上册(岳麓版)

时间:60分钟 满分:100分

题号	一	二	总分
得分			

一、选择题(每小题四个选项中,只有一项最符合题意。本大题共20道小题,每小题2分,共40分)

- 1.(2015·内蒙古呼和浩特)中国近代化起步的主要标志是 ()
 A.鸦片战争的发生 B.中华民国的成立
 C.洋务运动的开展 D.新文化运动的兴起
- 2.下图是洋务运动期间,中国工匠制造的铁甲舰“平远号”。当时,制造此舰的目的是 ()



- A.发展资本主义 B.维护清朝统治
 C.发展海外贸易 D.进行科学考察
- 3.通过抓关键信息了解和掌握知识是学习历史的有效方法之一。与“洋务运动的主要代表人物”“收复新疆”“湘籍名臣”三个关键信息都有关的历史人物是 ()
 A.左宗棠 B.李大钊 C.张之洞 D.曾国藩
- 4.(2015·湖南郴州)为维护清朝统治,洋务派先后以“自强”“求富”为目标,创办了一批军事工业和民用企业。下列属于军事工业的是 ()
 A.汉阳铁厂 B.开平矿务局
 C.江南制造总局 D.轮船招商局
- 5.(2015·湖南娄底)“自鸦片战争以来,中国就不断有人做着各种各样的西方梦:梦想有西方的坚船利炮,梦想有西方的新型工业,梦想有西方的民主制度……”下列属于追求“西方的新型工业”梦想的历史事件是 ()
 A.太平天国运动 B.洋务运动
 C.戊戌变法 D.新文化运动

- 6.(2015·江苏苏州)汪林茂在《层次递进的晚清三次新政》中评论某一历史事件时说:“其最大的意义并不是产生了‘自强’的效用,而是在古老的封建主义的‘体’上撕开了一道口子,开动了近(现)代化的这辆列车。”据此可知,他认为 ()
 A.洋务运动的进步作用主要体现为开辟了近代化道路
 B.戊戌变法冲击了陈旧腐朽的旧文化,具有启蒙意义
 C.辛亥革命是中国社会近代化进程中显著的里程碑
 D.反帝爱国的五四运动是中国新民主主义革命的开端
- 7.《二十世纪中国的崛起》中指出:“一个民族的觉醒,通常要有两个条件:第一,这个民族面对着或者经历了以往没有遇到的严重危机,甚至整个民族被逼到生死存亡的关头,旧格局再也无法坚持下去。第二,还要这个民族能看到出路,燃烧起新的希望,深信只要奋起救亡,勇于变革,就可以改变目前的艰难处境。”下列能反映19世纪中国“旧格局再也无法坚持下去”和“奋起救亡,勇于变革”的史实是 ()
 A.《马关条约》和公车上书 B.瓜分狂潮和义和团运动
 C.《辛丑条约》和戊戌变法 D.《辛丑条约》和辛亥革命
- 8.“宣传民主维新,倡西学,发展资本主义;批判专制守旧,兴民权,实行君主立宪。”材料评价的是 ()
 A.洋务运动 B.戊戌变法
 C.辛亥革命 D.新文化运动
- 9.戊戌变法的下列法令中,对封建顽固派最具威胁的措施是 ()
 A.改革政府机构方面 B.兴办私人企业方面
 C.训练新式军队方面 D.开办新式学堂方面
- 10.(2015·河南)20世纪初,有一首歌曲迅速成为时代的心声。歌词是:“亚东开化中华早,揖美追欧,旧邦新造。飘扬五色旗……”歌词中的“旧邦新造”是指 ()
 A.维新法令的颁布 B.中华民国的成立
 C.新文化运动的兴起 D.南京国民政府的建立
- 11.(2014·江苏扬州)下列不属于三民主义的内容的是 ()
 A.民族主义 B.民权主义
 C.民生主义 D.民主主义
- 12.(2015·湖南邵阳模拟)结束封建帝制,实现了20世纪中国人民在前进道路上第一次历史性巨变的是 ()
 A.洋务运动 B.维新变法运动
 C.辛亥革命 D.新文化运动

13.叶圣陶在一则日记中写道：“课毕后阅读报纸，见专电栏中有云：武昌已为革党所据，新军亦起而响应……从此而万恶之政府即以推倒，亦未可知也。”日记反映的重要事件是 ()

- A.武昌起义
- B.南昌起义
- C.西安事变
- D.渡江战役

14.(2015·湖南岳阳)下列活动中，与下图所示人物无关的是 ()



- A.成立了兴中会
- B.提出了三民主义
- C.颁布了《中华民国临时约法》
- D.创建了中国共产党

15.(2013·湖南邵阳)比较与归纳，是历史学科的能力要求之一。下列选项中，属于戊戌变法与辛亥革命的共同点的是 ()

- A.发生在 19 世纪
- B.反帝反封建的资产阶级革命
- C.结束了中国 2000 多年的封建帝制
- D.推动了中国社会的进步

16.(2015·海南)为了反对袁世凯独裁复辟，倒行逆施，陈独秀、李大钊等进步知识分子掀起了 ()

- A.戊戌变法
- B.新文化运动
- C.五四运动
- D.北伐战争

17.陈独秀在《新青年》上发表文章说：“要巩固共和，非先将国民脑子里所有反对共和的旧思想洗刷干净不可。”由此可知，前期的新文化运动 ()

- A.主张在思想上打破封建束缚
- B.为马克思主义在中国的传播做了思想准备
- C.要在中国建立共和政体
- D.给灾难深重的中国人民指明了真正的出路

18.在新文化运动中，将反封建的革命内容与新文学的形式结合起来，树立新文学典范的是 ()

- A.陈独秀
- B.李大钊
- C.胡适
- D.鲁迅

19.“十月革命一声炮响，给我们送来了马克思列宁主义。”十月革命后，新文化运动进入宣传十月革命，宣传马克思主义的新阶段。下列历史人物中，在宣传马克思主义方面作出了重要贡献的是 ()



A.陈独秀



B.鲁迅



C.李大钊



D.胡适

20.(2014·四川绵阳)表格法是学习历史的重要方法。陈洋同学在学习了中国近代史后，绘制了下面的表格，你认为此表格的主题是 ()

1861 年	曾国藩	安庆内军械所
1898 年	光绪帝	《定国是诏》
1915 年	陈独秀	《青年杂志》

- A.军事工业的兴起
- B.政治体制的变革
- C.民主思想的传播
- D.近代化道路的探索

二、综合题(共 60 分)

21.(14 分)阅读下列材料，回答问题。

材料一 1872 年，轮船招商局在上海成立。轮船由最初的 3 艘增至 1877 年的 30 多艘，在各个口岸设有分局 27 处。从 1873 年到 1877 年，总共盈利 1221000 两白银。



上海轮船招商局

材料二 他们的对策是所谓的“自强”运动。这一词语本身出自儒家经典著作，在 19 世纪 60 年代，用来指通过移植西方的机械制造来保护中国的文明。

——[美]斯塔夫里阿诺斯《全球通史》

材料三 到甲午战争之前，企业总数已达 60 多个。这些企业，多有拒洋动机，少数还能办出成绩，在不知不觉中把封建主义的坚冰钻开了些微裂缝。

——陈旭麓《近代中国社会的新陈代谢》

(1)上海轮船招商局是谁创办的?(2 分)

(2)概括指出“自强”运动的主要内容。(8 分)

(3)根据材料,分析中国“封建主义的坚冰”出现“些微裂缝”的原因。(4分)

22.(16分)(2014·安徽)阅读下列材料,回答问题。

材料一 道光、咸丰年间的人没有接受军事失败的教训,战后与战前完全一样,麻木不仁,妄自尊大。直到咸丰末年,英、法联军攻进了北京,然后有少数人觉悟了,知道非学西洋不可。

——蒋廷黻《中国近代史》

材料二 在中国社会缓慢地发生变化的同时,出现了《海国图志》《瀛环志略》等著作……可惜的是,在当时,对这两部意在醒世的著作予以最大注意的,不是中国人,而是日本人。日本社会因炮声震撼而惊醒,中国社会却在炮声沉寂后又昏昏睡去……

知识分子是民族的大脑,揭示民族的使命是他们的使命。

——陈旭麓《近代中国社会的新陈代谢》

(1)材料一中的“军事失败”与“少数人觉悟”各指什么具体事件?(4分)

(2)结合材料一、二分析,“惊醒”与“昏昏睡去”对两国各产生了怎样的影响?(6分)

(3)结合所学知识分析,19世纪末20世纪初,中国的知识分子是如何“揭示民族的使命是他们的使命”的?(6分)

23.(12分)(2014·浙江嘉兴)近代化是世界历史发展的重要阶段,中国的近代化道路有自己的特点。阅读下列材料,回答问题。

材料一 晚清政府财政收入结构表(单位:万两)。

年份	农业税收入		工商杂税收入		其他收入		总收入	
	数额	比重(%)	数额	比重(%)	数额	比重(%)	数额	比重(%)
1849	3 281	77	969	23	—	—	4 250	100
1885	3 071	40	3 923	51	714	9	7 708	100

——摘编自冯杨《低关税与近代中国经济发展研究》

(1)依据材料一,指出与晚清政府财政收入结构变化直接相关的历史事件,并说明该历史事件对中国近代化起到的作用。(4分)

材料二 1898年6月16日,光绪皇帝与康有为对话节选

康有为:四夷交迫,分割将至,覆亡无日。

皇帝:今日诚非变法不可。

康有为:所谓变法者,须自法律制度先后改定,乃谓之变法。今所言变者,是变事耳,非变法也。

皇帝同意其建议。

——茅海建《从甲午到戊戌:康有为〈我史〉鉴注》

(2)材料二反映出康有为的“变法”主张是什么?与材料一反映的历史事件相比,该主张是如何进一步推动中国的近代化进程的?(4分)

材料三 民国早期的特征是道德沦落、军阀割据……明显地,采取共和体制而带来的政治面貌,并不足以革新国家,还需要有一些更基本的东西来唤醒国家及人民。受过西方教育或影响的新知识分子,进行了一场激烈的社会变革。这场思想革命有时被描述为“中国的文艺复兴”。

——徐中约《中国近代史》

(3)运用史实,说明在近代化进程中新知识分子是如何“唤醒国家及人民”的。(4分)

(1)根据材料一思考,1892—1894年,孙中山的思想发生了什么变化?概括材料中有关孙中山在1894—1912年的具体革命活动。(8分)

24.(18分)(2015·海南)阅读下列材料,回答问题。

材料一 孙中山生平活动大事年表。

1866年,出生于广东省香山县(今中山市)
1892年,毕业于香港西医学院,后在澳门、广州一带行医
1894年6月,上书李鸿章,提出改良主张,未被采纳
1894年11月,在檀香山组织兴中会,立志推翻清朝统治
1905年8月,在日本东京创立中国同盟会,提出“三民主义”学说
1911年武昌起义后,被推举为中华民国临时大总统
1912年1月1日,在南京宣誓就任中华民国临时大总统,建立了中华民国
1912年2月,为了防止袁世凯专权,制订并颁布《中华民国临时约法》
1913年以后,领导了“二次革命”、护国运动、护法运动等革命斗争
1924年1月,在广州召开国民党“一大”,实现国共第一次合作
1925年3月12日,在北京逝世

材料二 上海《商报》评价孙中山:“不知有身,不知有家,不知有敌人,不知有危害,不知有艰难……寝馈食息,必于救国,造次颠沛,不忘奋斗。”

材料三 孙中山曾说:“吾辈即以中国改革发展为己任,虽石烂海枯,而此身尚存,此心不死。既不可以失败而灰心,亦不能以困难而缩步,精神贯注,猛力向前。应付世界发展之潮流,合乎善长恶消之天理,则终有最后成功之一日!”

材料四 2015年恰逢孙中山逝世90周年,海峡两岸纷纷举行各种活动,隆重纪念孙中山。



3月12日,南京各界人士拜谒中山陵

3月12日,台湾拍摄的纪录片《永不放弃——孙中山北上与逝世》在台北发布。该片旨在发扬孙中山先生永不放弃的精神,号召大家继续团结奋斗,促进两岸和谐发展。

(2)材料二评价孙中山有五个“不知”,你怎么理解?结合材料三,你能感受到孙中山怎样的精神品质?(6分)

(3)今天,海峡两岸的炎黄子孙共同纪念孙中山的现实意义是什么?(4分)

月考测评卷一

历史 八年级上册(岳麓版)

时间:60分钟 满分:100分

题号	一	二	总分
得分			

一、选择题(每小题四个选项中,只有一项最符合题意。本大题共20道小题,每小题2分,共40分)

1.下图是人民英雄纪念碑基座上的浮雕之一。这幅图片反映的重大历史事件是 ()



A. 南昌起义 B. 五四运动 C. 虎门销烟 D. 渡江战役

2.在中英《南京条约》中,侵犯中国经济主权最严重的条款是 ()

A. 开放广州、上海等五个通商口岸
B. 赔款2100万元
C. 割香港岛给英国
D. 英商进出口货物应缴纳的税款,中国须同英国商定

3.下列关于鸦片战争和第二次鸦片战争的说法,正确的是 ()

①都是外国资本主义列强为打开中国市场而发动的 ②都使中国丧失了领土和主权 ③都强迫中国签订了不平等条约 ④两次战争的侵略者都有英国
A. ①②③ B. ②③④ C. ①③④ D. ①②③④

4.“大将西征人未还,湖湘弟子满天山。新栽杨柳三千里,赢得春风度玉关。”此诗反映的是 ()

A. 洪秀全领导的太平天国运动 B. 左宗棠收复新疆
C. 关天培抗击英军 D. 林则徐虎门销烟

5.历史遗迹能够让我们回味历史,读懂历史。圆明园遗迹反映的是 ()

A. 鸦片战争的耻辱 B. 英法联军的暴行
C. 沙俄侵华的罪证 D. 八国联军侵华的罪行

6.邓世昌对部下说:“我们从军卫国,生死早已置之度外。我们虽然牺牲了,但可以壮国家的声威。”该历史场景出现在 ()

A. 定海战役中 B. 黄海海战中 C. 辽东半岛战役中 D. 威海卫战役中

7.(2015·湖南怀化)著名诗人丘逢甲在《春愁》中写道:“春愁难遣强看山,往事惊心泪欲潸。四百万人同一哭,去年今日割台湾。”诗中的“割台湾”与下列哪个不平等条约的签订有关 ()

A. 《南京条约》 B. 《北京条约》 C. 《马关条约》 D. 《辛丑条约》


8.小明同学写了一篇比较《南京条约》和《马关条约》内容的小文章,得到老师的赞赏。在文章中,他认为这两个条约的最主要不同点是 ()

A. 割地 B. 开放通商口岸
C. 赔款 D. 允许列强在中国设厂

9.中国近代的一本启蒙读物中写道:“这朝廷,原是个,名存实亡!替洋人,做一个,守土官长……”你认为作者描述的是哪个条约签订之后中国的状况 ()

A. 《天津条约》 B. 《北京条约》 C. 《马关条约》 D. 《辛丑条约》

10.对下列图示解读最为准确的是 ()

A. 中国沦为半殖民地半封建社会的过程 B. 中国走出半殖民地半封建社会的过程
C. 中国民族工业艰难曲折的发展历程 D. 中国新民主主义革命的发展历程

11.(2014·湖南邵阳)专题学习是历史学习的重要方法之一。邵林同学将“洋务运动、戊戌变法、辛亥革命、新文化运动”等作为一个学习专题。这个专题的名称应该定为中国 ()

A. 人民的抗争 B. 近代化的起步
C. 新民主主义革命的兴起 D. 社会主义道路的探索

12.(2015·云南)洋务派在中央的代表奕訢提出:“自强以练兵为要,练兵又以制器为先。”由此可看出,洋务运动的侧重点在于学习西方的 ()

A. 思想文化 B. 军事技术 C. 教育制度 D. 政治制度

13.(2015·湖南益阳)19世纪,在中国近代化探索的历程中,中国人相继走过了自救之路、维新之路,但都没有完成反帝反封建的历史使命,探索之路任重道远。此处说的“自救之路”“维新之路”分别是指 ()

A. 洋务运动、辛亥革命 B. 新文化运动、五四运动
C. 洋务运动、戊戌变法 D. 五四运动、戊戌变法

14.在中国近代化道路探索的过程中,力图通过资产阶级改良在中国发展资本主义的是 ()

A. 太平天国运动 B. 洋务运动 C. 戊戌变法 D. 辛亥革命

15.孙中山领导的辛亥革命实现了20世纪中国的第一次历史性巨变,因为这次革命 ()

A. 是中国近代化的开端
B. 是资产阶级维新思潮转变为爱国救亡政治运动的标志
C. 为马克思主义在中国的传播创造了条件
D. 结束了统治中国2000多年的封建君主专制制度

16.下列哪些事件促进了西方资产阶级思想在中国的传播 ()

①洋务运动 ②戊戌变法 ③义和团运动 ④辛亥革命 ⑤新文化运动
A. ①②③④ B. ①②④⑤ C. ②③④⑤ D. ②④⑤

17.(2015·江苏盐城)有人将中国传统文化比喻成一棵大树,认为洋务运动只是剪短了其枝叶,辛亥革命虽砍断了树干,但树墩还在,还会萌发。为了不让“树墩”萌发,陈独秀、李大钊等人掀起了 ()

A. 戊戌变法 B. 新文化运动 C. 五四运动 D. 北伐战争

18.前期的新文化运动与资产阶级维新派、革命派的思想相比,就其作用而言,主要“新”在 ()

A. 传播了资产阶级民主平等的思想 B. 比较彻底地批判了封建思想
C. 绝对肯定了西方文化的进步性 D. 深入研究和传播了马克思主义

- 19.有关新文化运动的影响的说法,不正确的是 ()
- A.它是我国历史上的第一次思想解放运动
B.它促使人们追求民主和科学,探索救国救民的真理
C.它为马克思主义在中国的传播创造了条件
D.它对东西方文化的看法有绝对肯定或绝对否定的倾向

- 20.近代前期,中国近代化的发展历程大体上是 ()
- A.政治领域→经济领域→思想领域
B.经济领域→思想领域→政治领域
C.思想领域→经济领域→政治领域
D.经济领域→政治领域→思想领域

二、综合题(共60分)

21.(14分)阅读材料,回答问题。

【落后带来屈辱】马克思曾说:英国的大炮首先破坏了中国的皇帝权威,迫使天朝帝国与地上的世界接触。与外界完全隔绝曾是保存旧中国的首要条件,而当这种隔绝状态在英国的努力之下被暴力所打破的时候,接踵而来的必然是旧制度解体的过程。

- (1)材料中的“旧制度”是指什么制度?造成中国与世隔绝的主要原因是当时的统治者实行了什么政策?(4分)
- (2)“英国的大炮首先破坏了中国的皇帝权威”具体是指什么战争?它给中国带来的最严重的影响是什么?(4分)
- (3)这次战争后,清政府被迫签订的不平等条约,破坏了中国的哪些主权?(4分)
- (4)此后签订的一系列不平等条约中,哪一条款说明清政府完全成为帝国主义统治中国的工具?(2分)

22.(10分)(2015·江西南昌)读图,回答问题。

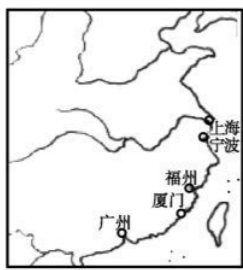


图1



图2

- (1)图1、图2所示分别为中国近代哪个不平等条约规定开放的通商口岸?(4分)
- (2)图1到图2所示通商口岸位置的变化说明了什么问题?(6分)

23.(18分)(2015·湖南张家界)阅读下列材料,回答问题。

材料一 自今以后,大皇帝恩准英国人民带同所属家眷,寄居大清沿海之广州、福州、厦门、宁波、上海等五处港口,贸易通商无碍……今大皇帝准将香港一岛给予大英国君主暨嗣后世袭主位者常远据守主掌,任便立法治理……

材料二 第二款 中国将管理下开地方之权并将该地方所有堡垒、军器、工厂及一切属公物件,永远让与日本。一、下开划界以内之奉天省南边地方……二、台湾全岛及所有附属各岛屿。三、澎湖列岛。即英国格林尼次东经百十九度起、至百二十度止及北纬二十三度起、至二十四度之间诸岛屿。

第四款 中国约将库平银二万万两交与日本,作为赔偿军费……

材料三 第六款 上谕大清国大皇帝允定付诸国偿款海关银四百五十兆两……

第七款 大清国国家允定各使馆境界以为专与住用之处,并独由使馆管理。中国民人,概不准在界内居住……

第八款 大清国国家应允将大沽炮台及有碍京师至海通道之各炮台一律削平,现已设法照办……

——上述材料均摘自相关条约的原文

- (1)材料一、二、三所述的内容分别出自清政府与外国侵略者签订的什么条约?(6分)
- (2)上述条约反映出中国近代社会的性质发生了怎样的变化?(4分)
- (3)随着中国近代社会性质的变化,为挽救民族危机,不同阶层的仁人志士都进行了艰难的探索,其中地主阶级、资产阶级革命派的探索具体指什么重大历史事件?(4分)
- (4)纵观不同阶层的探索,请归纳中国近代化探索历程的特点。(4分)

24.(18分)中国近代化是先进的中国人向西方学习,艰难探索救国之路的过程。阅读下列材料,回答问题。

材料一 近五十年来,中国人渐渐知道自己的不足了。……第一期,先从器物上感觉不足。……第二期,是从制度上感觉不足。……第三期,便是从文化根本上感觉不足。

——梁启超《五十年中国进化概论》

- (1)先进的中国人为解决“器物”“制度”和“文化”的不足,分别进行了哪些探索?(8分)

材料二 西洋近代文明能够满足人类心灵上的要求的程度,远非东洋旧文明所能梦见。

——胡适《我们对于西洋近代文明的态度》

- (2)胡适等人为解决“文化”上的不足,学习“西洋近代文明”的主张有哪些?你如何看待胡适对“西洋近代文明”和“东洋旧文明”的态度?(10分)

第三单元测试卷

历史 八年级上册(岳麓版)

时间:60分钟 满分:100分

题号	一	二	总分
得分			

一、选择题(每小题四个选项中,只有一项最符合题意。本大题共20道小题,每小题2分,共40分)

1.90多年前,一群青年学生发出了“外争国权,内除国贼”的怒吼,掀起了一场彻底的反帝反封建的爱国运动。这场运动爆发的直接原因是 ()

- A.巴黎和会上中国外交的失败
- B.中国无产阶级的队伍不断壮大
- C.俄国十月革命的影响
- D.中国民族资本主义的发展

2.标志着中国新民主主义革命开端的历史事件是 ()

- A.鸦片战争
- B.新文化运动
- C.五四运动
- D.中国共产党的成立

3.1919年6月3日以后,五四运动发展到一个新的阶段。下列对于“新”的理解不正确的是 ()

- A.运动的中心从北京转移到上海
- B.斗争方式从学生罢课变为工人罢工、学生罢课、商人罢市
- C.无产阶级取代学生成为运动的主力
- D.斗争对象从帝国主义变为北洋军阀政府

4.下图是马星驰先生所创作的漫画《民气一致之效果》,它深刻地揭示了五四运动取得初步胜利的主要原因是 ()



- A.中国共产党的正确领导
- B.“枪杆子里面出政权”
- C.各阶层人民的联合斗争
- D.北伐战争的推动

5.下列历史人物都是中国共产党的早期领导人,其中只有一位参加过中国共产党第一次全国代表大会。他是 ()

- A.陈独秀
- B.李大钊
- C.毛泽东
- D.周恩来

6.(2014·重庆)某学校举办“中国共产党的奋斗历程”图片展。下列图片所反映的事件中,具有“开天辟地”的意义的是 ()



- A.中共“一大”
- B.南昌起义
- C.井冈山会师
- D.遵义会议

7.下图是一份毕业证书,颁发这份毕业证书的学校是 ()



- A.福州船政学堂
- B.京师大学堂
- C.黄埔军校
- D.北京大学

8.(2015·广东)1924年5月,孙中山在黄埔军校开学典礼上说:“要从今天起,重新做革命的基础,另外成立一种理想上的革命军。一生一世,都不存升官发财的心理,只知道做救国救民的事业。”两年后,该校师生积极投身的“救国救民的事业”是 ()

- A.五四运动
- B.北伐战争
- C.抗日战争
- D.解放战争

9.“吴孙张三系军阀,汀贺桥两役决胜。”国共第一次合作进行北伐时,率领第四军独立团奋勇冲锋,连克汀泗桥、贺胜桥,为攻克武昌城立下汗马功劳的北伐将领是 ()

- A.蒋介石
- B.李宗仁
- C.叶挺
- D.彭德怀

10.国民革命军北伐的对象不包括 ()

- A.张作霖
- B.袁世凯
- C.孙传芳
- D.吴佩孚

11.1926年9月18日,《工人之路》载:汉阳兵工厂的工人于9月1日宣布“为自身的利益,为湖北民众的利益,为革命的利益”,实行总罢工。汉阳工人罢工是为了配合 ()

- A.北伐战争
- B.南昌起义
- C.秋收起义
- D.红军反“围剿”的斗争

①考生要写清校名、姓名和班级(或准考证号)
②不读题、不讲题、监考人不解答问题
③用钢笔或签字笔答题,字迹要清楚,卷面要整洁

注意事项

县(区) 乡 年级 班级 姓名 学校

12. 下图反映的是“创建人民军队的开始”“军旗升起的地方”这一历史事件。根据这些信息判断,这反映的是 ()



- A. 南昌起义 B. 井冈山会师 C. 遵义会议 D. 红军会宁会师

13. 如果把下列图片综合归纳出一个学习主题,你会把它确定为 ()



南昌起义



秋收起义



井冈山会师

- A. 国共合作 北伐战争 B. 星星之火 可以燎原
C. 救国救民 近代起步 D. 鸦片战争 抵抗侵略

14. (2015·湖南长沙)“在这里,共产党的任务,基本的不是经过长期合法斗争以进入起义和战争,也不是先占城市后取乡村,而是走相反的道路。”在这一思想的指导下,谁领导建立了中国第一个农村革命根据地 ()

- A. 毛泽东 B. 朱德 C. 陈毅 D. 贺龙

15. (2015·江苏盐城)“毛泽东从欧洲借来的不是机器、宗教……而是共产主义。他借助于技术和灵活性,对症下药,使一位病入膏肓的病人——中国起死回生。”下列各项中,最能体现毛泽东“灵活性”的是 ()

- A. 发动武昌起义
B. 领导南昌起义
C. 发动秋收起义
D. 开辟农村包围城市、武装夺取政权的革命道路

16. (2014·湖南邵阳)保存了中国共产党和红军的基本力量,使中国革命转危为安,为开创中国革命的新局面奠定了基础的是 ()

- A. 国民革命军北伐 B. 红军第五次反“围剿”斗争
C. 遵义会议召开 D. 红军长征取得胜利

17. 方寸之间记录历史。下面是四枚主题为“新民主主义革命历程”的邮票,再现了中国新民主主义革命时期的重大历史事件。你认为按事件发生的先后顺序排列,正确的是 ()



① 中国共产党诞生



② 五四运动



③ 红军长征



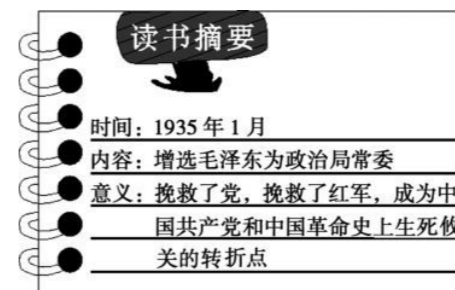
④ 南昌起义

- A. ①②③④ B. ②①③④ C. ②①④③ D. ④②①③

18. 长征是中国革命史上不朽的丰碑。下列长征途中发生的历史事件按时间顺序排列,正确的是 ()

- ① 遵义会议 ② 巧渡金沙江 ③ 吴起镇会师 ④ 飞夺泸定桥 ⑤ 会宁会师 ⑥ 爬雪山,过草地 ⑦ 四渡赤水河
- A. ①⑦②⑥④③⑤ B. ①②④⑦⑥③⑤
C. ①②④⑥⑦③⑤ D. ①⑦②④⑥③⑤

19. (2015·湖南益阳)以下是小明制作的读书卡片,该“读书摘要”中的要点涉及的会议是 ()



- A. 中共“一大” B. 中共“二大”
C. 通道会议 D. 遵义会议

20. 红军长征二万五千里,是什么力量把中华民族成千上万的热血青年聚集在一起,抛头颅、洒热血,前仆后继地奔向一个目标?这种力量就是永存的长征精神。下列对“长征精神”理解正确的是 ()

- ① 革命英雄主义 ② 革命集体主义 ③ 革命乐观主义 ④ 个人自由主义
- A. ①③④ B. ②③④
C. ①②③ D. ①②③④

二、综合题(共60分)

21. (14分)(2014·海南)阅读材料,回答问题。

五四青年节是属于青春的节日。在五四运动95周年之际,让我们从历史镜头入手,回顾那段令人热血沸腾的历史。

(1)以青年学生的斗争为主线,在下面给出的背景之后,依图续说五四运动。(10分)

- (要求:①依据图片并结合所学知识,但不得全部照抄教材内容;②史实准确,语句通顺;③200字以内)

一战后,巴黎和会拒绝了中国人民的正义要求。消息传来……



学生在天安门集会演讲 五四运动的口号 被捕学生回校 罢免卖国贼的通告

(2)从该运动中,你能感悟到的“五四精神”是什么?(4分)

22.(16分)阅读下列与新民主主义革命有关的图片,回答问题。



图1 五四运动



图2 中共“一大”会址及中共“一大”的湖南代表

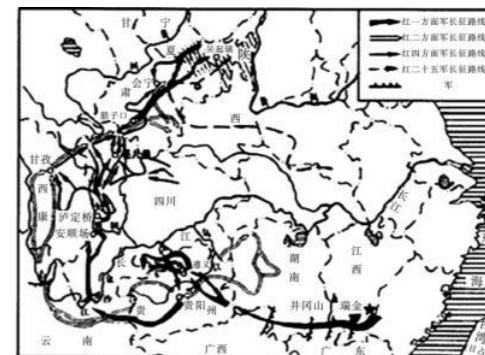


图3 长征路线图



图4 开国大典

(1)图1所示历史事件的导火线和性质分别是什么?(4分)

(2)图2中,代表湖南共产党早期组织参加中共“一大”的两位人物分别是谁?(4分)

(3)读图3,1936年10月,红军三大主力在哪里会师?红军长征的直接原因是什么?(4分)

(4)图4所示历史事件发生于何时?(具体到年月日)。它标志着什么?(4分)

23.(16分)(2014·湖南常德)阅读下列材料,回答问题。

材料一 有人说:1901年,中国陷入无尽的黑暗中;1911年,一道闪电划过,却黑暗依旧;1921年,中国终于迎来了曙光。

材料二 在中国近代化探索的历程中,中国人相继走过了自救之路、维新之路、共和之路。但都没有完成反帝反封建的历史使命,探索之路任重道远。

材料三 1921年,中国共产党诞生,中国革命的面貌从此焕然一新……经过艰难抉择,中国共产党终于找到了“农村包围城市,武装夺取政权”的正确革命道路,使中国逐步走向民族独立和人民解放。

(1)材料一中所说的“1901年,中国陷入无尽的黑暗中”的依据是什么?(2分)

(2)依据材料一、二思考,“一道闪电划过”指什么?为什么“黑暗依旧”?(4分)

(3)材料二所述的“自救之路”“维新之路”分别指什么?(2分)

(4)根据材料三,结合所学知识,请列举“农村包围城市,武装夺取政权”这条革命道路中的两个具有开创性意义的历史事件。(4分)

(5)依据上述材料,结合所学知识,谈谈你对中华民族复兴历程的认识。(至少写出两点)(4分)

24.(14分)阅读材料,回答问题。

红军不怕远征难,万水千山只等闲。五岭逶迤腾细浪,乌蒙磅礴走泥丸。金沙水拍云崖暖,大渡桥横铁索寒。更喜岷山千里雪,三军过后尽开颜。

——毛泽东《七律·长征》

(1)红军“远征”的直接原因是什么?(2分)

(2)“金沙水拍云崖暖”是指长征途中的什么事件?使红军在长征途中由被动变为主动的主要原因是什么?(4分)

(3)红军长征之“难”主要是指什么?(4分)

(4)谈谈你对“长征精神”的理解。(4分)

密
封
线
内
不
准
答
题

①考生要写清校名、姓名和班级(或准考证号)

②不读题、不审题、监考人不解答问题

③用钢笔或签字笔答题,字迹要清楚,卷面要整洁

注意事项

县(区) 乡 年级 班级

姓名 学校

期中模拟测评卷

历史 八年级上册(岳麓版)

时间:60分钟 满分:100分

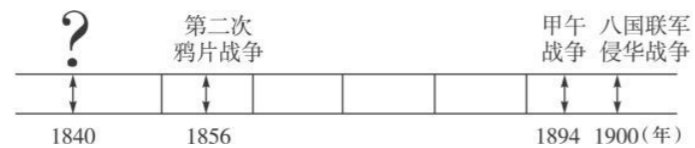
题号	一	二	总分
得分			

一、选择题(每小题四个选项中,只有一项最符合题意。本大题共20道小题,每小题2分,共40分)

1.“苟利国家生死以,岂因祸福避趋之。”他不计个人得失,上书皇帝,严禁鸦片,在虎门海滩当众销毁缴获的全部鸦片。“他”是 ()

- A.林则徐
- B.关天培
- C.左宗棠
- D.邓世昌

2.下图是某历史兴趣小组自制的近代列强侵华大事年代尺示意图,“?”(问号)处没有完成。请根据图示,帮他们选出正确的选项 ()



- A.中法战争
- B.鸦片战争
- C.英、俄侵占新疆
- D.北伐战争

3.(2015·湖南邵阳模拟)李大钊在《圆明园故址》中写道:“圆明两度昆明劫,鹤化千年未忍归。一曲悲笳吹不尽,残灰犹共晚烟飞。”诗中所说的“两劫”中的“一劫”发生在八国联军侵华战争期间,另“一劫”发生在哪一次侵略战争期间 ()

- A.鸦片战争
- B.第二次鸦片战争
- C.甲午中日战争
- D.中法战争

4.近代史上,通过不平等条约割占我国北方领土150多万平方千米的国家是 ()

- A.英国
- B.法国
- C.俄国
- D.美国

5.(2015·湖南永州)晚清政府曾收到某地民众的一份公告,公告称:“……百姓无依,惟有死守,据为岛国,遥戴皇灵……图固守以待转机。”该公告反映的历史事件与地点对应正确的是 ()

- A.鸦片战争——香港
- B.第二次鸦片战争——库页岛
- C.甲午中日战争——台湾
- D.郑成功收复台湾——钓鱼岛

6.(2015·江苏盐城)下列是清政府与列强签订的不平等条约中有关赔款的规定:①赔款2100万元;②赔偿白银4.5亿两;③赔偿日本军费白银2亿两。这些条约按签订的先后顺序排列,正确的是 ()

- A.①②③
- B.③②①
- C.①③②
- D.②①③

7.(2014·吉林)“清政府保证严禁人民参加反帝活动。”这一条款出自 ()

- A.《瑷珲条约》
- B.《北京条约》
- C.《马关条约》
- D.《辛丑条约》

8.(2015·山东菏泽)“经过三十年洋跃进,清朝陆军洋枪数量‘甲乎天下’,海军位列‘亚洲第一’……”这一局面的出现主要得益于 ()

- A.太平天国运动
- B.洋务运动
- C.戊戌变法
- D.辛亥革命

9.(2014·青海西宁)以下所述史实中,不能佐证“中国近代史是一部屈辱史”的是 ()

- A.中国的首都三次被侵略者占领(1860·北京/1900·北京/1937·南京)
- B.《南京条约》割让香港岛给英国
- C.林则徐虎门销烟,维新派变法图强
- D.《辛丑条约》签订后,北京东交民巷划为外国“使馆界”,成为“国中之国”

10.(2015·湖南邵阳)2014年11月14日,习近平总书记陪同到访的美国总统奥巴马在中南海瀛台散步时说,光绪帝时,国家衰败了,他搞百日维新(戊戌变法),失败后被慈禧太后关在这里。上面所指的“百日维新” ()

- A.是一场救亡图存的政治变革
- B.是一次伟大的资产阶级民主革命
- C.启动了中国近代化的进程
- D.结束了中国2000多年的封建帝制

11.(2015·湖南怀化)以下各项中,能达到下图所示效果的历史事件是 ()



大清王朝土崩瓦解

- A.洋务运动
- B.戊戌变法
- C.辛亥革命
- D.北伐战争


12.(2015·山东烟台)作为新文化运动的领导人之一,陈独秀曾被人们称为“中国思想界的清道夫”。他把“启蒙之水”洒向那“孔孟弥漫的大道上”。材料中的“启蒙之水”是指 ()
 A.师夷长技 B.实业救国 C.民主与科学 D.救亡图存

13.(2014·湖南怀化)“我们是五月的花海,用青春拥抱时代……‘五四’的火炬,唤起了民族的觉醒……”这首《中国共产主义青年团团歌》唱出了青年的激情与远大抱负。90多年前的那场“五四运动”,让我们铭记的时代精神是 ()
 A.自由 B.爱国 C.平等 D.和平

14.(2014·广东)观察下图,根据图中所示的信息可以归纳得出 ()



北京高师被捕学生回校



曹汝霖等免职令 拒签和约的报道



- A.巴黎和会上外交失败引发五四运动
 B.青年学生是五四运动的主力
 C.五四运动的中心由北京转移到上海
 D.五四运动取得了初步胜利

15.(2014·山东泰安)下图是1921年7月,停泊在嘉兴南湖的一艘游船,它见证了 ()



- A.戊戌变法的失败
 B.中国共产党的成立
 C.抗日战争的胜利
 D.解放战争的胜利

16.中国共产党自诞生之日起,就勇敢地担当起带领中国人民创造幸福、实现民族伟大复兴的历史使命。中国共产党成立后的中心工作是 ()

- A.组织工会,领导工人运动
 B.通过第一个党纲
 C.反抗国民党的反动统治
 D.建立抗日民族统一战线

17.(2015·湖南衡阳)20世纪前期,中国国民党和中国共产党相继成立。在历史上,两党既有合作又有对抗,其中国共第一次合作共同进行了 ()

- A.北伐战争
 B.南昌起义
 C.农村革命根据地的创建
 D.抗日战争

18.(2015·江西)某班同学为一些地方设计“历史名片”宣传语,下列适用于井冈山的是 ()

- A.“辛亥首义,共和号角”
 B.“五四中心,风云新途”
 C.“八一枪响,军旗升起”
 D.“革命摇篮,红军故乡”

19.(2015·山东菏泽)下面的一组图片所反映的历史主题是 ()



南昌起义



井冈山会师



遵义会议

- A.民主共和道路的探索
 B.抗日救亡道路的探索
 C.新民主主义革命道路的探索
 D.社会主义道路的探索
- 20.(2015·湖南娄底)一位美国记者赞叹道:“每一场革命都有它自身的传奇,毛泽东率领数万工农红军所完成的战略转移,就是中国革命史上的伟大传奇。”“伟大传奇”是指 ()
 A.五四运动 B.北伐战争 C.南昌起义 D.红军长征

二、综合题(共60分)

21.(16分)2016年是甲午中日战争爆发122周年。重新反思那段令人痛心的往事,吸取历史教训,正视历史启迪,是一个民族对待历史的正确态度。阅读下列材料,回答问题。

材料一



图1 奋勇冲向敌舰的致远舰



图2 李鸿章与伊藤博文签约场景

材料二 清国之败,非君相一己之罪,盖其墨守常经,不变通所致也。夫取士必考试,考试必由文艺,文艺乃为显荣之阶梯,岂足济实效乎?……前三十载,我日本之国事,遭若何等之辛酸,厥能免于垂危者,度阁下之所深悉也。当此之时,我国实以急去旧制,因时制宜,更张新政,为国可存立之一大要图……

——1895年《大日本海军总司令官伊东佑亨致大清国北洋水师提督丁汝昌书》

(1)依据材料一并结合所学知识思考,图1中致远舰的指挥官是谁?图2中两人签订的条约是什么?(4分)