



◆ 主编/黄步高 刘新民

# 能力评价

NENGLI PINGJIA

小学卷



# 数学

一年级·下册

北师大版

CMS 湖南教育出版社

湘教  
考苑

◆ 主编/黄步高 刘新民

# 能力评价

NEGLI PINGJIA

小学卷



## 数学

一年级·下册

北师大版

CBS 湖南教育出版社

# 编者的话

新

**理念新：**贯彻最新教育教学理念，以最新《课程标准》和教材为依据，将考试内容、命题探索和能力提升融为一体。

**习题新：**选取全国各地最新试题以及名校的精华试题，特别选择具有原创价值的新题，进行合理科学的选取或者改编。

精

**策划精：**试卷设计为活页，便于教学细节的监控和管理，在版式设计上注意合理设计答题空和分值统计，方便学生的作答和老师的快速批改与及时反馈。

**选题精：**单元、月考、期中、分类复习、期末测试题的设置博观而约取，精选试题，保证题型新颖，情境鲜活，梯度合理，充盈着浓浓的时代气息。

全

**类别全：**整体融合单元、月考、期中、分类复习、期末测试卷的科学化设计，倡导自主、合作、探究的学习方式。引领学生挑战自我，达成高分目标，体验成功的快乐。

**检测全：**紧紧抓住各科要求的基础点、重点、难点、疑点、热点，分阶段帮助学生提升综合素质和能力。力求通过实战，增强实效，提高实力。

# 目 录

第一单元测试卷(一) .....	1
第一单元测试卷(二) .....	3
第二单元测试卷(一) .....	5
第二单元测试卷(二) .....	7
月考卷(一) .....	9
第三单元测试卷(一) .....	11
第三单元测试卷(二) .....	13
第四单元测试卷(一) .....	15
第四单元测试卷(二) .....	17
月考卷(二) .....	19
第五单元测试卷(一) .....	21
第五单元测试卷(二) .....	23
月考卷(三) .....	25
第六单元测试卷(一) .....	27
第六单元测试卷(二) .....	29
月考卷(四) .....	31
分类复习卷(一) .....	33
分类复习卷(二) .....	35
分类复习卷(三) .....	37
分类复习卷(四) .....	39
分类复习卷(五) .....	41
期中测试卷(一) .....	43
期中测试卷(二) .....	45
期末测试卷(一) .....	47
期末测试卷(二) .....	49
参考答案 .....	51

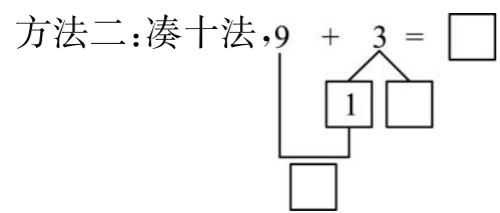
## 第一单元测试卷(一)

测试时间:60分钟 满分:100分

题号	一	二	三	四	五	六	七	总分
得分								

### 一、填一填。(17分)

1. 17是由( )个十和( )个一组成的。
2. 个位上是3,十位上是1,这个数是( )。
3. 想一想,算一算。计算  $9+3$  时,  
 方法一:把9看作( ),计算  $10+3=( )$ ,用( )-1=( )。



4. 计算  $14-6$  时,  
 方法一:破十法,先算  $10-6=( )$ ,再用  $4+( )=( )$ 。  
 方法二:想加算减,想  $6+( )=14$ ,所以,  $14-6=( )$ ,  $14-( )=8$ 。  
 方法三:连减,  $14-4-2=( )$ 。

### 二、水果娃娃捉迷藏。(29分)

1. 想一想, 里应填几?(11分)

$$\begin{array}{ccc}
 9 + \text{apple} = 10 & 7 + \text{apple} = 10 & \text{apple} + 6 = 10 \\
 3 + \text{apple} = 11 & \text{apple} + 8 = 16 & \text{apple} + 9 = 18 \\
 9 + 6 = \text{apple} + 8 = \text{apple} - 1 = 17 - \text{apple} & & \text{apple} + \text{apple} = 14
 \end{array}$$

2. 想一想, 里最大能填几?(4分)

$$\begin{array}{cc}
 \text{peach} + 8 < 11 & 6 + \text{peach} < 12 \\
 9 + \text{peach} < 14 & 7 + \text{peach} < 13
 \end{array}$$

3. 比较大小。(6分)

$$\begin{array}{cc}
 12 - 3 \text{ apple} & 17 - 8 \\
 15 - 7 \text{ apple} & 7 + 8 \\
 12 - 7 \text{ apple} & 14 - 9 \\
 9 + 6 \text{ apple} & 9 - 6 \\
 16 - 7 \text{ apple} & 16 - 6 \\
 12 + 7 \text{ apple} & 12 - 7
 \end{array}$$

4. 想一想,找出规律圈一圈,再画“√”。(4分)



- (1) 第10个是: ( ) ( ) ( ) ( )
- (2) 第16个是: ( ) ( ) ( ) ( )

5. 找规律,填一填。(4分)

$$\begin{array}{ccc}
 6 + \text{apple} = 12 & 8 + \text{apple} = 14 & 10 + \text{apple} = 16 \\
 12 + \text{apple} = ( ) & \text{apple} \text{ 代表数字 } ( ) & \\
 19 - \text{peach} = 11 & 17 - \text{peach} = 9 & 15 - \text{peach} = 7 \\
 13 - \text{peach} = ( ) & \text{peach} \text{ 代表数字 } ( ) &
 \end{array}$$

### 三、选一选。(在正确答案后面的 里画“√”)(8分)

1. 比9大3的数是:  
 $6$         $11$         $12$
2.  $8+6$  比  $8+2$  大:  
 $2$         $4$         $1$

3. 由  $5+8=13$  可以知道  $8+5$  等于:

13                       12                       不知道


4. 1 个十和 8 个一组成的数比 9 大:

1                       10                       9


四、算一算。(26 分)

- |           |           |          |         |
|-----------|-----------|----------|---------|
| $12-5=$   | $8+9=$    | $6+7=$   | $13-0=$ |
| $15-5=$   | $18-9=$   | $8+8=$   | $7+3=$  |
| $16-9=$   | $5+7=$    | $11-3=$  | $19-9=$ |
| $16-7=$   | $12-7=$   | $12+6=$  | $19-6=$ |
| $12-4=$   | $13-7=$   | $5+5=$   | $6+6=$  |
| $9+1+9=$  | $8+2+7=$  | $6+4+9=$ |         |
| $16-6-8=$ | $13-3-6=$ | $7+8-9=$ |         |


五、跳绳的可能有多少人? 画“○”。唱歌的可能有多少人? 画“√”。(2 分)



跑步的有 17 人。




跳绳的比跑步的多一些。



唱歌的人数比跑步的少一些。

8	15	18


六、看图列式计算。(第 3 题 4 分, 其余每题 2 分, 共 8 分)

1. 

? 个

○  =  (个)

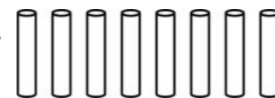
2.



15 只

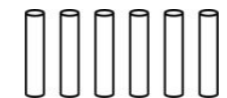
○  =  (只)

3.



○  =  (根)

○  =  (根)





○  =  (根)

○  =  (根)

七、购物。(10 分)

			
9 元	4 元	5 元	8 元

1. 买一个  和一罐 , 共需要多少钱?

○  =  (元)

2. 用 15 元钱, 买一盒 , 还剩下多少元?

○  =  (元)

装订线

## 第一单元测试卷(二)

测试时间:60分钟 满分:100分

题号	一	二	三	四	五	六	七	总分
得分								

### 一、我会填。(30分)

1.  $9 + ( ) = 11$        $( ) + 8 = 13$        $7 + ( ) = 15$   
 $6 + ( ) = 12$        $( ) + 5 = 14$        $8 + ( ) = 16$   
 $9 + ( ) = 10$        $( ) + 6 = 10$        $7 + ( ) = 10$

### 2. 我会算。(7分)

- (1) 计算  $16 - 7$  时,先算  $10 - 7 = ( )$ ,再用  $3 + ( ) = ( )$ 。  
 (2) 计算  $16 - 7$  时,想  $7 + ( ) = 16$ ,所以  $16 - 7 = ( )$ , $16 - ( ) = 7$ 。  
 (3) 计算  $16 - 7$  时,可以连减: $16 - 6 - 1 = ( )$ 。

### 3. 比一比,说一说,算一算。(8分)

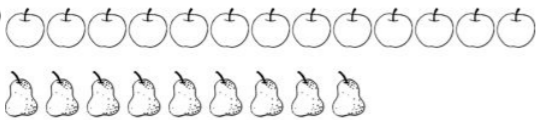
(1)  $\triangle \triangle \triangle \triangle \triangle \triangle \triangle \triangle \triangle \triangle \triangle$   
 $\square \square \square \square \square$



$\triangle$  比  $\square$  多( )个。

$\square \bigcirc \square = \square$  (个)

$\square$  比  $\triangle$  少( )个。

$\square \bigcirc \square = \square$  (个)

(2) 

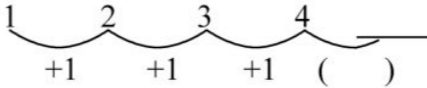
 比  多( )个。

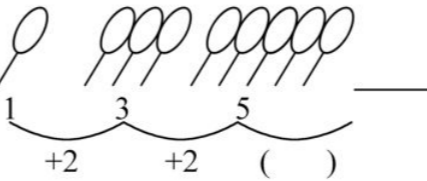
$\square \bigcirc \square = \square$  (个)

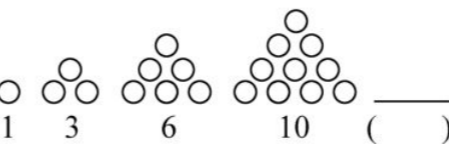
 比  少( )个。

$\square \bigcirc \square = \square$  (个)

### 4. 摆一摆,算一算。(6分)

(1) 

(2) 

(3) 

### 二、连一连。(8分)

$12 - 9$        $14 - 8$        $15 - 6$        $13 - 7$

$9$        $5$        $7$        $6$        $8$        $3$

$11 - 6$        $16 - 9$        $17 - 8$        $14 - 9$

### 三、比较大小。(9分)

- $6 + 7 \bigcirc 7 + 6$        $11 - 7 \bigcirc 11 - 8$        $16 - 9 \bigcirc 13 - 9$   
 $7 + 6 \bigcirc 16 - 5$        $7 + 5 \bigcirc 4 + 8$        $13 - 8 \bigcirc 13 - 9$   
 $6 + 6 \bigcirc 7 + 7$        $5 + 9 \bigcirc 5 + 8$        $14 + 3 \bigcirc 14 - 3$

### 四、我是神算手。(22分)

- $8 + 3 =$        $12 - 7 =$        $9 + 4 =$        $15 - 8 =$   
 $14 - 9 =$        $10 + 4 =$        $15 - 7 =$        $7 + 4 =$   
 $9 + 6 =$        $12 - 6 =$        $6 + 5 =$        $12 - 8 =$   
 $12 - 2 =$        $9 + 6 =$        $15 - 9 =$        $7 + 7 =$   
 $9 + 8 - 8 =$        $16 - 9 + 6 =$        $6 + 5 - 8 =$   
 $11 + 8 - 7 =$        $14 - 7 + 6 =$        $9 + 5 - 8 =$

五、用 16, 7, 9 这三个数, 写两道加法和两道减法算式。(4 分)

$$\square \circ \square = \square$$

$$\square \circ \square = \square$$

$$\square \circ \square = \square$$

$$\square \circ \square = \square$$

六、看图列式计算。(6 分)

1.



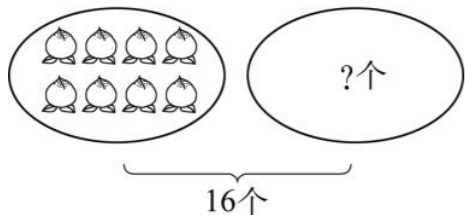
$$\square \circ \square = \square \text{ (个)}$$

$$\square \circ \square = \square \text{ (个)}$$

$$\square \circ \square = \square \text{ (个)}$$


$$\square \circ \square = \square \text{ (个)}$$

2.



$$\square \circ \square = \square \text{ (个)}$$

3.



放飞 8 个  $\bigcirc$ , 还剩下几个  $\bigcirc$ ?

$$\square \circ \square = \square \text{ (个)}$$

七、解决问题。(21 分)

1. 原来有 13 个 , 吃掉 7 个, 现在还有多少个? (2 分)

$$\square \circ \square = \square \text{ (个)}$$

2. 小红和小花一共做了 12 个 。小红做了 5 个, 其余的是小花做的。小花做了多少个? (2 分)

$$\square \circ \square = \square \text{ (个)}$$

3. 将表格填写完整。(8 分)

	男生(人)	女生(人)	全组(人)
象棋小组	7	5	( )
书法小组	( )	6	14
音乐小组	9	( )	13
科技小组	( )	6	15

4. 树上还有几只猴? (2 分)



5. 投飞镖。(7 分)



(1) 小丽第一次投中 8 分, 第二次投中 9 分, 两次一共投中多少分? (2 分)

(2) 小军投两次, 最多能投多少分? (2 分)

(3) 每人投两次, 小军是第一名, 投了 20 分, 小丽如(1)中所述, 小红是第二名, 第一次投中 9 分, 第二次她可能投中多少分? (3 分)

装订线


## 第二单元测试卷(一)

测试时间:60分钟 满分:100分

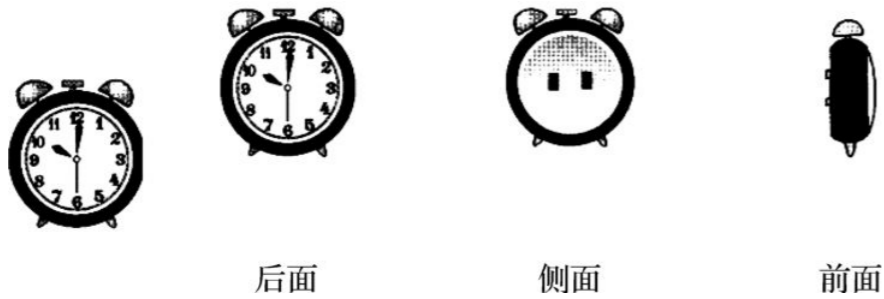
题号	一	二	三	四	总分
得分					

### 一、连一连。(44分)


1. 老鼠、蝴蝶、小鸟各能看到猪的哪个部位? 请用线连一连。




2. 小芳从不同位置给心爱的小闹钟拍了三张照片,请你帮她连一连。



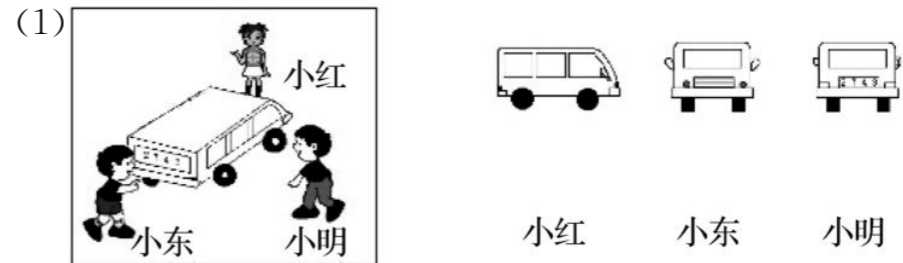
3. 下面各图分别是谁看到的? 连一连。




4. 下面的图分别是谁看到的? 连一连。



5. 请你连一连,下面各图分别是谁看到的?

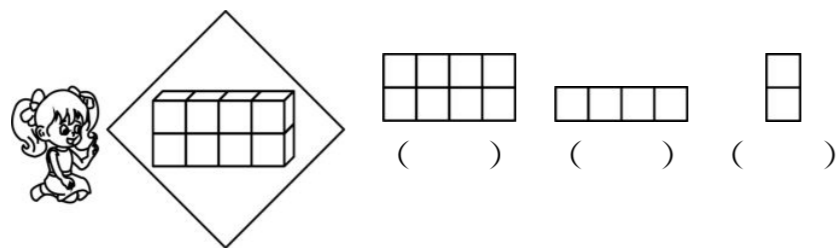


6. 下面的照片分别是谁拍的? 连一连。

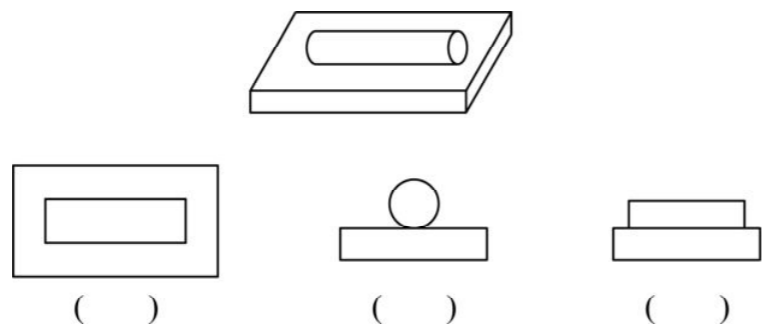


二、小小摄影师。(18分)

1. 下面这些照片是小华分别从什么方向拍摄到的?



2. 下面的照片分别是哪个方向拍摄到的? 填一填。




3. 下面这些照片分别是哪个方向拍摄到的?



三、填一填。(16分)

1. 在括号里填上“前”“侧”或“上”。



2. 观察 是从( )看到的。

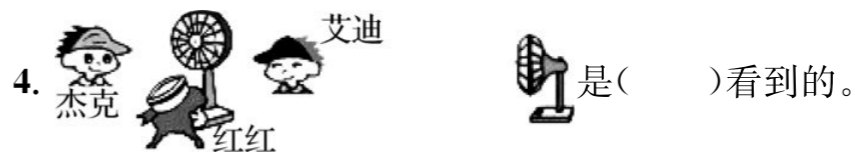
3. 下面的图形分别是哪个面看到的?



(1)从( )面看到


(2)从( )面看到

(3)从( )面看到

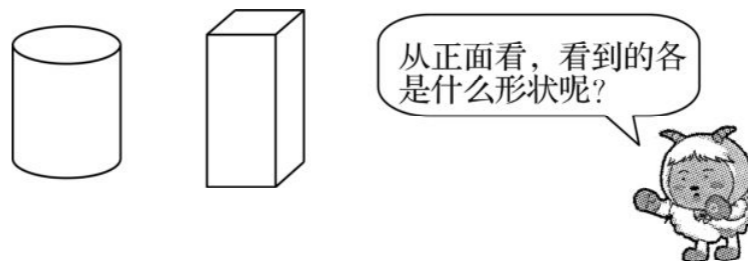


四、挑战高难度。(22分)

1. 他们各看到了什么? 连一连。



2. 画一画。



装订线

## 第二单元测试卷(二)


测试时间:60分钟 满分:100分

题号	一	二	三	四	总分
得分					

### 一、连一连。他们各看到了什么?(36分)



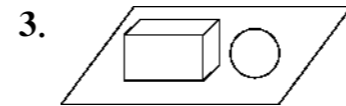
小华 小杰 小亮 小明



### 二、填一填。(15分)

1. 一次最多能看见长方体的( )个面。

2. 从( )面看到的图形是 。

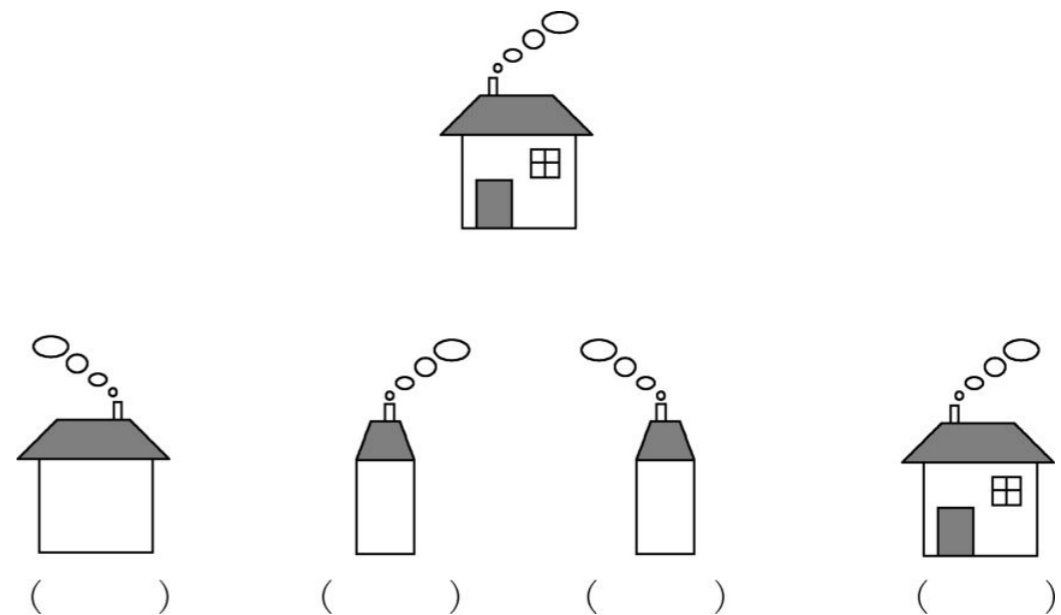


从( )面看到的图形是 ; 从( )面看到的图形是 ; 从

( )面看到的图形是 。

### 三、选一选。(37分)

1. 请分别在括号里注明下面四张照片是从房子的哪一面拍的。(16分)



2. 下面是小红给一个物体从不同方向拍的照片,它们分别是 从什么方向拍的? (2分)



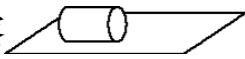
( )

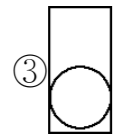
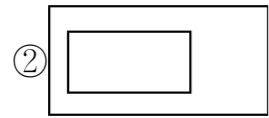



( )

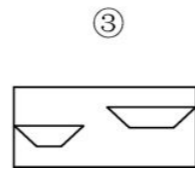
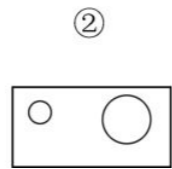
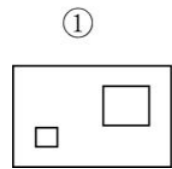
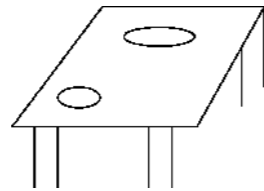


( )

3. 从上面观察  所看到的图形是( )。(4分)



4. 桌上放了一大一小两只盘子,如果从饭桌的上方往下看,看到的形状是哪幅图? (5分)




四、请你连一连,下面分别是谁看到的? (12分)

1.



小红      小东      小明

2.



装  
订  
线

## 月考卷(一)

测试时间:60分钟 满分:100分

题号	一	二	三	四	五	六	总分
得分							

### 一、直接写出得数。(16分)

$12-6=$	$13-7=$	$14-5=$	$11-7=$
$13-6=$	$18-7=$	$14-8=$	$11-2=$
$12-3=$	$14-5=$	$16-7=$	$15-8=$
$16-9=$	$13-9=$	$17-8=$	$13-4=$

### 二、填一填。(40分)

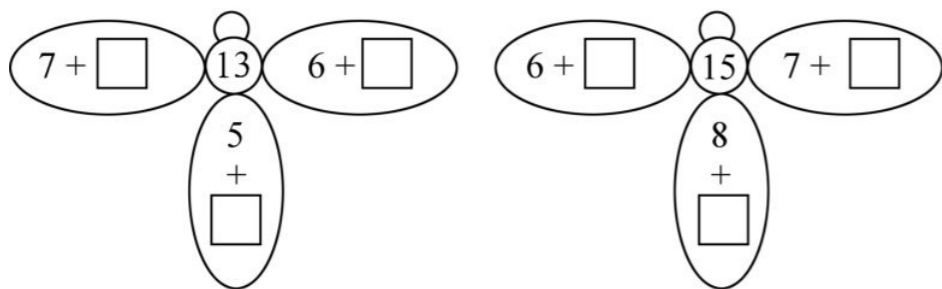
#### 1. 按要求填数。

- (1) 9比14少( )。
- (2) 16比8多( )。
- (3) 8再加上( )是13。
- (4) 15减去( )是9。

#### 2. 在○里填上“+”或“-”。

$5 \bigcirc 8 = 13$	$9 \bigcirc 4 = 13$	$11 \bigcirc 3 = 8$	$12 \bigcirc 5 = 7$
$6 \bigcirc 6 = 12$	$13 \bigcirc 8 = 5$	$8 = 17 \bigcirc 9$	$6 = 12 \bigcirc 6$

#### 3. 我会填。



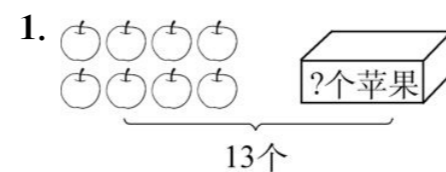
#### 4. 在○里填上“>”“<”或“=”。

$12-8 \bigcirc 7$	$13-9 \bigcirc 6$	$14-9 \bigcirc 6$
$15-9 \bigcirc 7$	$14-8 \bigcirc 3+2$	$2+6 \bigcirc 10-9$
$4+5 \bigcirc 12-6$	$2+9 \bigcirc 14-8$	$13-7 \bigcirc 12-2$
$14-8 \bigcirc 12-7$	$3+7 \bigcirc 12-9$	$15-7 \bigcirc 6+4$

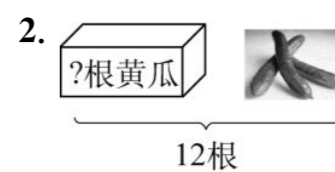
#### 5. 里该填几?

+ 6 = 15	+ 6 = 11
$15 - 4 =$	$17 - 5 =$
$15 - 6 =$	$17 - 7 =$
- 8 = 8	+ 8 = 18
$16 - 6 = 18 -$	$13 - 7 = 11 -$

### 三、看图列式计算。(12分)



$\square \bigcirc \square = \square$  (个)



$\square \bigcirc \square = \square$  (根)

#### 3. 看图写两道加法算式和两道减法算式。



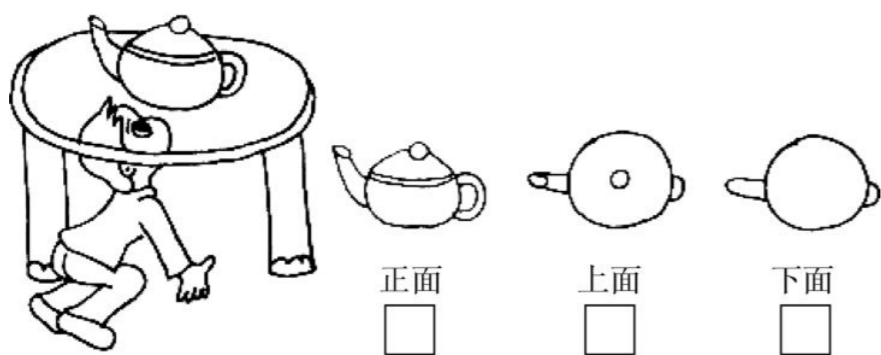
$\square \bigcirc \square = \square$ (只)	$\square \bigcirc \square = \square$ (只)
$\square \bigcirc \square = \square$ (只)	$\square \bigcirc \square = \square$ (只)

四、选一选,填一填。(4分)

1. 手机的哪一面是小亮看到的? 在( )里画“√”。



2. 小淘气看到的是茶壶的哪一面? 在□内画“√”。



2. 12 只小动物在水中嬉戏,上岸了 6 只,水里还有几只?

3. 小娟有 14 张喜羊羊贴画,送给小丽 3 张后,两人的贴画同样多。小丽原来有几张贴画?

五、把下面的表格填写完整。(8分)

原有	14 支	12 把	( )辆	13 件
卖出	9 支	( )把	9 辆	( )件
还有	( )支	5 把	8 辆	7 件

4. 15 只小羊排队做操,懒羊羊从前数是第 7 个,从后数懒羊羊排第几呢?

六、解决问题。(每题 5 分,共 20 分)

1. 有 9 名同学乘坐客车去看望山区的“心连心”结对帮扶的小伙伴。这辆客车还能坐几人?



装订线

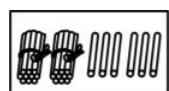
### 第三单元测试卷(一)

测试时间:60分钟 满分:100分

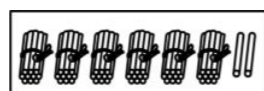
题号	一	二	三	四	五	总分
得分						

#### 一、我会填。(22分)

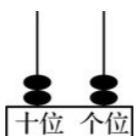
##### 1. 看图写数。



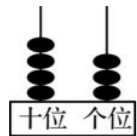
( )



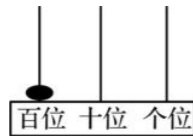
( )



( )



( )



( )

##### 2. 读数和写数都从( )起。

3. 27 的十位上是( ), 个位上是( )。

4. 5 个一和 9 个十组成的数是( ); 92 里有( )个十和( )个一。

5. 与 29 相邻的两个数是( )和( )。

6. 10 个一是( ), 10 个十是( )。

7. 33 的个位上是( ), 表示( )个( ); 十位上是( ), 表示( )个( )。

8. 一个两位数, 个位上的数是 4, 十位上的数比个位上的数多 3, 这个数是( )。

#### 二、我是小法官, 对错我来判。(8分)

1. 从右边数第一位是个位。 ( )

2. 按照从小到大一个一个地数, 76 后面的数是 75。 ( )

3. 5 个十和 3 个一组成的数与 3 个十和 5 个一组成的数一样大。 ( )

4. 读数和写数都从高位起。 ( )

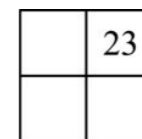
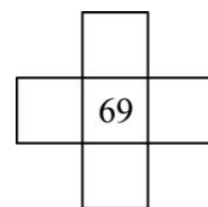
#### 三、有规律地数数和写数。(25分)

##### 1. 有规律地数数。(4分)

90		88	87	86	
----	--	----	----	----	--

26	28		32	34	
----	----	--	----	----	--

##### 2. 在百数表中, 下面数的上下左右邻居是谁?(7分)



3. 59 前面的一个数是( ), 后面的一个数是( ); 99 在( )和( )的中间。(4分)

##### 4. 按要求写数。(10分)

写出个位上是6的一位数和所有两位数

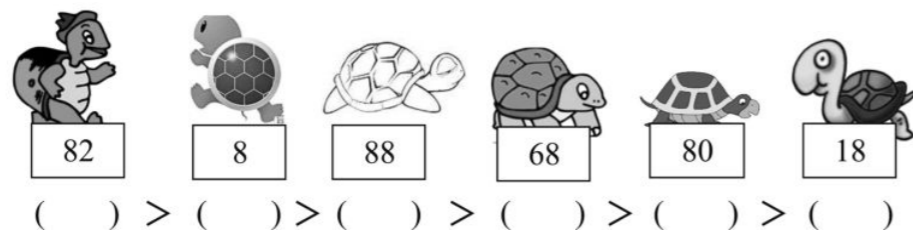
写出十位上是6的所有两位数

#### 四、比较大小。(20分)

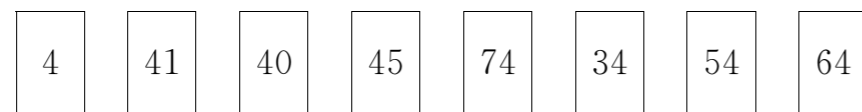
##### 1. 谁的年龄大, 比较大小。(4分)



2. 排排队。(6分)

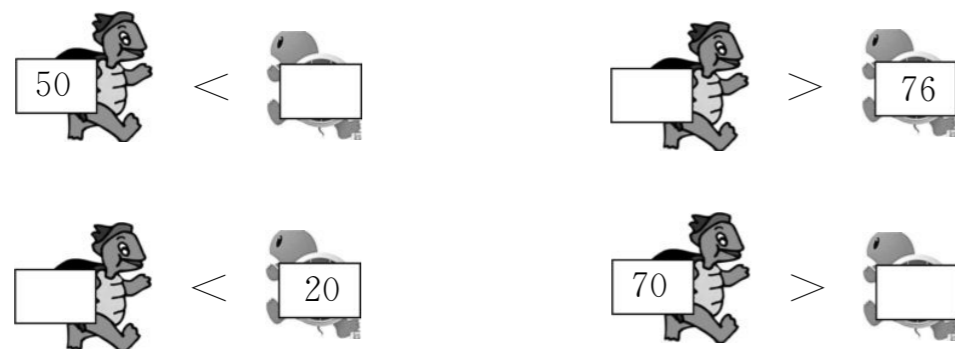


3. 按要求排队。(6分)



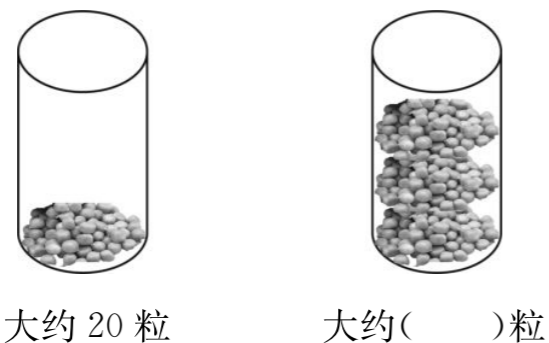
- (1) 大于 50 的数: \_\_\_\_\_
- (2) 小于 50 的数: \_\_\_\_\_
- (3) 大于 40 小于 50 的数: \_\_\_\_\_

4. 猜猜我的年龄。(4分)



五、我会估计。(25分)

1. 估计一下,有多少粒青豆。



2. 男生有多少人? 在你认为对的答案下面画“√”。



24 人	28 人	32 人

3. 同学们去果园摘桃子,第一小组摘了 36 个桃子,第二小组摘的比第一小组多得多,第三小组比第二小组多一些,第三小组摘了 88 个,你估计第二小组可能摘了多少个?

在你认为对的答案下面画“√”。

41 个	50 个	91 个	83 个

4. 小白、小红、小冬一同做花,小白做 30 朵,小白比小红多一些,小冬比小红多,又比小白少,小红和小冬可能做了多少朵花?

在你认为对的答案下面画“√”。

小红			小冬		
24 朵	30 朵	36 朵	22 朵	32 朵	27 朵

装订线

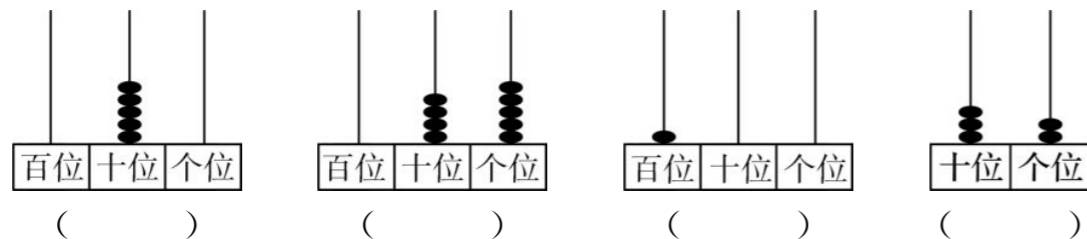
### 第三单元测试卷(二)

测试时间:60分钟 满分:100分

题号	一	二	三	四	五	六	七	八	总分
得分									

#### 一、我会填。(37分)

##### 1. 我会填。




- 29 前面的一个数是( ),后面的一个数是( )。
- 5 个十是( ),( )个十是 100。
- 六十二写作( ),26 读作( ),100 读作( )。
- 写出个位上是 5 的两位数:( ),( );写出十位上是 3 的两位数:( ),( )。
- 八十九写作( ),比它大 10 的数是( ),比它小 10 的数是( )。
- ( )个十和( )个一是 73;( )个一是十。
- 46 中的“6”在( )位上,表示( )个( );“4”在( )位上,表示( )个( )。
- 57 里,“5”在( )位上,表示 5 个( ),“7”在( )位上,表示 7 个( )。
- 88 左边的“8”在( )位,表示( )个( ),右边的“8”在( )

位,表示( )个( )。

#### 二、比谁先到家。(10分)

#### 三、看图,在正确的说法后面画“√”。(5分)



1. 苹果比蘑菇少得多。 ( )
2. 花比苹果少一些。 ( )
3. 苹果比花少得多。 ( )

#### 四、比较大小。(14分)

##### 1. 在○里填上“>”“<”或“=”。(6分)