


# 数学3 启蒙游戏



[德] 好奇狗数学启蒙游戏团队 著



畅销欧洲  
30年



图字：11—2015—259 号

图书在版编目(CIP)数据

数学启蒙游戏. 3/好奇狗数学启蒙游戏团队著;尤岚译.—杭州:浙江少年儿童出版社,2017.1

(好奇狗陪你学)

ISBN 978-7-5342-9614-7

I. ①数… II. ①好…②尤… III. ①数学课-学前教育-教学参考资料 IV. ①G613.4

中国版本图书馆 CIP 数据核字(2016)第 275419 号

Title of the original German edition: Logli Lernspiele-Rechen-  
Rätsel für das 2. Schuljahr-Heft 2 © 2000 Loewe Verlag Gm-  
bH, Bindlach

责任编辑 刘迎曦

装帧设计 傅行鸣

美术编辑 成慕姣

责任校对 冯季庆

责任印制 阙云

好奇狗陪你学

数学启蒙游戏 3

SHUXUE QIMENG YOUXI 3

好奇狗数学启蒙游戏团队/著 尤岚/译

---

出版 浙江少年儿童出版社  
发行  
地址 杭州市天目山路 40 号  
印刷 浙江新华印刷技术有限公司  
经销 全国各地新华书店  
开本 787×1092 1/16  
印张 2  
彩插 1  
印数 1—10120  
版次 2017 年 1 月第 1 版  
印次 2017 年 1 月第 1 次印刷

---

本书书号:ISBN 978-7-5342-9614-7

本册定价:12.00 元

盒装书号:ISBN 978-7-5342-9611-6

盒装定价:156.00 元(全套 13 册)

(如有印装质量问题,影响阅读,请与购买书店或承印厂联系调换)

## 目录

归类	2
从1到9的数	3
数9以内的数	4
9以内的加法	5
区分图形	6
找工具	7
找队友	8
谁更高	9
比较数量	10
补充算式	11
做减法	12
找不同	13
10以内的加法	14
10以内的减法	15
20以内的数	16
认识货币	17
逆推练习	18
彩色游戏	19
增加一倍	20
20以内的加法	21
20以内的减法	22
平均分	23
3个数的计算	24
猜谜游戏	25
综合计算	26
工具习题	27
大于、小于和等于	28
20以内的加减	29
100以内的两位数	30
走迷宫	31
答案	32

## 亲爱的爸爸妈妈们：

数学是很多小朋友喜欢的科目，和好奇狗一起学习数学会带给您的孩子更多乐趣！

好奇狗数学启蒙游戏系列图书将数学和好玩的游戏相结合，帮助您的孩子尽快地步入奇妙的数学世界。本系列图书的内容相互独立，但都能为孩子提供丰富的内容和富有想象力的游戏，在游戏中激发他们对数字的敏感，锻炼他们的逻辑思维能力，提升他们的学习兴趣，让孩子尽情享受学习过程中的快乐。

好奇狗是孩子们的伙伴和好帮手，在书中他的提示会很好地指引孩子们独立完成学习任务。当然，如果您的孩子在学习中遇到困难，您可以和孩子一起解决问题，给他一些帮助，让他能够持续地取得进步，这样才能培养出孩子的自信心。

现在就开始吧！



## 好奇狗数学启蒙游戏团队



### 【德】罗兰德·福尔克 (Roland Volk)

他是一位全身心投入到教育事业中的小学教师。在他看来，孩子们对学习的兴趣以及在学习中的乐趣至关重要。为此，他为本书设计出了许多有趣的练习题。

### 【德】安吉拉·魏因霍尔德 (Angela Weinhold)

她是一名优秀的插画家。除了为少儿图书绘制插图外，她还为学校的教材设计了大量插图，这些插图能让孩子们的学习变得轻松和简单。



小朋友：

能见到你真是太好了！

我们一起去画画和解题，好不好？

但是，首先你要准备好一些彩色笔。

我们可以开始了吗？

当你出色地完成任務后，别忘了给自己奖励“好奇狗”贴纸哦！

祝你玩得愉快！

你的好奇狗



好奇狗的画笔藏在这本书里7个不同的地方，你能找到它们吗？

本书属于：



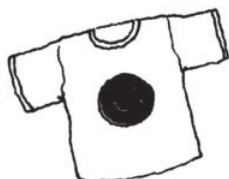


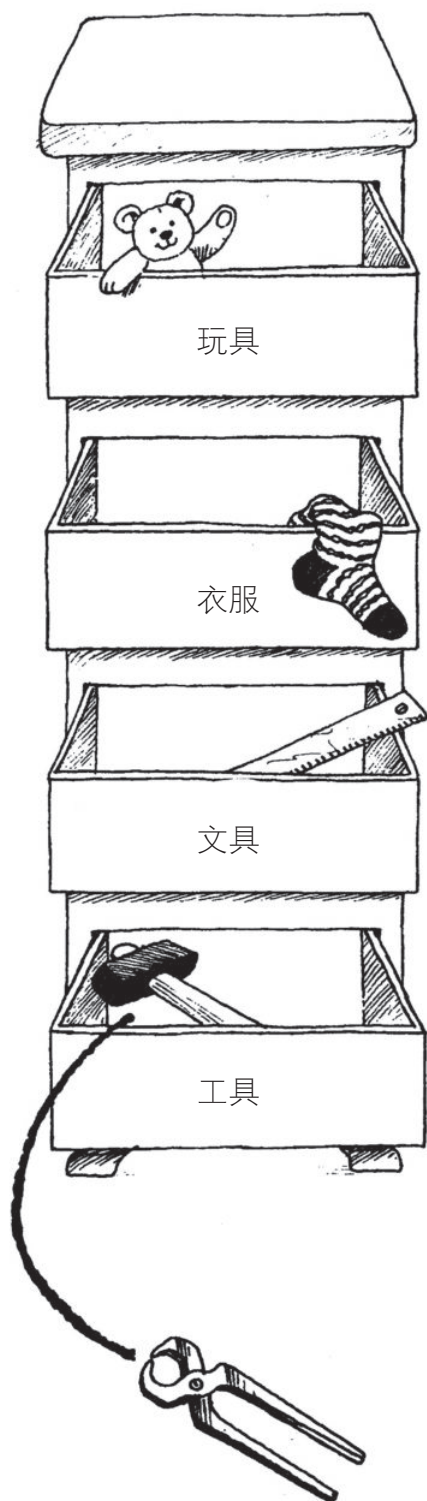
名字：.....

年龄：.....

班级：.....

老师：.....

下面的东西应该放在什么地方？请把它们和对应的抽屉用线连起来。






你能在好奇狗的黑板上找到从1到9这些数吗？请把它们涂上颜色吧！

请在这里把它们按顺序写出来。

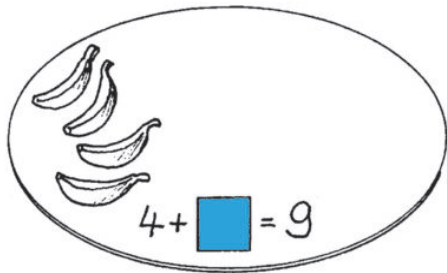
1									
---	--	--	--	--	--	--	--	--	--

下图中每块浮冰上分别有几只企鹅？请在牌子上写出正确的数量。

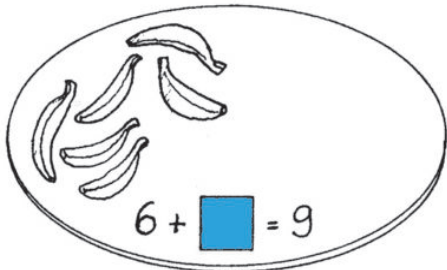




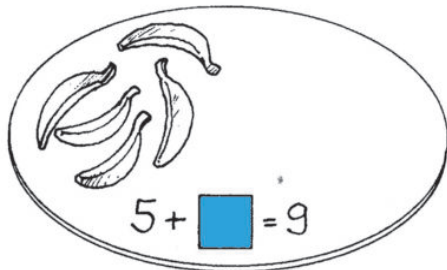
好奇狗正在给猴子喂食，每只猴子应该得到9只香蕉。请你在每个碟子里画上缺少的香蕉，使每个碟子里香蕉的总数为9，并把算式填写完整。



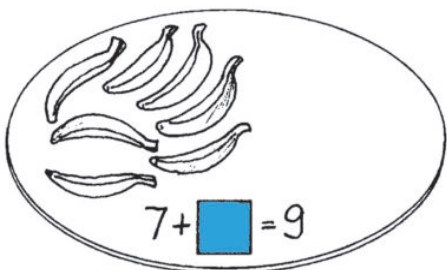
$4 + \square = 9$



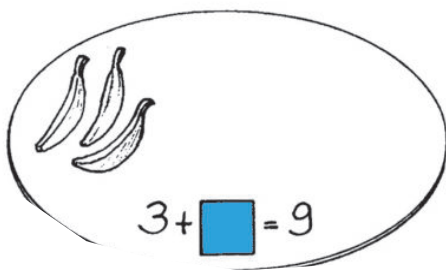
$6 + \square = 9$



$5 + \square = 9$




$7 + \square = 9$




$3 + \square = 9$

猴子手里的数就是碟子里缺少的香蕉数，在猴子和它对应的碟子之间连线。



下面的画缺少颜色，你可以按好奇狗的愿望为这些图画涂上颜色。

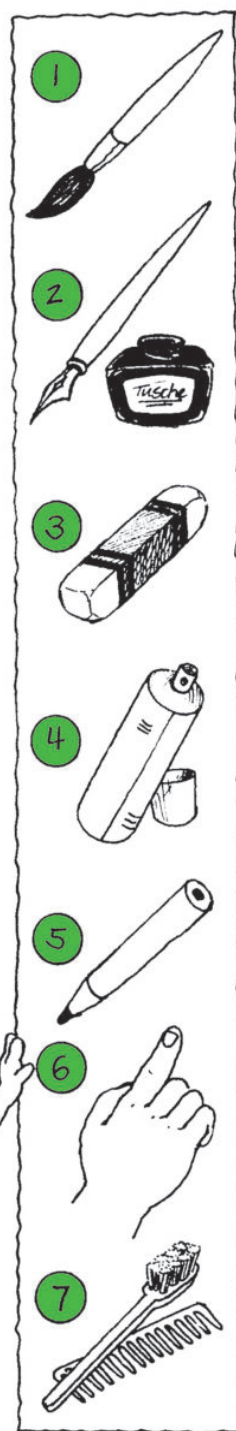




所有的圆涂上黄色。  
所有的三角形涂上蓝色。  
所有的四边形涂上绿色。





好奇狗用什么东西画画？根据图画上的笔迹找到相应的绘画工具。你可以根据与编号相对应的拼音字母，猜出好奇狗要把他的画挂在哪里。

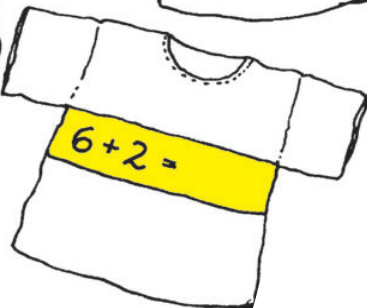

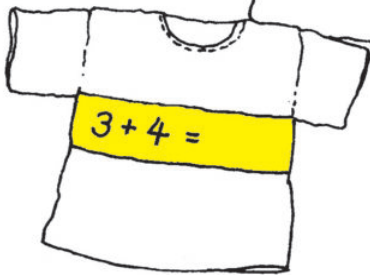
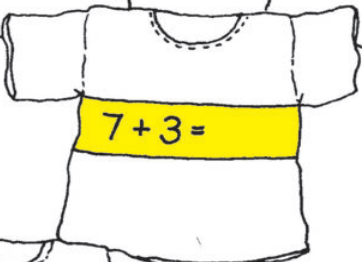





1	2	3	4	5	6	7

每3个小朋友可以组成一支队伍。请把衣服上的算式做出来，把结果相同的小朋友组成一队。



把运算结果相同的衣服涂上同一种颜色。





小朋友们正在比身高，两个人当中谁更高呢？在高个子小朋友的身上涂上颜色。根据身高提示把字母按顺序排列起来，你就能知道班里个子最高的小朋友叫什么名字了。

1

2

3

4

5

6

7

8

9

1	2	3	4	5	6	7	8	9

哪只鸡下的蛋最多？按照下蛋数量由多到少给它们排序。按顺序把它们的名字写到表格里，由上到下把这些名字开头的第一个字母合在一起拼出来，你就知道好奇狗喜欢吃的是什么菜了。

The scene shows a dog standing next to a table with a grid. The grid has 8 rows and 2 columns. The first row has 'Oscar' in the first column and is empty in the second. The other rows are empty. The dog is holding a basket and has a red ladder leaning against the fence.

	名字	数目
1		
2		
3		
4		
5		
6		
7		
8	Oscar	



母鸡们又下了很多蛋。数一数，每个窝里多出了几个蛋呢？请根据新蛋的数量把算式补充完整。

Oscar (奥斯卡)

Amy (艾米)

Anne (安妮)

Gary (加里)

Jenny (珍妮)

Diana (戴安娜)




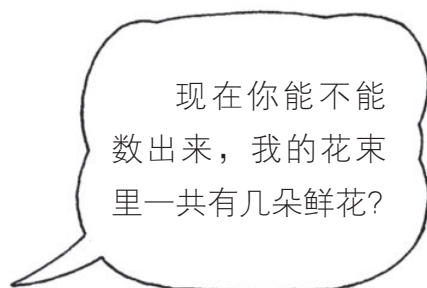
Ira (艾勒)

Nina (妮娜)

与第10页鸡蛋的数量做比较。



Oscar	$0 + \underline{\quad} = 10$
Anne	$1 + \underline{\quad} = 10$
Gary	$2 + \underline{\quad} = 10$
Nina	$3 + \underline{\quad} = 10$
Amy	$4 + \underline{\quad} = 10$
Diana	$5 + \underline{\quad} = 10$
Ira	$6 + \underline{\quad} = 10$
Jenny	$7 + \underline{\quad} = 10$

好奇狗从下面的花桶里分别拿走了一些鲜花来扎花束。请你算一算，每桶还剩几朵鲜花？划掉桶里被好奇狗拿走的鲜花，并把计算结果写在花桶上。





你看到的两束鲜花有6处不同。请在下面的花束里圈出不一样的地方，然后为鲜花涂上漂亮的颜色。





在小朋友和风筝之间连线。

这些风筝分别是哪个小朋友放的？选择风筝上的两个数，使它们加起来的和等于风筝中间的数。再比较上面一组大风筝和下面一组小风筝之间的图案，这样你就能知道风筝分别是谁放的了。

