

目 录

第一章测试卷 A 卷	1	第四章测试卷 B 卷	41
第一章测试卷 B 卷	5	月考测评卷二	45
第二章测试卷 A 卷	9	第五章测试卷 A 卷	49
第二章测试卷 B 卷	13	第五章测试卷 B 卷	53
月考测评卷一	17	专项训练一 地球及其运动	57
第三章测试卷 A 卷	21	专项训练二 地图	61
第三章测试卷 B 卷	25	期末基础测评卷	65
期中基础测评卷	29	期末综合测评卷	69
期中综合测评卷	33	参考答案	73
第四章测试卷 A 卷	37		

图书在版编目 (CIP) 数据

湘教考苑·单元测试卷·地理·七年级·上册:湘教版/《湘教考苑》编写组编.—长沙:湖南教育出版社,2016.6

ISBN 978-7-5539-3773-1

I. ①湘… II. ①湘… III. ①中学地理课—初中—习题集

IV. ① G634

中国版本图书馆 CIP 数据核字 (2016) 第 012750 号

湘教考苑·单元测试卷·地理·七年级上册 (湘教版)

本书编写组 编

责任编辑:徐夏楠

出版发行:湖南教育出版社(长沙市韶山北路 443 号)

网 址: <http://www.hnepu.com>

电子邮箱: hjyeds@sina.com

微信服务号:多点学习

客 服:电话 0731-85486979

经 销:湖南省新华书店

印刷装订:湖南天闻新华印务邵阳有限公司

开 本:787×1092 16 开

印 张:5

字 数:142000

版 次:2016 年 6 月第 1 版第 1 次印刷

书 号:ISBN 978-7-5539-3773-1

定 价:11.00 元

本书如有印刷、装订错误,可向承印厂调换

ISBN 978-7-5539-3773-1



9 787553 937731 >

湘教考苑

单元测试卷

D A N Y U A N C E S H I J U A N

本书编写组 编



地理

七年级上册
(湘教版)

湖南教育出版社


第一章测试卷 A 卷

地理 七年级上册(湘教版)


时间:60分钟 满分:100分

题号	一	二	总分
得分			


一、选择题(每小题2分,共40分)

- 1.(2016·山东淄博校级模拟)日常生活与地理环境关系密切,下列环境与当地的环境不相符的是 ()
- A.阿拉伯人穿白色长袍,戴头巾
B.荷兰大力发展风力发电
C.因纽特人住在冰屋里
D.华北平原推广竹楼式民居
- 2.请从以下活动中找出与地理知识的关系不是很密切的活动 ()
- A.外出旅游
B.观看天象、星座
C.修路、架桥
D.去医院体检
- 3.(2015·四川自贡)下面四幅图中,按比例尺由大到小的顺序排列,正确的是 ()
- 


①



②

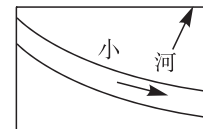


③



④
- A.①④②③
B.①②③④
C.④③②①
D.②④①③
- 4.下列各地种植农作物的安排中,能反映农业生产因地制宜原则的是 ()
- A.棉花——在海拔3 000米以上的高原山地地区
B.小麦——我国的华北平原
C.水稻——气候干旱的地区
D.玉米——北冰洋沿岸的广阔地区
- 5.晴朗的夜晚,可以确定正北方向的星星是 ()
- A.木星
B.月亮
C.北极星
D.火星
- 6.(2016·湖北咸宁)在图幅相同的情况下,下列比例尺中,表示实地范围最大,内容最简略的是 ()
- A.1 : 500 000
B.1 : 150 000
C.1 : 200 000
D.1 : 350 000

- 7.(2015·黑龙江齐齐哈尔)比例尺为1 : 1 000 000的地图上,图上距离为3.5厘米,该地的实地距离为 ()
- A.350千米
B.35千米
C.3 500千米
D.3 500 000千米
- 8.(2016·江苏泰兴市期中)2016年4月16日0时25分(北京时间),日本发生7.1级地震。小明想知道日本在哪里,他应查阅 ()
- A.世界政区图
B.世界地形图
C.亚洲气候图
D.南美洲地形图
- 9.在一张长30厘米、宽20厘米的纸上画一幅中学校园平面图,比较合适的比例尺是 ()
- A.1 : 100
B.1 : 1 000
C.1 : 10 000
D.1 : 100 000
- 10.(2015·江苏徐州模拟)读图并判断,小河的流向大致是 ()

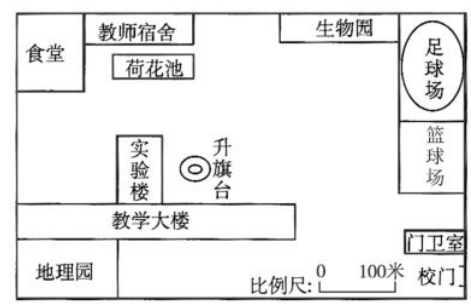


- A.自西北向东南
B.自东向西
C.自东南向西北
D.自西向东
- 11.(2015·湖南模拟)下列图例是小明从“北京城市图”上描画下来的,可能描画错误的是 ()
- A.常年河、湖
B.铁路
C.省、自治区、直辖市界
D.水库
- 12.(2015·广东揭阳)某地图的比例尺为1 : 10 000 000,在图上量得两地间的距离是20厘米,则两地之间的实地距离是 ()
- A.2千米
B.20千米
C.200千米
D.2 000千米
- 13.(2016春·安徽巢湖市校级期中)绘制图幅相同的中国和南阳市地图,下列说法正确的是 ()
- A.中国地图用大比例尺
B.南阳市图用小比例尺
C.南阳市图用大比例尺
D.中国地图表示的范围要小
- 14.下列关于在图上识别方向的叙述,错误的是 ()
- A.一般地图,通常是面对地图,“上北下南、左西右东”
B.有指向标的地图,指向标的箭头一般指向北方
C.在判断方向前要先看清地图的种类
D.“上北下南,左西右东”适合于所有地图
- 15.卫星影像地图可以及时、准确地反映地面物体和现象的发展情况,下列不需要用卫星影像的是 ()
- A.玉米长势情况
B.山脊的延伸方向
C.旅游路线的选择
D.台风前进的路线
- 16.下列地理事物中,属于自然地理内容的是 ()
- A.城市
B.人口
C.气候
D.工业

17. (2015·云南曲靖)图幅相同的曲靖市地图和云南省地图相比 ()
- A. 两幅地图比例尺一样大
B. 曲靖市地图范围小, 但比例尺大
C. 云南省地图范围大, 比例尺也大
D. 曲靖市地图比例尺比云南省地图小
18. 与土地无直接关系的生产建设活动是 ()
- A. 种植庄稼
B. 植树造林
C. 放牧牛羊
D. 服装加工
19. 下列各比例尺中, 用文字式表示的是 ()
- A. 1:10 000 000
B. 图上 1 厘米代表实地距离 10 千米
C. 一百万分之一
D. $\frac{0}{60}$ 千米
20. (2015·湖南株洲)若地图的图幅相同, 则下列比例尺中能让地图的内容最详细的是 ()
- A. 1:30 000 000
B. 图上 1 厘米代表实地距离 30 千米
C. $\frac{1}{30 000}$
D. $\frac{0}{30}$ 米

二、综合题(共 60 分)

21. 读图, 回答下列问题。(每空 2 分, 共 12 分)



- (1) 地理园在生物园的_____方向, 校门在地理园的_____方向。
- (2) 学校平面图的比例尺, 如果改成数字式, 应该是:_____。
- (3) 在学校的南面, 有一条与学校平行的公路, 则公路的走向是_____走向。
- (4) 如果刮东北风, 那么旗杆上的红旗飘向_____方。
- (5) 假如测得从升旗台到荷花池的图上距离为 1.6 厘米, 则从升旗台到荷花池的实地距离为_____米。

22. 阅读材料, 回答下列问题。(12 分)

小刚和小亮来长白山地区参加夏令营活动, 不小心与营队走失, 又迷失了方向。他们想起了小学科学课上学习过的定向法:

- ① 太阳定向——根据太阳东升西落确定方向。
- ② 指南针定向——将指南针平放, 磁针总是指向南北方向。
- ③ 北极星定向——在晴朗的夜空找到北极星, 面对北极星的方向就是北方。
- ④ 太阳和手表定向——把手表平放, 让时针对准太阳, 时针和表盘上 12 点之间的夹角的平分线所指的方向, 大致就是南方。

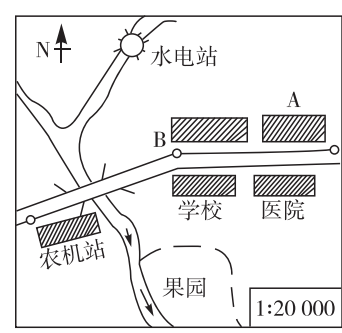
只可惜此时是白天, 又阴天, 4 种定向法均用不上, 着实急坏了小刚和小亮。请你为他们想想办法, 用快速简易的定向法, 帮助两位同学走出大山。(至少写出两种办法)

23. 根据所学知识, 自己动手画一幅你所在学校的平面图(比例尺、图例自定)。(18 分)

比例尺: _____

图例: _____

24. 读图, 回答下列问题。(每空 2 分, 共 18 分)



- (1) 图中小河的流向大致为: 自_____向_____流。
- (2) 一辆汽车从学校驶向农机站, 其行驶方向应是: 从_____向_____。
- (3) 水电站位于农机站的_____方向。
- (4) 如果将图中的指向标向右旋转 45°, 那么, 面对此图, 其上、下、左、右的方向分别应为: _____、_____、_____、_____。

①考生要写清校名、姓名和班级(或准考证号)
②不读题、不答题、监考人不解答问题
③用钢笔或签字笔答题,字迹要清楚,卷面要整洁

县(区) 乡 年级 班级
学校 姓名

第一章测试卷 B 卷

地理 七年级上册(湘教版)

时间:60分钟 满分:100分

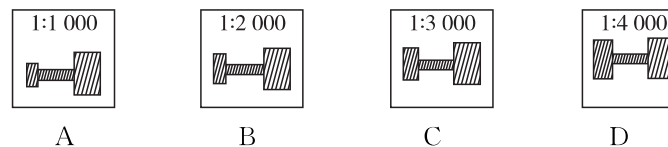
题号	一	二	总分
得分			

一、选择题(每小题2分,共40分)

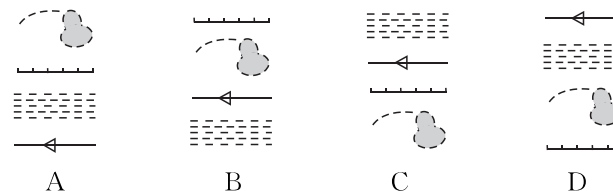
“曹州(菏泽古称曹州)牡丹甲天下”。家住北京的玲玲利用周末乘火车去菏泽看牡丹,并顺利返回。在整个过程中,玲玲使用了四幅地图:①中国地形图;②中国铁路分布图;③菏泽市交通图;④曹州牡丹园导游图。据此回答1~2题。

- 对玲玲这次出行没有明显帮助的地图是 ()
A.① B.② C.③ D.④
- 如果上述四幅地图的图幅大小一样,其中比例尺最大的是 ()
A.① B.② C.③ D.④
- 在一般的地图上辨别方向,通常是面对地图 ()
A.上西下东,左北右南 B.上北下南,左西右东
C.上南下北,左东右南 D.上南下北,左西右东
- (2016·广东潮州校级模拟)在1:30 000 000的中国政区图上量得北京到上海的图上距离为3.6厘米,那么北京到上海的实地距离是 ()
A.200千米 B.1 800千米 C.1 080千米 D.1 200千米
- 下列关于比例尺的说法,正确的是 ()
A.比例尺的分母越小,说明地图的比例尺越大
B.一般情况下,比例尺越小,地图所表示的内容就越详细
C.比例尺的分母越大,说明地图的比例尺越大
D.一般情况下,比例尺越大,地图所表示的范围就越大
- 有关地图的说法,正确的是 ()
A.所有地图的方向判断方法都是“上北下南,左西右东”
B.任何一幅完整的地图都具备方向、比例尺、图例和注记三要素
C.地图上表示城市名称、山脉高度等的文字叫图例
D.地图上表示河流、道路等的符号叫注记
- 下列收集信息的途径中,你认为最便捷的是 ()
A.到图书馆查阅 B.看报纸 C.访问互联网站 D.看电视、听广播

8.下面四幅地图中,居民区(阴影部分表示居民区)面积最大的是 ()



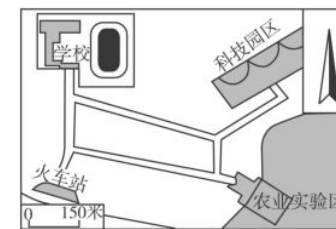
9.按运河、季节河、湖、水库、沼泽等地理事物的图例排列,正确的是 ()



10.(2016·山东威海月考)在一张长为62厘米和宽为56厘米的纸上,绘制一幅中国政区图,要求图幅的边缘各留出2厘米。我国领土南北长约5 500千米,东西宽约5 000千米,则这幅地图最合适的比例尺是 ()

- A.1:10 000 B.1:500 000
C.1:600 000 D.1:10 000 000

生活中常常需要用到地图,相信你已经掌握了地图的基本知识。仔细阅读右图,完成11~12题。



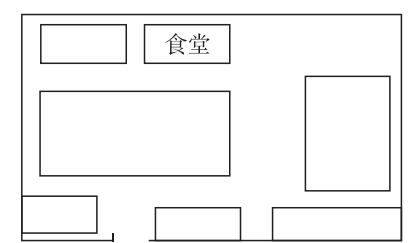
- 学校位于科技园区的 ()
A.正南方 B.正北方
C.正东方 D.正西方
- 小明量得学校到火车站的图上距离约2厘米,如果从学校到火车站,大约要走 ()
A.300厘米 B.150米
C.300米 D.30千米
- 下列四幅地图中,属于社会经济地图的是 ()
A.非洲地形图 B.中国四大牧区图
C.欧洲气候类型图 D.黄河水系图
- (2016·湖南衡阳)下面图幅大小相同的四张地图,比例尺最小的是 ()
A.衡阳地图 B.湖南地图
C.中国地图 D.世界地图
- (2016·贵州黔东南州模拟)对“比例尺①:1:500”和“比例尺②:0 10千米”的描述正确的是 ()
A.比例尺①属于小比例尺 B.比例尺①表示的内容更详细
C.比例尺②可绘制的范围小 D.比例尺②适合绘制学校平面图
- 下列比例尺中,图上1厘米代表的实地距离最长的是 ()
A.1:2 000 B.图上1厘米代表实地距离2千米
C. $\frac{1}{2\ 000\ 000}$ D.0 1 2千米

17. 在图幅相同的情况下, 下列比例尺表示的范围最大的是 ()
- A. 1 : 3 000 B. 三万分之一
- C. 图上 1 厘米代表实地距离 3 千米 D. $\frac{0}{300}$ 千米
18. 暑假, 小明想到郑州的姨妈家探亲, 了解一下乘车路线, 应查阅 ()
- A. 世界政区图 B. 交通图 C. 地形图 D. 导游图
19. 下列关于图例和注记的说法, 正确的是 ()
- ① 图例是用来表示各种地理事物的符号和数字 ② 注记是用来说明地理事物的数字和文字
- ③ 填绘地图, 注记横写应从左到右, 竖写应从上到下 ④ 在地图上, 所有城市的符号都一样
- A. ①② B. ①③ C. ②③ D. ②④
20. (2016 · 湖南宁远县期中) 晴朗的早晨, 太阳即将从地平线上升起, 家住宁远的小李面向太阳升起的方向站立, 准备观察太阳升起的过程。此刻小李右边的方向可能是 ()
- A. 东方 B. 南方 C. 西方 D. 北方

二、综合题(共 60 分)

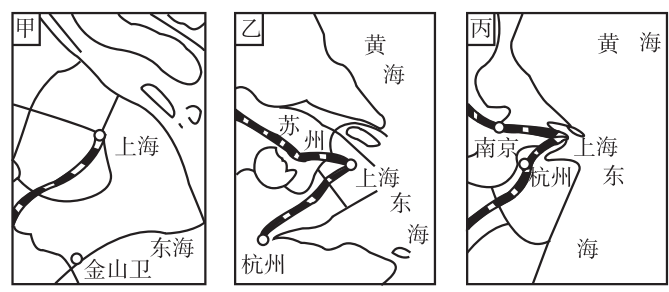
21. 阅读材料, 完成下列问题。(14 分)

开学不久, 考入某大学的小玲同学给远在外省的爸爸写了一封信。她在信中这样描述自己的学校: “我们学校的大门朝南, 一进校门, 穿过一段铺有大理石路面的通道, 就是我们的教学大楼; 大楼的后面是宿舍、食堂等生活区; 东侧是有 400 米跑道的运动场……对了, 校门的西侧还有厕所……我爱我的新学校。” 爸爸回信让小玲给他画一幅学校的平面图。



- (1) 若此图的比例尺为 1 : 10 000, 将其用线段式标注在图的右下角的方框内。(2 分)
- (2) 在图中适当的位置标注教学大楼、宿舍、运动场、厕所。(8 分)
- (3) 这所学校东西和南北各长多少米?(4 分)

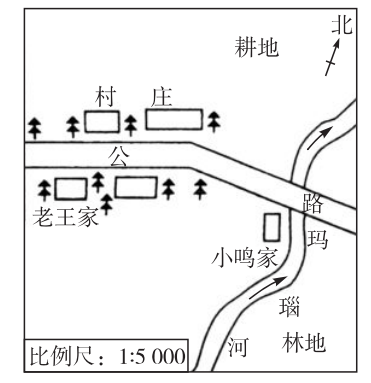
22. 读图, 回答下列问题。(每空 2 分, 共 12 分)



- (1) 在甲、乙、丙三幅地图中, 比例尺最小的是 _____ 图; 比例尺最大的是 _____ 图, 它表示的范围比其他两幅图 _____, 但表示的内容要 _____ 些。

(2) 在乙图中, 可以看出杭州位于上海的 _____ 方向, 苏州位于上海的 _____ 方向。

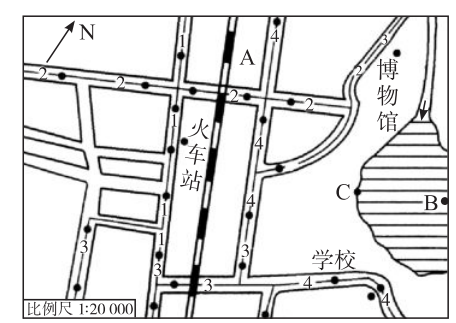
23. 读右图, 回答下列问题。(18 分)



- (1) 小鸣家在老王家 _____ 方向。(2 分)
- (2) 图中玛瑙河的大致流向是自 _____ 向 _____。如果刮北风, 玛瑙河上有一艘小帆船正在向下游行驶, 它所遇到的风的阻力较 _____ (填“大”或“小”)。(6 分)
- (3) 在北半球建房, 房屋一般坐北朝南。如果你想在这里建房, 请你选择一个最理想的地方, 并画在图上, 简单说明理由。(画图时需要标明大门的位置)(6 分)

(4) 图中属于图例的有 _____ (画出两个), 属于注记的有 _____。(4 分)

24. 读图, 完成下列问题。(16 分)



- (1) 图例 A 为 _____, 河流的流向是 _____。(4 分)
- (2) 学校在火车站的 _____ 方。沿公路走最近路线, 从学校到火车站大约有 _____ 米。(4 分)
- (3) 从学校去博物馆应乘的公交车是 _____。(4 分)
- (4) 假如有一天刮东北风, 船从 C 处划到 B 处, 是顺风还是逆风? 如果保持 20 米/分钟的划船速度, 并沿最短路线前进, 大约需要多少时间才能到达 B 处?(4 分)

①考生要写清校名、姓名和班级(或准考证号)
②不读题、不讲题、监考人不解答问题
③用钢笔或签字笔答题,字迹要清楚,卷面要整洁

注意事项

县(区) 乡 年级 班级 姓名 学校

第二章测试卷 A 卷

地理 七年级上册(湘教版)

时间:60分钟 满分:100分

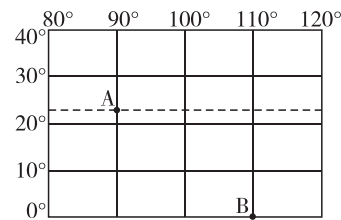
题号	一	二	总分
得分			

一、选择题(每小题2分,共40分)

1.(2016·山东临沂校级模拟)在中学生科普知识交流会上,小强这样描述了地球的形状和大小,你认为有误的是 ()

- A. 哥伦布环球航行首次证明地球是一个球体
- B. 地球是一个两极稍扁赤道略鼓的不规则球体
- C. 地球赤道周长约4万千米
- D. 地球表面积约5.1亿平方千米

2.(2016·山东临沂校级模拟)下列关于下图中A、B两点所在经纬线的叙述,正确的是 ()



- A. A点所在经线比B点所在经线长
- B. A点所在纬线比B点所在纬线短
- C. A、B两点所在经线始终平行
- D. A、B两点所在纬线长度相等

3.(2016·福建杏林中学月考)把地球划分为东、西半球的经线圈是 ()

- A. 0°和180°经线圈
- B. 西经20°和东经160°经线圈
- C. 东经90°和西经90°经线圈
- D. 东经45°和西经35°经线圈

4.(2015·山东东营)下列现象中,与地球自转有关的是 ()

- A. 东营市春、夏、秋、冬四季分明
- B. 漠河冬季漫长,海南岛长夏无冬
- C. 济南市各学校冬季下午放学的时间比夏季早
- D. 北京市的学生比乌鲁木齐的学生先看到日出

5.(2015·湖南长沙)我们的生活中有许多现象蕴含着地理知识,下列现象与地球公转有关的是 ()

- A. 长沙春暖、夏热、秋凉、冬冷,四季分明

- B. 清晨长沙的妈妈给伦敦求学的玲玲打电话时,玲玲正准备晚上就寝
- C. 某股票爱好者利用香港、纽约、伦敦之间的时差操作国际证券市场
- D. 当乌苏里江畔旭日东升时,帕米尔高原却是繁星满天

6.(2015·江苏徐州模拟)地球表面分为七大洲和四大洋,其中赤道穿过哪几个大洲的大陆部分 ()

- A. 亚洲、非洲
- B. 非洲、南美洲
- C. 南美洲、大洋洲
- D. 亚洲、大洋洲

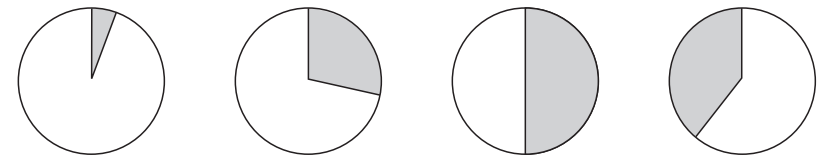
7.(2015·甘肃武威)“东与亚洲相连,南与非洲隔地中海相望,西隔大西洋远眺北美洲东海岸。”这里描述的地区是 ()

- A. 南美洲
- B. 欧洲
- C. 俄罗斯
- D. 澳大利亚

8.(2015·湖南郴州)世界最大的洲和最大的洋分别是 ()

- A. 非洲和太平洋
- B. 亚洲和太平洋
- C. 北美洲和大西洋
- D. 大洋洲和印度洋

9.(2016·云南模拟)下列四幅图中,能正确表示地球表面海陆面积比例的是 ()



□海洋 □陆地

- A. A
- B. B
- C. C
- D. D

10.(2015·甘肃白银会宁县模拟)最早提出“大陆漂移学说”的科学家及其国籍连线正确的是 ()

- A. 诺贝尔—瑞典
- B. 李四光—中国
- C. 爱因斯坦—美国
- D. 魏格纳—德国

11.(2015·湖南邵阳)2015年4月25日,位于喜马拉雅山南坡的尼泊尔发生了8.1级大地震。此次地震成因复杂,但从板块构造学说的角度来看,尼泊尔位于_____板块的交界地带。 ()

- ①亚欧板块
- ②太平洋板块
- ③印度洋板块
- ④南极洲板块

- A. ①②
- B. ③④
- C. ②③
- D. ①③

12.(2016·广东揭西县期中)在寒冷的南极大陆发现有煤层,这可以用什么原理解释 ()

- A. 地质力学
- B. 大陆漂移学说
- C. 板块构造学说
- D. 海底扩张学说

13.(2016·江苏徐州校级月考)下列海陆变化中,哪一项是由填海造陆引起的 ()

- A. 青藏高原的形成
- B. 中国万里长城的形成
- C. 台湾海峡的形成
- D. 荷兰围海大坝的形成

(2016·辽宁铁西区校级模拟)土行孙是《封神演义》中的一位人物,他身材矮小但本领高强,又精通遁地术,可以日行千里。据此回答14~15题。

14.若土行孙使用遁地术从(38°N、120°E)出发,穿越地球,到对面看望他的某位朋友。请问,他钻出地面的地点应是 ()

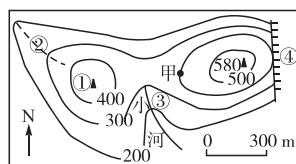
- A. 38°N, 120°W
- B. 38°S, 60°W
- C. 38°S, 120°E
- D. 38°N, 60°E

15.若土行孙昼夜兼程,到达地球的对面,可能需要的时间是 ()

- A. 7天
- B. 10天
- C. 13天
- D. 26天

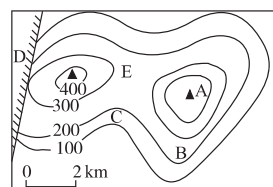
(2016·福建福州校级模拟)右下图是某区域的等高线地形图。读图,完成16~17题。

- 16.图中甲处的海拔为 ()
 A.200米 B.300米
 C.400米 D.500米



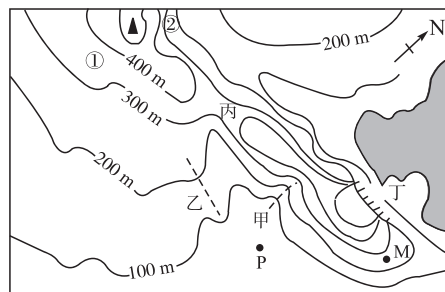
- 17.图中序号中,表示山谷的是 ()
 A.① B.② C.③ D.④

- 18.(2015·湖南模拟)读等高线地形图,从图上可以看出,山顶A的海拔高度是 ()
 A.400米 B.500米以上
 C.400~500米之间 D.400米以下



(2016·山东高密月考)等高线地形图可以帮助人们正确地认识某地的地形状况。读某区域等高线地形图,完成19~20题。

- 19.关于图中地形部位的判读,正确的是 ()
 A.甲为山脊
 B.丙为山顶
 C.乙处有可能发育成河流
 D.丁处有可能欣赏到瀑布景观



- 20.根据图中的信息判断,下列叙述中正确的是 ()
 A.该区域的地形类型为山地、高原
 B.该区域内的陡崖位于山顶的东南方向
 C.①②两个山坡比较,①的坡度较陡
 D.P、M两地相比,P地更容易形成村落

二、综合题(共60分)

21.(2015·湖南邵阳二模)读右侧的经纬网图,回答问题。(12分)

- (1)B点的经度是_____,纬度是_____;位于_____ (东或西)半球和_____ (南或北)半球。(4分)

- (2)B点在A点的_____方向。(2分)

- (3)(2分)(双选)下列有关经纬线的叙述,正确的是 ()

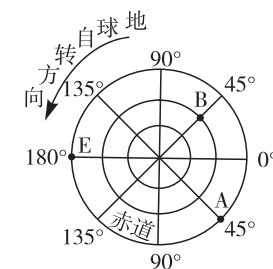
- A.纬线是半圆,指示东西方向
 B.经线是直线,指示南北方向
 C.纬度越高,纬线越短
 D.任何两条正相对的经线组成的经线圈,其长度与赤道的长度大致相等

- (4)(2分)下列说法中,能够证明地球是一个球体的是 ()

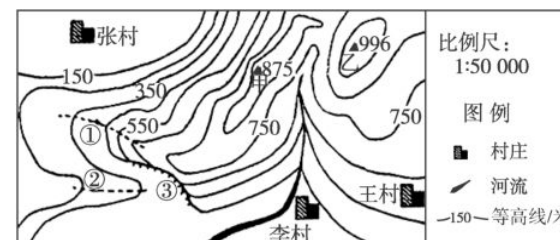
- A.欲穷千里目,更上一层楼 B.不识庐山真面目,只缘身在此山中
 C.床前明月光,疑是地上霜 D.清明时节雨纷纷,路上行人欲断魂

- (5)(2分)小明到英国格林尼治天文台旧址旅游时,他两脚跨在本初子午线地标的两侧,张开双手表示东经和西经。此时,东经和西经的度数分别向东、向西变化的规律是 ()

- A.没有变化 B.度数减少 C.度数增大 D.变化无规律

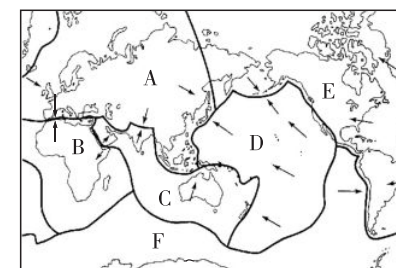


22.读我国南方某地等高线(米)地形图,完成下列问题。(16分)



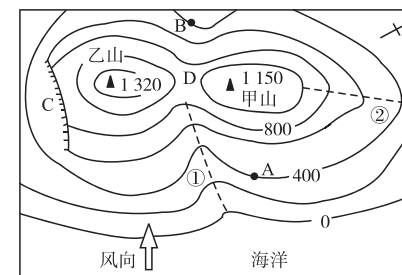
- (1)图中1厘米代表实地距离_____米。图中的等高距为_____米。(2分)
 (2)图中甲、乙两山顶的相对高度为_____米,山顶甲在山顶乙的_____方向。(4分)
 (3)图中序号所表示的地形部位名称是:①_____,②_____,③_____。(6分)
 (4)③处能否形成瀑布?_____。三个村庄中,夏季最容易发生泥石流的是_____。(4分)

23.(2016·山东临清期中)读六大板块示意图,完成下列各题。(每空2分,共24分)



- (1)写出下列字母代表的板块名称。
 A_____,B_____,C_____,D_____,E_____,F_____。
 (2)几乎全部是海洋的是_____ (板块名称),澳大利亚属于_____ (板块名称)。
 (3)世界火山、地震带主要分布在_____ (地震与板块的关系)地带,因为这里地壳比较_____。
 (4)全球两大火山、地震带是_____、_____。

24.(2016·山东青岛期中)读某地区的等高线地形图,回答下列问题。(每空2分,共8分)



- (1)D点所在的山体部位是_____。
 (2)①线和②线所在地有可能发育河流的是_____线。
 (3)图中_____ (字母)处适合开展户外攀岩运动。从崖底攀至陡崖最高处,高差可能是_____。(填字母)
 A.120米 B.290米 C.190米 D.620米

第二章测试卷 B 卷

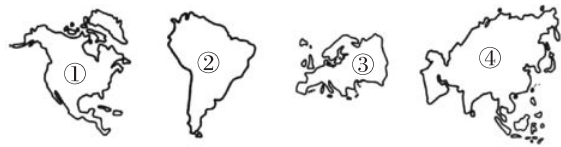
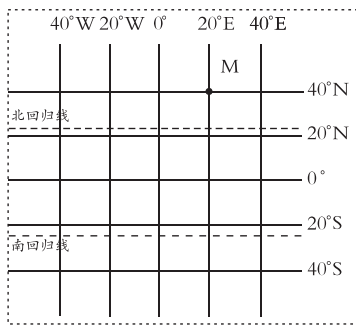
地理 七年级上册(湘教版)

时间:60分钟 满分:100分

题号	一	二	总分
得分			

一、选择题(每小题2分,共40分)

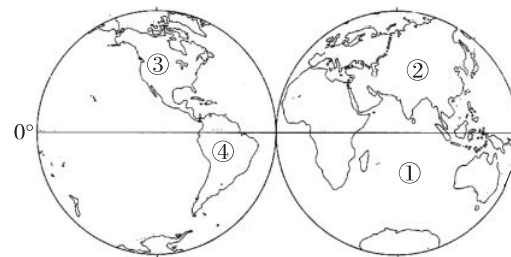
- 1.(2015·江苏徐州模拟)麦哲伦船队环球航行成功,证实了 ()
A.天圆地方 B.地球是一个球体 C.赤道周长4万千米 D.板块运动
- 2.(2015·湖南怀化)科学家经过长时间的精密测量,发现地球的真实形状是一个 ()
A.正球体 B.两极稍扁、赤道略鼓的不规则球体
C.平面 D.透明的不规则球体
- 3.(2016·山东泰安)关于某地(40°N,90°E)位置的叙述,正确的是 ()
A.西半球、北半球、高纬度 B.东半球、北半球、中纬度
C.东半球、南半球、中纬度 D.西半球、北半球、低纬度
- 地球表面某一点的位置,可以用经纬网来确定。请仔细阅读右边的经纬网图,完成4~5题。
- 4.图中表示南北半球分界线的是 ()
A.0°经线 B.0°纬线
C.20°W经线 D.20°E经线
- 5.图中M点的经纬度是 ()
A.40°N,20°E B.23.5°N,0°
C.40°S,20°W D.23.5°S,0°
- 6.(2015·山东泰安模拟)下列关于全球海陆分布的规律,说法正确的是 ()
A.地球表面七分是陆地,三分是海洋 B.北极周围是一片海洋
C.东半球的陆地面积大于海洋面积 D.北半球的海洋面积比陆地面积小



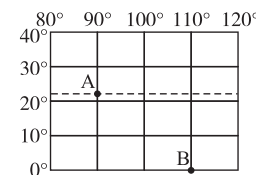
- 7.濒临大西洋和北冰洋的大洲是 ()
A.①② B.②④ C.②③ D.①③

- 8.(2015·湖北恩施咸丰县期中)关于四大洋的叙述,正确的是 ()
A.太平洋面积最大,印度洋面积最小
B.大西洋的形状像“S”,太平洋的形状像“W”
C.太平洋的面积与大西洋、北冰洋、印度洋面积之和几乎相等
D.北冰洋纬度最高,太平洋跨经度最广

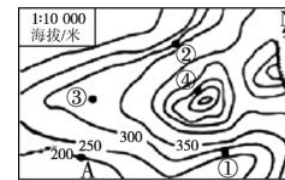
(2016·四川万源校级模拟)读大洲和大洋的分布图,完成9~10题。



- 9.有关陆地和海洋的叙述,正确的是 ()
A.地球表面71%为陆地,29%为海洋 B.海洋面积北半球大于南半球
C.①大洋是世界上面积最大的大洋 D.②大陆是世界上面积最大的大陆
- 10.③与④两大洲的分界线是 ()
A.白令海峡 B.土耳其海峡 C.巴拿马运河 D.苏伊士运河
- 11.关于右图中A、B两点所在的经纬线的叙述,正确的是 ()
A.A、B两点所在的经线始终平行
B.A、B两点所在的纬线长度相等
C.A点所在的经线比B点所在的经线长
D.A点所在的纬线比B点所在的纬线短
- 12.(2015·山东枣庄峰城模拟)下列关于0°纬线和0°经线的叙述,正确的是 ()
A.0°纬线和0°经线都能平分地球 B.0°纬线的长度是0°经线的两倍
C.0°经线是南北半球的分界线 D.0°纬线是东西半球的分界线
- 13.(2015·湖南益阳)日月东升西落的主要原因是 ()
A.日月自东向西绕地球转 B.地球公转
C.地球自转 D.日月自西向东绕地球转



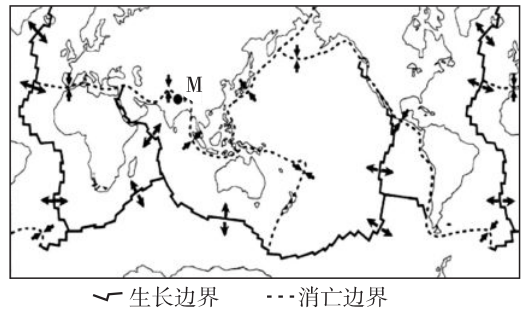
右图为某地的等高线示意图。读图,回答14~15题。



- 14.图中A点的海拔是 ()
A.350米 B.300米
C.250米 D.200米
- 15.梯田一般修建在坡度较缓的山坡上,图示地区最适宜修建梯田的是 ()
A.①地 B.②地 C.③地 D.④地
- 16.一个地区海拔在500米以上,山峦连绵起伏,山高谷深,崎岖不平。山谷间常有吊索桥,人们来往其间。这段文字所描述的地形是 ()
A.丘陵 B.盆地 C.山地 D.高原

17. 下列关于海底地形的叙述中, 正确的是 ()
- A. 海洋的主体部分是大陆架 B. 海洋深处的地形一般是大陆架
C. 海沟都位于大洋的中部 D. 大陆架深度一般不超过 200 米

18. (2015·内蒙古通辽模拟)“印度尼西亚大地震”“汶川地震”“日本地震”……人们说“地球进入了地震模式”。下列关于地震的说法, 错误的是 ()
- A. 主要分布在沿海平原地区 B. 主要分布于环太平洋火山、地震带
C. 主要分布于板块交界地带 D. 是板块相互运动的结果
- (2015·四川自贡) 下图是板块构造分布示意图, 读图回答 19~20 题。



19. 2015 年 4 月 25 日 14 时 11 分, 尼泊尔(图中 M 地) 发生 8.1 级地震, 震源深度 20 千米, 地震灾害导致伤亡惨重。尼泊尔地壳不稳定, 是因为 ()
- A. 地处欧亚板块与非洲板块的交界地带 B. 地处欧亚板块与太平洋板块交界地带
C. 地处美洲板块与太平洋板块交界地带 D. 地处欧亚板块与印度洋板块交界地带

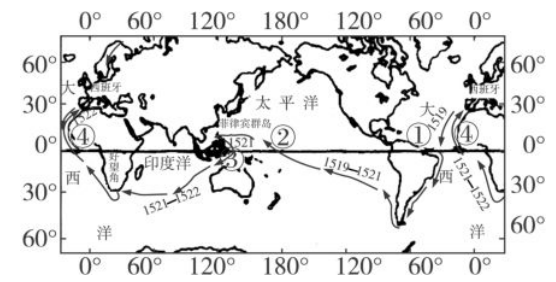
20. 澳大利亚位于 ()
- A. 非洲板块边缘 B. 印度洋板块内部 C. 欧亚板块边缘 D. 太平洋板块内部

二、综合题(共 60 分)

21. 阅读材料, 完成下列问题。(10 分)

材料一: 古代人由于活动范围狭小, 往往凭自己的直觉认识世界, 认为整个大地是平的, 天空是倒扣着的一口巨大的锅。随着人们视野的扩大, 人们想象中的大地变成了一只倒扣的盘子, 天像一顶半圆的斗笠。

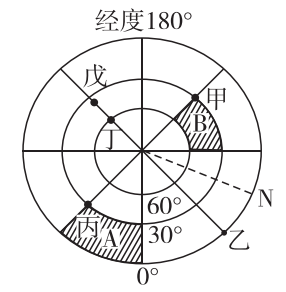
材料二: 1519—1522 年, 葡萄牙航海家麦哲伦率领船队, 首次实现了人类环绕地球一周的航行。环球航行线路如下图所示。



- (1) 从材料一可知, 古代人认为“天圆地方”的原因是 _____; 随着人们视野的扩大, 人们想象中的大地变成了一只倒扣的 _____, 天像一顶半圆的 _____。(4 分)
- (2) 麦哲伦坚信地球是 _____ 形的, 从地球上的一点出发, 朝一个方向走去, 一定能重新回到

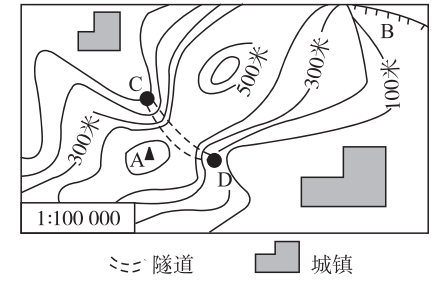
- 出发地点。(2 分)
- (3) 三年的环球航行中, 有两次从南半球越过赤道, 进入北半球, 应是图中的数码 _____ 和 _____。(4 分)

22. 读北半球图, 完成下列问题。(16 分)



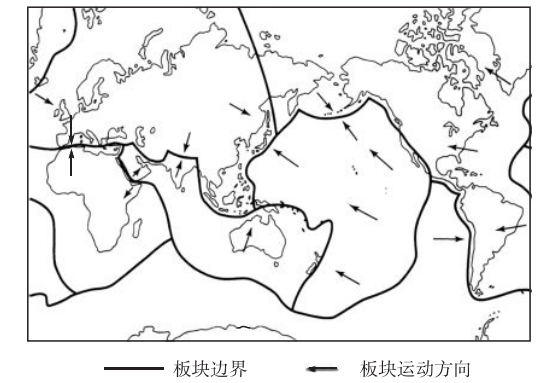
- (1) 在图中标出地球的自转方向。(1 分)
- (2) 与“坐地日行八万里”相吻合的地点是 _____。(2 分)
- (3) 丙点的经纬度是 _____。(2 分)
- (4) 该图位于东半球的点是 _____。(2 分)
- (5) 如果要造一座四面朝南的房子, 应选择在 _____。(2 分)
- (6) 甲点在乙点的 _____ 方向。(2 分)
- (7) 戊点位于 _____ 纬度地带(低、中、高)。(1 分)
- (8) A、B 两区域中表示实际范围广的是 _____, 原因是 _____。(4 分)

23. 读右边某地区的等高线图, 完成下列问题。(14 分)



- (1) 该地区主要的地形类型为 _____。山峰 A 的海拔约为 _____。(4 分)
- (2) 图中字母表示的地形部位: B 是 _____, C 是 _____。(4 分)
- (3) 若隧道 CD 面平坦无起伏, 由 D 点到 C 点是 _____ (上坡或下坡) 路面, 判断理由: _____。(6 分)

24. (2016·山东临沭县校级月考) 读六大板块示意图, 完成下列问题。(20 分)



- (1) 最早提出大陆漂移说的德国科学家是 _____。地质学家经过长期研究发现, 大陆的漂移是由于 _____ 引起的。(4 分)
- (2) 澳大利亚所在的板块是 _____。(4 分)
- a. 欧亚板块 b. 印度洋板块 c. 太平洋板块 d. 南极洲板块
- (3) 列举一例板块运动产生的现象: _____。(4 分)
- (4) 有人预言: 若干年后, 地中海将会消失。你认为可信吗? 请说出你的理由。(4 分)
- (5) 环太平洋火山地震带是世界上最大的火山地震带, 请你运用所学理论分析原因。(4 分)

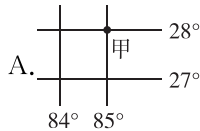
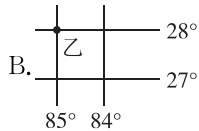
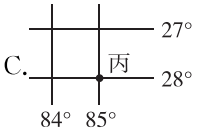
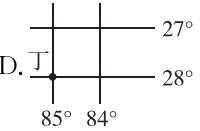
月考测评卷一

地理 七年级上册(湘教版)

时间:60分钟 满分:100分

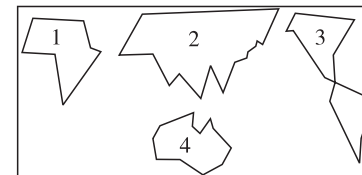
题号	一	二	总分
得分			

一、选择题(每小题2分,共40分)

- 1.地理与人们的生活关系紧密。以下词语中,与地理无关的是 ()
A.辨认方向 B.风土人情 C.随心所欲 D.天气预报
- 2.“清明忙种麦,谷雨种大田”反映的是_____与地理环境的关系。 ()
A.农业生产 B.日常生活 C.风土人情 D.工业生产
- 3.(2016·山东临沂校级模拟)人们对地球形状的认识,经历了一个漫长的过程。下列能说明地球是球体的是 ()
A.人造卫星拍摄的地球照片 B.天圆如张盖,地方如棋局
C.春夏秋冬四季轮回 D.天如斗笠,地如覆盘
- 4.(2015·海南琼海校级模拟)下列关于本初子午线的说法,正确的是 ()
A.是地球上最长的经线
B.其东侧是西经,西侧是东经
C.和180°经线组成的经线圈是划分东、西半球的分界线
D.向东数值递增的范围属于东经
- 5.(2015·四川南充)北京时间2015年4月25日14时11分,尼泊尔的博克拉(北纬28°、东经85°)发生8.1级地震。在图示的经纬网中,显示震中位置的是 ()
- A.  B.  C.  D. 
- 6.(2016·辽宁大石桥水源二中月考)下列有关纬度变化规律的叙述,正确的是 ()
A.从南向北逐渐增大 B.从两极向赤道逐渐增大
C.从赤道向两极逐渐增大 D.从东向西逐渐增大
- 7.(2016·云南模拟)下列关于海陆分布的说法,正确的有 ()
①两极周围均是陆地 ②陆地主要集中在北半球 ③东、西半球海陆分布比较均匀 ④除了北冰洋以外,其他大洋均跨南、北半球
A.③④ B.①③ C.②④ D.①②

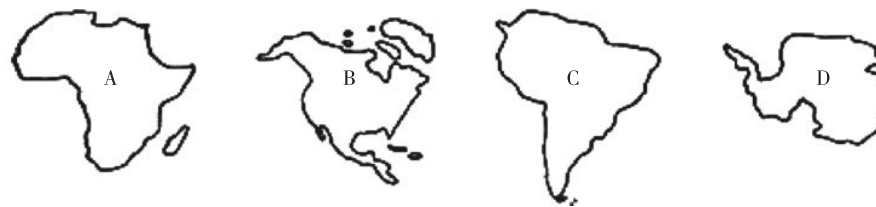
- 8.(2015·山东青岛崂山区校级模拟)下列大洲中,赤道、北回归线和南回归线都穿过的是 ()
A.非洲 B.南美洲 C.亚洲 D.北美洲

- 9.(2015·江苏徐州模拟)读大陆轮廓简笔画图,按数字顺序,它们分别表示的大陆名称是 ()



- A.非洲大陆、亚欧大陆、美洲大陆、澳大利亚大陆
B.非洲大陆、亚欧大陆、美洲大陆、南极洲大陆
C.亚欧大陆、美洲大陆、南极洲大陆、澳大利亚大陆
D.非洲大陆、美洲大陆、澳大利亚大陆、亚欧大陆

- 10.(2015·湖北鄂州模拟)读大洲图,下列说法正确的是 ()



- ①赤道、北回归线和南回归线都穿过的是C洲 ②B、C两大洲的分界线是苏伊士运河 ③D大洲的气候特点是酷寒、干燥、多狂风 ④美国位于B大洲 ⑤A大洲有极昼极夜现象
A.①② B.③④ C.①⑤ D.②③

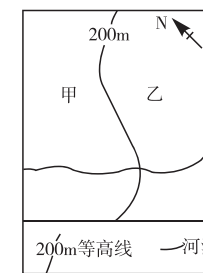
- 11.(2016·湖南宁远县期中)下列大洲中,面积最大的是 ()
A.南极洲 B.南美洲 C.北美洲 D.非洲

- 12.(2015·海南琼海校级模拟)某飞机从亚洲出发,沿赤道往西飞行,环绕地球一周,所经过的大洲大洋依次是 ()

- A.亚洲、印度洋、非洲、大西洋、南美洲、太平洋、大洋洲
B.亚洲、大洋洲、印度洋、南美洲、太平洋、非洲、大西洋
C.亚洲、太平洋、北美洲、大西洋、非洲、北冰洋、欧洲
D.亚洲、印度洋、非洲、地中海、欧洲、大西洋、南美洲

(2016·山东张店七中月考)读某地的等高线略图,完成13~14题。

- 13.图中河流的大致流向是 ()
A.由东向西流动 B.由西向东流动
C.由东南向西北流动 D.由西南向东北流动
- 14.甲地的地形最有可能是 ()
A.平原 B.盆地
C.丘陵 D.山地



- 15.(2016·河北清苑县模拟)小明于2015年6月21日(夏至日)这一天进行了“立竿见影”的探究活动。若小明观察到正午时刻竹竿的影子长度为0,则穿过当地的纬线是 ()
A.赤道 B.北回归线 C.北极圈 D.南回归线
- 16.(2015·湖北十堰竹山县校级模拟)下列现象中,不属于板块张裂运动产生的是 ()
A.东非大裂谷的形成
B.亚洲和非洲之间的红海在不断扩张。有人预言,几千万年后,红海将成为新的大洋

- C.位于欧洲和非洲之间的地中海面积不断缩小
D.板块运动发生张裂时,地表会产生陷落现象

17.(2015·内蒙古包头)下列现象中,不位于环太平洋火山、地震带上的是 ()

- A.喜马拉雅山脉仍在不断升高
B.美国旧金山大地震
C.日本富士山是一座活火山
D.科迪勒拉山系的形成

漫画不仅生动、形象、幽默,还包含着深刻的道理。读漫画《原来我们曾是一家人啊!》,回答 18~19 题。

18.漫画反映的是 ()

- A.盖天说
B.大陆漂移说
C.浑天说
D.日心说



19.该学说的提出者是 ()

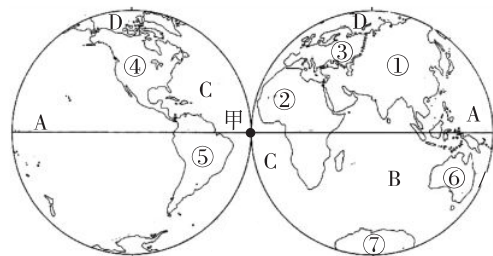
- A.张衡
B.哥伦布
C.麦哲伦
D.魏格纳

20.下列现象中,能作为海陆变迁证据的是 ()

- A.喜马拉雅山发现海洋生物化石
B.南极大陆的地下埋藏着矿产资源
C.太平洋洋底发现海沟
D.红海在不断扩张

二、综合题(共 60 分)

21.下图为东西半球示意图。读图,回答下列问题。(每空 3 分,共 18 分)



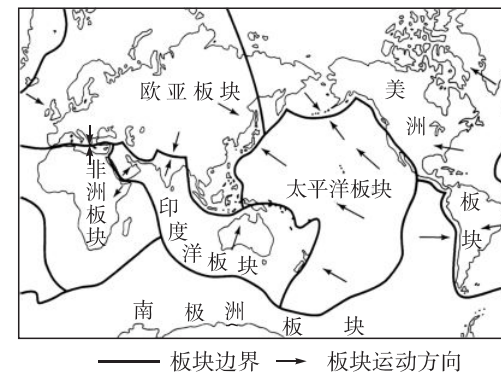
- (1)甲地位于东西半球的分界线上,赤道穿过甲地,请写出甲地的地理坐标_____。
(2)七大洲中,面积最小的大洲是_____,面积最大的岛屿所在的大洲是_____。(填数字代号)
(3)跨经度最多的大洋是_____。(填字母)
(4)④与⑤两大洲之间的分界线是_____运河。
(5)连接 A、D 两大洋的海峡是_____。

22.阅读材料和图,回答下列问题。(27 分)

材料一:2013 年 4 月 20 日,四川雅安芦山发生 7.0 级地震。强震猝然袭来,大地颤抖,山河移位,满目疮痍,生离死别……西南处,国有殇。

这是中华人民共和国自成立以来破坏性很大的一次地震。震级是自 1950 年 8 月 15 日西藏墨脱地震(8.5 级)、2001 年昆仑山大地震(8.1 级)及 2008 年汶川地震(8.0 级)以及 1976 年唐山地震(7.8 级)后的大地震。它给人民群众造成了严重的损失。

材料二:六大板块示意图。



(1)我国近几年在云南、四川等地多次发生地震,给我国人们的生产和生活造成很大的损失。根据材料和所学知识,分析我国多地震的原因。(5 分)

(2)本次地震是由_____板块和_____板块运动导致的结果。认真读图,试举出两个地震、火山较多的国家:_____、_____。(8 分)

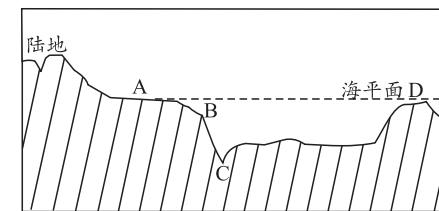
(3)由图中可以看出,几乎全部位于海洋中的板块是_____。根据图中板块的运动方向可判断出,_____洋的面积会缩小,_____洋的面积在扩张。(6 分)

(4)在上图中标出喜马拉雅山的位置。(2 分)

(5)想躲避地震带来的灾难,试举出几种有效、科学的方法。(至少写出 3 种)(6 分)

23.读下面的材料及图,回答下列问题。(15 分)

海底的地形也同陆地的地形一样,是高低起伏、复杂多样的。由大陆向海洋自然延伸的宽广而平坦的浅海区域,叫大陆架。大陆架蕴藏着丰富的矿产资源,如石油、煤、天然气等,还有丰富的海洋生物资源。



- (1)图中 A、B、C、D 四个字母中,代表大陆架的是_____。(3 分)
(2)海底地形除大陆架外,还包括_____,_____,洋盆和大洋中脊。(6 分)
(3)通过材料可看出,大陆架是海洋中最富饶的海区,不仅富含海洋_____资源,还蕴藏着丰富的_____资源。(6 分)

第三章测试卷 A 卷

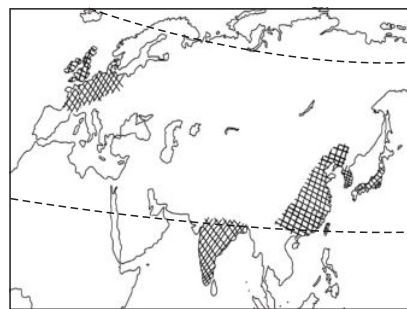
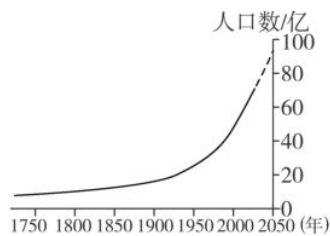
地理 七年级上册(湘教版)

时间:60分钟 满分:100分

题号	一	二	总分
得分			

一、选择题(每小题2分,共40分)


- 1.(2015·江苏扬州)下列地区中,属于人口稠密地区的有 ()
 ①亚洲的东部和南部 ②亚洲的南部和西部 ③欧洲 ④北美洲的东部 ⑤非洲的北部
 ⑥南美洲的亚马孙河流域 ⑦大洋洲
 A.①③④ B.②⑤⑥ C.②③⑦ D.③④⑥
- 2.(2016·广东清远校级模拟)某地区在一年中平均每1000人当中,出生并成活28个婴儿,死亡人数15人。那么,该地区的人口自然增长率为 ()
 A.2.8% B.1.5% C.1.3% D.4.3%
- 3.(2014·黑龙江大庆)读世界人口增长曲线图可知,世界人口变化的总趋势是 ()
 A.不断增长 B.缓慢下降
 C.迅猛增长 D.不增不减
- 4.(2015·湖南株洲)如图中的阴影表示亚欧大陆的人口密集区,对它们分布的描述正确的是 ()
 A.都分布在中高纬度
 B.都分布在河流稀少的地方
 C.都分布在平原地区
 D.都分布在气候比较湿润的地区
- 5.(2016·云南模拟)下面关于世界语言、人种、宗教的叙述,正确的是 ()
 A.使用范围最广的是汉语
 B.白色人种主要分布在撒哈拉以南的非洲
 C.道教是世界三大宗教之一
 D.世界上教徒人数最多的宗教是基督教



- 6.(2016·黑龙江齐齐哈尔模拟)主要分布在东亚和东南亚的宗教是 ()
 A.伊斯兰教 B.佛教 C.基督教 D.犹太教
- 7.(2015·湖南永州二模)下列各组地区中,依次主要是黑种人、黄种人、白种人的是 ()
 A.西亚、西欧、北美洲 B.非洲的北部、亚洲的东部、大洋洲
 C.非洲中部、亚洲东部、西欧 D.南美洲、非洲北部、西亚
- 8.(2015·山东滕州市校级模拟)下列地区中,居民以白种人为主的是 ()
 A.欧洲东部和亚洲东部 B.大洋洲和东南亚
 C.欧洲西部和亚洲西部 D.撒哈拉以南的非洲和拉丁美洲
- 9.(2015·黑龙江齐齐哈尔)目前,世界上使用范围最广的语言是 ()
 A.汉语 B.阿拉伯语 C.英语 D.俄语
- 10.(2015·湖南永州四模)一位外国友人,身穿白色长袍,手拿一本《古兰经》,用阿拉伯语与人交流。你推测他最可能来自 ()
 A.印度 B.日本 C.澳大利亚 D.埃及
- 11.(2015·江苏模拟)对我国历史、文化影响最大的宗教是 ()
 A.伊斯兰教 B.基督教 C.道教 D.佛教
- 12.(2015·福建三明清流县模拟)《西游记》中唐僧师徒四人经历“九九八十一难”,到西天取经。唐僧所取得的宗教的经文属于 ()
 A.基督教 B.天主教 C.伊斯兰教 D.佛教
- (2016·山东建桥中学)某公司派小丽到某国出差,她在该国看到了许多如下图所示的宗教建筑。据图回答13~14题。
- 13.这种建筑是 ()
 A.基督教的教堂 B.伊斯兰教的清真寺
 C.佛教的寺庙 D.道教的道观
- 14.小丽出差所到的国家可能是 ()
 A.俄罗斯 B.沙特阿拉伯 C.日本 D.泰国
- 15.(2016·江苏宿迁校级期中)拉丁美洲主要通行的语言是 ()
 A.英语、西班牙语 B.英语、阿拉伯语
 C.葡萄牙语、法语 D.西班牙语、葡萄牙语
- 16.(2015·福建三明梅列区模拟)聚落的形成与环境关系密切。下列条件中,有利于聚落形成与发展的是 ()
 ①便利的交通 ②平坦的地形 ③高山、荒漠 ④气候湿热 ⑤水源充足
 A.①②③ B.②③④ C.①②⑤ D.③④⑤
- 17.(2015·湖北十堰竹山县校级模拟)民居与自然环境关系密切。下列四种民居中,能反映湿热特点的是 ()



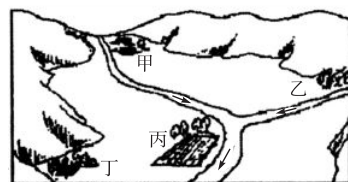
18. 乡村聚落人们的生产和生活差异很大, 下图所描述的乡村聚落类型是 ()



- A. 农村 B. 渔村 C. 林场 D. 牧村

19. (2016·山东平邑县校级月考) 见右图, 甲、乙、丙、丁四个聚落中, 最有可能优先发展为城市的是 ()

- A. 甲 B. 乙
C. 丙 D. 丁



D. 五大连池

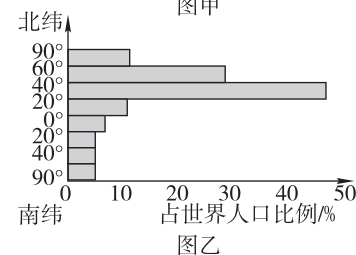
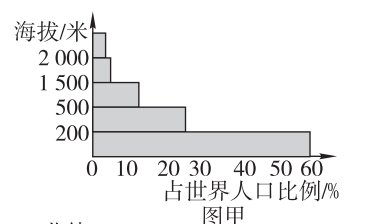
20. 以下被列入《世界遗产名录》的中国传统聚落是 ()

A. 塞纳河沿岸 B. 威尼斯城 C. 福建土楼

二、综合题(共 60 分)

21. 世界人口分布是不均匀的, 但又具有一定的规律性, 读图, 完成下列问题。(每空 2 分, 共 10 分)

- (1) 据图甲分析, 从地形类型看, 世界约有 56% 的人口分布在海拔 200 米以下的 _____ 地区。试举一例世界人口稠密分布区: _____。
- (2) 据图乙分析, 世界的人口主要分布在南、北半球中的 _____ 半球; 按纬度来说, 世界人口主要分布在 _____ 纬度地区。
- (3) 世界人口分布稠密区共同的气候特点是 _____。




22. 阅读材料, 完成下列问题。(每空 1 分, 共 20 分)

材料一: 宗教 A 产生于公元 1 世纪上半叶的罗马帝国统治下的巴勒斯坦地区, 信奉耶稣, 经典为《圣经》, 教徒多达 9.99 亿人, 是当今世界上最大的宗教。

材料二: 宗教 B 于 7 世纪由阿拉伯半岛上的穆罕默德创立, 信奉真主安拉, 经典为《古兰经》, 教徒被称为穆斯林, 即“信奉安拉, 服从先知”的人。

材料三:



- (1) 宗教 A 是 _____ 教, 目前主要分布在 _____、_____、_____。它的宗教活动主要在图 _____ 中进行。
- (2) 宗教 B 为 _____, 教徒被称为 _____, 在我国 _____ 地区相对集中。在世界上主要分布在亚洲的 _____ 和 _____ 部、非洲的 _____ 部和 _____ 部。与它相对应的是图 _____。

(3) 此外, 世界三大宗教还包括 _____, 以它为国教的是 _____ 国, 它的宗教活动在图 _____ 中进行。

(4) 传播最广的宗教是 _____。除了人为传教外, 也随着 _____ 而传到世界各地。对中国和东南亚影响较大的宗教是 _____。

(5) 目前, 西亚和北非地区的人们主要信仰的宗教是 _____。

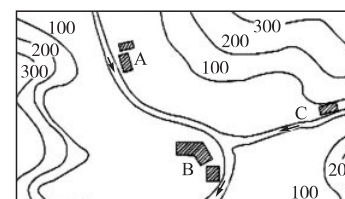
23. 读下面的图, 完成下列问题。(19 分)



图甲



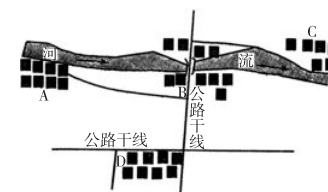
图乙



图丙

- (1) 聚落可分为 _____ 和 _____ 两大类。(4 分)
- (2) 图甲反映了 _____ 聚落的特点, 图乙反映了 _____ 聚落的特点。(4 分)
- (3) 图丙中, A、B、C 三个聚落的选址从交通因素分析, 共同点是 _____。(2 分)
- (4) A、B、C 三处中, 最可能优先发展为城市的是 _____, 理由是 _____。(4 分)
- (5) 从上题分析来看, 是先有城市聚落还是先有乡村聚落?(2 分)
- (6) C 聚落附近森林资源丰富, 如果在 C 处建一个造纸厂, 是否合理? 为什么?(3 分)

24. 右图表示的是我国北方某平原地带的一部分, 请你根据图中提供的信息, 回答下列问题。(每空 1 分, 共 11 分)



- (1) 图中 A、B、C、D 表示乡村聚落, 其中 A、B、C 发展为聚落的主要有利因素是: 靠近 _____, 有利于 _____ 和 _____, 地形以 _____ 为主。这样的聚落一般可顺河道伸展成 _____ 状。
- (2) A、B、C、D 四个聚落中, 有可能最先发展为城市的是 _____, 因为那里地形 _____, 水源 _____, _____ 便利。另外, _____ 地也可能发展为城市, 因为那里处在 _____。

第三章测试卷 B 卷

地理 七年级上册(湘教版)

时间:60分钟 满分:100分

题号	一	二	总分
得分			

一、选择题(每小题2分,共40分)

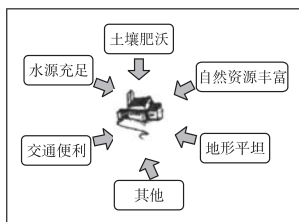
- 1.(2015·黑龙江大庆)中国2010年的人口出生率为1.2%,死亡率为0.7%,总人口为13.7亿,则人口自然增长率和年净增人口数约为 ()
- A.0.5% 685万 B.1.9% 2 603万
C.1.2% 1 644万 D.0.7% 959万
- 2.(2015·山东德州乐陵市一模)小明同学学习了“世界的人口”这一节后,对人口的增长、分布、人口问题、人口密度等方面作了如下归纳,其中错误的一项是 ()
- A.非洲人口自然增长率最高
B.人口的增长要与世界经济发展相适应,与资源、环境相协调
C.中纬度近海地区的人口分布多,高寒地区的人口分布稀少
D.一个国家人口越多,人口密度就越大
- 3.某地区“人口自然增长率等于零”的含义是 ()
- A.该地区不出生婴儿 B.该地区人口出生率等于零
C.该地区人口死亡率等于零 D.该地区人口出生率与人口死亡率相等
- 4.(2016·江苏东台期中)黑色人种主要分布在 ()
- A.亚洲东部和南部 B.欧洲、北美洲和大洋洲
C.非洲的中部和南部 D.非洲北部、亚洲西部
- 5.(2015·黑龙江)世界上人口自然增长率最高的地区 ()
- A.欧洲西部 B.东南亚 C.北美 D.撒哈拉以南的非洲
- 6.(2015·云南昆明官渡区二模)2011年10月,全球人口首次突破70亿,巨大的人口数量给资源、环境、社会带来了沉重的负担。下列不属于70亿人口负担的是 ()
- A.在非洲部分地区粮食供给严重不足 B.欧洲西部人口老龄化现象严重
C.资源供不应求 D.发展中国家就业压力大
- 7.下列关于世界居民的叙述,错误的是 ()
- A.人口自然增长率反映人口增长的快慢,一般用%来表示
B.人口密度反映人口分布的疏密程度,用人/千米²来表示

C.世界上的居民可分为黄色人种、白色人种和黑色人种

D.英语是世界上使用人数最多的语言

- 8.(2016·云南模拟)梅西是阿根廷运动员,因脚法出众,被称为“新马拉多纳”,是当今世界足坛最杰出的足球运动员之一,有关他使用的语言和信仰的宗教,说法正确的是 ()
- A.西班牙语、基督教 B.英语、基督教
C.汉语、基督教 D.西班牙语、伊斯兰教
- 9.(2015·湖南永州二模)去年巴西举办了世界杯足球赛,我国去采访的工作人员,应该优先熟练掌握的语言是 ()
- A.俄语 B.日语 C.西班牙语 D.葡萄牙语
- 10.人口老龄化加快,可能带来的问题是 ()
- A.就业机会增加 B.医疗水平提高
C.劳动力数量增加 D.社会养老负担加重
- 11.(2015·湖北十堰)下列关于世界人口、语言和宗教的叙述,正确的是 ()
- A.亚洲、非洲和拉丁美洲地区,人口自然增长率较低
B.亚洲的东部和南部、非洲北部人口稠密
C.汉语是世界上使用范围最广的语言
D.基督教是世界上信仰人数最多的宗教
- 12.(2016·天津校级期末)中国的小明在网上结识了印度小朋友阿加亚,阿加亚说:“我们现在用世界使用最广泛的语言交流。”如果你是小明,你知道阿加亚与他人交流的语言是 ()
- A.英语 B.阿拉伯语 C.西班牙语 D.葡萄牙语
- 13.以下选项中,全部为联合国工作语言的是 ()
- A.汉语、德语 B.英语、西班牙语
C.西班牙语、意大利语 D.俄语、意大利语
- 14.在我国的双双版纳,到处可见双层的木楼或竹楼,反映了当地的自然环境特点是 ()
- A.气候炎热少雨 B.气候炎热多雨
C.地形复杂多样 D.地形平坦开阔
- 15.(2015·福建永安市模拟)人们集中地居住在一起,就形成了聚落。下列关于聚落的说法,正确的是 ()
- A.地形平坦的地区都有聚落分布
B.有人生活的地方,就有聚落
C.气候温和湿润的平原和盆地易形成聚落
D.城市聚落的环境比乡村聚落的环境好
- 16.下列民居与其地理环境特征的组合正确的是 ()
- A.西双版纳竹楼—炎热干燥 B.北方土墙平顶—降水充沛
C.南方砖墙斜顶—降水稀少 D.西北的房屋墙壁厚—冬季寒冷
- 17.对于具有民族特色的传统民居应该 ()
- A.不要乱动,任其自然发展 B.干脆拆掉,盖高楼算了
C.把它们拆了再都按照原样重建 D.大力保护具有民族特色的传统民居

(2014·江西景德镇二模)读聚落的形成与环境的关系图,回答18~19题。



- 18.下列区域中,聚落分布密度最大的是 ()
- A.南极大陆 B.刚果盆地
- C.恒河平原 D.西西伯利亚平原

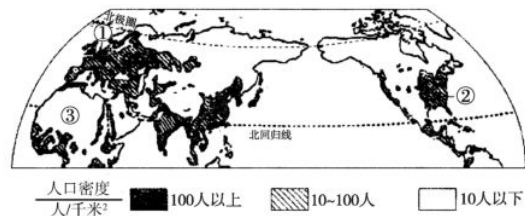
- 19.南昌市乡村聚落形态多呈团块状分布,主要影响因素是 ()
- A.地形 B.矿产资源 C.水源 D.土壤

20.(2015·山东泰安东平县模拟)下列关于世界人种、语言、宗教、聚落的叙述,不正确的是 ()

- A.使用范围最广的是英语,使用人数最多的是汉语
- B.黑色人种主要分布在非洲的中部和南部
- C.基督教目前集中分布在欧洲、北美洲、南美洲及大洋洲
- D.聚落主要分为乡村和集镇两类

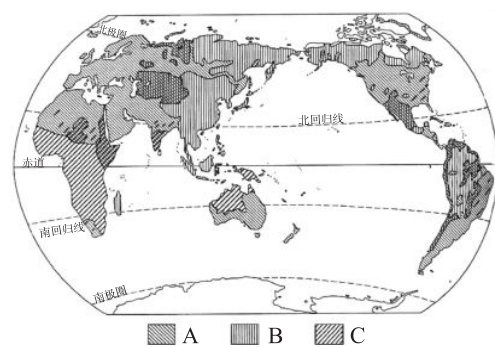
二、综合题(共60分)

21.(2016·山东东营校级模拟)读图,回答下列问题。(11分)



- (1)从纬度位置看,世界人口稠密区主要分布在_____。(2分)
- (2)①地区主要分布着_____人种;②地区的居民主要使用_____ (语言)。(2分)
- (3)③地区人口稀少,其原因是_____。(3分)
- (4)目前,世界人口已超过70亿。预计未来40年,亚洲、非洲、拉丁美洲的人口增长将约占全球人口增长的97%。亚、非、拉国家人口增长过快,产生的问题有_____。(两条即可)(4分)

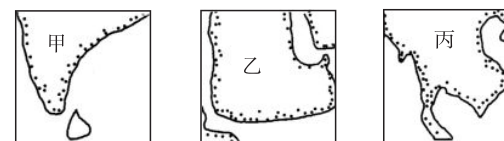
22.读世界人种分布图,完成下列问题。(每空1分,共12分)



- (1)图中,图例A、B、C分别代表_____、_____、_____分布区。
- (2)白种人主要分布在欧洲、北美洲、非洲_____部、亚洲_____部和_____部以及_____洲。
- (3)非洲中部和南部以及澳大利亚西部主要位于_____带,居民主要是_____种人,这是因为_____是影响人种分布的重要因素。在南北美洲也有黑种人分布,这是由_____造成的。

(4)在以黄种人为主的国家中,_____国是世界上人口最多的国家。

23.读亚洲南部三大半岛图,完成下列问题。(每空1分,共9分)



- (1)图中甲所在的是南亚的印度半岛,这里分布着_____人种,_____教产生于此地。_____ (语言)是此地的官方语言。
- (2)图中乙所在的是西亚的阿拉伯半岛,分布着_____人种,人们用_____ (语言)进行交流,_____教创始于此,_____是这里的宗教建筑物。
- (3)图中丙是东南亚的中南半岛,人们大多信仰_____教,大部分居民为_____人种。

24.读图,结合所学知识,完成下列问题。(每空2分,共14分)

(1)写出下面各图代表的宗教的建筑,填到相应的横线上。



A _____



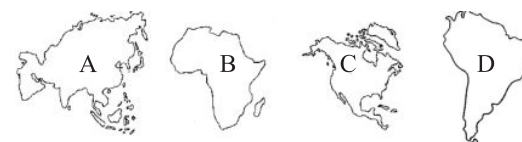
B _____



C _____

- (2)我们来自沙特阿拉伯,我们的宗教活动在上面_____处举行,我们主要说的语言是_____语。
- (3)我是一个英国人,我的脖子上经常戴着一个十字架,说明我是一个教徒,我经常到上面的_____处做礼拜。我说的语言_____是世界上使用最广泛的语言。

25.读图,完成下列问题。(每空1分,共14分)



- (1)A是_____洲,_____ (人种)主要分布在它的东部和东南部,_____ (人种)主要分布在西南部。
- (2)B是_____洲,该洲北部的居民以_____色人种为主,通用_____语,信仰_____教。该洲南部的居民以_____色人种为主。
- (3)C是_____洲,该洲北部的居民以_____色人种为主,中部地区的居民以_____色人种为主,通用_____语。
- (4)D是_____洲,该洲大部分地区通用的语言是_____。

期中基础测评卷

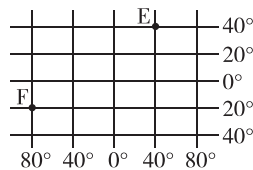
地理 七年级上册(湘教版)

时间:60分钟 满分:100分

题号	一	二	总分
得分			

一、选择题(每小题2分,共40分)

1. 下列问题中,不属于地理问题的是 ()
- A. 我国新疆生产的瓜果为什么特别甜
B. 酷寒的南极大陆为什么沉睡着万顷煤田
C. 禽流感有哪些症状
D. 世界年平均气温的分布有什么规律
2. (2015·广东梅州)下列关于地球形状和大小的叙述,正确的是 ()
- A. 地球的形状是规则的正圆球体
B. 地球表面积为5.1亿平方千米
C. 地球赤道周长约8万千米
D. 地球的形状是两极略鼓、赤道稍扁的球体
3. (2016·山东广饶县校级月考)关于经纬线的说法,正确的是 ()
- A. 经线和纬线都是半圆形
B. 纬线的长度是经线的两倍
C. 所有的经线都相交,所有的纬线都平行
D. 地球仪上一共有360条经线和180条纬线
4. (2015·湖北黄石)读右边的经纬网图,下列说法中正确的是 ()
- A. E点在F点的东北方向
B. E、F两点均位于东半球
C. E、F两点均有太阳直射现象
D. E点的地理坐标为40°N、40°W
5. (2015·湖北丹江口模拟)我们生活中的许多现象,往往蕴含着地理知识。下列现象中,与地球自转有关的是 ()
- A. 小明凌晨1点观看美国NBA球赛现场直播
B. 镇江四季分明,夏季的白天比冬季长
C. 海南岛进入春耕时节,黑龙江还是一片冰天雪地
D. 正午时,学校操场上旗杆的影子总是指向北方且在不同的季节长短不同
6. (2015·湖南邵阳一模)北京是中国的首都,前往北京旅游的人们总是想亲眼目睹天安门广场的升旗仪式,而每天早晨升旗的时间是根据日出时刻而定的。下列日期中,升旗仪式最早的是 ()



A. 5月1日 B. 7月1日 C. 8月1日 D. 10月1日

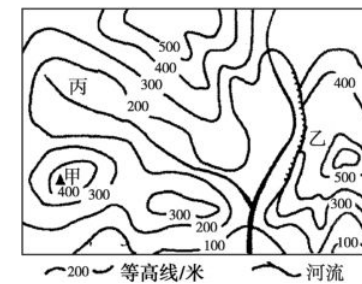
7. (2015·湖南模拟)某学校七年级一班教室里贴有四幅大小相同的地图,按比例尺由大到小排列,正确的是 ()

①世界地图 ②中国地图 ③湖南地图 ④长沙市地图
A. ①②③④ B. ④③②① C. ①②④③ D. ④③①②

8. “海拔在500米以上,面积较大,外围较陡,内部起伏较为和缓”的地形是 ()

A. 平原 B. 丘陵 C. 山地 D. 高原

右图是等高线地形图。读图,完成9~11题。



9. 甲山峰的海拔可能是 ()

A. 400米 B. 416米
C. 506米 D. 580米

10. 乙处是 ()

A. 山脊 B. 山谷
C. 鞍部 D. 陡崖

11. 丙河的流向是 ()

A. 自东南向西北 B. 自西北向东南
C. 自南向北 D. 自东向西

12. (2016·黑龙江齐齐哈尔模拟)世界上的火山、地震集中分布在 ()

A. 板块与板块交界处 B. 大洋内部
C. 两极地区内部 D. 大陆内部

13. (2016·江苏东台市期中)亚洲位于亚欧大陆的东部,北、南、东三面分别濒临三大洋,其中南面濒临 ()

A. 大西洋 B. 印度洋 C. 太平洋 D. 北冰洋

14. (2015·山东东营模拟)中国四川、云南一带多火山地震的原因是 ()

A. 位于板块的交界地带 B. 位于海洋和陆地的交界地带
C. 处在板块的内部 D. 地球的自转

15. (2015·福建漳州)当地震发生时,正确的做法是 ()



A. 乘坐电梯



B. 选择有承重墙的墙角



C. 待在床上



D. 高楼跳楼逃生

地球表面的陆地和海洋构成了地球的基本面貌。读右图并结合所学知识,完成16~17题。

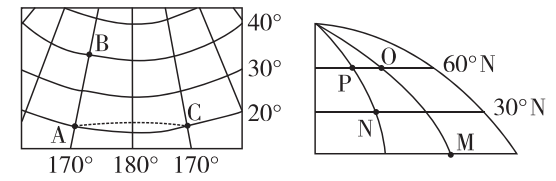
16. 据图判断,该图所表示的半球是 ()

A. 东半球 B. 西半球
C. 北半球 D. 南半球

- 17.关于海陆面积的叙述,正确的是 ()
- A.北半球陆地面积大于海洋面积 B.东半球海洋面积小于陆地面积
- C.西半球陆地面积与海洋面积相等 D.地球上任意两个半球,海洋面积均大于陆地面积
- 18.世界三大人种划分的依据是 ()
- A.人类体质方面的特征 B.“高等”或“低等”的标准
- C.人们的风俗习惯、语言等 D.居住地的自然环境
- 19.2015年,某市的总人口为699.6万,人口出生率为1.08%,死亡率为0.67%,则该市在2014年一年内人口的自然增长率为 ()
- A.7.51万人 B.2.83万人 C.1.75% D.0.41%
- 20.有关汉语的说法,正确的是 ()
- A.汉语是世界上使用人数最多的语言 B.汉语是只有汉族才使用的语言
- C.汉语是只有我们中国才使用的语言 D.汉语是世界上使用最广泛的语言

二、综合题(共60分)

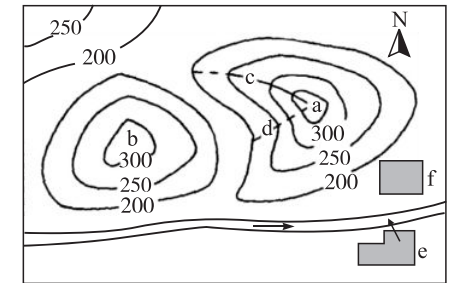
21.读经纬网图,完成下列问题。(每空1分,共15分)



- (1)图中A点在B点的_____方向,C点在B点的_____方向,C点在A点的_____方向。
- (2)若沿虚线由A点去C点,前进方向的变化过程是_____。
- (3)B点的地理坐标是_____,位于东西半球中的_____半球,位于高、中、低纬中的_____纬;C点的地理坐标是_____,位于东西半球中的_____半球,位于高、中、低纬中的_____纬。
- (4)图中N点在O点的_____方向,M点在O点的_____方向。
- (5)N点在P点的_____方向,O点在P点的_____方向。
- (6)从南、北半球看,N点位于_____半球。

22.读等高线地形图,回答下列问题。(12分)

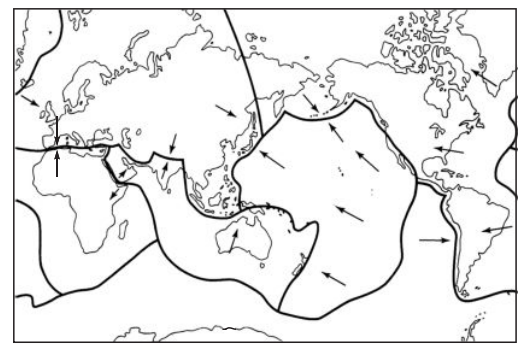
- (1)将字母与它对应的地形部位名称用直线连接起来。(6分)
- | | |
|---|----|
| a | 山顶 |
| d | 山谷 |
| c | 山脊 |
- (2)(2分)比较a、b两地的海拔,正确的是 ()



- A.a地较b地高大约100米
- B.a地较b地高大约50米
- C.a地较b地低大约100米
- D.a地较b地低大约50米

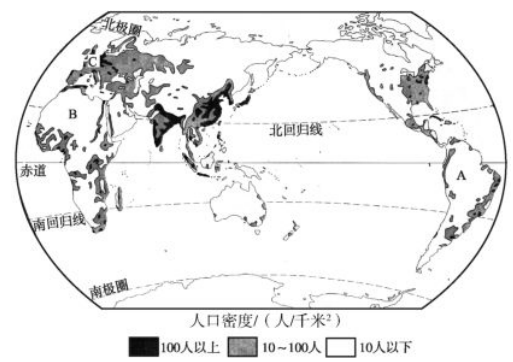
- (3)村庄f位于a地的_____方。家住e村的某同学想到河边去游玩,一般来说,往_____方向走能最快到达河边(图中箭头表示河流水流的方向)。(4分)

23.读板块构造示意图,完成下列问题。(17分)



- (1)将六大板块的名称填入图中。(6分)
- (2)几乎全是海洋的板块是_____板块。(2分)
- (3)阿拉伯半岛、印度半岛所在的板块是_____板块。(2分)
- (4)太平洋周围的火山地震带就是太平洋板块与_____板块、_____板块、_____板块和_____板块的交界地带。(4分)
- (5)我国处在_____板块、_____板块和_____板块的交界地带,因而是一个地震较为频繁的国家。(3分)

24.(2016·湖南宁远期中)读图,回答下列问题。(16分)



- (1)世界人口的分布很不均匀,其中人口最稠密的四个地区是_____,_____,_____,_____。四地的共性是:海陆位置方面,_____;气候方面,_____;地形方面,_____。(7分)
- (2)图中A、B两地,人口_____ (稠密或稀疏)。(2分)
- (3)图中C地所处的大洲的人口密度_____ (大或小)。(2分)
- (4)图中B地所处的大洲的人口自然增长率_____ (高或低)。(2分)
- (5)能不能为了减轻人口密集区资源和环境的压力,把人口迁到目前的人口稀疏区? 说说理由。(3分)