

教育部人文社会科学项目“中小学全效学习方案研究与实验”研究成果

全效学习

衔接教材

QUAN XIAO XUE XI XIAN JIE JIAO CAI

《全效学习》编写组 编



知识有效管理

湘教版

地理 DILI
八年级上册

CMS
PUBLISHING & MEDIA

湖南教育出版社

图书在版编目 (CIP) 数据

全效学习·衔接教材·地理八年级·上册:湘教版/
《全效学习》编写组编. —长沙:湖南教育出版社, 2016. 8
ISBN 978-7-5539-4277-3

I. ①全… II. ①全… III. ①中学地理课—初中—教
学参考资料 IV. ①G634

中国版本图书馆 CIP 数据核字 (2016) 第 195199 号

全效学习·衔接教材 地理 八年级上册 (湘教版)

《全效学习》编写组 编

责任编辑:徐夏楠

封面设计:田园

出版发行:湖南教育出版社

地 址:长沙市韶山北路 443 号

网 址: <http://www.hnepb.com>

电子邮箱: hnjycbs@sina.com

微信服务号:多点学习

客 服:电话 0731-85486979

经 销:湖南省新华书店

印 刷:长沙鸿发印务实业有限公司

开 本:880 mm × 1230 mm 1/16

印 张:7.5

字 数:264 千

版 次:2016 年 8 月第 1 版第 1 次印刷

书 号:ISBN 978-7-5539-4277-3

定 价:19.50 元

本书如有印刷、装订错误,可向承印厂调换

版权所有 侵权必究

目 录

第一章 中国的疆域与人口

第一节 中国的疆域 (第一课时).....	2
第一节 中国的疆域 (第二课时).....	4
第二节 中国的行政区划 (第一课时).....	7
第二节 中国的行政区划 (第二课时)	10
第三节 中国的人口	12
第四节 中国的民族	14

第二章 中国的自然环境

第一节 中国的地形 (第一课时)	17
第一节 中国的地形 (第二课时)	19
第一节 中国的地形 (第三课时)	22
第二节 中国的气候 (第一课时)	25
第二节 中国的气候 (第二课时)	28
第二节 中国的气候 (第三课时)	31
第二节 中国的气候 (第四课时)	34
第三节 中国的河流 (第一课时)	36
第三节 中国的河流 (第二课时)	39
第三节 中国的河流 (第三课时)	42

第三章 中国的自然资源

第一节 自然资源概况	45
第二节 中国的土地资源	47
第三节 中国的水资源	50
第四节 中国的海洋资源	53

第四章 中国的主要产业

第一节 农业（第一课时）	56
第一节 农业（第二课时）	59
第二节 工业（第一课时）	62
第二节 工业（第二课时）	64
第三节 交通运输业（第一课时）	67
第三节 交通运输业（第二课时）	70

精要荟萃	73
------------	----

期中质量评估试卷	85
期末质量评估试卷 1	89
期末质量评估试卷 2	93

参考答案	97
------------	----



第一章 中国的疆域与人口

第一节 中国的疆域 (第一课时)



知识管理

一、中国的地理位置

1. 半球位置:从半球位置看,我国位于南、北半球中的_____半球,东、西半球中的_____半球。
2. 海陆位置:从海陆位置看,我国位于_____东部,_____西岸,是一个海陆兼备的国家。
3. 纬度位置:从纬度位置看,我国大部分处于_____带,南部一小部分处于_____带,没有_____带。

二、中国的疆域四至

1. 领土四端点:(1)最东端位于_____省的_____主航道中心线的汇合处。(2)最西端位于_____自治区的_____高原上。(3)最南端位于海南省南沙群岛中的曾母暗沙。(4)最北端位于_____省_____以北黑龙江主航道的中心线上,是我国夏季白昼时间最长和冬季白昼时间最短的地方。
2. 地理位置造成的影响:南北纬度相差近_____,南北纬度差异大,因_____差异,造成冬季南、北气温和景观差异大;东西跨经度 60 多度,由于东西跨_____多,造成我国东、西地区的_____不同。



归类探究


例 1 下列有关我国地理位置的叙述,正确的是 ()

- A. 位于东半球,跨南北半球
- B. 领土最北端在黑龙江与乌苏里江主航道中心线的汇合处
- C. 大部分位于热带,纬度较低
- D. 西部深入亚欧大陆,东临太平洋,是个海陆兼备的国家

【点悟】我国位于东半球、北半球,亚洲东部,太平洋的西岸;领土最北端位于黑龙江省漠河县北端的黑龙

江主航道的中心线上;大部分位于中纬度地区,属北温带,南部少数地区位于北回归线以南的热带,没有寒带,只有在高山地区才有终年冰雪带。

例 2 造成甲、乙两地同一时刻所示地理现象不同的原因是 ()



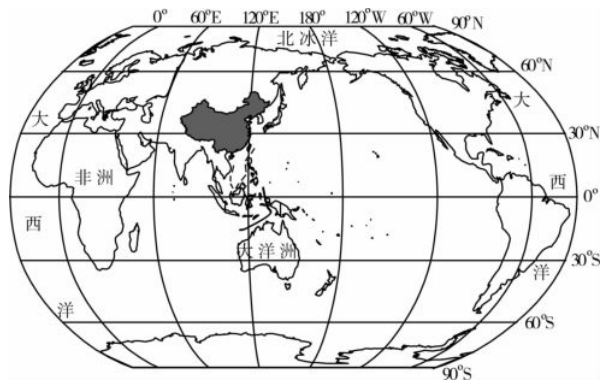
- A. 离海洋远近不同
- B. 地形差异大
- C. 经度差别大
- D. 纬度差别大

【点悟】从图中可知,甲、乙两地时间差异大,当乌苏里江洒满早晨金色阳光的时候,帕米尔高原还是满天星斗的漫漫黑夜。东西时间差异大,主要是因经度差别大造成的。



核心填图

一、我国的地理位置



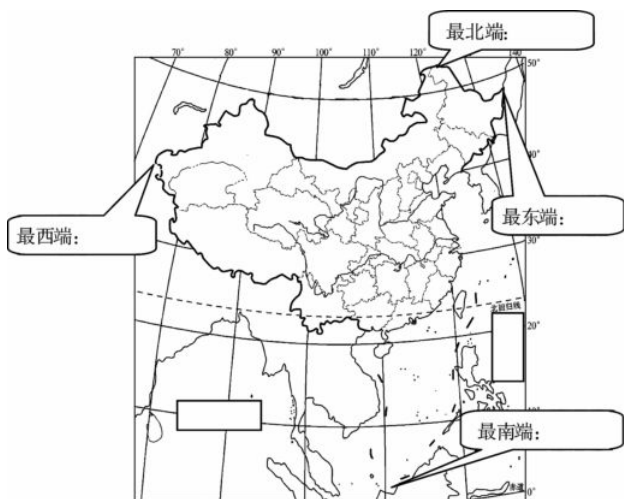
1. 在图中用不同颜色的彩笔描出赤道、 20°W 经线和 160°E 经线,并判断我国所属的半球位置。



2. 在图中用不同颜色的彩笔描出北回归线、北极圈大致位置,并判断我国所处的五带位置。

3. 在图中适当位置填写太平洋和亚洲的名称。

二、我国的疆域四至



请在图中写出印度洋、太平洋和中国四个端点的名称。



课时作业

- [2014·黑龙江哈尔滨]下列有关我国地理位置的说法正确的是 贝壳导学号 75960000 ()

①位于东半球、南半球 ②北回归线经过我国南部
③大部分位于北温带 ④东部面临大西洋 ⑤位于亚欧大陆的东部

A. ①②③ B. ②③⑤
C. ①③④ D. ③④⑤
- [2015·玉溪]“我国大部分位于中纬度,属于北温带”描述的是 ()

A. 半球位置 B. 海陆位置
C. 纬度位置 D. 相对位置
- [2015·营口]下列关于我国地理位置的叙述,正确的是 贝壳导学号 75960001 ()

A. 从东西半球看,我国位于西半球
B. 位于亚洲东部,太平洋西岸,海陆兼备
C. 大部分地区位于北温带和北寒带,没有热带
D. 从南北半球看,我国位于南半球
- [2015·郴州]春节期间,黑龙江白雪皑皑,海南却已春耕大忙,造成这一差异的主要原因是 ()

- A. 地形的影响 B. 海陆位置的影响
C. 人类活动的影响 D. 纬度位置的影响

- 我国领土的最西端在 ()

A. 漠河县北端的黑龙江主航道中心线上
B. 新疆的帕米尔高原上
C. 南沙群岛的曾母暗沙
D. 黑龙江与乌苏里江主航道中心线的汇合处
- 我国是一个幅员辽阔、疆域广大的国家,下列说法可信的是 贝壳导学号 75960002 ()


A. 我国的领土总面积约 960 万千米²,居世界第二位
B. 春节期间哈尔滨正在进行冰雕展,而海南岛的农民正在插秧
C. 山东的同学们上午做课间操时,新疆的同学们正在吃午饭
D. 我国热带面积广大,是世界上重要的热带经济作物出口国
- 我国陆上疆界长,邻国多,从经济角度看有利于发展 ()

A. 海洋事业 B. 边境贸易
C. 淡水养殖业 D. 种植业

- 读 a 图、b 图,完成下列问题。 贝壳导学号 75960003



帕米尔高原



乌苏里江边


帕米尔高原满天星斗时乌苏里江边已是艳阳高照

a



黑龙江省

2月



海南省

海南省春耕的时候黑龙江省是冰天雪地

b

(1)a 图表明我国领土东西端的同一时间的景观差异,造成这种差异的原因是_____。

(2)b 图表明我国领土南北端的同一季节的景观差异,造成这种差异的原因是_____。



第一节 中国的疆域 (第二课时)



知识管理

一、中国的领土

1. 陆地面积:约_____万千米²,差不多与_____洲的面积相等。
2. 陆地大国:在世界各国中,仅次于_____,居世界第3位。
3. 海洋大国:大陆海岸线长达1.8万多千米,所濒临的海洋自北向南依次是:_____海、_____海、_____海、_____海;台湾岛东部直接面临_____。领海宽度是_____海里。
4. 主要岛屿:第一大岛是_____岛;第二大岛是_____岛;南海诸岛以及钓鱼岛等。
5. 最南地市:_____市是管辖西沙群岛、中沙群岛、南沙群岛的岛礁及其海域的地级市。

二、中国的邻国

1. 陆上邻国:有14个,以朝鲜为起点逆时针方向分别是_____,蒙古、_____,吉尔吉斯斯坦、塔吉克斯坦、_____,巴基斯坦、印度、尼泊尔、不丹、缅甸、_____和越南。
2. 隔海相望的国家:有6个,分别是_____,日本、_____,马来西亚、文莱和印度尼西亚。



归类探究

例1 2012年7月24日,海南省三沙市正式成立。读南海示意图,三沙市地处 ()



- A. 渤海 B. 黄海
C. 东海 D. 南海

【点悟】 由图可知三沙市位于南海。

例2 [2015·上海]我国面积最大的岛屿是 ()

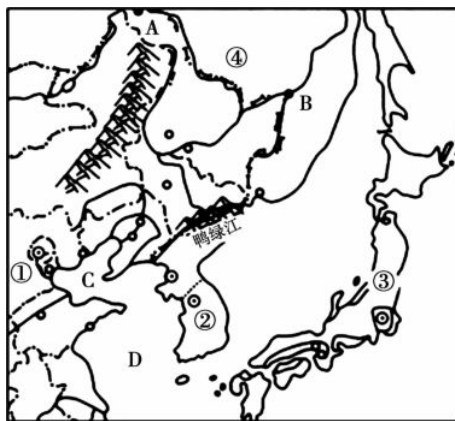
- A. 海南岛 B. 台湾岛
C. 崇明岛 D. 钓鱼岛

【点悟】 台湾岛是我国的第一大岛,海南岛是我国的第二大岛,崇明岛是我国的第三大岛。

例3 阅读下列图文资料,完成下列各题。

材料一:东北亚区域一般认为包括中国、韩国、朝鲜、日本、蒙古和俄罗斯的远东地区。

材料二:东北亚部分地区图。



(1)图中_____与我国陆上有不连续疆界;_____是与我国隔海相望的国家。(填序号)

(2)抗美援朝时期战士们唱着“雄赳赳,气昂昂,跨过鸭绿江……”的军歌奔赴前线,结合上图可知战士们从我国跨过鸭绿江所到的国家是 ()

- A. 蒙古 B. 俄罗斯
C. 朝鲜 D. 韩国

(3)下列关于④国的说法正确的是 ()

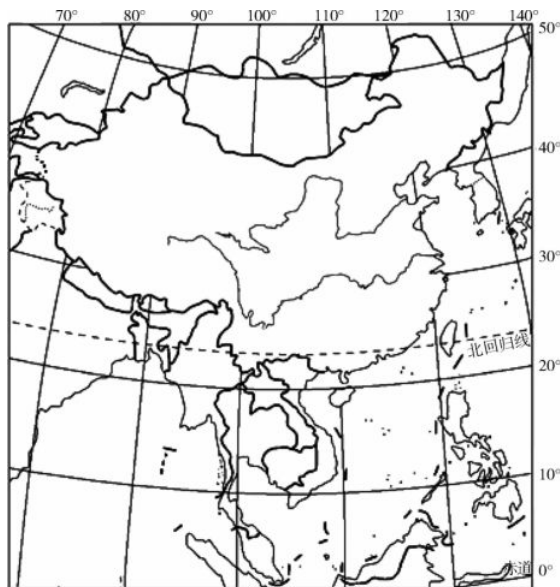
- A. 是我国邻国中陆地面积最大的国家
B. 是我国邻国中人口最多的国家
C. 是一个内陆国
D. 与我国陆上有三处相接壤

【点悟】 本题结合东北亚地区材料和东北亚区域图考查我国辽阔的国土、邻国和地理位置的优越性。第(1)题,图中显示我国的邻国中④俄罗斯与我国有不连续疆界,②韩国、③日本是与我国隔海相望的国家。第(2)题,根据图中鸭绿江的位置和抗美援朝的历史可知,与我国以鸭绿江为界的国家是朝鲜。第(3)题,④俄罗斯是世界上陆地面积最大的国家,也是我国邻国中陆地面积最大的国家,该国是海陆兼备的国家,与我国陆上有两处相接壤;我国邻国中人口最多的国家是印度。



核心填图

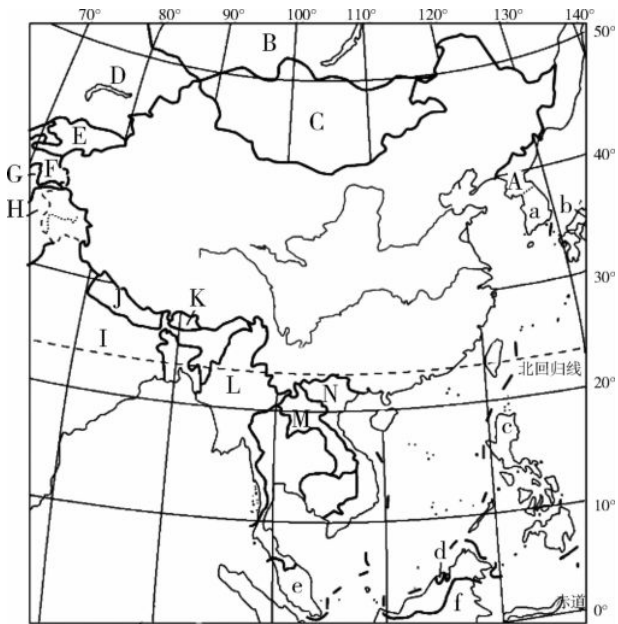
一、我国的海域、主要岛屿



1. 在图中填注①渤海、②黄海、③东海、④南海、⑤台湾海峡、⑥琼州海峡、⑦太平洋。(填序号)

2. 在图中适当位置填写 A 台湾岛、B 海南岛的名称。(填字母)

二、识记我国的邻国



1. 按逆时针方向,依次填出我国的陆上邻国。(图中大写字母标注)

- A. _____ B. _____
C. _____ D. _____

2. 填出和我国隔海相望的国家。(图中小写字母标注)

- a. _____ b. _____ c. _____
d. _____ e. _____ f. _____



课时作业

1. 下列有关我国疆域的说法,正确的是 ()

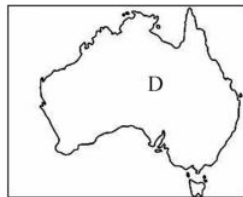
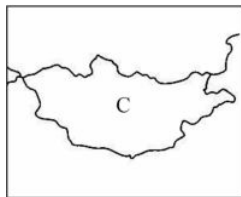
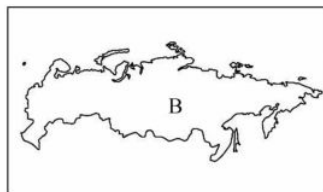
- A. 我国大陆海岸线长 2.2 万多千米
B. 我国陆上国界线长达 1.8 万多千米
C. 渤海是我国唯一的内海
D. 我国与朝鲜、越南是陆上邻国

2. 暑假期间,小光随爸妈乘船从大连出发到海南旅游,自北向南依次经过的海域是

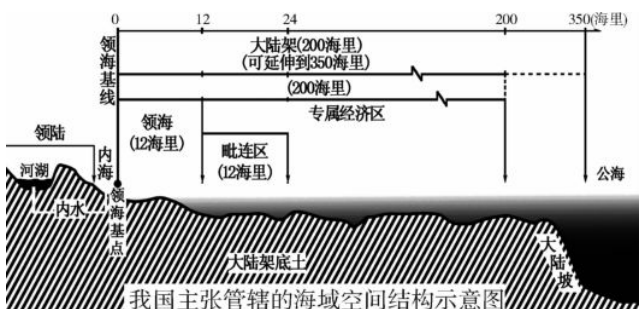
贝壳导学号 75960004 ()

- A. 渤海、黄海、东海、南海
B. 黄海、南海、东海、渤海
C. 南海、渤海、东海、黄海
D. 渤海、黄海、南海、东海

3. 从南北半球看,下列国家与中国不相同的是 ()



我国拥有 1.8 万多千米的大陆海岸线和约 300 万平方千米²的管辖海域,面积在 500 米² 以上的海岛有 6 500 多个。领海基线是测量沿海国领海、毗连区、专属经济区和大陆架的起点。下图是我国主张管辖的海域空间结构示意图。据此完成 4~6 题。



4. 我国主张的领海宽度是 ()

- A. 12 海里 B. 24 海里
C. 200 海里 D. 350 海里

5. 我国主张管辖的海域总面积与陆地面积之和为 ()

- A. 300 万平方千米² B. 600 万平方千米²
C. 900 万平方千米² D. 1 260 万平方千米²



6. 渤海和琼州海峡位于我国领海基线向内一侧,属于我国的 ()

- A. 毗连区 B. 海
C. 内海 D. 专属经济区

7. 在我国的陆上邻国中,与我国有不连续疆界的国家是

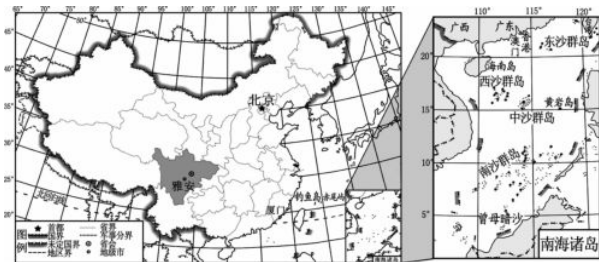
贝壳导学号 75960005 ()

- A. 俄罗斯、蒙古 B. 哈萨克斯坦、日本
C. 俄罗斯、印度 D. 印度、缅甸

8. “驴友组合”旅游爱好者从中国与朝鲜交界处的鸭绿江出发,沿我国陆上国界线旅游,沿途不可能经过的国家是 ()

- A. 俄罗斯、蒙古 B. 印度、不丹
C. 马来西亚、泰国 D. 越南、老挝

9. 阅读中国政区图及南海诸岛图,完成下列各题。



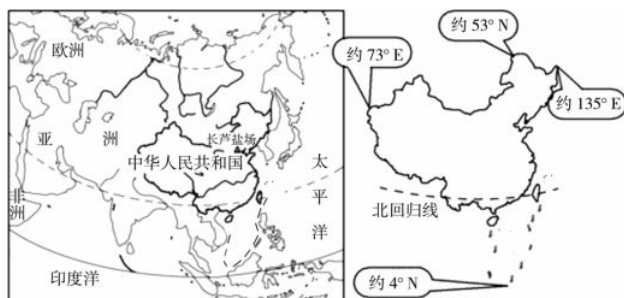
(1)我国最南端与最北端纬度相差约 _____ 度,已知纬度每相差 1 度实际长度相差 111 千米,我国南北相距约 _____ 千米。

(2)钓鱼岛自古以来就是我国的领土,它位于 _____ 岛的东北部。

(3)三沙市是我国于 2012 年设立的地级市,管辖范围包括散布在广阔南海中的 _____ 群岛、_____ 群岛和 _____ 群岛等岛屿岛礁及其海域。

10. 读图,完成下列问题。

贝壳导学号 75960006



(1)我国濒临的四个海洋中属于内海的是 _____。

(2)我国陆地面积约 _____ 千米²。领土最南端和最北端约跨纬度 _____ 度。

(3)我国一盐商欲将图中长芦盐场的盐运往海南岛,其途中所经的海域依次为: _____。



第二节 中国的行政区划 (第一课时)



知识管理

一、中国的行政区划

1. 分 级:我国现行的行政区划基本上划分为____、____、____三级。国家还根据实际情况需要设立_____。

2. 数 量:我国共有_____个省级行政区域单位,包括_____个省、_____个自治区、_____个直辖市和_____、_____两个特别行政区。

二、中国省级行政区域单位的名称、简称

1. 简称来源:省级行政区域单位简称来源有三类:A类,多数采取各省区名称的一个字或几个字作简称;B类,用历史上的古地名;C类,用山、河、湖名作简称。

京、辽、吉、苏、浙、贵、云、陕、甘、宁、新、港、台等简称属_____类,晋、鲁、豫、秦、蜀等简称属_____类,湘、赣、闽等简称属_____类。

“秦晋之好”是指_____省和_____省,“黔驴技穷”是指_____省,“得陇望蜀”是指_____省和_____省。

2. 两个简称:有两个简称的省级行政区域单位有_____个。



归类探究

例 1 [2015·云阳]在我国现行的行政区划中,香港、澳门属于 ()

- A. 省 B. 自治区
C. 特别行政区 D. 直辖市

【点悟】我国共有 34 个省级行政单位,包括 23 个省、5 个自治区、4 个直辖市和香港、澳门两个特别行政区。

例 2 我国纬度最高和最低的省区(简称)分别是 ()

- A. 黑和琼 B. 黑和粤
C. 新和台 D. 内蒙古和琼

【点悟】此题考查了特殊省区的位置,我国纬度最高和最低的省区也就是最靠北和最靠南的省区,我国领土最北端在黑龙江省漠河以北的黑龙江主航道中心线上(53°N),最南端在海南省的曾母暗沙(4°N)。

例 3 奶奶做饭最喜欢使用山西老陈醋。山西的简称是 ()

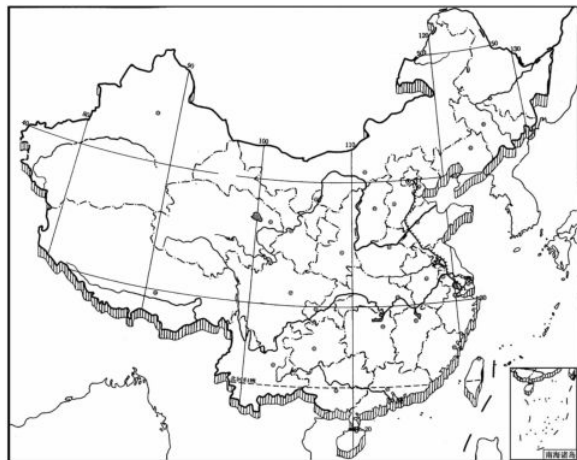
- A. 冀 B. 皖
C. 滇 D. 晋

【点悟】该题考查我国省级行政区域单位的名称与简称。山西省简称晋。我国省级行政区域单位的简称来历不同,因此规定也不同。一般有三种情况。一是用全称中的一个或几个字来表示,如京、津、黑、吉、辽、青等;二是用境内的著名山脉或河流的名称表示,如闽、赣、湘、皖等;三是用该地区的古地名表示,如鲁、晋、秦、陇等。



核心填图

一、我国 34 个省级行政区域单位的位置、名称



1. 写出含有江、河、湖、海字样的省级行政区域单位的名称,并在图上适当的位置填写。

“江”: _____、_____、_____、_____;

“河”: _____、_____;

“湖”: _____、_____;

“海”: _____、_____。

2. 写出含有东、南、西、北字样的省级行政区域单位的名称,并在图上适当的位置填写。

“东”: _____、_____;

“南”: _____、_____、_____、_____;

“西”: _____、_____、_____、_____、_____;

“北”: _____、_____、_____。



二、我国 34 个省级行政区域单位的简称



写出图中字母所代表的省级行政区域单位的简称。

- A _____; B _____;
 C _____; D _____;
 E _____; F _____;
 G _____; H _____;
 J _____; K _____;
 M _____; N _____。

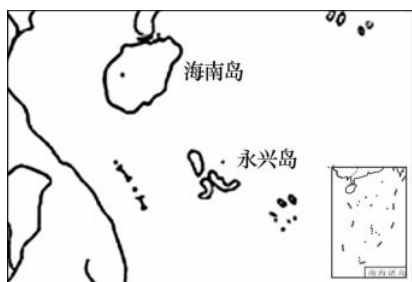


课时作业

1. [2015·聊城]有关我国疆域与行政区划的叙述,正确的是 贝壳导学号 75960007 ()

- A. 我国陆地总面积居世界第一位
 B. 我国位于亚洲东部、太平洋西岸,是一个海陆兼备的国家
 C. 我国疆域辽阔,北回归线穿过我国南部,北极圈穿过我国北部
 D. 北回归线自东向西穿过的省级行政区域单位依次是台、闽、桂、云

[2015·永州]海南省三沙市是我国纬度最低的地级市,驻地在永兴岛。读图,完成 2~3 题。



2. 海南省的简称是 ()
- A. 粤 B. 台
 C. 琼 D. 闽

3. 永兴岛所属的海域是 ()
- A. 渤海 B. 黄海
 C. 东海 D. 南海

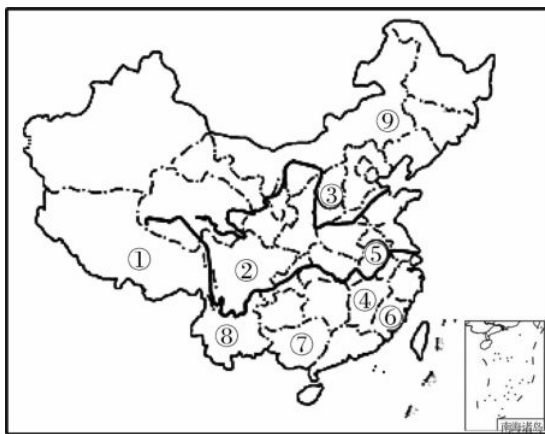
4. 下列车牌号所表示的省区中具有两个简称的是 ()



5. [2015·长沙]春节期间,湘南某镇街道上出现大量车牌以粤 B 开头的车辆,这些车辆来自 ()
- A. 福建省 B. 广东省
 C. 辽宁省 D. 吉林省
6. 妈祖是我国古代民间传说中海上渔民和船工的保护神,妈祖文化是沿海民俗文化的组成部分。下列省区中妈祖文化不太盛行的是 ()
- A. 山东 B. 福建
 C. 台湾 D. 四川
7. [2015·黄石]读下列省(区)轮廓图,“陇”和“蜀”分别是哪两个省(区)的简称 贝壳导学号 75960008 ()



- A. ①② B. ②③
 C. ①③ D. ②④
8. 读中国政区图,回答问题。 贝壳导学号 75960009



(1) 写出下列数码所代表的省级行政区域单位名称:

① _____, ② _____。

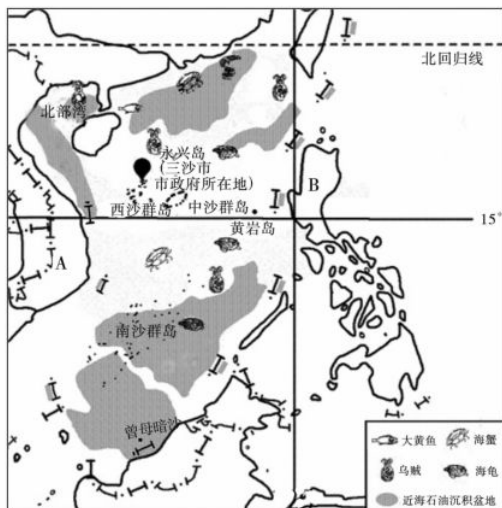
(2) 写出下列数码所代表的省级行政区域单位简称:

③ _____, ④ _____。

(3) ⑦⑧⑨三个省级行政区域单位中,不是民族自治区的是 _____, 被北回归线穿越的是 _____。(写出省级行政区域单位的名称)



9. 2012年6月21日国务院决定设立三沙市,它是中国最南端的城市,为海南省第三个地级市,下辖西沙群岛、南沙群岛、中沙群岛的岛礁及其海域。读图,回答下列问题。



(1) 三沙市所处的海域是_____ , 所处的温度带是_____。

(2) 三沙市所在省级行政区域单位的简称是_____。

(3) 写出字母 A、B 表示的国家的名称: A _____ ;
B _____。

(4) 黄岩岛是我国的固有领土, 它位于三沙市政府所在地的_____ 方向。

(5) 长期以来, 我国南海海域受到周边国家的非法占有和掠夺。试从资源和交通地位两方面简要分析其原因: _____



第二节 中国的行政区划 (第二课时)



知识管理

中国省级行政区域单位的分布

- 1. 临海省区:**我国临海的省级行政区域单位自北向南依次有辽宁、河北、天津、_____、江苏、上海、_____、福建、台湾、广东、香港、澳门、_____、海南 14 个。
- 2. 陆疆省区:**我国陆上边疆省区从辽宁开始逆时针方向有:辽、吉、黑、内蒙古、甘或陇、新、_____、云或滇、_____ 9 个。(填简称)
- 3. 长江干流流经省区:**长江依次经过青、藏、川或蜀、_____、渝、_____、湘、_____、皖、苏、_____ 11 个省市区。(填简称)
- 4. 黄河干流流经省区:**黄河依次经过青、川或蜀、甘或陇、宁、内蒙古、晋、陕或秦、豫、鲁 9 个省区。
- 5. 湖南相邻省区:**湖南的相邻省区北为_____,东为_____,西有重庆、_____,西南有广西,南有_____。



归类探究

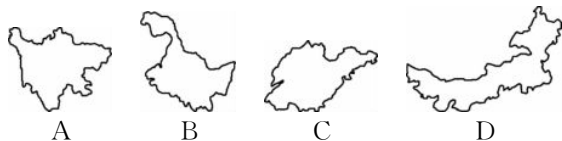
例 1 [2015·呼和浩特]属于黄河流域,且与内蒙古相邻的省区有 ()

- A. 甘、宁、陕、冀 B. 甘、宁、陕、晋
C. 甘、宁、晋、冀 D. 陕、晋、冀、辽

【点悟】与内蒙古自治区相邻的省区有黑龙江省、吉林省、辽宁省、河北省、山西省、陕西省、宁夏回族自治区、甘肃省 8 个省区,其中甘肃省、宁夏回族自治区、陕西省和山西省位于黄河流域。

例 2 中国各地戏曲丰富多样,如北京以京剧享誉全球。川剧是下列哪个省级行政区域单位的代表剧种

()

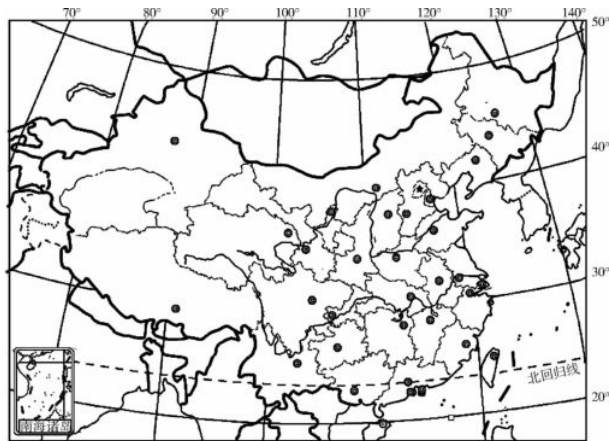


【点悟】本题看似考查剧种,其实在考查省级行政区域单位的轮廓。从图中可以看出,A是四川省,B是黑龙江省,C是山东省,D是内蒙古自治区。该题以戏曲剧种为背景来考查对省级行政区域单位轮廓的识别及简称的记忆。川剧是四川省的代表剧种。



核心填图

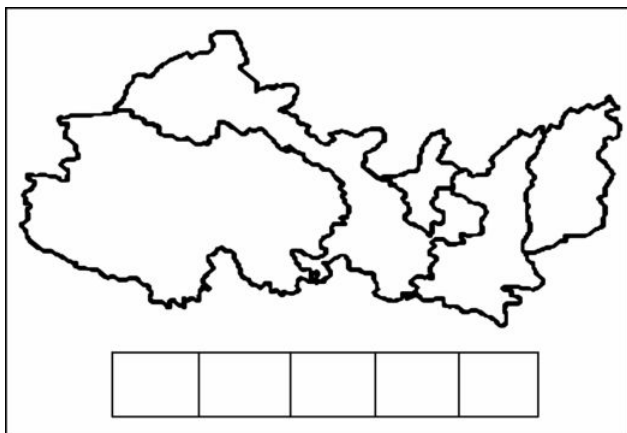
一、我国 34 个省级行政区域单位的行政中心



图中小圆圈代表的是省级行政区域单位的行政中心,结合我国 34 个省级行政区域单位的特征,在图中对应的位置填写我国 34 个省级行政区域单位的行政中心名称。

二、我国重要省级行政区域单位的轮廓形状

读某区域轮廓示意图,从西向东,把各省级行政区域单位的简称填在下面的表格中。

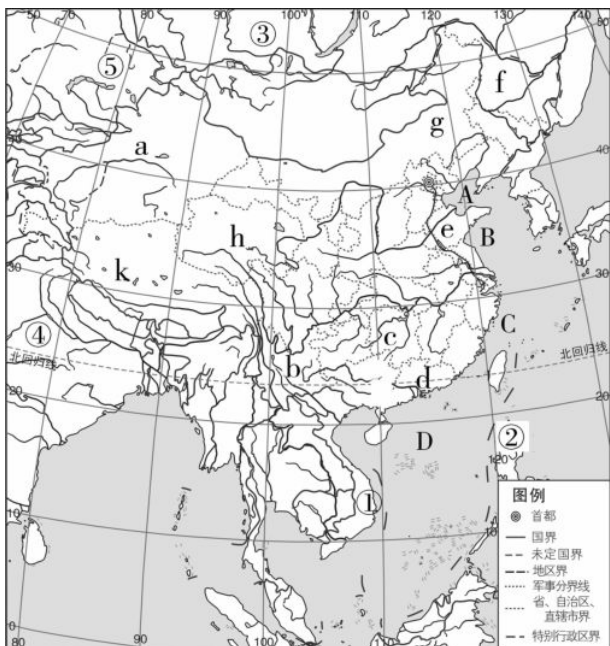




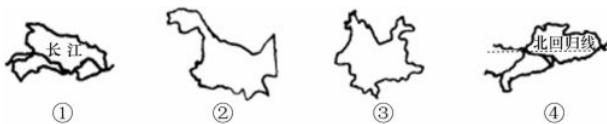
课时作业

[2015·扬州]读图,完成1~4题。

贝壳导学号 75960010

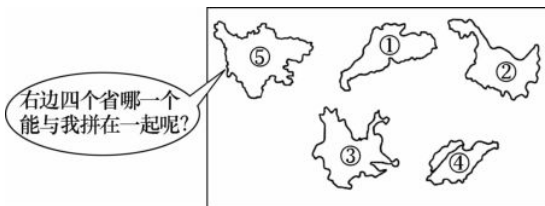


- 关于我国地理位置的叙述,正确的是 ()
 - 我国位于北半球,大部分领土在低纬度地区
 - 我国位于东半球,与蒙古隔海相望
 - 北回归线穿过我国南部,北极圈穿过北部
 - 我国是一个海陆兼备的国家
- ①②③④⑤分别代表我国的邻国,其中代表菲律宾和哈萨克斯坦的数字分别是 ()
 - ①③
 - ②⑤
 - ②④
 - ③④
- 图中字母与省级行政区名称及其行政中心对应正确的是 ()
 - a—新疆维吾尔自治区—拉萨
 - f—黑龙江省—哈尔滨
 - g—甘肃省—呼和浩特
 - h—云南省—成都
- A、B、C、D代表我国东部濒临的海洋,我国领土最南端的曾母暗沙位于图中的 ()
 - A海域
 - B海域
 - C海域
 - D海域
- [2015·云阳]下列省区中适宜种植热带作物和生产海产品最多的是 ()

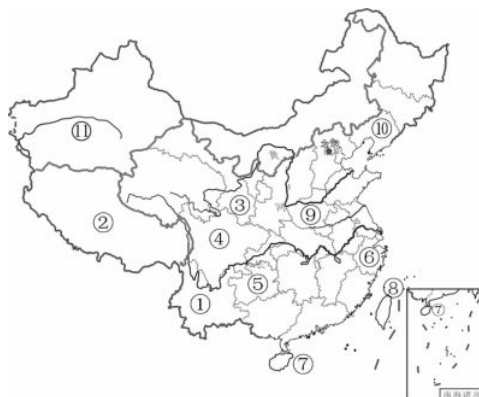


- ①
- ②
- ③
- ④

- [2015·张家界]在做中国政区拼图游戏时,与⑤省南侧相邻的省是 贝壳导学号 75960011 ()



- ①
 - ②
 - ③
 - ④
- [2015·垫江]读“中国疆域和政区略图”,完成下列各题。 贝壳导学号 75960012



- 填注下列数码所代表的省区名称。
 - ① _____, ② _____, ③ _____,
 - ④ _____, ⑤ _____, ⑥ _____。
 - 填注数码表示的海洋和岛屿名称。
 - ⑦ _____ 岛, ⑧ _____ 海。
 - 写出图示所在省区的省会城市名称。
 - ⑨ _____, ⑩ _____。
- 下图是我国局部政区图,读图文材料回答问题。



- 材料:2012年10月,中国作家莫言获得诺贝尔文学奖。莫言的乡土作品充满着“怀乡”的情感,写的是发生在山东高密东北乡的传奇。
- 图中A是 _____ 省,其行政中心是 _____。
 - 莫言的家乡位于B、C、D三省中的 _____ 省(填字母),该省的简称是 _____。
 - 图中既临黄海又临渤海的省级行政区域单位的行政中心是 _____。
 - ①处为黄河,从图上看注入 _____ 海。



第三节 中国的人口



知识管理

一、我国的人口数量及人口的增长

1. 人口数量:据 2010 年全国第六次人口普查结果,我国总人口为_____亿,约占世界人口总数的_____,是世界上人口最多的国家。

2. 人口增长:我国人口增长速度较快,人口基数大。

二、人口分布特点

我国人口的地理分布特点是:大致以_____为界线,东部地区人口_____,西部地区人口_____。

三、我国的人口政策

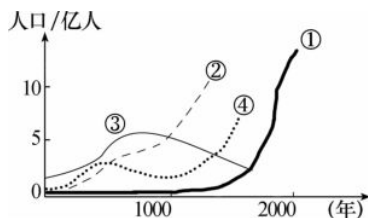
1. 增长原因:我国人口持续增长的原因是人口_____大,_____比重较高。

2. 人口国策:我国人口的基本国策是实行_____,控制人口数量,提高人口素质。



归类探究

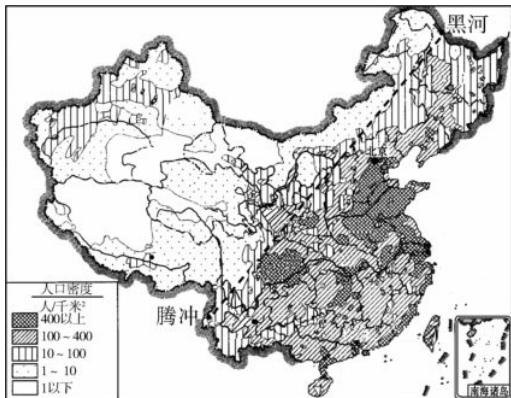
例 1 下图四条人口增长曲线中,与我国实际相符的是 ()



- A. ① B. ②
C. ③ D. ④

【点悟】 本题考查我国人口增长的特点。新中国成立前,由于自然灾害、战争、瘟疫等原因我国人口增长缓慢。新中国成立后,社会稳定,经济发展,医疗卫生条件改善,我国人口增长迅速。实行计划生育后,增长速度有所减缓。

例 2 读中国人口分布图,我国人口的地理分布特点是 ()



A. 山区人口稠密,平原人口稀疏

B. 内陆人口稠密,沿海人口稀疏

C. 农村人口稠密,城市人口稀疏

D. 东部人口稠密,西部人口稀疏

【点悟】 本题考查我国人口的分布,我国沿黑河—腾冲一线,东部人口稠密,西部人口稀疏。东部耕地多,气候好,农业发达,生产的粮食多,能够养活的人口多。东部地区交通方便,工商业发达,城镇多,城镇人口集中也是人口密度大的重要原因。

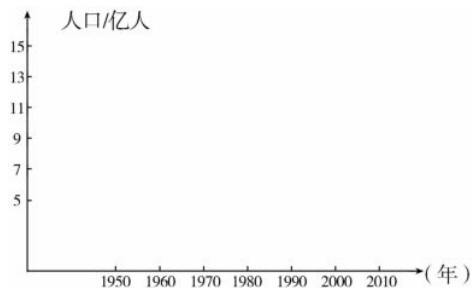


核心填图

一、我国人口数量和人口增长

依据下列数据(不包括香港、澳门特别行政区和台湾省)绘制我国 1949 年后的人口增长曲线。

年份	1950	1960	1970	1980	1990	2000	2010
人口/亿人	5.5	6.6	8.5	9.9	11.4	12.7	13.4



二、我国人口分布



中国省级行政单位人口密度分布图


1. 在图上把黑河、腾冲两城市用圆点标注出来,并用直线标注出我国的人口地理分界线。简要说明此线两侧的人口分布特点。

2. 在图中填写出我国人口密度大于 500 人/千米² 的省区和我国人口密度在 50 人/千米² 以下的省区。

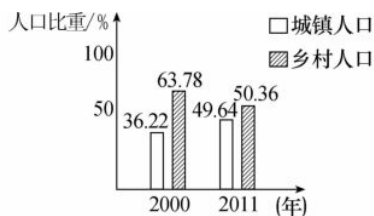


课时作业

[2015·宜宾]读“2006—2011年中国(除港澳台外)人口数量及自然增长率变化情况图”,完成1~2题。

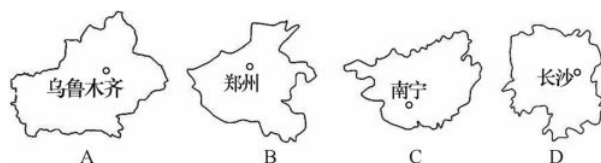


1. 根据图可知,2006年到2011年,我国人口变化的趋势是 贝壳导学号 75960013 ()
- A. 人口总量停止增长
B. 人口总量呈逐渐下降的趋势
C. 人口增长速度越来越快
D. 人口总量增加,但增长速度下降
2. 有关我国人口增长问题的叙述,正确的是 ()
- A. 人口基数庞大,出现负增长最好
B. 人口增长越慢越好,最好停止增长
C. 地大物博,人口增长再快也无妨
D. 人口增长必须与社会、经济的发展相适应,与资源、环境相协调
3. [2015·东营]读我国人口资料统计图表,据此判断下列叙述正确的是 ()

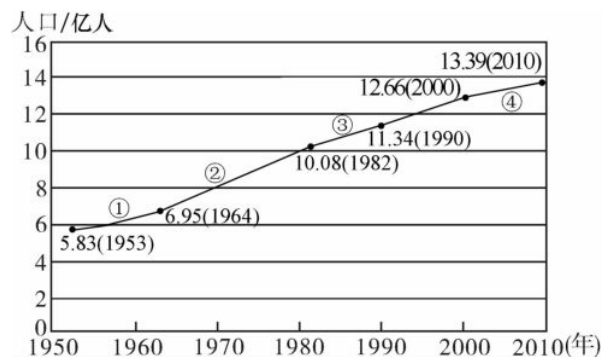


年龄结构	16岁以下	16~60岁	60岁以上
2000年	22.89%	66.78%	10.33%
2011年	16.60%	70.14%	13.26%

- A. 我国劳动力资源十分短缺
B. 社会养老负担逐渐加重
C. 16岁以下的人口比重增加
D. 我国城镇人口不断减少
4. [2015·聊城]表示我国人口分布疏密的地理分界线是 贝壳导学号 75960014 ()
- A. 大兴安岭—太行山—巫山—雪峰山
B. 大兴安岭—阴山—贺兰山—巴颜喀拉山—冈底斯山
C. 昆仑山—祁连山—横断山
D. 黑河—腾冲一线
5. 下列省级行政区域单位中位于黑河—腾冲一线以西的是 贝壳导学号 75960015 ()



下图为我国六次人口普查的数据(不包括港、澳、台人口),读图回答6~7题。 贝壳导学号 75960016

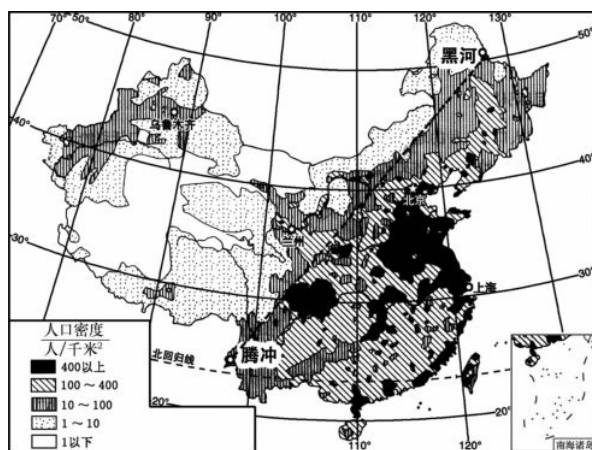


6. 图中反映出我国人口增长速度最快的时段是 ()
- A. ①段
B. ②段
C. ③段
D. ④段
7. 图中反映出目前我国的人口现状是 ()
- A. 人口增长速度过快
B. 老年人口比重大
C. 人口数量多
D. 劳动力素质较低
8. 根据下列材料,回答问题。

材料一:我国六次人口普查的数据(不包括港、澳、台人口)。

年份/年	1953	1964	1982	1990	2000	2010
人口/亿人	5.83	6.95	10.08	11.34	12.66	13.39

材料二:中国的人口密度分布图。



中国的人口密度分布图

- (1)根据材料一可知,2000年至2010年的10年间,我国人口增加了_____亿人。与1990年至2000年的10年间增加的人口数相比较,我国近十多年来,人口的增长速度明显_____ (上升、下降),这说明了我国实行的_____人口基本国策已见成效。
- (2)根据材料二可知,我国人口分布的主要特点是_____。



第四节 中国的民族



知识管理

一、民族构成

我国共有_____个民族,_____族人口最多,少数民族_____个,少数民族人口数量最多的是_____族,集中分布在_____。

二、民族分布

1. 分布特点:“_____、_____、_____。”
2. 分布地区:汉族分布最广,主要集中在_____和_____。少数民族则主要分布在_____、_____、_____。

三、民族风情

试将以下图表中的代号与其代表的民族及节庆活动进行连线匹配。

A 蒙古族	a 雪顿节: 每年八九月间, 举行展佛、赛牦牛、马术表演、群众游园等活动。
B 藏族	b 开斋节: 伊斯兰历十月一日, 家家户户早早打扫庭院巷道, 换上喜爱的新衣, 上午八点汇聚清真寺, 面向圣地麦加礼拜。
C 回族	c 泼水节: 农历清明节后, 人们互相泼水, 被泼到的水越多, 感觉越吉祥、幸福、健康。
D 傣族	d 元宵节: 农历正月十五, 人们展花灯, 猜灯谜, 吃汤圆, 共度元宵节。
E 汉族	e 那达慕大会: 每年夏秋季节, 牧民们聚集在草原上, 举行赛马、射箭、摔跤等竞赛, 以表达丰收的喜悦。



归类探究

例 1 我国是一个多民族国家, 其中少数民族有 ()

- A. 56 个 B. 55 个
C. 54 个 D. 53 个

例 2 [2015·济南]有关中国人口、民族的叙述, 正确的是 ()

- A. 人口分布的特点是西部密集, 东部稀疏
B. 人口总数居世界第二位
C. 民族“大散居, 小聚居, 交错杂居”分布
D. 人口最多的少数民族是藏族

【点悟】我国人口分布的特点是西部稀疏, 东部密集; 我国是世界上人口最多的国家; 我国民族的分布特点是大散居、小聚居, 交错杂居; 我国人口最多的少数民族是壮族。

例 3 某电视台播出“真”“假”竞猜游戏节目, 请根据少数民族朋友的叙述, 判断谁是真的 ()

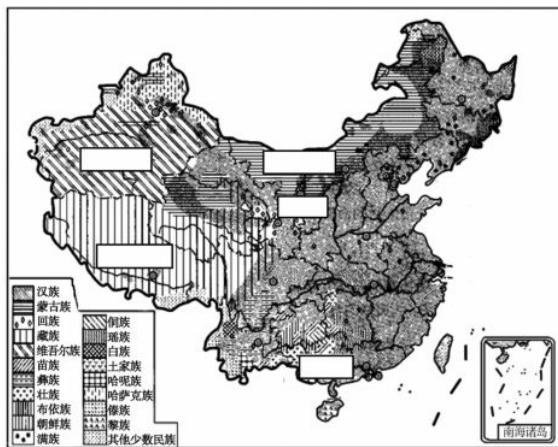
- A. 朝鲜族朋友说: 风雨桥是我们民族古老的建筑
B. 藏族朋友说: 摔跤是藏族男子最喜爱的运动项目
C. 满族朋友说: 马头琴艺术是我们民族的传统艺术
D. 傣族同胞说: 泼水节是我们民族最盛大的节日

【点悟】本题考查各民族的风俗习惯。风雨桥是苗族、侗族的传统建筑, 摔跤是蒙古族男子最喜爱的运动项目, 马头琴是蒙古族的传统乐器, 泼水节是傣族的传统节日。



核心填图

一、我国民族的分布



在图中我国五大民族自治区中填写主要少数民族的名称。

二、民族文化特色

在图表中填写对应传统民族文化和习俗的少数民族