

CHUZHONG BIYE XUEYE KAOSHI MONI SHIJUAN

本书编写组 编

湘教考苑

初中毕业学业考试

地理模拟试卷



CS 湖南教育出版社

致土地的沙漠化加剧，造成这种状况的主要原因是：

- A. 人口增长过快
- B. 人口增长过慢，劳动力不足
- C. 所产粮食大多出口
- D. 工业匮乏，单一的采矿业

5. 地球是人类赖以生存的家園，地球表面积约为

- A. 960 万平方千米
- B. 4 400 万平方千米
- C. 3.2 亿平方千米
- D. 5.1 亿平方千米

6. 吉首乾州古城历史源远流长，具有四千二百多年的历史，夏商时期这里就有土著先民繁衍生息，秦汉时期这里是重要的商埠码头，南来北往的驿站、驿道在此交会，水上交通发达，是当时经济较为发达的地方，下列活动有利于保护古城文化遗产的是：

- A. 在古城墙上刻写“某某于某时到此一游”
- B. 古城风景区提倡游客自捡垃圾
- C. 古城内修建高大的高层建筑物
- D. 商贩在古城内设置饮食、烧烤摊点

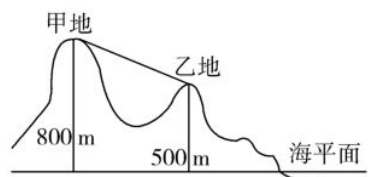
7. 2015 年首个登陆我国的台风——第八号台风“鲸鱼”升级为强热带风暴级。中央气象台发布台风黄色预警，中国气象局启动重大气象灾害(台风)Ⅳ级应急响应。6 月 22 日 18 时 50 分前后，“鲸鱼”在海南省万宁市沿海登陆，登陆时中心附近最大风力有 10 级，风速 25 米/秒，下列天气符号中，表示台风的是：



8. 当乌苏里江上旭日东升时，帕米尔高原还是繁星满天，这种现象的原因是

- A. 我国纬度跨度大
- B. 我国地势落差大

- C. 我国经度跨度大
D. 我国地形复杂多样
9. 划分发达国家和发展中国家的依据是
- A. 军事力量强弱
B. 开发历史早晚
C. 经济发展水平
D. 人口多少
10. 我国冬季最冷和夏季最热的地方是：
- A. 漠河和海南岛
B. 漠河和吐鲁番盆地
C. 哈尔滨和吐鲁番盆地
D. 拉萨和漠河
11. 我国夏季最早见到日出的省区是
- A. 黑龙江
B. 上海
C. 广东
D. 海南
12. 我国地势西高东低，呈阶梯状分布，对其他地理要素产生很大影响，下列说法正确的是：
- ①地势西高东低，使得大多数河流自西向东流入太平洋，有利于沟通东西的交通
②地势西高东低，有利于从海洋来的湿润气流深入内地给内地带来降水
③河流流经不同的地势阶梯，落差大，水能资源丰富
④长江、黄河等河流顺地势自西向东流入东海
- A. ①②③
B. ②③④
C. ①③④
D. ①②④
13. 下列观点符合我国可持续发展的是：
- A. 多子多孙多福气
B. 子孙满堂，喜气洋洋
C. 有子有女才算好
D. 少生优生，幸福一生
14. 读右图，甲、乙两地的相对高度是
- A. 800 米



- B. 1 300 米
 - C. 300 米
 - D. 600 米
15. 下列民族中，关于传统节日或民族乐器对应正确的是：
- A. 彝族—马头琴
 - B. 傣族—长鼓
 - C. 蒙古族—那达慕大会
 - D. 壮族—泼水节
16. 2015 年 7 月 4 日，在德国波恩举行的第 39 届世界遗产大会上传来消息，湖南老司城遗址顺利通过审议，成为全国第 48 处世界遗产，老司城遗址也成为湖南省首个世界文化遗产，老司城位于
- A. 凤凰
 - B. 吉首
 - C. 永顺
 - D. 古丈
17. 关于我国年降水量分布总趋势的描述，最准确的一项是
- A. 自北向南递减
 - B. 自西向东递减
 - C. 自西北向东南递减
 - D. 自东南向西北递减
18. 我国濒临的海洋自北向南依次是
- A. 渤海、东海、黄海、南海
 - B. 渤海、黄海、东海、南海
 - C. 东海、黄海、渤海、南海
 - D. 黄海、东海、渤海、南海
19. 影响我国夏季降水的主要因素是
- A. 夏季风
 - B. 冬季风
 - C. 东北风
 - D. 西北风
20. 同样图幅的地图，你会采用大比例尺的是
- A. 吉首市政区图
 - B. 江西省政区图
 - C. 中国政区图

D. 世界政区图

近年来，我国不少地区都受到雾霾天气影响，多地 PM2.5 指数直逼最大值，空气质量达到六级严重污染。2014 年 1 月 4 日，国家减灾办、民政部首次将危害健康的雾霾天气纳入自然灾情进行通报。根据材料回答 21~24 题。





21. 以下空气质量等级最优的是

- A. 一级
- B. 三级
- C. 五级
- D. 六级

22. 雾霾中的微小固体颗粒物的来源有：

- ①汽车尾气 ②工业生产 ③水体蒸发 ④火力发电
- A. ①②③
 - B. ②③④
 - C. ①③④
 - D. ①②④

23. 霾的天气符号用“∞”表示，那么雾霾的天气符号是

- A.  ∞
- B.  ∞
- C.  ∞
- D.  ∞

24. 下列人类活动中，有利于改善雾霾天气环境质量的是

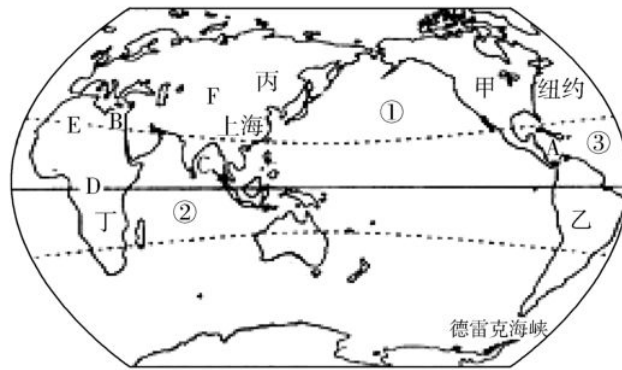
- A. 排放工业废气
- B. 植树造林
- C. 燃烧垃圾
- D. 工程建设粉尘的产生

25. 我国南方地区和北方地区的地理分界线经过的山脉是

- A. 大兴安岭
- B. 阴山
- C. 冈底斯山
- D. 秦岭

二、非选择题(共 50 分)

26. 读世界海陆分布示意图，完成下列要求。(16 分)



世界海陆分布示意图

(1) 辨认图中数字代表的大洋名称：

① _____ ② _____ ③ _____

(2) 辨认图中文字序号代表的大洲名称：

甲：_____ 乙：_____

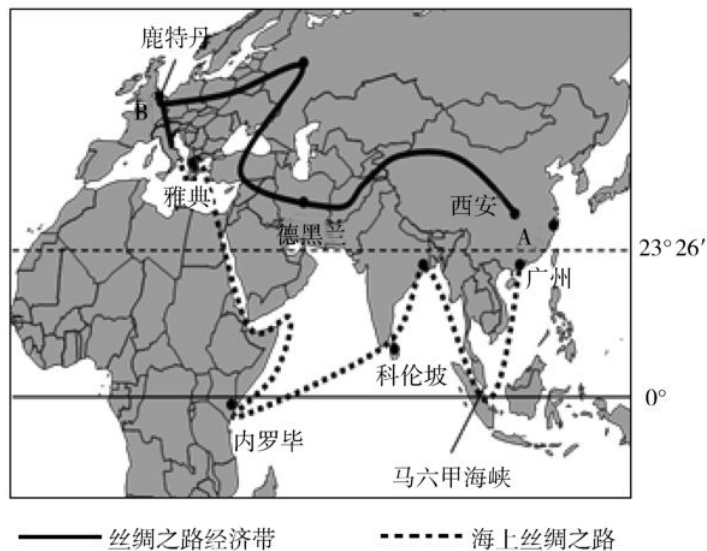
(3) 在世界航线上，有很多海峡和运河是重要的交通要道。图中

甲、乙两洲的洲界线 A 是_____，

丙、丁两洲的洲界线 B 是_____，

沟通①、②两大洋的海峡 C 是_____。

27. “一带一路”是“丝绸之路经济带”和“21 世纪海上丝绸之路”的简称，其贯穿欧亚大陆，东边连接亚太经济圈，西边进入欧洲经济圈。“一带一路”是具有强大辐射能力的贸易和交流网络。阅读“一带一路”示意图，回答问题。(14 分)



(1) “海上丝绸之路”沿线正确的是

A. 海上丝绸之路经过马六甲海峡

- B. 走海上丝绸之路可经过日本
- C. 海上丝绸之路经过巴拿马运河
- D. 海上丝绸之路经过俄罗斯

(2) 陆上丝绸之路没有经过的地区是

- A. 中亚
- B. 西亚
- C. 东南亚
- D. 东亚

(3) 海上丝绸之路没有经过的大洲是

- A. 北美洲
- B. 亚洲
- C. 欧洲
- D. 非洲

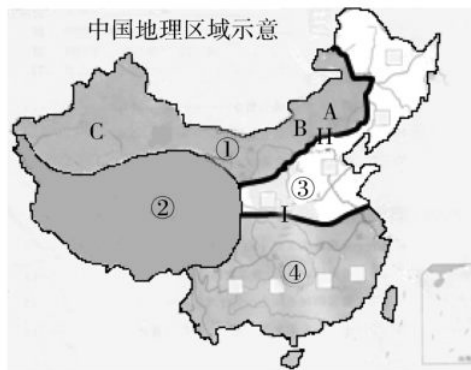
(4) 图中“一带一路”的最西端连接的欧洲，下列不属于欧洲旅游资源的是

- A. 法国巴黎埃菲尔铁塔
- B. 印度泰姬陵
- C. 意大利威尼斯水城
- D. 英国伦敦塔桥

(5) 陆上丝绸之路的起点是_____，海上丝绸之路起点位于_____。

(6) 海上丝绸之路经过了亚洲和非洲的分界线_____运河。

28. 读我国四大地理区域，回答下列问题。(16分)



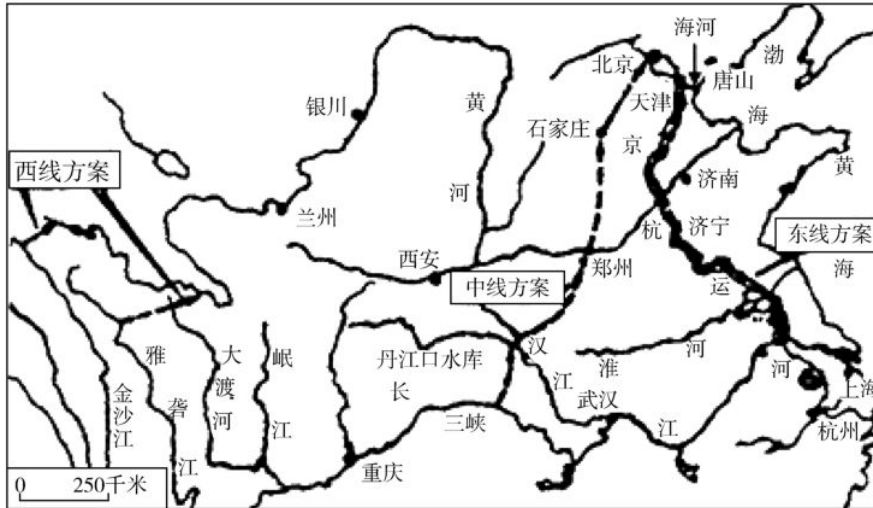
(1) 填出四大地理单元的名称：

- ① _____ ② _____
- ③ _____ ④ _____

(2) 图中界线 I 是_____—_____一线；界限 II 与_____毫米年等降水量线大致吻合。

(3)④地区耕地以_____为主。

29. 2014年12月12日14时32分，南水北调中线一期工程正式通水。中线一期工程平均年调水量将达到95亿立方米，将大大缓解北京、天津、河北、河南等地区的严重水荒，4个省市沿线约600万人将直接喝上水质优良的汉江水，间接惠及人口近1亿，读图回答：(4分)



(1)能缓解华北地区水源短缺的重大工程是

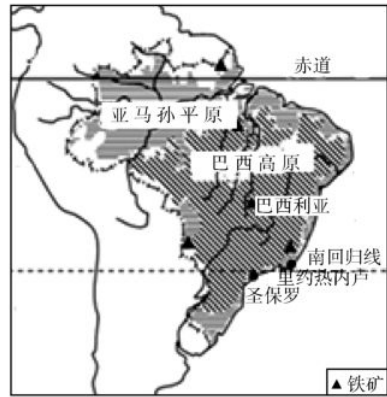
- A. 西电东输
- B. 青藏铁路
- C. 西气东输
- D. 南水北调

(2)南水北调工程东线方案的主要优势是

- A. 输水线路较短
- B. 人口少，最为经济
- C. 可以利用已有河道及天然湖泊

- A. 地球的公转
- B. 地球的自转
- C. 地势的高低
- D. 纬度的高低

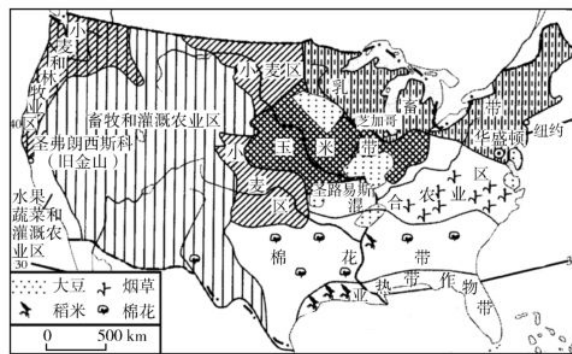
5. 此时，地处南半球的圣保罗处在一年中的
- A. 春季
 - B. 夏季
 - C. 秋季
 - D. 冬季
6. 下列关于巴西的自然地理特征叙述正确的是
- A. 巴西高原是世界最高的高原
 - B. 有世界最大的热带雨林气候区
 - C. 亚马孙河是世界最长的河流
 - D. 东临的海洋是太平洋
7. 如图所示的自然景观，不可能出现在
- A. 美国
 - B. 俄罗斯
 - C. 中国
 - D. 泰国



巴西地形图

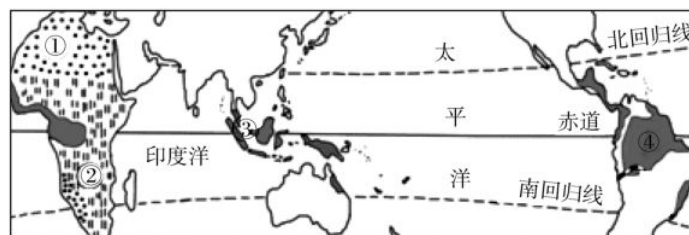


读“美国农业带分布图”，完成8~9题。



8. 上图显示美国农业生产的突出特点是
- A. 高度机械化
 - B. 生产经营多样化
 - C. 地区生产专业化
 - D. 农业生产商业化
9. 美国是世界上最大的农产品出口国，其发展农业生产的优势条件有
- ①土壤肥沃，水源丰富
 - ②平原面积广，耕地多
 - ③地处热带，光热条件好
 - ④农业人口比例高，劳动力充足
- A. ①②
 - B. ②③
 - C. ③④
 - D. ①③

读“世界典型自然景观分布示意略图”，并结合有关知识回答下题。



10. 某旅游者在游记中写道：“烈日下，成群的斑马在草原上奔走，不远处有几只幼狮在母狮周围嬉戏。”该游记记述的地区可能在图中的哪个自然景观区

- A. ① B. ② C. ③ D. ④

PM2.5 是指大气中直径小于或等于 2.5 微米的颗粒物，又称“可入肺颗粒”。机动车尾气排放、生产生活中排放的烟尘及扬尘为主要来源，是形成雾霾天气的主要因素之一，人体吸入过多的 PM2.5 可引起多种疾病。PM2.5 数值越高，代表大气污染越严重。读下表回答 11~12 题。

我市某中学环保社跟随环境监测站监测 PM2.5 浓度活动的结果如下：

采样点	采样点环境状况	PM2.5(g/m ³)
汽车站	车流量和人流量极大	140
步行街	紧邻大型超市，交通繁忙	100
居民区	靠近车流量较小的公路	60
化工厂	东邻车流量较大的国道，东北部有燃煤火电厂	440

11. 四个采样点中，大气污染程度最轻的是

- A. 汽车站 B. 步行街
C. 居民区 D. 化工厂

12. 当 PM2.5 浓度过高的时候，下列做法不合适的是

- A. 在公路旁晨练 B. 外出活动时尽量带上防护口罩
C. 开车时要尽量保持车距 D. 督促施工单位控制扬尘

13. 关于我国省级行政区划，叙述正确的是

- A. 22 个省、5 个自治区、4 个直辖市、3 个特别行政区
B. 23 个省、4 个自治区、5 个直辖市、2 个特别行政区
C. 23 个省、5 个自治区、4 个直辖市、2 个特别行政区
D. 24 个省、4 个自治区、4 个直辖市、2 个特别行政区

生活中我们接触到很多的事物，它们蕴含着丰富的地理信息。读甲乙丙丁 4 幅汽车牌照图片，回答下题。



14. 关于上面 4 幅汽车牌照属地所在省(区)的行政中心，正确的是

- A. 甲—长沙 B. 乙—福州
C. 丙—贵阳 D. 丁—杭州

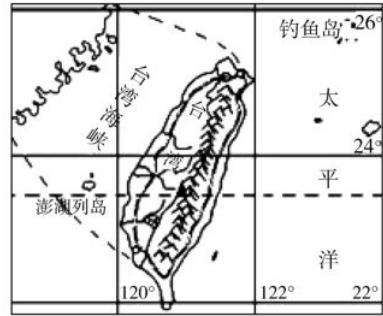
西藏独特的自然条件，良好的生态环境，孕育了特色农牧业。阅读图表，回答 15~16 题。

- B. 纬度较低，气候湿热
- C. 降水丰富，河湖遍布
- D. 地势高，光照强

台湾省自古以来就是中国的神圣领土。结合台湾省简图，回答 19~20 题。

19. 下列关于台湾的叙述不正确的是

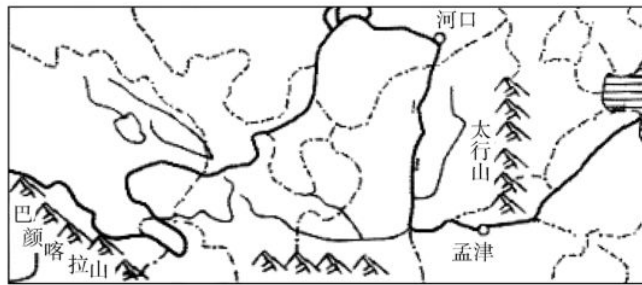
- A. 台湾岛东临太平洋，西隔台湾海峡与浙江省相望
- B. 受地形因素的影响，铁路环岛修建
- C. 台湾岛以山地为主，森林面积广阔，既有热带、亚热带植被，也有温带、寒温带景观
- D. 钓鱼岛位于台湾岛的东北方向，钓鱼岛及其附属岛屿自古以来就是我国的神圣领土



20. 据统计，台湾共有 14 个火山群，70 余座火山。最著名就是大屯山火山群，这是因为

- A. 台湾岛处于板块边界，地壳运动活跃
- B. 台湾岛处于板块内部，地壳运动活跃
- C. 台湾岛处于板块边界，地壳稳定
- D. 台湾岛处于板块内部，地壳稳定

读如图，完成 21~22 题。



21. 关于黄河流经地形区的叙述，正确的是

- A. 源头位于唐古拉山脉
- B. 上游全部流经青藏高原
- C. 中游主要流经黄土高原
- D. 下游流经江淮平原

22. 黄河径流量较小的主要原因是

- A. 长度较短，结冰期较长
- B. 中游为地上河，没有支流注入
- C. 流域内降水量小，蒸发量大
- D. 含沙量大，汛期较短

23. 某中学八年级(4)班的黑板报新增了一个“是真是假”栏目，以下为本期的“是真是假”内容，其中真的是

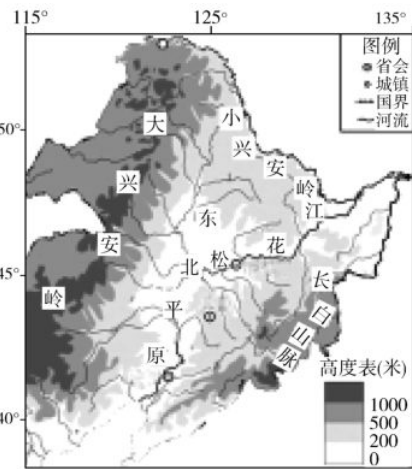
是真是假

- ①暑假去吐鲁番旅游一定要带上雨具
- ②春节期间广州举办花卉展览会
- ③国庆节期间的南京呈现“黄梅时节家家雨，青草池塘处处蛙”的景象
- ④哈尔滨学校的寒假时间比南京学校的寒假时间短

- A. ①
- B. ②
- C. ③
- D. ④

24. 如图是我国局部地区图，有关该地区的描述，正确的是

- A. 地势中间高，南北低，沃野千里
- B. 夏季高温多雨，农作物一年两熟
- C. 是我国提供商品粮最多的粮食生产基地
- D. 三江平原的湿地应继续开垦，扩大耕地面积



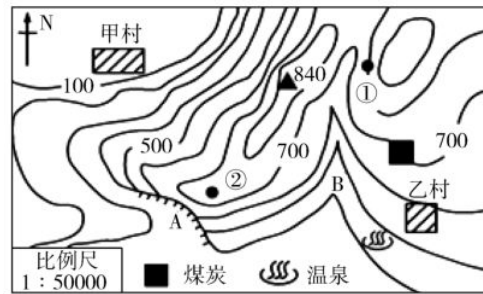
25. 聚落的建筑风格与自然环境密切相关，下列地区和当地民居搭配相符的是

- ①黄土高原——窑洞
- ②热带沙漠气候——高脚楼
- ③北极地区的因纽特人——冰屋
- ④我国西北地区——四合院

- A. ①②
- B. ①③
- C. ②④
- D. ③④

二、非选择题(共 50 分)

26. 我市某校地理兴趣小组到学校附近进行野外考察活动，读下图“考察地区等高线示意图”，回答问题。(10分)



(1) 图中 A、B 两处适合攀岩的点是_____。

(2) 甲村在乙村的_____ (方向)。量得乙村到点①的图上直线距离是 3 厘米，则两地间的实地直线距离是_____千米。

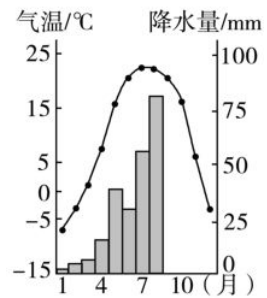
(3) 可能爆发山洪的 B 地，其地形部位是
A. 山顶 B. 鞍部 C. 山谷 D. 山脊

(4) 同学们发现乙村周围资源丰富，但经济较落后。请你为乙村发展经济提一条建议：_____。(言之有理即可)

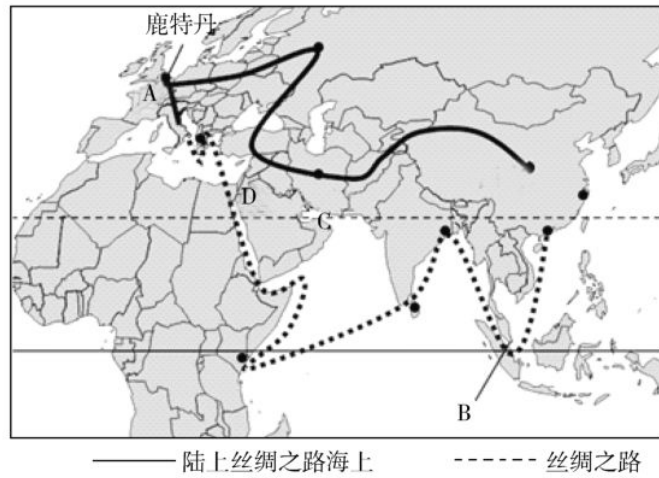
27. 读某地气温、降水资料表，完成下列问题。(8分)

月份	1	2	3	4	5	6	7	8	9	10	11	12
气温/℃	-8.5	-3.2	2.3	8.0	16.2	21.8	23.7	23.1	21.5	16.9	7.2	-2.7
降水量/mm	3	5	7	16	38	30	61	83	48	29	8	3

- (1) 根据表中资料补充绘制降水柱状图。
- (2) 根据气温曲线图判断该地位于____(南、北)半球。
- (3) 说出该地降水量的季节变化特点：_____。
- (4) 流经当地的河流有结冰期吗？说明理由_____。



28. 下图为“陆上丝绸之路与海上丝绸之路”路线示意图，读图完成下列问题。(10分)



- (1) 陆上丝绸之路东起我国陕西省的_____市，向西出新疆、经中亚、西亚，最后到 A _____洲，从经济发展水平看，A 洲大多数国家属_____国家，这些国家与我国有关政治、经济的商谈称为“_____”。
- (2) 下面是船员林朋 7 月 3 日从泉州港沿海上丝绸之路航行途中给朋友发的微信片段，根据所学知识将其补充完整。

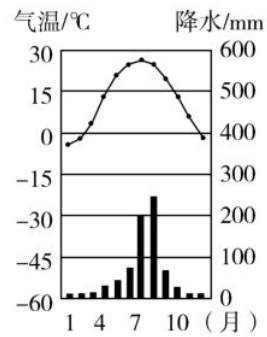
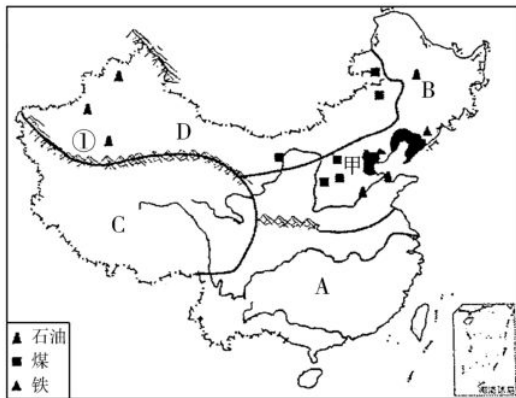
林朋— 现在我们的船只航行到 B _____海峡，这里有许多向东航行的满载油轮，这些油轮最有可能是从 C _____海峡驶出的，看来这里地理位置真的很重要哦……

林朋— 今天，我们的船只到达印度的加尔各答港口，此时正值印度的_____(雨或旱)季，盛行____季风，由于该季风很不稳定，使得印度多_____灾害。

- (3) D 地居民多信奉_____教。

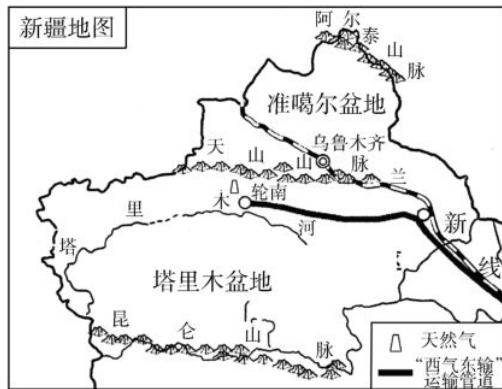
29. 读图文资料，回答下列问题。(10 分)

材料：2014 年 12 月 26 日贵广高铁正式通车，该线经广西桂林等地，直达广州。



- (1) A 区域与 B 区域的分界线是_____一线，贵广高铁位于_____ (填字母) 区域。
- (2) 图 I 中甲工业基地发展的有利条件是_____。
- (3) 图 II 所示气候主要分布在_____地区，其气候特点为_____。
- (4) A 区域的糖料作物是_____ (甘蔗或甜菜)，C、D 两区域农业以_____业为主。
- (5) 图中①是_____山脉，是我国第_____、_____级阶梯分界线。

30. 读“新疆示意图”，完成下列各题。(12分)



- (1) 新疆降水稀少，气候干旱，在山麓地带有一种古老的地下引水工程，叫“坎儿井”，长期为绿洲居民所利用，它灌溉所用的水源主要来自_____。
- A. 雨水 B. 湖泊水 C. 冰雪融水 D. 河流水
- (2) 根据新疆的自然特征可知，塔里木盆地的城市和人口主要分布在盆地_____ (边缘/内部)。
- (3) 在“丝绸之路经济带”建设中，新疆有独特的区位优势 and 向西开放重要窗口的作用，主要体现在地理上与_____、南亚、西亚地区接壤或邻近。
- (4) 我国从哈萨克斯坦进口的油气资源，采用的运输方式主要是_____。
- (5) 支援新疆的物资，利用铁路运输，经兰新线进入新疆，沿线可能看到的风光是_____。
- A. 大漠孤烟 B. 稻花飘香
C. 热带丛林 D. 傣家竹楼
- (6) 2013年，新疆天山成功申请成为世界自然遗产，天山将更加吸引世界的目光。对天山的开发利用请你谈一点建议，并简述其理由。