

目 录

第一单元测试卷·····	1	第六单元测试卷·····	37
第二单元测试卷·····	5	第七单元测试卷·····	41
月考测评卷一·····	9	专项训练一 列强的侵略和中国人民的抗争·····	45
第三单元测试卷·····	13	专项训练二 近代化的艰难起步·····	49
期中基础测评卷·····	17	专项训练三 新民主主义革命的兴起·····	53
期中综合测评卷·····	21	专项训练四 抗日战争和人民解放战争·····	57
第四单元测试卷·····	25	期末基础测评卷·····	61
第五单元测试卷·····	29	期末综合测评卷·····	65
月考测评卷二·····	33	参考答案·····	69

图书在版编目(CIP)数据

湘教考苑·单元测试卷·历史八年级·上册:人教版/《湘教考苑》编写组编.—长沙:湖南教育出版社,2016.7

ISBN 978-7-5539-3772-4

I. ①湘… II. ①湘… III. ①中学历史课—初中—习题集

IV. ①G634

中国版本图书馆CIP数据核字(2016)第012752号

湘教考苑·单元测试卷·历史·八年级上册(人教版)

本书编写组 编

责任编辑:李海棠

出版发行:湖南教育出版社(长沙市韶山北路443号)

网 址: <http://www.hnep.com>

电子邮箱: hjychs@sina.com

微信服务号:多点学习

客 服:电话 0731-85486979

经 销:湖南省新华书店

印刷装订:湖南版艺印刷有限公司

开 本:787×1092 16开

印 张:5

字 数:155000

版 次:2016年7月第1版

印 次:2016年8月第1版第2次印刷

书 号:ISBN 978-7-5539-3772-4

定 价:9.00元

本书如有印刷、装订错误,可向承印厂调换

ISBN 978-7-5539-3772-4



9 787553 937724 >

湘教考苑

单元测试卷

D A N Y U A N C E S H I J U A N

本书编写组 编



历史

八年级上册
(人教版)

湖南教育出版社

①考生要写清校名、姓名和班级(或准考证号)
②不读题、不答题、监考人不解答问题
③用钢笔或签字笔答题,字迹要清楚,卷面要整洁

注意

县(区) 乡 年级 班级
学校 姓名

第一单元测试卷

历史 八年级上册(人教版)

时间:60分钟 满分:100分

题号	一	二	总分
得分			

一、选择题(本大题共15小题,每小题3分,共45分)

- (2015·湖北十堰)中国近代历史上,列强发动了多次侵华战争。其中,改变了中国社会性质的战争是 ()
A.鸦片战争 B.第二次鸦片战争
C.甲午中日战争 D.八国联军侵华战争
- (2014·广东汕尾)八年级某班的同学在讨论“清政府为什么会在鸦片战争中失败”这一问题时各抒己见,最后归纳为以下四点。你认为最根本的原因是 ()
A.清军武器落后 B.战备不足 C.清政府妥协退让 D.封建制度的腐朽
- (2015·四川南充)法国大作家雨果在给朋友的信中写道:“有一天,两个强盗闯入了夏宫(圆明园),一个动手抢劫,一个把它付之一炬……”信中提到的“强盗”指 ()
A.日本、俄国 B.英国、美国 C.英国、法国 D.美国、俄国
- (2015·四川南充)下列条款中,属于《辛丑条约》的是 ()
①赔款2100万元 ②清政府保证严禁人民参加反帝活动 ③增辟通商口岸 ④划北京东交民巷为使馆界
A.①② B.①③ C.②③ D.②④
- 在中英《南京条约》中,侵犯中国经济主权最严重的条款是 ()
A.开放广州、上海、厦门、福州等五个通商口岸
B.赔款2100万元
C.割香港岛给英国
D.英商进出口货物缴纳的税款,中国须同英国商定
- 有人说,英法发动的第二次鸦片战争是“海盗式的扩张”,给中国文化和人类文明带来不可估量的损失。以下各项中,最能说明这一点的是 ()
A.获取大量赔款 B.开辟新的内河航线
C.增加新的通商口岸 D.洗劫并焚毁圆明园

- (2015·湖南郴州)在中国近代史上,侵占我国领土最多的国家是 ()
A.俄国 B.英国 C.法国 D.日本
- 右图所示历史人物的主要事迹是 ()
A.领导人民进行虎门销烟
B.收复除伊犁以外的整个新疆地区
C.在黄海海战中,下令用自己的军舰撞击敌人的军舰,壮烈牺牲
D.在威海卫战役中,北洋舰队全军覆没时,自杀殉国
- “洋人好比一只鹰,黄毛高鼻绿眼睛。鸱鹰凶恶怕弓打,洋人怕的红头军。”这首民歌中的“红头军”指的是 ()
A.洪秀全领导的太平军 B.岳飞率领的岳家军
C.戚继光率领的戚家军 D.林则徐率领的清军
- (2015·四川南充)“大将筹边尚未还,湖湘子弟满天山……”该诗颂扬了一位民族英雄收复新疆的事迹。这位民族英雄是 ()
A.林则徐 B.关天培
C.左宗棠 D.邓世昌
- (2015·山东菏泽)“……条约签订之日是台湾遭受日本侵略者统治的悲情岁月的开始,也是台湾人民坚决奋起,对日本军国主义进行不间断抗争的开始。”材料中的“条约”是指 ()
A.《南京条约》 B.《北京条约》
C.《马关条约》 D.《辛丑条约》
- “落后就要挨打。”这是近代中国的屈辱历史留给我们的警示。下列史实中,不能够说明这一警示的是 ()
A.清政府被迫签订《南京条约》 B.英法联军火烧圆明园
C.左宗棠收复新疆 D.甲午中日战争中国战败
- 《马关条约》大大加深了中国半殖民地化程度。该条约中有利于外国人直接利用中国廉价的劳动力和原料,剥削中国人民的条款是 ()
A.割辽东半岛、台湾、澎湖列岛给日本 B.赔偿日本军费白银二亿两
C.增开通商口岸 D.允许日本在中国通商口岸开设工厂
- “这一年,当时的世界大国们在东方进行了一次很不光彩的集体亮相。由英国、法国、德国、美国、日本、俄国等国家组成的八国联军,侵入了古老中国的首都——北京。”这一年是 ()
A.1840年 B.1856年
C.1900年 D.1931年
- (2015·湖南岳阳)1901年,东交民巷的居民被迫全部迁出。与这一事件相关的条约是 ()
A.《南京条约》 B.《北京条约》 C.《马关条约》 D.《辛丑条约》



二、非选择题(共 55 分)

16. 读图, 回答问题。(16 分)

- (1) 鸦片战争后, A 地被开放为通商口岸。A 地是_____。与上述史实相关的不平等条约是《_____》。(4 分)
- (2) 甲午中日战争后, B 地区曾被作为割让的对象。B 地区是_____。与上述史实相关的不平等条约是《_____》。(4 分)
- (3) 上述两个不平等条约分别对近代中国造成了什么严重后果?(8 分)



鸦片战争形势示意图

17. (2015·广东汕尾) 一次次列强的入侵, 一个个屈辱的条约, 记录着近代中国的苦难岁月。阅读下列材料, 结合所学知识, 回答问题。(22 分)

材料一 开放广州、厦门、福州、宁波、上海为通商口岸; 赔款 2 100 万元; 割香港岛给英国; 英商进出口货物缴纳的税款, 中国须用英国商定。

材料二 清政府割辽东半岛、台湾和澎湖列岛给日本; 赔偿日本军费白银二亿两; 开放沙市、重庆、苏州、杭州为通商口岸; 允许日本在通商口岸开设工厂等。

材料三 清政府赔偿白银 4.5 亿两, 以海关等税收作担保; 划定北京东交民巷为使馆界, 允许各国驻兵保护, 不准中国人居住; 清政府保证严禁人民参加反帝活动; 清政府拆毁大沽到北京沿线设防的炮台, 允许列强各国派兵驻扎北京到山海关铁路沿线要地。

——以上材料摘自《历史》八年级上册(北师大版)

- (1) 上述三则材料的内容分别出自中国近代哪三个不平等条约? 近代史上, 哪个国家从中国获得的赔款最多?(8 分)

- (2) 请写出与这三个不平等条约相对应的列强侵华战争的名称。材料二中的条约反映了帝国主义对中国的经济侵略有何变化?(8 分)

- (3) 请概括指出材料三的内容对近代中国社会产生的严重影响。(6 分)

18. 阅读下列材料, 回答问题。(17 分)

材料一 鸦片“流毒于天下, 则为害甚巨, 法当从严。若犹泄泄视之, 是使数十年后, 中国几无可以御敌之兵, 且无可以充饷之银”。

——《林则徐集》

材料二 凌青(原中国驻联合国大使, 林则徐的后人)1990 年说:“……150 多年前, 中国历史上留下了光辉的一幕, 也是世界禁毒史上的一件大事。当前, 中国再次成为毒品的受害国, 希望社会各方面都来关心、支持禁毒事业。”

材料三 《国家禁毒委员会 2004—2008 年禁毒工作规划》把禁毒宣传教育作为禁毒工作的治本之策, 对青少年特别是中小学生进行禁毒宣传教育是重中之重。从 2004 年 9 月 1 日起开始执行的新修订的《中小学生守则》, 在安全自护、远离毒品等方面提出了具体要求。

- (1) 根据材料一并结合所学知识, 请你谈谈鸦片输入给中国造成的主要危害。(6 分)

- (2) 材料二中“光辉的一幕”指哪一历史事件?(3 分)

- (3) 近年来, 我国的吸毒人数呈上升的趋势。面对这种情况, 在“拒绝毒品, 养成文明生活方式”方面, 你准备怎样做?(8 分)

第二单元测试卷

历史 八年级上册(人教版)

时间:60分钟 满分:100分

题号	一	二	三	总分
得分				

一、选择题(本大题共15小题,每小题3分,共45分)

- 1.(2015·湖南娄底)“自鸦片战争以来,中国就不断有人做着各种各样的西方梦:梦想有西方的坚船利炮,梦想有西方的新型工业,梦想有西方的民主制度……”下列属于追求“西方的新型工业”梦想的历史事件是 ()
- A.太平天国运动 B.洋务运动 C.戊戌变法 D.新文化运动
- 2.(2015·山东泰安)某网站为了纪念“百日维新”117周年,展开了大讨论。下面的观点中,不正确的是 ()
- A.戊戌变法期间在位的清朝皇帝是不愿做“亡国之君”的光绪帝
B.戊戌变法时期设立的京师大学堂是现在北京大学的前身
C.戊戌变法最终失败,“戊戌六君子”被杀害
D.戊戌变法的目的是为了推翻清朝的封建统治
- 3.(2014·河北)历史学家陈旭麓指出:李鸿章是中国近代化迈出第一步的代表人物。李鸿章的下列活动中,与该评价无关的是 ()
- A.镇压太平天国等农民起义 B.创办江南制造总局
C.创办轮船招商局 D.设翻译馆,大量翻译并刊行西方的书籍
- 4.下列对洋务运动的评价,正确的是 ()
- ①引进了西方先进的科学技术 ②甲午中日战争的失败宣告了它的破产 ③客观上促进了中国民族资本主义的产生和发展 ④是一次成功的封建统治者的自救运动
- A.①②③ B.②③④ C.①②④ D.①②③④
- 5.甲午中日战争后,中国的近代化内容出现新的变化,开始由“器物”近代化转向“制度”近代化。导致这种变化的内在因素是 ()
- A.帝国主义掀起瓜分中国的狂潮 B.西方民主思想的广泛传播
C.中国民族资本主义的初步发展 D.资产阶级革命政党的建立
- 6.对联具有记载历史的功能,是时代的见证。“宣传民主维新,倡西学,发展资本主义;批判专制守旧,兴民权,实行君主立宪。”此对联反映的历史事件是 ()
- A.洋务运动 B.戊戌变法 C.五四运动 D.新文化运动

- 7.(2015·贵州遵义)下列关于戊戌变法的说法中,不正确的是 ()
- A.“公车上书”为戊戌变法运动揭开了序幕 B.戊戌变法在社会上起了思想启蒙作用
C.慈禧太后残酷镇压了戊戌变法运动 D.戊戌变法使中国走上了资本主义道路
- 8.(2014·湖南益阳)孙中山是中国民主革命的先行者。下列所举,由他创建的有 ()
- ①兴中会 ②华兴会 ③中国同盟会 ④新民学会
- A.①② B.①③④ C.①③ D.②③④
- 9.(2014·湖南邵阳)服装具有重要的社会政治功能。1912年,中华民国政府通令将中山装定为礼服,并赋予它新的含义:门襟五粒纽扣表示……袖口三粒纽扣表示三民主义,即民族、民权和 ()
- A.民主 B.民治 C.民生 D.民享
- 10.辛亥革命是一次伟大的资产阶级民主革命。下列关于它的表述中,不正确的是 ()
- A.推翻了清朝的统治 B.推翻了我国存在两千多年的封建制度
C.革命果实被袁世凯窃取 D.使民主共和观念深入人心
- 11.“废两千年帝制,首义归功先行者;积四十载经验,遗言启迪后来人。”该对联称颂的是 ()
- A.毛泽东 B.康有为 C.梁启超 D.孙中山
- 12.(2015·海南)为了反对袁世凯独裁复辟,倒行逆施,陈独秀、李大钊等进步知识分子掀起了 ()
- A.戊戌变法 B.新文化运动 C.五四运动 D.北伐战争
- 13.(2014·湖南永州)胡适在《新青年》上发表文章指出:“一曰,须言之有物。二曰,不摹仿古人。三曰,须讲求文法。四曰,不作无病之呻吟……”该言论体现了新文化运动的内容是 ()
- A.提倡新道德,反对旧道德 B.提倡民主,反对独裁专制
C.提倡新文学,反对旧文学 D.提倡科学,反对迷信盲从
- 14.“比较”是历史学习和历史研究的一种重要方法。新文化运动与维新运动相比较,其不同之处在于 ()
- A.深化了民主科学意识 B.促进了中国社会的思想解放
C.有利于中国近代化的发展 D.有利于近代思想文化的传播
- 15.(2015·黑龙江大庆)学完中国近代史后,班里开展了一次题为“近代化的探索”的历史小论坛活动。下列有关内容的选择,恰当的是 ()
- ①虎门销烟 ②洋务运动 ③辛亥革命 ④新文化运动
- A.②③④ B.①②③ C.①②④ D.①③④



二、材料解析题(共39分)

- 16.(2014·河南)阅读下列材料,回答问题。(19分)

材料一 1894年之际,洋务军事工业雇用工人约10 800人;洋务民用工业雇用工人约8 000人;洋务矿业雇用工人约20 000人,总计约为39 000人……1843年至1893年,中国城镇人口由2 072万增加到2 351万,城市人口比重由5.1%提高至6%。近代城市的数目在增加。河北的唐山、河南的焦作、湖北的大冶、江西的萍乡和台湾的基隆等地,正是洋务派在那里采用新法开矿,才发展成为近代城市的。

材料二 晚清财政收入结构表(单位:万两)。

年份	农业税收入		工商杂税收入		其他收入		总收入	
	数额	比重(%)	数额	比重(%)	数额	比重(%)	数额	比重(%)
1849	3 281	77	969	23			4 250	100
1885	3 071	40	3 923	51	714	9	7 708	100
1911	4 810	16	20 441	69	4 445	15	29 696	100

(1)根据材料一,写出当时中国城市发展出现的变化趋势。这与哪一运动有关?(6分)

(2)根据材料二,概括晚清财政收入结构的变化。说明这一变化与上述运动之间的关系。(6分)

(3)请举出一个在这场运动中所创办的民用企业。结合上述材料,谈谈你对这场运动的认识。(7分)

17.(2015·湖北荆门)“强国梦”是先进的中国人不断求索、自主践行的目标。阅读下列材料,回答问题。(20分)

材料一 福州船政局是当时远东第一大船厂。它起初聘请洋匠,但洋匠受雇期间,挟技居奇,唯利是图。1874年,福州船政局辞退全部洋匠,主要依靠自己培养出来的技术人员。后来,遇到新工艺时,也只是暂时雇佣少数洋匠。

——摘编自中学历史教材

材料二 变法之本,在育人才;人才之兴,在开学校;学校之立,在变科举。而一切要其大成,在变官制。

——梁启超《变法通议》

材料三 (中华民国建立后……窃取辛亥革命果实的袁世凯,在思想文化领域掀起尊孔复古的逆流。通过对辛亥革命失败教训的认识,陈独秀认为)我们现在认定只有这两位先生[德谟克拉西(Democracy)和赛因斯(Science)],可以救治中国政治上、道德上、学术上、思想上一切的黑暗。

——摘自陈独秀《新青年·罪案之答辩书》

(1)根据材料一,指出福州船政局辞退全部洋匠的主要原因。简要分析福州船政局创办的历史意义。(8分)

(2)材料二中梁启超认为变法的关键是什么?后来,变法失败说明了什么?(6分)

(3)材料三中陈独秀等人认为“只有这两位先生……可以救治中国”,他们为此掀起了什么运动?该运动高举的两面旗帜是什么?(6分)

三、融入情境,探究问题(共16分)

18.阅读下面的材料,回答问题。(16分)

革命把自古以来神圣不可侵犯的天子打倒了……人们的思想发生了很大变化。……人们之间不许称“大老爷”“老爷”“大人”,不许府署官员坐轿。……有的从前颓废的青年向亲人表示:“中国革命成功了,我要做一个新中国的新人。”

——改编自人教版高中教材《历史·选修4》

(1)材料反映出人们的思想观念生了什么变化?变化的原因是什么?(6分)

(2)你认为材料中说的“中国革命成功了”的观点对吗?请说明理由。(10分)

月考测评卷一

历史 八年级上册(人教版)

时间:60分钟 满分:100分

题号	一	二	三	总分
得分				

一、选择题(本大题共15小题,每小题3分,共45分)

- (2015·江西)马克思(1818—1883)说:“一个人口几乎占人类三分之一的大帝国,不顾时势,安于现状……这样一个帝国注定要在一场殊死的决斗中被打垮。在这场决斗中,陈腐世界的代表总是基于道义,而最现代的社会代表却是为了获得贱买贵卖的特权。”这里所述的“最现代的社会代表”是指 ()
A.美国 B.英国 C.日本 D.俄国
- 有人认为,从洋务运动到戊戌变法是中国的近代化道路上的“量变”,辛亥革命是一次“飞跃”。这里的“飞跃”是指辛亥革命 ()
A.推翻了封建制度 B.推翻了帝国主义在中国的统治
C.结束了两千多年的封建帝制 D.完成了反帝反封建的革命任务
- (2015·江苏南京)“甲午大败,成中国之巨祸。”下列集中体现了这一“巨祸”的史实是 ()
A.《南京条约》的签订 B.英法联军火烧圆明园
C.《马关条约》的签订 D.《辛丑条约》的签订
- (2014·湖南益阳)下列所举,属于洋务派创办的民用企业是 ()
A.江南制造总局 B.福州船政局 C.南通大生纱厂 D.汉阳铁厂
- (2015·湖南岳阳)与右图所示有关的战争是 ()
A.鸦片战争 B.第二次鸦片战争
C.甲午中日战争 D.八国联军侵华战争
- (2015·云南)洋务派在中央的代表奕訢提出:“自强以练兵为要,练兵又以制器为先。”由此可看出,洋务运动的侧重点在于学习西方的 ()
A.思想文化 B.军事技术 C.教育制度 D.政治制度
- (2014·湖南衡阳)某学校八年级(3)班的同学在模拟时事报道“甲午中日战争”的活动中有如下表述,其表述与史实不符的是 ()
A.林菊:战争爆发于1895年,结果签订了《辛丑条约》
B.华敏:黄海大战中牺牲的邓世昌是当之无愧的民族英雄
C.王海:在战争中,北洋舰队全军覆没
D.李兵:战后签订的不平等条约使台湾人民遭受日本50年的殖民奴役

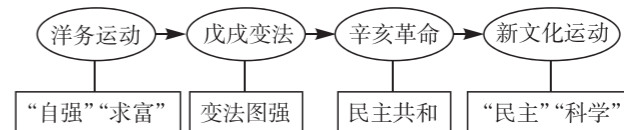


焚掠后的圆明园残迹图

- (2015·湖南怀化)著名诗人丘逢甲在《春愁》中写道:“春愁难遣强看山,往事惊心泪欲潸。四百万人同一哭,去年今日割台湾。”诗中的“割台湾”与下列哪个不平等条约的签订有关 ()
A.《南京条约》 B.《北京条约》 C.《马关条约》 D.《辛丑条约》
- 对下面年代尺上提供的时间,解读准确的是 ()



- A.1842年,中英之间爆发鸦片战争 B.1895年,中国开始沦为半殖民地半封建社会
C.1901年,八国联军火烧圆明园 D.1901年,中国被迫签订《辛丑条约》
- (2015·山东泰安)构建知识结构是学习历史的一项基本技能。下面是某同学编制的知识结构示意图,他学习的主题是 ()



- A.侵略与抗争 B.近代化的探索
C.新民主主义革命的兴起 D.多民族国家的统一
- (2015·江苏盐城)海洋历来是各国争夺的对象。120多年前,为“开拓万里波涛”,日本联合舰队在黄海大东沟袭击清朝北洋舰队,双方发生激战。在此战役中,为国捐躯的清朝将领是 ()
A.林则徐 B.左宗棠 C.邓世昌 D.李鸿章
- (2015·江苏苏州)汪林茂在《层次递进的晚清三次新政》中评论某一历史事件时说:“其最大的意义并不是产生了‘自强’的效用,而是在古老的封建主义的‘体’上撕开了一道口子,开动了近(现)代化的这辆列车。”据此可知,他认为 ()
A.洋务运动的进步作用主要体现为开辟了近代化道路
B.戊戌变法冲击了陈旧腐朽的旧文化,具有启蒙意义
C.辛亥革命是中国社会近代化进程中显著的里程碑
D.反帝爱国的五四运动是中国新民主主义革命的开端
- (2015·海南)在1895年的公车上书中,康有为痛陈《马关条约》的危害,强烈主张“拒和、迁都、变法”,最终得以实践的只有 ()
A.拒和 B.迁都 C.变法 D.革命
- 在学习《新文化运动》一课时,如果你想更多地了解当时的情况,下列刊物中,你应该首先查阅的是 ()
A.《万国公报》 B.《中外纪闻》 C.《民报》 D.《新青年》
- (2015·广东)下面的表格归纳了近代以来先进的中国人为实现民族复兴进行的四次重大探索。按提示,在下表的①②③处应填写的最佳答案是 ()

梦想	重大探索	代表人物
自强求富梦	①	李鸿章
变法强国梦	戊戌变法	康有为
民主共和梦	辛亥革命	②
民主科学梦	新文化运动	③

- A.①洋务运动 ②孙中山 ③陈独秀 B.①五四运动 ②孙中山 ③曾国藩
C.①五四运动 ②曾国藩 ③胡适 D.①洋务运动 ②陈独秀 ③梁启超

①考生要写清校名、姓名和班级(或准考证号)
②不读题、不讲题、监考人不解答问题
③用钢笔或签字笔答题,字迹要清楚,卷面要整洁

注意事项

县(区) 乡 年级 班级 姓名 学校

二、材料解析题(共 36 分)

16. 阅读下列材料, 回答问题。(16 分)

材料一 据估计, 被劫掠和破坏的财产, 总值超过六百万镑。在场的每个军人都掠夺很多, 在进入皇宫的宫殿后, 谁也不知道该拿什么东西。为了拿金子, 而把银子丢了。为了拿镶有珠玉的饰品和宝石, 又把金子丢了。无价的瓷器和珐琅器, 因为太大不能运走, 竟被打碎。

——英国《泰晤士报》(1860 年)

材料二 中国此次所受毁损及抢劫之损失, 其详数将永远不能查出。

——瓦德西

(1) 材料一中的“军人”“进入皇宫的宫殿”是指谁进入什么地方进行抢劫? 这个事件发生在什么战争期间? 他们是何时进入“宫殿”的? (8 分)

(2) 材料二所说的是什么事情? 他们是什么时候侵入北京城的? 这次战争给中国社会带来了什么危害? (8 分)

17. 阅读下列材料, 回答问题。(20 分)

材料一 近代化也叫现代化, 以经济工业化和政治民主化为主要标志。在中国近代, 近代化也就是工业化和与工业化相伴随的政治、经济和文化等方面发生的变化, 就是实现社会的转型。

材料二



图1 江南制造总局



图2 汉阳铁厂的高炉

材料三 在民族危机日趋深重和康有为屡次上书的警示之下, 1898 年 6 月, 光绪帝颁布《定国是诏》, 宣布变法。这一年是农历戊戌年, 史称戊戌变法。

材料四 2008 年 5 月 26 日, 国民党主席吴伯雄率国民党祖国大陆访问团抵达南京。27 日上午, 他们拜谒了中山陵, 缅怀孙中山先生。

材料五 新文化运动提倡民主, 反对独裁专制; 提倡科学, 反对迷信盲从; 提倡新道德, 反对旧道德; 提倡新文学, 反对旧文学。

(1) 材料二反映了中国近代史上的什么重大事件? 此事件的目的是什么? (4 分)

(2) 材料三中提到的戊戌变法在当时起了什么作用? (4 分)

(3) 根据材料四思考, 为什么说孙中山先生是中国民主革命伟大的先行者? (6 分)

(4) 根据材料五回答, 新文化运动的旗帜是什么? (2 分)

(5) 中国的近代化探索艰难起步, 曲折推进。对此你得到了什么启示? (4 分)

三、综合探究题(共 19 分)

18. (2015·湖南常德) 百余年的中国近代史, 既是一部列强侵华史, 又是一部中华民族的抗争史。结合所学知识, 回答下列问题。

(1) 结合列强发动的主要侵华战争, 简要说明中国社会性质的变化历程。(9 分)

(2) 请你举出近代前期反抗外来侵略的三个历史人物及其反抗侵略的主要事迹。(6 分)

(3) 19 世纪末 20 世纪初, 中华民族的危机空前严重。为了挽救民族危亡, 中国社会各阶层进行了哪些抗争? (4 分)

第三单元测试卷

历史 八年级上册(人教版)

时间:60分钟 满分:100分

题号	一	二	总分
得分			

一、选择题(本大题共15小题,每小题3分,共45分)

- 1.(2015·江苏苏州)梁启超在纪念某一运动时说:“目前之政治运动,专恃感情冲动作用。感情之为物,起灭迅速,乏继续性,群众尤甚。吾以为近日之青年,宜萃全力以从事于文化运动,则将来之有效的政治运动,自孕育于其中……”他评述的是 ()
- A.义和团运动 B.五四爱国运动
C.新文化运动 D.国民革命运动
- 2.(2014·山东东营)五四运动时,人们走上街头,举行声势浩大的示威游行。下列口号中在游行中不可能出现的是 ()
- A.“外争主权,内除国贼” B.取消“二十一条”
C.“拒绝在对德‘和约’上签字” D.“停止内战,联共抗日”
- 3.(2015·湖南怀化)谢觉哉在其日记中记载:“1921年6月29日:午后六时,叔衡往上海,偕行者润之,赴全国○○○○之招。”日记中的五个圆圈,谢觉哉后来解释说是“共产主义者”,当时他知道这是件大事,怕泄露,只能以圈代意。这里他怕泄露的“大事”是指 ()
- A.五四运动 B.中共一大 C.遵义会议 D.中共七大
- 4.(2015·湖南长沙)“在这里,共产党的任务,基本的不是经过长期合法斗争以进入起义和战争,也不是先占城市后取乡村,而是走相反的道路。”在这一思想的指导下,谁领导建立了中国第一个农村革命根据地 ()
- A.毛泽东 B.朱德 C.陈毅 D.贺龙
- 5.1921年7月召开的中共一大宣告了中国共产党的成立,同时也确定了党的中心任务。这次会议上确定的党的中心任务是 ()
- A.确定党的名称 B.建立党的地方组织
C.制定党的革命纲领 D.领导工人运动
- 6.(2015·湖南郴州)1928年4月,朱德、陈毅率领的部队与毛泽东领导的部队会师于 ()
- A.井冈山 B.遵义 C.吴起镇 D.会宁
- 7.历史上曾经流行的标语和口号往往折射出当时特定的历史内涵。“打倒列强,除军阀”流行于 ()
- A.五四运动时期 B.北伐战争时期 C.土地革命时期 D.解放战争时期

- 8.(2015·福建厦门)中华民国十三年,孙中山先生为黄埔军官学校开学典礼亲笔手书“三民主义,吾党所宗……一心一意,贯彻始终”的训词。这一年是 ()
- A.1912年 B.1924年 C.1925年 D.1927年
- 9.历史反复证明,国共两党团结合作对于中华民族的振兴起了巨大的推动作用。孙中山领导中国国民党实现了与中国共产党的第一次合作,直接促成了国民革命运动的兴起。当时,国共合作取得的最主要成果是 ()
- A.创办黄埔军校 B.发动辛亥革命
C.领导五四运动 D.基本上推翻了北洋军阀的统治
- 10.“山歌越唱越开怀……井冈山找对革命路径来。”民歌中的“革命路径”是指 ()
- A.占领中心城市 B.实施战略决战
C.和平夺取政权 D.农村包围城市的革命道路
- 11.如果你要去寻访人民解放军的诞生地,去“军旗升起的地方”,你应该选择去 ()
- A.武昌 B.井冈山 C.上海 D.南昌
- 12.(2015·山东烟台)2015年1月15日是遵义会议召开80周年纪念日。右图是遵义会议会址。这次会议取得的重大成就是 ()
- A.确立以毛泽东为核心的党中央的正确领导
B.确定建立农村革命根据地的方针
C.确定党的中心任务是领导工人运动
D.决定建立抗日民族统一战线
- 13.(2015·江苏南京)国民革命失败后,在探索革命道路的过程中发生的下列史实,按时间先后顺序排列,正确的是 ()
- ①秋收起义 ②创建中国工农红军 ③遵义会议 ④长征的开始
- A.①②④③ B.①②③④ C.②①④③ D.②①③④
- 14.(2014·湖南邵阳)保存了中国共产党和红军的基干力量,使中国革命转危为安,为开创中国革命的新局面奠定了基础的是 ()
- A.国民革命军北伐 B.红军第五次反“围剿”斗争
C.遵义会议召开 D.红军长征胜利
- 15.(2015·山东济宁)毛泽东说:“长征是历史纪录上的第一次,长征是宣言书,长征是宣传队,长征是播种机。”下列红军长征中的历史事件,按发生的先后顺序排列,正确的是 ()
- ①四渡赤水河 ②强渡大渡河 ③吴起镇会师 ④飞夺泸定桥 ⑤强渡乌江 ⑥遵义会议
- A.⑥①⑤②③④ B.⑤①⑥②④③ C.⑥①⑤②④③ D.⑤⑥①②④③

二、非选择题(共55分)

16.读图,回答问题。(18分)



图1 签订《凡尔赛和约》



图2 五四运动

(1)这两幅图中反映的历史事件有何关系?(4分)

(2)中国在图1所示事件中的遭遇如何?此遭遇说明了什么?(6分)

(3)图2所示事件的结果如何?为什么会有这样的结果?(8分)

17.(2015·安徽)阅读下列材料,结合所学知识,回答问题。(16分)

材料一 它不仅是近代中国政治由旧民主主义革命转变为新民主主义革命的转折点,并且推动了近代新文化运动更加深入地健康发展,其具体表现是这次运动大大加速、深化了马克思主义在中国的传播,从而给新文化运动注入了新的、更为强大、更加科学的思想活力。

——摘自冯天瑜、何晓明、周积明《中华文化史》

材料二 在历史上曾经有过我们这样的长征吗?12个月光阴中间,天上每日几十架飞机侦察轰炸,地下几十万大军围追堵截……我们却开动了每人的两只脚,长驱二万余里,纵横11个省。

——摘自毛泽东《论反对日本帝国主义的策略》

(1)材料一中的“它”是指什么事件?依据材料思考,“新的、更为强大、更加科学的思想活力”是什么?(4分)

(2)根据材料二并结合所学知识,完成下列填空。(8分)

“12个月”是指从_____年10月至_____年10月。

“11个省”是指_____、福建、广东、湖南、广西、贵州、云南、四川、西康、甘肃、_____。

(3)材料一、二所反映的历史事件都深刻地影响了中国的历史进程,一批先进的中国人为此进行了艰苦的奋斗。从他们身上,我们应该学习哪些优秀的品质?(4分)

18.阅读下列材料,回答问题。(21分)

材料一 有人说:1901年,中国陷入无尽的黑暗中;1911年,一道闪电划过,却黑暗依旧;1921年,中国终于迎来了曙光。

材料二 在中国近代化探索的历程中,中国人相继走过了自救之路、维新之路、共和之路。但都没有完成反帝反封建的历史使命,探索之路任重道远。

材料三 1921年,中国共产党诞生,中国革命的面貌从此焕然一新……经过艰难抉择,中国共产党终于找到了“农村包围城市,武装夺取政权”的正确革命道路,使中国逐步走向民族独立和人民解放。

(1)材料一中所说的“1901年,中国陷入无尽的黑暗中”的依据是什么?(3分)

(2)依据材料一、二思考,“一道闪电划过”指什么?为什么“黑暗依旧”?(4分)

(3)材料二所述的“自救之路”“维新之路”分别指什么?(4分)

(4)根据材料三,结合所学知识,请列举“农村包围城市,武装夺取政权”这条革命道路中的两个具有开创性意义的历史事件。(4分)

(5)依据上述材料,结合所学知识,谈谈你对中华民族复兴历程的认识。(至少写出两点)(6分)

期中基础测评卷

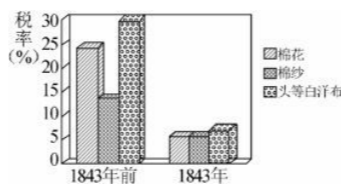
历史 八年级上册(人教版)

时间:60分钟 满分:100分

题号	一	二	三	四	总分
得分					

一、选择题(本大题共12小题,每小题3分,共36分)

- 1.(2015·湖北随州)《马关条约》与《南京条约》相比,最大的不同之处在于 ()
A.割地 B.开设工厂 C.赔款 D.划使馆界
- 2.(2015·安徽)阅读右图,导致清朝这一时期几种主要进口货物的税率(关税)发生变化的主要原因是 ()
A.清朝实行闭关锁国的政策
B.中国手工业纺织技术较落后
C.中英《南京条约》的签订
D.英国机器棉纺织业发达
- 3.(2015·广东汕尾)根据1858年《璦琿条约》的规定,中国东北外兴安岭以南、黑龙江以北约60多万平方千米的领土被迫割让给 ()
A.俄国 B.法国 C.日本 D.英国
- 4.“上海轮船招商局创办三年内,外轮就损失1300万两(白银)。湖北官办织布局开办后,江南海关每年洋布进口减少10万匹。”以上材料说明洋务运动 ()
A.启动了近代化的进程 B.使中国开始走上富强的道路
C.刺激了近代民族工业的产生和发展 D.在一定程度上抑制了外国经济势力的扩张
- 5.(2014·浙江嘉兴)“这支衣衫褴褛、面带饥色的军队从南中国出发时有8.6万人,到陕北时只剩下不到6000人……”材料反映的历史事件是 ()
A.北伐战争 B.遵义会议 C.西安事变 D.红军长征
- 6.(2014·湖南永州)美籍华人张馨保在《林钦差与鸦片战争》中指出:“在所有19世纪的中国政治家中,林则徐的形象和影响都超过了其他人。……比曾国藩、李鸿章早两三代人的时间,林则徐就已提倡和发动了向‘蛮夷’学习的自强运动。”这一评述体现的史学观点是 ()
A.革命史观 B.社会史观 C.生态史观 D.近代化史观
- 7.(2014·湖南衡阳)“国民痛苦,水深火热;土匪军阀,为虎作伥;帝国主义,以枭以张。本军兴师,救国救民;总理遗命,炳若晨星。”这是一次革命战争中的誓词,其中的“军阀”主要是指北洋军阀,“总理”即孙中山。与这一誓词有关的历史事件是 ()
A.北伐战争 B.五四运动 C.抗日战争 D.解放战争



- 8.(2015·湖南怀化)以下能达到右图所示效果的历史事件是 ()

A.洋务运动
B.戊戌变法
C.辛亥革命
D.北伐战争



- 9.(2015·贵州黔东南州)右图所示是1921年7月,停泊在浙江嘉兴南湖的一艘游船。它见证了 ()

A.戊戌变法的失败
B.解放战争的胜利
C.抗日战争的胜利
D.中国共产党的成立



- 10.(2015·湖南益阳)19世纪,在中国近代化探索的历程中,中国人相继走过了自救之路、维新之路,但都没有完成反帝反封建的历史使命,探索之路任重道远。此处说的“自救之路”“维新之路”分别是指 ()

A.洋务运动、辛亥革命
B.新文化运动、五四运动
C.洋务运动、戊戌变法
D.五四运动、戊戌变法

- 11.(2015·山东泰安)1919年,北洋军阀政府教育部主事在条陈中写道:“此次罢学风潮,近因由政治问题发生。”条陈中说的“罢学风潮”和“政治问题”分别是指 ()

A.五四运动、巴黎和会中国外交失败
B.新文化运动、十月革命爆发
C.马克思主义传入中国、中国共产党诞生
D.五四运动、中国共产党诞生

- 12.(2015·山东泰安)“井冈山,两件宝:历史红,山林好。”其中,“历史红”的主要依据是毛泽东在井冈山 ()

A.成立了中国共产党早期组织
B.创立了第一个农村革命根据地
C.发动了秋收起义
D.打响了武装反抗国民党反动统治的第一枪

二、判断题(正确的在题后的括号内打√,错误的打×。每小题2分,共10分)

- 13.甲午中日战争中致远舰管带邓世昌指挥舰艇迎战敌舰,不幸壮烈殉国。 ()
- 14.《辛丑条约》的签订使中国完全沦为半殖民地半封建社会。 ()
- 15.1898年9月21日,慈禧太后发动政变,戊戌变法失败。它的失败,促使资产阶级的政治斗争由革命转向改良。 ()
- 16.新文化运动的主要内容包括提倡民主、反对独裁专制,提倡科学、反对迷信盲从。 ()
- 17.中国无产阶级登上政治舞台开始于五四运动时期。 ()

三、材料解析题(共40分)

- 18.读下面的与新民主主义革命有关的图片,回答问题。(14分)



图1 五四运动



图2 中共一大会址及中共一大湖南代表

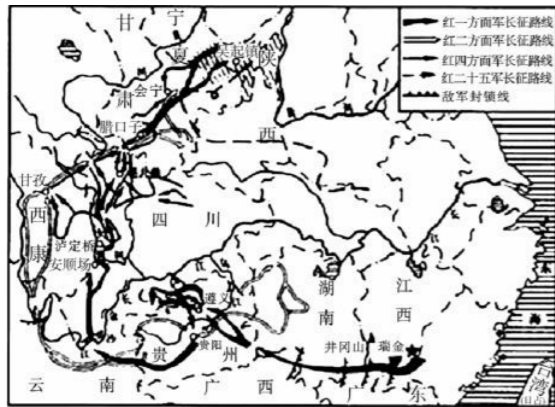


图3 长征路线图



图4 开国大典

- (1)图1所示历史事件的导火线和性质分别是什么?(4分)
- (2)图2中,代表湖南共产党早期组织参加中共一大的两位人物分别是谁?(2分)
- (3)读图3,1936年10月,红军三大主力在哪里会师?红军长征的直接原因是什么?(4分)
- (4)图4所示历史事件发生在何时?(具体到年月日)它标志着什么?(4分)

19.19世纪下半叶到20世纪初,面对西方列强的侵略欺凌,中国近代化探索艰难起步,曲折前进。阅读下列材料,回答问题。(12分)

材料一 中国文武制度,事事远出西人之上,独火器万不能及……中国欲自强,则莫如学习外国利器……

——李鸿章

材料二 100多年前,那个烦闷的夏天,又一次见证了旧制度的腐朽。刽子手挥刀砍下了六颗爱国者的头颅,也砍断了所有试图通过改良实现救国自强的人们的幻想。谭嗣同从容赴死,他认为国家不昌盛是因为还没有人为变法救国而流血。戊戌变法被扼杀了,但“六君子”的鲜血没有白流。

——《复兴之路》

材料三 我们革命的目的,是为众生谋幸福,因不愿少数满洲人专利,故要民族革命;不愿君主一人专利,故要政治革命;不愿少数富人专利,故要社会革命。

——孙中山

- (1)根据材料一回答,李鸿章等人的探索被称为什么?请举一例李鸿章在这方面的具体活动。(4分)
- (2)材料二所述的戊戌变法在经济上有何主张?为什么说“六君子”的鲜血没有白流?(4分)

(3)三民主义是孙中山领导辛亥革命的旗帜,材料三中的哪句话是三民主义中“民权主义”的体现?(请用下划线在材料中标出来)辛亥革命取得了哪些重大成果?(4分)

20.阅读下列材料,回答问题。(14分)

材料一 1927年8月1日,朱德作为起义的领导人之一……同年9月,毛泽东在湘赣边界领导工农革命军举行起义……后来,毛泽东率领工农革命军向湘赣边界的农村进军,建立了中国第一个农村革命根据地。

材料二 井冈山位于罗霄山脉中段,山势高大,主要山峰海拔都在1000米以上,自然资源十分丰富,拥有各种植物3800多种……(井冈山)反动力量薄弱,这里还有较好的群众基础和党的组织基础,并且留有一定数量的农民自卫军。

- (1)材料一中出现的两次起义分别指什么起义?它们在中国革命史上具有怎样的历史地位?(6分)
- (2)根据材料二,分析毛泽东选择在井冈山创建农村革命根据地的原因。试从材料一中找出能够说明井冈山革命根据地历史地位的语句。(6分)
- (3)从“南昌”到“井冈山”,这一过程反映出中国革命的中心发生了怎样的变化?(2分)

四、探究题(共14分)

21.融入情境,探究问题。

《南京条约》《马关条约》《辛丑条约》是近代史上列强强迫清政府签订的严重不平等条约,其中的内容严重破坏了中国领土主权的完整,使中国一步一步地沦为半殖民地半封建社会。

- (1)《南京条约》的主要内容中,最能反映出当时西方列强侵略特点和要求的是哪两条规定?(4分)
- (2)帝国主义时代的列强侵华有两大特点——瓜分世界和资本输出。《马关条约》中,哪两条规定分别体现了这两个特点?(4分)
- (3)中国近代的一本启蒙读物中写道:“这朝廷,原是个,名存实亡!替洋人,做一个,守土官长……”作者把《辛丑条约》签订后的清政府描述为完全成了“洋人的朝廷”,你赞同这种观点吗?请说明理由。(6分)

期中综合测评卷

历史 八年级上册(人教版)

时间:60分钟 满分:100分

题号	一	二	三	四	总分
得分					

一、选择题(本大题共12小题,每小题3分,共36分)

- 1.(2015·江苏苏州)在某次战争之后,列强欣喜若狂,声称“第二次发现了中国”。英国一家报纸评论说:“中国为东方一团大物,势已动摇……今欧洲之人,虽田夫野老,无不以瓜分中国为言者。”这次战争是 ()
- A.鸦片战争 B.第二次鸦片战争
C.甲午中日战争 D.八国联军侵华战争
- 2.(2015·四川自贡)19世纪后期,某将领提出“重新疆者,所以保蒙古,保蒙古者,所以卫京师”。与材料相关的历史事件是 ()
- A.左宗棠大败阿古柏 B.关天培镇守虎门炮台
C.林则徐虎门销烟 D.邓世昌黄海撞日舰
- 3.胡适先生1923年在给友人的信中这样写道:“25年来,只有三个杂志可代表三个时代,可以说创造了三个新时代:一是《时务报》,一是《新民丛报》,一是《新青年》。”其中,《新青年》创造的“新时代”是 ()
- A.君主专制时代 B.君主立宪时代 C.民主共和时代 D.民主科学时代
- 4.(2015·山东济南)有人说:“这场战争是中国近代史的开端,把中国拖入世界。从此,中国遭受了列强的百般蹂躏。”“这场战争”是 ()
- A.鸦片战争 B.第二次鸦片战争
C.甲午中日战争 D.八国联军侵华战争
- 5.(2015·山西)自1840年鸦片战争爆发以来,列强凭借坚船利炮,强迫清政府签订了《南京条约》《马关条约》《辛丑条约》等不平等条约。以上三个条约对中国的影响的共同点是 ()
- A.巨额赔款,加重人民的经济负担 B.协定关税,破坏了中国的关税主权
C.开设工厂,便利了列强资本输出 D.清政府完全沦为列强统治中国的工具
- 6.在1895年到1898年间,康有为多次上书光绪帝。这一时期,康有为上书的主题应是 ()
- A.严厉禁烟,抵御外侮 B.维新变法,救亡图存
C.师夷长技,自强求富 D.驱除鞑虏,恢复中华
- 7.(2014·湖南郴州)农村革命根据地的建立,使中国革命的星星之火,形成燎原之势。中国共产党建立的第一个农村革命根据地是 ()
- A.中央革命根据地 B.井冈山革命根据地
C.鄂豫皖革命根据地 D.左右江革命根据地

- 8.(2015·广东佛山)据资料统计,从1862—1894年这30余年中,李鸿章所主办和参与筹办的“新政”事业占中国这一时期举办的全部新政事业的80%以上,其范围包括军火、采矿、民用。此外,他还创办新式学校。李鸿章开展“新政”事业的主题是 ()
- A.废除八股取士,举办新式教育 B.发展近代产业,抵御外侮
C.引进先进技术,兴办民族工业 D.学习西方的思想,改变传统习俗
- 9.(2015·山东泰安)辛亥革命是在一片胜利的欢呼中失败的,这里的“胜利”主要是指 ()
- A.推翻了帝国主义在中国的统治 B.成立了资产阶级革命政党——中国同盟会
C.建立了中华民国 D.推翻了封建统治
- 10.(2014·湖南衡阳)“有北京大学等十三校学生三千余名,手持白旗,陆续到天安门前齐聚,议定列队游行。先至东交民巷西口,经使馆巡捕拦阻,遂至交通总长曹汝霖住宅,持砖乱掷,执木殴人,兵警拦阻,均置不理……经当场拿获滋事学生多名,由厅预审,送交法庭讯办……”上述材料反映的历史事件是 ()
- A.公车上书 B.五四运动 C.一二·九运动 D.“四五运动”
- 11.(2015·四川南充)确立以毛泽东为核心的党中央的正确领导的会议是 ()
- A.中共一大 B.遵义会议 C.中共七大 D.中共十五大
- 12.(2014·湖南株洲)八年级某班计划举办一次以“红军长征”为主题的历史故事会,该班同学所拟的故事标题中,不符合该主题的是 ()
- A.遵义会议 B.四渡赤水出奇兵 C.井冈山会师 D.飞夺泸定桥

二、判断题(正确的在题后括号内打√,错误的打×。每小题2分,共10分)

13.为加强对西北边疆的管理和防务,根据左宗棠的建议,1884年,清政府在新疆设立行省。 ()

14.慈禧太后“量中华之物力,结与国之欢心”的结果是签订了《马关条约》。 ()

15.前期的新文化运动未能给灾难深重的中国人民指明真正的出路,后期新文化运动中马克思主义的传播,则为中国人民的解放斗争指明了新途径。 ()

16.北伐战争的主要对象是吴佩孚、孙传芳和张作霖。 ()

17.1936年10月,红军三大主力在陕北吴起镇会师,宣告二万五千里长征胜利结束。 ()

三、材料解析题(共40分)

18.阅读材料,回答问题。(14分)

长征

红军不怕远征难,万水千山只等闲。
五岭逶迤腾细浪,乌蒙磅礴走泥丸。
金沙水拍云崖暖,大渡桥横铁索寒。
更喜岷山千里雪,三军过后尽开颜。

(1)材料中告诉了我们红军在长征中的哪些重大经历?(4分)

(2)这次“远征”最终结束的标志是什么?(2分)

(3)邓小平曾说:“他(毛泽东)多次从危机中把党和国家挽救过来。没有毛主席,至少我们中国人民还要在黑暗中摸索更长时间。”请写出毛泽东使红军长征转危为安的一个事例。(4分)

(4)追忆红军长征,我们可以受到哪些精神鼓舞?(4分)

19.阅读下列材料,回答问题。(12分)

材料一 随着军事工业的发展,资金、原料、运输等问题也逐渐显露出来,洋务派逐渐认识到,国家“必先富而后能强”,创办民用工业可以获利致富。当时,外商企业垄断民用工业,洋务派希望兴办民用工业同外国人竞争,“分洋商之利”。到90年代止,洋务派共创办工矿、交通、邮电等民用企业20多个。

——改编自中学历史教材

材料二 胡适1923年在给友人的信中写道:25年来,只有三个杂志可代表三个时代,可以说创造了三个新时代:一是《时务报》,一是《新民丛报》,一是《新青年》。

(1)请写出洋务派创办的民用企业的名称。(写出一个即可)依据材料一并结合所学知识,简要分析洋务派创办近代民用企业的目的和作用。(6分)

(2)材料二中说的《新青年》是哪一历史事件中的著名杂志?结合所学知识,简要分析《新青年》所“创造”的“新时代”的含义。(6分)

20.辛亥革命开启了中华民族复兴之门,新民主主义革命和社会主义革命奠定了中华民族复兴之基,改革开放找到了中华民族复兴之路。重大的历史事件总会让人从中获得启示,并汲取前进的力量。阅读下列材料,回答问题。(14分)

材料一



材料二 在新民主主义革命时期,我们经过28年艰苦卓绝的斗争,推翻了帝国主义、封建主义、官僚资本主义的反动统治,实现了民族独立和人民解放,建立了人民当家作主的新中国。

——胡锦涛

材料三 20世纪的最后20年,在世界的东方,中国进行了一场卓有成效的社会变革,解放了思想的中国人焕发出蓬勃的创造力,书写了一个时代最为传奇的一页。

——电视片《复兴之路》解说词

材料四 辛亥革命和我们党的诞生这两大历史事件,展开了一幅中国人民百年来救亡图存、强国富民的壮丽画卷,从根本上改变了中国人民的前途命运,决定了中国历史的发展方向,在世界上也产生了广泛而深刻的影响。

——刘新如

(1)研读材料一,归纳辛亥革命的指导思想。辛亥革命的历史功绩是什么?(6分)

(2)依据材料二并结合所学知识,写出“28年艰苦卓绝的斗争”起止的标志性事件。(4分)

(3)依据以上材料,结合所学知识,谈谈你对中华民族复兴历程的认识。(4分)

四、探究题(共14分)

21.170多年前,英国侵略者的坚船利炮打开了中国的大门,五千年文明古国从此惨遭西方列强的蹂躏,中国人民前仆后继,不屈不挠,谱写了一曲悲壮激越的近代史诗。假如可以穿越时光隧道,作为一名小记者,请将你见到的这幅交织着血雨腥风的历史画卷报道给世人。(14分)

【屈辱见证】



图1 1840年的珠江口



图2 圆明园遗址



图3 美军抢劫的白银

(1)图1中列强从海上打开了中国的大门,这是哪一场战争?制造图2惨景的“强盗”是谁?图3所示的厄运是哪场战争造成的?(6分)

(2)在侵略者坚船利炮的逼迫下,清王朝被迫与列强签订了一系列不平等条约。它们对中国的社会性质造成了什么影响?(2分)

【顽强抗争】

(3)以下四幅图片所示的历史人物都曾英勇地抗击外来侵略,他们为国立功的先后顺序正确的是_____。(4分)



A.左宗棠



B.邓世昌



C.关天培



D.义和团战士

【感悟历史】

(4)对以上问题的探究,让我们重温了“侵略与反抗”的那段历史。面对这段历史,请你用一句话表达你的感受。(2分)

第四单元测试卷

历史 八年级上册(人教版)

时间:60分钟 满分:100分

题号	一	二	总分
得分			

一、选择题(本大题共15小题,每小题3分,共45分)

- 1.(2014·天津)歌曲《松花江上》唱出了东北人民流离失所、家破人亡的悲痛,也唱出了全国人民对日军野蛮侵占我国东北地区的愤懑之情。东北地区的沦陷开始于 ()
A.九一八事变 B.“双十二事变” C.七七事变 D.八一三事变
- 2.1937年7月8日,中国共产党通电全国,指出“只有全民族实行抗战,才是我们的出路”。在此前一天的夜晚,北平附近爆发了 ()
A.百日维新 B.九一八事变 C.西安事变 D.卢沟桥事变
- 3.(2014·湖南郴州)2014年,我国立法将每年12月13日定为国家“公祭日”。这是为了祭奠1937年12月被日军屠杀的30多万中国死难者。这些死难者是在什么事件中遇害的 ()
A.南京大屠杀 B.厂窖惨案 C.旅顺大屠杀 D.常德细菌战
- 4.标志着中国人民局部抗日战争开始和全面抗日战争开始的历史事件分别是 ()
A.九一八事变、西安事变 B.西安事变、七七事变
C.九一八事变、七七事变 D.七七事变、八一三事变
- 5.(2015·江苏苏州)右图是1936年12月13日《解放日报》一篇新闻报道的示意图,从中可以获取的重要历史信息是 ()
A.九一八事变爆发,东北三省沦陷
B.蒋介石命令张学良、杨虎城进攻陕北红军
C.张学良、杨虎城逼蒋抗日,西安事变爆发
D.中国全民族的抗日战争正式开始
- 6.(2014·湖南益阳)仔细阅读下表,它反映的是 ()



时间	指挥者	规模	战绩
1940年8—12月	彭德怀	八路军投入105个团	毙伤俘日伪军40 000多人

- A.百团大战 B.台儿庄战役 C.辽沈战役 D.贺胜桥战役

- 7.下面是某同学在研究性学习中使用的图片资料。据此判断,他的研究主题是 ()



卢沟桥和守卫卢沟桥的中国士兵



李宗仁在台儿庄



彭德怀在百团大战前线



八路军与民兵配合拆毁正太铁路

- A.正面战场抗战 B.敌后战场抗战 C.八路军与民兵抗战 D.全民族抗战
- 8.右图所示的臂章再现了国共两党合作抗日的历史。其佩戴时间转换为公元纪年,应该是 ()
A.1938年 B.1939年
C.1940年 D.1941年
- 9.(2015·江苏连云港)“大义当前,不容反顾,只求救亡主张贯彻,有济于国家,为功为罪,一听国人处置。”这表明张学良、杨虎城发动西安事变是为了 ()
A.增强国力 B.地方自治 C.拥蒋反共 D.逼蒋抗日
- 10.(2014·湖南怀化)毛泽东思想是中国化的马克思主义,是中国革命实际与马克思主义相结合的产物。以下哪一次会议明确规定毛泽东思想为中国共产党的指导思想 ()
A.中共一大 B.遵义会议 C.中共七大 D.中共八大
- 11.(2014·湖南衡阳)著名戏剧家田汉在1938年中国军队取得某战役重大胜利后,写下了这样的祝捷歌词:“将士的喊声,震动了南部山东,榴弹掷处血光红,敌人如鼠我如龙。”这一战役是 ()
A.贺胜桥战役 B.平型关大捷 C.台儿庄战役 D.百团大战
- 12.1945年8月15日,延安军民载歌载舞,欢庆胜利。这是庆祝 ()
A.百团大战的胜利 B.台儿庄战役的胜利
C.“双十协定”签订 D.日本无条件投降
- 13.国共两党实现“第二次握手”的主要历史贡献是 ()
A.建立黄埔军校 B.基本上推翻北洋军阀的统治
C.取得抗日战争的胜利 D.促使西安事变和平解决
- 14.下列图片反映了重大的历史事件,按其发生的先后顺序排列,正确的是 ()



①九一八事变



②中国军队激战台儿庄



③中国守军在卢沟桥上奋起抗战



④彭德怀在百团大战中

- A.①③②④ B.④③②① C.③④①② D.②①④③
- 15.(2015·广东)从林则徐的“苟利国家生死以,岂因祸福避趋之”,到张謇的“实业救国”;从詹天佑的“各出所学,各尽所知,使国家富强,不受外侮,足以自立于地球之上”,到佟麟阁的“国家多难,军人当马革裹尸,以死报国”,这是仁人志士发出的时代最强音。这个时代的特征是 ()
A.国家统一,民族团结 B.国家分裂,民族融合
C.百年屈辱,民族抗争 D.曲折前进,民族复兴

二、非选择题(共 55 分)

16.(2015·黑龙江龙东,节选)阅读下列材料,回答问题。(23分)

材料一 某市青少年宫举办以“铭记历史”为主题的爱国影片展播。根据海报,你可以选择观看下列影片(将代表影片的字母填在相应内容的横线上)。



材料二 法西斯国家的侵略对人类的和平构成了严重威胁。在二战中,为应对这一威胁,反法西斯力量联合起来,组建了世界反法西斯同盟。

- (1)日军炮轰宛平城,中国军队奋起抵抗,抗日战争全面爆发:_____。(3分)
- (2)十年内战基本结束,抗日民族统一战线初步形成:_____。(3分)
- (3)第十二届全国人大常委会决定将 12 月 13 日设立为国家公祭日。日本侵略者在六周之内屠杀 30 多万中国军民:_____。(3分)
- (4)我国每年都在这一天拉响防空警报。东北三省沦陷:_____。(2分)
- (5)抗日战争中,中国军队主动出击日军规模最大的一次战役是什么?(3分)

(6)2015 年是抗日战争和世界反法西斯战争胜利多少周年?(3分)

(7)抗日战争是近代中国人民第一次取得完全胜利的民族解放战争,它给你留下了什么启示?(6分)

17.结合所学知识,回答下列问题。(18分)

【图片知史】



(1)上图酷似“台历”的纪念碑是为了纪念哪一历史事件而建立的?(3分)

【时事追史】

(2)2015 年 5 月 9 日,俄罗斯总统普京在莫斯科红场阅兵式演讲中,高度赞扬了在世界反法西斯战争中各国“相互信任和团结一致的精神”。请写出一个反映反法西斯国家“团结一致”的历史事件。(3分)

【名人说史】

材料 我国从 19 世纪 40 年代起,到 20 世纪 40 年代中期,共计 105 年时间,全世界几乎一切大中小帝国主义国家都侵略过我国,都打过我们,除了最后一次,即抗日战争……没有一次战争不是以我国失败、签订丧权辱国的条约而告终。

——毛泽东

(3)结合材料,探讨抗日战争胜利的历史意义。(提示:从国内方面回答即可)(6分)

【学史启示】

(4)通过解答上述问题,谈谈你从中得到的启示。(6分)

18.(2014·湖北荆门)阅读下列材料,回答问题。(14分)

材料一 1937 年 7 月 8 日,中国共产党发表宣言,指出:“日本帝国主义武力侵占平津与华北的危险,已经放在每一个中国人的面前……只有全民族实行抗战,才是我们的出路!……国共两党亲密合作抵抗日寇的新进攻!驱逐日寇出中国!”1937 年 8 月 14 日,国民政府发表宣言,表示:“为求我中华民族之永久生存,及国家主权与领土之完整,对于侵犯我主权领土,与企图毁灭我民族生存之帝国倭寇,决以武力解决之。”

材料二 丘吉尔在谈到中国远征军入缅(甸)作战时说:如果日本进军西印度洋,必然会导致我方在中东的全部阵地崩溃,能防止上述局势出现的只有中国。苏联元帅扎哈罗夫说:日本之所以没有立即对苏联开战,是因为它的大量军队被牵制在中国。军事史家富勒指出:美、英所引以为幸的是,日本既没有足够的兵力占领和控制印度洋上的战略要点,也没有足够的兵力在太平洋上拼一死战,这正是中国抗战对二战的进程和结局产生重大影响的结果。

(1)根据材料一并结合所学知识回答:中国共产党和国民政府发表宣言的相同背景是什么?宣言的发表具有什么共同的历史作用?(8分)

(2)根据材料二并结合所学知识,简述中国人民的抗日战争对世界反法西斯战争的历史贡献。(6分)

①考生要写清校名、姓名和班级(或准考证号)
②不读题、不讲题、监考人不解答问题
③用钢笔或签字笔答题,字迹要清楚,卷面要整洁

县(区) 乡 年级 班级
姓名 学校

第五单元测试卷

历史 八年级上册(人教版)

时间:60分钟 满分:100分

题号	一	二	总分
得分			

一、选择题(本大题共15小题,每小题3分,共45分)

1.下列四幅图反映的是人民解放战争时期的重大事件,其中标志着人民解放军转入战略进攻的是 ()



A.重庆谈判 B.转战陕北 C.挺进大别山 D.渡江战役

2.(2014·湖南衡阳)1949年,《北平日报》刊发了如下消息:“太阳升起的时候,沉重的雾霭已经散了,是一九四九年二月一日,北平完全解放的第二天清晨。解放就是光明的到来,电灯亮起来了,街灯燃了一夜……”该新闻报道了下列哪一战役的胜利 ()

A.辽沈战役 B.平津战役 C.淮海战役 D.渡江战役

3.右图是华君武先生在抗战胜利后创作的一幅漫画,名为《磨好刀再杀》。这幅画揭穿了 ()



A.国民党假和谈、真内战的阴谋
B.法西斯集团吞并中国的企图
C.蒋介石对日本侵略者的姑息纵容
D.日本右翼势力抬头的危险

4.(2015·海南)观察下面的淮海战役人民支前统计表,它充分证明了淮海战役中 ()

民工	担架	大小车	牲畜	船只	筹粮	挑子
543万人	30.5万副	88万辆	76.7万头	8500只	9.6亿斤	20.6万副

A.胜利来自人民的支持
B.解放军装备落后,只能仰仗老百姓
C.一切反动派都是纸老虎
D.国民党的美式装备还不如土枪土炮

5.全面内战爆发的标志是 ()

A.重庆谈判 B.国民党军队进攻中原解放区
C.中共中央转战陕北 D.刘邓大军挺进大别山

6.古城南京是中国历史上一位特殊的“见证者”,它见证了 ()

①中华民国的建立 ②五四运动的爆发 ③日本侵略者的大屠杀 ④国民党政权的垮台
A.①②③ B.②③④ C.①③④ D.③④

7.学习完解放战争这一单元的历史后,历史兴趣小组的同学准备看一部这一时期的影视作品,你认为下列哪部作品可以推荐给他们 ()

A.《秋收起义》 B.《西安事变》 C.《小兵张嘎》 D.《大决战》

8.对右图所反映的历史事件解读不正确的是 ()



A.此事件反映了中国共产党争取和平的诚意和“弥天大勇”
B.此事件后国共双方达成了“双十协定”
C.此事件发生于“山城”重庆
D.此事件促进了抗日民族统一战线的初步形成

9.下列战役发生在解放战争时期,按时间先后顺序排列,正确的是 ()

①辽沈战役 ②渡江战役 ③刘邓大军挺进大别山 ④淮海战役

A.①②③④ B.④①③② C.②④③① D.③①④②

10.(2014·福建漳州)某同学到图书馆查阅解放战争时期的资料,可供参考的是 ()

A.《台儿庄战役示意图》 B.《百团大战形势图》
C.《刘邓大军挺进大别山形势图》 D.《抗美援朝战争》纪录片

11.1945年8月,《大公报》报道毛泽东来到重庆的消息时称:“爱好民主自由的人士都知道,这是维系中国目前及未来历史和人民幸福的一个喜讯。”这反映了“爱好民主自由的人士”期盼 ()

A.国共双方和平协商,创建新中国
B.国共双方消除隔阂,共同抗日
C.共产党领导人民推翻国民党的统治
D.共产党和民主党派合作,建立新中国

12.(2014·江苏扬州)下面的表格反映的历史事件是 ()

时间	1948年9—11月	地点	锦州、沈阳等地
结果	歼灭国民党军47万余人	意义	解放了东北全境

A.辽沈战役 B.平津战役 C.淮海战役 D.渡江战役

13.假如你在网络搜索引擎中输入“1945年”“毛泽东”“双十协定”这三个关键词,最有可能出现的事件应该是 ()

A.遵义会议 B.西安事变 C.中共七大 D.重庆谈判

14.(2015·福建厦门)“钟山风雨起苍黄,百万雄师过大江”描述的历史事件是 ()

A.辽沈战役 B.淮海战役 C.平津战役 D.渡江战役

15.(2015·湖南娄底)构建知识结构图是一种高效的学习方法。以下示意图有助于我们了解 ()



A.国民大革命的主要进程
B.抗日战争的发展历程
C.人民解放战争的主要进程
D.中国新民主主义革命的历程

二、非选择题(共 55 分)

16. 阅读下列材料, 回答问题。(17 分)

材料一



材料二

万急, 延安

毛泽东先生勋鉴:

倭寇投降, 世界永久和平局面, 可期实现, 举凡国际国内各种重要问题, 亟待解决, 特请先生克日惠临陪都, 共同商讨, 事关国家大计, 幸勿吝驾, 临电不胜迫切悬盼之至。

蒋中正

八月十四日

(1) 上述材料反映了哪一重大历史事件? (3 分)

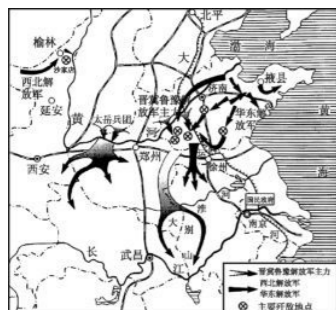
(2) 蒋介石邀请毛泽东“共同商讨”“国家大计”的真实目的是什么? (4 分)

(3) 为此, 中国共产党做出了什么决定? 为什么? (6 分)

(4) 有人说, 毛泽东此行是成功的。请说明理由。(4 分)

17. 阅读下列材料, 回答问题。(21 分)

材料一



材料二



材料三 文献纪录片《走近毛泽东》中有这样一个情节: 在西柏坡的小院里, 警卫员在给毛泽东梳头时拔下一根白发。毛泽东打趣地说: “打了三个战役, 白了一根头发, 值得!”

(1) 材料一反映的是人民解放军的哪一重大军事行动? 该军事行动有怎样的影响? (5 分)

(2) 材料二反映的是哪一战役? 这次战役促使“一个城市解放, 一个政权垮台”。请你写出这个城市和这个政权的名称。(6 分)

(3) 材料三中毛泽东认为“打了三个战役, 白了一根头发, 值得”。三个战役指的是什么? 毛泽东所说的“值得”指的是什么? (10 分)

18. 中国近代史上, 国共两党之间的分分合合, 对中国历史进程产生了重大影响。结合所学知识, 回答问题。(17 分)

(1) 黄埔军校的创建是国共第一次合作的结晶, 哪位中国共产党领导人在该校担任过政治部主任这一重要职务? (3 分)

(2) 第一次国共合作破裂后, 中国共产党发动的哪次武装起义, 标志着中国共产党创建军队、独立领导武装斗争的开始? (3 分)

(3) 哪一事件的和平解决, 标志着十年内战基本结束和抗日民族统一战线初步形成? (3 分)

(4) 抗战胜利后, 为争取和平, 避免内战, 毛泽东不顾个人安危, 亲赴重庆参加国共两党谈判, 最后签署了哪一重要文件? (3 分)

(5) 从国共两党分分合合的史实中, 你能得到什么启示? (5 分)