



首套公务员真题分类精讲的实用性教材

# 6年国考4年联考

## 考点分类解读 行测·判断推理

2014版

编著 华图教育 审定 华图公务员考试研究院

22个考点梳理

39个技巧突破

856道经典真题

中国人民大学出版社

中国人民大学出版社

www.1kao.com.cn

注册享受增值服务

011543

刮开涂层 网站注册



首套公务员真题分类精讲的实用性教材

# 6年国考4年联考

## 考点分类解读 行测·判断推理

2014版

编著 华图教育 审定 华图公务员考试研究院

中国人民大学出版社  
·北京·

## 图书在版编目 (CIP) 数据

6 年国考 4 年联考考点分类解读. 行测·判断推理/华图教育编著. —北京:中国人民大学出版社, 2013. 8

ISBN 978-7-300-17992-6

I. ①6… II. ①华… III. ①公务员-招聘-考试-中国-题解②行政管理-能力倾向测验-中国-题解 IV. ①D630.3-44

中国版本图书馆 CIP 数据核字(2013)第 201048 号

## 6 年国考 4 年联考考点分类解读 行测·判断推理

编著 华图教育

审定 华图公务员考试研究院

6 Nian Guokao 4 Nian Liankao Kaodian Fenlei Jiedu Xingce · Panduan Tuili

---

出版发行 中国人民大学出版社

社 址 北京中关村大街 31 号

邮政编码 100080

电 话 010-62511242 (总编室)

010-62511398 (质管部)

010-82501766 (邮购部)

010-62514148 (门市部)

010-62515195 (发行公司)

010-62515275 (盗版举报)

网 址 <http://www.crup.com.cn>

<http://www.1kao.com.cn>(中国 1 考网)

经 销 新华书店

印 刷 三河市冠宏印刷装订厂

规 格 185mm×260mm 16 开本

版 次 2013 年 9 月第 1 版

印 张 19

印 次 2013 年 9 月第 1 次印刷

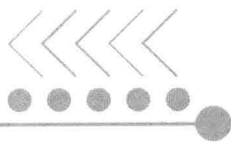
字 数 442 000

定 价 36.00 元

---

版权所有 侵权必究 印装差错 负责调换

# 前言



## 更详尽、更全面、更权威的真题分类教科书

——公考进入深度备考新时代

为了考生更有效率、更有针对性地备考公务员考试,华图教育组织专家耗时数月精心对国考和联考的真题考点分门别类,又按照年份由新到旧进行排列,其中有争议的题目,我们都详细辨析易错选项,让考生知其然,更知其所以然。相信这套书的推出,能让考生将国考和联考的备考连为一体,通过我们的分考点解读,把最经典的真题串联起来,由此带来的不仅是考点串联的视觉冲击,还有更深层次的玄机——考点重点,命题规律,一目了然!



### 什么是国考和联考?

“国考”即国家公务员考试,每年11月或12月进行,是公务员考试中难度最大的考试。“联考”即多个省(直辖市、自治区)同一时间进行,由国家公务员主管部门统一命题的省级公务员联合考试。



### 为什么是6年和4年?

根据华图多年的研究,6年国考和4年联考的试题最具有研究价值,华图的名师们在教学的过程中也把这些真题作为教研的重点。这些题目都是由命题组专家精心命制的,含金量极高。公务员考试命题组可能多年是同一班人马,所以我们在复习时要对真题反复研究,反复练习。每一个有志于成为公务员的报考者,必须认真研究本系列收录的全部真题,认真揣摩其中的命题思路,以正确理解命题意图,高效答题。



### 本系列书和普通的公务员历年真题有什么区别?

普通的历年真题更多地呈现每一年的总体考情,而本系列书将6年国考和4年联考的试题分考点细分解读,把历年的考点归纳在一起。根据每个模块的特点深挖命题的规律,剖析命题的陷阱,让考生对考点重点了如指掌。



### 本系列书的适用范围?

本系列书首先针对的是国考和联考。国考和联考都是国家公务员局统一组织的专家命题,专家命题有交叉的地方。虽然题目大多不一样,但是命题的思路和方法却有相同的地方,有的甚至题目都一模一样。如:

(2010·联考上·65)考古:文物:博物馆

A. 教育:人才:企业

C. 耕种:庄稼:土地

(2009·国家·87)考古:文物:博物馆

A. 培训:员工:社会

C. 贸易:商品:工厂

B. 贸易:商品:工厂

D. 培训:员工:社会

B. 耕种:庄稼:土地

D. 教育:人才:企业

这两道题除了选项顺序不一样,您还能找出哪个地方不一样?2009年国考的考试时间是2008年11月30日,而2010年上半年联考的时间是2010年4月25日,说明命题者也会研究和借鉴原来考过的真题。



### 本系列书是不是汇集了最完整的真题?

是的,本系列书汇集了近6年所有的国考题和最近4年联考真题。其中,联考真题是独家全部收录。从2011年下半年开始,联考就采用从题库抽题的形式,每个省的考题都只从题库中抽取一部分。市场上公务员考试用书中像本系列书这样全部收录联考真题的,尚属首次。本系列用书收录全部2937道真题,为考生呈现历年真题的完整实录。同时,为了给某些考点多增加一些实例,我们还选取了部分最新省考经典真题,旁征博引,让考生更透彻地理解该考点。



### 本系列书适用于哪个阶段复习?

本系列书适宜公考各个阶段,这不仅仅是简单的真题集,更是考生复习的真题类教科书。



### 本系列书为什么要双色印刷?

本系列用书借鉴了市场上颇有成效的“红膜记忆”。本书采用黑红双色印刷,真题答案和解析印刷为红色,有利于提高考生的练习真题,每本书附带一张红膜,当考生想做题时,可将红膜覆上,隐去答案和解析,只出现题干,从而帮助考生先练后对答案,不用再为找答案而浪费宝贵的时间,提高复习效率。我们力图服务好每一个细节,为考生高效复习保驾护航!

(2013·浙江A·69)本分:职责

- A. 羁绊:障碍  
B. 奇葩:宝库  
C. 蓝图:想象  
D. 傲慢:偏见

【答案】A

【名师解析】职责是一种本分,障碍是一种羁绊。

(2013·浙江A·66)岳父:丈人

- A. 舅舅:外甥  
B. 姨妈:婶婶  
C. 伯父:侄子  
D. 祖母:奶奶

【答案】D

【名师解析】丈人是岳父的别称,奶奶是祖母的别称。

(2013·浙江A·67)救助站:乞丐

- A. 敬老院:护工  
B. 监狱:罪犯  
C. 加油站:业务员  
D. 研究所:研究员

【答案】B

【名师解析】救助站是救助乞丐的场所,监狱是监禁罪犯的场所。

(2013·浙江A·69)本分:职责

- A. 羁绊:障碍  
B. 奇葩:宝库  
C. 蓝图:想象  
D. 傲慢:偏见

(2013·浙江A·66)岳父:丈人

- A. 舅舅:外甥  
B. 姨妈:婶婶  
C. 伯父:侄子  
D. 祖母:奶奶

(2013·浙江A·67)救助站:乞丐

- A. 敬老院:护工  
B. 监狱:罪犯  
C. 加油站:业务员  
D. 研究所:研究员



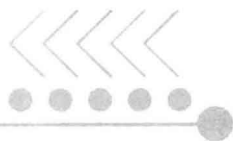
### 对内容有疑问怎么办?

对内容有任何疑问,请发送邮件到华图编辑部邮箱 htbjb2008@163.com,我们将及时为您解答,同时我们为本书专设QQ群“6年国考4年联考交流群 325476360”,欢迎广大考生提出问题和意见。

公考路上,我们将一路与您同行!

华图公务员考试教材研发中心  
2013年6月30日

# 目 录



6年国考4年联考考点分类解读 行测·判断推理

第一章 图形推理 .....	1
第一节 规律类 .....	1
考点一:描述信息 .....	1
考点二:功能信息 .....	44
考点三:实体信息 .....	50
第二节 重构类 .....	53
考点一:空间重构 .....	53
考点二:平面重构 .....	60
考点三:平面拼合 .....	65
考点四:线条拼合 .....	67
第二章 类比推理 .....	70
第一节 词 .....	70
考点一:语法分析 .....	70
考点二:集合关系 .....	72
考点三:逻辑关系 .....	82
考点四:语义关系 .....	96
第二节 其他 .....	100
第三章 定义判断 .....	105
第一节 单定义判断 .....	105
第二节 多定义判断 .....	179
第四章 逻辑判断 .....	186
第一节 形式推理 .....	186
考点一:翻译推理 .....	186
考点二:真假推理 .....	200



考点三:分析推理 .....	203
第二节 日常推理 .....	214
考点一:结论类 .....	214
考点二:解释类 .....	225
考点三:评价类 .....	231
第三节 论证类 .....	234
考点一:形式论证 .....	234
考点二:日常论证 .....	265
索引 .....	287

# 第一章 图形推理

## 第一节 规律类

### 考点一：描述信息

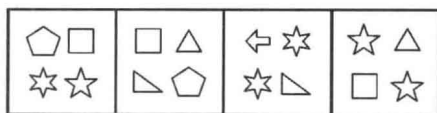
#### 考点梳理

描述信息包括数量信息、位置信息、样式信息三类。

描述信息	释义	考查难度	考查频度
数量信息	点、线、角、面、素	★★	★★★★★
位置信息	静态关系：位置(外离、外切、相交、内切、内含)、方位(上下、左右、前后)	★★★	★★★★★
	动态变化：平移、旋转、翻转		
样式信息	内在属性：对称、曲直、封闭	★★★	★★★★★
	外在形状：遍历、运算(加减、同异)		

#### 典型真题

(2013·联考上·51)从所给的四个选项中,选择最合适的一个填入问号处,使之呈现一定的规律性:



A

B

C

D

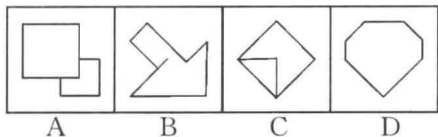
【答案】A





**【名师解析】** 本题考查元素的种类。题干每幅图形都有四种元素，且每幅图形中都含有相同的元素五角星。

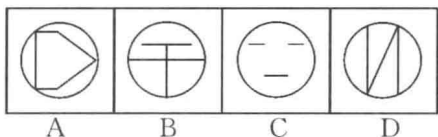
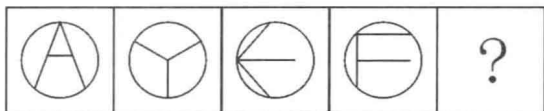
(2013·联考上·52) 从所给的四个选项中，选择最合适的一个填入问号处，使之呈现一定的规律性：



**【答案】** A

**【名师解析】** 本题考查对称轴的方向。第一组图形都具有一条竖直的对称轴，第二组图形都具有一条斜着的对称轴。

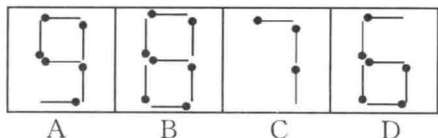
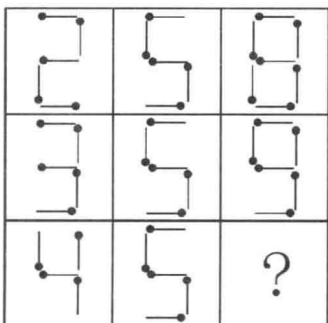
(2013·联考上·53) 从所给的四个选项中，选择最合适的一个填入问号处，使之呈现一定的规律性：



**【答案】** B

**【名师解析】** 题干每幅图形中直线的数量都为3，且内部图形与外部图形的交点数都为3。


(2013·联考上·54) 从所给的四个选项中，选择最合适的一个填入问号处，使之呈现一定的规律性：



## 【答案】A

【名师解析】在第一行中，第一个图叠加第二个图为第三个图，第二行也满足此规律，所以第三行的前两个图叠加为A项。

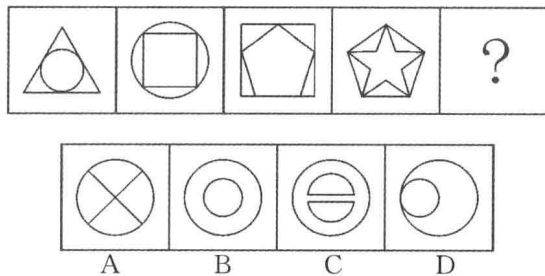
(2012·联考下·51)从所给四个选项中，选择最合适的一个填入问号处，使之呈现一定的规律性：



## 【答案】C

【名师解析】观察图形可以发现，九宫格的每一列中的第一个图形和第二个图形有相同的元素，第二个图形和第三个图形也有相同的元素，由此想到样式叠加。将第一列的第一个图形和第三个图形叠加，即得到第二个图形，验证第二列图形，符合此规律。

(2012·联考下·52)从所给四个选项中，选择最合适的一个填入问号处，使之呈现一定的规律性：

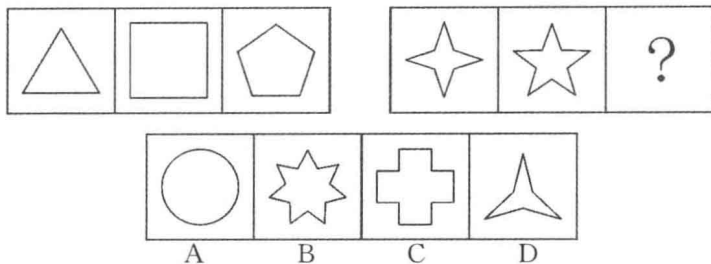


## 【答案】D

【名师解析】本题考查的是一笔画问题。根据“一笔画”的原则：在一个图形中，有0个或2个奇点，可以一笔画成；有4个奇点，可以两笔画成；有6个奇点，可以三笔画成；以此类推。题干中的四个图形的奇点分别为0,0,2,0，因此均可一笔画成。A项，4个奇点，两笔画成；B项，两部分，两笔画成；C项三部分，三笔画成；D项，0个奇点，一笔画成。四个选项中只有D项可以一笔画成。



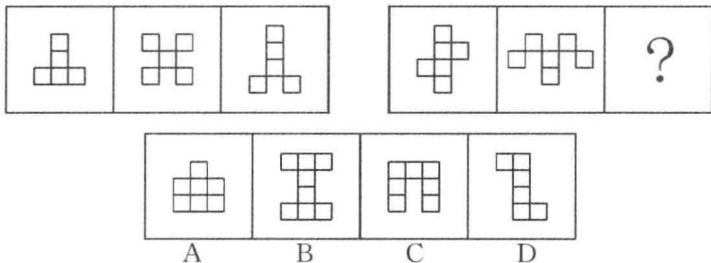
(2012·联考下·53)从所给四个选项中,选择最合适的一个填入问号处,使之呈现一定的规律性:



【答案】C

【名师解析】第一组图形的规律比较明显,边或角的个数分别为3、4、5,呈等差数列;如果按角的个数的规律,第二组图形角的个数分别为4、5,下一个图形应该含有6个角,四个选项都不符合。再看边的规律,前两个图形边的个数为8、10,按照规律,应该选含有12条边的图形,只有C项符合。

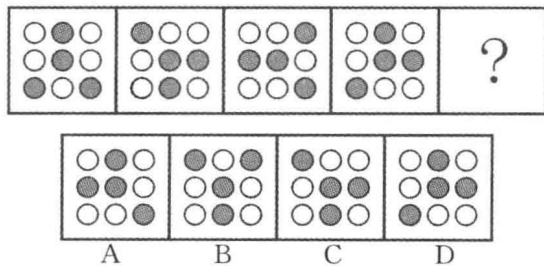
(2012·联考下·54)从所给四个选项中,选择最合适的一个填入问号处,使之呈现一定的规律性:



【答案】D

【名师解析】每个图形共有的元素是小正方形,第一组图中各个图形的小正方形的个数均为5,第二组图中前两个图形的小正方形的个数均为6,依照此规律,所求图形中应该也含有6个相同的小正方形。

(2012·联考下·66)从所给四个选项中,选择最合适的一个填入问号处,使之呈现一定的规律性:

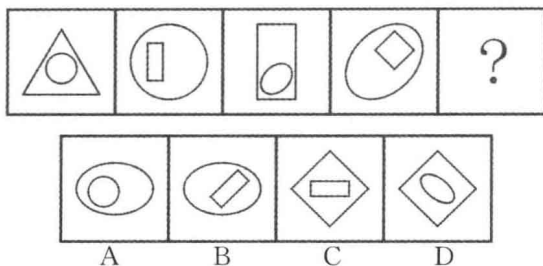


【答案】B

【名师解析】图中的九个小球,除了中间小球位置不变外,其余八个小球都沿逆时针的方向每次移动一个格。



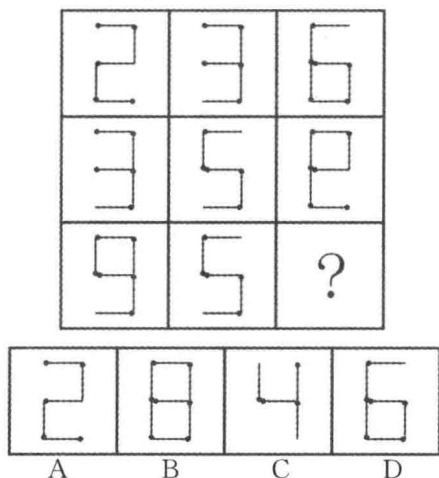
(2012·联考上·67)从所给四个选项中,选择最合适的一个填入问号处,使之呈现一定的规律性:



【答案】D

【名师解析】每幅图都由里外两个图形构成,且前一幅图里面的图形是后一幅图外面的图形,由此排除 A、B 选项。因为每一幅图中的两个图形都是由一个曲线图形和一个直线图形构成的,排除 C 选项。

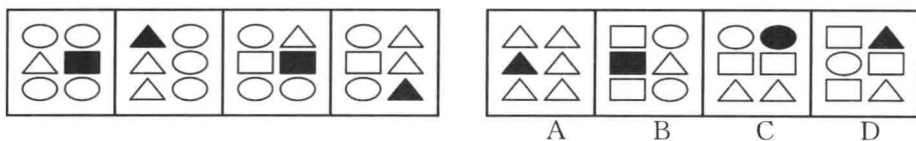
(2012·联考上·68)从所给四个选项中,选择最合适的一个填入问号处,使之呈现一定的规律性:



【答案】A

【名师解析】第一排的三个图形分别是由 5 根火柴、5 根火柴和 6 根火柴组成的,即第一排一共由 16 根火柴组成。第二排的三个图形分别是由 5 根火柴、5 根火柴和 6 根火柴组成,也就是说第二排也是由 16 根火柴组成。在第三排图形中,第一个图形是由 6 根火柴组成,第二个图形是由 5 根火柴组成,所以正确选项应由 5 根火柴组成,所以选 A 选项。

(2011·联考下·74)从 A、B、C、D 四个图形中选出最合适的一个,使得它保持左边四个图形所呈现的规律性:

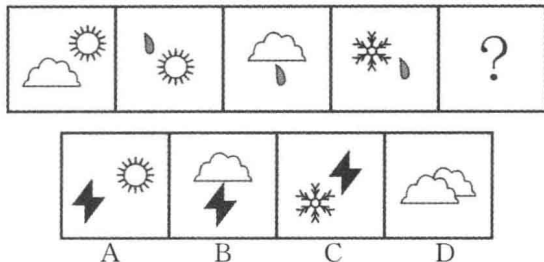


【答案】B



【名师解析】元素交替规律,题干四个图形中,黑色元素的分布规律为黑色方块、黑色三角、黑色方块、黑色三角,故下一个图形的黑色元素应为黑色方块。故选 B。

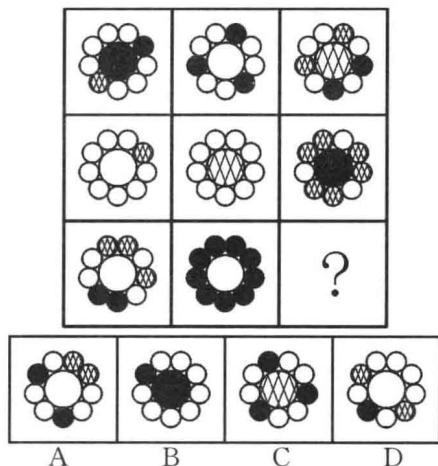
(2012·联考上·69)从所给四个选项中,选择最合适的一个填入问号处,使之呈现一定的规律性:



【答案】C

【名师解析】每幅图都是由两个图形构成的,且后一幅图中都含有前一幅图中的一个图形,所以选 C 选项。

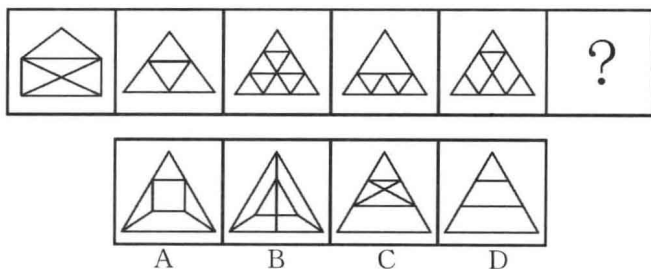
(2011·联考下·75)从所给的四个选项中,选择最合适的一个填入问号处,使之呈现一定的规律性:



【答案】D

【名师解析】每个图形的白色图形的数量均为奇数。

(2011·联考下·66)从所给的四个选项中,选择最合适的一个填入问号处,使之呈现一定的规律性:

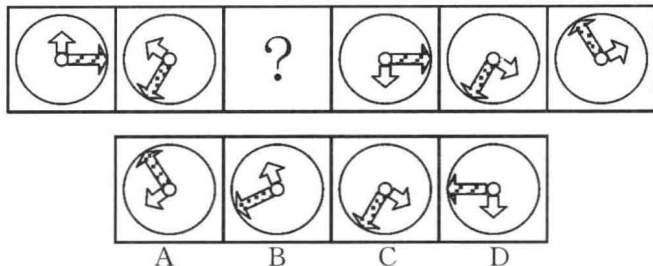


【答案】C



【名师解析】一笔画成规律,题干所给的五个图形均能一笔画成,四个选项中,只有C项能一笔画成。

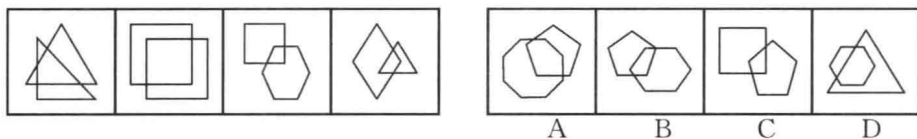
(2011·联考下·67)从所给的四个选项中,选择最合适的一个填入问号处,使之呈现一定的规律性:



【答案】A

【名师解析】图形位置旋转规律,按照每个图的短箭头逆时针旋转 $60^\circ$ ,长箭头顺时针旋转 $120^\circ$ 的规律可得下一个图形,故本题正确答案为A。


(2011·联考下·68)从A、B、C、D四个图形中选出最合适的一个,使得它保持左边四个图形所呈现的规律性:



【答案】C

【名师解析】线段数量规律,题干所给的四个图形的重叠部分均构成了四边形,故只有C项符合题干规律。

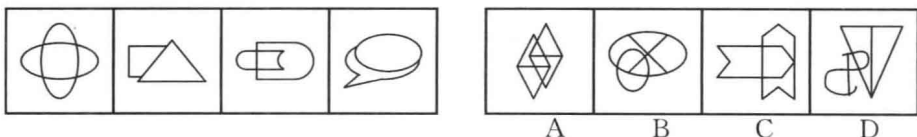
(2011·联考下·69)从A、B、C、D四个图形中选出最合适的一个,使得它保持左边四个图形所呈现的规律性:



【答案】A

【名师解析】图形位置旋转规律,观察题干所给的四个图形,不难发现,左上角的黑色三角形依次顺时针移动得到下一幅图形,左侧中间的黑色三角形依次逆时针移动得到下一个图形,依此规律,故本题正确答案为A。

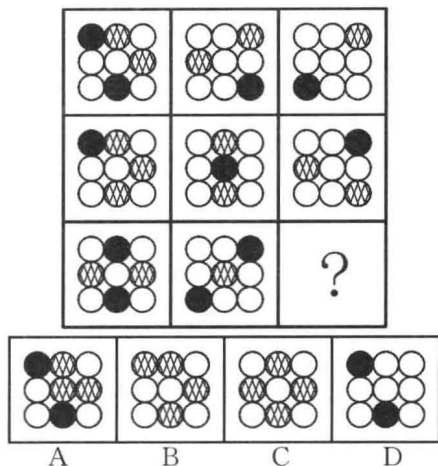
(2011·联考下·70)从A、B、C、D四个图形中选出最合适的一个,使得它保持左边四个图形所呈现的规律性:



【答案】C

【名师解析】一笔画成规律,题干中的四个图形都可以一笔画成,四个选项中只有C项可以一笔画成,故本题正确答案为C。


(2011·联考下·71)从所给的四个选项中,选择最合适的一个填入问号处,使之呈现一定的规律性:



【答案】A

【名师解析】元素种类规律,题干给出的8个图形和选项中的4个图形均含有9个圆,所以排除元素数量规律。题干所给的图形中均包括三种元素:黑色圆圈、白色圆圈、网状圆圈,依此规律,A项正确。

(2011·联考下·72)从所给的四个选项中,选择最合适的一个填入问号处,使之呈现一定的规律性:

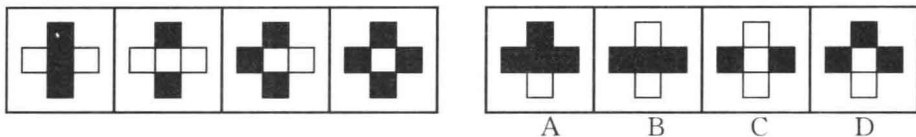


【答案】B

【名师解析】元素数量规律,题干给出的8个图形所包含的黑色方块数量都是偶数,四个选项中,只有B项的黑色方块数量为偶数。



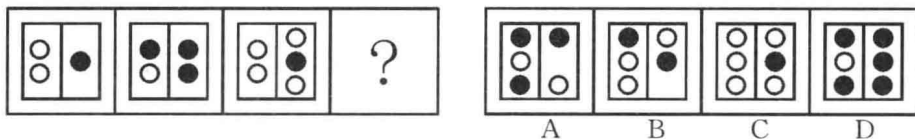
(2011·联考下·73)从 A、B、C、D 四个图形中选出最合适的一个,使得它保持左边四个图形所呈现的规律性:



【答案】D

【名师解析】元素变动规律,每个图形只变动一个方格可得到下一个图,如第一个图形中间的黑色方格变为白色可得到第二个图,第二个图最左端的方格变为黑色可得到第三个图,第三个图最右端的方格变为黑色可得到第四个图。因此,应选择一个可由第四个图变动一个方格就能得到的图形,选项中只有 D 项满足。故正确答案为 D。

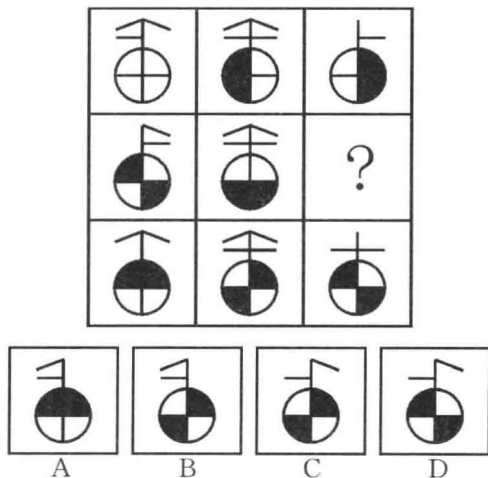
(2011·联考上·60)观察下图,选择最合适的一个填入问号处,使之呈现一定的规律性:



【答案】D

【名师解析】本题属于数量类题目。题干中给出的三幅图形元素的数量依次为 3、4、5、(6),故答案在 C、D 项中选择。三幅图形中还有另一层数量关系:2 个白圈、3 个黑圈、4 个白圈、(5 个黑圈),D 项符合要求。所以选择 D 选项。

(2011·联考上·52)从所给的四个选项中,选择最合适的一个填入问号处,使之呈现一定的规律性:



【答案】A

【名师解析】本题属于样式类题目。每一行的前两幅图,图形上半部分除了连接圆圈和折线的竖线不变外,其他部分去同存异,圆圈部分则叠加,得到第三幅图。其中圆圈部分颜色叠加规律为:白+黑=白;白+白=黑;黑+白=黑;黑+黑=白。本题正确选项为 A。





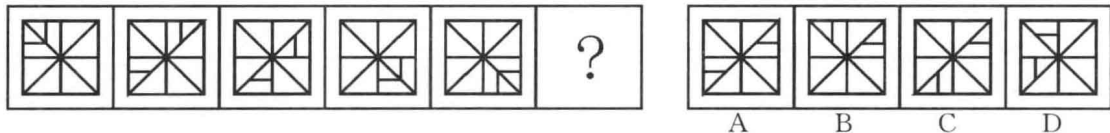
(2011·联考上·51)从所给的四个选项中,选择最合适的一个填入问号处,使之呈现一定的规律性:



【答案】A

【名师解析】本题属于数量类题目。每幅图都只含有一种元素,依次为平行四边形、矩形、三角形和正方形。只有选项 A 仅包含一种元素,其他选项都至少含有两种元素。所以选择 A 选项。

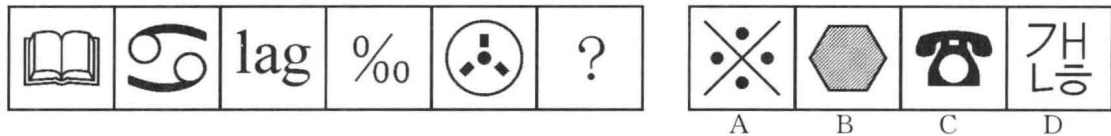
(2011·联考上·53)从所给的四个选项中,选择最合适的一个填入问号处,使之呈现一定的规律性:



【答案】C

【名师解析】本题属于位置类题目。题干中的五幅图形包含的元素完全相同,只有部分元素的位置发生变化。其中短竖线顺时针移动,短横线逆时针移动,且每次都只移动一个区域。本题正确选项为 C。

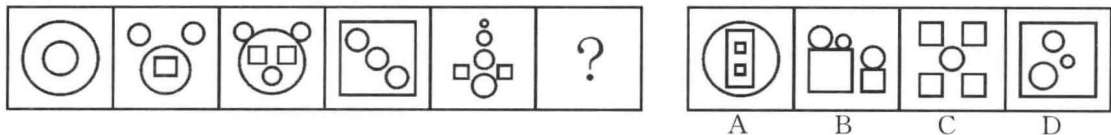
(2011·联考上·54)从所给的四个选项中,选择最合适的一个填入问号处,使之呈现一定的规律性:



【答案】D

【名师解析】本题属于数量类题目。题干中每幅图形的组成部分数量依次为:1、2、3、4、5、(6),而选项分别为:5、1、1、6。故本题答案为 D 选项。

(2011·联考上·55)从所给的四个选项中,选择最合适的一个填入问号处,使之呈现一定的规律性:



【答案】D

【名师解析】本题属于数量类题目。题干中每幅图形包含的圆圈与方块数量之差依次为:2-0=2,3-1=2,4-2=2,3-1=2,4-2=2。选项中只有 D 项包含的圆圈与方块的数量之差为 2。故本题答案为 D 选项。

