

义务教育课程标准实验教科书

中国历史 地图册

ZHONGGUO LISHI DITUCE

2005
吉林专用

八年级（下）

人民教育出版社历史编辑室

中国地图出版社教学地图编制中心

编著



中国地图出版社出版

目 次

第一单元 中华人民共和国的成立和巩固

中共中央进军北平路线	2
中华人民共和国的成立	3
全国领土的基本解放	4-5
昌都战役	5
抗美援朝前中国东部形势	6
抗美援朝	6
上甘岭战役	6
土地改革	7

第二单元 社会主义道路的探索

第一个五年计划主要建设成就	8
1958-1965年社会主义建设主要成就	9

第三单元 建设有中国特色的社会主义

对外开放的新格局	10
深圳经济特区	11
珠江三角洲	11
长江三角洲	11
浦东新区	12
浦东位置图	12
邓小平南巡示意图	12



第四单元 民族团结与祖国统一

民族区域自治	13
西部大开发	14
孔繁森在西藏的足迹	14
英国侵占香港示意图	15
香港特别行政区	15
澳门特别行政区	16
台湾省	16
台湾在祖国的位置	16



第五单元 国防建设与外交成就

中国人民海军	17
建国第一年同中国建交的国家	18
新中国外交事业的发展	18-19
亚太经合组织和世界贸易组织成员示意图	20-21



第六单元 科技教育与文化

科学技术的成就(一)	22
科学技术的成就(二)	23
走向世界体育强国	24
第23-29届奥运会举办地	24

第一单元

中华人民共和国的成立和巩固



1949年10月1日，中华人民共和国的成立，开辟了中国历史的新纪元，标志着中国现代史的开端。新中国成立以后，中国人民解放军加速了解放全国的步伐。随着1951年5月西藏的和平解放，除台湾、少数沿海岛屿和南海诸岛外，全国领土基本解放。新中国成立初期，为了巩固新生的人民民主专政的国家政权，迅速恢复国民经济，我国进行了抗美援朝战争和土地改革运动。



中华人民共和国国旗 即“五星红旗”，1949年9月中国人民政治协商会议通过。



读图

1949年3月23日，毛泽东等率中共中央机关离开西柏坡，经灵寿、行唐、曲阳、唐县、保定到达涿县，之后换乘火车于25日进入北平。1949年9月，第一届中国人民政治协商会议在北平举行，会议决定以北平为首都，并改名为北京。



你知道吗？

中华人民共和国国歌

即《义勇军进行曲》，田汉作词，聂耳作曲。原为电影《风云儿女》主题歌。歌曲表现了中华民族不屈不挠的战斗精神，激励和鼓舞了中国人民争取自由解放的斗志和信心，后被广为传唱。1949年9月，中国人民政治协商会议将其定为代国歌。1982年12月，第五届全国人民代表大会正式定为中华人民共和国国歌。



人民英雄纪念碑 1949年9月，中国人民政治协商会议通过修建决议，1958年竣工。碑身正面雕刻着毛泽东题写的“人民英雄永垂不朽”八个大字，背面是纪念碑碑文。碑座四周镶嵌着10幅汉白玉浮雕。

中华人民共和国的成立

(1949年10月)



读图

在中国共产党的领导下,中国人民推翻了国民党的反动独裁统治,取得了解放战争的胜利。1949年10月1日,中华人民共和国成立。从图中不难看出,新中国成立时,全国领土尚未完全解放,西南、中南部分地区、台湾和一些岛屿仍处在国民党势力控制之下。

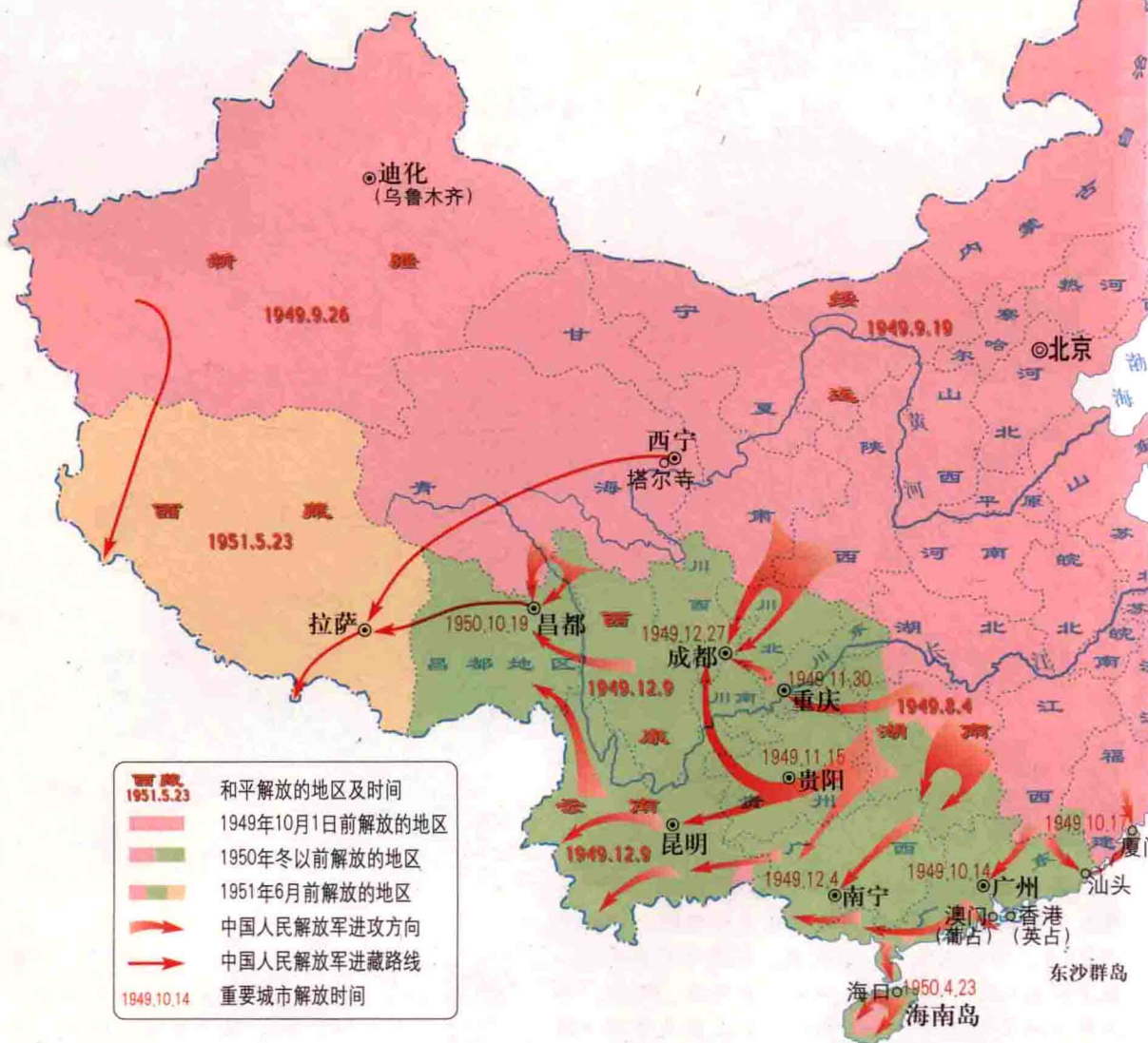


开国大典 (油画)



北京是我国的七大古都之一,结合所学历史知识并查阅前几册有关地图,想一想,在中华人民共和国定都北京前,还有哪些朝代曾定都北京,当时称什么?


全国领土的基本解放



读图

1949年10月1日中华人民共和国成立以后，中国人民解放军加速了解放全国的步伐，继续向华东、中南和西南地区推进。至1949年底，陆续解放了广东、广西、贵州、四川等地，并采用和平解放的方式，解放了西康和云南。1950年5月，海南岛和舟山群岛解放；10月，昌都战役的胜利结束，为和平解放西藏奠定了基础。1951年5月，中央政府和西藏地方政府在北京签定了《关于和平解放西藏办法的协议》，西藏和平解放。至此，除台湾、少数沿海岛屿和南海诸岛，全国领土基本解放。

西沙群岛 中沙群岛
南沙群岛
曾母暗沙



进军大西南



海口市人民热烈庆祝海南解放



人民解放军向昌都进军




中央人民政府全权代表在《关于和平解放西藏办法的协议》上签字



参考相关历史地图，并结合以前所学历史知识，请你想一想，为什么说西藏自古以来就是中国的领土？

抗美援朝前中国东部形势



徘徊在台湾海峡的美国第七舰队

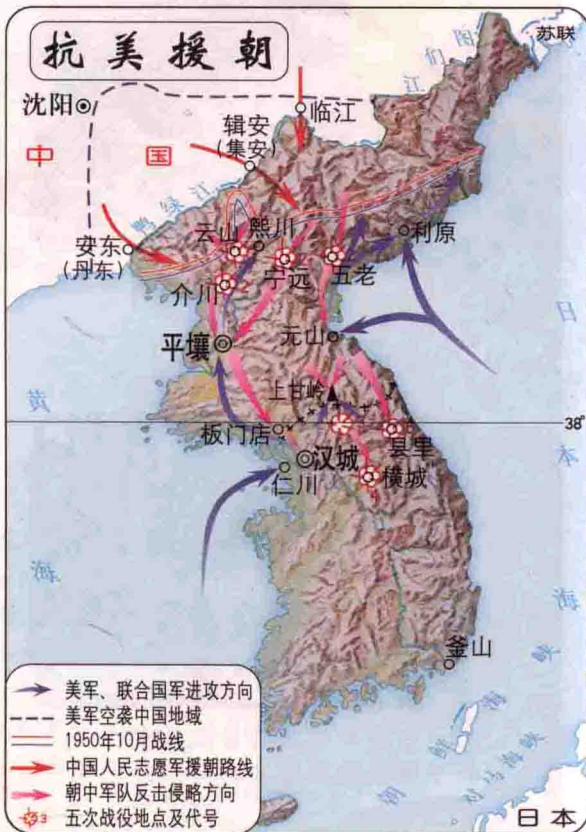
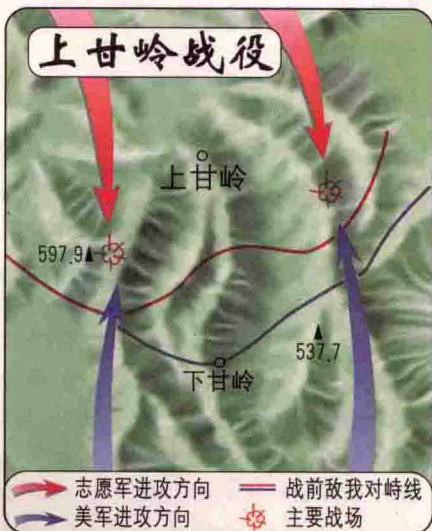


你知道吗？ 朝鲜战争中的“联合国军”

1950年6月，朝鲜战争爆发。7月，在美国的操纵下，联合国安理会通过了以美国为主，组建联合国军队出兵朝鲜的决议。之后，美国纠集英、法、加等15个国家和地区的军队，组成“联合国军”参加朝鲜战争。“联合国军”的总司令最初为美国远东军总司令麦克阿瑟，后由李奇微和克拉克先后接替。



板门店停战谈判



土地改革



斗争地主 (宣传画)



翻身农民拥护《中华人民共和国土地改革法》



读图

从图中我们不难看出, 新中国成立之前, 东北、华北等老解放区已经基本完成了土地改革。新中国成立后至1952年底, 除一部分少数民族地区外, 华东、中南、西南、西北等广大新解放区也基本完成了土地改革。1953年以后, 新疆、青海、西藏等少数民族地区陆续进行了土地改革。


第二单元 社会主义道路的探索



从1953年起，我国开始进行社会主义工业化和三大改造。到1956年，初步建立起社会主义的基本制度，进入社会主义初级阶段。我国在建设社会主义的进程中，取得了巨大成就，初步奠定了现代化建设的物质文化基础。但是，在社会主义道路的探索中，也出现了“大跃进”、人民公社化运动等急躁冒进的错误，甚至出现了灾难性的“文化大革命”。

第一个五年计划主要建设成就

(1953—1957年)



“一桥飞架南北，天堑变通途”。
1957年10月，武汉长江大桥建成通车。



青藏公路 1954年通车。从青海西宁至西藏拉萨，全长1900余千米。



你知道吗? 长江之桥知多少?

解放前, 在我国的第一大河长江上没有一座大桥, 因此, 长江成为阻碍南北交通的“天堑”。新中国成立以后, 随着武汉、南京等地长江大桥的陆续修建, 至目前为止, 长江上已建成的各种公路或公路、铁路两用的大中型桥梁有50座左右, 一些大城市如重庆、武汉、南京等已有2座以上的长江大桥。



仔细阅读上页《第一个五年计划主要建设成就》图, 想一想, 第一个五年计划取得的主要成就中, 重工业的地域分布有何特点?

1958-1965年社会主义建设主要成就



铁人王进喜




铁人率队到大庆打的第一口油井—55井



雷锋

第三单元 建设有中国特色的社会主义



党的十一届三中全会以后，我国进入了改革开放和社会主义现代化建设的新时期。随着改革开放的进行，我国逐步形成了一个全方位、多层次、宽领域的对外开放格局。同时，随着农村和城市经济体制改革的推行，社会主义现代化建设得到了进一步发展。1997年举行的中国共产党第十五次全国代表大会，把邓小平理论确立为党的指导思想，这对建设有中国特色的社会主义具有重要意义。

对外开放的新格局





读图并结合历史，说一说我国对外开放的格局有何特点？



什么是经济特区?

所谓经济特区，就是指在一个国家或地区划出一定的范围，实行特殊的经济政策和经济体制的地区。1980年，我国分别在广东的深圳、珠海、汕头和福建的厦门建立了4个经济特区，1988年增设海南岛为经济特区。



深圳远眺



珠江三角洲



长江三角洲



珠江三角洲是指由珠江及其支流西江、北江和东江冲积而成的河口三角洲。其主体部分西起三水，东至石龙，南至崖门。广义的珠江三角洲包括西起高要，东至惠东，北至清远的广大地区。珠江三角洲1985年被辟为经济开放区。



长江三角洲大致指镇江以东、通扬运河以南、杭州湾以北的长江下游平原部分地区。这里工农业发达，城镇密集，是全国重要的经济中心，1985年被辟为经济开放区。



第三单元 建设有中国特色的社会主义

浦东新区



陆家嘴金融贸易区



邓小平在武昌火车站与湖北省、武汉市负责人亲切交谈




邓小平在深圳仙湖植物园种树



1992年春，邓小平到南方视察，沿途经过武昌、深圳、珠海、顺德，最后到达上海。在视察途中，小平多次发表了重要讲话。

第四单元 民族团结与祖国统一



民族区域自治是我国的一项基本国策和基本政治制度，它促进了民族团结和各民族的共同发展。“一国两制”的伟大构想，是完成祖国统一大业的基本方针，已经成功地解决了香港和澳门问题，实现了香港和澳门的回归。在“和平统一，一国两制”的对台方针指引下，海峡两岸交往日益密切，经济上互相促进、互补互利的局面初步形成，为祖国和平统一创造了条件。

民族区域自治



民族区域自治是我国的一项基本国策，至2002年底，我国共建立了内蒙古自治区、新疆维吾尔自治区、广西壮族自治区、宁夏回族自治区、西藏自治区等5个省级民族自治区，此外，还有30个自治州，119个自治县(旗)。



西部大开发



读图

西部大开发的范围包括我国西南五省区市（四川、云南、贵州、西藏、重庆）和西北五省区（陕西、甘肃、青海、新疆、宁夏），以及内蒙古、广西两个自治区，面积661万平方千米，约占全国总面积的69%。



孔繁森用随身携带的小药箱为农牧民看病、治病



孔繁森询问藏族儿童的学习、生活情况



孔繁森与科技人员一起研究科学种田



- 1842年英割占
- 1860年英割占
- 1898年英租



英国侵占香港示意图



你知道吗?

香港问题

香港地区包括香港岛、九龙及“新界”。1841年，英国强占香港岛。1842年，英国通过中英《南京条约》，割占香港岛。1860年，英国通过中英《北京条约》，割占九龙半岛界限街以南地区。1898年，英国强迫清政府签订中英《展拓香港界址专条》，强行租借界限街以北、深圳河以南的九龙半岛北部大片地区及附近的200多个岛屿(后统称“新界”)，租期99年，至1997年6月30日期满。1982年，我国政府做出在1997年收回香港的决策。通过长达两年多的外交谈判，1984年12月，中英联合声明在北京签署，成功解决香港回归问题。1997年7月1日，我国正式恢复对香港行使主权，中华人民共和国香港特别行政区成立。



香港区旗



香港区徽



1984年，邓小平在会见美国一个代表团时，把解决中国统一问题的构想概括为“一个中国，两种制度”



1997年7月1日，中英两国政府在香港会展中心隆重举行香港政权交接仪式



第四单元 民族团结与祖国统一



澳门区旗



澳门区徽



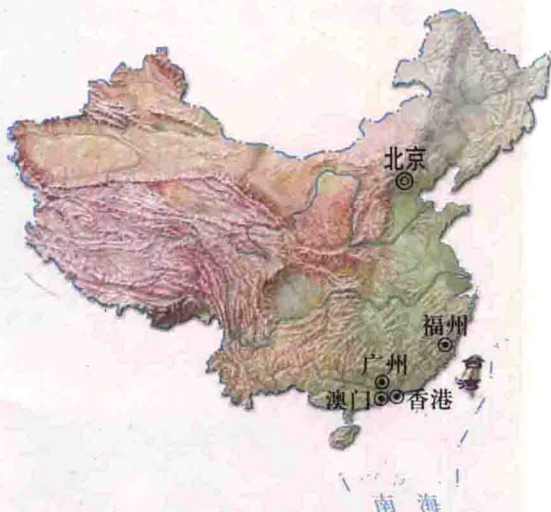
读图

澳门包括澳门半岛、氹仔岛、路环岛三部分。澳门自古以来就是中国领土。1553年，葡萄牙人借口曝晒水浸货物，强行进入澳门。1557年，他们通过贿赂明朝官员，取得在澳门的定居权。19世纪五六十年代，葡萄牙人又先后侵占了氹仔岛和路环岛。1987年，中葡两国政府签署了《中葡关于澳门问题的联合声明》，声明宣布：澳门是中国领土，中国政府于1999年12月20日对澳门恢复行使主权。1999年12月20日，中华人民共和国澳门特别行政区成立。



台湾省

台湾在祖国的位置



假设你是一位家住台北的福州籍台胞，在现行条件下，你能选择怎样的路线回福州探亲？在海峡两岸实现三通后，你又能选择怎样的路线？在这两种情况下，哪一种更方便，更能节省你的时间和费用？