

配合人民教育出版社编著出版的
义务教育课程标准实验教科书使用

地理填充图册

DILI TIANCHONG TUCE

七年级 下册



中国地图出版社编制出版

配合人民教育出版社编著出版的
义务教育课程标准实验教科书使用

地理填充图册

七年级 下册

班级_____

姓名_____

学号_____

目次

| | | |
|------------|--------------------|--------------|
| 第六章 | 我们生活的大洲——亚洲 | 1~5 |
| | 第一节 自然环境 | 1~3 |
| | 第二节 人文环境 | 4~5 |
| 第七章 | 我们邻近的国家和地区 | 6~15 |
| | 第一节 日本 | 6~7 |
| | 第二节 东南亚 | 8~10 |
| | 第三节 印度 | 11~13 |
| | 第四节 俄罗斯 | 14~15 |
| 第八章 | 东半球其他的国家和地区 | 16~24 |
| | 第一节 中东 | 16~17 |
| | 第二节 欧洲西部 | 18~20 |
| | 第三节 撒哈拉以南的非洲 | 21~22 |
| | 第四节 澳大利亚 | 23~24 |
| 第九章 | 西半球的国家 | 25~29 |
| | 第一节 美国 | 25~26 |
| | 第二节 巴西 | 27~29 |
| 第十章 | 极地地区 | 30~31 |
| 附录 | 参考答案 | 32~34 |

一、读图6.1，完成下列各题。

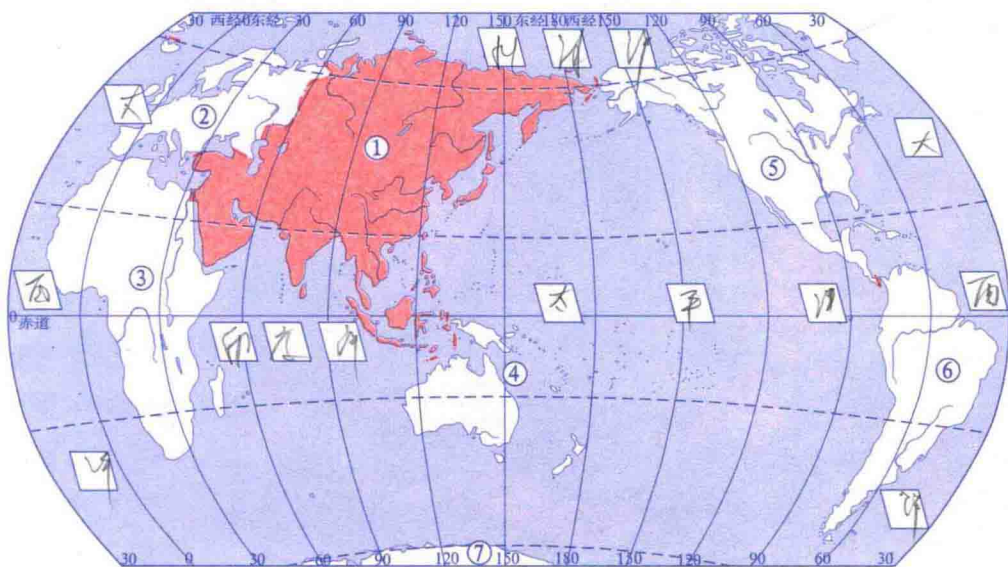


图6.1 亚洲在世界中的位置

1. 填出图中数字所代表的大洲的名称。

- ① 亚 ② 欧 ③ 非 ④ 大洋州 ⑤ 北美
 ⑥ 南美 ⑦ 南极

2. 在图中用红笔标绘亚洲与欧洲、亚洲与非洲以及亚洲与北美洲的分界线，并填写下列地理事物的名称。

1) 亚洲与欧洲的分界线：乌拉尔山脉、乌拉尔河、大高加索山脉、黑海和土耳其海峡。

2) 亚洲与非洲的分界线：苏伊士运河。

3) 亚洲与北美洲的分界线：白令海峡。

3. 在图中填注下列地理事物的名称。

太平洋、大西洋、印度洋和北冰洋。

4. 用红笔标绘北回归线和北极圈、本初子午线和180°经线，并分析填空。

1) 从东西半球分析，亚洲大部分位于东半球；从南北半球分析，亚洲大部分位于北半球。

2) 从地球五带分析，亚洲大陆大部分地处温带；从海陆位置分析，亚洲东临太平洋，北临北冰洋，南临印度洋，西与欧洲接壤。

5. 分析各大洲的形状，亚洲南北跨纬度最广，东西跨经度最大。亚是世界上面积最大的一个洲。

二、读图6.2，完成下列各题。

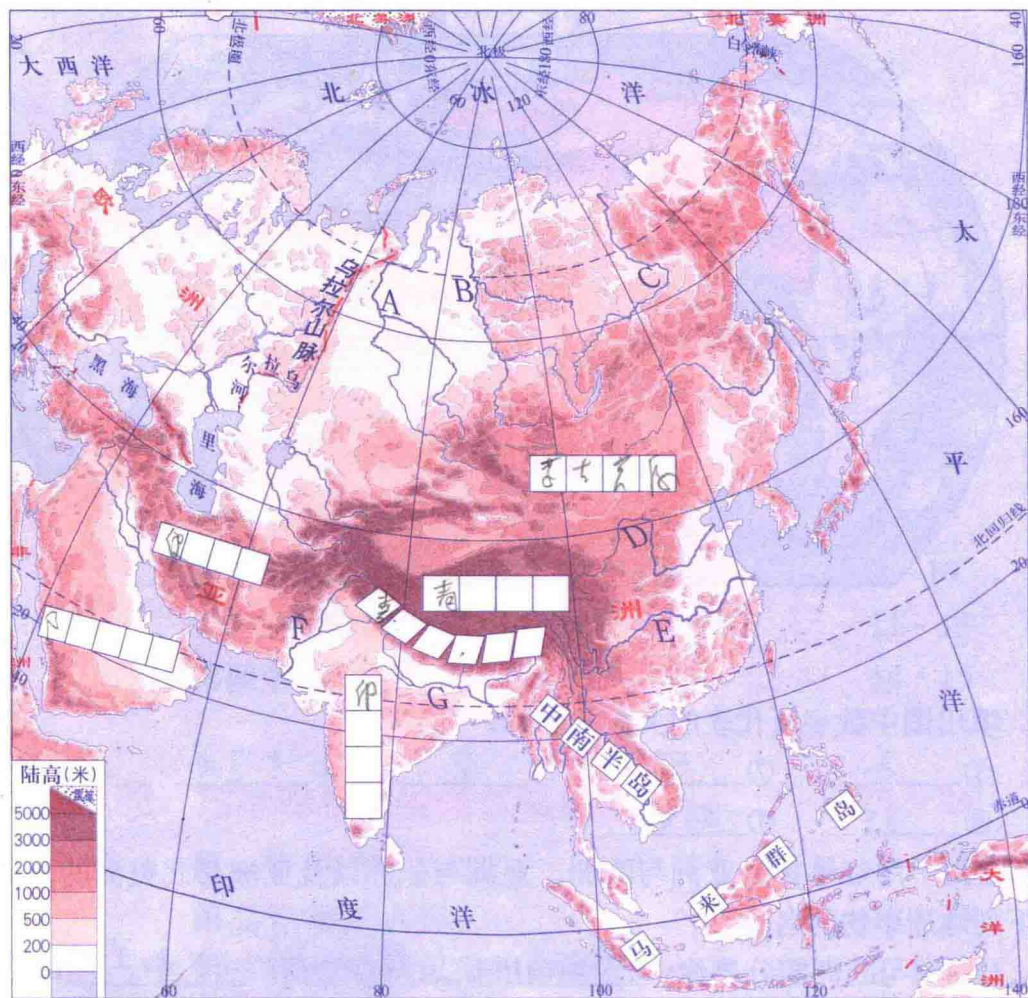


图 6.2 亚洲的地形

1. 在图中填注下列地理事物的名称。

青藏高原、蒙古高原、伊朗高原、印度半岛、阿拉伯半岛和喜马拉雅山脉。

2. 填出图中字母所代表的地理事物名称。

A 鄂毕 河 B 叶尼塞 河 C 勒拿 河 D 鄂 河
E 长 江 F 印度 河 G 恒 河

3. 读图填充。

1) 亚洲地形以 高原山地 为主，地势特点为 中部地势高峻，四周地势低平。

2) 受地形的影响，亚洲的河流流向呈 放射 状，流向周边的海洋。

3) 喜马拉雅山脉的主峰是 珠穆朗玛峰，为世界最高峰。

三、读图6.3，完成下列各题。

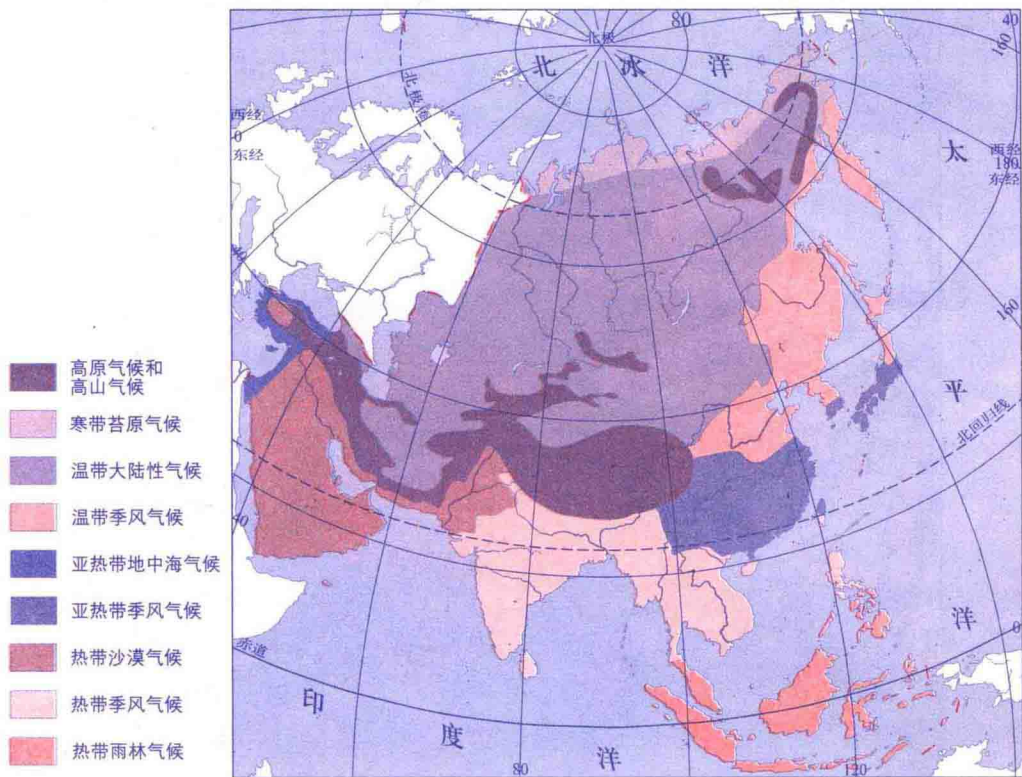


图 6.3 亚洲的气候类型

1. 受纬度位置和海陆位置的影响，亚洲的气候具有复杂多样、温带大陆性气候显著和季风气候分布广的特点。

2. 北回归线经过的气候类型自西向东依次为热带沙漠气候、热带季风气候和亚热带季风气候。

3. 青藏高原地区属于高原山地气候。该气候产生的主要原因是地势高。
气温随高度增加而降低

4. 亚洲东海岸气候类型以季风气候为主，该气候的特点是降水集中在夏季。

5. 想一想，你家乡冬季和夏季的风向有什么不同？冬夏两季的降水量有明显变化吗？为什么？(选作)

第二节 人文环境

一、读图6.4，完成下列各题。

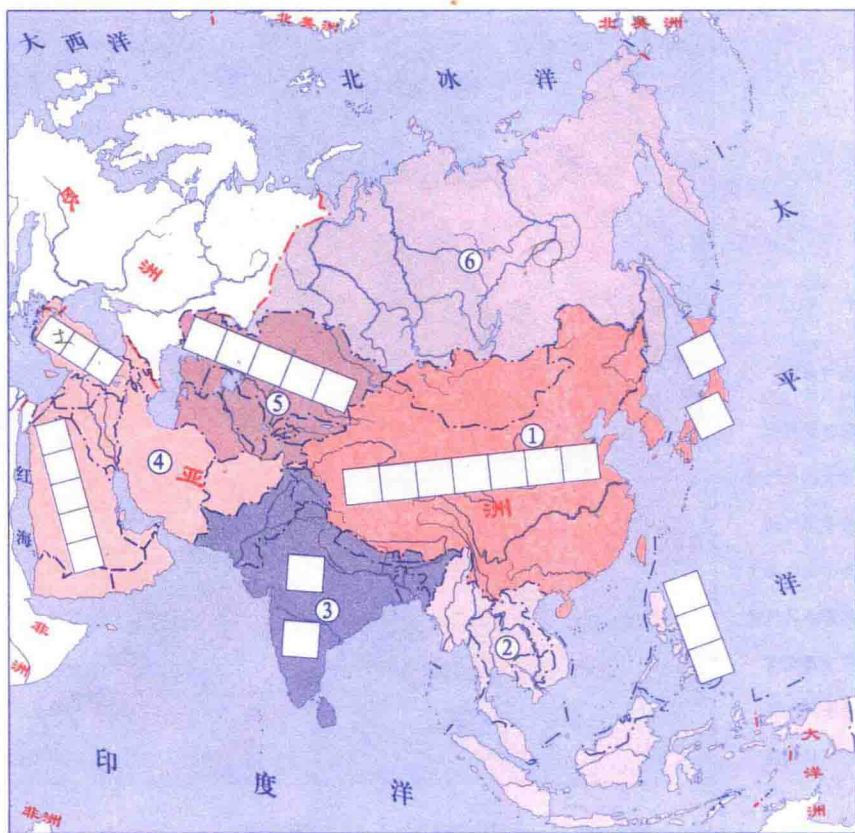


图6.4 亚洲的国家和地区

1. 按地理方位，亚洲通常被划分为 ① 东亚、② 东南亚、③ 西亚、④ 中亚、⑤ 南亚、⑥ 北亚 六个区域。

2. 在图中填注下列国家的名称，并将其与所代表区域的数字用线相连。

- | | |
|------------|---|
| A. 中华人民共和国 | ① |
| B. 哈萨克斯坦 | ② |
| C. 沙特阿拉伯 | ③ |
| D. 印度 | ④ |
| E. 菲律宾 | ⑤ |
| F. 日本 | ⑥ |

3. 土耳其是跨亚洲和欧洲两大洲的国家，在图中标注出该国名称。

表6.1 世界各大洲人口数一览表(2000年)

| 大洲 | 亚洲 | 非洲 | 欧洲 | 北美洲 | 南美洲 | 大洋洲 | 世界总人口 |
|-------|------|------|------|------|------|-----|-------|
| 人口(亿) | 36.8 | 8.00 | 7.28 | 4.78 | 3.45 | 0.3 | 60.61 |



二、读表6.1, 完成下列各题。

1. 将各洲人口总数做成柱状图。
2. 在各大洲中, 亚洲占世界总人口的____%, 是大洋洲人口总数的____倍。
3. _____国是世界上人口最多的国家, 据2000年统计, 其人口已达到____亿。_____国家紧居其后, 人口总数居世界第二位。

三、读表6.2 和图6.5, 完成下列各题。

表6.2 1998年亚洲四国国内生产总值的三类产业构成(%)

| 国家 | 第一产业 | 第二产业 | 第三产业 |
|------|------|------|------|
| A.日本 | 2 | | |
| B.韩国 | | 43 | |
| C.印度 | | | 46 |
| D.缅甸 | 53 | 9 | 38 |

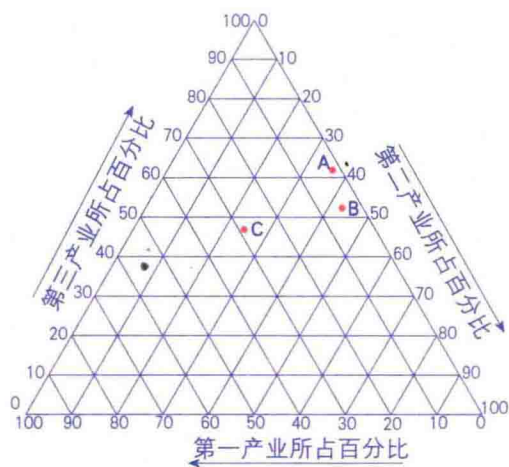


图6.5 1998年亚洲四国国内生产总值的三类产业构成(%)

1. 读出图6.5中A、B、C三国三类产业百分比, 将读出的大约数值填在表6.2中。
2. 根据表6.2中提供的D国数值, 在图中绘出D国的点位。
3. 根据图6.5说出这四个国家的三类产业构成的差异。

一、读图7.1，完成下列各题。

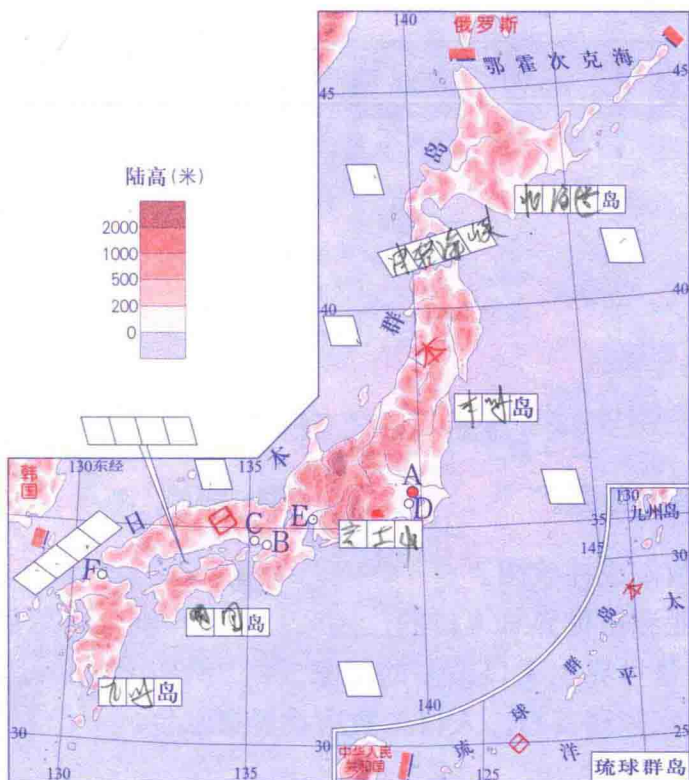


图7.1 日本地形图

1. 读图填注。

1) 日本四大岛屿的名称。

2) 太平洋、日本海、朝鲜海峡、津轻海峡和濑户内海。

2. 填写图中字母所表示的城市。

A 东京 B 名古屋 大阪 C 神户
 D 横滨 E 名古屋 F 北九州

3. 日本有一座火山是日本的最高峰，同时也是日本著名的旅游胜地，它就是_____。在图中标注其名称。

二、根据教科书回答。

1) 日本多火山地震的原因 日本处于太平洋西岸火山地震带

2) 日本工业分布的特点是 集中分布在太平洋沿岸和濑户内海沿岸，形成原因是 ① 依靠港口运输原料和产品 ② 城市人口集中 有电力技术和劳动力资源

二、读图7.2, 完成下列各题。

1. 日本的主要工业原料中, 除 水 外, 其它都很贫乏。日本的 水 资源丰富, 在一定程度上可以弥补矿物能源的不足。

2. 日本的棉花全部依赖进口, 但纺织业发达, 原因是 国内有先进的科技和资金。

3. 日本经济对外依赖严重的原因是 矿产资源贫乏。



图7.2 1998年日本进口主要工业原料所占百分比

三、读图7.3, 完成下列各题。

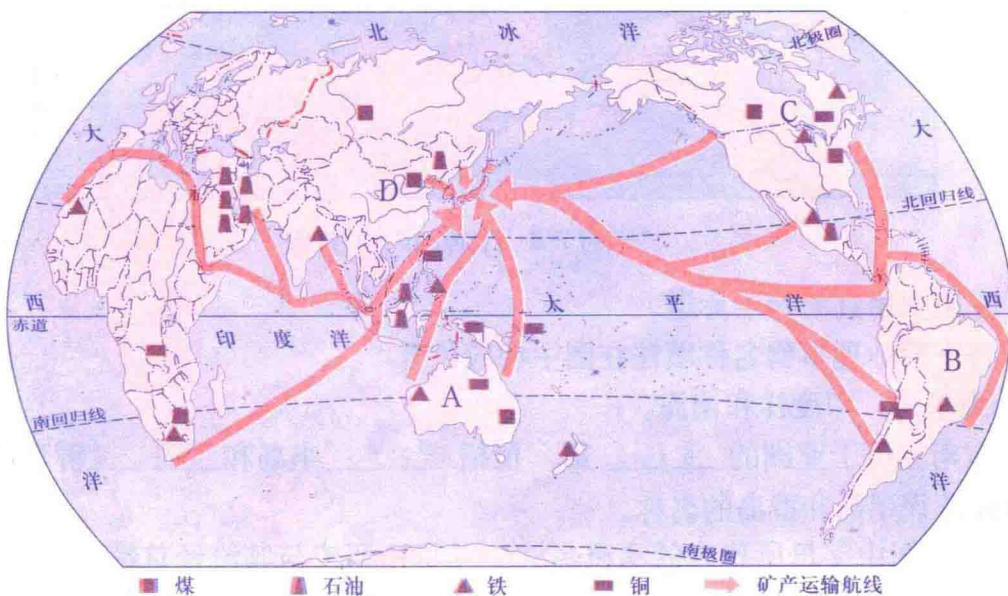


图7.3 日本主要工业原料来源

1. 图中各箭头都指向的国家是 日本, 这说明该国 矿产 资源贫乏, 需大量进口。

2. 日本可以大力发展海上航运的有利的自然条件是 海岸线曲折, 优良港湾。

3. 在日本沿岸有许多来自各国的工业原料船舶, 试判断:

1) 如果船舶装有石油, 它可能主要来自 西马 地区。

2) 如果船舶装有铁矿石, 它可能来自南半球的 A 澳大利亚 国家和

B 巴西 国家。

3) 如果船舶装有铜矿石, 它可能来自 C 加拿大 国家。

4) 如果船舶装有煤炭, 它可能来自亚洲的 D 中国 国家。

第二节 东南亚

一、读图7.4, 完成下列各题。

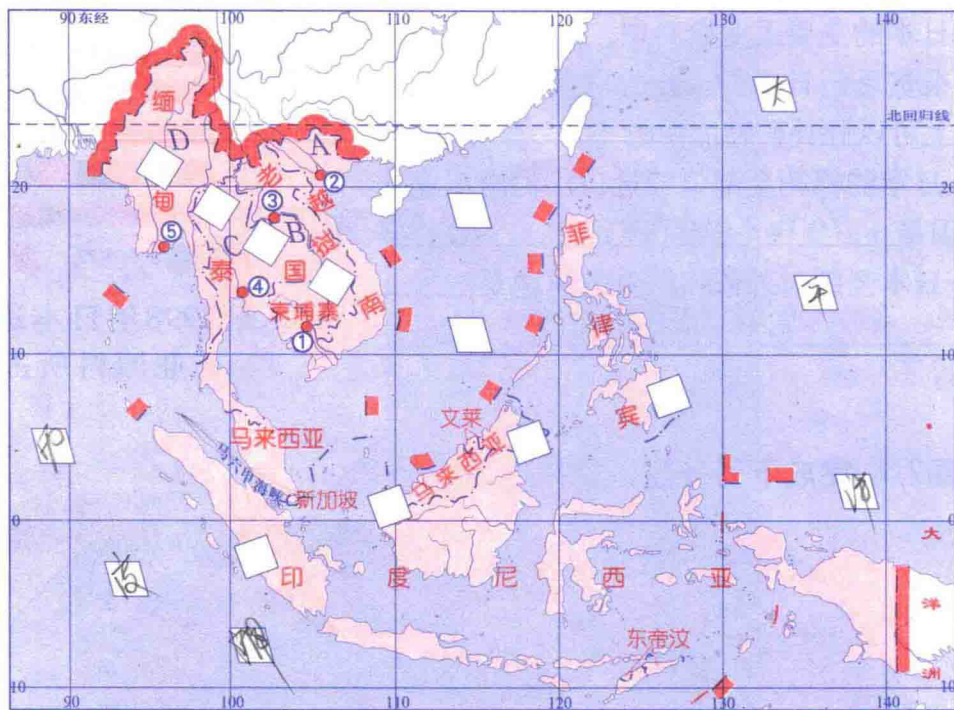


图7.4 东南亚的国家

1. 在图中用红笔标绘赤道。
2. 将下列地理事物名称填注在图中相应位置。
太平洋、印度洋和南海。
3. 东南亚位于亚洲的 东南 部, 包括 中南 半岛和 马来 群岛两大部分。

在图中标注该半岛和群岛的名称。

4. 填写图中字母所代表的河流名称, 并将该河流与其流经首都、该首都与所属国家连线。

| 河流 | 流经首都 | 国家 |
|----------------|--------------|-----|
| A <u>红河</u> | ① <u>河内</u> | 越南 |
| B <u>湄公河</u> | ② <u>万象</u> | 柬埔寨 |
| C <u>湄南河</u> | ③ <u>曼谷</u> | 泰国 |
| D <u>伊洛瓦底江</u> | ④ <u>曼德勒</u> | 缅甸 |
| | ⑤ <u>仰光</u> | 老挝 |

5. 中南半岛地区的山脉走向和河流流向的特点是 由北向南延伸 且山河相间 纵列分布。

6. 东南亚各国的许多大城市分布特点是 沿河分布 河流沿岸及河口三角洲。

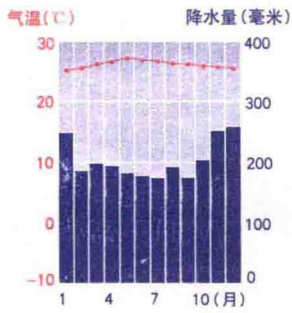


图7.6

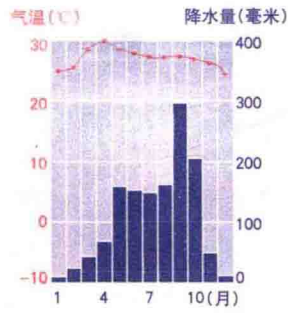


图7.7

二、读图7.6和7.7, 填写下表。

| 地区 | 图号 | 气温特点 | 降水特点 | 气候类型 |
|------|-----|------|--------|------|
| 中南半岛 | 7.7 | 终年炎热 | 有明显的旱季 | 热带季风 |
| 马来群岛 | 7.6 | 终年炎热 | 终年湿润 | 热带雨林 |

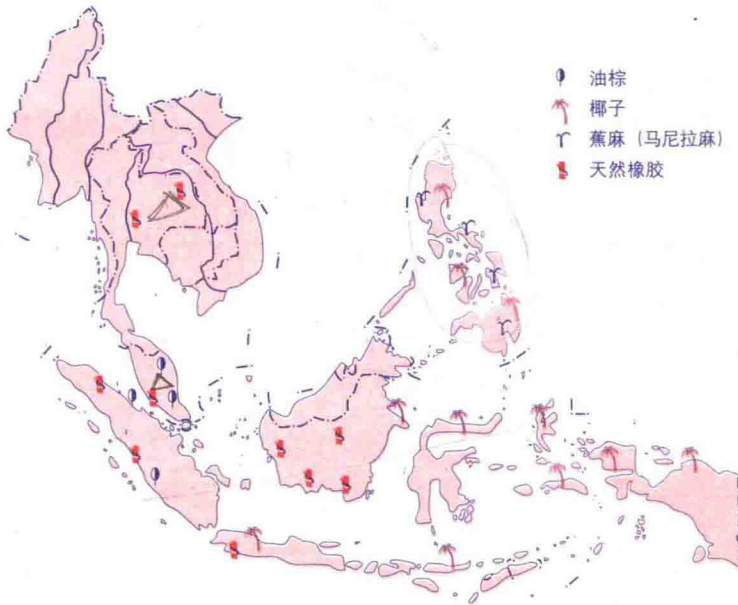


图7.8 东南亚物产分布图

三、读图7.8, 完成下列各题。

1. 图中反映出东南亚的物产以油棕、椰子、蕉麻和橡胶经济作物为主。

2. 分析图7.8并完成下表。

| 物产名称 | 天然橡胶 | 油棕 | 椰子 | 蕉麻 |
|------|------|------|--------------|-----|
| 主要国家 | 泰国 | 马来西亚 | 印度尼西亚 菲律宾 | 菲律宾 |

第二节 东南亚

四、读图7.9, 完成下列各题。

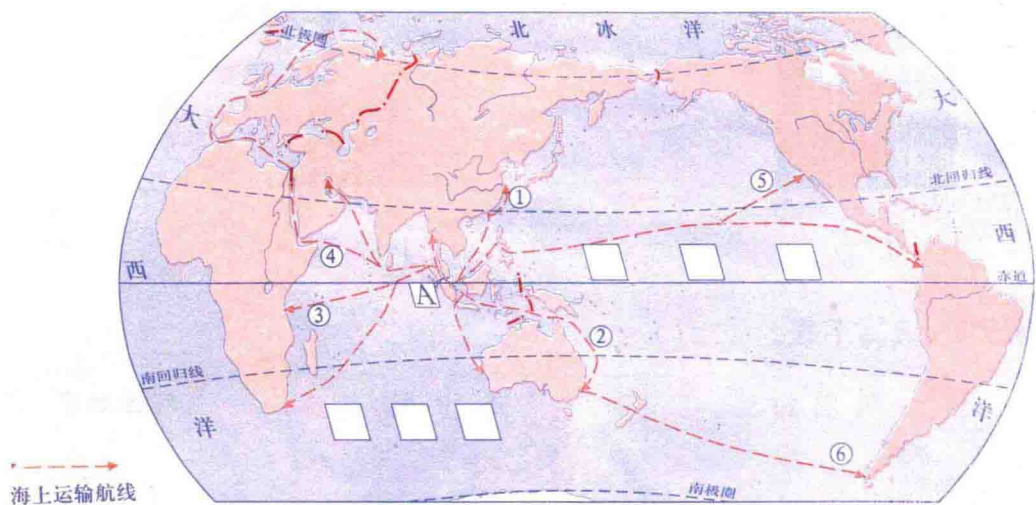


图7.9 马六甲海峡与世界海上交通

1. 在图中填注太平洋和印度洋的名称。

2. 图中A处即为著名的马六甲海峡。它位于马来半岛和苏门答腊岛之间。

3. 该海峡两岸的三个国家分别是马来西亚、新加坡和印尼。

4. 分析图7.9并填充:

1) 航线①能够到达亚洲的江浙地区。

2) 航线②能够到达大洋洲。

3) 航线③能够到达北美洲。

4) 航线④能够到达欧洲。

5) 航线⑤能够到达南美洲。

6) 航线⑥能够到达南美洲。

5. 分析东南亚地理位置的重要性。

一、读图7.10, 完成下列各题。

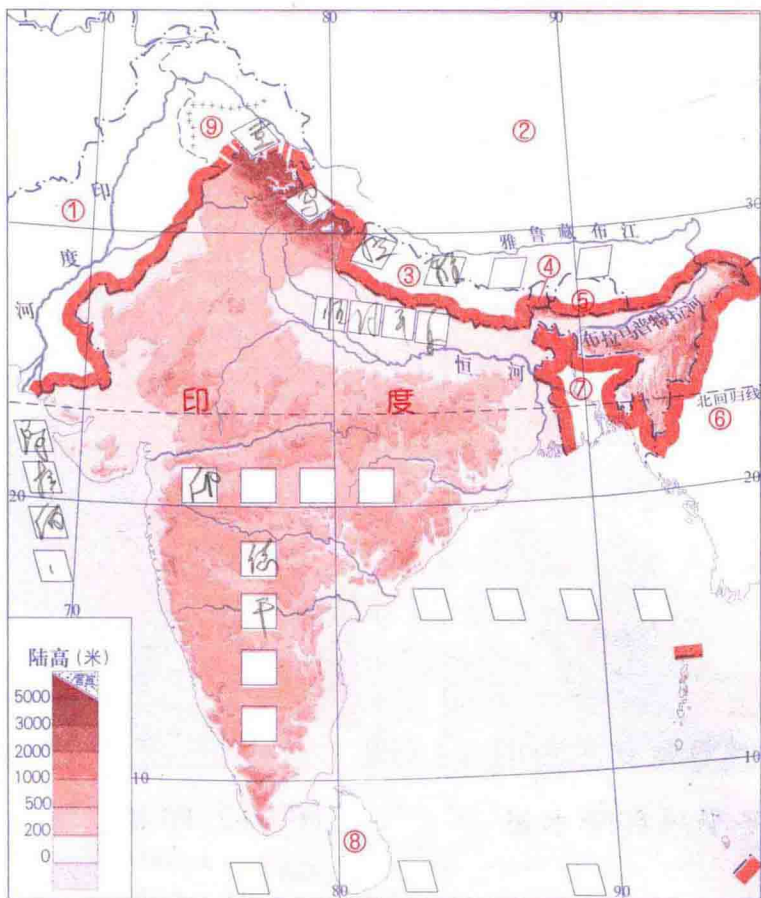


图7.10 印度地形图

1. 在图中填注下列地理事物的名称。

喜马拉雅山脉、印度半岛、德干高原、恒河平原、阿拉伯海、孟加拉湾和印度洋。

2. 填出图中数字所代表的国家或地区名称。

- | | | |
|---------------|---------------|---------------|
| ① <u>巴基斯坦</u> | ② <u>中国</u> | ③ <u>尼泊尔</u> |
| ④ <u>锡金</u> | ⑤ <u>不丹</u> | ⑥ <u>缅甸</u> |
| ⑦ <u>孟加拉国</u> | ⑧ <u>斯里兰卡</u> | ⑨ <u>马尔代夫</u> |

3. 中国位于印度的北部, 缅甸位于印度的东部。与印度隔海相望的国家是斯里兰卡。

4. 印度是南亚面积最大的国家。同时, 印度也是一个人口众多的国家, 人口已经超过10亿, 居世界人口总数第二位。

5. 印度河主要流经巴基斯坦国境内。

二、读图7.11和7.12，完成下列各题。

1. 在图7.11中用蓝笔描绘印度冬季风的风向箭头，在图7.12中用红笔描绘印度夏季风的风向箭头。

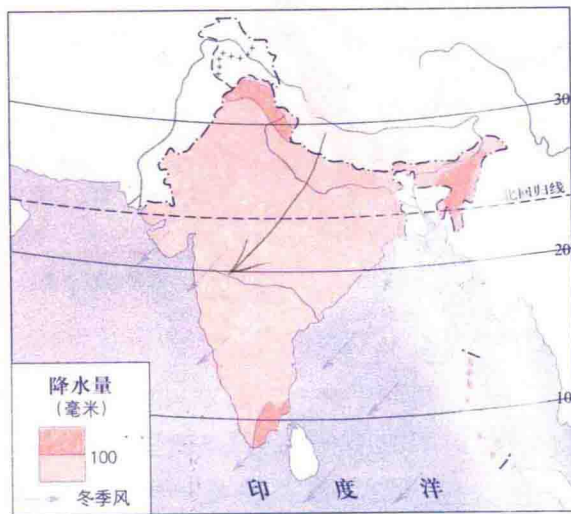


图7.11 印度冬季风和降水量

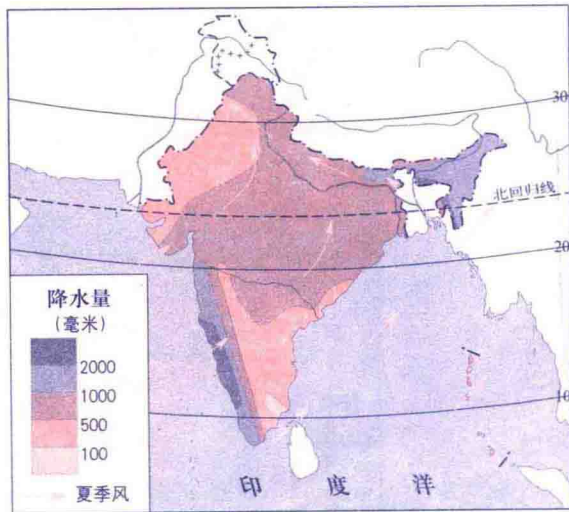


图7.12 印度夏季风和降水量

2. 读图7.11、图7.12，选择代表热带季风风向、季节和时间的正确代号，填入下列表格中：

| | | | | |
|-------|--------------|--------------------|------------|-----------------------|
| | ①东北风 ②西南风 | ①陆地吹向海洋 ②海洋吹向陆地 | ①雨季 ②旱季 | ①每年6月~9月 ②10月~次年5月 |
| 图7.11 | ① | ① | ② | ② |
| 图7.12 | ② | ② | ① | ① |

3. 印度大部分地区处于 热 带和 亚热带 带，气候以 热带季风气候 为主。该气候对印度发展农业的有利条件是光热 充足，雨季降水 丰富。不利条件是雨季降水 多，易形成 涝灾，旱季降水 少，易形成 旱灾。

三、读图7.13, 完成下列各题。

1. 印度主要粮食作物为 水稻 和 小麦, 主要经济作物有 棉花、黄麻 和 茶叶。

2. 对照图7.11和图7.12进行分析, 印度的粮食作物中, 水稻 分布区比 小麦 分布区降水量多; 经济作物中, 棉花 分布区比 黄麻 分布区和 茶叶 分布区降水量少。

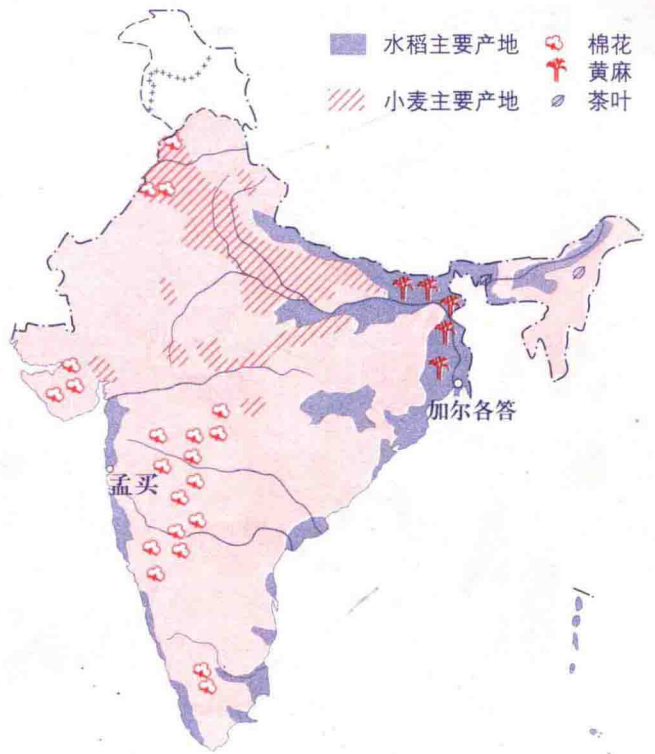


图7.13 印度主要农作物分布图

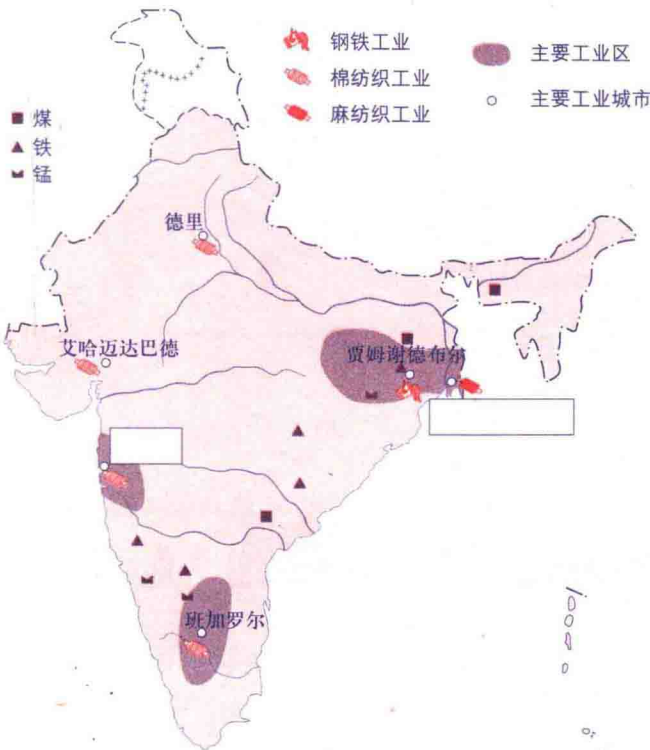


图7.14 印度主要矿产资源和工业分布图

四、读图7.14, 完成下列各题。

1. 印度主要的矿产资源有 煤、铁 和 锰, 主要的工业部门有 钢铁业、棉纺织业 和 麻纺织业。

2. 在图内填注孟买和加尔各答, 并填充: 孟买濒临 阿拉伯 海, 靠近 棉花 (农作物) 产区, 利用附近农产品为原料的 棉纺织 工业发达; 加尔各答位于 黄麻 (农作物) 产区, 是印度 麻纺织 工业中心。

第四节 俄罗斯

一、读图7.15，完成下列各题。

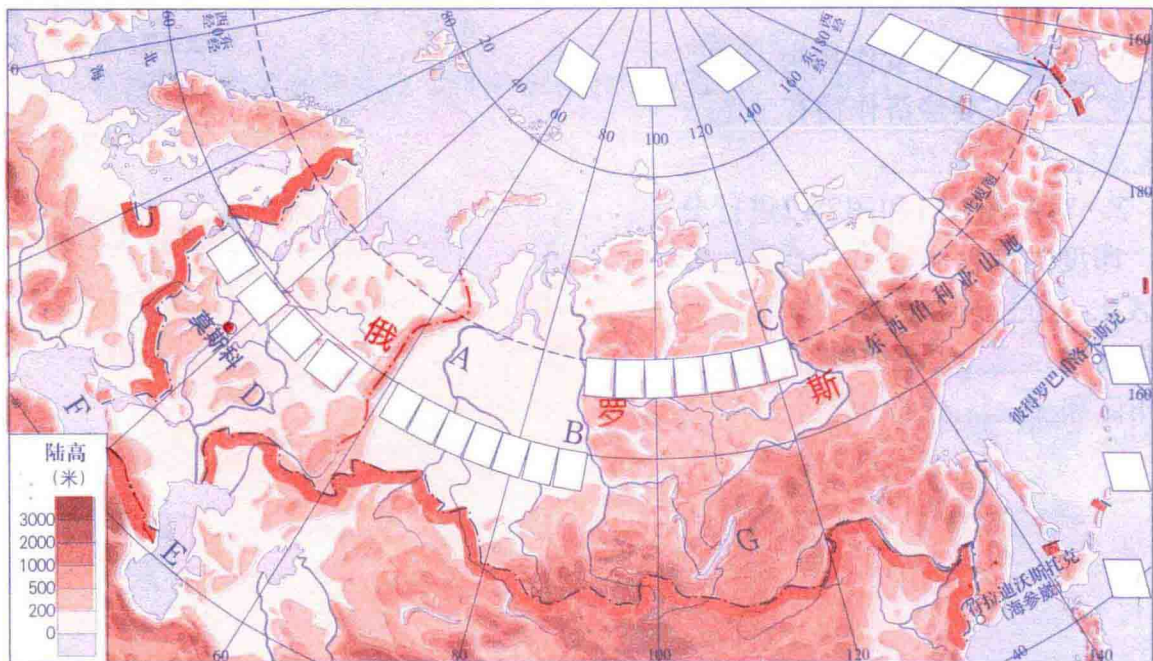


图7.15 俄罗斯地形图

- 用红笔在图中标绘亚洲与欧洲的分界线，并标注山脉与河流名称。
- 将下列地理事物的名称填注在图中相应位置。
 - 海洋、海峡：太平洋、北冰洋、白令海峡。
 - 平原、高原：东欧平原、西西伯利亚平原、中西伯利亚高原。
- 填出图中字母所代表的地理事物的名称。

1) 河流：A 鄂毕 河 B 叶尼塞 河 C 勒拿 河
 D 伏尔加 河

2) 湖泊：E 里海 F 贝加尔湖 G 巴尔喀什湖

二、读图7.15和图7.16，完成下列各题。

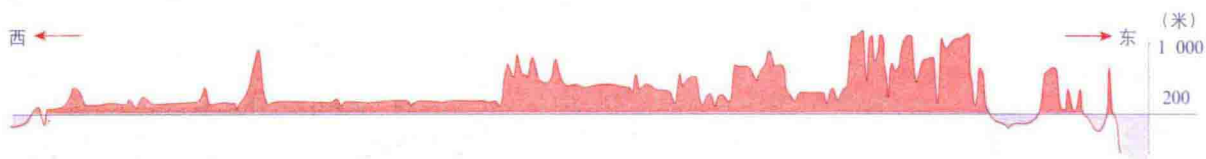


图7.16 沿北纬60°线俄罗斯地形剖面图

- 参考图7.15，找出俄罗斯的主要地形区和主要河流，填写下表：