

义务教育课程标准实验教科书

中国历史 填充地图册

七年级上册



星球地图出版社

义务教育课程标准实验教科书

中国历史填充地图册

七年级（上册）



星球地图出版社出版

主 编 周瑞祥
责任编辑 李深年
编 辑 王世晓 李深年
审 校 柳红军 高小玲 吴茂乔 田 蔚
审 订 窦益山 杜志平

义务教育课程标准实验教科书

中国历史填充地图册

七年级（上册）

星球地图出版社编制出版

新华书店发行

北京市大天乐印刷有限责任公司 印刷

开本787×1092 1/16 印张2.25

2002年7月第1版 - 2003年7月北京第2次印刷

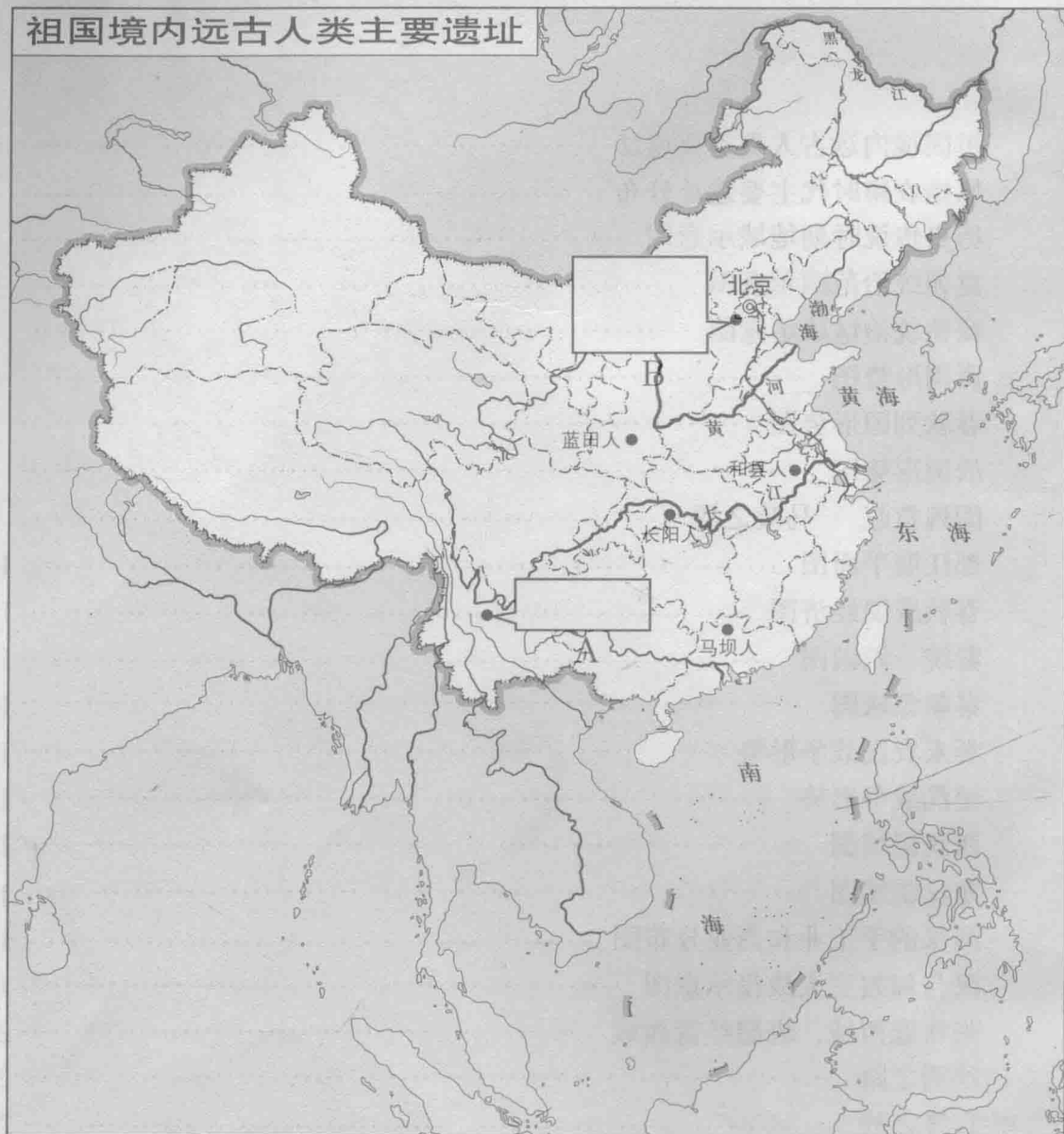
ISBN 7-80104-679-X/G·280(课)

IS(2002)01-071 定价：4.40元（A）

目 录

祖国境内远古人类主要遗址	1
原始农耕时代主要遗址分布	2
历史传说时期地域示意图	3
夏朝统治范围示意图	4
商朝统治区域示意图	5
西周形势图	6
春秋列国形势图	7
战国形势图	8
围魏救赵 马陵之战	9
都江堰平面图	10
春秋战国经济图	11
秦统一六国图	12
秦朝疆域图	13
秦末农民战争形势	14
楚汉战争形势	15
西汉疆域图	16
东汉疆域图	17
两汉的手工业和商业分布图	18
汉与匈奴三大战役示意图	19
张骞通西域、班超经营西域	20
丝绸之路	21
官渡之战	22
赤壁之战	23
三国鼎立形势图	24
西晋疆域图	25
西晋内迁各族的分布与迁徙方向	26
淝水之战	27
江南地区的开发	28
东晋和十六国形势图	29
南北朝并立形势图	封三

祖国境内远古人类主要遗址



一、在图中 内填出远古人类主要遗址的名称。

二、填出图中 A、B 点的原始人类的年代：

A 距今约 _____ 年 B 距今约 _____ 年

原始农耕时代主要遗址分布



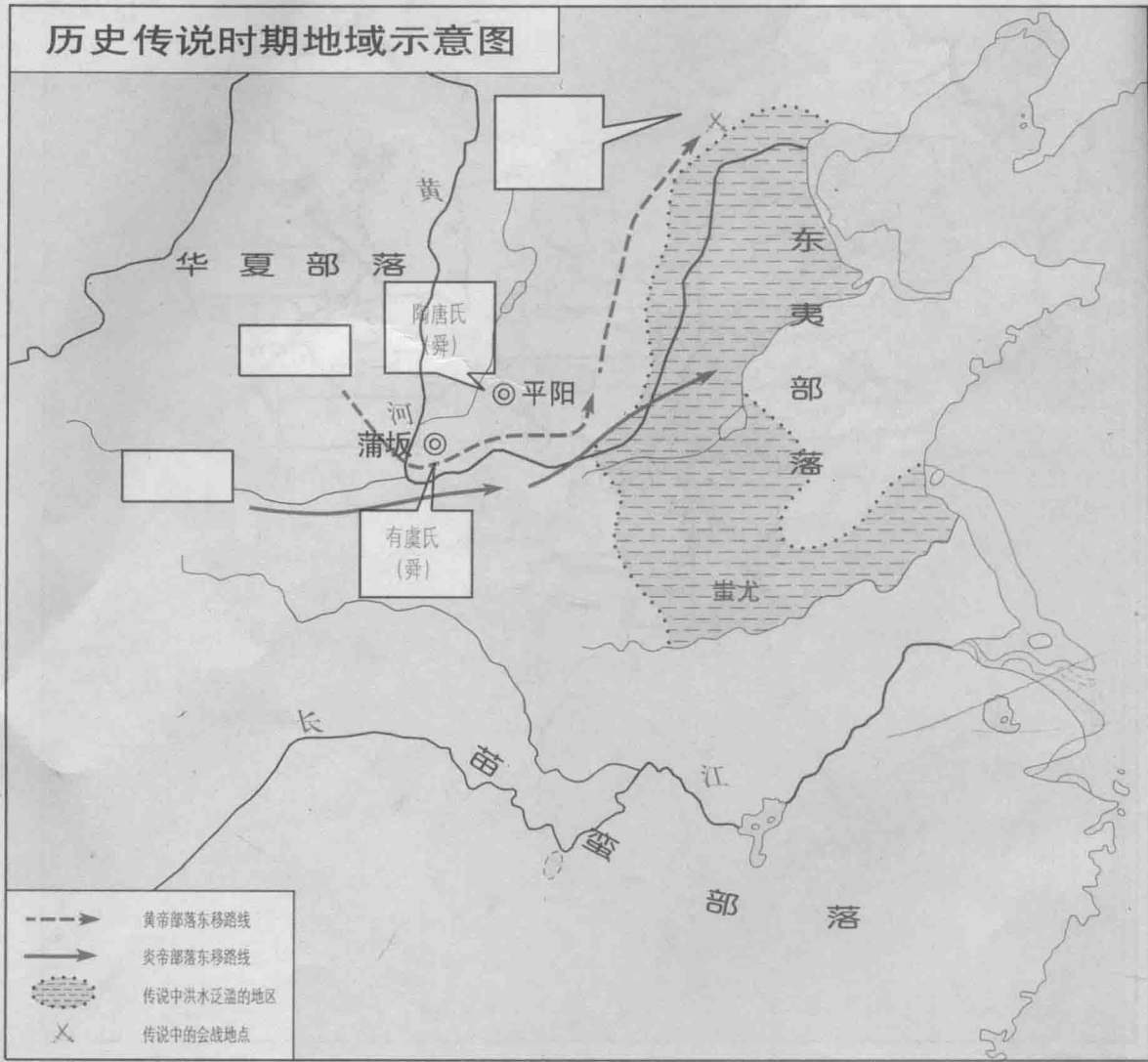
一、在图中 内填出氏族公社时期主要遗址的名称。

二、填出图中 A、B、C 点的原始群时期人类的年代：

A 距今约 _____ 年 B 距今约 _____ 年

C 距今约 _____ 年

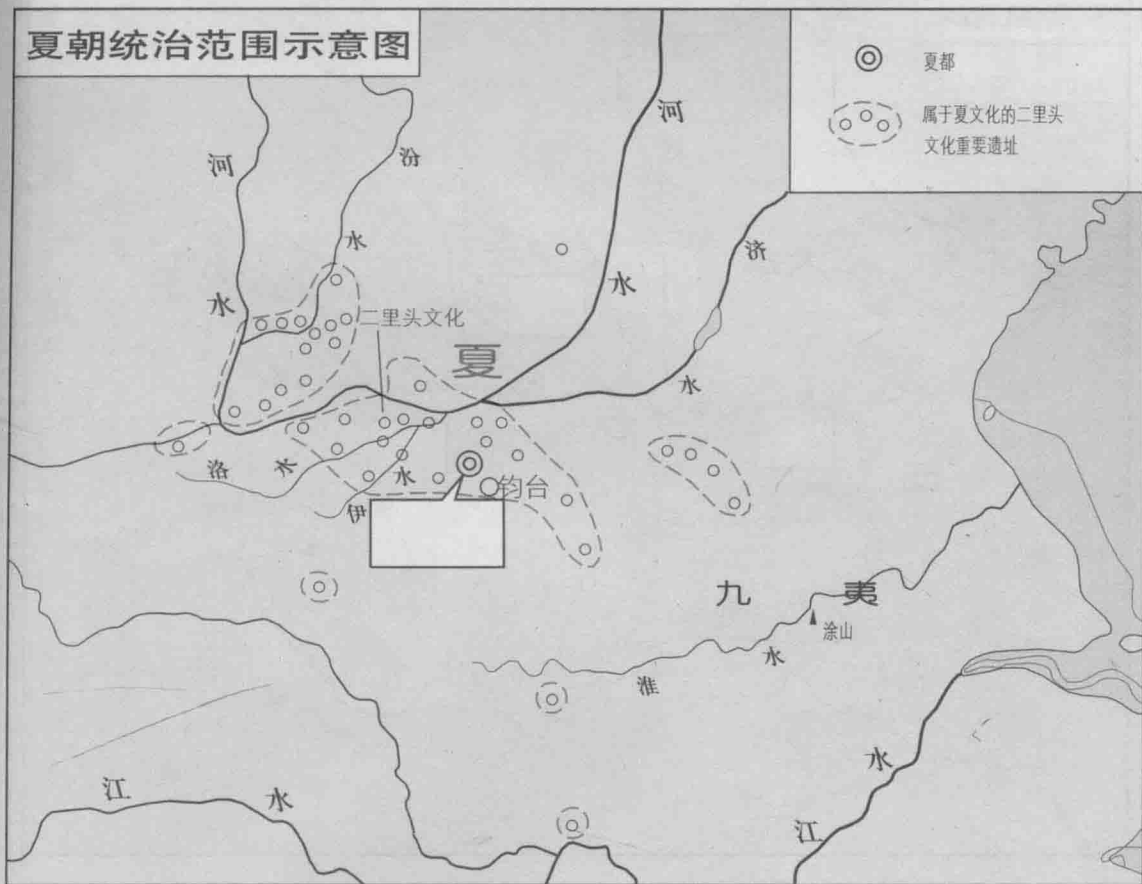
历史传说时期地域示意图



一、在图中 内填出传说中的主要部落名称。

二、在图中绘出炎黄部落与蚩尤大战的地点，并注出地点名称。

夏朝统治范围示意图



一、在图中□内填出传说中的夏都名称。

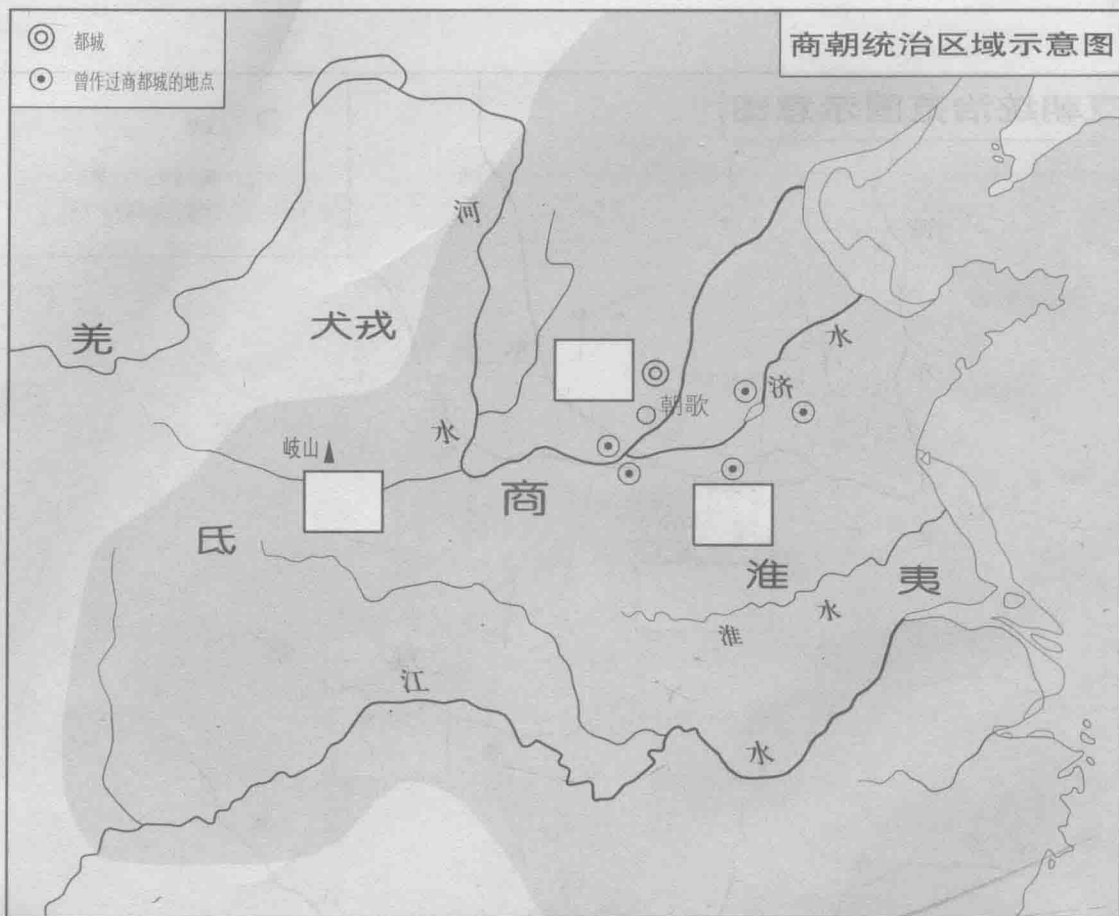
二、填充：

1. 公元前_____世纪_____建立了夏朝。

2. 夏朝建立了_____，制定了_____，设置了_____。

3. 夏朝人已经使用_____和_____，还有纹饰美观的

_____和_____。



一、在图中 内填出代表下列地点的英文字母代号：

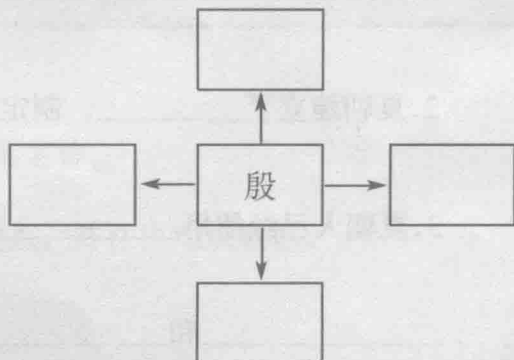
A 亳 B 殷 C 周

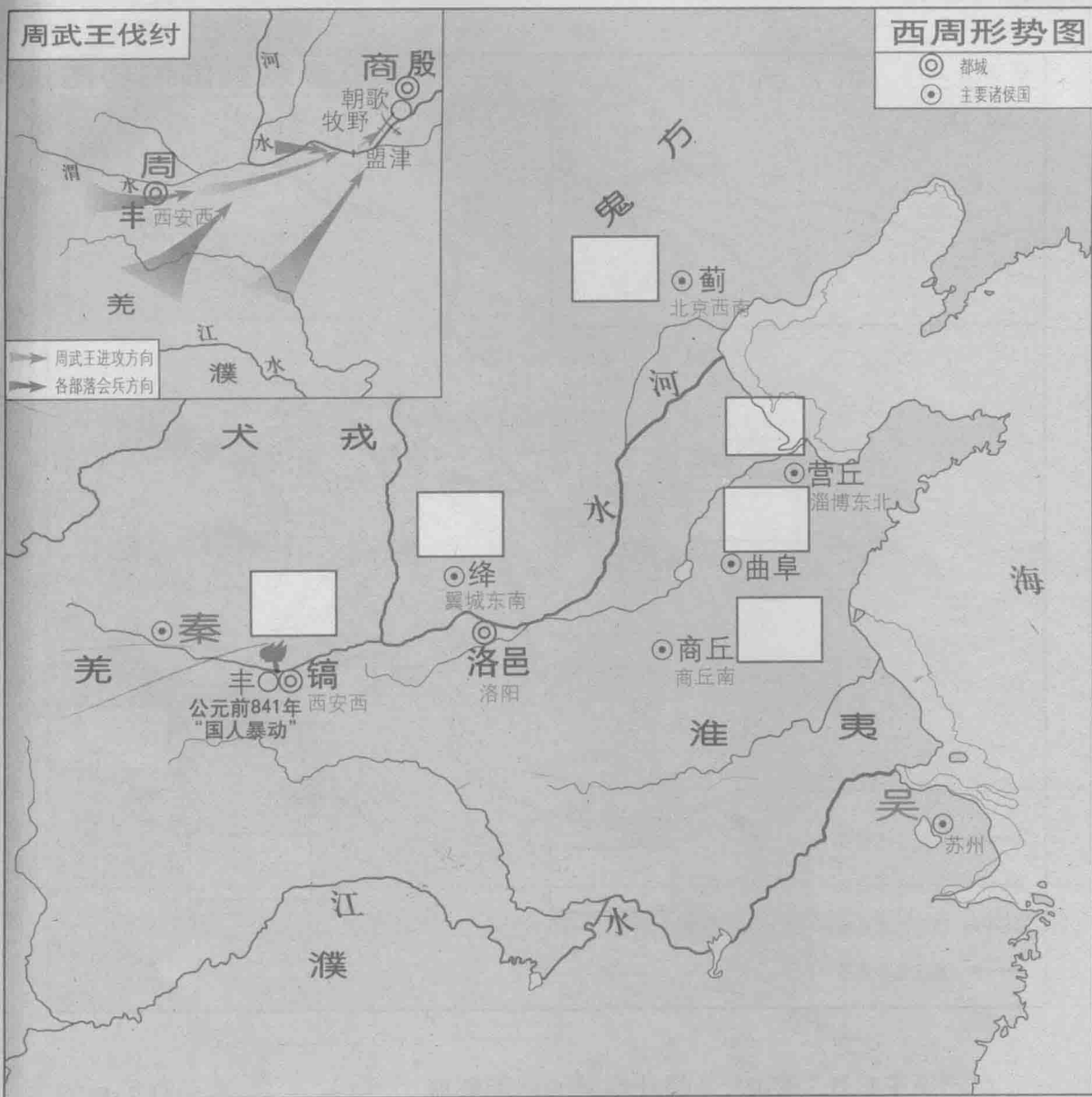
二、填充：

三、填出商朝疆域的四至范围(势力最大时)

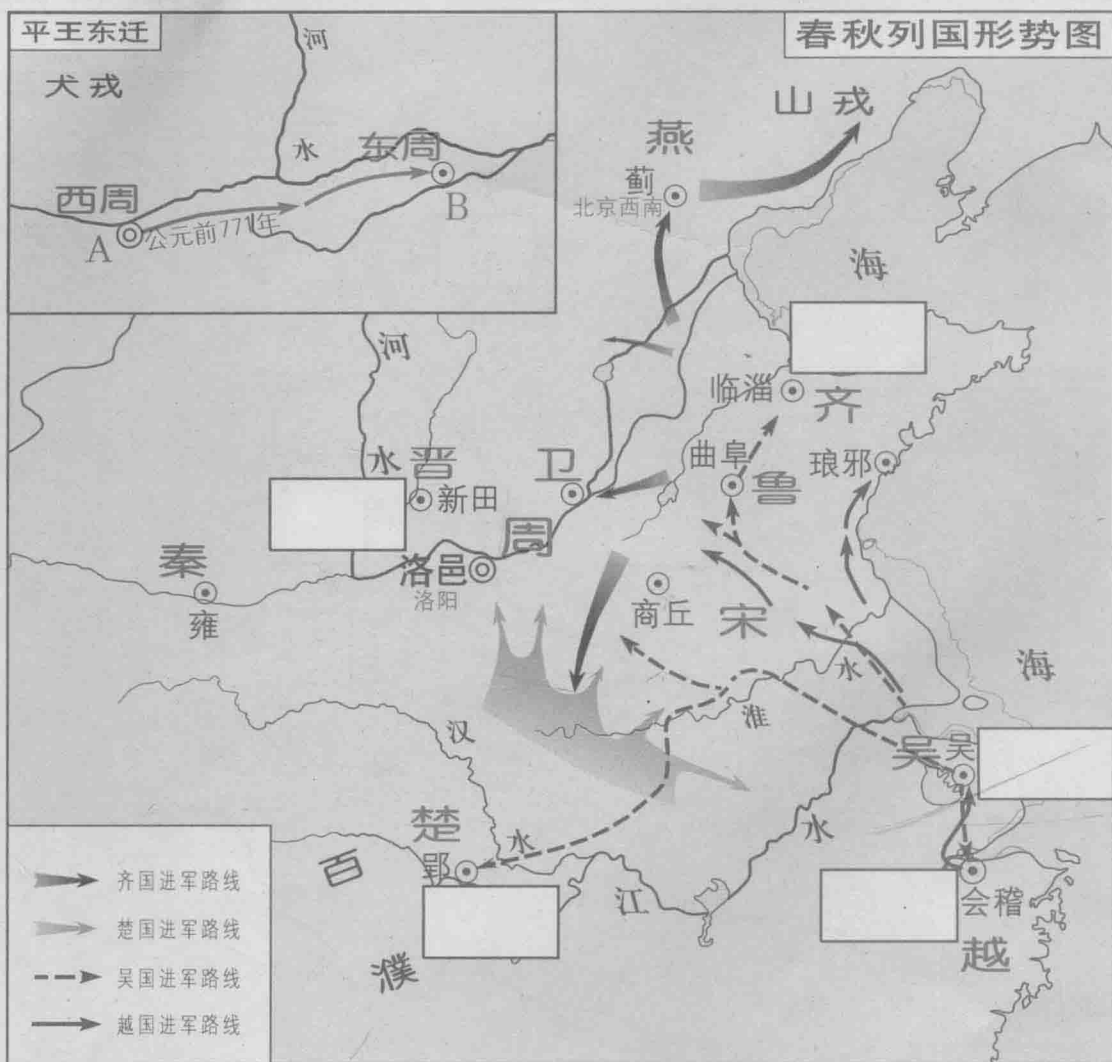
1. 我国古时的“五谷”是指_____、
_____、_____、_____和_____。

2. 商朝的_____、_____和_____，
都有很大发展，_____是今天世界上发现的最大的青铜古鼎。





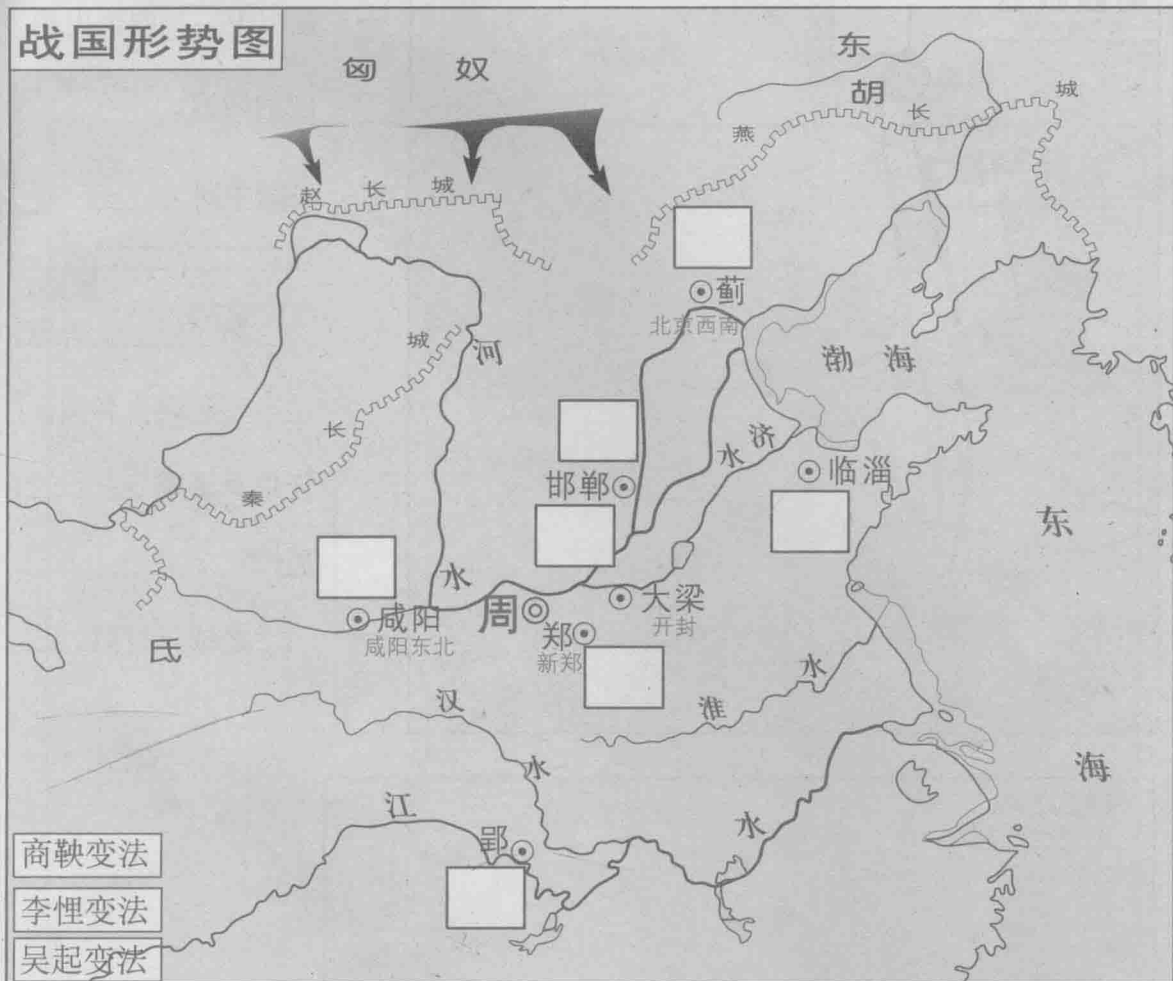
- 一、在图中 内，填出周初分封的主要诸侯国名称。
- 二、附图中：“X”处为武王伐纣的重要战役地点，该地点是_____，这次战役发生在公元前_____世纪中期。
- 三、图中所示地点在公元前_____年发生“国人暴动”，这一年，是我国历史上有_____的开始。
- 四、西周统治者建立了_____制度和_____制度。




一、在“平王东迁”图中，A是迁都前的周朝都城_____，B是迁都后的都城_____；平王东迁后，_____周开始分为_____和_____两个时期。

二、在“春秋列国形势图”中□内，用彩笔填出春秋五霸霸主的名称。

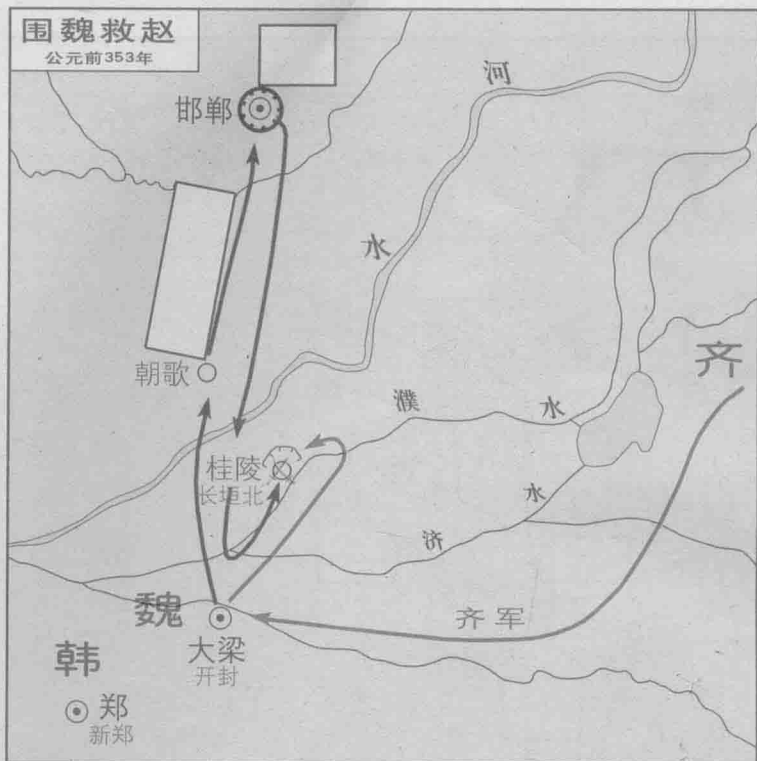
战国形势图



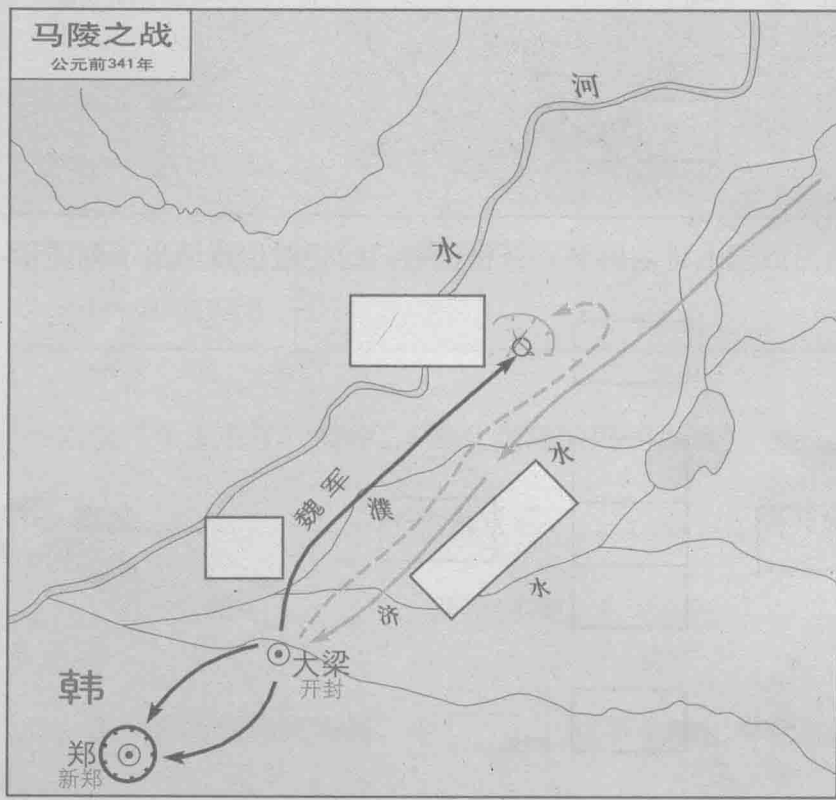
一、在图中 内填出战国七雄的国名，并根据它们的相对位置填出下列图示：



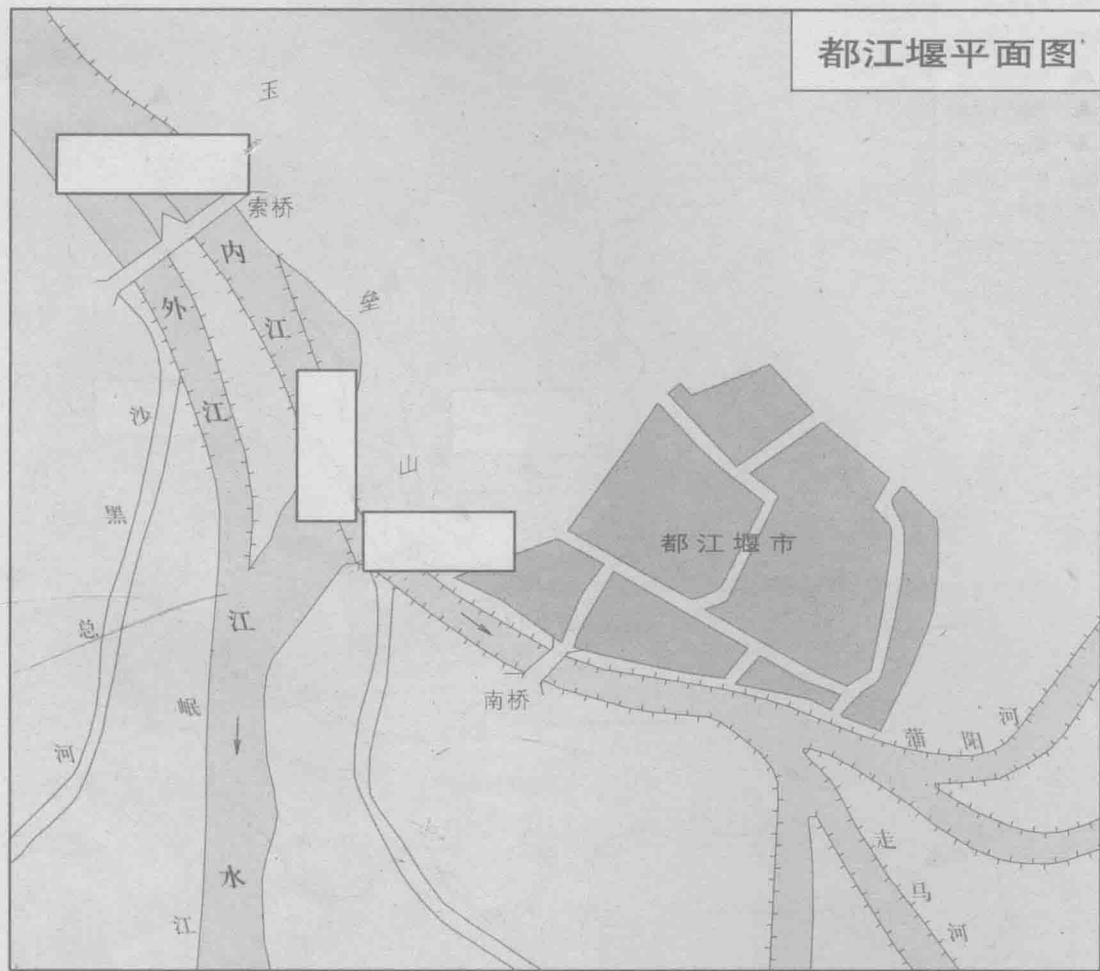
二、连线：将图中左下方的变法与发生国家用线段连接起来。



- 一、在图中□内填出相应的内容。
- 二、战国中期，_____攻打_____，_____向_____告急，_____联合各国，任用军事家_____，通过_____、_____之战，打败_____。



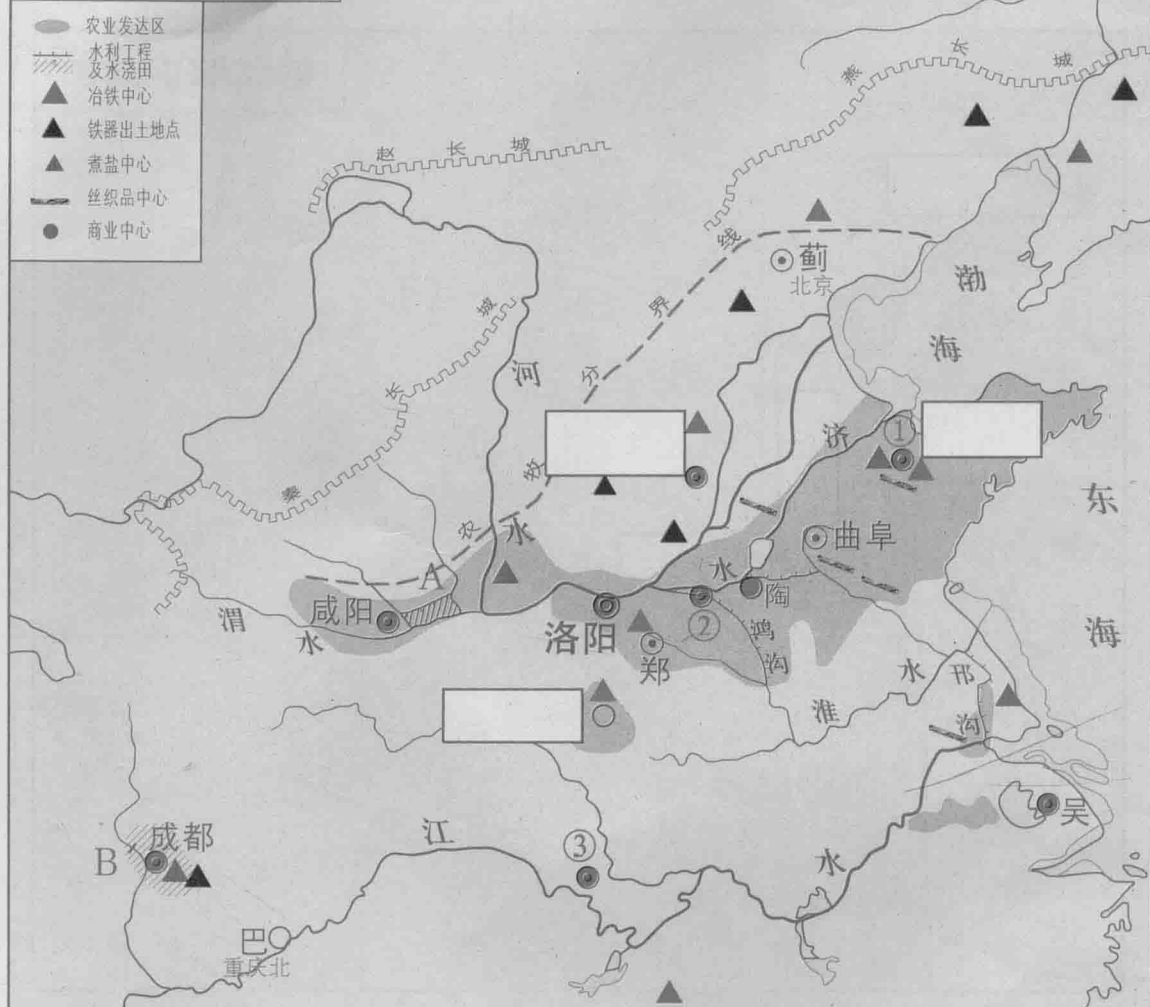
都江堰平面图



一、春秋战国时期，社会生产力显著提高，表现在生产工具上主要有_____和_____的普遍使用。

二、对照地图，都江堰主要由_____、_____和_____三部分组成，并将其填入图中相应位置。

春秋战国经济图



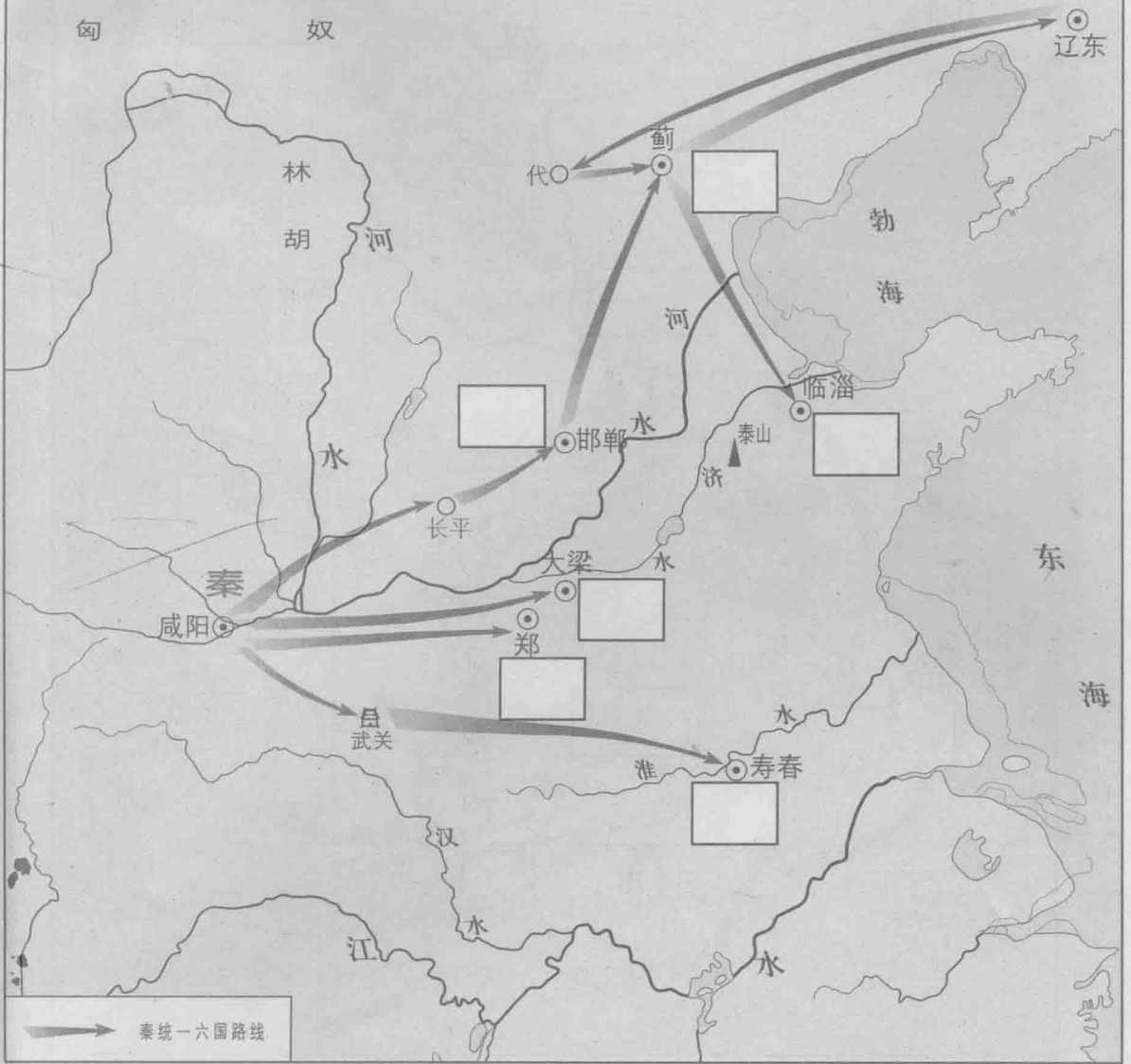
一、填出图上A、B两处著名水利工程的名称：

A _____ B _____

二、在图中 内填出最著名的冶铁中心。

三、填出图中① ② ③所代表的新兴封建城市名称。

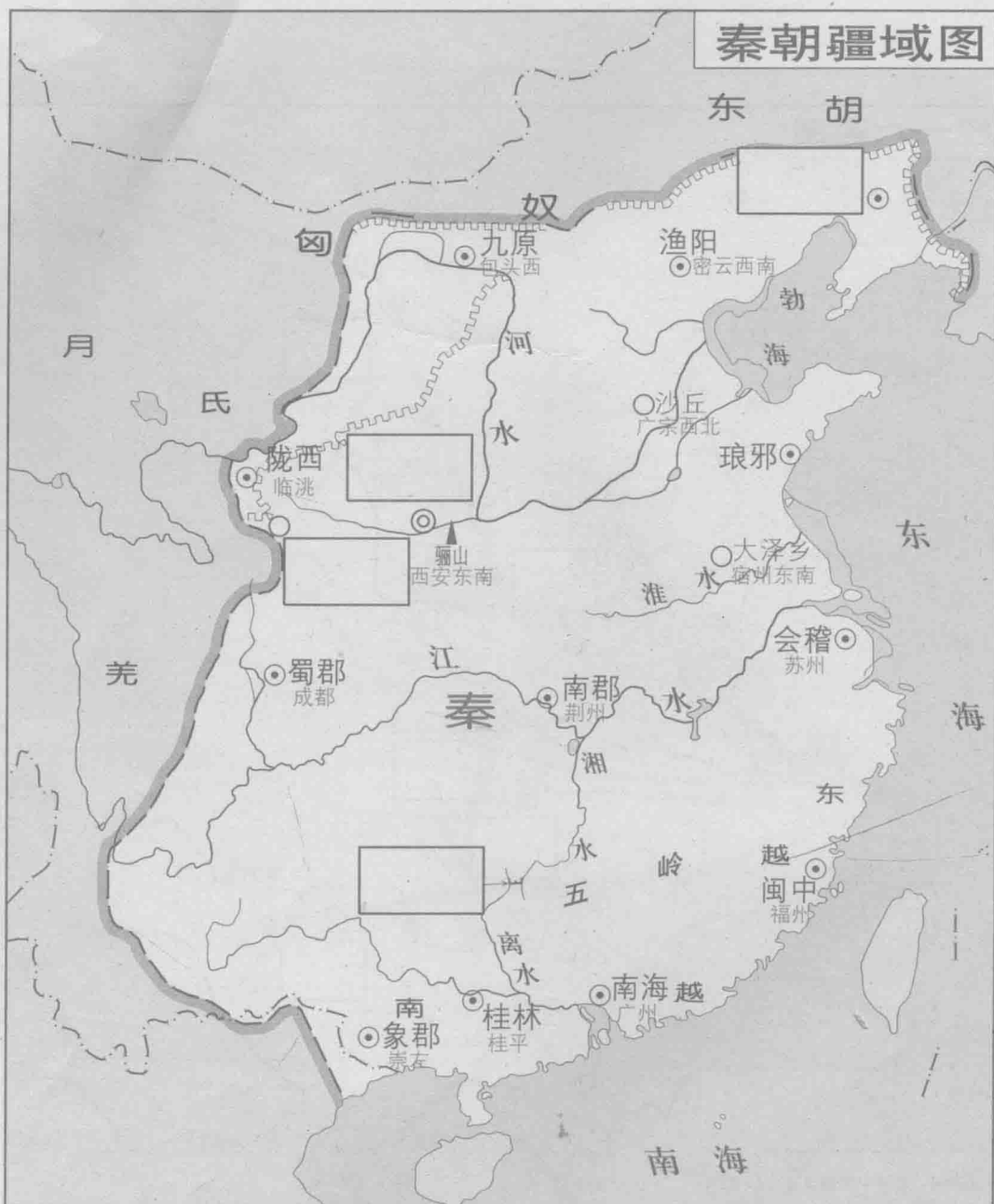
秦统一六国图



一、根据课本和地图册，在图中 内填出秦统一六国的国名、次序和年代。

二、图中的河水为今天的_____；江水为今天的_____。

_____。



一、暑期，小明随父母到“山水甲天下”的广西桂林旅游。他们乘游船溯漓江而上，经过一条运河，游船驶入湘江。请在图中 内填出他们经过的运河名称。该运河开凿至今已有约 年的历史。

二、在图中 内填出：

1. 秦朝都城名称

2. 秦朝长城的东西起止点

三、参考图中所示内容，填出秦朝疆域四至图示：

